



# 高三文科综合

## 考生注意:

1. 本试卷分选择题和非选择题两部分。满分 300 分,考试时间 150 分钟。
2. 答题前,考生务必用直径 0.5 毫米黑色墨水签字笔将密封线内项目填写清楚。
3. 考生作答时,请将答案答在答题卡上。选择题每小题选出答案后,用 2B 铅笔把答题卡上对应题目的答案标号涂黑;非选择题请用直径 0.5 毫米黑色墨水签字笔在答题卡上各题的答题区域内作答,超出答题区域书写的答案无效,在试题卷、草稿纸上作答无效。
4. 本试卷主要命题范围:高考范围。

一、选择题:本题共 35 小题,每小题 4 分,共 140 分。在每小题给出的四个选项中,只有一项是符合题目要求的。

目前,我国大部分建制行政村主干道都通上了硬化水泥公路,公路“村村通”目标基本实现。从 2021 年起,公路“村村通”要升级到“户户通”,公路要从村上主干道一直通到家家户户的门口。右图为我国某乡村公路“户户通”建设景观图。据此完成 1~3 题。

1. 图示乡村在“户户通”工程中大规模铺设水泥路,这将导致该村

- A. 降水量增加
- B. 地表水下渗量增大
- C. 雨水更多转化为地表径流
- D. 雨水更多转化为地下径流



2. 我国实施公路“户户通”的主要困难是

- ①地形起伏大 ②原料短缺 ③资金需求大 ④住户分散

- A. ①②
- B. ②③
- C. ③④
- D. ②④

3. 我国实施公路“户户通”的主要目的是

- A. 减少乡村人口外迁
- B. 提高农副产品价格
- C. 带动相关产业发展
- D. 改善居民生活质量

“稻鳖共生”是水稻与甲鱼的种养结合模式。在此模式下,稻田能为甲鱼提供良好的摄食、晒背场所,甲鱼生长发育快;甲鱼可疏松土壤,使病虫害明显减少,其代谢物可作为水稻生长的优质肥料,实现有机、无公害的优质农产品生产。同时该模式还应遵循择优选种、合理放养、科学换水等原则。右图为“稻鳖共生”模式景观图,读图完成 4~5 题。

4. “稻鳖共生”模式种养过程中

- A. 完全不施用除虫剂和饲料
- B. 需加高田埂并向内倾斜
- C. 田间管理要求低
- D. 生产投入成本低



5. “稻鳖共生”模式的优点是

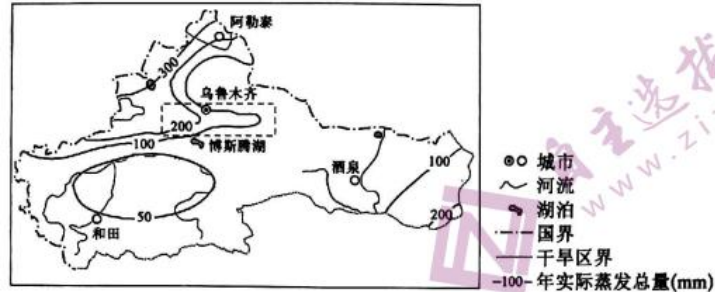
- ①促进产业结构升级 ②稳粮增收 ③土地产出率高 ④节省灌溉用水

- A. ①②
- B. ②③
- C. ③④
- D. ①④

【高三 2 月·文综 第 1 页(共 12 页)】

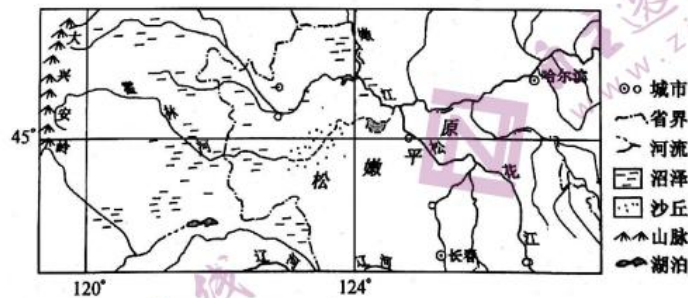


蒸发能力是在充分供水条件下可能达到的最大蒸发量,陆面实际蒸发量的大小受陆面蒸发能力和供水条件的制约。一般情况下,湿润地区的实际蒸发量与陆面蒸发能力相差不大;但在干旱地区,实际蒸发量远小于陆面蒸发能力。下图示意我国西北干旱地区年实际蒸发总量的空间分布。据此完成6~8题。



6. 图示虚线方框内年实际蒸发总量等值线向东凸出的主要影响因素是
  - A. 盛行风强度
  - B. 山脉走向
  - C. 纬度位置
  - D. 海陆位置
7. 根据图示区域年实际蒸发总量可推知
  - A. 和田适合大力发展水稻种植业
  - B. 阿勒泰西北部蒸发能力最强
  - C. 塔里木盆地内部蒸发能力最弱
  - D. 阿勒泰的水分条件优于酒泉
8. 有利于该区域农业可持续发展的合理措施是
  - A. 扩大耕地面积,发展特色农业
  - B. 合理分配水资源,发展绿色农业
  - C. 全部退耕还草,发展畜牧业
  - D. 大力修建水库,增加灌溉面积

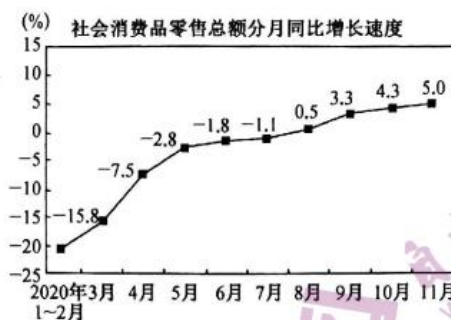
霍林河发源于大兴安岭东坡,是嫩江的一级支流,也是松嫩平原西部众多湿地的重要补给水源。霍林河上游植被覆盖较好,河道基本稳定,中下游属丘陵平原区,多荒漠沙丘,河道不稳,河床宽浅,面积较大,河流常断流。霍林河洪泛作用对周围湿地景观的维系起着决定作用。下图示意霍林河流域,据此完成9~11题。



9. 霍林河洪泛作用一般出现在
  - A. 2~3月
  - B. 7~8月
  - C. 10~11月
  - D. 12月~次年1月
10. 霍林河在断流季节
  - A. 凌汛现象严重
  - B. 流域的风力增强
  - C. 盐碱地面积扩大
  - D. 地下水水位上升
11. 霍林河下游河床面积较大主要是因为
  - A. 积雪融化量大
  - B. 降水量明显增加
  - C. 开发土地资源
  - D. 洪水期河流改道



12. 下图为 2020 年 12 月 15 日国家统计局发布的社会消费品零售总额分月同比增长情况。出现图中趋势的原因有



- ①居民不断更新就业观念,就业结构持续改善 ②物价总体水平趋于稳定,没有出现较大波动  
 ③疫情得到基本控制,我国经济发展韧性十足 ④开展促消费活动等多项政策叠加,效果良好
- A. ①②                      B. ①④                      C. ②③                      D. ③④
13. 某省公布数据显示,截至 2020 年 11 月,全省民营经济市场主体发展到 1154.9 万户,比 2020 年年初增加 132.4 万户;2020 年 1—10 月,民营规模以上工业企业利润总额同比增长 22.87%,高于全部规模以上工业企业 13.8 个百分点。由此可见,该省
- ①民营经济成为稳就业保民生的决定力量 ②促进非公有制经济发展的工作成效显著  
 ③经济社会发展的重要基础得以有效巩固 ④降低市场准入门槛,激发市场主体活力
- A. ①③                      B. ①④                      C. ②③                      D. ②④
14. 受新冠肺炎疫情影响,2020 年上半年,我国不少企业面临经营困境。为此,国家用税费的“减法”换取企业效益的“加法”,助力企业走出困境。由“减法”到“加法”的传导路径正确的是
- ①加大财政对企业的支持力度 ②企业转变经营模式 ③企业经营成本降低 ④实施稳健的货币政策  
 ⑤企业利润空间加大
- A. ①→②→③                      B. ①→③→⑤  
 C. ④→②→⑤                      D. ④→③→②
15. 自 2021 年 1 月 1 日起,我国对包括助听器医疗器材以及乳清蛋白粉、乳铁蛋白等婴儿奶粉原料等 883 项商品实施低于最惠国税率的进口暂定税率。其中,部分抗癌药原料等商品将实行零关税。此次关税调整带来的积极影响有
- ①联通国内与国际市场,积极释放出口潜力 ②引入竞争,让国内企业获得全球发展机遇  
 ③增加优质商品的供给,推动国内消费升级 ④减轻患者经济负担,改善人民的生活品质
- A. ①②                      B. ①③                      C. ②④                      D. ③④
16. 2020 年 11 月 1 日零时起的第七次全国人口普查是党中央、国务院作出的重大决策,做好此项工作对于全面摸清我国人口情况、科学制定“十四五”时期发展规划、完善人口战略和政策、促进高质量发展,具有重大而深远的意义。对于第七次全国人口普查工作,以下做法正确的是
- ①公民以主人翁的姿态,主动参加登记,积极配合  
 ②公民应准确、完整地提供个人及家庭的所有信息  
 ③政府须依法普查,严格保护普查对象的个人信息  
 ④政府要创新监管方式,确保普查数据的真实准确
- A. ①③                      B. ①④                      C. ②③                      D. ②④
17. 某市政府围绕乡村振兴战略,深入推进扶贫工作,完善社会保障体系;主动深入群众,切实解决群众中的难题;克服形式主义、官僚主义,帮扶到户,分户施策,切实做到精准扶贫。可见,该市政府
- ①通过创新履职方式提高公信力和执行力 ②加强社会建设,健全基本公共服务体系  
 ③坚持从群众中来到群众中去的工作原则 ④坚持以人民为中心,彰显“公仆”本色
- A. ①②                      B. ①③                      C. ②④                      D. ③④



某县县委统战部、民宗局组织 40 余名宗教界人士在牺盟会新军纪念馆开展“探寻红色足迹 厚植爱国情怀”主题教育活动。据此完成 18~19 题。

18. 该县县委统战部、民宗局组织宗教界人士先后参观“中华民族危急奋起牺牲救国”“运用合法形式放手抗日救亡”等九个单元,所有参观人员都被深深感动。该县的做法旨在
- ①引导宗教与我国社会主义社会相适应      ②保护宗教人士的合法权益和正常活动  
③通过参观学习,续写中日友好新篇章      ④增加信教群众的爱国情怀和正能量
- A. ①②      B. ①④      C. ②③      D. ③④
19. 宗教界人士在“探寻红色足迹 厚植爱国情怀”参观过程中,被军人在外敌面前爱国一家、同仇敌忾、决死抗议的民族精神所感动,他们纷纷表示要坚持宗教中国化方向,为社会和谐做出贡献。由此可见
- ①人们的精神活动总离不开一定的物质活动和载体  
②文化作品凭借其特有的感染力增强人的精神力量  
③文化对人的深刻影响来自于各种形式的文化活动  
④中华文化的力量集中表现为爱国主义精神的力量
- A. ①③      B. ①④      C. ②③      D. ②④
20. 2020 年,战贫脱贫的分贝振聋发聩。如果汉字有重量,“贫”可能就是最重的那个。“贫”中有“八”,八年戮力同心;“贫”中有“人”,人心集聚力量;“贫”中有“刀”,刀刃锐利劈荆棘;“贫”中有“门”,开门迎福奔小康。从对“贫”字的解读可以感受到
- ①中华文化的博大精深、内涵丰富      ②中华文化的兼收并蓄、求同存异  
③中华文化的源远流长,薪火相传      ④中华民族伟大的团结、奋斗精神
- A. ①③      B. ①④      C. ②③      D. ②④
21. 下列诗句与漫画《套中人》(改编)蕴含的哲理最相近的是



- A. 画虎画皮难画骨,知人知面不知心      B. 不识庐山真面目,只缘身在此山中  
C. 今人不见古时月,今月曾经照古人      D. 不畏浮云遮望眼,只缘身在最高层
22. 2020 年 11 月 26 日,潍坊至莱西高铁建成通车,标志着山东省在完全自主投资建设地方高铁项目方面迈出了重要一步,这为济莱、潍烟、莱荣、济枣等地全资高铁项目建设提供了重要借鉴,也为全国提供了地方高铁建设新样本。材料反映了
- A. 矛盾的普遍性和特殊性相互联结      B. 人为事物的联系通常具有主观性  
C. 发展是新事物产生和旧事物灭亡      D. 离开了整体,部分就不成其部分
23. 青春是世上最美的字眼。为了寻找青春岁月的光芒,我们无数次背负理想,伴着子夜的钟声出发,披着阳光穿行岁月。青春如高山流水,磕磕绊绊一路淌来,留下一身伤痕,而每道痕必会迸溅出一首歌。这启示我们,实现人生价值,需要
- ①坚定理想信念,坚持正确价值观的指引      ②对未来充满信心,克服前进道路上的挫折  
③努力发展自己的才能,全面提高个人素质      ④脚踏实地,充分利用社会提供的客观条件
- A. ①②      B. ①③      C. ②④      D. ③④
24. 《礼记·王制》篇记载:“司徒修六礼以节民性,明七教以兴民德,齐八政以防淫,一道德以同俗,养耆老以致孝,恤孤独以逮不足,上贤以崇德,简不肖以绌恶。”这反映出先秦儒家
- A. 主张建立践礼的社会规范      B. 为君主专制提供理论支撑  
C. 旨在通过修礼教以明霸道      D. 以礼乐教化反对不义之战

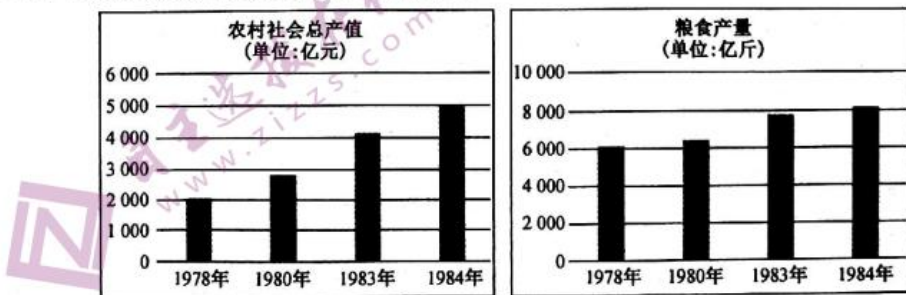
【高三 2 月·文综 第 4 页(共 12 页)】



25. 下表是棉花传入我国的部分史料记载。据此能够被认定的历史事实是

出处	记述
《南州异物志》 (三国·吴万震)	外徼(海南岛)人有一种“五色斑布,以丝布、古贝木所作。此木熟时,状为鹅毳,中有核如珠纒,细过丝棉。人将用之,则治出其核,但纺不织,在意小袖相牵引,每有断绝。欲为斑布,则染之五色,织以为布。”
《后汉书·西南夷列传》 (南朝·范曄)	东汉明帝时,永昌郡(云南西部)的哀牢人已“知染采文绣,蜀氍毹(jī duō,一种毛毯),帛叠,兰干细布,织成文章如綾锦。”
《广志》 (西晋·郭义恭)	“梧桐有白者,割国(在今缅甸)有桐木,其华有白毳,取其花淹渍,緙织以为布。”

- A. 海南岛人最早植棉织布  
B. 三国时棉花已广为种植  
C. 西晋时棉花从印度传入  
D. 滇西怒江流域较早植棉
26. 宋代以铜钱论价进行商品的物物交换,出现了名为“折博”的交易方式。举凡金、银、茶等大宗批量交易的商品,都参与到了折价交易中来。政府主导的交易机构“折博务”,也先后于建安、汉阳等地设立。这反映了宋代
- A. 商品经济的繁荣  
B. 城市坊市界限被打破  
C. 货币发展多样化  
D. 重本抑末政策的松动
27. 明人凌翰对监阁体制议论道:“天子早朝宴退,日御便殿,则天下之权在公孤(泛指重臣)。一或晏安是怀,相臣不得睹其面,则天下之权在阁宦。盖公孤虚侍君侧,累日积月,朝钟不鸣,章疏之人,司礼监文书房则主之,可否时出于内批,公孤不得而与矣。”这一现象产生的根源是
- A. 丞相被废  
B. 皇权专制  
C. 分权制衡  
D. 政治腐败
28. 在近代中国,洋货到达通商口岸后,都是经由大大小小的中国各式商业资本来运转的。如英美烟草公司就是充分利用了中国旧有的商业资本和店号,建立起由15个甲级经手人→总经手人→批发商→零售所组成的流通网络,才得以把大量的烟草投入到中国各城市乃至农村的分散零星的消费点上。这种局面的形成主要是由于
- A. 近代社会动荡不安  
B. 列强控制了商品流通  
C. 工业资本发展滞后  
D. 城乡二元经济结构的存在
29. 1905年,孙中山和严复因“开民智”问题而发生了一场争论。严复坚持开民智为变政制的前提,认为中国民智未开,仓促变制将危害社会,“为今之计,唯急从教育上着手!”孙中山回答说:“俟河之清,人寿几何!君为思想家,鄙人乃实行家也。”这场争论表明
- A. 严复的主张脱离国情  
B. 孙中山思想更符合实际  
C. 维新派思想趋向保守  
D. 分歧的实质是道路之争
30. 1949年5月,在人民解放军解放和接管上海的过程中,对官僚资本主义企业采取“原封不动,整套接收”的办法。中纺公司所属30多个工厂在接收后两三天内全部复工,沪西区各厂甚至没有停止生产。这一做法旨在
- A. 促进国民经济恢复  
B. 推动党的工作重心转移  
C. 确保人民政权巩固  
D. 避免西方列强武装干涉
31. 下图中我国农业生产数据变化的根本原因是



【高三2月·文综 第5页(共12页)】



- A. 生产关系的变革  
B. 乡镇企业异军突起  
C. 经济结构的调整  
D. 农业生产技术提高
32. 在古代雅典,后期智者们提出:“正义就是强者的利益”。这是怀疑主义、虚无主义通常的逻辑;以怀疑和否定旧价值、旧道德始,而最终却把一切理想和真理都贩卖给私利和强权。智者们的思想变化缘于  
A. “人是万物的尺度”  
B. 雅典民主制度江河日下  
C. 僵化的思维被打破  
D. 理性是认识真理的武器
33. 18世纪后期至19世纪中叶,法国的高级服装、装饰品、手工艺品、地毯、壁挂、手套、帽子、瓷器、珍宝、葡萄酒和白兰地等,在欧洲上流社会享有盛誉。对此英国商人们却说:“法国人是为少数人生产,而我们是为千百万人生产。”这种差异反映了  
A. 英国成为世界殖民霸主  
B. 英国政府经济干预增多  
C. 法国工业革命发展缓慢  
D. 法国的高利贷资本发达
34. 1956年2月,赫鲁晓夫在苏共二十大上作《关于个人迷信及其后果》的秘密报告,批评了由于对斯大林的个人崇拜而造成的错误。对此毛泽东评价说:“赫鲁晓夫的报告既揭了盖子,又捅了娄子。”赫鲁晓夫“揭了盖子”的重要影响是  
A. 打破社会主义探索的禁区  
B. 加剧了苏联国民经济的畸形发展  
C. 提高了农民生产的积极性  
D. 造成了国际共产主义运动的困难
35. 乌克兰画家马列维奇的《雨后乡间之晨》(见下图)把人物处理成圆筒形组成的雕塑式形象,人物外的环境被处理在一种机械式的风景之中,那树木、房屋、地面,都显示出作者独特的艺术风格。这幅作品的艺术创作风格属于



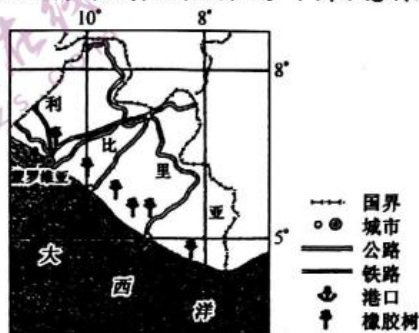
- A. 浪漫主义  
B. 印象画派  
C. 现实主义  
D. 现代主义

二、非选择题:共160分。第36~42题为必考题,每个试题考生都必须作答。第43~47题为选考题,考生根据要求作答。

(一)必考题:共135分。

36. 阅读图文材料,完成下列要求。(24分)

利比里亚位于非洲西部,蒙罗维亚港是西非地区最大的现代化港口之一。利比里亚蕴藏着丰富的铁矿砂、钻石、黄金等多种矿产;森林覆盖率高达59%,盛产紫檀木、红木等多种名贵木材,也是天然橡胶生产大国。2013年起,利比里亚禁止出口未经加工的橡胶。利比里亚经济落后,铁矿砂、天然橡胶等农矿产品出口为其国民经济主要支柱;工业不发达,仅有少数企业生产日用消费品。近年来,利比里亚政府出台一系列措施吸引外商投资,成效显著。下图示意利比里亚地理位置。

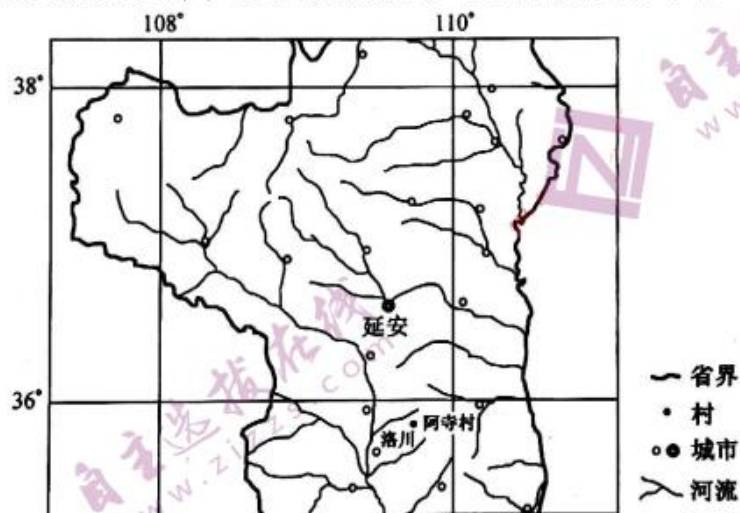


【高三2月·文综 第6页(共12页)】

- (1)蒙罗维亚3月份气温相对偏高,分析其原因。(4分)
- (2)说明利比里亚天然橡胶种植业的主要特点。(6分)
- (3)简述利比里亚吸引外来投资的优势条件。(8分)
- (4)指出利比里亚限制未加工的橡胶出口对本国产生的有利影响。(6分)

37. 阅读图文材料,完成下列要求。(22分)

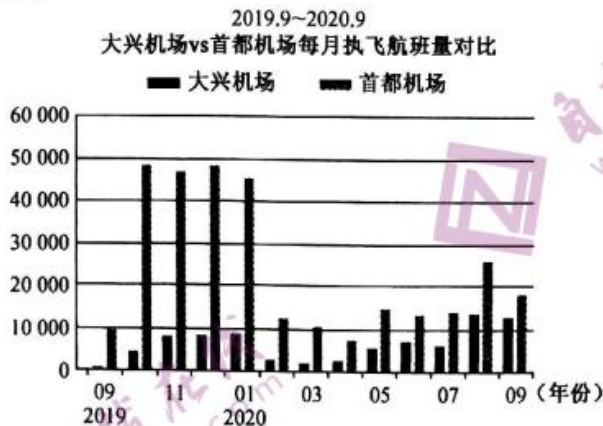
陕西省延安市洛川县永乡镇的阿寺村有“中国苹果第一村”之称,该地出产的洛川苹果已入选国家农产品地理标志。洛川苹果种植区平均海拔1100米,年平均日照时数达到2418.8小时,黑垆土广布,该土壤不沙不粘,通透性强。洛川苹果春栽选择在3月下旬至4月上旬,保湿冷藏苗可适当推迟1个月;砧木栽植每亩44~55株,成龄后间伐为每亩22~28株。此外,苹果的水肥管理、修枝整形、病虫害防控及采收贮藏严格按照标准进行。2016年阿寺村建起苹果文化步行街、苹果主题广场、科技示范园及苹果采摘观光长廊,使阿寺村成为乡村振兴样板村。下图示意阿寺村地理位置。



- (1)简析洛川苹果品质优良的原因。(8分)
- (2)推测保湿冷藏苗推迟1个月栽种和砧木成龄后加宽行距的原因。(6分)
- (3)指出阿寺村打造“中国苹果第一村”的成功经验对我国其他贫困地区经济振兴的启示。(8分)

38. 阅读材料,完成下列要求。(14分)

材料一 2020年9月25日,北京大兴国际机场正式投运1周年。下图是大兴机场正式投运以来与首都机场每月执飞航班量对比。



注:北京大兴国际机场投运一年来,以新机场为圆心,形成了内核能量巨大的经济圈、交通圈、都市圈。

材料二 2020年1月至11月,北京大兴机场片区共推出了两批共100多项制度创新清单,包括:推进“证照分离”改革全覆盖、优化审批验收程序;扩大外籍人才引进范围,推动持永久居留身份证外籍人才在创办科技型企业方面享受国民待遇等;建立京津冀人才跨区域资质互认、双向聘任等制度,推动区域要素充分自由流动;“探索实现数据跨境流动安全管理”等创新措施。截至2020年12月,大兴机场片区新增市场主体306家,新增注册资本共计265.07亿元……临空经济区,正如金色凤凰一般,展翅高飞。

(1)解读材料一包含的经济信息。(4分)

(2)回答材料二中的制度创新清单对大兴机场片区经济发展的推动作用。(10分)

39. 阅读材料,完成下列要求。(12分)

2020年12月8日,中共中央总书记习近平在中南海主持召开党外人士座谈会,就2020年经济形势和2021年经济工作听取各民主党派中央、全国工商联负责人和无党派人士代表的意见和建议。

习近平在会上发表重要讲话表示,大家在发言中就正确认识当前经济形势、做好明年经济工作提出的建设性意见和建议,我们将认真研究、积极吸纳。习近平强调,2021年是我国现代化建设进程中十分重要的一年,做好经济工作意义重大。我们要科学部署、精准施策,为“十四五”时期开好局、起好步,为此提出了三点希望:一是希望大家深化学习、提高认识,认真学习贯彻中共十九届五中全会精神,并体现到工作谋划、履行职能、自身建设各个方面。二是希望大家统一思想、发挥优势,为“十四五”规划制定实施特别是做好明年经济工作积极建言献策。三是希望大家加强引导、凝聚共识,深入基层一线了解和反映群众的所思所想、所盼所愿,协助党和政府破解民生难题,化解矛盾、凝聚社会共识,为推动我国经济社会发展贡献智慧和力量。

结合材料,运用政治生活知识,谈谈中国共产党的政治智慧。(12分)





40. 阅读材料,完成下列要求。(26分)

民间文学,是非物质文化遗产的重要组成部分,一般认为是口头传承的神话、传说、民间故事、歌谣、小戏、谚语、谜语、歇后语等文艺形式。

优秀民间文学是广大人民在长期社会生活中的产物,它直接或间接地为人民生活服务。如许多民间谚语是劳动人民生活和劳作的教科书,许多保家卫国的英雄传说永远给予广大人民以鼓舞力量,许多世代相传的古老神话和传说不但传述了一定的历史知识,还培养了国家民族团结的感情……

民间文学作品由于基本不产生直接的经济效益、传承方式单一等原因,其传承主体、受众群体逐渐减少,其消失速度也呈现递增的趋势。近些年来,各地都高度重视对非遗的传承和保护,并取得了一些经验:一是采用培训的方式,使民间文学进入中小学课堂,通过学校教育来培养传承人;其二,与旅游结合,在旅游景点组织各种各样的有偿民俗“表演”、民间文学作品的演述等。其三,创新产品开发,将民间文学类非遗作品的元素与现代生活结合,运用高科技的手段进行重新开发。如风靡全世界的《花木兰》《功夫熊猫》等都是根据中国民间故事而创作。

(1)运用文化生活知识,说明材料中的各地关于非遗传承经验对传承和保护民间文学的启示。

(10分)

(2)结合材料,运用意识能动作用的知识,说明保护和传承优秀民间文学的社会价值。(12分)

(3)面对传承主体、受众群体逐渐减少的现实,就新媒体条件下传承民间文学给出两项具体做法。

(4分)

41. 阅读材料,完成下列要求。(25分)

材料一

孟子针对战国时大国争雄局面,通过纵观诸子百家并汲取其有价值的思想成分,怀着对黎民百姓的同情以及对封建统治者大一统的抱负,游说诸侯,宣扬其善政思想。孟子的性善论肯定了人所具有的道德属性,其实质是为其善政思想寻求人性基础。作为善政思想的原则,孟子认为:“民为贵,社稷次之,君为轻。是故得乎丘民为天子。”孟子平治天下的思想可概括为一个“仁”字,他明确提出“仁政”,其实“仁政”即“善政”,因为善政这一概念更能表达出对统治阶级治理国家的要求。孟子建议:“(王)省刑罚,薄税敛,深耕易耨。壮者以暇日修其孝悌忠信……夫谁与王敌?”故曰:“以力假仁者霸,以德行仁者王。”孟子认为选拔人才一定要做到“贵德而尊士,贤者在位,能者在职”。孟子曾说过:“善政不如善教之得民也。善政,民畏之,善教,民爱之。善政得民财,善教得民心。”

——摘编自刘法杰《孟子“善政”思想研究》

材料二

从西方程序民主的发展历程看,对程序民主的关注始于古希腊雅典城邦的民主实践。启蒙运动时代,虽然含有人民主权、平等、自由、宪政等思想的实质民主被广泛讨论,但是对人民的不信任和“对多数人暴政的恐惧”仍然是理论家探讨的主要问题。因此在程序民主构建过程中,通过行政权和司法权限制立法权,通过贵族组成的上议院约束平民组成的下议院,通过财产数量限制选民数量的民主机制,被用来限制平民参与民主过程、保障资产阶级的统治。实质民主进一步被淡化和虚化,民主转变为定期选举和更换政治领导人的程序和方法。二战后,随着资本主义国家权力的膨胀及福利国家的全面危机,公民进一步被排斥到公共领域之外,实质民主的保守导致程序民主日益僵化和异化。对此,有学者认为现代西方国家尤其是美国的程序民主是典型劣政,因为西方国家把民主简化为惟有多党制和一人一票的“程序民主”才代表真正的民主,不但导致本国人民对现实的民主过程充满政治冷漠,也直接导致第三世界国家劣政层出不穷,他们的国家也因此陷于动荡甚至战乱之中。

——摘编自李猛 杨海蛟《西方的民主逻辑与中国的实践》

【高三2月·文综 第9页(共12页)】

- (1)根据材料一,概括孟子的“善政”思想,并结合所学知识说明其产生的时代背景。(13分)  
(2)根据材料二并结合所学知识,指出程序民主始于雅典民主政治实践的表现,并简析当今西方“程序民主”被斥为“劣政”的原因。(12分)

42. 阅读材料,完成下列要求。(12分)

材料

时间	中英茶叶贸易大事记
1615年	英属东印度公司开始经营茶叶。起初是从日本少量进口,“每次定货,只由总司事发函至其代理,求取中国上等之茶一罐,而茶价异常昂贵。”
1657年	伦敦一家咖啡馆第一次出售茶叶,第二年伦敦出版的“Mercurius Politicus”第345号,首次刊登鼓励饮茶广告
1667年	东印度公司将100磅中国茶叶运回英国。同年,伦敦一咖啡店老板托马斯·加韦宣传茶有“舒筋活血、治疗头痛、眩晕和忧伤、消除脾胃不适”之功能,引起人们的注意。此后,英国饮茶之风日盛,中英茶叶贸易逐渐发展起来
1714~1721年	英国政府从茶叶的货物税和关税中获得的总税收为1391143英镑,每年平均173892英镑。英国政府认为“政府的利益同公司的利益是一致的。”
1785~1789年	东印度公司平均每年自华输出茶叶138417担,价值白银3659266两,占公司自华总输出货物总值的82.5%及中国茶叶出口总量的60%。但在正当的中英贸易中,中国一直处于出超地位
1760~1792年	茶叶成为中国对英国最主要的出口商品。英人饮茶成为习惯,不但上层社会普遍饮茶,而且一般劳动群众也广泛以茶代酒。种茶成了中国南方农民重要的生产事业,茶农纷纷开山种植
1784~1792年	东印度公司成了国际茶叶贸易的垄断者。中英在茶叶交易中的地位也发生了变化,贸易主导权逐渐转入东印度等殖民公司之手,夹带走私鸦片也成了公司的重要业务
19世纪七十年代后	1905年,英国征收进口茶税共计800余万镑,其中印度茶占60%,锡兰茶占32%,中国茶仅占5%。华茶地位一落千丈,中国南方的茶农纷纷毁茶种粮,或到洋商开办的洋行务工
2014年	中国茶园面积为198.4万公顷,茶叶产量为209.6万吨,分别占到世界茶园面积、茶叶总产量的52.2%和37.7%

——摘编自萧致治 徐方平《中英早期茶叶贸易——写于马夏尔尼使华200周年之际》

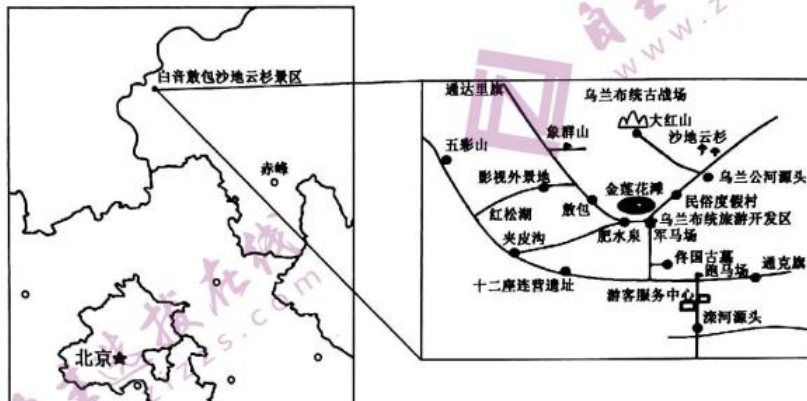
根据材料,就近现代中英茶叶贸易史提出一个论题,并结合所学知识进行简要阐述。(要求:观点明确,史论结合;论证充分,阐述有力;逻辑严密,表述清晰。)



(二)选考题:共 25 分。请考生从 2 道地理题、3 道历史题中每科任选一题作答。如果多做,则每科按所做的第一题计分。

43. [地理——选修 3: 旅游地理](10 分)

内蒙古赤峰市的白音敖包沙地云杉景区有世界上仅存的沙地云杉林生态系统,景区内山、水、沙、林、花和草交相辉映,为野生动物提供了较为理想的栖息繁衍和停歇场所,形成了较为复杂的野生动物种群。敖包是蒙古族族人祭祀祈福的地方,每逢五月十二、十三,牧民都会来到这里行跪拜大礼,开全羊宴席。独特的自然和人文景观使这块土地成为镶嵌在内蒙古草原上的一颗明珠。下图示意白音敖包沙地云杉景区位置及景观分布。



评价白音敖包沙地云杉景区旅游资源的开发条件。(10 分)

44. [地理——选修 6: 环境保护](10 分)

在我国北方旱作农业区,秋收季节曾盛行秸秆露天焚烧,产生的大量浓烟不仅造成大气污染,还给过往车辆带来交通隐患。对此,农业专家提出秸秆粉碎还田、制作牲畜饲料、回收制作木糖醇(一种从白桦树、橡树、玉米芯、甘蔗渣等植物原料中提取出来的天然甜味剂)和生物用能等多项举措,既提高了农民的环保意识,还带来较大的生态、经济效益。

简述专家提出的多种秸秆处理方式对农业生态、经济的积极意义。(10 分)

45. [历史——选修 1: 历史上重大改革回眸](15 分)

材料

改革开放以来,按照“共建、调整、合作、合并”的方针,经过多年的持续努力,我国高等教育改革取得了突破性进展。高等教育管理体制实现了深刻变革,教育资源得到优化配置。这项改革覆盖面广,涉及 900 多所高校,有 597 所高等学校合并组建为 267 所高等学校,有利于学科的交叉综合和资源的优化配置;原来国务院有关部门直接管理的 367 所普通高校,改革后有近 250 所高校实行了省级政府管理、地方与中央共建的体制,克服了部门和地方条块分割、重复办学、资源浪费的弊病。中央和省级政府两级管理,以省级政府管理为主的我国高等教育管理的新体制已经形成。新的体制理顺了关系,调动了地方政府和社会各方面发展高等教育的积极性,密切了高校与区域经济社会发展的联系,对于我国高等教育事业的发展具有深刻的战略意义。

——摘编自周济《历史性的跨越,新征程的重任——中国高等教育改革与发展近期回顾和展望》

(1)根据材料并结合所学知识,概括改革开放以来我国高等教育改革的特点。(6 分)

(2)根据材料并结合所学知识,说明改革开放以来我国高等教育改革的意义。(9 分)

46. [历史——选修 3:20 世纪的战争与和平](15 分)

材料

1929 年 5 月,日本关东军主任作战参谋石原莞尔,提出了著名的“满蒙领有论”,认为世界经济危机使日本难以恢复“景气”,领有满蒙既可解燃眉之急,还能为日本的持续发展提供充分的基础。在石原莞尔、板垣征四郎等法西斯分子看来,领有满蒙具有防止苏联威胁,巩固在朝鲜的殖民统治的双重功效。“支那问题,满蒙问题,不仅是对支问题,而且是对美问题。如果没有战胜美国这个敌人的意识,那么想解决满蒙问题无异于缘木求鱼。”

1941 年 7 月天皇御前会议重申,日本“国策的基础是建设大东亚共荣圈”“为了解决中国事变,必须行使武力贯彻执行南进政策。”但是,日本对印度支那的侵略,演变成了美英等国对日实行资产冻结、断绝经济往来到全面禁运。1941 年 10 月,东条内阁粉墨登场,于 12 月 1 日召集奏请天皇裁决开战的最后一次御前会议,东条首相着力阐述美国对日政策在于“阻挠帝国贯彻建设大东亚共荣圈的坚定国策”,假若接受美方要求,“美国势力将以领导者君临这些地区,建设大东亚新秩序的大业半途而废。”裕仁天皇表现出“非常满意的样子”,“神色极为爽朗”地作出了日本帝国对美、英、荷开战的决定。

——摘编自冯玮《从“满蒙领有论”到“大东亚共荣圈”》

(1)根据材料并结合所学知识,指出日本提出“满蒙领有论”的目的。(7 分)

(2)根据材料并结合所学知识,简析日本谋划建立“大东亚共荣圈”的原因。(8 分)

47. [历史——选修 4:中外历史人物评说](15 分)

材料

龙天佑(1644~1690),贵州盘县保基人,彝族著名政治家。清顺治十七年(1659 年),龙天佑归顺清朝,领马乃等寨地。各级彝族土司在龙天佑的影响下,纷纷主动交出明朝所授印信号纸,归顺清廷。吴三桂的军队入黔后,龙天佑以民族团结的大义为重,主动放弃交通位置、生活条件较好的营地,并带领部属开展生产自救,积极发展多元性的少数民族经济文化,注意加强和周围少数民族土司的合作关系。他建立专业村寨,把封建社会封闭式的家庭自给自足经济,提升为区域性、地区性的自给自足经济。在其辖区内,彝族民间文化如政治经济、伦理教育、宗教信仰等流传甚广,营造了地理区位上的一方太平,是康乾盛世的重要组成部分。1673 年,吴三桂发动反清叛乱,龙天佑以彝族土司总兵官的身份晓以皇恩,告知各地土司要审时度势,不要再听叛军的欺骗、蛊惑,并积极主动地联络、组织各地土司兵马前来进行参战。清军不但得到情报、向导、粮草等军事援助,同时兵源也得到大大补充,叛军节节败退并最终溃亡。为了表彰龙天佑的卓越战功,1681 年 3 月康熙帝授云南土司总兵龙天佑为都督同知。

——摘编自龙江《简论彝族政治家龙天佑的历史贡献》

(1)根据材料并结合所学知识,概括龙天佑的历史功绩。(9 分)

(2)根据材料并结合所学知识,简析龙天佑的政治品质。(6 分)



### 高三文科综合参考答案、提示及评分细则

1. C 水泥路铺设面积扩大导致下渗量减少,更多的雨水转化为地表径流;对降水量多少基本没有影响。
2. C 公路“户户通”工程规模大,投资巨大;住户分散导致“户户通”工程量大;乡村内部地形起伏小;我国建设水泥路的原料丰富。
3. D 公路“户户通”的主要目的是提高乡村道路的通达性,改善人居环境,提升居民生活质量;道路通达性提高在一定程度上利于人口流动;对提高农产品价格和带动相关产业发展影响不大。
4. B “稻鳖共生”模式需要加高田埂并向内倾斜防止甲鱼逃逸;养殖甲鱼可大大减少稻田病虫害,但仍需合理适度投用除虫剂和饲料;水稻种植和甲鱼养殖都需要人工管理,田间管理要求高;劳动力、生产资料投入大,生产投入成本高。
5. B “稻鳖共生”模式可确保粮食种植面积的稳定,提高经济效益,使单位土地面积的产出率提高;该模式对当地产业升级影响不大,不会节省灌溉用水。
6. B 西北干旱地区实际蒸发量远小于陆面蒸发能力,说明其实际蒸发量的大小主要取决于供水条件。虚线方框内年实际蒸发总量等值线向东凸出,主要是西风携带的水汽受到山脉阻挡抬升形成较多的降水,即与山脉走向有关。
7. D 西北干旱地区实际蒸发量接近或等于年降水量,分布状况基本与降水一致,由图可知,阿勒泰的水分条件优于酒泉;和田实际蒸发量小,水分条件差,不适宜大力发展水稻种植业;阿勒泰西北部实际蒸发量较大,降水相对较多,蒸发能力不是最强;塔里木盆地内部降水最少,蒸发能力最强。
8. B 该区域水资源短缺,合理分配水资源有利于保障农业与生活用水,发展绿色农业可以增加经济收入和保护生态环境;气候干旱,宜退耕还草,减少耕地面积,以畜牧业为主,扩大耕地面积易加剧荒漠化;水源条件相对优越的地区可以继续作为耕地;降水稀少,蒸发旺盛,大力修建水库会加剧水资源紧张。
9. B 霍林河流域位于温带季风气候区,发源于大兴安岭东部(夏季风的迎风坡),7~8月降水丰富,洪泛作用明显。
10. B 霍林河断流季节为冬季,该地区邻近冬季风风源地,风力作用增强;霍林河大致自西向东流,凌汛现象不明显;断流期间蒸发微弱,盐碱地面积变化不大;地下水补给减少,水位下降。
11. D 霍林河流入松嫩平原西部,下游地区地势平坦,洪泛期河水溢出河道,不断形成新河道,且河道不断摆动,扩大了河床的范围。
12. D 由图示可以看出,2020年1—11月份,我国社会消费品零售额同比增速逐步上升,这是基于我国经济逐步恢复增长和促消费政策的实施,③④符合题意;就业观念和结构与消费增加无关,故①不选;受疫情影响,2020年我国物价波动较大,②的说法不符合事实,另外,物价和消费虽有一定关系,但物价总水平稳定与消费增长并无直接关系,故不选②。
13. C 民营经济市场主体增加,民营规模以上工业企业利润总额同比增长并高于全部规模以上工业企业,表明该省发展非公有制经济工作取得了积极成效,经济社会发展的重要基础得到巩固,②③符合题意;稳就业保民生的决定力量是国有经济,①错误;材料看不出该省降低市场准入门槛,故④不选。
14. B 国家用税费的“减法”换取企业效益的“加法”,即通过财政支持来减税降费,降低企业经营成本,促进企业经济效益的提高,正确的传导顺序应该是①→③→⑤,B符合题意;企业转变经营模式未必导致经营成本降低,A不选;减税降费政策属于积极的财政政策,不属于货币政策,C、D不选。
15. D 降低包括助听器医疗器材以及乳清蛋白粉、乳铁蛋白等婴儿奶粉原料等883项商品的进口关税,有利于增加优质商品的供给,满足国内消费升级需求,③符合题意;对部分抗癌药原料等商品实行零关税,会降低抗癌药品在国内市场的销售价格,减轻患者购药成本,改善人民的生活品质,④符合题意;降低进口关税,有利于激发进口潜力,不涉及出口,①不选;降低进口关税,有利于让全球企业获得中国机遇,②不选。
16. A 积极配合人口普查是公民应尽的法定义务,公民应树立主人翁意识,积极配合,①符合题意;各级普查机构及其工作人员对人口普查对象提供的资料,应履行保密义务,③符合题意;公民应准确、完整地提供人口普查所需的资料,不必提供个人及家庭的所有信息,②不选;开展人口普查登记工作,不涉及政府的监管,④不选。
17. C 切实解决群众中的难题,完善社会保障体系,表明该市政府坚持以人民为中心,履行加强社会建设职能,健全基本公共服务体系,②④符合题意;材料不涉及创新履职方式,该市政府都是一些常规的做法,①不选;从群众中来到群众中去是政府的工作方法,对人民负责是政府的工作原则,③不选。
18. B 该县组织宗教界人士开展“探寻红色足迹 厚植爱国情怀”主题教育活动,组织参观“中华民族危急奋起牺牲救国”“运用合法形式放手抗日救亡”等九个单元,有利于增强宗教人士的爱国情怀,积极引导我国宗教与社会主义社会相适应,①④符合题意;②的内容不是该县的主旨,故不选;该县的做法也不是为了续写中日友好新篇章,③不选。
19. A 在参观活动中,宗教界人士被军人的民族精神所感动,说明人们的精神活动离不开一定的物质活动和载体,文化对人的影响来自各种形式的文化活动,①③符合题意;优秀的文化作品能增强人的精神力量,②不选;中华文化的力量集中表现为民族精神的力量,且材料没有体现中华文化与民族精神的关系,故④不选。
20. B 对“贫”字的多样解读,表明中华文化的博大精深、内涵丰富,①符合题意;“八年勠力同心”、“人心凝聚力量”、“刀刃锐利荆棘”体现了中华民族伟大的团结精神、伟大的奋斗精神,④符合题意;②③在材料中没有体现,不选。
21. B 漫画中的一方嘲笑另一方,是因为他站的角度使他不能看到自己的处境,说明人们所站的角度会影响认识,B符合题意;A说的是现象与本质的关系,C体现的运动和静止的关系,D体现的是要站在一个高度才能认识本质和规律,均



- 不符合漫画寓意。
22. A 潍坊至莱西高铁建成通车可以为山东省其他地方全资高铁项目建设提供借鉴,也为全国提供了地方高铁建设新样本,体现了矛盾的普遍性和特殊性相互联结,A符合题意;联系是客观的,不能臆造,B不选;旧事物的灭亡在材料中没有体现,C不选;材料没有体现整体对部分的重要性,D不选。
23. A 为了寻找青春岁月的光芒,我们无数次背负理想前行,启示我们实现人生价值要树立坚定的理想信念,坚持正确价值观的指引,①符合题意;青春磕磕绊绊一路淌来,留下一身伤痕,而每道痕必会迸发出一首歌,启示我们实现人生价值要对未来充满信心,顽强拼搏,克服前进道路上的困难,②符合题意;材料不涉及个人的才能和素养,也不涉及社会提供的客观条件,③④不选。
24. A 考查先秦的礼乐制度。依据材料和所学可知,在先秦儒者的社会秩序建构中,司徒作为掌管民政、教化的官员,其职责是通过冠、婚、丧等礼典来调节人们的性情,向人们灌输父子、夫妇、君臣、长幼等的相处、交往应有的道德观念,同时在整齐衣服、饮食、事为等方面来防止僭越,正是通过这种制度性的灌输,礼的践行才可能转化为主体的自觉,故选A项。先秦尚未建立君主专制,排除B项;霸道是指君主凭借武力、权势、法治进行统治,属于法家思想,排除C项;墨家反对不义之战,排除D项。
25. D 考查棉花传入中国。依据材料,南朝的《后汉书·西南夷列传》提到东汉明帝时,云南西部的哀牢人就已懂得染“帛叠”(即棉布),西晋的《广志》提到“割田”(在今缅甸)当时也已植棉。这说明早在东汉明帝乃至更早,原产印度的棉花经缅甸传入我国西南怒江流域是最有可能的,故选D项,并排除A、C两项。三国时棉花只在海南岛广为种植,排除B项。
26. A 考查古代中国商业的发展。根据材料可知,宋代的商业流通领域出现了商品折价交易的兑换方式及兑换处,表明宋代商品经济繁荣,商品种类较多,商品交易频繁,货币需求量较大,故选A项。宋代的商品折价交易只是商业交易方式的变化,与坊市制度的变化无关,排除B项;材料以铜钱论价进行商品交换的折价交易,不能反映货币发展的多样化倾向,排除C项;材料未反映重本抑末政策松动信息,排除D项。
27. B 考查明代的内阁制度。根据材料和所学知识可知,在明代的内阁体制下,无论是内阁和司礼监协作,还是制衡,这两者无论哪一个要想发挥应有的作用,其主要官员都必须千方百计争取皇帝的信任和支持。在政治生活中,由于皇帝自身素质及外在政治环境等诸种因素的影响,皇帝不可能对内阁和司礼监寄予完全平等的信任,皇帝总是向其中一方相对倾斜。这种倾斜成为皇权在内阁和司礼监间游移的原动力与根本原因,故选B项,并排除其他选项。
28. D 考查近代中国商业资本的发展。中国近代社会经济结构最基本的特征,是个别口岸城市的社会化机器工业与广大的小农经济和手工业生产并存一体。这两种生产体系由于其生产力基础的根本性质差异,不能直接建立产销供求渠道,因此由社会化机器生产体系提供的商品以及由个体性手工业生产体系提供的更大量的产品,都需要借大大小小的商业资本所组成的多层次中转环节,才能在这两种体系间实现社会产品的交换。商业资本作为沟通城乡二元体系之间的桥梁,得到了最充分的发展,故选D项。社会动荡不利于商业资本的发展,排除A项;列强只是利用了中国旧有的商业资本和店号建立流通网络而非完全控制了商品流通,排除B项;工业资本发展滞后不利于商业资本的运转,排除C项。
29. D 考查中国近代的思想解放潮流。材料表面上是“先开民智”与“先变政制”之争,实质上是维新派和革命派在探索如何救国问题上的道路之争。维新派继续坚持改良的办法来救国,革命派认为改良之路在中国已经走不通,主张通过暴力革命变革政制来救国,故选D项。严复的主张正是在文化上对国情的准确分析,排除A项;孙中山和严复的思想都符合中国的实际国情,分歧在于如何选择具体的救国道路问题,排除B项;严复个人的主张并不代表维新派全部,且其“开民智”的主张并不保守,排除C项。
30. A 考查人民解放战争。根据所学知识可知,上海是当时全国的经济中心,其工业总产值和对外贸易总额约占全国的一半,上海经济率先稳定就有利于全国经济的稳定,故人民解放军对官僚资本主义企业采取“原封不动,整套接收”的办法,目的就是推动官僚资本主义企业首先恢复发展生产,从而带动全国经济的恢复和发展,故选A项。七届二中全会的召开推动了党的工作重心从农村向城市转移,排除B项;此时新中国尚未成立,上海也暂时处于军管状态,排除C项;材料未反映西方列强企图干预解放军解放上海的信息,排除D项。
31. A 考查家庭联产承包责任制。据图示信息,1978年至1981年中国农村社会总产值、粮食产量呈上升趋势。结合所学知识可知,当时我国农村推行家庭联产承包责任制,即通过对农村生产关系的适时变革,从根本上解放了农村社会生产力,故选A项。乡镇企业异军突起是在1981年,不能涵盖图中的时间,排除B项;农村经济结构的调整主要是指大力发展乡镇企业,时间是在1981年,时间与图示不符,排除C项;1978~1984年我国农村生产技术并没有明显提升,排除D项。
32. B 考查智者学派。一定历史时期的文化是一定历史时期政治经济的反映,材料反映出古代雅典的后期智者们在思想上走向虚无主义,他们已经丧失了智者学派鼎盛时期那种以“人是万物的尺度”这一精神,去怀疑一切既定的风俗、习惯、伦理、信仰和知识的开拓精神,这正是雅典城邦民主制江河日下甚至走向僭主政治在文化上的反映,故选B项,并排除A项。普罗泰格拉提出“人是万物的尺度”,有利于打破僵化的思维方式和解放人类的思维,排除C项;理性是认识真理的可靠武器,正是苏格拉底对智者们在思想上否定、怀疑一切的反思和纠正,排除D项。
33. C 考查法国的工业革命。据材料并结合所学可知,这一时期的法国工业结构不尽合理,奢侈品工业虽发达,但有能力购买这些商品的人不多,市场需求量少,形不成规模化生产,严重影响了法国工业革命的进程,故选C项。重商主义时代的英国,在18世纪中期就已确立世界殖民霸主地位,排除A项;二战后英国借鉴美国罗斯福新政的做法,加强国家对经济的干预,排除B项;高利贷资本发达是导致法国经济结构不合理的重要原因,并且法国高利贷资本发达且先进



- 入帝国主义阶段后,与材料中的时间不符,排除D项。
34. A 考查赫鲁晓夫改革。据材料并结合所学,1956年赫鲁晓夫的这一秘密报告,主要是强调反对对斯大林的个人崇拜,实质上为其改革作思想舆论上的准备,从而有利于打破苏联社会主义探索的禁区,故选A项。赫鲁晓夫改革的重点在农业领域,扩大集体农庄和国营农场的自主权,加强对经济的集中领导,在一定程度上改善了国民经济中重工业比例过高的问题,排除B项;材料的主旨是在思想上破除对斯大林的个人崇拜问题,而不是提高农产品的收购价格和农民的积极性问题,排除C项;毛泽东说的“又捅了娄子”是指报告造成了国际共产主义运动的困境,排除D项。
35. D 考查现代主义绘画。第二次工业革命震碎了人类千百年来的文化传统,现代工业和城市化的兴起,令人与人之间的关系愈加疏远冷漠,两次世界大战使西方的自由、博爱、人道理想等观念被战争蹂躏得体无完肤,现代主义文艺应运而生,唯心、荒诞、抽象、虚无、超脱是现代主义文艺的显著特征。图示作品中所表现的就是把抽象带进一种最后的几何简化中去,来表现作者心中的“自我感受”,故选D项,并排除其他三项。
36. (1)3月份,太阳直射点向北移,蒙罗维亚正午太阳高度增大,太阳辐射增强;受干热的东北信风影响,气温偏高;阴雨天气较少,光照较强。(每点2分,答对2点4分)
- (2)种植规模大,集中连片;种植专业化程度高;商品率高。(6分)
- (3)森林资源丰富,拥有多种名贵树种;矿产资源种类多样,储存量高;日用消费品制造业投资潜力大(或市场潜力大);劳动力丰富廉价;位于沿海,海洋运输条件优越;当地政策支持。(任答4点,8分)
- (4)促进天然橡胶工业制成品产量的提高;推动本国橡胶加工业的发展,延长产业链,提高产品附加值;创造更多就业岗位,增加经济收入。(6分)
37. (1)位于温带季风气候区,昼夜温差大;光照充足,光合作用强烈,有机物质积累丰富;土壤肥沃,疏松透气,利于根系生长;培育过程严格精细,保证苹果品质。(8分)
- (2)保湿冷藏苗推迟1个月栽种可提高树苗的成活率,促进幼树生长发育;(2分)砧木成龄后加宽行距有利于通风透光,提高苹果产量和品质,也便于机械化作业。(4分)
- (3)因地制宜,挖掘地区特色农产品或文化产品,打造集产品研发、生产、加工、销售于一体的完整产业链;建立专业化的生产基地,适度扩大生产规模;加大科技投入,研发新品种,延长产业链,增加附加值;深度融合当地文化,注重品牌建设;宣传包装;完善基础设施建设,发展特色乡村体验式旅游。(任答4点,8分)
38. (1)①排除疫情影响,大兴国际机场投入运营后,执飞航班量总体上呈逐渐增加的趋势,首都机场的执飞航班量逐渐减少,大兴国际机场分担了首都机场营运压力。(2分)②大兴国际机场的投运带动了周边经济的发展,引领都市圈升级。(2分)(其他答案,符合题意,可酌情给分)
- (2)①推进“证照分离”改革,优化审批验收程序等举措,可降低企业的制度性交易成本,营造良好的营商环境;(3分)②促进外籍人才引进、建立京津冀人才跨区域资质互认等举措,可优化人才发展环境,为经济发展提供创新保障和人才支撑;(3分)③推动区域要素充分自由流动、促进跨境数据流动等举措,可合理发挥数据要素作用,优化区域资源配置,推动京津冀区域协同发展。(4分)(其他答案,符合题意,可酌情给分)
39. ①重视发挥社会主义协商民主这一实现党的领导的重要方式,彰显我国社会主义民主政治的特有形式和独特优势,推动决策科学化、民主化。(3分)②坚持和加强中国共产党的领导核心地位,充分发挥党的总揽全局、协调各方作用,使党的精神和部署得到全面贯彻和执行。(3分)③重视各民主党派的自身优势,发挥其政治协商、参政议政、民主监督的作用,推进国家治理体系和治理能力现代化。(3分)④贯彻群众观点和群众路线,始终坚持以人民为中心,破解民生难题,切实维护人民群众利益。(3分)(其他答案,符合题意,可酌情给分)
40. (1)①发挥教育在选择、传递、创造文化的特定功能,通过课堂教育普及民间文学知识,传播优秀民间文学文化。(3分)②推动文化与经济相交融,大力发展文化产业,为民间文学的传承和保护奠定物质基础。(3分)③立足社会实践,借助现代科技手段,创新形式,并注入时代内容,推动优秀民间文学创造性转化和创新性发展。(4分)(其他答案,符合题意,可酌情给分)
- (2)①人能够能动地认识世界。保护和传承优秀民间文学,可以帮助人们了解中华民族的历史演进,认识到中华民族的历史文化成就,加强民族团结。(4分)②意识对人们改造客观世界的活动具有指导作用。正确的意识有助于指导人们在改造客观世界的活动中取得成功。保护和传承优秀民间文学,可以直接或间接地为人民生活服务,创造美好生活。(4分)③意识对于人体生理活动具有调节和控制作用。保护和传承优秀民间文学有利于人民厚植家国情怀,催人向上,使人奋进,积极投身于社会实践。(4分)(其他答案,符合题意,可酌情给分)
- (3)录制短视频,增强民间文学的生活情趣和时尚气息;搭建“民间文学论坛”微信公众号,推送优秀民间文学相关信息。(每条2分,共4分。其他答案,符合题意,可酌情给分)
41. (1)思想:善政的伦理基础是性善论;善政的基本原则是民贵君轻;善政的思想核心是在经济上惠民,在政治上提倡王道(“以德行仁”、以民为本、“尊贤使能”),在文化上标榜善教。(7分,任答四点即可)
- 背景:出现大国称雄争雄的“霸政”局面,国家走向局部统一;封建生产关系逐步确立,封建地主阶级崛起;思想领域出现“百家争鸣”的局面;礼崩乐坏,百姓因社会动荡而苦不堪言。(6分,任答三点即可)
- (2)表现:公民大会制度;元老院制度;执政官制度;陶片放逐法;抽签制度;陪审法庭等。(4分,任答四个即可)
- 原因:对人民的不信任,害怕实质民主的发展会酿成“多数人的暴政”;构建程序民主机制,限制平民参与民主过程以保障资产阶级统治;制造复杂的投票选举、政党竞争、院外游说等自由代议制程序,成为限制公民参与和掩盖资产阶级统治本质的工具;随着资本主义国家权力的膨胀及福利国家的全面危机,程序民主日益僵化和异化;西方国家打着经济援助、人权“卫道士”的幌子在第三世界国家推行西方式的程序民主,导致这些国家陷入动荡甚至混乱之中。(8分,任



答四点即可)

42.【评分标准】

(1)论题:(2分)

- ①没有观点或不是材料中得出的观点不得分。
- ②根据材料概括提出的观点准确全面得2分,余者酌情给分。

(2)阐述:(10分)

- ①举出能说明观点正确合理的史实至少三个,每个2分,共6分,余者酌情给分。
- ②最后对阐述进行简单小结,呼应论题,得2分。
- ③论证充分,逻辑清楚,文字通顺,得2分,但全题不得超过12分。

示例一:

论题:茶叶贸易深刻地影响了近代中英两国人民的社会生活。(2分)

阐述:17世纪初,茶叶开始走入英国人的生活,但由于价高量少,只在英国上流社会流行。此后伴随着中国茶叶输入的增多,茶叶广告的流行,茶的保健功能为英国人所熟知等,英国饮茶之风日盛,茶叶一时成为中英贸易的主要商品。大量的白银因此流入中国,推动了中国南方茶叶种植业的进一步发展,也导致英国为改变对华贸易逆差而无耻地对华输入鸦片。伴随着中国在鸦片战争的战败和一系列不平等条约的签订,以及印度、斯里兰卡等国茶叶生产的迅猛崛起,中国茶业迅速衰落,茶农纷纷毁茶种粮,或到洋商开办的洋行务工。(8分)

茶叶贸易深刻地影响并改变了近代中英两国人民的生产生活。(2分)

示例二:

论题:中国国运兴衰与茶叶贸易。(2分)

阐述:中国是世界茶叶生产、出口大国,茶叶是中国古代丝绸之路上的大宗商品。在早期的中英贸易中,茶叶是中英贸易的主要商品,中国一直处于主导地位,大量的白银因此流入中国。为改变这种局面,早在18世纪后期英国就开始利用东印度等殖民公司向中国无耻地走私鸦片,鸦片输入极大地改变了中英茶叶贸易的局面,中国政府为此被迫禁烟,英国借此挑起了鸦片战争。腐朽的清王朝在战争中一败涂地,国门洞开,中国的茶叶生产和销售一落千丈,大量茶农纷纷破产,中国成了世界茶叶生产和销售的弱国。改革开放以来,中国的茶叶生产和销售获得大发展,随着社会主义市场经济体制的逐步建立和经济全球化的深入发展,中国重新成为世界茶叶生产和销售的强国。(8分)

中英茶叶贸易史说明:国运兴则茶业兴,国运衰则茶业衰。(2分)

(“示例”仅作为参考,其他答案言之有理亦可酌情给分)

- 43. 自然、人文旅游资源兼有,类型丰富多样;拥有世界仅有的沙地云杉林生态系统,非凡性强;云杉林生态系统的科研价值和生态价值高;景区景点密集,集群状况良好;距离经济发达地区(市场)较远;交通等基础设施不够完善,接待能力较弱;气候干旱,生态环境脆弱,环境容量较低。(任答5点,10分)
- 44. 秸秆粉碎还田;减少来年农耕活动处理秸秆的强度,还田后可增加土壤肥力,减少化肥施用量,利于农业的可持续发展;(2分)秸秆粉碎后用作饲料;减少草料种植面积,利于农业结构的优化调整;(2分)回收制造木糖醇,可减少森林的破坏,利于森林资源的保护;(2分)秸秆发酵产生沼气提供生物能,沼渣、沼液还田,既节省了化石燃料、薪炭林的使用,又提高了土壤肥效。(4分,合理即可)
- 45. (1)特点:改革取得突破性进展,教育资源得到优化配置;覆盖面广,涉及全国多所高校和多个省区;形成了中央和省级政府两级管理,以省级政府管理为主的高等教育管理新体制。(6分)  
(2)意义:保证了高等教育事业的快速发展,促进了我国高等教育办学模式的转变;有利于高校学科的交叉综合建设,克服了高等教育的部门和地方条块分割、重复办学、资源浪费的弊病;理顺了关系,调动了地方政府和社会各方面发展高等教育的积极性;适应了我国社会主义市场经济建设的需要,对于高等教育事业的发展具有深刻的战略意义;适应了我国社会特别是人民群众对接受高等教育的迫切需求。(9分,言之成理即可)
- 46. (1)目的:克服经济危机;为对外扩张提供持续支撑;防止苏联威胁;巩固在朝鲜的殖民统治;为日美开战作战略准备。(7分,任答四点即可)  
(2)原因:日本对外扩张的战略基础;打败中国,迫使重庆国民政府投降;日本对印度支那的占领,导致美英等国对日本实施贸易禁运;以东条英机为首的强硬法西斯分子上台组阁;日本认为美英等国威胁了其在亚太地区的利益。(8分,任答四点即可)
- 47. (1)功绩:爱好和平,以民众利益为重,推翻清王朝;重视团结,以民族共同繁荣为重,维护区域稳定发展;拥护统一,积极抗击并协助朝廷平定吴三桂叛乱。(9分)  
(2)品质:长远的战略眼光;卓越的个人能力和领导才能;隐忍不发的战略定力;处理复杂政治局面大局观;有勇有谋的军事才能。(6分,言之成理即可)



## 关于我们

自主选拔在线是致力于提供新高考生涯规划、强基计划、综合评价、三位一体、学科竞赛等政策资讯的升学服务平台。总部坐落于北京，旗下拥有网站（<http://www.zizzs.com/>）和微信公众平台等媒体矩阵，用户群体涵盖全国90%以上的重点中学师生及家长，在全国新高考、自主选拔领域首屈一指。

如需第一时间获取相关资讯及备考指南，请关注**自主选拔在线**官方微信号：**zizzsw**。



微信搜一搜



自主选拔在线

关注后获取更多资料：

回复“答题模板”，即可获取《高中九科试卷的解题技巧和答题模版》

回复“必背知识点”，即可获取《高考考前必背知识点》