

六安一中 2023 届高三年级第八次月考

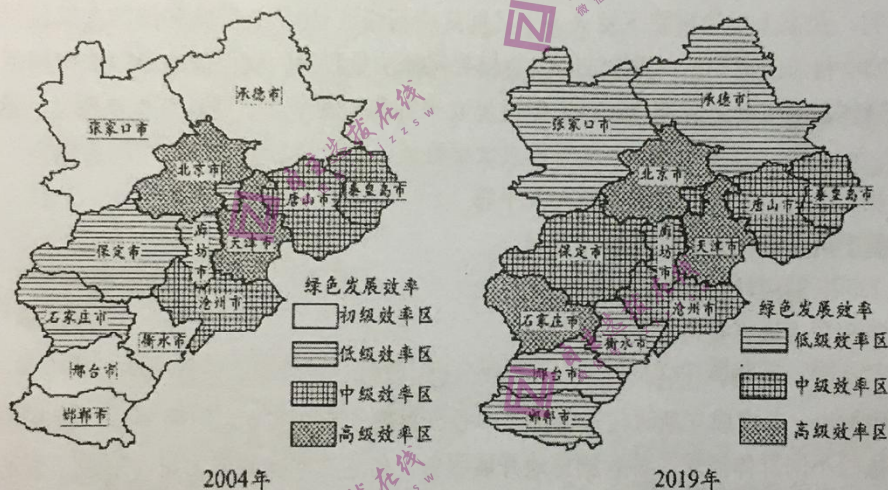
文科综合

本卷分为第 I 卷（选择题）和第 II 卷（非选择题）两部分。满分 300 分，考试时间 150 分钟

第 I 卷（选择题共 140 分）

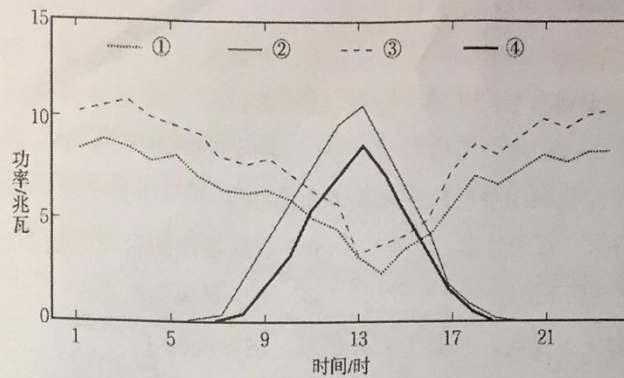
一、选择题（本题共 35 小题，每小题 4 分，共 140 分。每小题只有一个选项最符合题目要求）

工业绿色全要素生产率（绿色 TFP）是综合考虑生产要素和能源资源消耗等投入的经济产出效率，提高绿色全要素生产率有利于实现经济高质量发展。图示意 2004 年和 2019 年京津冀工业绿色全要素生产率水平空间分布图。据此完成下面小题。



- 与 2004 年比，2019 年京津冀工业绿色全要素生产率水平（ ）
A. 低级效率区面积减小
B. 地区差异明显减小
C. 内陆城市的水平更低
D. 环京津地区均提升
- 2004 年-2019 年间，廊坊市、保定市工业绿色全要素生产率的变化主要得益于（ ）
A. 工业基础雄厚
B. 科技水平先进
C. 空间近邻效应
D. 环保意识较高
- 为全面提升京津冀工业绿色全要素生产率水平，下列措施合理的是（ ）
①建立城市合作机制，缩小绿色 TFP 差异
②改善工业发展条件，提高科技创新水平
③高级效率区完善基础设施，剥离传统产业
④低级效率区发展低碳经济，引领创新发展
A. ①②
B. ①③
C. ③④
D. ②④

虚拟电厂并不是真实存在的电厂，是指利用软件系统参与电网的运行和调度的智能电网技术。虚拟电厂平台可直接调度分散分布的发电装置、储能系统、电动车充电站等的电能，使电力资源再分配，实现削峰填谷。图示意中国东部某城市“冬、夏季风电与光伏发电量日变化预测”。据此完成下面小题。

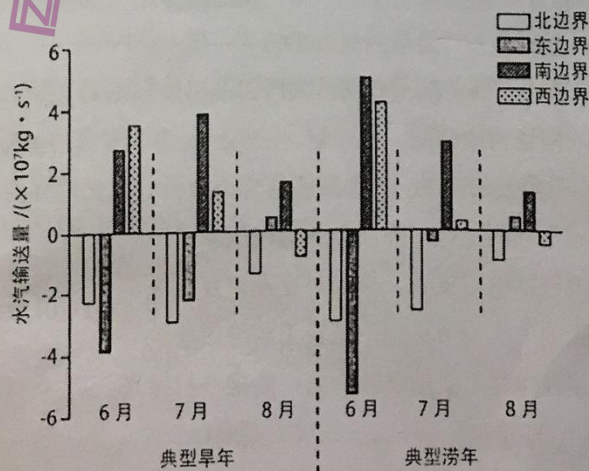


4. 图中的曲线②代表 ()
- A. 夏季日风电 B. 冬季日风电 C. 夏季日光伏 D. 冬季日光伏
5. 下列地点在夏季用电高峰期参与虚拟电厂调度响应合理的是 ()
- A. 地铁适当调低空调的温度 B. 汽车充电桩提高其充电功率
- C. 机械厂开足马力全力运行 D. 企业储能设备放电返充电网

巴西海军的“圣保罗号”航母于2017年退役。2022年，土耳其某船舶回收厂竞拍到该航母，但土耳其政府拒绝它入境进行报废。巴西海军曾计划委托造船厂修理航母，但检查发现其中含有成吨的石棉、汞、铅等物质。2023年，在距巴西东北海岸大约350公里（1公里=0.54海里）的海域，巴西海军将该航母沉入5000米深的海洋中。据此完成下面小题。

6. 推测土耳其某船舶回收厂竞拍“圣保罗号”航母最主要的原因 ()
- A. 获得廉价的可利用材料 B. 发展海洋国防力量
- C. 提升企业的国际知名度 D. 改善交通运输工具
7. 该航母的沉没地点最可能位于巴西 ()
- A. 领海 B. 毗连区 C. 专属经济区 D. 管辖海域外的公海
8. 关于该航母沉入海洋后的影响，说法正确的是 ()
- A. 损害阿根廷海洋渔业开发权益 B. 对海面交通运输影响小
- C. 污染物主要向着东北方向扩散 D. 有利于形成大量珊瑚礁

福州市干旱年份呈“正常—旱—涝”分布的规律，不同旱涝年份的水汽输送形势差异明显。下图示意福州市典型旱、涝年夏季各月不同方位的水汽输入与输出量。据此完成下面小题。



9. 为福州夏季输送水汽的主要气流是 ()
- A. 东北风 B. 东南风 C. 西北风 D. 西南风
10. 与典型早年相比, 形成典型涝年的关键在 ()
- A. 6月东边界 B. 6月南边界 C. 8月北边界 D. 8月西边界
11. 福州早年、涝年交替现象出现的原因从根本上取决于 ()
- A. 东北信风带的季节移动异常 B. 登陆福州的台风天数变化
- C. 西北太平洋副热带高压异常 D. 亚洲低压强度异常
12. 新民主主义向社会主义过渡, 有其历史必然性, 这表现在 ()
- ①个体农业经济难以适应国家工业化建设的新形势, 迫切需要组织起来
- ②社会主义国营经济迅速发展, 逐步成为社会经济中的主导因素
- ③国家积累了经营私营工商业的经验, 开始了对它们初步的社会主义改造
- ④过渡时期的总路线和总任务是实现国家工业化
- A. ①② B. ①④ C. ②③ D. ③④
13. 中国共产党坚持把马克思主义基本原理同当代中国实际和时代特点相结合, 推进理论创新, 形成了中国特色社会主义理论体系。对此, 以下说法正确的是 ()
- ①邓小平理论——成功开创了中国特色社会主义
- ②科学发展观——成功把中国特色社会主义推向 21 世纪
- ③习近平新时代中国特色社会主义思想——中国特色社会主义进入了新时代
- ④“三个代表”重要思想——成功在新的历史起点上坚持和发展了中国特色社会主义
- A. ①③ B. ①④ C. ②③ D. ③④
14. 数字经济与实体经济的融合发展, 将成为国家经济增长的强劲动力。进入数字时代, 当一切的社会要素数字化以后, 企业一端连接着市场, 可以通过快速洞察客户的需求, 来调整自己的供给。推进数字经济与实体经济深度融合的路径是 ()
- ①扩大有效供给 ②优化产业结构 ③提高经济效益 ④精准对接供需
- A. ①—②—④—③ B. ②—④—①—③
- C. ④—①—②—③ D. ④—②—①—③
15. 2022 年 12 月, 中共中央、国务院发布《扩大内需战略规划纲要(2022~2035 年)》, 提出要完善收入分配格局, 构建初次分配、再分配、三次分配协调配套的基础性制度安排, 扩大中等收入群体比重, 增强内需发展后劲。下列措施符合通过再分配来增强内需发展后劲的是 ()
- ①甲市实行出口退税全程网上办, 降低企业纳税成本
- ②乙省推进营业税改征增值税试点, 减少对企业重复征税
- ③丙省建立个税扣除的动态调节机制, 减轻工薪阶层税负
- ④丁县提高农村公益性岗位工资的财政补贴, 助推乡村振兴
- A. ①② B. ①③ C. ②④ D. ③④

16. “两微一抖”（微信、微博、抖音）已成为大众传播时代的社会符号，呈现出“人人都有麦克风”“所有人对所有人”的新型传播格局。用户在网络上的言行更加随心所欲，容易逾越法律和道德的限度。这要求公民（ ）
- ①履行对国家对社会应尽的责任 ②依法行使表达权和质询权
③勇于对不法网络行为行使监督权 ④坚持权利与义务相统一的原则
- A. ①③ B. ①④ C. ②③ D. ③④
17. 针对宠物伤人、扰民、污染环境等问题，某社区以“如何规范饲养宠物行为”为议题展开讨论，下列观点合理的是（ ）
- A. 甲：应由社区居委会制定“社区文明饲养宠物法规”，加强宣传和引导
B. 乙：应召开居民会议，只要有半数以上的居民同意，就可出台“禁养令”
C. 丙：社区应根据该市物业管理条例，禁止在社区内饲养烈性和大型宠物
D. 丁：社区居民应该共同制定公约，对违反公约的宠物主人处以罚款处罚
18. 2023年3月，最高人民检察院下发《关于贯彻实施新修订〈中华人民共和国妇女权益保障法〉切实保障妇女权益的通知》。新修订的妇女权益保障法是我国妇女保护的专门法律规范，是国家人权保障体系的重要组成部分，对于促进男女平等和妇女全面发展具有重要意义。这表明（ ）
- ①在我国社会主义制度下，法律面前人人平等
②通过调整上层建筑推动经济基础的发展
③通过改革不断适应社会基本矛盾的变化
④价值判断和价值选择要站在人民的立场
- A. ①② B. ①④ C. ②③ D. ③④
19. 为创建文明城市，G市成立新时代文明实践中心，组建了500多支志愿服务队，深入乡镇、村等基层，按照不同群体需求，各有侧重地开展服务，传递文明向善的力量，形成了爱心助学、扶老助贫等志愿服务品牌，打造了一张独特的城市“道德名片”。可见，创建文明城市（ ）
- ①是培育和践行社会主义核心价值观的重要途径
②旨在依托志愿服务品牌，涵养现代城市精神
③应立足志愿服务主阵地，推动志愿服务常态化
④应坚持以人民为中心，提升志愿服务质量
- A. ①③ B. ①④ C. ②③ D. ②④
20. 2022年11月美国进行了中期选举，两党缠斗逐渐升级，最终以民主党和共和党分获国会参议院和众议院控制权而尘埃落定，这也意味着拜登政府在未来两年内将面临“分裂的国会”。此次选举累计花费超过167亿美元，成为美国史上“最贵”中期选举。对此认识正确的有（ ）
- ①美国总统和国会权力的来源不同，形成左右共治局面
②美国总统不对国会负责，但重大事务可能受国会制约
③利益集团的存在从根本上解决了不同阶级之间的矛盾
④金钱和权力的游戏，始终不可能代表广大民众的利益
- A. ①② B. ①③ C. ②④ D. ③④

21. 习近平主席在二十国集团领导人第十七次峰会上指出，为遏制全球通胀、化解系统性经济金融风险，发达经济体要减少货币政策调整的负面外溢效应，将债务稳定在可持续水平。这是因为（ ）
- ①促进共同发展是二十国集团各成员国的共同愿望
 ②人类社会越来越成为一个紧密联系的命运共同体
 ③经济全球化的深入发展加剧世界经济的不确定性
 ④二十国集团是一体化程度最高的区域性国际组织
- A. ①② B. ①④ C. ②③ D. ③④
22. 某法院公开受理了一起赡养费纠纷案件。原告在其子女年幼时，与妻子离婚后并未尽到抚养义务，现年近古稀，生活不能完全自理，长期居住养老院，故请求子女支付赡养费用。法院最终判决被告承担相应的赡养费用。下列认识正确的是（ ）
- ①赡养父母不仅是中华民族的传统美德，更是成年子女的义务
 ②这起案件涉及双方当事人的隐私，不应该公开审理
 ③法院的判决保护了老年人等弱势群体的一切权益
 ④让人民群众在案件中感受到公平正义和司法温度
- A. ①② B. ③④ C. ②③ D. ①④
23. “世界各国，不支持销毁核武器，就是想发展核武器”；“国际博弈，不是输就是赢”。这两句话（ ）
- ①都遗漏了有价值的选言支 ②都犯了“否定定义”的逻辑错误
 ③都违背了思维的确定性要求 ④都在表述概念外延的不相容关系
- A. ①② B. ②③ C. ①④ D. ③④
24. 据记载，姜太公至齐国修政，因其俗，“劝其女功，极技巧，通渔盐，则人物归之，繙至而辐凑，故齐冠带衣履天下”。这说明当时（ ）
- A. 变法运动推动社会转型 B. 分封制促进了区域经济发展
 C. “工商食官”格局被打破 D. 齐国采用适宜政策取得霸业
25. 下图是唐初不同时期的地方政区规划。武德年间，地方行政规划以军事为首要目的，基本以南北向为主，即南北长度大于东西宽度；而贞观年间的地方行政规划，多以东西向为主，强调“关河近便”。这一调整的原因是（ ）



武德年间诸行台示意图



贞观年间十道示意图

- A. 经济重心南移的趋势
B. 国家统一进程逐渐完成
C. 防御外族入侵的需要
D. 对山川地理形势的重视
26. 宋代特殊的时代环境使得宋代的法制建设获得了空前发展。开创长官躬亲断狱听讼之先河，并明悉其在起诉中应受理和不应受理责任，特殊情况允许百姓白纸起诉。这反映了宋代（ ）
A. 法制建设渗透民本主义色彩
B. 冗官问题严重造成官员间竞争
C. 土地兼并导致社会矛盾尖锐
D. 司法审判程序具有很大随意性
27. 郭守敬主持制订的《授时历》，在当时是非常准确的历法。清朝人甚至说“有元一代制度，莫善于历”。能制订如此先进历法的客观条件主要取决于（ ）
A. 统一局面和辽阔的版图
B. 天文观测数据采集条件
C. 对东西方知识全面了解
D. 郭守敬个人的学术造诣
28. 19世纪中叶以来，闽江上游的茶叶生产使福州成为“世界茶都”，厦门则是当时最大的契约劳工出洋中心。这体现了当时（ ）
A. 中国传统商业经营形式的变化
B. 列强加紧对华的商品输出
C. 国人积极加入全球劳动力市场
D. 世界市场国际分工的需要
29. 1947年10月3日，毛泽东致电华野陈毅、粟裕：“现应确定一个月至两个月内，只打小仗不打大仗。各纵应划定地境，每纵几个县……建立政权，实行土改……此种工作看似不甚重要，实则具有伟大战略意义。”这说明当时中国共产党（ ）
A. 动员群众推进民主革命的进程
B. 积极推进工作重心向城市转移
C. 实行减租减息以扩大统一战线
D. 揭开解放战争战略反攻的序幕

30. 下表为世界不同地区古代文明的重要成果。这表明（ ）

地区	成果
两河流域	城邦治理、泥版文书、法典、学校以及帝国的实践
埃及	国家治理、象形文字、金字塔、灌溉农业
古罗马	共和制、拉丁文、大竞技场、罗马法、地中海帝国的一统
中国	大一统、统一多民族国家的治理、科举制、四大发明

- A. 世界古代文明发展普遍缺乏连续性
B. 文明优劣取决于生产力的发展水平
C. 文明的发展以地区间的交流为前提
D. 不同地区文明带有鲜明的地域特征
31. 在中世纪的法国，乡村共同体作为一个自治性质的单位，以习惯法为基础，在得到领主同意后，通过村民会议自主管理公共事务。17世纪开始，领主及其代表出席或主持村民会议的权利被进一步限制，村民会议逐渐为王室监察官所掌控。据此可知，17世纪的法国（ ）
A. 已经形成完备的成文法体系
B. 乡村共同体丧失了自治权
C. 民族国家形成影响社会管理
D. 基层治理的水平不断提高
32. 《威斯特伐利亚和约》规定：每一个神圣罗马帝国的邦国都享有主权，可以独立地从事对外交往，包括宣战和媾和。这些内容逐渐演变成了国家主权原则。但在欧洲，经常上演小国被瓜分的剧目，比如波兰就三次被周围的三个大国瓜分。这些现象表明（ ）
A. 国际治理体系已经形成
B. 社会达尔文主义已出现
C. 国际体系遭遇现实挑战
D. 国家主权原则缺乏基础

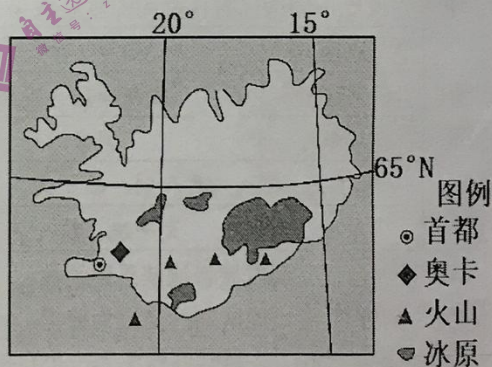
33. 1924年,俄共十三大政治报告中说:“我们发展经济是要有利于资本主义,还是有利于向社会主义过渡的国家资本主义呢?”“蜕化的问题是存在的,资产阶级不相称的发展的危险是存在的,而且毫无疑问它正在农村兴起。”该报告说明当时苏联()
- A. 国民经济得到恢复发展
B. 新经济政策遭到质疑
C. 战时共产主义无以为继
D. 农业集体化势在必行
34. 20世纪,世界上没有哪个地方没有出现“大政府”,国家掌握的权力和资源史无前例。最富的7个国家,公共开支在1965年占国内生产总值的25%,2000年则占37%。这一变化反映出()
- A. 国家干预经济日益增强
B. 经济全球化进程加快
C. 国家服务社会职能强化
D. 和平与发展遭遇挑战
35. 2019年4月15日,巴黎圣母院发生火灾,尖塔倒塌、屋顶焚毁,玫瑰花窗也被破坏,所幸主体建筑得以保存。按照法国政府计划,修复工程将于2024年完成,届时巴黎圣母院将重新开放。同年7月,中国“良渚古城遗址”被列入《世界遗产名录》。至此,中国共有55项世界遗产。这说明世界遗产保护()
- A. 是一个民族历史文化的长期积淀
B. 有利于研究人类文明的演进
C. 是推动人类文明进步的根本动力
D. 有利于民族文化的集中展示

第II卷(非选择题,共160分)

二、综合题

36. 阅读图文资料,回答下列问题。(26分)

为降低大气中二氧化碳浓度,冰岛在首都雷克雅未克近郊的地热发电站附近,兴建了全球目前规模最大的碳捕集工厂——奥卡。该工厂通过12台风扇把大气中的二氧化碳“捕捉”,并加热到 100°C 与水混合(1吨二氧化碳约需27吨水),被泵送入地下约1000米的玄武岩洞穴深处,在地下二氧化碳与玄武岩发生反应形成固体矿物质,永久储存在地下。据称,该工厂装置多数为手工制作,采用模块化施工,占地面积小,每年仅能捕捉4000吨二氧化碳,建设和运营成本高昂。



- (1) 说出冰岛建设奥卡碳捕集工厂的自然条件。(6分)
- (2) 分析奥卡碳捕集工厂建设和运营成本高昂的原因。(8分)
- (3) 说明采用模块化施工方式对该项目建设的益处。(8分)
- (4) 简述该项目的运营对周边区域环境带来的生态效益。(4分)

37. 阅读图文材料，完成下列问题。（30分）

建筑用海砂是指分布于海岸和近海的、以中砂和粗砂为主、包括部分细砂和砾石的砂质堆积物。分选良好、品质优良、经脱盐合格后的海砂，广泛应用于城市建设、公路、铁路和桥梁等混凝土结构建筑。日本在20世纪40年代就已经开始利用海砂配制混凝土，其海砂主要依靠进口，进口量逐年攀升，中国是其主要供应国，近些年来，我国不断扩大海砂的生产规模。图1示意渤海、黄海部分海域等深线分布，图2示意日本附近海域等深线分布。

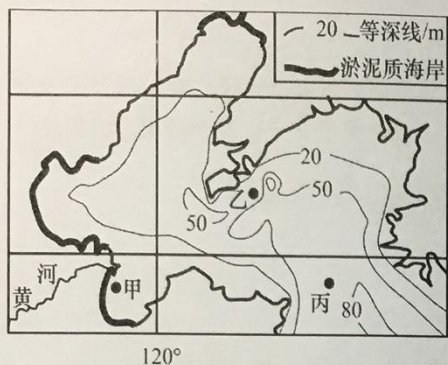


图1

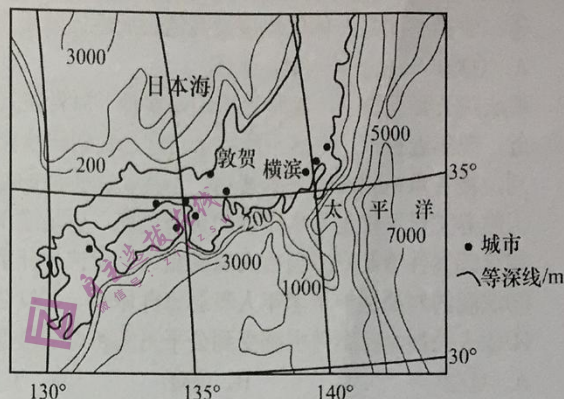


图2

- (1) 海砂主要是由海里的石头在地质作用下形成的颗粒。图1中某处海域的海砂主要由花岗岩发育而成，描述从花岗岩成岩后到形成海砂的主要地质作用过程。（8分）
- (2) 与图1中海砂开发条件较好的乙地相比，推测甲、丙两地开发条件较差的主要原因。（8分）
- (3) 分析海域辽阔的日本从我国大量进口海砂的原因。（8分）
- (4) 简述我国在不断扩大海砂生产规模的过程中应该避免的问题。（6分）

38. 阅读材料，完成下列要求。（10分）

习近平总书记指出：“法治政府建设是重点任务和主体工程，要率先突破，用法治给行政权力定规矩、划界限，规范行政决策程序，加快转变政府职能。”

材料一 2022年8月初，国务院督查组接到群众反映，因其所售的货值20元的芹菜农药含量超标而被罚6.6万元。督查组展开调查走访，查阅2021年以来该地行政处罚台账，发现针对小微市场主体的50多起处罚中，罚款超过5万元的有21起，而案值只有几十或几百元。督查组反馈，执法不能只讲力度，市场监管部门在维护好市场秩序的同时，也要为小微主体的生存创造良好的环境。8月29日陕西省通报相关问题，要求尽快制定整改方案，聚焦问题，统筹好执法工作和服务市场主体。

材料二 《中华人民共和国行政处罚法》（摘抄）

第五条 行政处罚遵循公正、公开的原则。设定和实施行政处罚必须以事实为依据，与违法行为的事实、性质、情节以及社会危害程度相当。

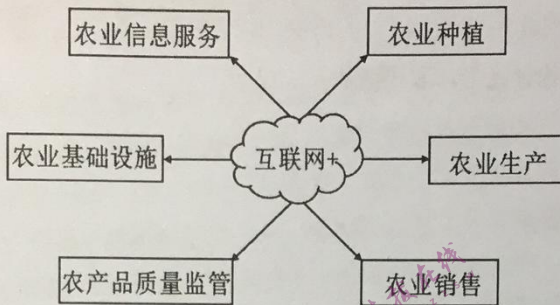
第十五条 国务院部门和省、自治区、直辖市人民政府及其有关部门应当定期组织评估行政处罚的实施情况和必要性，对不适当的行政处罚事项及种类、罚款数额等，应当提出修改或者废止的建议。

结合材料，运用《政治与法治》知识，阐释在法治营商环境建设中，政府该如何作为？

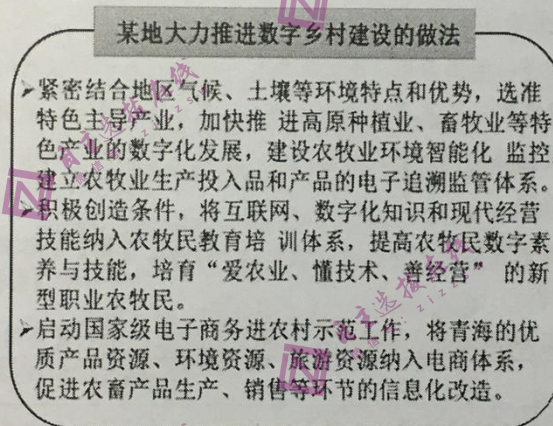
39. 阅读材料，完成下列要求。（10分）

2023年中央一号文件指出，要“大力推进数字乡村建设”。为此，某校高三学生开展“数字乡村赋能乡村发展”宣传月活动，搜集到以下材料：

材料一 “互联网+农业”模式



材料二



结合材料，运用唯物辩证法知识，谈谈某地做法对于推进数字乡村建设的启示。

40. 阅读材料，完成下列要求。（10分）

外贸连接国际国内两个市场，在构建新发展格局中发挥着重要作用。随着我国广交会、进博会、服贸会等国际经贸平台的搭建，我国更积极主动参与全球经贸合作。2022年，我国外贸进出口总值达到6.05万亿美元，是1978年的293倍，在出口贸易中机电产品出口额增长21.2%，占比提升至59%，其中手机增长6.8%，家用电器增长16.3%，汽车增长108.4%，船舶增长18%。截至2022年底，我国贸易伙伴遍布全球230多个国家和地区，已同145个国家和32个国际组织签署200多份共建“一带一路”合作文件，中欧班列累计开行超过4万列，运输货物品种达5万余种。在国家政策支持下，2022年我国跨境电商综合试验区增加到105个，市场采购贸易试点增加到31个。

结合材料，运用《当代国际政治与经济》知识，概括我国对外贸易的特点并分析其成因。

41. 阅读材料，完成下列要求。（12分）

王某于2009年入职上海某公司，双方先后签订数份劳动合同，2015年王某晋升为销售助理经理，月工资2万元。2022年4月，该公司向王某出具《调岗通知书》，职位调为产品咨询员，月工资调整为1万元，王某不服，要求公司恢复其原岗原职原薪。2022年6月8日，该公司以王某不服从安排为由，向其出具《解除劳动合同通知书》，宣布立即解除与王某的劳动合同，并扣发3个月工资以示惩戒。2022年6月15日，王某向当地基层人民法院起诉，要求该公司支付工资差额、扣发工资以及违法解除劳动合同赔偿金。

结合材料，运用《法律与生活》相关知识，回答下列问题：

- (1) 王某的诉求内容是否合法？为什么？（6分）
- (2) 王某解决劳动争议的程序是否合法？为什么？（6分）

42. 阅读材料，完成下列要求。（10分）

党的二十大报告指出，中国式现代化是全体人民共同富裕的现代化。共同富裕是中国特色社会主义的本质要求，也是一个长期的历史过程。

我们坚持把实现人民对美好生活的向往作为现代化建设的出发点和落脚点。一直以来，党和国家急群众所急、想群众所想，始终把人民对美好生活的向往作为奋斗目标，努力在更高水平上实现“幼有所育、学有所教、劳有所得、病有所医、老有所养、住有所居、弱有所扶”，让共同富裕的光芒照亮每个角落。对此，某班同学展开热议：

甲同学认为：只要我们坚持以人民为中心的发展思想，就能实现共同富裕和中国式现代化。我国一直坚持人民至上，所以一定能实现共同富裕和中国式现代化。

乙同学认为：只有坚持走实现全体人民共同富裕的道路，才能实现中国式现代化。若背离整体富裕、普遍富裕，搞两极分化，就会违反中国式现代化的本质要求。

结合材料，运用《逻辑与思维》知识，分别判断甲乙的推理是否正确，并说明理由。

43. (25分) 阅读材料, 回答问题。

材料一: 汉武帝时期, 张骞出使西域开辟了中西交通之路。汉代政府在河西设驿站, 保护丝绸之路上的使者、商贾。汉朝派赴中亚的各国使节、追逐厚利的冒险商人以及西行者相望于道。中国的丝绸、漆器和铁器运往中亚。大宛的葡萄、乌孙的黄瓜、奄蔡的貂皮, 以及异城的杂技、胭脂、音乐绘画艺术和风土人情也传入中土。随着佛教传入中国, 佛教文化深深影响了中国传统文化。汉灵帝时兴起“胡化”浪潮, “灵帝好胡服、胡帐、胡床、胡坐、胡饭、胡笙篪、胡笛、胡舞, 京都贵戚皆竟为之。”总之, 汉代形成了中外文化交流的第一个高潮时期。

——摘编自韩养民《汉代的中西文化交流》

材料二: 近代中国对西方的认知, 并非出于自觉, 而是在西方的武力入侵下迫不得已做出的自保之举。西方的坚船利炮打碎了天朝上国的美梦, 西方成为近代中国发展的一个“榜样”, 洋务运动、戊戌变法、清末新政、辛亥革命、五四运动, 中国近代史上的每个大事件无一不带有西方的色彩。然而, 中国认识西方和学习西方的过程, 同样是中国挽救颓势、徐图自强的过程, 是中国抵抗外侮、重塑民族自尊的历史进程。总之, 近代中国各种西方观的演变, 具有强烈的中国特征和时代特征。

——摘编自徐启瑞《近代以来中国西方观的嬗变》

材料三: 2023年是中国提出共建“一带一路”倡议10周年。目前已有151个国家、32个国际组织与中国签署200余份共建“一带一路”合作文件, “一带一路”建设已成为当今世界全新合作模式。

时间	提出
2013年9月	习近平在哈萨克斯坦纳扎尔巴耶夫大学发表《弘扬人民友谊共创美好未来》演讲, 倡议用创新合作模式共同建设“丝绸之路经济带”
2013年10月	习近平出访东南亚期间发表《携手建设中国—东盟命运共同体》讲话, 倡议筹建亚洲基础设施投资银行, 共同建设21世纪“海上丝绸之路”
2014年6月	习近平在中国—阿拉伯国家合作论坛第六届部长级会议上首次正式使用“一带一路”的提法, 并对丝绸之路精神和“一带一路”建设应该坚持的原则作出系统阐述

- (1) 根据材料一并结合所学知识, 指出汉代中外交流的特点, 并分析汉代出现中外文化交流高潮的原因。(10分)
- (2) 根据材料二并结合所学知识, 概括中国近代前期国人对西方认知历程的特征。(5分)
- (3) 根据材料三并结合所学知识, 说明中国提出“一带一路”倡议的历史背景, 并就“一带一路”建设进行简要评述。(10分)

44. (12分) 阅读材料, 完成下列要求。

材料: 2022年10月, 中国共产党第二十次全国代表大会在北京胜利召开。这是一次在中国全面建设社会主义现代化国家新征程的关键时刻召开的大会, 最突出的亮点之一就是提出了要“以中国式现代化全面推进中华民族伟大复兴”。

根据材料, 结合中国共产党成立以来的历史, 围绕“中国式现代化”这一主题展开论述。(要求: 观点明确, 史论结合, 论证充分, 表述清晰) (12分)

45. (15分) 阅读材料, 完成下列要求。

材料一: 1906年8月, 一位英国人在信中说: “我以为东方必将发生一场变革。日本的胜利似乎已对这个东方产生了非常明显的影响……此外, 俄国革命也在这里产生了极为惊人的影响……他们厌恶统治者, 并以俄国为例, 开始认为有可能得到另一种较好的政体……看来东方正从旧梦中觉醒, 在中国, 爆发了一场著名的排外运动……在埃及和北非, 觉醒突出地表现为狂热行为的明显增加……这些动乱症状的同时出现太惊人了, 不能完全归因于巧合。谁知道呢? 或许东方确实正从其长久的睡眠中觉醒……”

——摘编自【英】斯塔夫里阿诺斯《全球通史》

材料二

两次大战之间亚非拉主要民族民主运动一览表

地区	国家	主要事件
亚洲	中国	中国共产党探索革命新道路, 领导人民进行新民主主义革命
	印度	甘地领导国大党进行“非暴力不合作”运动, 与英殖民者做斗争
非洲	埃及	在华夫脱党领导下, 英国被迫让步, 埃及宣布为独立的君主立宪国家
	埃塞俄比亚	与反法西斯同盟军队一起, 抗击意大利侵略军
拉丁美洲	尼加拉瓜	桑地诺带领游击队反对美国扶植的独裁政权, 迫使美军撤出
美洲	墨西哥	卡德纳斯改革引导墨西哥走上现代化之路

- (1) 根据材料一及所学知识, 评析材料一中的观点。(7分)
- (2) 根据材料二及所学知识, 分析两次世界大战之间民族解放运动的特点。(8分)

六安一中 2023 届高三年级第八次月考

文科综合政治部分参考答案

一、选择题

12. A【详解】①②：“社会主义国营经济迅速发展，逐步成为社会经济中的主导因素”，“个体农业经济难以适应国家工业化建设的新形势，迫切需要组织起来”，这些都说明新民主主义向社会主义过渡有其历史必然性。①②符合题意。③：当时国家积累了利用、限制和管理私营工商业的经验，不同程度地开始了对它们初步的社会主义改造，而不是“积累了经营私营工商业的经验”，③说法错误。④：过渡时期的总路线和总任务是要在一个相当长的时期内，逐步实现国家的社会主义工业化，并逐步实现国家对农业、对手工业和对资本主义工商业的社会主义改造。而不是实现国家工业化。④说法错误。
13. A【详解】①：邓小平理论成功开创了中国特色社会主义，①正确。②：“三个代表”重要思想丰富和发展中国特色社会主义理论体系，成功把中国特色社会主义推向 21 世纪，②说法错误。③：习近平新时代中国特色社会主义思想使中国特色社会主义进入了新时代，③正确。④：科学发展观成功在新的历史起点上坚持和发展了中国特色社会主义，④说法错误。
14. C【详解】④：进入数字时代，当一切的社会要素数字化以后，企业一端连接着市场，可以通过快速洞察客户的需求，来调整自己的供给，因此，推进数字经济与实体经济深度融合首先有助于精准对接供需，④排第一。①：精准对接供需，有助于扩大有效供给，①排第二。②：扩大有效供给，能够促进产业结构优化升级，②排第三。③：优化产业结构，有助于提高经济效益，③排第四。
15. D【详解】①：出口退税全程网上办对办理退税方便快捷，但并不会降低企业的税收负担和增强内需，①不符合题意。②：营业税、增值税都属于初次分配。③：通过个税扣除的动态调节机制能够减轻工薪阶层税负，工薪阶层消费潜力大，税负降低有利于促进消费，增强内需发展后劲，③正确。④：通过提高公益性岗位工资的财政补贴直接增加收入，从而能够增强内需发展后劲，④正确。
16. B【详解】①：“用户在网络上的言行更加随心所欲”，没有正确处理个人利益与国家利益的关系，是缺少责任感的表现，要求公民履行对国家对社会的责任，故选①。②：质询权是人大代表的职权，排除②。③：监督权监督的对象是国家机关及国家工作人员，排除③。④：“人人都有麦克风”说明人民民主具有广泛性，说明公民享有权利，“用户在网络上的言行更加随心所欲，容易逾越法律和道德的限度”，说明公民没有把权利与义务统一起来，故选④。
17. C【详解】A：社区拟定公约需要召开居民会议决定，A 说法错误。B：应召开居民会议可以拟定社区文明养犬公约，但不能通过少数服从多数的原则剥夺养犬人的合法权利，B 说法错误。C：治理社区养犬问题，社区应根据该市物业管理条例，禁止在社区内饲养烈性和大型宠物，违者由公安机关没收犬只，C 说法正确。D：社区是基层群众性自治组织，没有执法权，无权罚款，D 说法错误。

18. B【详解】①④：“国家人权保障体系的重要组成部分，对于促进男女平等和妇女全面发展具有重要意义”表明在社会主义国家，法律面前人人平等，价值判断和价值选择要站在人民的立场，①④正确。②：材料反映的是新修订的妇女权益保障法对我国促进男女平等和妇女全面发展的积极作用，未强调调整上层建筑推动经济基础的发展，②不符合题意。③：中国特色社会主义新时代，我国社会主要矛盾发生转变，但社会基本矛盾仍然是生产力与生产关系的矛盾、经济基础与上层建筑的矛盾，并未变化，③错误。
19. B【详解】①④：G市成立新时代文明实践中心，组建了500多支志愿服务队，深入乡镇、村等基层，按照不同群体需求，各有侧重地开展服务，传递文明向善的力量，形成了爱心助学、扶老助贫等志愿服务品牌，表明创建文明城市是培育和践行社会主义核心价值观的重要途径，应坚持以人民为中心，提升志愿服务质量，①④符合题意。②：该市创建文明城市，旨在传递文明向善的力量，形成了爱心助学、扶老助贫等志愿服务品牌，服务社会，而不是为了涵养现代城市精神，②排除。③：应该是立足实践，打造志愿服务主阵地，③排除。
20. C【详解】②：美国的政体是总统制民主共和制，总统由选民选举产生，总统对选民负责；美国进行了中期选举，两党缠斗逐渐升级，最终以民主党和共和党分获国会参议院和众议院控制权而尘埃落定，这也意味着拜登政府在未来两年内将面临“分裂的国会”。说明美国总统不对国会负责，但重大事务可能受国会制约，故②符合题意。④：此次选举累计花费超过167亿美元，成为美国史上“最贵”中期选举。这说明选举是金钱和权力的游戏，始终不可能代表广大民众的利益，故④符合题意。①：法国是民主共和制中的半总统半议会制政体，法国出现“左右共治”的局面是因为总统和总理的权力来源不同。“左右共治”是法国政体的特点，美国的两党政治中不存在“左右共治”现象，①错误。③：资本主义国家的利益集团在一定程度上会缓和阶级矛盾，但无法从根本上解决不同阶级之间的矛盾，③错误。
21. C【详解】②③：习近平主席提出为遏制全球通胀、化解系统性经济金融风险，发达经济体要减少货币政策调整的负面外溢效应，这是因为人类社会越来越成为一个紧密联系的命运共同体，经济全球化的深入发展加剧世界经济的不确定性，②③符合题意。①：促进共同发展是二十国集团各成员国的共同愿望说法错误。④：欧洲联盟是一体化程度最高的区域性国际组织
22. D【详解】①④：让人民群众在案件中感受到公平正义和司法温度，赡养父母不仅是中华民族的传统美德，更是成年子女的义务，①④正确。②：这起案件并不涉及双方当事人的隐私，应该公开审理，②排除。③：法院的判决保护了老年人等弱势群体的合法权益，但不是一切权益，③排除。
23. C【详解】①④：从材料中可知，不支持销毁武器的国家，有的可能想发展核武器，有的并不想发展核武器；国际博弈，有三种可能情况：输、赢、平局。所以本题题干中的这两句话都是不相容选言判断，都在表述概念外延的不相容关系；都没有列举完对象的所有可能情况，都遗漏了有价值的选言支，判断不严密，启示我们要尽量把对象的可能情况都提出来，不要遗漏有选择价值的可能情况。故①④正确。②：这两句话都是不相容选言判断，都在表述概念外延的不相容关系，没有犯了“否定定义”的逻辑错误；②错误。③：都遗漏了有价值的选言支，判断不严密，未违背同一律，这一思维的确定性要求；③错误。

二、非选择题

38. ①坚持党的领导，确保地方治理在党的领导下始终沿着正确政治方向前进。把法治政府建设作为全面依法治国的重点任务和主体工程推进。②坚持依法履行法定职责，加强市场监管、优化公共服务，加快转变政府职能，为小微主体的生存创造良好的营商环境，维护经济发展秩序。③坚持有法必依、执法必严、违法必究，严格规范公正文明执法，重点规范行政处罚等执法行为，恰当地行使自由裁量权，在法治营商环境建设中提高执法公信力。④要全面推进政务公开，通过公开公正执法，有效保障人民群众的知情权、参与权、表达权、监督权，聚焦群众关心的问题，统筹好我法工作和服务市场主体。⑤要提升行政执法水平，执法不能只讲力度，让人民群众在我法中感受到公平正义，保护人民群众合法权益，把权力用来为人民谋幸福。⑥要把政府工作全面纳入法治轨道，用法治思维和法治方式履行职责，确保行政权在法治框架内运行，设定和实施行政处罚必须以事实为依据、过罚相当，提升执法效能。（答到任四点满分）
39. 坚持具体问题具体分析，紧密结合本地特点和优势，发展特色主导产业；创造条件，建立联系，加快媒体融合，通过数字化助力乡村发展；重视创新的作用，培育新型职业农牧民助力数字乡村建设；坚持系统优化，积极搭建完善的电商体系平台；坚持共性和个性具体的历史的统一，推进示范工作开展，将优秀举措推广到各地。（答到任四点满分）
40. 特点：规模大，发展快；结构优，质量升；伙伴多，合作广；新业态，新模式。
成因：主动参与经济全球化，实行高水平贸易自由化便利化；加快转变对外经济发展方式，着力培育开放型经济发展新优势；奉行多边贸易体制，同各国共享中国发展机遇；优化营商环境，集聚外贸发展新动能。
- 41.
- (1) 内容合法。订立劳动合同应当遵循协商一致的原则，合肥某公司对劳动合同内容作出实质性变更时，未与王某达成一致。劳动者有取得劳动报酬的权利，用人单位不得克扣劳动者工资。该公司对王某调岗降薪、扣发工资和解除劳动合同不符合法律要求。
- (2) 程序不合法。根据劳动法律法规，除特定情形外，劳动争议未经劳动仲裁程序，当事人不得直接向人民法院提起诉讼。王某应先向劳动争议仲裁委员会申请仲裁，如果劳动争议仲裁委员会不受理，或不服仲裁裁决，才可以在规定期限内向法院提起诉讼。
42. 演绎推理要确保得到真实的结论，必须具备两个条件：一是前提真实，二是推理结构正确。
- 甲的推理错误，“坚持以人民为中心的发展思想”是“实现共同富裕和中国式现代化”的一个必要条件，不是充分条件，推理的前提虚假。
- 乙的推理正确，坚持走实现全体人民共同富裕的中国式现代化新道路，既体现了我们党以人民为中心的价值立场，也拓展了人类现代化道路的发展之路。推理的前提真实，且正确使用了必要条件假言推理的有效式：否定前件式，即前件假，后件一定假。“若背离整体富裕、普遍富裕，搞两极分化”，这是对前件的否定，因此，“实现中国式现代化”这个后件也一定为假。