

2022~2023 学年度第一学期高三年级期末联考

文科综合能力测试

注意事项:

1. 答卷前,考生务必将自己的姓名、准考证号填写在答题卡上。
2. 回答选择题时,选出每小题答案后,用铅笔把答题卡对应题目的答案标号涂黑。如需改动,用橡皮擦干净后,再选涂其他答案标号。回答非选择题时,将答案写在答题卡上。写在本试卷上无效。
3. 考试结束后,将本试卷和答题卡一并交回。

一、选择题:本题共 35 小题,每小题 4 分,共 140 分。在每小题给出的四个选项中,只有一项是符合题目要求的。

韩国造船业在世界上占有重要地位,船舶大量出口。世界十大造船厂韩国企业占 7 个,以“产业集群”优势在韩国南部的釜山和南海岸一带,创造了世界最大的造船带,并集中赋予了与造船相关的配套企业和研究机构,拥有巨大的集群配合优势。韩国政府在《韩国造船再腾飞战略》中明确提出到 2030 年将韩国建成世界第一造船强国,并制定一系列支持政策。全球最大船企韩国现代重工集团与沙特阿拉伯合作打造的全球最大单体船厂即将于 2023 年竣工。据此完成 1~3 题。

1. 韩国发展造船业的有利区位条件主要有

- | | | | |
|-----------------------|----------------|--------|--------|
| ①人口密集,劳动力资源丰富 | ②外向型经济,依赖海洋运输 | | |
| ③近邻日本、中国,便于引进技术,进口零部件 | ④国家政府支持,优惠政策诸多 | | |
| A. ①②③ | B. ①②④ | C. ②③④ | D. ①③④ |

2. 韩国造船业的“产业集群”突出优势表现在

- | | |
|------------------|------------------|
| A. 共享基础设施,减少环境污染 | B. 营商环境良好,利于招商引资 |
| C. 扩大企业规模,提高市场份额 | D. 节省交易成本、创设区域品牌 |

3. 韩国造船集团与沙特合作建设船厂,说明目前的韩国制造业

- | | |
|-----------------|---------------|
| A. 从船舶出口升级为技术出口 | B. 全面的实施全球化战略 |
| C. 实现世界第一造船强国目标 | D. 生产规模占据世界首位 |

国际专业研究机构将“收缩型城市”定义为,人口规模在 1 万以上的人口密集城市区域,面临人口流失超过 2 年,并经历结构性经济危机的现象。在我国,虽然“收缩型城市”没有明确统一的定义,但相关研究中,“人口流失”都是最重要的指标。下表为部分省(区)收缩型城市统计表。据此完成 4~5 题。

【2022~2023 学年度第一学期高三年级期末联考·文科综合能力测试试卷 第 1 页(共 12 页)】

省(区)	收缩型城市个数	收缩型城市
黑	8	绥化、齐齐哈尔、鸡西、鹤岗、七台河、黑河、伊春、双鸭山
吉	7	吉林、白城、白山、松原、四平、通化、辽源
辽	6	锦州、鞍山、抚顺、本溪、阜新、丹东
川	3	巴中、内江、广元
内蒙古	1	通辽
陕西	1	安康

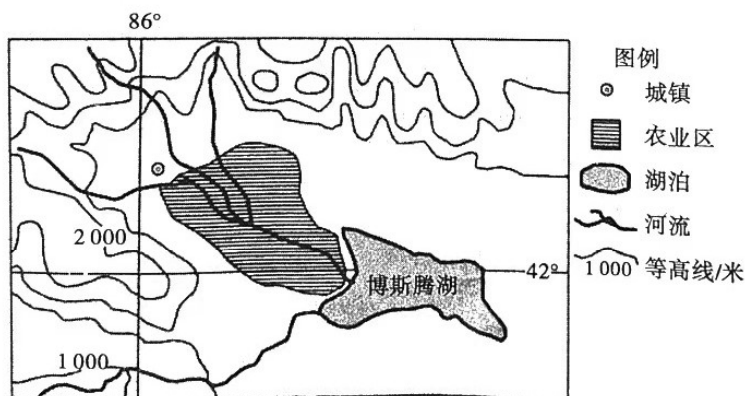
我国东北三省收缩型城市的形成原因主要是

- A. 位置偏远、经济停滞不前
B. 资源枯竭、产业转型困难
C. 环境污染、基础设施落后
D. 资金短缺、科技人才外流

研究发现,我国部分三、四线城市成为收缩型城市,主要是因为

- A. 群山环绕,环境比较封闭
B. 地处内陆,生存条件恶劣
C. 等级较低,距中心城市近
D. 开发较晚,产业基础薄弱

新疆的博斯腾湖既是开都河的尾间,又是孔雀河的源头。近年来湖面萎缩,生态环境问题突出。下图示意博斯腾湖位置。据此完成6~8题。



6. 博斯腾湖主要补给水源是

- A. 大气降雨
B. 高山冰雪融水
C. 河流水
D. 地下水

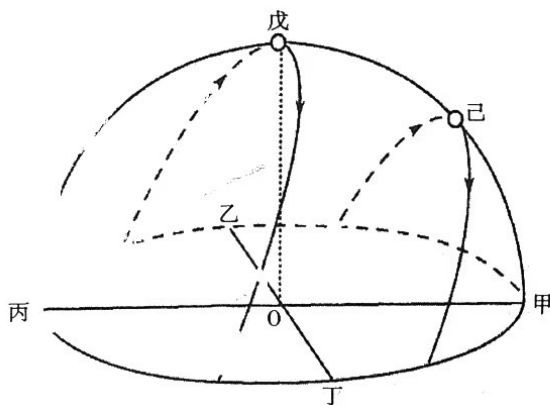
7. 博斯腾湖的生态价值体现在

- ①湖光山色、旅游观光
②涵养水源、调蓄洪水
③科学研究、文化传承
④提供生物栖息地,维持生物多样性
- A. ①②
B. ①③
C. ②④
D. ③④

8. 近年来,博斯腾湖湖面萎缩的主要原因是

- A. 高山冰雪面积减少
B. 农业区用水量剧增
C. 河水减少,长年断流
D. 绿洲萎缩,蒸发旺盛

下图为我国某中学生绘制的所在(二至日)太阳视运动轨迹示意图



),图中表示正北方位的点是

- A. 甲 B. 乙 C. 丙 D. 丁

10. 位于O点的观察者测得某日正午太阳高度为 $66^{\circ}34'$,且当天日落时刻为18点16分。推知其地理坐标为

- A. $66^{\circ}34'N, 114^{\circ}E$ B. $23^{\circ}26'N, 116^{\circ}E$ C. $66^{\circ}34'N, 118^{\circ}E$ D. $23^{\circ}26'N, 120^{\circ}E$

11. 当O点观察者测得当地正午太阳高度为 45° ,则太阳直射在

- A. $21^{\circ}34'N$ B. $23^{\circ}26'N$ C. $21^{\circ}34'S$ D. $23^{\circ}26'S$

12. 十年来,党和国家事业取得历史性成就、发生历史性变革,推动我国迈上全面建设社会主义现代化国家新征程,实现中华民族伟大复兴进入了不可逆转的历史进程。新时代十年的伟大变革,在党史、新中国史、改革开放史、社会主义发展史、中华民族发展史上具有里程碑意义。新时代十年

- A. 中国共产党在社会革命引领的自我革命中锻造的更坚强
B. 改革开放这一党的全部理论和实践的主题得以深入推进
C. 为中华民族伟大复兴奠定根本政治前提和坚实物质基础
D. 科学社会主义被赋予新的时代内涵、焕发新的蓬勃生机

13. 2022年10月31日,包括中粮集团、中国宝武在内的央企进行的11组专业化整合项目在京举行现场集中签约。此次签约跨行业、跨领域、跨企业,项目涵盖电力供应资源整合、智能制造、股权与资产委托处置等合作领域。专业化整合,是指企业通过资产重组、股权合作、资产置换、无偿划转、战略联盟等方式,打破企业边界,将资源向优势企业和主业企业集中。进一步推进国企专业化整合旨在

- ①促进国企混合所有制改革,放大国有资本功能
②有效避免同质化竞争,提升国企的核心竞争力
③做强做大做优国有资本,提高国有经济的比重
④进一步优化国有资本布局,提升国有资产质量

- A. ①② B. ①④ C. ②③ D. ②④

14. 2022年国家出台“降缓返补”一揽子政策,1~7月,各地落实降低失业、工伤保险费率为企业减负超过1000亿元;阶段性缓缴养老、失业、工伤三项社保费政策出台4个月,缓缴660余亿元。社保费“降缓返补”

- ①发挥了社保经济运行减震器功能,缓解经济下行压力
②增加了货币投入为企业纾困,是宏观调控的货币政策
③会导致社保资金不足,不利于社会保障可持续性发展
④降低了企业用工成本,能够增强企业活力和发展信心

- A. ①③ B. ①④ C. ②③ D. ②④


【2022~2023学年度第一学期高三年级期末联考·文科综合能力测试试卷 第2页(共10页)】

15. 中共十九大以来,习近平总书记亲自主持召开了 25 次会议,就中共二十大和十九届历次全会报告、制定“十四五”规划、年度经济工作等同党外人士真诚协商、听取意见;各民主党派中央结合自身特色和优势,围绕贯彻新发展理念等重大政策制定和重大战略部署组织专家学者深入调研,向中共中央、国务院提出意见建议 491 件,一批重要建议已转化为党和国务院的重要决策。这体现了
- ①民主党派建言资政,多党合作促发展
②人民政协政治协商,协商民主显优势
③中国共产党民主执政,集思广益谋大事
④国家权力机关科学决策,人民民主最管用
- A. ①③
B. ①④
C. ②③
D. ②④

日前,我国首部全景展现司法改革最新成果的现实主义法治题材电视剧《底线》热播。剧情显示助理法官要“入额”,才能成为主审法官。这涉及了法官员额制这一人民法院司法体制改革的举措。法官员额制对法官数量进行员额控制,真正从制度上保障让审理者裁判、由裁判者负责,是实现法官队伍职业化、专业化、精英化的必由之路。法官员额制改革的推进促进了

- ①法官依法独立审判案件,守护公平正义
②公正司法,提高依法行政的质量与效率
③法官强化职业素养,提升法律监督水平
④审判权力的规范行使,维护司法公信力
- A. ①②
B. ①④
C. ②③
D. ③④

17. 2022 年 10 月 3 日,屹立山东青岛前海一线 6000 年之久的“石老人”上部断裂。“石老人”是一座 17 米高的石柱,因形态酷似一名老人坐在海中,故而得名,并被当地人赋予了老父亲执着守望女儿的凄美传说。其实它就是一种海岸侵蚀地貌,历经千万年的风雨海浪“雕琢”而形成。现如今,它也因常年风化、海水侵蚀的作用发生坍塌。对此,下列说法正确的是



- ①凄美传说赋予石柱以灵性,“石老人”源自于人们充满想象的头脑
②把海蚀石柱想象成“石老人”,属于通过想象表达情感的形象思维
③千万年“雕琢”一朝毁灭,证明事物发展是渐进性和间断性的统一
④“石老人”在人们的不舍中“坍塌”,说明变化是亘古不变的法则

- A. ①②
B. ①③
C. ②④
D. ③④

18. 数字经济时代,科学技术发展为经济类新词的产生提供了丰厚土壤,新概念层出不穷。“大数据、云计算、物联网、人工智能、新型智慧城市”等经济新词准确、生动地反映了信息时代的特征,勾勒出中国数字经济的蓝图,帮助人们认识和理解数字经济的概念,从而拓展了相应的经济活动,直接贡献于数字经济发展。这告诉我们

- ①凡是社会意识都反映社会存在并推动社会存在的发展
②文化决定于经济并有服务社会、推动经济发展的功能
③随着时代进步人们实践要达到与认识的具体历史统一
④新概念必须通过新词语表达以揭示新事物的本质属性

- A. ①③
B. ①④
C. ②③
D. ②④

19. 总书记在党的二十大报告中强调:“青年强,则国家强。当代中国青年生逢其时,施展才干的舞台无比广阔,实现梦想的前景无比光明。广大青年要坚定不移听党话、跟党走,怀抱梦想又脚踏实地,敢想敢为又善作善成,立志做有理想、敢担当、能吃苦、肯奋斗的新时代好青年,让青春在全面建设社会主义现代化国家的火热实践中绽放绚丽之花。”响应总书记号召,青年学生要

- ①立足社会实践,在价值选择的基础上做出正确的价值判断
②懂得珍惜当下,用好社会为实现人生价值提供的客观条件
③坚持拼搏自强,完全通过个人奋斗而得到价值的自我实现
④坚定理想信念,时刻以正确价值观指导自己走好人生之路

- A. ①②
B. ①③
C. ②④
D. ③④

【2022~2023 学年度第一学期高三年级期末联考·文科综合能力测试试卷 第 4 页(共 12 页)】

20. 二十四节气主题徽章、古建筑榫卯积木、“遇见颐和园”沉浸式光影秀……不久前,在第五届进博会现场,富含中国元素的文创产品受到欢迎,成为扮靓“四叶草”展馆的一道独特风景,让人们感受到中华文化的独特影响力。文创产品持续走红启示我们要


- ①深挖传统文化内涵,创新传统文化的具象载体
- ②满足大众消费需求,追求文物经济效益最大化
- ③讲好中华文化故事,在交流中展现独特的优越性
- ④让传统文化活起来,实现优秀传统文化创造性转化

A. ①②

B. ①④

C. ②③

D. ③④



21. 2022年11月15日至16日,在印尼巴厘岛举行的二十国集团(G20)领导人第十七次峰会,重点讨论公共卫生、数字经济、能源转型、债务危机等议题,并再次强调G20成员有必要通过承担集体责任、采取合作举措,促进世界经济复苏,应对全球挑战。国家主席习近平出席并发表题为《共迎时代挑战 共建美好未来》的重要讲话。二十国集团是

- A. 中国作为最大发展中国家参与全球治理的重要平台
- B. 在处理各种国际事务的过程中正在发挥着主导性作用
- C. 发达经济体协调处理全球经济问题的重要场所和机制
- D. 新兴市场和发展中国家加强团结合作的重要平台

22. 一则“人活着却被网络祭奠4.3万人次”的话题引发了大量关注。事情的经过大致是:福建厦门的女生璐璐(化名)偶然从好友处得知,一网络祭祀平台设有自己的纪念馆,包括灵堂、详细个人信息和照片。该馆建立于2016年1月,6年来访问量达4.3万余人次。对该事件,下列相关评论正确的是

- ①当事人莫名其妙地被“活祭”,肖像权、名誉权及个人信息均遭侵害
- ②个人信息与隐私权相关,任何组织或者个人不得对个人信息进行处理
- ③遭遇到网络暴力,受害人可以与平台协商解决,也可以直接提起诉讼
- ④网络祭祀平台在主观上没有过错,但要对受害人承担无过错侵权责任

A. ①③

B. ①④

C. ②③

D. ②④

23. 面对新冠疫情,我们要与病毒作斗争,还要学会辨别一些错误言论。下列三段论推理中,所犯的逻辑错误相同的是

- ①人民至上,抗击疫情是为人民,所以抗击疫情至上。
- ②有的病毒是可以消灭的,新冠病毒是病毒,所以新冠病毒是可以消灭的。
- ③躺平就是放弃防控,中国不躺平,所以中国就不放弃防控。
- ④普通流感病毒传染性强、毒性弱,新冠病毒传染性增强、毒性变弱,所以,新冠病毒就是普通流感病毒。

A. ①②

B. ①③

C. ②④

D. ③④

24. 西周时,地方封国和周王室之间的联系与交流频繁发生,其中最重要的是诸侯到首都进行觐见,这种觐见为重申与加强周王与诸侯之间的政治关系提供了重要场合。在诸侯作为封国统治者身份得到认可的同时,他们也被看作国家的代理者和周王的臣属。由此可见,西周分封制

- A. 推动中央集权走向了成熟
- B. 标志着血缘与地缘的结合
- C. 利于国家治理体系的改善
- D. 酝酿了大一统的行政结构

25. 汉代儒学的官学之途,“是从尊孔崇圣的前提出发,通过对经义的再诠释和具体应用,既适应现实的需要同时又构造‘儒教社会’的现实历史内容”。汉武帝以后,官方通过控制对经的解读,统一经学和儒家思想,整个社会围绕着“经”展开一系列互动。这说明汉代儒学的官学之途

- A. 背离了先秦儒学的基本思想
- B. 蕴含着“格物致知”理念
- C. 有助于提高民众的文化素养
- D. 旨在维护“大一统”局面

【2022~2023 学年度第一学期高三年级期末联考·文科综合能力测试试卷 第5页(共12页)】

末

6. 唐末,经过大规模农民战争的扫荡,许多世家大族纷纷衰落。北宋建立后,宋太祖决意要用文官取代武人统治,尽革唐末五代弊政。为此,采取了一系列措施,如解除宿将兵权,加强宰相权力,削弱枢密使大权,尽量用文臣作知州,加强监督机制等。宋太祖的举措
- A. 强化了权力制衡机制
B. 有利于推行文官政治
C. 瓦解了贵族政治体系
D. 使行政系统趋于紊乱
17. 清代苏州某些丝绸业店铺的招牌大量使用如“自造”“本号”“本店自制”等词语,这种店铺不同于专事出售的绸缎铺行,它们同时还兼经营生产。这说明当时苏州
- A. 商业与手工业结合的状况显现
B. 手工业的地区差异明显
C. 资本主义萌芽获得了一定发展
D. 经济结构发生巨大变化
28. 19世纪70年代,唐胥铁路修筑的最初目的是为了更方便运煤,并非是为了发展铁路事业。1889年,清政府将修筑铁路定为国策,中国铁路事业进入较快发展期。这一变化
- A. 有利于民族资本主义产生
B. 标志着洋务运动的转型
C. 促进了交通运输的近代化
D. 奠定了清末新政的基础
39. 辛亥革命以后,上海女学生最早穿起了改良旗袍,这种旗袍合身适体,引起了各界妇女的羡慕,并纷纷仿效。同时,社会舆论也对此大加赞赏。于是,旗袍竟成了当时女子最时髦的服装。这一现象的出现主要得益于辛亥革命
- A. 实现了男女地位平等
B. 助推了人们思想的解放
C. 颠覆了传统审美观念
D. 改变了社会主流价值观
30. 1931年10~12月,《申报》相继发表了《追悼被难同胞》《向前进攻》《军歌》《抗日救国歌》《铁血歌》《请你听》《报国仇》《为四万万同胞争生存》等数十首歌曲,这些歌曲在社会上广为传唱。这表明当时
- A. 社会主要矛盾发生根本性变化
B. 民族救亡意识增强
C. 国人拥护“一致抗日”的主张
D. 流行音乐广受欢迎
31. 下表为某学者总结的我国对外开放的四个阶段及其主题。据此推知,我国对外开放

阶段	时间	主题
一	1978~1992年	放权、让利、减税
二	1992~2001年	建立中国特色社会主义市场经济
三	2001~2007年	向国际贸易规则接轨
四	2007年至今	建设中国特色社会主义开放大国

- A. 与经济体制改革相辅相成
B. 促进了社会主义工业化的提前实现
C. 避免了经济全球化的冲击
D. 使对外贸易结构发生了根本性变化
32. 在古代雅典的公民大会上,公民对相关提议的表决是在他们亲自聆听演说者的发言和辩论之后当场进行的;同样在民法庭上,陪审员对案件的审判也是在当事人双方陈述和辩论之后当场投票表决的。这些做法
- A. 表明公民享受充分的自由权利
B. 确保了表决结果的公平和公正
C. 表明公民大会是最高权力机关
D. 体现出雅典是原始的古典民主
33. 下图出自英国《议会文件》(1814~1815年第5卷),其内容可说明英国

教区徒工

曼彻斯特教会执事拟出让二百名左右的男女童工给尊贵的厂主 纺纱师傅和其他人当学徒。这些徒工一般都是优秀的织布工,现因他们的王入破产,交由本城负责。他们的合同期限长短不一。

(摘自 1812 年 2 月 5 日曼彻斯特报纸报导)

2022~2023 学年度第一学期高三年级期末联考·文科综合能力测试试卷 第 6 页(共 12 页)】

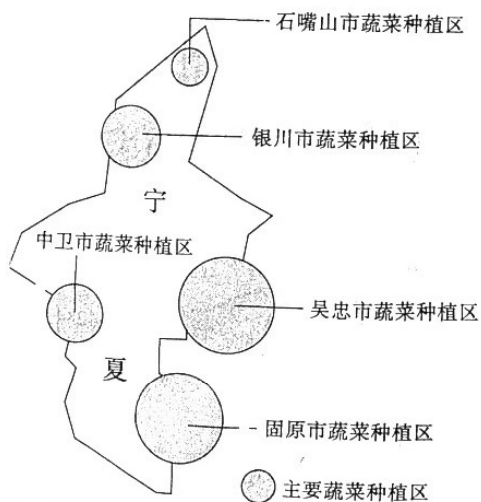
- A. 工业社会贫富分化现象严重
B. 工业革命时期社会构成复杂化
C. 工业化改变了近代教育模式
D. 工业革命使阶级矛盾迅速激化
34. 巴黎和会后,新的民族国家的涌现满足了民族主义对国家自主的渴望,人们希望国联能裁决争端,也可阻止未来战争。在 20 世纪二三十年代,国联插手许多争端,基本上起到了救火队的作用,但只要国际纠纷涉及大国,就显得无能为力。这反映出当时
- A. 巴黎和会并未带来实质和平
B. 国联基本成为了政治傀儡
C. 国联未能有效维护国际关系
D. 大国支配小国现象较普遍
35. 据统计,近十年来全世界研发开支的 73%、全球直接投资的 87%、版权税和技术许可费收益的 94% 都集中在最发达的 10 个国家,而低收入国家面临的反倾销、反补贴调查事件则不断增多。这反映出
- A. 经济区域化趋势加强
B. 发达国家主导世界贸易
C. 全球化潮流发生逆转
D. 国际分工体系尚不合理

二、非选择题:共 160 分。本卷非选择题都为必考题,每个试题考生都必须作答。

第 36~37 题为地理非选择题,第 38~41 题为政治非选择题,第 42~44 题为历史非选择题。

36. 阅读图文材料,完成下列要求。(28 分)

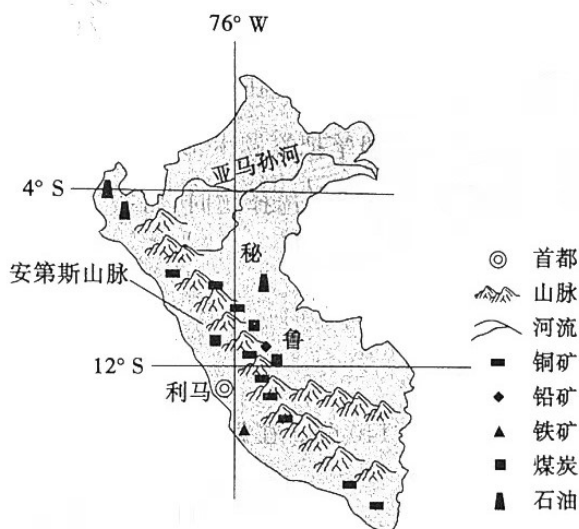
近年来,宁夏蔬菜已成为宁夏一张亮丽的“名片”,宁夏蔬菜以在同类型蔬菜中品质更胜一筹的优势,主要供应香港、广州、深圳、东莞等珠三角城市。目前日光温室和大小拱棚蔬菜种植规模超过 50%。下图为宁夏主要蔬菜种植区分布图。



- (1) 简述宁夏蔬菜种植区的分布特点。(6 分)
- (2) 分析宁夏蔬菜种植区的有利自然条件。(8 分)
- (3) 阐释宁夏蔬菜产品能够进入珠三角市场的主要原因。(8 分)
- (4) 说明宁夏大力发展日光温室和大小拱棚等设施农业的主要目的。(6 分)

37. 阅读图文材料,完成下列要求。(28分)

安第斯山脉属于科迪勒拉山系,纵贯南美大陆西部,全长8900余千米,是世界上最长的山脉。山脉有许多海拔6000米以上、山顶终年积雪的高峰。秘鲁是安第斯山脉穿越的国家,是世界上矿产资源最为丰富的国家之一。铜、锡、铅、锌、金和银等矿产储量和产量在世界上都占有重要地位。采矿业是秘鲁的支柱产业,许多外资企业投资秘鲁开发矿产资源,目前我国是秘鲁矿业领域最大投资来源国。下图示意安第斯山脉和秘鲁矿产资源分布。



(1) 分析纵贯南北的安第斯山脉的形成原因。(4分)

(2) 秘鲁的安第斯山脉蕴藏着丰富的矿产资源,阐释安第斯山脉与矿产资源之间的关系。(9分)

(3) 目前中国成为秘鲁矿业领域最大投资来源国。就此作出合理解释。(9分)

(4) 采矿业是秘鲁的支柱产业,有专家认为为了支撑秘鲁经济发展,就必须继续扩大对矿产资源的开发。就这一问题,提出自己的观点,并说明理由。(6分)

38. 阅读材料,回答问题。(6分)

一款名为“羊了个羊”的微信小程序游戏曾走红网络,并多次登上社交平台热搜。这是一款以类似消消乐为玩法原型的堆叠式消除游戏。它采用的是“3消”机制,即三张相同方块就会消失,消除全部方块就过关。通关后,玩家加入所在地区的羊群,与其他地区的玩家PK数量排名。不通关只能通过分享游戏或者看广告来获取游戏道具。

以往的游戏规则,一关比一关难,难度小幅度提升。“羊了个羊”却反其道而行之,它从第二关开始将难度提升到地狱级,通关率不到0.1%的数据激发了大量用户的挑战欲。这种反向激励也引发了社交网络话题传播,甚至有玩家玩了十几个小时,只为破解第二关。这个尝试是历来的游戏都没有做过的。

有专家分析,“羊了个羊”是在借鉴了前人的基础上,用打破常规或常识的进行的微创新,其走红即便止步于明天,但毕竟红过,在这一点上它已经成功了。

结合材料,运用创新思维的知识,对“羊了个羊”走红的原因进行分析。



39. 阅读材料,回答问题。(9分)

张某负责给王某安装一家用设施,安装完毕后,王某几次书面承诺在指定日期给张某付款。但是在后续付款过程中,王某一直以种种理由拒绝给张某付款,张某几次催款无果,后到法院去起诉王某。王某在第一次开庭后对事实全部承认,并且要求庭审后和张某沟通支付款项。但是在庭后沟通中,王某却只同意支付一半款项,张某肯定不同意这一方案,于是调解不成,继续开庭。但在第二次庭审中,王某完全否认第一次开庭承认的事实,称对此事完全不知情,付款的事情更是不要找他。对王某的出尔反尔行为,法官在法庭上给他释明法律条款,王某仍然坚持第二次开庭说的才是事实,说第一次是因为头昏了才这么说的。于是,法官直接判决王某败诉,全部支持张某的诉讼请求。

请你结合材料,谈谈对书面承诺的法律效力的认识,并从逻辑和法律的角度分别对王某在法庭上出尔反尔的行为进行评析。

40. 阅读材料,回答问题。(18分)

近年来,以平台经济为代表的新业态蓬勃兴起,聚集了快递员、外卖配送员、网约车司机、货车司机、网络主播等以灵活就业为主要特征的新就业群体。

【就业新形态】

习近平总书记在党的二十大报告中强调,要加强新就业形态劳动者权益保障。目前,我国新就业形态蓬勃发展,覆盖生产生活各领域、高中低端各层次,从业人员数量迅猛增长,规模持续扩大。新就业形态在稳经济、保就业、促增收方面发挥了重要作用,有效减轻了困难群体的就业压力。然而,由于现行的劳动法和劳动合同法还不能很好地适应新就业形态劳动者,其权益保障存在一些突出的问题。一些用人单位为了降低成本、规避用工主体责任,采取社会化用工方式,或将劳动用工外包给第三方企业,或以加盟等方式用民事关系代替雇佣关系,或诱导劳动者注册为个体工商户,导致管理无序、保障缺位。

【党建新领域】

新就业形态群体,已成为基层党建和组织工作新的重要阵地。习近平总书记在党的二十大报告中就加强党组织建设作出部署,强调要加强新就业形态群体的建设。

在北京,该群体仅日活跃量就达到25万人。如何把他们团结起来、组织起来、动员起来,让他们更好地融入城市、建设城市?北京市出实招、出新招,积极探索加强新就业形态党建工作,努力在新就业形态中实现党的组织覆盖和工作覆盖。从行业、企业,到网点、站点,党组织触角得以层层延伸,越来越多的新形态就业劳动者感受到党组织就在身边;从政策咨询、法律服务、安全体验到意见征集会、诉求对接会,从建设党群服务中心、小哥驿站等温馨港湾到评选“党员先锋岗”、宣传“最美快递员”,新就业形态群体收到了一个个暖心的“大礼包”,切身感受到党的温暖;积极发挥突发情况预警员、城市管理监督员、困难群体服务员、文明安全宣传员等方面的作用,新就业形态群体从“管理变量”成为“治理增量”,已成为城市社区治理一支重要力量。



(1) 结合材料,运用经济与社会的知识,说明应如何维护新就业形态劳动者的合法权益。(9分)

(2) 结合材料,运用政治与法治的知识,阐明北京市加强新就业形态党建工作的意义。(9分)

【2022~2023 学年度第一学期高三年级期末联考·文科综合能力测试试卷 第9页(共12页)】

41. 阅读材料,回答问题。(19分)

人类社会走向现代化是大势所趋,但世界上既不存在定于一尊的现代化模式,也不存在放之四海而皆准的现代化标准。不少发展中国家效仿西方现代化模式,并没有取得预期的成功,反而陷入发展陷阱。而西方以资本为中心、两极分化、物质主义膨胀、对外扩张掠夺的现代化模式,也日益受到质疑。

在新中国成立特别是改革开放以来长期探索和实践基础上,经过十八大以来在理论和实践上的创新突破,我们党成功推进和拓展了中国式现代化。中国式现代化,是中国共产党领导的社会主义现代化,既有各国现代化的共同特征,更有基于自己国情的中国特色。中国用几十年的时间完成了西方发达国家几百年走过的工业化历程,创造了经济快速发展和社会长期稳定的奇迹,也为发展中国家走向现代化提供了全新选择,为解决当今世界难题提供了中国智慧和方案。

中国式现代化是走和平发展道路的现代化。我国不走一些国家通过战争、殖民、掠夺等方式实现现代化的老路,那种损人利己、充满血腥罪恶的老路给广大发展中国家人民带来深重苦难。我们坚定站在历史正确的一边、站在人类文明进步的一边,高举和平、发展、合作、共赢旗帜,在坚定维护世界和平与发展中谋求自身发展,又以自身发展更好维护世界和平与发展。

(1)结合材料,运用矛盾普遍性与特殊性辩证关系原理,说明发展中国家应该如何对待中国式现代化道路。(10分)

(2)中国式现代化是走和平发展道路的现代化。请你结合材料,从文化、当代国际政治与经济的角度,以“走和平发展道路的中国式现代化是人间正道”为题,撰写一篇短评。

要求:①围绕主题,观点明确;②论证充分,逻辑清晰;③学科术语使用规范;④总字数在250字左右。(9分)

42. 阅读材料,完成下列要求。(25分)

材料一

中国古代货币政策,大多是在铜钱流通条件下实施,主要措施有:放民铸钱、钱币回笼、打击盗铸、打击毁钱、限制外流、铜钱减重、虚币大钱等。放民铸钱即允许百姓自由铸造或销毁铜钱,可以形成货币供应量市场自动调节机制。朝廷抛售白银、绢布等实物,可以达到钱币回笼、稳定物价效果。打击盗铸、打击毁钱、限制铜钱外流等,皆是保护货币流通总量稳定的措施。铜钱减重和铸行虚币大钱,既可以扩大铜钱货币供应量,又可以实现掠夺百姓财富、增加朝廷铸币税收的目的。铸行减重铜钱与铸行虚币大钱两种措施交替使用,就可以使铜钱的减重以及铜钱名义供应量的增长,持续不断地进行。

——摘编自石俊志《中国古代的信用货币与货币政策》

材料二

1944年7月,44个国家召开布雷顿森林会议,通过了以“怀特计划”为基础的“联合国货币金融会议的最后决议书”以及“国际货币基金组织协定”和“国际复兴开发银行协定”两个附件,总称为“布雷顿森林协定”,布雷顿森林体系由此建立。布雷顿森林体系结束了二战前世界经济的混乱局面,维持了战后世界货币体系的正常运转,扩大了世界贸易并且对于世界经济尤其是欧洲经济的复苏与发展起到了

【2022~2023学年度第一学期高三年级期末联考·文科综合能力测试试卷 第10页(共12页)】

极大地促进作用。但是,伴随着美国国际收支的恶化等因素导致了美元信用的降低。1973年,维持了将近30年的布雷顿森林体系宣告瓦解。

——摘编自刘韵竹《布雷顿森林体系的建立和瓦解及其原因》

(1)根据材料一并结合所学知识,概括中国古代货币政策的基本特点,并分析其历史意义。(15分)

(2)根据材料一、二并结合所学知识,指出布雷顿森林体系下的货币政策相较于中国古代货币政策的不同之处,并说明造成不同的主要原因。(10分)

43. 阅读材料,完成下列要求。(12分)

材料

英国伦敦的大英博物馆、法国巴黎的卢浮宫、美国纽约的大都会博物馆,被誉为世界三大博物馆。其概况如下:

大英博物馆:1759年1月正式对公众开放。除了两次世界大战之外,博物馆一直都对外开放并逐渐延长开放时间。博物馆收藏了世界各地的许多文物和珍品,拥有藏品600多万件。原来主要收藏图书,后来兼收历史文物和各国古代艺术品,其中不少是仅存的珍本。

卢浮宫:原是法国的王宫,法国文艺复兴时期最珍贵的建筑物之一。1793年8月卢浮宫艺术馆正式对外开放。卢浮宫藏有被誉为世界三宝的《维纳斯》雕像、《蒙娜丽莎》油画和《胜利女神》石雕,拥有的艺术收藏达40万件以上,包括雕塑、绘画、美术工艺及古代东方、古代埃及和古希腊罗马等6个门类。

大都会博物馆:1872年2月20日,大都会艺术博物馆首次开放,当时位于纽约市第五大道681号的一幢大厦之内。现在展览大厅共有3层,分服装、原始艺术、武器盔甲、欧洲雕塑及装饰艺术、美国艺术、19世纪欧洲绘画和雕塑、版画、素描和照片、20世纪艺术等18个陈列室和展室。

——摘编自徐志啸《大英博物馆》等

根据材料并结合所学知识,就材料整体或其中任意一点拟定一个论题,并予以阐述。(要求:论题明确,持论有据,论证充分,表达清晰。)

44. 阅读材料,完成下列要求。(15分)

材料

中国共产党在领导革命和建设过程中,逐渐形成并发展了群众路线,如下表所示。

时间	形成发展历程
1921年	共产党员开始积极投身工人运动,组织工人反帝反封建斗争。
1922年	中共二大通过《组织章程决议案》,指出:“党的一切运动都必须深入到广大的群众里面去。”
1925年	《中国共产党扩大执行委员会决议案—组织问题决议案》指出:“中国革命运动的将来命运,全看中国共产党会不会组织群众,引导群众。”
1929年	周恩来在《中共中央给红军第四军前委的指示信》中提出“关于筹款工作,亦要经过群众路线,不要由红军单独去干。没收地主豪绅财产是红军给养的主要来源,但一定要经过群众路线。”
1938年	毛泽东在《论持久战》中强调“动员了全国的老百姓,就造成了陷敌于灭顶之灾的汪洋大海。”
1945年	毛泽东在《论联合政府》中把中共宗旨概括为“共产党人的一切言论行动,必须以合乎最广大人民群众的最大利益,为最广大人民群众所拥护为最高标准。”
1956年	邓小平在中共八大《关于修改党章的报告》中提出:“每一个党员必须养成为人民服务、向群众负责、遇事同群众商量和同群众共甘苦的工作作风。”
1987年	在党的十三大党章中增加“把党的正确主张变成群众的自觉行动”一句,由此完成了建国以来中国共产党群众路线的完整表述。

— 据李斌《群众路线的发展历程与现实启示》

- (1) 根据材料并结合所学知识,归纳中国共产党群众路线形成发展的主要因素。(6分)
- (2) 根据材料并结合所学知识,简要评价中国共产党群众路线的形成与发展。(9分)

关于我们

自主选拔在线是致力于提供新高考生涯规划、强基计划、综合评价、三位一体、学科竞赛等政策资讯的升学服务平台。总部坐落于北京，旗下拥有网站（[网址: www.zizzs.com](http://www.zizzs.com)）和微信公众平台等媒体矩阵，用户群体涵盖全国90%以上的重点中学师生及家长，在全国新高考、自主选拔领域首屈一指。

如需第一时间获取相关资讯及备考指南，请关注**自主选拔在线**官方微信号：**zizzsw**。



 微信搜一搜

 自主选拔在线