

宣城市 2023 届高三年级第二次调研测试

文科综合试题

考生注意：

1. 本试卷分选择题和非选择题两部分。满分 300 分，考试时间 150 分钟。
2. 答题前，考生先将自己的姓名、考号在答题卡指定位置填写清楚并将条形码粘贴在指定区域。
3. 考生作答时，请将答案答在答题卡上。选择题每小题选出答案后，用 2B 铅笔把答题卡上对应题目的答案标号涂黑；非选择题请用 0.5 毫米的黑色墨水签字笔在答题卡上各题的答题区域内作答，超出答题区域书写的答案无效，在试题卷、草稿纸上作答无效。
4. 考试结束时，务必将答题卡交回。

第 I 卷 选择题 35 题，每小题 4 分，共 140 分

一、选择题(本题共 35 小题，每小题 4 分，共 140 分。在每小题给出的四个选项中，只有一项是符合题目要求的。)

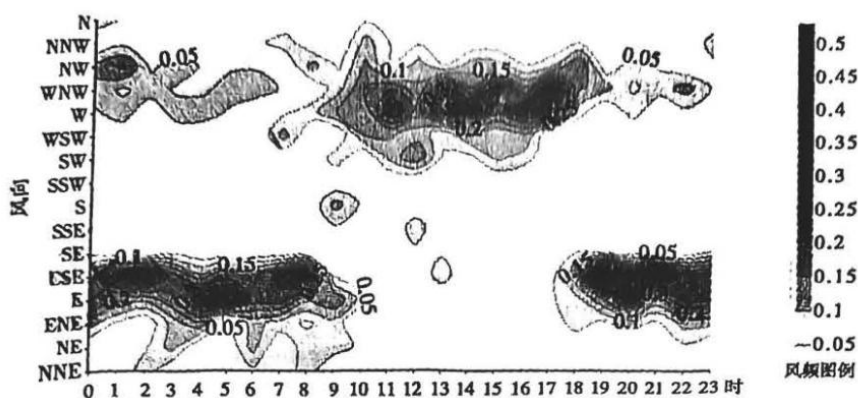
芭蕉，原产琉球群岛，中国南方大部以及陕西、甘肃、河南部分地区都有栽培，秦岭淮河以南可以露地栽培，多栽培于庭园及农舍附近。下图为云南某地芭蕉景观图。据此完成 1~2 题。



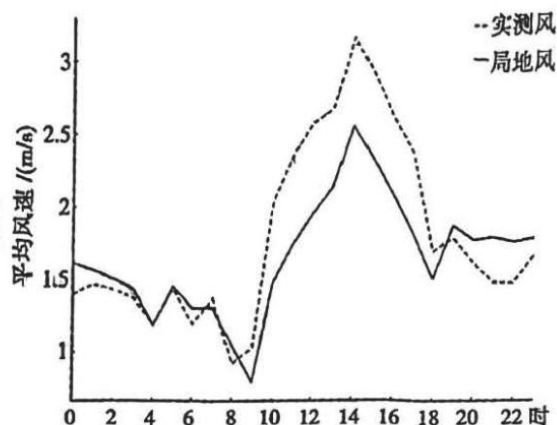
1. 皖南地区居民常在庭园及农舍种植芭蕉，主要是基于芭蕉的
A. 药用价值 B. 食用价值 C. 观赏价值 D. 收藏价值
2. 云南和安徽庭园及农舍附近种植芭蕉的主要用途有较大差异，其主要影响因素是
A. 地形 B. 降水 C. 热量 D. 土壤

张家口市崇礼区古杨树村是第 24 届北京冬奥会赛场，研究赛场内的风向风速分布规律并做出准确预报，对比赛的时间安排以及运动员的临场发挥十分重要。在弱背景风场(大气环流)下，古
宣城市高三年级文科综合试题第1页(共14页)

杨树村山区山谷风环流明显,并叠加了背景风的影响。下图为2019年1~3月该地位于山谷谷口的某一气象站(1号站)记录的每小时风向频率、风速(分实测风和局地风)的变化图。据此完成3~5题。



1号站山谷风日局地风每小时风向频率分布



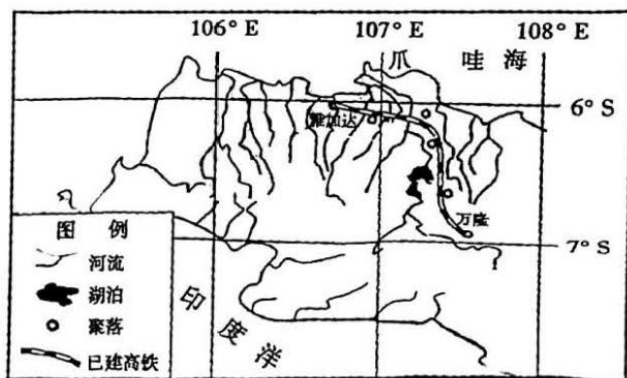
1号站局地风、实测风每小时平均风速对比

3. 该气象站所在地山风的风向是
A. 偏南风 B. 偏东风 C. 偏北风 D. 偏西风
4. 该气象站所处山谷段的大致走向及地势特征是
A. 南北走向,南低北高 B. 东西走向,东高西低
C. 南北走向,南高北低 D. 东西走向,西高东低
5. 实测风为实际风速,局地风为山谷风速,实测风和局地风存在差异,主要是叠加了背景风的影响。由此可推断背景风的风向为
A. 偏南风 B. 偏东风 C. 偏北风 D. 偏西风

浙江海盐,一座曾以农业及纺织、棉纱等轻工业为主的滨海小城,迎着改革开放浪潮,在20世纪70年代末与“核”(秦山核电站)结缘,因“核”而盛。目前正建设核技术应用(同位素)产业园,加快布局基础核素研究、同位素原料生产、核药研发制造,打造国内重要的国家核能特色产业示范区。据此完成6~8题。

6. 70年代,我国选择海盐县发展核工业的主导区位因素
A. 地理位置优越 B. 技术先进 C. 原材料充足 D. 劳动力价格低
7. 海盐县建设核技术应用(同位素)产业园,主要因为该地
A. 环境优美 B. 原材料丰富
C. 传统制药产业发达 D. 拥有众多高水平医院
8. 海盐县率先开启我国南方核能供暖(利用秦山核电基地多余热功率,实现热水循环供暖,核电站与用户间有多道回路隔离,每个回路间只有热量的传递,没有水的交换)示范工程。核能供暖与使用空调、电火盆、电热毯等电器取暖方式相比,其优点是
①节约用电 ②安全稳定 ③灵活方便 ④无二氧化硫、氮的氧化物等气体排放
A. ①② B. ①③ C. ②③ D. ③④

雅万高铁,是一条连接印度尼西亚首都雅加达和万隆之间的东南亚首条高速铁路,也是中国高铁首次全系统、全要素、全产业链在海外落地,拥有完全自主知识产权的高速铁路项目。全线通车后,雅加达至万隆将由现在的3个多小时缩短至40分钟。下图为“雅万高铁示意图”。据此完成9~11题。



9. 雅万高铁的建设,彰显了“一带一路”中的中国元素,但不包括
A. 中国标准 B. 中国文字 C. 中国设备 D. 中国方案
10. 雅万高铁工程建设过程中,需要克服的不利自然条件有
①喀斯特地貌广布 ②雷电天气 ③河流众多 ④地形崎岖
A. ①②③ B. ①②④ C. ②③④ D. ①③④
11. 用于雅万高铁的中国高速动车组和综合检测列车运往印尼的最佳方式是
A. 海洋运输 B. 铁路运输 C. 航空运输 D. 内河航运
12. 党的十八大以来,中国共产党领导全国各族人民经历了三件大事:一是迎来中国共产党成立一百周年,二是中国特色社会主义进入新时代,三是完成脱贫攻坚、全面建成小康社会的历史任务,实现第一个百年奋斗目标,这在党史、新中国史、改革开放史、社会主义发展史、中华民族发展史上具有里程碑意义。这一里程碑意义体现在
A. 实现了科学社会主义从理论到现实的历史飞跃
B. 开启了改革开放与社会主义现代化建设新时期
C. 提供了实现中华民族伟大复兴的根本社会条件
D. 进入了中华民族伟大复兴不可逆转的历史进程

宣城市高三年级文科综合试题第3页(共14页)

13. 党的二十大报告在开篇部分强调必须“坚定历史自信”。只有在历史选择中明确道路为什么“通”，在历史自觉中清晰理论为什么“灵”，在历史实践中印证制度为什么“优”，在历史积淀中凸显文化为什么“美”，才能谱写新时代中国特色社会主义更加绚丽的华章。由此可见，只有“坚定历史自信”，才能
- ①夯实道路自信、理论自信、制度自信、文化自信的基础与底气
 - ②把握历史脉络、顺应历史规律、担当历史责任、增强历史主动
 - ③为推进伟大事业、开展伟大斗争、实现伟大梦想提供物质力量
 - ④创造出具有原创性、实践性、独特性的社会历史发展基本形态
- A. ①② B. ①③ C. ②④ D. ③④
14. 继农村土地制度的所有权、承包权、经营权“三权分置”改革之后，农村宅基地制度的所有权、资格权、使用权“三权分置”改革正在多地试点进行，探索包括租赁、入股、合作等方式的闲置农房（宅基地）使用权流转机制，并以此为突破口，扶持旅游度假、民宿经济、养生养老、农产品加工等乡村产业的发展。农村宅基地“三权分置”改革的预期效应是
- ①适度规模经营，提高农业生产效率 ②健全产权制度，推动乡村振兴战略
 - ③完善要素市场，增加转移性的收入 ④盘活土地资源，保障农民物权收益
- A. ①② B. ①③ C. ②④ D. ③④
15. 党的二十届二中全会审议通过了《党和国家机构改革方案》，国务院机构改革是党和国家机构改革的重要任务。十四届全国人大一次会议表决通过了关于国务院机构改革方案的决定，重点聚集科技创新、金融监管、数据管理、乡村振兴、知识产权、老龄工作等重点领域的机构职责优化和调整。这一改革举措是
- ①落实党中央治国理政重大部署，推进治理体系与治理能力现代化的需要
 - ②优化政府机构设置与职能配置，促进上层建筑适应经济基础发展的需要
 - ③完善行政管理体制与执法机制，调整生产关系以促进高质量发展的需要
 - ④坚持依法行政与扩大政府职能，提高宏观调控与市场监管有效性的需要
- A. ①② B. ①④ C. ②③ D. ③④
16. 量子纠缠是量子力学中最具争议的问题之一，处于纠缠态的两个量子不论相距多远，其中一个量子状态发生改变，另一个的状态会瞬时发生相应改变。以爱因斯坦为代表的部分物理学家对“鬼魅般”的量子纠缠持怀疑态度。20世纪60年代，物理学家约翰·贝尔提出“贝尔不等式”，通过验证不等式的成立来质疑量子纠缠理论。2022年诺贝尔物理学奖授予三位科学家，以表彰他们通过长期研究与实验，在“纠缠光子实验、验证违反贝尔不等式和开创量子信息科学”方面所做出的贡献。上述事例进一步佐证了
- ①真理具有无限性，真理面前人人平等 ②真理是在不断否定权威理论中发展的
 - ③只有否定权威，真理才能够得到发展 ④实践检验认识的真理性的需要有个过程
- A. ①② B. ①③ C. ②④ D. ③④

宣城市高三年级文科综合试题第4页(共14页)

17. 2022 年底,美国国会参、众两院举行中期选举,执政的民主党虽然保住了参议院的半数席位,但由于几个关键州的竞选失利,丢掉了众议院中的多数席位,改变了总统拜登上台以来民主党以微弱优势掌控国会两院的局面,这将让拜登在未来两年成为名副其实的“跛脚鸭总统”。这意味着未来两年
- ①立法与行政之间的分歧或将更加严重 ②国会对政府的不信任案更易获得通过
③拜登政府对各个州的领导力或将削弱 ④民主党施政或将受到共和党更大掣肘
- A. ①② B. ①④ C. ②③ D. ③④
18. 2023 年 2 月 24 日,在俄乌冲突爆发一周年之际,中国外交部发布《关于政治解决乌克兰危机的中国立场》文件,提出了政治解决乌克兰危机的十二点主张:尊重各国主权、摒弃冷战思维、停火止战、启动和谈、解决人道危机、保护平民和战俘、维护核电站安全、减少战略风险、保障粮食外运、停止单边制裁、确保产业链供应链稳定、推动战后重建。这一立场与主张再一次表明:中国政府
- ①处理国际问题以共同利益作为是非标准
②在不确定性不稳定性中发挥大国主导作用
③坚定维护国际关系准则与国际公平正义
④为解决人类面临的共同挑战提供中国智慧
- A. ①② B. ①③ C. ②④ D. ③④
- 2023 年 3 月 5 日,是毛泽东同志题词“向雷锋同志学习”60 周年。回答 19—20 题。
19. 60 年来,“雷锋”不再只是一个英雄的名字,早已化作一个群像、一种象征,成为引领社会进步的一种风向标,滋养着一代代中华儿女的心灵。这表明,雷锋精神
- ①具有引领风尚与教化育人的文化功能 ②生动地诠释了改革创新的时代精神
③具有穿越时空与历久弥新的时代价值 ④实现了传统道德观念的创造性转化
- A. ①② B. ①③ C. ②④ D. ③④
20. 某网络科技有限公司将其付费会员称为“雷锋会员”,将其注册运营的微信公众号称为“雷锋哥”,并在公司住所地悬挂“雷锋社群”文字标识,并以“雷锋社群”名义多次举办各种商业活动,收取客户费用。该公司受到有关部门的处罚,并向社会公开道歉。该公司受处罚的依据是
- ①侵犯了英雄烈士的身份权 ②损害了英雄烈士的名誉、荣誉
③违反民法的公序良俗原则 ④违反了个人信息保护的规定
- A. ①② B. ①④ C. ②③ D. ③④
21. 刚满 16 周岁的学生小王,其父母均为独生子女,爷爷已早逝,奶奶年事已高。2022 年底,小王的奶奶因病去世,去世之前留下遗嘱,死后将原居住并所有的房子通过房产过户到小王名下归其所有。在这一民事法律关系中,小王获得该房产所有权是基于其作为
- A. 第一顺序继承人通过遗嘱继承的方式 B. 限制民事行为能力人通过赠与的方式
C. 第二顺序继承人通过代位继承的方式 D. 非法定的继承人通过遗赠的方式

宣城市高三年级文科综合试题第5页(共14页)

22. 表达观点或思想必须遵循逻辑思维规则。下列观点中违反逻辑思维规则的有
- ①“旅客请注意:严禁携带易燃、易爆、有毒、有害和危险品上车”
②“珠穆朗玛峰高,它是世界第一高峰;但它也矮,就在征服者脚下”
③“既然你说在与小张的象棋比赛中并没有赢,那说明你肯定是输了”
④“稳定供应链才能稳定全球经济,供应链遭冲击,全球经济势必恶化”
- A. ①③ B. ①④ C. ②③ D. ②④
23. 变局因其复杂多变而充满不确定性,必须准确把握世界百年未有之大变局的本质和大势,顺势而为、谋事而动,提升危中寻机、化危为机的能力,努力在危机中育新机、于变局中开新局,为不确定的世界增加确定性。下列对上述认识中所蕴涵的科学思维方法,理解正确的有
- ①“顺势而为、谋事而动”蕴涵了联想思维 ②“危中寻机、化危为机”蕴涵了逆向思维
③“把握大变局本质和大势”蕴涵了超前思维 ④“于变局中开新局”蕴涵了发散求异思维
- A. ①③ B. ①④ C. ②③ D. ②④
24. 《甲骨文合集》收录了有关疾病的甲骨 320 片,甲骨文中的“疒”,左边是“疒”,一张床板,右边是人的侧面形象,有的还要在旁边加上小点表示病人出虚汗。胡厚宣据此写有专著《殷人疾病考》。由此可知




[疒] 甲181 [疒] 甲1509 [疒] 甲3078 [疒] 甲3080

- A. 中国古文字研究历史悠久 B. 研究视角影响史料价值
C. 传统医学起源于殷商时代 D. 疾病发生促成文字产生
25. 先秦儒家开启的内圣之学具有积极高昂的主体精神,强调以人为本的“圣化”人格范式;董仲舒强调“天道至上”的“神化”范式,对个体人格进行消解。这一变化
- A. 表明儒学成为主流思想 B. 有利于君权的扩张
C. 强化了以人为本的观念 D. 完全背离先秦儒学
26. 在三国至隋朝的几百年的时间里,黄河保持着长期安流的局面,其中见于记载的河溢现象只有几次。如果要考察这一时期长期安流局面出现的原因,我们更应关注的因素是
- A. 魏晋南北朝时期的动荡时局 B. 古代治理水患技术的进步
C. 政府对治理黄河水患的重视 D. 国家经济经济实力的提高

宣城市高三年级文科综合试题第6页(共14页)

27. 棠棣村的“乐善好施”牌坊(如图)为嘉庆帝特赐修建,以此表彰徽商鲍漱芳长期周济贫困的善行。嘉庆此举意在

- A. 提高商人地位,肯定徽商文化
- B. 笼络地方乡绅,加强中央集权
- C. 宣扬儒家理念,促进乡里教化
- D. 动员民间力量,推进社会救济



28. 鸦片战争前后边疆史地学盛极一时。代表人物魏源先后著成《圣武记》《海国图志》《元史新编》,主张将边疆的防卫、开发建设同解决国家的现实问题结合起来,摆脱了传统地理学的藩篱。魏源的学术研究
- A. 体现出忧患时局的精神内涵
 - B. 超越了经世致用的研学范式
 - C. 突破了传统华夷观念的窠臼
 - D. 全面引入近代西方史地理论
29. 民国初期,“各地货币‘两’的标准有 170 余种”,各省地方银行如直隶省银行、山西晋胜银行大量发行纸币,英、法、美、日、墨等国铸造的银元也流入中国市场,外国银行还有在中国发行纸币的特权。这一状况
- A. 阻隔了区域间商贸联系
 - B. 提高了商品贸易的成本
 - C. 促使军阀割据混乱局面形成
 - D. 便利了列强对华的资本输出
30. 广播剧最早产生于英国。20 世纪 30 年代,中国诞生了《卧薪尝胆》《木兰从军》《文天祥》《杨家将》《史可法》《西施》《抱石投江》等一大批广播剧作品。这反映出当时我国
- A. 意在推行文艺的世俗化
 - B. 文艺发展紧跟世界潮流
 - C. 民众对历史知识普及的需求
 - D. 文艺创作深受国内时局影响
31. 安徽省某中学从 1961 年 6 月起,开始教师整编,精简下放了 14 名教师,认真办好校办农场,利用师生在农场生产的大量蔬菜、山芋、油料、粮食等农副产品,以补助师生食堂。这
- A. 促进了商品经济的发展
 - B. 体现出国家对劳育重视
 - C. 呼应了国家教育方面政策的调整
 - D. 推动了学校教育教学质量的提高
32. 大流士统治下的波斯帝国,是一个幅员广阔的国家。大流士修筑了许多新的驿道,从苏萨到小亚爱斐斯的“御道”全程 2400 公里,每 20 公里设一驿站,苏萨发出的命令和文件,站一站相传,日夜不停,7 天即可到达终点。大流士的这一做法意在
- A. 强化国家治理
 - B. 促进经济交流
 - C. 扩大统治疆域
 - D. 方便人们出行

宣城市高三年级文科综合试题第7页(共14页)

33. 1438年查理七世颁布《布尔日国事诏书》，宣布取消教皇保留圣职与预先指定的权力，规定主教由法国教士团选举产生，并废除上缴给教皇的首岁金，并赋予法国国王对教士的举荐权。该诏书颁布
- A. 表明了等级君主制在法国的形成 B. 维护了基督教世界的统一和权威
C. 强调民族教会的自主性和独立性 D. 导致法国教会和罗马教廷的决裂
34. 列宁的《四月提纲》在《真理报》上发表一天后，彼得格勒市党委讨论了列宁的提纲，并以13:2否决了这个提纲，参加讨论的党员认为，列宁的政策是“乌托邦式的”，表明他已长期脱离俄国的生活，与俄国的现实隔膜了。以上表明当时
- A. 《四月提纲》没有指明革命的方向 B. 列宁对俄国革命实际情况缺乏了解
C. 资产阶级民主革命尚未彻底完成 D. 社会主义革命的观点缺乏广泛认同
35. 从1900年到2005年，美国从事初级农业生产劳动力由1200万人减少到不足200万人，所占全部就业人口的比重由35%下降到0.7%。从1963年到2000年，日本农业从业者的比重也由76.6%下降到2.2%。这一变化表明美日
- A. 农业发展日趋衰退 B. 第三产业有了较快发展
C. 国家经济结构畸形 D. 农业发展水平不断进步

第Ⅱ卷 非选择题，共160分

二、非选择题。

36. 阅读图文资料，完成下列要求。(30分)

材料一 西拉木伦河流域属西辽河上游，地处我国北方干旱区与半干旱—半湿润区的过渡地带，西拉木伦河及其支流广泛发育有两级阶地。在西拉木伦河中下游，主河以南有广泛的黄土堆积，黄土结构疏松，易于耕作。在主河以北，有大片的沙地分布，属科尔沁沙地的一部分。

材料二 近年来的考古发现表明，在距今8 000~3 000年期间，西拉木伦河流域曾经是人类活动十分活跃的地区，先后出现过各具特色的兴隆洼文化、赵宝沟文化、红山文化、小河沿文化、夏家店下层文化和夏家店上层文化等。兴隆洼—赵宝沟时期，人类主要从事渔猎、采集，及少量原始种植，对黄土的依赖小；红山时期、小河沿时期、夏家店下层时期，以种植农业为主。夏家店上层时期，农业文化性质发生根本的转变。研究表明，农业文化的兴衰和变化与地理环境的演变有密切的关系，其中地貌演变，包括河流阶地的发育、黄
宣城市高三年级文科综合试题第8页(共14页)

土的堆积及沙漠的进退等,对古代文化的分布、发展和演替有着重要的影响。

材料三 表1为人类活动场所与地貌演化过程对应表、表2为科尔沁沙地进退与文化演化,其中a表示年,BP表示距今。

表1 人类活动场所与地貌演化过程对应表

年代/a BP	考古文化期	地貌演化过程	人类活动主要场所
<1000	辽	现代河流沉积物堆积时期	以一级阶地为主,漫滩、二级阶地、台坝面次之
1000		河流下切形成一级阶地	
4000-2800	夏家店上层 夏家店下层	一级阶地沉积物堆积时期	以二级阶地为主,漫滩、台塬面和山麓次之
4000		河流下切形成二级阶地	
6000-4000	红山-小河沿	二级阶地沉积物堆积时期	以黄土台塬面为主,漫滩次之
6000		河流下切形成黄土台塬和谷地	
8000-6000	兴隆洼-赵宝沟	山间黄土堆积平原水系雏形出现	黄土平原和山麓地带

表2 科尔沁沙地进退与文化演变

沙地进退	时代/a BP	史前考古文化	人类经济活动
第二次扩展	3300-2800	夏家店上层	畜牧业经济
第二次收缩	4000-3300	夏家店下层	发达的农业经济
第一次扩展	5000-4000	小河沿文化	农业经济衰落
	6000-5000	红山文化	原始农业迅速发展
第一次收缩	8000-6000	兴隆洼和赵宝沟文化	原始农业出现

(1)从古气候演变的角度分析距今8000年来西拉木伦河流域黄土台塬及两级阶地的形成过程。(9分)

(2)推测兴隆洼和赵宝沟时期文化遗址几乎遍及整个西拉木伦河流域的原因。(6分)

(3)指出从夏家店到辽时期,人类活动主要场所的变化特点,并分析其原因。(9分)

(4)指出“夏家店上层时期农业文化性质发生根本的转变”的表现,并分析其原因。(6分)

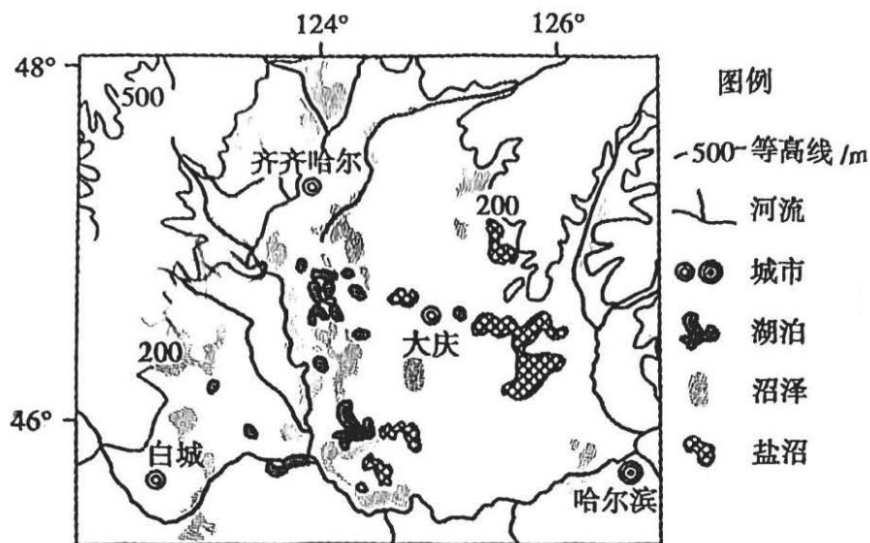
37. 阅读图文资料,完成下列要求。(26分)

材料一 松嫩低平原盐碱地是世界三大苏打(化学成分:碳酸钠)盐碱地集中分布区之一。平原西部季节性冻土平均冻深约2米,在土层冻融过程中形成了特殊的水盐运移规律,即“盐随水来,盐随水去”,对该区土壤盐碱化产生了重要影响。

材料二 地处松嫩平原腹地的吉林省白城市大安市,受气候干旱、土地盐碱化等因素影响,当前未得到开发利用的盐碱地约有105万亩,占全市总面积的14.24%,目前经过“良田+良种+良法”三良一体化的试点“种稻治碱”模式治理,该地2022年水稻平均亩产达到了550公斤,已经接近当地良田水平。

材料三 松嫩平原的湖泊群是在断陷湖盆——松辽大湖受大量泥沙堆积,逐渐消失,宣城市高三年级文科综合试题第9页(共14页)

最后残留下来的构造闭流湖泊和沼泽。下图为“松嫩平原西部局部图”，该区域年降水量 350 ~ 500mm，年蒸发量却达 1 500 ~ 2 000 mm。



- (1) 简述松嫩平原成为世界三大苏打盐碱地的自然条件。(8 分)
- (2) 从冻土的冻融过程对土壤盐渍化影响的角度,判断松嫩平原表土层盐碱泛滥的季节,并简述理由。(6 分)
- (3) 大安市试点“种稻治碱”模式取得了治理盐碱地的初步成效。当地准备扩大水稻种植规模,你是否赞同? 简述你的理由。(6 分)
- (4) 从未来我国粮食安全的耕地保障角度,说明我国东北地区在农田质量提升方面可采取的措施。(6 分)

38. 阅读材料,完成下列要求。(12 分)

材料一 2021、2022 年我国“三驾马车”对经济增长的贡献率

年份	GDP 增速	最终消费支出贡献率	资本形成总额贡献率	净出口贡献率
2021	8.1%	5.1 个百分点	1.1 个百分点	1.7 个百分点
2022	3.0%	1.0 个百分点	1.5 个百分点	0.5 个百分点

注:为实现 2023 年我国 GDP 增长 5% 的预期目标,《政府工作报告》强调把恢复和扩大消费摆在优先位置。

材料二 2012 年至 2021 年,中国 GDP 年均增长 6.6%,高于同期世界 2.6% 的平均增长水平;中国经济占全球经济比重由 2012 年的 11.4% 上升到 18.5% 以上,作为世界第二经济大国地位得到巩固提升。中国经济对世界经济增长的贡献率平均为 38.6%,超过七

宣城市高三年级文科综合试题第 10 页(共 14 页)

国集团国家贡献率的总和。中国货物进出口占国际市场份额从 10.4% 提升到 13.5%，成为全球货物贸易第一大国与世界 140 多个国家和地区的主要贸易伙伴，不断扩大了利益交汇点。

(1) 结合材料一并运用《经济与社会》知识回答：导致 2021 年我国经济增速下降的主要原因是什么？把恢复和扩大消费摆在优先位置对畅通国内大循环有何积极效应？（6 分）

(2) 结合材料二，运用《当代国际政治和经济》的知识，分析中国近十年来为何能够成为全球经济增长的“火车头”？（6 分）

39. 阅读材料，完成下列要求。（12 分）

全国人大及其常委会在法律制度设计以及立项、起草、审议、论证、评估等全流程各环节中，人民群众有序参与立法、表达意愿关切的程序机制更加健全完善。截至 2023 年 1 月，十三届全国人大常委会共有 154 件次法律草案在网上公开征求意见，参与人次近 110 万，共提出 337 万余条意见建议。十三届全国人大常委会法工委在全国 31 个省（区、市）设立了 32 个基层立法联系点，辐射带动全国各地设立 5500 多个基层立法联系点，这些立法联系点已经成为让基层声音原汁原味抵达国家立法机关的“直通车”。2023 年 3 月 13 日，十四届全国人大一次会议通过了关于修改《中华人民共和国立法法》的决定，将“立法应当坚持和发展全过程人民民主”写进立法法修正案。

结合材料，运用《政治和法治》的知识，说明全国人大及其常委会在立法工作中是如何彰显中国特色社会主义民主政治优势的？（12 分）

40. 阅读材料，完成下列要求。（10 分）

马克思把当时的资本主义社会称为“现代”资本主义社会。他认为最终所有民族和地区会通过发展工业和科技进步实现生产方式和生活方式的根本变革，即走向广义上的现代化。

新民主主义革命时期，中国共产党已经对现代化理论进行了初次探索。新中国成立后，1954 年，一届全国人大一次会议上提出要建设起强大的“现代化的工业、现代化的农业、现代化的交通运输业和现代化的国防”。1982 年，党的十二大提出逐步实现“工业、农业、国防和科学技术现代化，把我国建设成为高度文明、高度民主的社会主义国家。”1987 年，党的十三大确立了社会主义现代化建设“三步走”的目标战略。2017 年，党的十九大把“第三步”调整为通过两个“15 年”阶段，建设“富强民主文明和谐美丽的社会主义现代化强国”。

2022 年 10 月，党的二十大概括提出并深入阐述了中国式现代化理论，明确了中国式

宣城市高三年级文科综合试题第 11 页（共 14 页）

现代化的基本特征与本质要求,展现了不同于西方现代化模式的新图景,是一种全新的人类文明形态。

结合材料,运用“客观规律性与主观能动性”的知识,说明中国式现代化理论的提出是如何创造人类文明新形态的?(10分)

41. 阅读材料,完成下列要求。(18分)

材料一:案件的事由

2022年6月,A公司与B公司签订购买一台价值10万元的电器设备合同,合同中对交货日期与方式、产品质量标准等作出明确规定。1个月后,双方按约完成了付款与交货。2022年12月某日夜间,该电器设备突然起火,致使A公司车间财产造成约50万元的经济损失。经消防、检测部门调查证实,确定为该电器设备存在严重质量缺陷导致电器短路所致,同时与使用者在夜间停产时未能关闭电源也有一定关系。

材料二:《民法典》规定

第五百七十七条 当事人一方不履行合同义务或者履行合同义务不符合约定的,应当承担继续履行、采取补救措施或者赔偿损失等违约责任。

第一千一百六十六条 行为人造成他人民事权益损害,不论行为人有无过错,法律规定应当承担侵权责任的,依照其规定。

第一千二百零二条 因产品存在缺陷造成他人损害的,生产者应当承担侵权责任。

材料三:争议的解决

2023年元月,A公司以一纸诉状将B公司告上法庭,要求B公司承担赔偿经济损失50万的侵权责任。人民法院审判过程中,法官在听取控辩双方对案件责任事实陈述的基础上,依据《民法典》的相关规定,参考以前相同或类似案例的审判情况,判决B公司赔偿A公司经济损失45万元,双方息诉服判。

(1)运用《法律与生活》的知识,说明材料一中B公司存在的违法行为。结合材料二与材料三分析法院判决结果的理由。(10分)

(2)结合材料,运用《逻辑与思维》的知识,分析人民法院在本案审判过程中所运用的逻辑推理方法。(8分)

42. (25分)阅读材料,回答以下问题。

材料一 在司马迁笔下,不论历史人物是贫贱还是富贵,也不论其最后结局是成功还是失败,只要有可称道的道德表现或事功作为,就会进入他的视野。对事功充分肯定,但不作为最高标准。司马迁讲究“天人关系”,沟通“天人关系”最为重要的路径是“善恶”,
宣城市高三年级文科综合试题第12页(共14页)

尤其是大善大恶。这在《史记》中有明确表述,例如“天道无亲,常与善人”;“为善者,天报之以福;为非者,天报之以殃。”

——高希中《司马迁历史人物评价理念试析》

材料二 作为明清易代之际的重要历史人物洪承畴(福建泉州南安英都人,万历四十四年进士,清军入关前在松锦战役中失败,被俘降清)一直比较受人关注。自他死后至今的300年间,物议纷然,评价不一。

清朝入关后百余年间	功臣,受到清政府的褒奖
乾隆年间	被钦定为“贰臣”,受到贬抑
民国初期	大体延续乾隆时期的评价
抗日战争时期	被视为“汉奸”,大受挞伐

材料三 1996年,洪承畴学术研讨会在福建省石狮市举行,会议认为“洪承畴作为清朝统治集团的重要谋臣在为满族夺取全国统治权、缓和满汉民族矛盾、完成统一中国大业中的历史作用是不可磨灭的。”

——冀震宇《社会变迁、文献解读与洪承畴“贰臣”形象的演变——兼论历史人物评价》

- (1)根据材料一并结合所学,依据司马迁的人物评价标准评价汉武帝。(6分)
- (2)根据材料二并结合所学知识,解释洪承畴不同时期评价不一的原因。(12分)
- (3)是否认同材料三中“洪承畴学术研讨会”关于洪承畴的评价?为什么?(7分)

43. (12分) 阅读材料,回答以下问题。

材料 关于传统,当代美国学者爱德华·希尔斯指出,它是围绕人类的不同活动领域而形成的代代相传的行事方式,是一种对社会行为具有规范作用和道德感召力的文化力量;同时也是人类在历史长河中创造性想象的积淀,它包括物质产品、思想观念、惯例和制度。它使代与代之间、不同历史阶段之间保持了某种连续性和同一性,构成了一个社会创造与再创造自己的文化密码,并且给人类生存带来了秩序和意义。

——摘编自爱德华·希尔斯《论传统》

结合所学知识,围绕“传统”这个话题,自拟论题,并就所拟论题进行阐述。(论题合理,史论结合,论证充分,逻辑严密)

44. (15分) 阅读材料,回答以下问题。

材料 中世纪末期,由于王权的加强、较为统一的国家的形成,西欧一些民族在文化层面上取得了民族的共同认同。16-17世纪,在西欧摧毁、瓦解了普世世界国家,建立了以王权为中心的君主国家。恩格斯曾指出:“在这种普遍的混乱状态中,王权是进步的因

—宣城市高三年级文科综合试题第13页(共14页)

素,这一点是十分清楚的。王权在混乱中代表着秩序,代表着正在形成的民族而与分裂成叛乱的各附庸国的状态对抗。”随着资本主义的发展,资产阶级日渐羽翼丰满,这个王朝国家再也不能体现、代表着他们的利益和要求。于是,资产阶级便以全民族的名义展开了对封建专制君主,对王朝国家的批判,要求获得自由、平等、人权和幸福,要用这些新的政治原则和政治观念来构建新的国家——民族国家。所以,在英法这些资产阶级力量较为强大的国家,经历过资产阶级革命的国家,较为彻底地摧毁了旧的王朝国家,构建起了统一的民族国家。

——摘编于李宏图《论近代西欧民族主义和民族国家》

- (1)根据材料并结合所学知识,分析推动英法由“王朝国家”迈向统一“民族国家”的因素。(6分)
- (2)根据材料并结合所学知识,说明恩格斯“王权是进步的因素”的历史依据。(9分)

关于我们

自主选拔在线是致力于提供新高考生涯规划、强基计划、综合评价、三位一体、学科竞赛等政策资讯的升学服务平台。总部坐落于北京,旗下拥有网站(网址:www.zizzs.com)和微信公众平台等媒体矩阵,用户群体涵盖全国90%以上的重点中学师生及家长,在全国新高考、自主选拔领域首屈一指。

如需第一时间获取相关资讯及备考指南,请关注**自主选拔在线**官方微信号:[zizzsw](https://www.zizzs.com)。



微信搜一搜

自主选拔在线