

## 2023 年高考河池、来宾、百色、南宁市联合调研考试

2023.01

# 文科综合能力测试

注意事项：

1. 本试卷分第 I 卷（选择题）和第 II 卷（非选择题）两部分。满分 300 分，考试时间 150 分钟。
2. 考生作答时，请将答案答在答题卡上。选择题每小题选出答案后，用 2B 铅笔把答题卡上对应题目的答案标号涂黑；非选择题请用直径 0.5 毫米黑色墨水签字笔在答题卡上各题的答题区域内作答，**超出答题区域书写的答案无效，在试题卷、草稿纸上作答无效。**
3. 做选考题时，考生须按照题目要求作答，并用 2B 铅笔在答题卡上把所选题目的题号涂黑。
4. 考试结束后，将本试卷和答题卡一并交回。

### 第 I 卷 选择题（共 140 分）

一、选择题：本大题共 35 小题，每小题 4 分，共 140 分。在每小题给出的四个选项中，只有一项是最符合题目要求的。

作为东盟最大的汽车市场和东南亚汽车制造中心，泰国拥有得天独厚的优势。2022 年 9 月 8 日，中国汽车企业 BYD 正式签署在泰国认购土地、建设首个海外新能源乘用车工厂的相关协议。同时 LG 化学、东芝等国际龙头企业也纷纷在东南亚兴建电池厂。据此完成 1~3 题。

1. BYD 在泰国建厂的主要目的是
  - A. 开拓国际市场
  - B. 利用优惠政策
  - C. 吸引国外资金
  - D. 建立品牌形象
2. 与国内建厂相比，BYD 选择在泰国建厂，可以
  - A. 促进产业协作
  - B. 改善产品质量
  - C. 提高生产技术
  - D. 降低运输成本
3. 促使 LG 化学、东芝等国际龙头企业在东南亚建厂的主要原因是
  - A. 避开贸易壁垒
  - B. 增强集聚效应
  - C. 利于原料获取
  - D. 便于产品销售

台风远距离暴雨指降水发生在台风范围之外，但降水与台风存在着内在物理联系。2020 年 8 月 4~5 日陕北地区发生区域性暴雨天气，清涧及其附近地区累积降水量达到 300mm 以上。气象专家称，陕北此次暴雨受 4 日凌晨在浙江沿海登陆并一路北上的台风“黑格比”影响，使副热带高压的位置发生了明显的移动，导致雨带向西北地区扩展。图 1 示意 2020 年 8 月 5 日 08 时亚太局部地区的低空环流配置。据此完成 4~5 题。

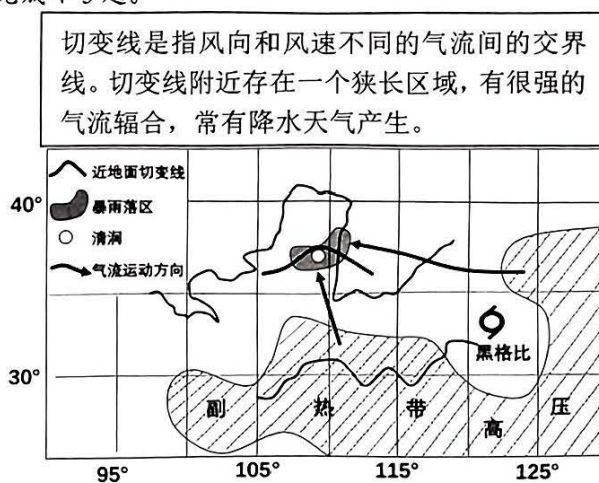


图 1

高三 文科综合 第 1 页，共 12 页

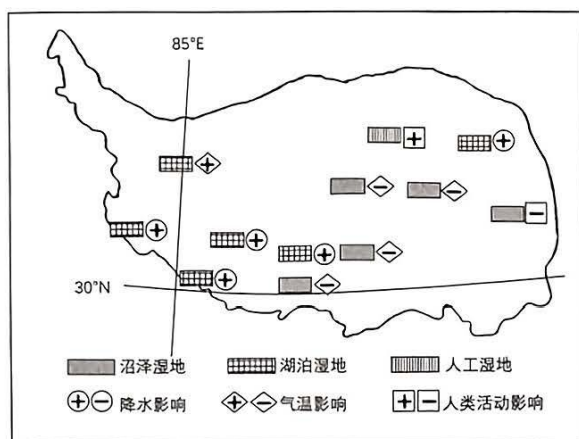
4. 按成因分类, 此次清涧暴雨属于  
①对流雨      ②气旋雨      ③锋面雨      ④地形雨  
A. ①②      B. ①③      C. ②③      D. ③④

5. 黑格比在此次暴雨中的作用是  
A. 中心附近气流强烈上升      B. 改变低空环流形态和位置  
C. 偏东气流带来丰沛水汽      D. 强风增加低空大气凝结核

位于渤海之滨的河北省黄骅市有着大面积的盐碱地, 当地运用多种技术手段对盐碱地进行改良利用, 种植抗盐碱的冬枣等果树。黄骅冬枣色泽美、口感好、营养价值高, 是国家地理标志产品, 种植历史可上溯至秦汉之前。据此完成 6~8 题。

6. 种植冬枣对抑制土壤盐碱化的主要作用是  
A. 提高植被覆盖率, 减小风速      B. 增加植被吸收盐分, 降低盐碱  
C. 增加土壤有机质, 提高肥力      D. 提高植被固沙能力, 减少风蚀
7. 黄骅冬枣“色泽美、营养价值高”得益于  
A. 日照时间长, 光照充足      B. 季风气候, 水热条件好  
C. 种植历史悠久, 经验丰富      D. 河网密布, 水源充足
8. 黄骅冬枣虽然品质优良, 但是长期以来经济效益不高的原因  
A. 种植规模小      B. 深加工能力低      C. 保鲜时间长      D. 产品知名度低

青藏高原是中国湿地分布最多的区域, 气候变化与人类活动是青藏高原湿地面积变化的主要原因。图 2 为气候变化与人类活动对青藏高原不同地区湿地的主导影响类型和方向示意图(十为正相关, 一为负相关), 表 1 显示青藏高原湿地类型及近几十年湿地面积的变化率。据此完成 9~11 题。



湿地类型	研究时间	面积年平均变化率 %
沼泽湿地	1970-2010	-1.25
湖泊湿地	1996-2010	1.39
人工湿地	1990-2010	0.05

表 1

图 2

9. 青藏高原南部少数湖泊出现萎缩的趋势, 北部湖泊出现扩张趋势, 主要原因可能是  
A. 北部降水少, 南部降水多      B. 北部气温高, 南部气温低  
C. 北部降水增多, 南部降水减少      D. 北部气温升高, 南部气温降低
10. 近年来受气候变化的影响, 湿地生态系统的结构和功能发生变化。青藏高原沼泽湿地的变化导致了  
A. 土壤有机碳含量增加      B. 湿生植物种类减少  
C. 土壤持水量升高      D. 生态环境改善

11. 引起图中人工湿地面积变化的主要原因是

- A. 过度放牧      B. 围湖造田      C. 建设城镇      D. 采盐晒盐

12. 外汇存款准备金率，是指金融机构缴存在中国人民银行的外汇存款准备金与其吸收外汇存款的比率。为提升金融机构外汇资金运用能力，中国人民银行决定，自2022年9月15日起，金融机构外汇存款准备金率由现行8%下调至6%。这一调整对我国金融市场和汇率变动有一定的影响。若不考虑其他因素，图3中能正确反映其传导作用的是

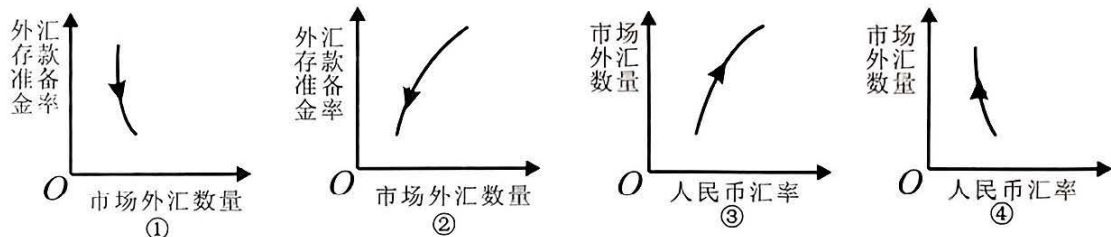


图3

- A. ①→③      B. ①→④      C. ②→③      D. ②→④

13. 2022年9月5日是第七个中华慈善日。党的十九届四中、五中全会都提出“重视发挥第三次分配作用，发展慈善等社会公益事业”，“十四五”规划纲要进一步提出“发挥慈善等第三次分配作用”“优化社会救助和慈善制度”并作出具体部署，以慈善公益之手助力共同富裕。这有利于

- ①完善社会主义分配制度，形成优良的社会分配格局  
②将慈善事业纳入社会保障体系，有效消除贫富差距  
③大力发展社会公益事业，让人民群众共享发展成果  
④改善收入和财富分配格局，力争满足所有人的需求

- A. ①③      B. ①④      C. ②③      D. ②④

14. 2022年，我国继续完善增值税留抵退税制度。增值税留抵退税优惠，是对现在还不能抵扣、留着将来才能抵扣的“进项”增值税款，提前全额退还给相关市场主体。预计，今年将实行总额约1.5万亿元的留抵退税，优先安排小微企业，重点支持制造业。这一政策有利于

- ①增加企业信心，满足小微企业贷款需求      ②保证资金及时回笼，释放市场主体活力  
③优化财政支出结构，扩大重点领域投入      ④刺激国内需求，促进经济平稳健康发展

- A. ①③      B. ①④      C. ②③      D. ②④

15. 据我国海关总署统计，2022年前10个月，我国出口总额为19.71万亿元，同比增长13%；进口总额14.91万亿元，同比增长5.2%；贸易顺差4.8万亿元，扩大46.7%。其中，机电产品出口占比持续提升，汽车、锂电池、太阳能电池出口保持较快增长。据此，可以推导出我国

- ①以扩大出口规模为目的，积极拓展对外贸易  
②贸易顺差继续走高，出口产品结构持续优化  
③进一步优化营商环境，加快引进外资的步伐  
④着力发展开放型经济，推动经济高质量发展

- A. ①③      B. ②④      C. ①④      D. ②③

16. 在全国一体化政务服务平台中，国务院有关部门设置了“好差评”系统，可以第一时间发现政务服务的堵点、难点，协助各地区各部门改进服务质量，让政务服务真正以“群众需求”为出发点，以“群众满意”为落脚点。这一系统的设置有助于

- ①践行以人民为中心理念，建设服务型政府      ②提升政府管理效能，完善内部监督体系  
③利用现代科技手段，推进政府职能的转变      ④理顺中央地方关系，激活各地方积极性

- A. ①②      B. ①③      C. ②④      D. ③④

17. 2022年10月27日,在瞻仰革命纪念地陕西延安时,习近平总书记强调:“要弘扬伟大建党精神,弘扬延安精神,坚定历史自信,增强历史主动,发扬斗争精神,为实现党的二十大提出的目标任务而团结奋斗。”这彰显了我们党
- ①继承和发扬了优良的革命传统和作风      ②将自身的利益和人民的利益互相交融  
③牢记百年大党始终不渝的信念与担当      ④强化文化建设职能,重视意识形态工作
- A. ①②      B. ①③      C. ②④      D. ③④
18. 2022年11月4日,习近平主席在会见来华访问的德国总理朔尔茨时指出:双方要始终从战略高度把握两国关系大方向,以开放心态促进务实合作,为两国关系长期稳定发展创造条件,实现两国互利共赢。朔尔茨也表示德方愿为推动欧中关系发展发挥应有作用。以下对中德进一步深化合作说法正确的是
- A. 高瞻远瞩各取所需,深化合作才能“双赢”  
B. 中德互信互利共赢,发挥集团政治的优势  
C. 立足中欧共同利益,制定我国的对外战略  
D. 中欧双方强强联合,向美国霸权发起挑战
19. 2022年10月6日,第九批世界灌溉工程遗产名录公布,四川省通济堰成功入选。通济堰,是岷江流域古代少有的有坝引水工程,其拦河坝是中国历史上规模最大、运用时间最长的活动坝,是一座灌排兼容的水利工程,是中国古代人民智慧的结晶。通济堰申遗成功
- ①有助于传承中华文化、丰富世界文化  
②再现了中华古代科学技术曾经的辉煌  
③展示文化成就,有助于坚定文化自信  
④说明中华文化精髓得到世界普遍认可
- A. ①②      B. ①③      C. ②④      D. ③④
20. 2022年9月2日,中央网信办在全国范围内启动“清朗·打击网络谣言和虚假信息”专项行动。行动将全面深入清理网络谣言和虚假信息,加大造谣传谣行为惩治力度,健全完善监测、发现、辟谣、处置全流程工作规范,压紧压实网站平台主体责任,打通谣言治理工作的“最后一公里”。营造清朗网络空间需要网站平台
- ①加强日常监测,切实履行信息内容管理主体责任  
②加强技术手段建设,提升谣言和虚假信息溯源能力  
③制定完善法律法规,依法从严惩治造谣传谣行为  
④不信谣、不传谣,提高道德修养,争当文明网民
- A. ①②      B. ①③      C. ②④      D. ③④
21. 2022年11月12日12时10分,天舟五号货运飞船与在轨运行的空间站组合体进行自主快速交会对接,这是中国空间站“T”字构型在轨组装完成后首次在太空迎接“天舟快递”。这场持续仅约2小时的交会对接任务,创造了航天史上最快交会对接纪录。据此,下列说法正确的是
- ①认识规律就能达到改造世界的目的      ②只有尊重规律才能认识和利用规律  
③人类实践具有不受限制的创造能力      ④人的实践活动是历史地发展着的
- A. ①②      B. ①③      C. ②④      D. ③④
22. 2022年11月7日,国家主席习近平向国际竹藤组织成立二十五周年志庆暨第二届世界竹藤大会致贺信。习主席在贺信中提到,中国政府同国际竹藤组织共同发起“以竹代塑”倡议,推动各国减少塑料污染。竹子作为绿色、低碳、可降解的生物质材料,在包装、建材等多个领域可直接替代部分不可生物降解的塑料制品。小小竹子不仅能“撑”起一方经济,还能写出绿色大文章。材料表明
- ①人类的需要是建立人为事物联系的基础  
②人为事物的联系比自在事物的联系更高级  
③把握联系的多样性对改造世界有重要意义  
④人类能通过实践活动建立事物之间的新联系
- A. ①②      B. ①④      C. ②③      D. ③④

23. 商品过度包装既加重消费负担又污染环境, 已开始被市场所抵制, 但随着消费新业态快速发展, 这一现象有“卷土重来”之势。2022年9月8日, 国务院办公厅发布了《关于进一步加强商品过度包装治理的通知》, 将有效遏制商品过度包装违法行为, 为促进生产生活方式绿色转型、加强生态文明建设提供有力支撑, 提升人民群众获得感和满意度。从中可获得的启示是
- ①人们在否定以往认识的过程中接近真理  
②矛盾双方在一定条件下可以相互转化  
③社会意识的变化根源于社会存在的变化  
④困难、挫折越多越有利于新事物的成长
- A. ①②                      B. ①④                      C. ②③                      D. ③④
24. 关于《诗经·国风》起源, 学界一般重视“采诗说”, 即由周王室派专人于各地采集民间诗歌编订成册, 达到“比其音律以闻天子”。由此可见关于“采诗”的目的是
- A. 加强中央集权, 监督地方得失                      B. 体察民情疾苦, 纠正君主专制  
C. 掌握舆论动向, 规范国家治理                      D. 集合各地民情, 以备后世借鉴
25. 汉武帝元狩二年(公元前121年), 河西地区(今甘肃河西走廊一带)正式归入汉朝的版图, 设立酒泉郡; 元狩三年, 向西北边地包括河西迁移山东(太行山以东诸地)水灾灾民70万人。上述措施意在
- A. 舒缓中原地区人口压力                      B. 传播先进的农耕技术  
C. 强化对西北地区的管理                      D. 稳定山东的社会秩序
26. 宋代火药已广泛用于军事, 学者普遍认同这一结论。但也有学者研究认为由于当时火药、火器工艺的限制, 火箭爆炸杀伤力有限, 突火枪枪管粗、材料质地差、准确度差、易损坏且容易伤害自身, 所以实际用于军事有限。据此可知
- A. 史料实证贵在独树一帜                      B. 研究者立场影响历史解释  
C. 历史研究无法达成共识                      D. 历史研究的结论可以争鸣
27. 有学者认为, 15世纪至16世纪中期的中国社会经历了一个类似于西方重商主义一般的、积极寻求获取海外白银的“重银主义”阶段; 16世纪后期, 白银最终成为中国普遍流通的货币, 获取白银就成为中国社会对外贸易的重要目标。据此推知
- A. 闭关锁国政策已被摒弃                      B. 经济运行的风险增加  
C. 中国资本原始积累加快                      D. 小农经济的解体加速
28. 1793年, 英国使臣马戛尔尼访华, 在觐见乾隆皇帝时, 发生了“三跪九叩礼”和“单膝下跪吻手礼”的礼仪冲突。1873年, 外国公使在紫光阁以鞠躬礼觐见了同治帝, 中外礼仪之争暂告一段落。这一变化体现了晚清政府
- A. “天朝上国”迷梦苏醒                      B. 华夷外交体制已解体  
C. 半殖民体制逐渐深化                      D. 外交逐渐步入近代化
29. 据不完全统计, 从1895年到1913年, 创办的民族工矿企业总计549家, 资本总额达120369000元, 比中日甲午战争爆发前民族企业的数量增加三倍多, 资本总额约增长五倍。这主要得益于
- A. 自然经济的进一步解体                      B. 中国民族工业竞争力增强  
C. 清政府工商政策的调整                      D. 列强放松了对中国的侵略
30. 1931年中华苏维埃共和国《宪法大纲》中规定: “在苏维埃政权下, 所有工人、农民、红军士兵及一切劳苦民众都有权派代表掌握政权的管理。”而1940年, 毛泽东强调我们所建立的政权“是一切赞成抗日又赞成民主的人们的政权, 是几个革命阶级联合起来对汉奸和反动派的民主专政”。这一政策调整
- A. 适应了民族革命战争需要                      B. 巩固了无产阶级的专政  
C. 推动了革命统一战线形成                      D. 利于打破国民党“围剿”
31. 在1979~2010年的32年间, 中国经济年均增长率达到了9.9%, 2010年的经济规模是1978年的20.5倍; 中国对外贸易年增长率先达到了16.3%, 在32年间完成了144倍的飞跃式增长。经济高速增长的主要原因是
- A. 城市经济体制改革全面开展                      B. 社会主义制度自我完善  
C. 社会主义市场经济体制建立                      D. 融入经济全球化的潮流

32. 古代雅典社会流行“感激”的观念，即对施恩者存在着强烈感激之心。由此，雅典富有的公民乐于捐助各种社会公共服务的费用，这使得他们可以在诉讼中通过夸耀自己对城邦及公众的慷慨获得陪审团的好感、在选举投票活动中获得公民们的支持。这说明古代雅典
- A. 富裕阶层长期把持城邦政治                      B. 人文主义观念深入人心  
C. 政治公正性受财产多寡影响                      D. 民主政治缺乏程序正义
33. “制度因有均衡而存在，也会因打破均衡而消亡”，欧美国家的政体自诩为“均衡政治”，但英国首相被认为是“首相民主”，美国总统被称为“皇帝般的总统”。据此可知
- A. 欧美代议制渐趋衰落                                  B. “首相民主”反映民选首相的机制  
C. 行政权已超越立法权                                  D. 西方民主运行机制在发展中调整
34. 英国“南海泡沫”是指 1720 年由于非理性投资狂潮引发的股价暴涨暴跌、经济和社会动荡的事件；它与 1637 年的荷兰郁金香投资狂热、1720 年的法国密西西比公司股价泡沫，并称为欧洲近代早期的三大“泡沫经济”事件。这些事件说明
- A. 政府应有效发挥市场监管职能                      B. 公司成为工商业组织支配形式  
C. 资本主义经济危机具有周期性                      D. 重商主义政策不适应经济发展
35. 20 世纪 80 年代，苏联的“影子经济”（地下经济）发展迅速。表 2 为当时某些消费品的价格（以卢布计算），这种现象本质上反映了

	国家零售	二手零售	集体商亭	影子经济
帽子	15-20	40	25	80
口红	1.5-5	12	5	25-40
冬装夹克*	180	1000	250-300	1500-3000
毛衣	50	100-250	80	1000
运动鞋*	35	40	120	1000
香水	15-80	35-105	—	80-450
袜子*	1-3	12	12	20-30

注：“\*”指目前市场无货供应

表 2

- A. 苏联经济状况不断恶化                                  B. 市场供求关系严重失衡  
C. 宏观经济调节手段无效                                  D. 苏联经济模式弊端凸显

## 第 II 卷 非选择题（共 160 分）

二、非选择题：本题包括必考题和选考题两部分，共 160 分，第 36-42 题为必考题，每个试题考生都必须作答。第 43 -47 题为选考题，考生根据要求作答。

（一）必考题：135 分。

36. 阅读图文材料，完成下列要求。（22 分）

胶州湾是位于青岛市境内的半封闭海湾。为缩小胶州湾东西两岸的距离，青岛市政府建设了胶州湾跨海大桥。大桥全长 36.48km，共有 1691 个桥墩，设计标准为双向 6 车道，桥面平均宽度约 35 米，是国家高速公路网 G22 青岛-兰州高速公路的起点段，也是青岛市区西北部城市主干道的构成部分，市区接线工程延续了海湾大桥的桥面宽度。图 4 示意胶州湾轮廓及周边地理要素分布。

高三 文科综合 第 6 页，共 12 页

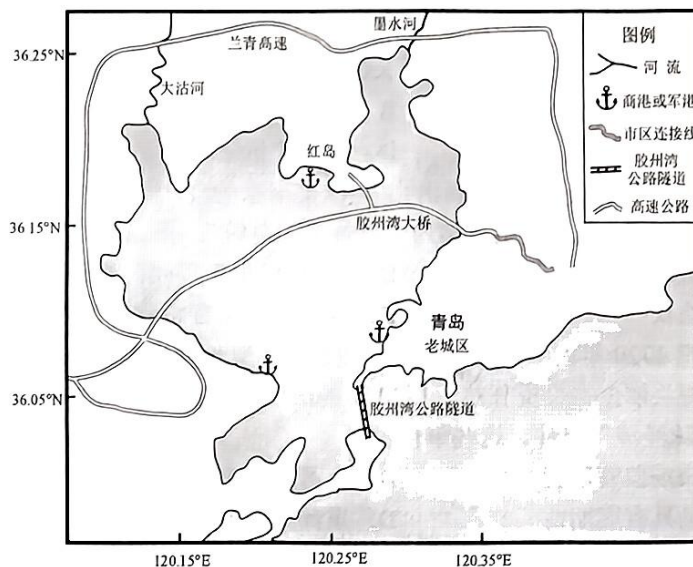


图 4

- (1) 胶州湾大桥未建在海湾湾口（最窄处），而是“舍近求远”绕行北部水域。请从社会经济的角度对此作出合理解释。（8分）
- (2) 与胶州湾公路隧道相比，胶州湾大桥常暂时性封闭禁行。简述其自然原因。（6分）
- (3) 说明跨海大桥建成后对胶州湾地区发展的积极作用。（8分）

37. 阅读图文材料，完成下列要求。（24分）

相邻的两条河流，在发育的过程中，低位河若具有较强的侵蚀力，河谷上源不断加长，以致与高位河相遇，进而袭夺其河水的现象称为河流袭夺。通口河发源于横断山脉中段的岷山东坡，横穿断裂带，为袭夺河。通口河袭夺前，岷江是安昌河的干流，向南经魏家沟流入安昌河；都坝河在曲山镇附近汇入岷江。袭夺前的通口河发源于银屏口附近山地，注入涪江，河道长度不到40KM，支流少而流量小。凉风垭现为安昌河与通口河分水岭。图5为目前通口河水系图。

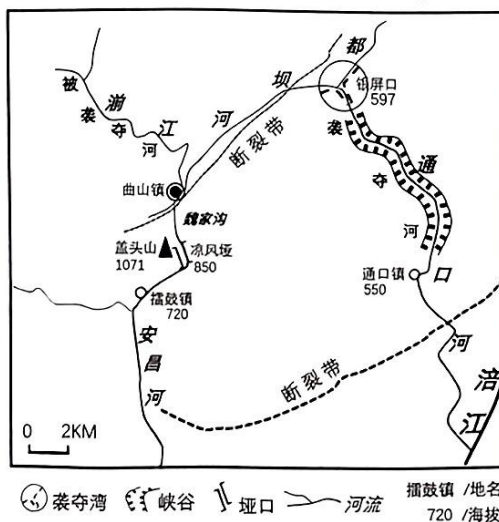


图 5

- (1) 运用板块构造理论，分析该区域多断裂发育的主要原因。(6分)
- (2) 说明通口河形成袭夺河的过程。(6分)
- (3) 根据材料推测河流袭夺后图中峡谷形成的原因。(6分)
- (4) 通口河袭夺后，区域内水量分布发生了明显改变。分析水量改变对通口镇以下河段的沿岸地区带来的影响。(6分)

38. 阅读材料，完成下列要求。(14分)

举国体制在我国“两弹一星”、人工合成结晶牛胰岛素、青蒿素等重大成就中发挥了至关重要的作用。

2022年9月6日，中共中央全面深化改革委员会第二十七次会议审议通过的《关于健全社会主义市场经济条件下关键核心技术攻关新型举国体制的意见》。意见中明确了主攻方向和核心技术突破口，要求充分发挥制度优势，以国家战略性需求为导向，借助国家力量有效配置科技力量和创新资源。要充分发挥良好机制作用，以市场需求为导向，强化企业技术创新主体地位，营造良好创新生态，激发创新主体活力。要充分调动一切积极因素，促进政府、市场、社会创新资源有机结合、相互促进，推进科研院所、高等院校和企业科研力量的优化配置和资源共享，强化跨领域跨学科协同攻关，形成关键核心技术攻关强大合力。

结合材料并运用所学经济知识，分析在关键核心技术攻关方面，我国的新型举国体制是如何发挥优势的。

39. 阅读材料，完成下列要求。(12分)

黄河是中华民族的母亲河。党和国家始终将黄河流域生态保护和高质量发展作为事关中华民族伟大复兴的千秋大计。但长期以来，黄河一直面临水沙不平衡、水资源短缺、生态脆弱等问题。

全国人大常委会委员长栗战书2022年8月在甘肃就黄河保护法立法调研时强调，要深入贯彻习近平生态文明思想，把党中央决策部署以法律形式转化为国家意志和社会行为准则，以实现黄河流域生态平衡、资源永续利用、人民永世安宁。

2022年10月30日，十三届全国人大常委会第三十七次会议表决通过《中华人民共和国黄河保护法》。该法将于2023年4月1日起施行。随着全国人大常委会相继修改、完善、制定了长江保护法、湿地保护法、黄河保护法等20多部法律，我国的生态环保法律体系初步形成。

结合材料，说明全国人大常委会制定《中华人民共和国黄河保护法》的原因。

40. 阅读材料，完成下列要求。(26分)

人民民主的本质是人民当家做主，人民民主是社会主义的生命，是中国共产党始终高举的旗帜。

在革命、建设、改革各个历史时期，中国共产党带领中国人民，从自身国情和实际出发，艰辛探索，逐步建立起社会主义民主政治的基本框架，形成了日趋成熟定型的民主制度体系。党的十八大以来，以习近平同志为核心的党中央立足新的历史方位，积极回应人民对民主法治的新期待，深化对民主政治发展进程的认识，创造性地提出全过程人民民主重大理念，并从各层次各领域扩大人民有序政治参与。这一创新，彰显了中国的民主自信，必将引领我们将全过程人民民主的制度优势转化为高质量的治理效能，实现中华民族伟大复兴。



在乡村振兴的实践中，鹤山市龙口镇青文村充分利用本村的红色资源，传承红色基因，推动全过程人民民主。村委重新修缮中共鹤山县西北区工委旧址，努力打造红色教育阵地，让当地党员和村民在参观学习中更深刻地感悟红色文化，强化使命担当：全村党员主动承诺践诺，发挥先锋模范作用，带动群众参与乡村治理；广大村民根据“办事重民意，决策讲民主”原则，凡是涉及村里大事和大多数村民利益的重要事项，都积极参与，投票表决。近年来，青文村在乡村治理方面取得了显著成效，成功获评为第二批全国乡村治理示范村。

- (1) 结合材料，运用价值判断和价值选择的知识，说明中国特色社会主义新时期要坚持和发展全过程人民民主的合理性。(12分)
- (2) 结合材料并运用文化生活的有关知识，分析传承红色基因在青文村推动全过程人民民主实践中的作用。(10分)
- (3) 绿色产业是乡村振兴的重要支柱，有利于乡村可持续发展。请你为促进乡村绿色产业的发展提出两条政策建议。(4分)

41. 阅读下列材料，完成下列要求。(25分)

**材料一** 第二次鸦片战争后，恭亲王奕訢为代表的朝廷势力和地方实力派的汉族士绅都认识到了西方的船坚炮利，逐渐改变了对西方的政策，采取了现实的“承认主义”，迈出了中国工业化的第一步。清朝的传统政治结构存在着对社会变革的容纳能力不足和不能有效地发挥现代化领导力量，中国传统的经济结构在经济增长与工业化的启动方面存在问题，导致中国经济近代化的起步缓慢，军工企业、民用企业很难走上真正的现代化之路；清朝取消“策问”考试，严重阻碍了知识分子知识的增长、精神的独立。“中国吃大亏的重要原因是固有文化有很强的排他性，它也吸收外来文化……但是已经固化为社会制度的三纲六纪，外来文化只能融化在这个大框架下，成为添绿加彩的枝叶”。

——摘编自余海翔《浅谈洋务运动与中国早期现代化》

**材料二** 通过“拿来主义”美国跻身世界强国之列。美国是由英国的殖民地发展而来的，有了可供效仿的对象，更有殖民时期形成的一定的工业基础。独立战争后，政治上的独立只是在束缚其发展的链条上打开了薄弱的一环，英国不允许殖民地拥有自己的经济，于是经济独立的革命呼之欲出。美国是在不断探寻合群生活的道路上成长起来的，形成勇于探索乐于接受一般事实的平实态度。大多数美国人不愿意一生从事一种工作，当人不可能被专业化时，机器的专业化就成为时代所需，这就是惠特尼“通用制”通过“拿来主义”取得成功的原因。因为工业革命的开展，美国抓住时机大量“拿来”移民和资本，经济的发展迫切地需要法律的调节，新的法律体制取材于英国的传统法律，并注入了新的内容，使之与新社会相适应。一个国家或民族想要发展，不妨学学美国的“拿来主义”。

——摘编自王莹《美国的“拿来主义”与早期工业革命》

- (1) 根据材料一并结合所学知识，指出洋务派“承认主义”的特点和背景。(12分)
- (2) 根据材料一、二并结合所学知识，与洋务派的“承认主义”相比，指出美国“拿来主义”所具备的优势，并简要分析其产生的影响。(13分)

42. 阅读材料，完成下列要求。(12分)

历史漫画是一种具有强烈的讽刺性或幽默性的绘画，画家从政治事件或社会生活现象中取材，通过夸张、比喻、象征、寓意等手法，表现为幽默、诙谐、辛辣的画面，借以讽刺、批评或歌颂某些人或事。它是一种特殊的史料，带有鲜明的时代特征和作者的主观好恶。下面图6(a)和图6(b)分别是美国《华盛顿邮报》和苏联某杂志以马歇尔计划为对象创作的漫画。



1949 《华盛顿邮报》  
拖拉机上“MARSHALL PLAN”（马歇尔计划），左下宣传牌上是“MARSHAL STALIN PLAN”（斯大林元帅计划），上面的英文是“*It's The Same Thing Without Mechanical Problem.*”（就算没有机械故障也是一样的）

图6(a)



1947 苏联某杂志  
吊着的口袋上写着“3AEM”意为“财政拨款”

图6(b)

请仔细观察上面两幅漫画，结合世界现代史对漫画信息进行解读。（要求：表述成文，叙述完整；逻辑严密，条理清晰。）

（二）选考题：共25分。请考生从2道地理题、3道历史题中每科任选一题作答。如果多做，则按所做的第一题计分。

43. 【地理——选修3：旅游地理】（10分）

近年来，乡村旅游呈现“井喷”式发展趋势，然而我国乡村旅游在旅游开发方面不尽人意。在对河南林州某景区调查研究过程中发现，《诗经》文化是该景区的一大特色，“关关雉鸠，在河之洲”，就是从该景区的淇河两岸而来，但是该景区仅以自然风光为主，地方特色文化开发不足，导致游客重游率低，多以一日游为主。近年来该景区深入挖掘地方文化内涵，并将其与旅游产品有机地融合在一起，初见成效。

分析该景区围绕地方特色文化应如何设计旅游活动内容。

44. 【地理——选修6: 环境保护】(10分)

设计饲养是一种介于自由放养与舍饲之间的饲养方式,指在利用草地草、农田残茬、林带草和树木落叶等进行自由放养的基础上,按着动物的生长规律设计增重要求,同时利用人工种草、秸秆和精饲料等能量和蛋白质饲料进行补饲。这种日常计划饲养方式,有利于草地管理及家畜生产。图7a示意东北农牧交错带设计饲养需要的粗蛋白量,b示意自由放养实际能获取的粗蛋白量。

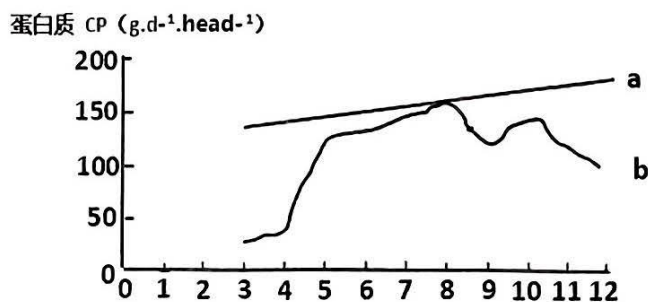


图7

分析补饲对天然草地的生态环境效益,指出该地最需要补饲的月份,并说明理由。

45. 【历史——选修1: 历史上重大改革回眸】(15分)

**材料** 拿破仑战争中的惨败,使普鲁士当权者对指挥决策体制的混乱有了比较清晰地认识。1807年,普鲁士国王制定“军事改革纲领”开始了军事改革。首先是建立了总参谋部,改革后的总参谋部分工合理,职责明确,逐步成为军事指挥的核心机构和军队的神经中枢。为使国家拥有在紧急状态下能迅速扩充军队并受过军事训练的兵源,普鲁士拟定了“速成兵”制度,通过短期速成培训的方式,对大批男丁进行了正规的军事训练。改革委员会还修改了过去以年龄资历、出身为标准的军官晋升政策,取而代之的是综合考察军官的知识、教育、智力、能力、服务和贡献的大小。同时还整个军事教育按照年龄分成初、中、高三个等级,对全民开放,引进新的战术和训练方式。1808年军队公布了一项严明军纪的法令,废除棍刑、夹鞭刑等侮辱性的体罚,注重用更为深刻的教育和更为合理地惩罚。普鲁士通过军事改革,迅速壮大了军事实力,最终完成德意志的统一大业,铸就了普鲁士军队的辉煌。

——摘编自安永庆《浅谈19世纪初普鲁士军事改革及其启示》

- (1) 根据材料,概括普鲁士军事改革的措施。(7分)
- (2) 根据材料并结合所学知识,简析普鲁士军事改革的影响。(8分)

46. 【历史——选修3：战争与和平】(15分)

**材料** “慕尼黑阴谋”或“慕尼黑勾结”是对慕尼黑协定具有谴责意味的别称。1938年9月由英国、法国、德国和意大利四国首脑在慕尼黑会议上签署的关于捷克斯洛伐克割让苏台德地区给德国的多边协定。对于不同的国家，慕尼黑协定有着不同的含义。就德国而言，慕尼黑协定满足了它对捷克斯洛伐克的领土要求，是它对外侵略扩张的重要成果。对英法等西方国家来说，慕尼黑协定是它们解决欧洲争端和协调对德关系的重要步骤，反映了它们试图通过对德绥靖维持欧洲和平的一厢情愿。从苏联角度讲，慕尼黑协定是英法对德国绥靖政策发展的顶峰，也是西方反苏阴谋的象征。当时的苏联对外情报证实了苏联领导人对慕尼黑阴谋的判断：英法等西方国家以排斥苏联的方式召开慕尼黑会议并制定慕尼黑协定，就是试图建立反苏统一战线并且通过对德国的绥靖引导德国向东侵略扩张。面对西方“祸水东引”的企图，苏联以更大的力度改善苏德关系，于1939年8月同德国签订互不侵犯条约及其秘密附加议定书，使德国同西方国家之间率先爆发了战争，苏联不仅由此暂时躲避了战火侵袭，而且还在其西北边境外建立了苏联利益范围。

——引自张盛发《苏联对“慕尼黑阴谋”的侦察和反击——对苏联签订苏德互不侵犯条约的历史考察》

- (1) 根据材料并结合所学知识，指出绥靖政策出台的背景。(8分)
- (2) 根据材料并结合所学知识，简析慕尼黑协定签订的影响。(7分)

47. 【历史——选修4：中外历史人物评说】(15分)

**材料** 王国光，字汝观，嘉靖二十三年进士。在吴江和仪封任知县期间，关心民生，尤其关注赋税和财政问题。王国光因“治行第一”，被嘉靖征召入京任职。明神宗继位，张居正出任首辅，命王国光到户部管事，他迎来了发挥财政管理才能的大好时机。在京任职三年半，他殚精竭虑，大力整顿财政，成效明显，并为明朝以后进一步改革奠定了坚实基础。他的主要业绩有三方面：一、优化财政管理机制，对户部体制进行调整；二、清理财政簿籍，编纂《会计录》，因受到言官纠劾，上疏乞休获允，临行上此书初稿，又担心离任后书稿散逸，故疏请刊刻，至万历十年最终定稿，该书成为明朝户部财政管理的依据，也是了解明朝财政状况的珍贵资料；三、力行考成法，改善财政状况。在张居正支持下，王国光一系列的财政改革措施使国家财政状况迅速好转。

——摘编自《王国光与万历初期的财政整顿》

- (1) 根据材料并结合所学知识，分析王国光财政整顿取得成效的原因。(6分)
- (2) 根据材料并结合所学知识，指出王国光财政整顿的积极作用。(9分)

## 关于我们

自主选拔在线是致力于提供新高考生涯规划、强基计划、综合评价、三位一体、学科竞赛等政策资讯的升学服务平台。总部坐落于北京，旗下拥有网站（[网址：www.zizzs.com](http://www.zizzs.com)）和微信公众平台等媒体矩阵，用户群体涵盖全国90%以上的重点中学师生及家长，在全国新高考、自主选拔领域首屈一指。

如需第一时间获取相关资讯及备考指南，请关注**自主选拔在线**官方微信号：**zizzsw**。



 微信搜一搜

 自主选拔在线

