

## 2020 届普通高中教育教学质量监测考试

### 文科综合

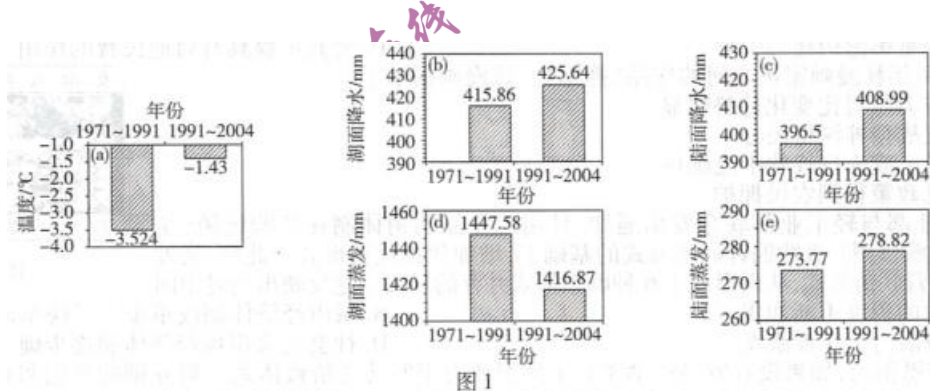
#### 第 I 卷

本卷共 35 个小题，每小题 4 分，共 140 分。在每小题给出的四个选项中，只有一项是符合题目要求的。

北极黄河站 ( $78^{\circ}55'N, 11^{\circ}56'E$ ) 位于挪威斯匹次卑尔根群岛的新奥尔松，是中国建立的首个北极科考站。据此完成 1-3 题。

1. 当中国科考队员在黄河站见到太阳位于正北方时，北京时间约为  
A. 6:48    B. 7:12    C. 18:48    D. 19:12
2. 当北极黄河站迎来一年中首次日出时，太阳直射点的地理坐标约为  
A. ( $11^{\circ}S, 12^{\circ}E$ )    B. ( $11^{\circ}N, 12^{\circ}E$ )    C. ( $11^{\circ}S, 168^{\circ}W$ )    D. ( $11^{\circ}N, 168^{\circ}W$ )
3. 科考队员可以依据黄河站附近科研数据分析  
A 臭氧层空洞对极光变化的影响    B. 全球气候变暖对企鹅生活环境的影响  
C 甲北大西洋暖流变化对北极熊种群的影响    D. 现代冰川退缩对极光发生频率的影响

纳木错是念青唐古拉山西北侧的内流湖，其湖泊面积变化与气候变化呈明显相关性。图 1 为西藏纳木错流域 1971-2004 年年均温、年降水量和年蒸发量图。据此完成 4-6 题。



4 一纳木错年湖面蒸发量减少的直接原因可能是

A. 当地风力增强 B. 纳木错水温下降 C. 全球气候变暖 D. 当地年均温下降

5. 据图推测纳木错面积变化及其主要原因是

- A. 面积增大——全球变暖，冰川融水和降水增多
- B. 面积增大——退耕还湖，改善湖区生态环境
- C. 面积减小——河流含沙量增大，湖泊淤塞严重
- D. 面积减小——引水灌溉，入湖水量大幅减少

6. 与 1971-1991 年相比，1991-2004 年纳木错流域 A. 湖面年蒸发量增大 B. 陆面年蒸发量减小

C. 湖面年降水量增大 D. 陆面年降水量减小

番茄种植业是摩洛哥的经济支柱，近年来摩洛哥番茄出口量逐年增 成为世界第 5 大番茄出口国，主要出口欧盟各国、俄罗斯和加拿大。图 2 示意摩洛哥地理位置：据此完成 7-8 题。

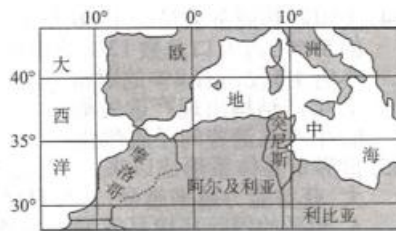


图 2

7. 与南欧国家相比，摩洛哥番茄出口欧盟、俄罗斯和加拿大的显著优势是

- A. 成熟早，品质优良 B. 距离消费市场较近
- C. 地域封闭，病虫害少 D. 保鲜冷藏技术先进

8. 摩洛哥精品番茄出口俄罗斯和加拿大的最佳运输方式可能是

- A. 海洋运输 B. 公路运输 C. 铁路运输 D. 航空运输

湖南省位于我国中南部地区，是东部沿海产业转移的重地。目前，湖南第二、第三产业的比重占 80% 以上，城市化水平达 38.7%。未来几年，湖南省将依靠各类开发区，发

展和培育以电子信息、装备制造、钢铁冶炼、有色金属深加工、石油化工、生物医药、新能源、新材料为支柱的产业体系。据此完成9-11题。

9. 湖南省承接产业转移的优势条件是

A. 劳动力价格低 B. 工业结构完整 C. 城市化水平高 D. 工业布局均衡

10. 湖南省重视各类开发区的建设,其根本目的是

A. 以优惠政策吸引优势产业迁入 B. 完善基础设施和生产配套设施

C. 为产业集聚打造良好营商环境 D. 建立相互对接的上、下游工业

11. 湖南省未来重点发展与吸纳的产业大多属于

A. 资金与技术密集型工业 B. 劳动与资金密集型工业

C. 技术与资源密集型工业 D. 资源与劳动密集型工业

12. 边际效用是指消费者在消费物品时,每增加一单位物品给消费者带来的效用。总效用是指消费者在一定时间内消费一定数量商品或服务所带来的满足程度的总和。右图横轴表示消费品的数量,纵轴表示效用。这表明,在一定条件下

①消费者从商品或服务消费中获得的总效用总是正值

②新增加的生产要素给生产者带来的效益增加量是递减的

③在边际效用大于等于零时,边际效用与总效用呈反方向变动

④随着消费物品数量的增加,消费者获得的边际效用逐渐减少

A. ①② B. ①④ C. ②③ D. ③④

13. 逆回购指资金融出方将资金融给资金融入方,收取有价证券作为质押,并在未来收回本息,并解除有价证券质押的交易行为。这也是央行经常使用的公开市场操作手段之一。下列对央行开展逆回购操作的影响路径分析正确的是

A. 央行将有价证券卖给一级交易商→从市场收回流动性→释放通货膨胀压力

B. 央行接受债券质押、借出资金→向市场上投放流动性→缓解通货紧缩压力

C. 央行到期还本付息→解除有价证券质押的交易行为→激发企业投资需求

D. 央行下调存款准备金率。商业银行用于放贷的资金增加→缓解企业融资难

14. 2019年11月27日,工信部召开携号转网启动仪式,携号转网正式在全国提供服务。携号转网,也称作号码携带、移机不改号,也就是说一家电信运营商的用户,无需改变自己的手机号码,就能转而成为另一家电信运营商的用户,并享受其提供的各种服务。携号转网

- ①是政府实施宏观调控,弥补市场调节自发性缺陷的举措
- ②会促使电信运营商提高服务水平,以增强客户消费粘性
- ③有利于尊重消费者的自主选择权,促进电信业公平竞争
- ④是政府放宽市场准入,促使新的运营商进入市场的举措

A.①② B.①④ C.②③ D.③④

15. 为加快培育贸易竞争新优势,推进贸易高质量发展,2019年11月19日,中共中央、国务院发布《关于推进贸易高质量发展的指导意见》强调,要加快推动由商品和要素流动型开放向规则等制度型开放转变,建设更高水平的开放型经济新体制。下列属于制度型开放的有 ①探索跨境服务贸易负面清单管理制度,大力发展服务贸易 ②推进跨境基础设施建设与互联互通,共同推动运输便利化 ③坚持竞争中性原则,在要素获取等方面平等对待内外资企业 ④推进自主创新,促进贸易新业态发展,增添贸易发展新动能

A.①② B.①③ C.②④ D.③④

16. 十九届四中全会报告指出:各级党委和政府以及领导干部要带头切实增强按制度办事、依法办事意识,要健全权威高效的制度执行机制,明确各项制度执行的主体责任、监督责任、领导责任,形成制度执行强大推动力。贯彻这些要求有利于

- ①把国家制度优势转化为国家治理效能 ②带动全党全社会自觉维护制度
- ③通过协商民主途径更好地实现人民民主 ④党的主张通过法定程序上升为国家意志

A.①② B.①③ C.②④ D.③④

17. 第十三届全国人民代表大会常务委员会第十四次会议决定:授权国务院在自由贸易试验区内暂时调整适用《中华人民共和国对外贸易法》等六部法律的有关规定,试行三年,对实践证明可行的,国务院应当提出修改有关法律的意见;对实践证明不宜调

整的，在试点期满后恢复施行有关法律规定。这一决定

- ①有助于推进自由贸易试验区制度创新、释放改革红利
- ②表明全国人大常委会对国务院负责，受其监督
- ③有利于根据实践需要进一步完善我国法律体系
- ④表明国务院经过全国人大常委会授权可以修改法律

A.①③B.②④C.②③D.①④

18. 全国支援西藏是党中央和国务院做出的重大决策。大规模援藏工作开展 20 多年来，西藏的面貌发生了翻天覆地的变化。援藏相关部门和省区不断创新援藏模式，为推进西藏整体跨越式发展注入了强大动力，也维护了国家的稳定与安全。这表明

- ①民族团结有利于促进民族繁荣发展
- ②国家保障少数民族群众行使自治权
- ③民族区域自治有利于实现各民族共同繁荣
- ④我国把少数民族利益和国家整体利益协调起来

A.①②B.②③C.①④D.③④

19. 在北京世园会园区中心，被誉为“有生命、会呼吸”的中国馆，坐落于青山绿水、梯田花卉间，古人与自然和谐共处的图景，经过现代科技手段重新焕发光彩，既凝结着古人因时就势、因地制宜的农耕文化和建筑智慧，也展现着现代中国绿色节能技术的水平，让游客赞叹不已。这说明

- ①运用现代科技能够更好地展示中华文化的魅力
- ②传统建筑是展现中国传统文化的重要标志
- ③在吸收传统文化时要坚持“以我为主、为我所用”
- ④要根据社会需要推进传统文化创造性转化、创新性发展

A.①③B.②③C.①④D.②④

20. 广州网游产业发展迅猛，涌现出网易、华立科技、华多网络等一批网游龙头企业，

自主研发能力不断提升。2019 年广州 300 余家网游企业实现增加值约 400 亿元，在全国具有重要影响力。从文化生活角度看，这表明当地

- ①文化与经济发展进一步交融 ②社会主义精神文明建设进一步推进  
③文化新业态不断涌现，文化消费市场活跃 ④青少年应该提高辨别眼力，拒绝污染

A.①② B.②④ C.①③ D.③④

21. 2019 年 11 月 2 日，第四届中国科幻大会在北京举行。大会旨在传播科幻文化，激发中国科幻创作的潜力，搭建科幻创作交流、产业接洽、研究探索的平台。一系列精彩纷呈的活动，不仅展现了公众对科幻的热情，更展现出中国科幻青春洋溢的面貌以及蓄势待发的潜能。科幻作品

- ①是对世界发展趋势的预判，具有真理性  
②创作表明意识能够创造一个理想或幻想的世界  
③发展离不开我国科技发展为之提供的良好条件  
④源于创造性想象，是科学性和幻想性融合的结晶

A.①② B.②③ C.①④ D.③④

22. 在庆祝改革开放 40 周年大会上，习近平同志在讲话中引用了“行之力则知愈进，知之深则行愈达”这句古语。他以“九个必须坚持”深刻总结了我国改革开放 40 年积累的宝贵经验，强调这些宝贵经验是党和人民弥足珍贵的精神财富。这表明

- ①实践是检验认识真理性的标准，“知”是检验“行”的标准  
②人的认识越深刻就越能指引实践活动，“知”能指导“行”  
③参与实践越多就越能加深对事物的认识，“行”会推动“知”  
④国家倡导学习宝贵经验说明间接经验是获得认识的途径之一

A.①② B.②④ C.①③ D.③④

23. 图 3《大豆过江》为著名漫画家华君武和江苏那县农民朱会然合作的作品。五个人坐在体形超大的大豆上，乘风破浪横渡长



图 3

江。反思历史，我们建设新时代应该做到

A. 欲粟者务时，欲治者因势 B. 治世不一道，便国不法古

C. 大道之行也，天下为公 D. 繁霜尽是心头血，洒向千峰秋叶丹

24. 在殷商时代，只有具有忠敬和诚信之心的人才可以祭祀，要对神灵讲诚信，不失信于神。春秋时期，主张变法改革的管仲认为诚信是集结人心、使天人团结一致的保证。这一变化反映出

A. 诚信是儒家文化的重要内容 B. 诚信赋予了人文精神的内涵

C. 先秦文化具有宗法血缘特性 D. “天人合一”的思想在齐国萌发

25. 西汉自高祖始，经汉武帝、汉宣帝至汉成帝的二百年间，前后6次大规模地将关东强族豪杰迁徙于关中。汉武帝“元朔二年夏天，迁徙郡、国中的豪杰及货三百万以上者于茂陵”。汉成帝“鸿嘉二年夏，徙郡国豪杰货五百万以上五千户于昌陵。”汉代当政者的这些做法

A. 确保了中央对地方的有效控制 B. 遏制了大土地所有制的发展

C. 客观上有利于自耕农经济发展 D. 促使庶族地主势力开始崛起

26. 唐太宗令颜师古撰写《五经定本》，作为官定的课本，颁行全国；又令孔颖达等人撰写《五经正义》，规定为科举应试的标准。这些举措

A. 确立了儒学的正统地位 B. 促进了官方教育的兴起

C. 重建了儒家的信仰理论 D. 强化了儒学的政治功能

27. 下表为明代《大明会典》所载户口分区对照表，由此可知

	洪武二十六年 (1393年) 户均人口	弘治四年 (1491年) 户均人口	万历六年 (1578年) 户均人口	明代户均人口数
南直隶苏州府	4.79	3.83	3.35	3.99
南直隶镇江府	5.98	2.51	2.40	3.63
浙江	4.90	3.53	3.34	3.92
山东	6.97	8.77	4.13	6.62
河南	6.06	5.98	8.20	6.75
全国总计	户 10652870 口 60545812 户均人口 5.68	户 9113446 口 53281158 户均人口 5.85	户 10621436 口 60692856 户均人口 5.71	5.75

- A. 江南地区家庭规模趋于小型化 B. 明代人口呈现出持续增长的态势  
C. 北方地区的宗族观念相对淡薄 D. 南方民众安土重迁观念趋于瓦解

28. 下表是 1873-1910 年中国出口商品分类比重表。据此可知，这一时期中国

年份	原料		半制品		制成品	
	农产品(包括林、牧、渔)	矿产品	手工	机制	手工	机制
1873	2.6	-	37.4		58.3	1.7
1893	15.6	-	28.4	0.1	53.4	2.5
1903	26.8	0.4	17.2	14.7	32.9	8.0
1910	39.1	0.7	13.1	11.9	29.3	6.8

- A. 对外贸易保持了出超地位 B. 近代民族工业发展环境改善  
C. 传统农业发生了根本变化 D. 出口贸易具有半殖民地特征

29. 《万国公报》编辑范玮曾言：“至每月发行之《万国公报》，尤明目张胆讲平等，说自由，推美国之民主主义与立宪政体，而叹息痛恨于满洲朝廷之不进步。后来种族思想勃发而不可遏，中华民国成立于一举之间，则广学会之书报与之有劳也。”据此可知

- A. 舆论宣传促进戊戌变法运动 B. 《万国公报》是近代报刊的先驱  
C. 清政府注重舆论构建与引导 D. 公共传媒具有启迪民智的作用

30. 图 4 为 1937 年秋漫画家焦心河的作品《拥军》。该漫画揭示了

- A. 国共双方力量对比变化趋势明显 B. 全民族抗战精神深得民心



图 4



C. 敌后战场已成为抗战的中流砥柱 D. 减租减息政策得到农民拥护

31. 1982 年, 商业部与轻工业部联合发出通知, 日用工业品购销体制在统购统销(统配)、计划收购、订购、选购四种购销形式的基础上, 增加代批代销形式。此后, 又发展了工商联营联销形式, 从而形成了 6 种购销形式并存的局面。这反映出当时中国

A. 对外开放的程度不断加深 B. 城市经济体制改革步入了快车道

C. 社会经济活力正在被激发 D. 社会主义市场经济体制逐步确立

32. 美国学者赞恩指出, 如果没有罗马法学家若干世纪致力于罗马法精致体系一般原则的开创和具体规则的研究, 我们的法律制度会是什么样子, 真是难以想象。对此理解正确的应是, 罗马法

A. 发展的根本动力来自于法学家 B. 是近现代资产阶级法学的渊源

C. 形成欧美国家法律的具体规则 D. 其历史价值在于其自然法精神

33. 马克思在阐述对未来社会的构想时, 曾提到: 通过拥有国家资本和独享垄断权的国家银行, 把信贷集中在国家手里; 按照共同的计划增加国家工厂和生产工具, 促使城乡对立逐步消失。对所有儿童实行公共的和免费的教育。由此可知, 马克思旨在

A. 通过国家手段促进社会公平 B. 用暴力推翻资产阶级统治

C. 促使全世界无产者联合起来 D. 揭示人类社会的发展规律

34. 美国联邦商务委员会 1926 年关于国家财富及收入的报告显示, 国内占人口总数 1% 的最大资本家占有财富的 59%, 占人口总数 12% 的小资本家占有财富达 3%, 而占人口总数 87% 的广大人口(包括产业工人、小农、小店主)仅占有 8% 的财富。这一现象反映了

A. 生产结构出现严重失衡 B. 人们生活水平急剧下滑

C. 生产和消费间矛盾激化 D. 经济运行风险不断增加

35. 世界贸易体系形成以来, 一直是发达国家积极推进自由贸易和经济全球化的。而当别国也变得越来越强大, 获益能力越来越强, 并与自己发生利益分配冲突时, 发达国家逐渐转向贸易保护主义。这反映出

A. 和平的国际环境是发展的必备条件 B. 发展中国家在国际贸易中获利更多

C. 国际贸易中南北贸易冲突不可调和 D. 世界各国利益和机遇的不平衡性加强

## 第 II 卷

本卷包括必考题和选考题两部分。第 36 题-第 42 题为必考题，每个试题考生都必须作答。第 43 题-第 47 题为选考题，考生根据要求作答。

36 阅读图文材料，完成下列要求。(24 分)

洋县隶属陕西省汉中市，位于汉中平原东部。该县有种植黑米水稻的传统，种植历史长达 3000 多年。黑米是古老而名贵的水稻品种，有“世界米中之王”、“黑珍珠”、“长寿米”等美誉，是食疗、保健的最佳滋补食品。洋县黑米已经获得“地理标志保护产品”等认证。2018 年洋县县政府将发展黑米产业列为五大脱贫产业之首。黑米种植户说：“我们现在种黑米水稻，县上很支持，每年免费供种、供有机肥，还统一培训技术。合作社统一收购黑谷，价格较高，要求严格，每袋都要检测干湿度、农药残留，不符合标准的一律不收。”图 5 示意洋县地理位置。

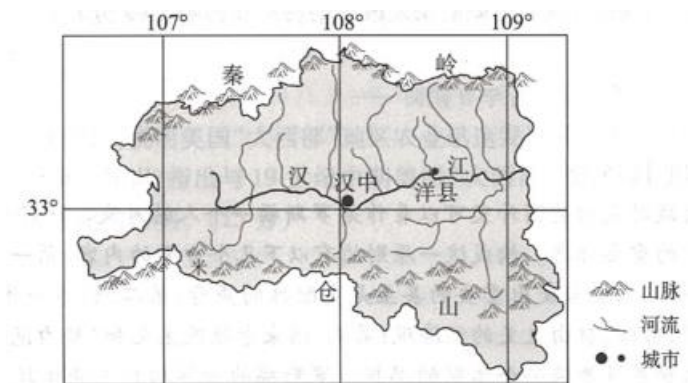
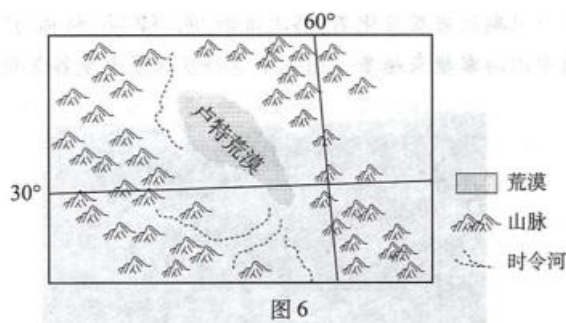


图 5

- (1)说明洋县发展黑米种植业的有利自然条件。(6 分)
- (2)分析当地政府将黑米水稻种植确定为脱贫产业之首的主要原因。
- (3)说出当地政府为将黑米产业做大做强所采取的措施。(6 分)
- (4)从黑米种植与环境保护协调发展的角度，分析洋县黑米产业今后的发展方向。(6 分)

37. 阅读图文材料，完成下列要求。(22分)

卢特荒漠位于伊朗东南部，地表被黑色火山熔岩覆盖，四周被伊朗高原和山地环绕。卢特荒漠是地球上地表温度最高的地方，来自四周山地的地表径流流经这里时，会被沙漠所吞噬。卢特荒漠东南部被大量高耸的沙丘覆盖，中心地带以风蚀地貌为主。图6示意卢特荒漠地理位置。



- (1) 卢特荒漠为一内陆封闭盆地，推测其形成原因。(4分)
- (2) 说明卢特荒漠地表温度高的原因。(6分)
- (3) 分析来自四周山地的地表径流会被沙漠吞噬的原因。(4分)
- (4) 根据地表形态的分布特点，说出卢特荒漠的主要外力作用及其空间差异。(8分)

38. 阅读材料，完成下列要求。(14分)

近年来，我国成为全球展览业最活跃的国家，展览业市场规模连续多年居世界第一。会展是连接世界的桥梁、创新发展的引擎，被誉为“触摸世界的窗口”和“产业发展的加速器”，可以形成跨产业、跨区域的信息流、资金流、物流和人流。会展经济收入具有1:9的产业带动效应，即若某一次会展的直接收入为1，则对餐饮、交通、旅游等相关产业的带动收入为9。会展是一座城市的“名片”，国际会展名城的发展历程表明，重大会展和赛事的主办权就是发展权。近年来，成都市政府大力发展国际会展业，加大基础设施建设，形成以“一站式、专业化、人性化”为内涵，以“服务企业、服务产业、服务城市”为外延的成都会展服务模式。同时，逐步推进绿色会展改革，制定《成都绿色会展标准》并出台激励措施。2019年该市成功举办第十四届中国—东盟投资贸易科技合作洽谈会、泛美开发银行理事会年会、国际生态环境保护博览会等国际重大会展，参展参会总人数突破1.85亿人次，并在这一过程中积极吸引外部投资，形成了

“会展+产业+功能区+投资促进”的大会展格局。2020年成都举办重大会展活动将达1000场，展出面积1100万平方米，会展业(含大型会议)总收入将达1530亿元。随着“一带一路”的深入推进，西部城市崛起不可阻挡，成都市日益成为继北上广后全国会展经济的新重镇，成为名符其实的中国会展经济“第四极”。

结合材料，运用所学的经济生活知识，分析促进成都市会展经济快速发展的因素有哪些。(14分)

39. 阅读材料，完成下列要求。(12分)

2019年8月，中央全面依法治国委员会印发了《关于加强综合治理从源头切实解决执行难问题的意见》(以下简称《意见》)。

该《意见》要求，加强和改进人民法院执行工作，推进执行信息化建设，提升执行规范化水平，加大执行公开力度，规范无财产可供执行案件的结案程序。加大强制执行力度，加大对抗拒执行、阻碍执行、暴力抗法行为的惩治力度。创新和拓展执行措施，完善执行工作机制，强化执行难源头治理制度建设，建立覆盖社会的信用交易、出资置产、缴费纳税、违法犯罪等方面信息的信用体系。

《意见》还强调，要推动建立党委领导、政法委协调、人大监督、政府支持、法院主办、部门联动、社会参与的综合治理执行难工作大格局，健全执行工作部门协作联动机制，加强执行队伍建设。加强典论宣传工作，彰显法治权威，形成全社会理解、支持、参与的浓厚氛围。

结合材料，运用所学政治生活知识，说明中央全面依法治国委员会解决执行难问题的意义。(12分)

40. 阅读材料，完成下列要求。(26分)

2019年11月10日，在对希腊进行访问之际，习近平主席在希腊报纸发表《让古老文明的智慧照鉴未来》一文。文章指出：伟大的古老文明都是相似的。2000多年前，古代中国、古代希腊的文明之光就在亚欧大陆两端交相辉映。古希腊哲学和文学泰斗辈出的黄金时代，恰恰也是中国“百家争鸣”的思想迸发期。曾两次访问中国的希腊文学巨匠卡赞扎基斯有一句名言，“苏格拉底和孔子是人类的两张面具，面具之下是同一张

人类理性的面孔”。古希腊“智者学派”萌发的人本主义思想同中国儒家坚持的“以民为本”理念有异曲同工之妙。伟大的古老文明都是相知的。公元前4世纪，古希腊人给遥远的中国起了一个美丽的名字“丝之国”。16世纪欧几里德的《几何原本》传入中国，成为中西科学交流的先导。古希腊戏剧家埃斯库罗斯塑造的普罗米修斯形象曾经激发中国革命志士仁人的昂扬斗志。柏拉图的《理想国》、亚里士多德的《政治学》也早就传入了中国。伟大的古老文明更是相亲的。希腊中国友好协会60年如一日坚持“为两国人民的友好交往工作到老”，中国翻译家罗念生一家三代致力于希腊文学、戏剧的翻译和研究，为增进两国人民友谊作出了重要贡献。当前，国际形势正在发生深刻复杂变化，不稳定性不确定性增多。中希两国会继续挖掘古老文明的深邃智慧，展现文明古国的历史担当，共同推动构建相互尊重、公平正义、合作共赢的新型国际关系，共同推动构建人类命运共同体。

(1)中希两国文化的发展历程生动诠释了“伟大的古老文明都是相似的、都是相知的，更是相亲的”的观点，运用文化生活的知识对此加以说明。(10分)

(2)结合材料，运用矛盾基本属性的知识，分析中希两国应该如何挖掘古老文明的深邃智慧，展现文明古国的历史担当，推动世界文明的发展。(10分)

(3)为了传播中国文化，世界各地的孔子学院纷纷开设富有中国特色的课程，请你参考下面的示例为孔子学院设计三门课程及相关活动。(6分)

#### 【参考示例】

课程名称：中国书法；课程内容：介绍中国书法的历史演变和博大精深的内蕴。组织学生临摹书法字帖活动。

41.阅读材料，完成下列要求。(25分)

材料一 19世纪的“西进运动”将芝加哥周边的“大西部”开垦为田地。雨量充沛时，这块处女地的作物产量惊人。但要丰收的物产运到东海岸或海外的城市消费者手上，要靠铁路网和运河将位于大湖区、密西西比河流域和更西边地区的零散农田连接起来，这问题才解决……麦考密克将他所发明的收割机引进芝加哥，并在1847年在该地开设工厂。他的公司进一步改良该收割机，谷物产量跟着收割机销量一起提高……于是，美国的家庭农场花钱购买这省力机器降低生产成本，为美国东部和欧洲的饥饿人口提供便宜的粮食。

——摘编自[美]彭慕兰等《贸易打造的世界》

材料二中国东北地区由于大豆及其大豆制品在国际市场上走俏，大豆种植面积急剧扩大，1910年大豆种植面积占耕地面积的20%。1927-1929年，南部大豆种植面积占农作物播种总面积的23.2%，北部占34.5%。中东铁路沿线西起萨尔特，东至牡丹江，南至宽城子，北达松花江支流旺河，几乎遍地都是大豆，已经很少见到高粱。东北传统农作物供自己食用的主粮高粱和玉蜀黍，种植面积从1910年占总种植面积的60%减少到1930年的45%。

——摘编自李占才《铁路对近代中国农业经济的影响》

- (1)根据材料一并结合所学知识，说明美国“大西部”地区农业迅速发展的原因。(10分)  
(2)根据材料一、二并结合所学知识，指出与19世纪中期美国“大西部”相比，20世纪前期我国东北农业的特点，并简析东北农业变化的影响。(巧分)

42. 阅读材料，完成下列要求。(12分)

材料宋代主要的哲学思想是理学。它是以儒家思想为基础，吸收佛教和道教思想形成的新儒学。南宋朱熹是理学发展的集大成者，认为人欲是一切罪恶的根源，提出“存天理，灭人欲”。明朝时期，王阳明更是继承宋代思想遗风，将客观唯心主义的理学发展为主观唯心主义的心学。明后期“异端”进步思想家李贽指责儒家经典并非“万世之至论”，否定孔子是天生圣人，反对“咸以孔子之是非为是非”。清初的黄宗羲、顾炎武、王夫之也从不同角度批判了理学；龚自珍、林则徐等封建士大夫中的有识之士提倡“经世致用”，引导人们挣脱“程朱理学”的枷锁。新文化运动时期，陈独秀等人直接打出民主和科学的旗帜，提出了“打倒孔家店”的口号，把斗争矛头指向儒家传统道德，否定并动摇了封建思想的统治地位。

——摘编自张召宁、吕耀鹏《儒家思想的变迁及其认识》

从材料中提出一个论题，结合所学知识，加以论述。(要求：论题明确，持论有据，表述清晰。)

请考生在第43、44两道地理题中任选一题作答，并用2B铅笔将答题卡上所选题目对应的题号右侧方框涂黑，按所涂题号进行评分；多涂、多答，按所涂的首题进行评分；不涂，按本选考题的首题进行评分。

43【旅游地理】(10分)

科罗拉多大峡谷位于美国亚利桑那州西北部 分布着从寒武纪到新生代各个时期的岩层及化石，科罗拉多河穿流其中。大峡谷山石多为红色，从谷底到顶部，层次清晰，色调各异，被称为“活的地质史教科书”。近年来， 前来科罗拉多大峡谷旅游的中国游客越来越多。图 7 示意科罗拉多大峡谷景观。



图 7

说明近年来前往科罗拉多大峡谷的中国游客越来越多的原因。

#### 44. 【环境保护】 (10 分)

农村空心化是指由于建新拆旧衔接不当，越来越多的农民进城落户，家庭成员消亡无人继承等原因，农村长期无人居住、无人管理、年久失修的房屋日渐增多，农村空间形态上呈现空心分布的现象。

分析农村空心化对乡村环境和村民生活的不利影响。

请考生在第 45、 46,47 三道历史题中任选一题作答，并用 2B 铅笔将答题卡上所选题目对应的题号右侧方框涂黑，按所涂题号进行评分；多涂、多答，按所涂的首题进行评分；不涂，按本选考题的首题进行评分。

#### 45. 【历史上重大改革回眸】 (15 分)

材料庚子事变后，清政府不得不提出“新政”借以缓和各阶层的矛盾。在书院教育的改革上，清政府发布上谕：著各省所有书院，于省城均改为大学堂，各府及直隶州均改为中字堂，各州县均改设为小学堂，并多设蒙养学堂。教法规定以四书五经、纲常大义为主，以历代史鉴及中外政治艺学为辅。书院改学堂在全国各地掀起了一股教育改革热潮。经过两年多的改革，在 1904 年即《奏定学堂章程》颁布前后，书院改学堂就全国范围而言，已经普遍完成。

——摘编自马丽《晚清民间教育改革的原因措施及其影响》

(1)根据材料并结合所学知识，分析清政府进行书院改革的原因。(6分)

(2)根据材料并结合所学知识，说明清政府书院改革的特点和影响。(9分)

46. 【20 世纪的战争与和平】(15 分)

材料第二次世界大战时期的美国外交可以看作是罗斯福一个人的外交。1941 年是罗斯福外交思想中开放原则形成和系统化的重要标志。构成这一原则的有以下几个方面的内容：第一，使命观念：他坚信美国拥有世界性的使命，在世界上应当发出重要的甚至是支配性的声音；第二，世界一体、互相依存的思想；第三，自由主义和民主思想；第四，自由主义的经济观；第五，结束老殖民主义和“势力范围”、构建开放型殖民新体系的设想；第六，建立世界性普遍安全体制的思想。罗斯福的世界构想充分体现了他的世界主义世界观和开放型的思想模式。他的外交思想和外交筹划是建立在国际合作的基础之上的，国际合作是他的出发点，也是他实现“美国世纪”建立美国领导下的世界和平的主要途径。

——摘编自王玮《富兰克林·罗斯福外交中的开放原则》

(1)根据材料并结合所学知识，指出罗斯福外交原则形成的主要因素。(6分)

(2)根据材料并结合所学知识，分析罗斯福外交原则形成的历史影响。(9分)

47. 【中外历史人物评说】(15 分)

材料刘晏(715-780 年)，今山东东明县人。刘晏于唐代宗宝应元年升任户部侍郎兼度支、铸钱、盐铁等使，每天天一亮就开始办公，到半夜才休息，公事不论紧急与否，刘晏都是当天处理完，所住的修行里十分朴素简陋，伙食俭朴，家中没有小妾和婢女；刘晏制订了周密的治漕方案，亲临现场指挥，还在扬子县建立船厂制造粮船，又训练兵士任船工，改变了运输劳役一直给百姓带来的苦难。经过整顿后运河每年运粮四十万斛，从此关中即使遭遇旱涝灾害，物价也不上涨了。针对当时盐政出现的弊病，刘晏采取了精简盐务机构，改官收、官运、官销为官收、商运、商销，设立平盐仓等措施，使国家的盐利收入大为增加，百姓也能买到价格平稳的食盐。在外的农民，纷纷回到故土。国家人



口由广德二年的 230 万户，增加到大历十四年的 380 万户。刘晏一直为人们所称道，他确立的漕运制度和许多理财原则一直被后人沿袭着。

——摘编自沈起炜《中国历代 100 名人传》等

(1) 根据材料并结合所学知识，概括刘晏的主要贡献。(8 分)

(2) 根据材料并结合所学知识，说明刘晏为人们所称道的主要原因。(7 分)

自主招生在线创始于 2014 年，致力于提供自主招生、综合评价、三位一体、学科竞赛、新高考生涯规划等政策资讯的服务平台。总部坐落于北京，旗下拥有网站

(www.zizzs.com) 和微信公众平台等媒体矩阵，用户群体涵盖全国 90% 以上的重点中学师生及家长，在全国自主招生、综合评价领域首屈一指。

如需第一时间获取相关资讯及备考指南，请关注**自主选拔在线**官方微信号：**zizzsw**。



识别二维码，快速关注

福利：

- 1、关注后回复“答题模板”，即可获得高中 9 科答题模板资料
- 2、回复“清北华五”，即可获得清北华东五校特殊选拔考试模式及真题