

绝密★启用前

河北衡水中学 2021 届全国高三第二次联合考试(I)

文 综

本试卷 16 页。总分 300 分。考试时间 150 分钟。

注意事项:

1. 答卷前,考生务必将自己的姓名、准考证号填写在答题卡上。
2. 回答选择题时,选出每小题答案后,用铅笔把答题卡上对应题目的答案标号涂黑。如需改动,用橡皮擦干净后,再选涂其他答案标号。回答非选择题时,将答案写在答题卡上。写在本试卷上无效。
3. 考试结束后,将本试卷和答题卡一并交回。

一、选择题:本题共 35 小题,每小题 4 分,共 140 分。在每小题给出的四个选项中,只有一项是符合题目要求的。

陕西宝鸡与四川广元之间的 6063/6064 次列车,单程运行 350 千米,停靠 38 个站点,用时近 24 个小时,运行最高时速 70 千米左右,被外界称之为“秦岭小慢车”。几十年前,6063/6064 次列车是那个时代的交通主角,常常一票难求;随着西成高铁的开通,小慢车长途客源断崖式减少。近年来,短途乘客也越来越少,小慢车逐渐成了沿线居民的“校车”和“农贸车”,但有些时日,小慢车当地居民短途乘容量会显著增多。据此完成 1~2 题。

1. 近年来,小慢车短途客流量越来越少的最可能原因是
 - A. 高铁成为人们主要出行方式
 - B. 拥有私家车的家庭越来越多
 - C. 城市公交延伸到秦岭山区
 - D. 居民短途出行步行越来越多
2. 推测小慢车当地居民短途乘容量显著增加多在
 - A. 酷热天气
 - B. 严寒天气
 - C. 雨雪天气
 - D. 晴好天气

科研人员对我国青海湖及附近区域近地面风场做了对比分析。图 1 为秋季正午前后近地面平均水平风场,图 2 为秋季午夜近地面平均水平风场。据此完成 3~5 题。

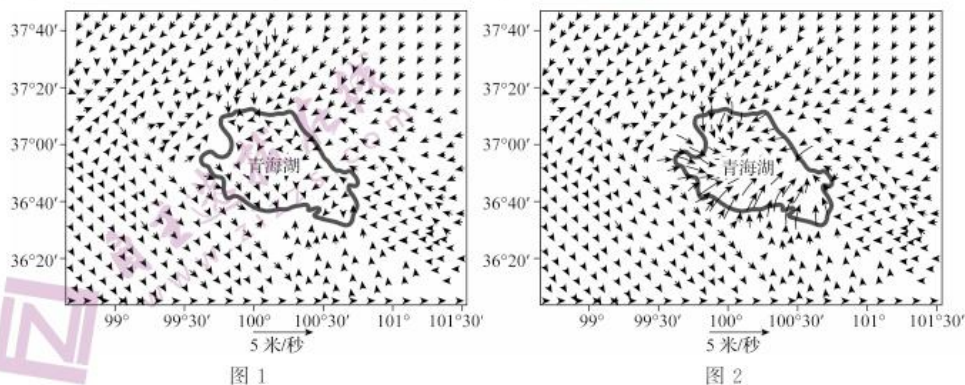


图 1

图 2



3. 秋季,青海湖区近地面风场
- A. 白天湖风显著
B. 夜晚陆风显著
C. 全天湖风显著
D. 全天陆风显著
4. 受湖陆风环流的影响,青海湖区秋季天气
- A. 白天多晴朗大风天气
B. 夜间大多阴雨频频
C. 降雨白天多于夜间
D. 降雨夜间多于白天
5. 导致青海湖区秋季白天湖泊效应微弱的原因可能是
- A. 湖泊比热容大,秋季降温慢
B. 陆地比热容小,白天升温快
C. 湖泊比热容大,秋季升温慢
D. 陆地比热容小,白天降温快

哈尔滨市地处东北平原的松花江畔,是我国老工业城市,原有工业区主要集中在城市核心区域附近,随着振兴东北战略的实施,工业空间布局不断发生变化。以城市核心区域为中心,以千米为单位,将哈尔滨市划分为 25 个圈层。图 3 示意不同时间哈尔滨市各圈层工业空间面积变化。从 16 个方位划分为 16 个扇形区,图 4 示意不同时间哈尔滨市各扇形区工业空间方位变化。据此完成 6~8 题。

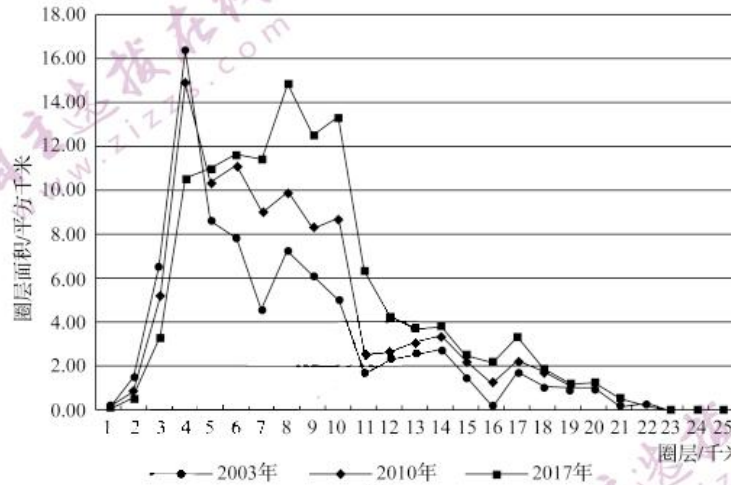


图 3

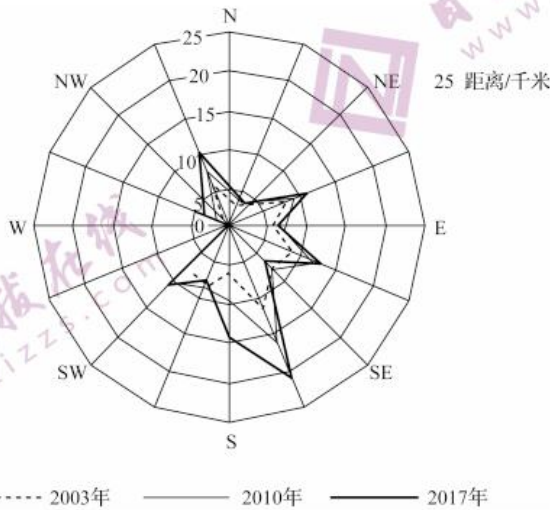


图 4

6. 哈尔滨市西部对工业空间扩展的限制因素最可能是
A. 河流 B. 铁路 C. 山脉 D. 公路
7. 2003—2017年,哈尔滨市工业空间扩展
A. 16个扇形区都有发生 B. 城市中心部位全部外迁
C. 东南和西北方向显著 D. 西南和东北方向最快
8. 哈尔滨市工业空间
A. 呈扩散状态 B. 呈集聚状态 C. 扩散中集聚 D. 向远郊迁移

当山体达到一定高度时出现的森林分布上限称为高山林线。图5为我国局部区域高山林线海拔等值线分布图(单位:米)。据此完成9~11题。

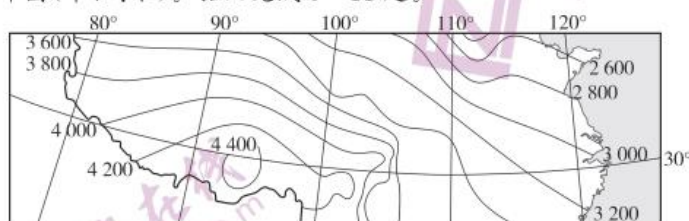


图5

9. 图示区域,林线南北方向变化的主导因素是
A. 热量 B. 水分 C. 光照 D. 高度
10. 青藏高原比同纬度的东部地区林线高的主要原因是
A. 海陆位置不同 B. 下垫面差异
C. 人类活动差异 D. 土壤性状不同
11. 推测图中最高林线的形成得益于
A. 向阳坡光照充足 B. 暖湿空气势力强
C. 迎风坡降水量大 D. 背阴坡蒸发量小
12. 从“吃好了吗”“穿好了吗”再到“睡好了吗”,人们对睡眠质量的关注,正在助推睡眠市场规模急剧扩张。2019年某电商平台相关数据显示:使用便捷的助眠喷雾成交额同比增长33倍,香薰类商品成交额同比增长超过50%,传统眼罩类商品的成交额增速也在33%以上。2020年我国睡眠市场的产业规模达到4000多亿元。这说明
①随着生活水平的提高,健康消费越来越受到人们的关注
②助眠类商品生产企业的生产效率不断提高
③传统助眠类商品已经不能满足人们改善睡眠质量的需求
④人们消费需求升级是助推睡眠消费市场加速发展的重要动因
A. ①② B. ①④ C. ②③ D. ③④
13. 2020年9月9日,工业和信息化部、国家开发银行在国家开发银行制造业专项贷款支持工业通信业重大项目工作动员会上,联合发布了由制造业专项贷款支持的第一批105个重大项目,总投资近7100亿元,融资需求约3000亿元。制造业专项贷款发挥作用的传导路径是
①推动重大项目建设,推动制造业高质量发展
②升级传统制造业,加快新兴产业培育
③推动产融合作、银企对接,扩大制造业有效投资
④增强金融服务实体经济的能力
A. ②→①→③→④ B. ②→①→④→③
C. ④→③→②→① D. ④→②→③→①



14. 数字人民币是由中国人民银行发行的数字形式的法定货币,具有价值特征和法偿性。数字人民币不需要绑定任何银行账户,不计付利息,可直接用于小额、零售、高频的业务场景,而且用数字人民币支付时不需要网络,手机有电“一碰”就行。由此可见
- ①数字人民币在交易流通环节使用便捷
 - ②交易时拒绝接收数字人民币是违法行为
 - ③不绑定任何银行账户会增加数字人民币的风险性
 - ④数字人民币不计付利息方式会影响央行的经济效益
- A. ①② B. ①④ C. ②③ D. ③④
- 互联网的发展帮助更多人拥抱色彩缤纷的世界,助力美好生活。据此完成 15~16 题。
15. 在我国“十三五”规划中,制定了固定宽带家庭普及率和移动宽带用户普及率达到 70% 和 85% 的目标。随着网络基础设施建设不断完善,技术创新和服务持续改进,各类市场主体各显其能、竞相发展,“十三五”时期的互联网普及率目标早已提前超额完成。互联网普及率目标的实现得益于
- ①家庭生活消费方式的改变
 - ②科技创新和基础设施建设水平的提高
 - ③市场主体之间的良性竞争
 - ④国家规划在互联网资源配置中的决定作用
- A. ①② B. ①④ C. ②③ D. ③④
16. 2020 年 11 月 23 日,习近平在致世界互联网大会·互联网发展论坛的贺信中指出:中国愿同世界各国一道,把握信息革命历史机遇,培育创新发展新动能,开创数字合作新局面,打造网络安全新格局,构建网络空间命运共同体,携手创造人类更加美好的未来。下列观点与推动构建网络空间命运共同体主旨相一致的有
- ①携手维护全球公共卫生安全
 - ②各国以维护本国国家利益为对外活动的出发点
 - ③人类同心协力共建万物和谐的美丽世界
 - ④提高公民科学素质是世界各国提升综合国力的战略共识
- A. ①③ B. ①④ C. ②③ D. ②④
17. 2019 年,国务院科技部共承办了全国人大代表建议 408 件、全国政协委员提案 441 件,按期办结率和答复满意率都达到 100%。国务院科技部把办理代表委员建议提案的过程转化为推动科技创新工作的实际行动,这些建议提案越来越多地转化成为政府部门的决策和推动科技工作的重要措施。这表明
- ①政府审慎行使权力,提高决策的科学性、民主性
 - ②国务院科技部执行全国人大和全国政协的决定
 - ③人大代表和政协委员有行使管理社会事务的权力
 - ④办好代表委员建议提案有利于政府更好地履行职能
- A. ①② B. ①④ C. ②③ D. ③④

18. 2020年10月17日,国家主席习近平签署主席令(第五十九号):《全国人民代表大会常务委员会关于修改〈中华人民共和国国旗法〉的决定》已由中华人民共和国第十三届全国人民代表大会常务委员会第二十二次会议于2020年10月17日通过,现予公布,自2021年1月1日起施行。这表明
- ①全国人大常委会是我国最高立法机关
 - ②国家主席具有公布法律的权力
 - ③国家主席领导全国人大常委会的工作
 - ④我国国家机关实行民主集中制原则
- A. ①② B. ①③ C. ②④ D. ③④
19. 40多年前,从蛇口开山炮声开始,改革开放的基因融入了深圳经济特区从无到有、从大到强的全过程。深圳凭借“敢为天下先”的勇气,从一个边陲小镇发展成一座充满魅力、动力、活力、创新力的现代化大都市,同时也形成了以多元、包容、开放和创新为主的城市文化。“敢闯敢试、敢为人先、埋头苦干”的特区精神,是经济特区的独有气质,也是成就深圳奇迹的重要密码。材料体现了
- ①特区精神是中华文化源远流长的重要见证
 - ②精神的磅礴伟力是深圳创造力的重要源泉
 - ③文化作为一种精神力量,总是带有时代的烙印
 - ④独特气质新文化的形成离不开不同文化的交流、借鉴与融合
- A. ①② B. ①③ C. ②④ D. ③④
20. 在周口店“北京人”遗址发掘100周年之际,中法合拍纪录片《北京人:人类最后的秘密》。影片利用中法两国最新的科研成果和科技手段重现亚洲直立人——“北京人”的史前故事,把学者们的研究成果通过视频呈现,利用互联网在疫情下搭起一座中法文化交流的新桥梁。这说明
- ①交流互鉴有利于推动中华优秀传统文化的传承
 - ②科技进步是促进文化传播和发展的重要因素
 - ③远古文明只有通过国际交流才得以重现
 - ④中法两国文化交流能够增进彼此文化认同
- A. ①② B. ①③ C. ②④ D. ③④
21. 植物如何抵抗病毒?中国科技大学科研团队的最新研究成果表明:以茎尖脱毒技术为灵感来源,找到了植物干细胞免疫病毒的关键因子—WUSCHEL(WUS)蛋白,并揭示了植物干细胞的广谱抗病毒机制。同时,他们计划将该成果应用到育种中,基于蛋白质人工进化技术,筛选高抗病蛋白,并利用生物技术转入多种作物中,以得到广谱高抗病的作物新品种。由此可见
- ①灵感是揭示植物干细胞的广谱抗病毒机制的关键
 - ②在主客观条件相互作用下形成了新的人为事物的联系
 - ③善于突破事物固有的必然的联系,把握其本质联系
 - ④科研工作者是社会财富创造的重要主体
- A. ①② B. ①③ C. ②④ D. ③④



22. 在当前形势下,我们必须集中力量办好自己的事,充分发挥国内超大规模市场优势,逐步形成以国内大循环为主体、国内国际双循环相互促进的新发展格局。以国内大循环为主体,绝不是关起门来封闭运行,而是通过发挥内需潜力,使国内市场和国际市场更好联通,实现更加强劲可持续的发展。从哲学方法论来看,这强调

- ①从实际出发,发挥国内市场的规模优势
- ②发挥主观能动性是集中力量办大事的前提
- ③用发展的观点看问题,立足国外市场来激发内需潜力
- ④坚持两点论与重点论的统一,促进国内国际循环相互贯通

A. ①② B. ①④ C. ②③ D. ③④

23. 弘扬宪法精神,推进全面依法治国,要更好地发挥法治在国家治理和社会管理中的重要作用。依法公正对待人民群众的诉求,努力让人民群众在每一个司法案件中都能感受到公平正义,才能让广大人民群众充分相信法律、自觉运用法律。材料体现的哲理有

- ①生产关系反作用于生产力
- ②上层建筑对经济基础具有反作用
- ③正确的价值判断以正确的价值选择为前提
- ④坚持以人民为中心的价值导向

A. ①③ B. ①④ C. ②③ D. ②④

24. 鲁僖公二十七年(公元前 633 年),杞国国君杞桓公朝鲁,《春秋》记载这件事为“杞子来朝”。杞桓公为夏氏之后,按其封爵应称侯,因其“用夷礼”,故被称为“杞子”。这个记载表明当时

- A. 杞国国君并非华夏族后裔
- B. 文化认同影响政治认同
- C. 华夷有别的观念尚未形成
- D. 宗法秩序得到显著强化

25. 图 6 所示为公元前 156 年西汉政府颁行的授田律文(部分)。据此我们可以推断当时

<p>关内侯九十五顷,大庶长九十顷,驷车庶长八十八顷,大上造八十六顷……大夫五顷,不更四顷,簪袅三顷,上造二顷,公士一顷半,公卒、士五(伍)、庶人各一顷,司寇、隐官(二者为犯有轻罪的官员)各五十亩。不幸死者,令其后先择田,乃行其余。</p>
--

图 6

- A. 土地兼并较为严重
- B. 土地私有制尚未确立
- C. 军功爵制已经废除
- D. 政府控制了大量土地

26. 宋仁宗时蔡襄曾说:“今世用人,大率以文词进;大臣,文士也……边防大帅,文士也。”甚至有人认为“状元登第,虽将兵数十万,恢复幽蓟……凯歌劳还,献捷太庙,其荣亦不可及也”。这表明当时

- A. 文武官员皆通过科举入仕
- B. 政府无意收复北方边土
- C. 统治者推行重文抑武政策
- D. 中央集权制度遭到破坏



27. 清代小说《红楼梦》中描述的“粥”多种多样,既有民间常见的腊八粥,也有贡米熬制的达官显贵才能享用的碧梗粥,还有滋补的燕窝粥、益气的“鸭肉粥”、养心的“枣粥”,以御田胭脂米为原料的补血的红稻米粥等,这些粥多半要经过烦琐工序熬制而成。《红楼梦》对“粥”的描述体现出
- A. 贵族日常生活奢靡
B. 传统农耕经济进步
C. 等级差别日益明显
D. 百姓饮食丰富多彩
28. 1897年,张謇在奏折中指出:“凡有国家者,立国之本……在乎工与农,而农为尤要。盖农不生则工无所作,工不作则商无所鬻,相因之势,理有固然。”这表明张謇重视农业的目的是
- A. 推进向西方学习进程
B. 解决农民的生计问题
C. 保证国家的赋税收入
D. 促进民族工商业发展
29. 1917年至1921年间,俄国“十月革命”在中国知识界从以单纯“暴力政变”形象出现,迅速转型为代表“社会革命”新方向、昭示中国未来出路的重大事件。这一转变
- A. 改变了中国革命的性质
B. 顺应了救亡图存的时代要求
C. 改善了中国的外交环境
D. 推动了民主科学思想的传播
30. 1937年12月,中国共产党在武汉创刊并公开发行了理论周刊《群众》。当时周刊的文章常常以“蒋委员长”“抗战最高领袖蒋委员长”“最高统帅”等指称蒋介石。这反映出中国共产党
- A. 力主促成抗日民族统一战线
B. 坚持以斗争求团结的策略
C. 全面接受了国民政府的领导
D. 具有团结抗战的鲜明态度
31. 家庭联产承包责任制是20世纪80年代初期在中国农村推行的一项重要改革,主要采用“包产到户”或“包干到户”的形式。这一制度的实施
- A. 突破了人民公社体制的桎梏
B. 开创了中国经济新模式
C. 标志着农民摆脱了土地束缚
D. 提高了农业规模化经营效益
32. 雅典民主时代,城邦各级官职向一切公民开放,并都以抽签的方式产生。抽签依据职位轻重而略有区别。执政官这类最高官职尚须各选区按比例提出一定数量的候选人,然后再从候选人中抽签决定,其他各级官职和五百人会议成员则在各选区合格公民中直接抽签产生。抽签选举是
- A. 公民享有充分自由的写照
B. 古代城邦国家的必然选择
C. 防止公权滥用的有效尝试
D. 保障公民平等参政的手段
33. “光荣革命”后,针对高级官员的不法行为,英国逐步形成了由下院提出弹劾案、上院审判弹劾案的弹劾制度。1864年起,英国议会废弃这种监督方式,代之以下院发起的对内阁的不信任投票程序,其目的是促使内阁辞职。这种监督机制的转变表明英国
- A. 君主立宪制仍未最终确立
B. 民主运行机制有所完善
C. 政治传统得到了部分恢复
D. 政府完全听命于下议院

34. 图 7 为 1914 年美国境内外国长期投资的产业布局示意图(单位:百万美元)。

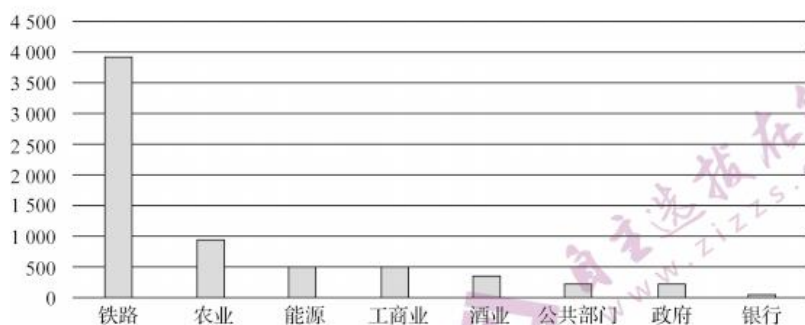


图 7

据此可知当时

- A. 外国资本控制了美国铁路行业 B. 美国因市场成熟而成为世界投资中心
C. 外国投资渗透到美国社会生活 D. 美国金融发展落后难以吸引外国投资

35. 1945 年 12 月,让·莫奈向戴高乐总统提交了他的《工业设施现代化计划》,随后法国成立了“计划总署”。到 1947 年 1 月,法国内阁毫无争议地批准了“计划总署”的第一份国家计划。法国设立“计划总署”的目的是

- A. 建立法国计划经济体制 B. 推动法国工业化尽快起步
C. 运用宏观调控恢复经济 D. 加速欧洲国家一体化进程

二、非选择题:共 160 分。第 36~42 题为必考题,每个试题考生都必须作答。第 43~47 题为选考题,考生根据要求作答。

(一)必考题:共 135 分。

36. 阅读图文材料,完成下列要求。(22 分)

果园套种三叶草是常见的果园经营管理方式。三叶草是一种牧草或绿肥兼用的草本植物,侵占性强,其间难生杂草,根多纤细、横生,其固氮根瘤菌能吸收空气中的氮素,转化为植物可利用的形态,腐烂后有代替人工深耕的效果;茎纤细、平卧或匍匐,高度一般不超过 30 厘米;耐寒、耐旱、耐阴、耐践踏,大多地区冬季能保持生长。图 8 为果园套种三叶草景观。



图 8



- (1)根据材料,分析果园套种的草类最宜具有的特征。(10分)
- (2)简述在我国西北地区果园套种三叶草对春夏季节果园小气候的有利影响。(6分)
- (3)说明果园套种的三叶草难以大规模作为畜牧饲料使用的原因。(6分)

37. 阅读图文材料,完成下列要求。(24分)

甘肃省永靖县境内黑方台为黄土台塬,四周受沟谷切割,形成典型的黄土孤島型地貌。其下基岩为泥岩、砂岩;基岩上覆分选较好、磨圆度高的卵石层,卵石层上为静水环境下形成的黏土层,黏土层上覆风积黄土。图9为黑方台地层对比图,图10为黑方台黏土层分布厚度示意图(单位:米)。

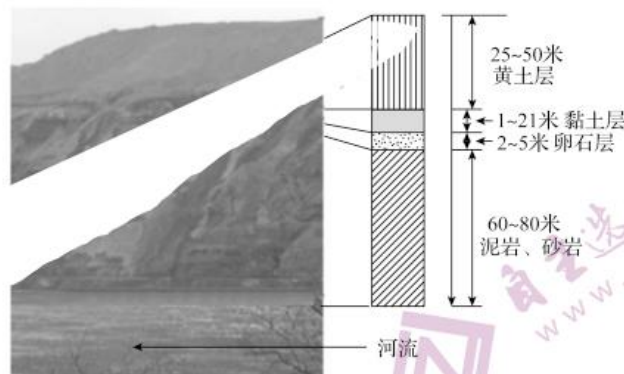


图9

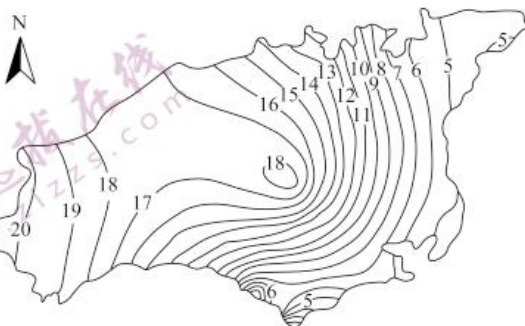


图10

- (1)指出该地区基岩以上沉积层的大约厚度范围,并说明判断依据。(6分)
- (2)推测基岩以上地层沉积环境的演变。(6分)
- (3)该区域黏土层沉积厚度主要受地形的影响,说明黏土层形成时下垫面的地形特征。(6分)
- (4)分析图9所示区域易发滑坡的自然原因。(6分)

38. 阅读材料,完成下列要求。(14分)

材料一

我国数字经济总体规模及数字经济占 GDP 比重



图 11

注:2019年,我国各地区数字经济发展水平基本延续了前几年的发展态势,从数字经济GDP占比来看,北京、上海超过50%,广东、浙江、江苏、福建等也超过40%,河北、辽宁、广西、四川等超过30%。

材料二

近年来,我国线上零售、线上教育、视频会议、远程办公等新业态、新模式不断涌现,推动着大数据、人工智能、物联网、区块链等技术创新与产业化应用。《中华人民共和国网络安全法》《中华人民共和国电子商务法》等一系列法律相继出台,为政府数字化治理提供了法律依据,“互



“互联网+监管”逐渐成为加强和创新事中事后监管的有效手段。海量数据采集处理、确权交易、价值显性,将沿着数据资源化、资产化、资本化三个阶段加速推进。2019年,我国产业数字化增加值约为28.8万亿元,占GDP比重为29.0%。其中,服务业、工业、农业数字经济渗透率分别为37.8%、19.5%和8.2%。(数据来源:中国信息通信研究院)

(1)解读材料一包含的经济信息。(4分)

(2)结合材料二,运用经济生活知识,说明发展数字经济对推动我国经济高质量发展的意义。(10分)

39. 阅读材料,完成下列要求。(12分)

读懂脱贫攻坚中的共产党员,就能读懂中国反贫困斗争不断取得胜利的秘密。面对党中央的要求、人民的呼唤,一批批共产党员挺身而出、奔赴战场。

某村原党支部书记背着炸药上山修路,他不顾个人安危,组织村里部分青年成立先锋队,带头背炸药,用钢钎凿洞、雷管炸山,硬是建成了第一条通村公路;走出过大山的老党员,退伍后创业小有所成,却放弃了自己蒸蒸日上的木材生意,回到家乡挑起村委会主任的重担,帮乡亲们一起脱贫致富;某村第一书记在村里一片烂草滩上新建成的牡丹休闲苑里忙碌着,期望通过乡村旅游为村民进一步增加就业和收入……

无数共产党员以敦教日月换新天的豪迈斗志,栉风沐雨、披荆斩棘,克服难以想象的种种困难、跨越难以尽数的重重关卡,带领贫困群众走上美好新生活的康庄大道。

结合材料,运用政治生活知识,说明共产党员在中国反贫困斗争中发挥的作用



40. 阅读材料,完成下列要求。(26分)

中华民族具有坚韧不拔、顽强拼搏的精神品格。2020年以来,面对来势汹汹的新冠肺炎疫情,以习近平同志为核心的党中央带领全国人民经过艰苦卓绝的努力,疫情防控取得重大战略成果。

14亿多中国人民在中国共产党的带领下,团结起来共同行动。从医务工作者到社区工作者,从公安民警到基层干部,从快递小哥到志愿者,都自觉投入疫情防控中。全体中国人民拧成一股绳,守望相助、共克时艰,构筑起一道道抗击疫情的防线,打通一条条拯救生命的通道。在未知大于已知的新冠病毒面前,无数科研人员坚守岗位、争分夺秒,开展紧急科研攻关,在很短时间就取得了重大进展,为疫情防控提供了有力科技支撑。这些都是对以爱国主义为核心的民族精神和以改革创新为核心的时代精神的生动诠释。

2020年9月8日,习近平总书记在全国抗击新冠肺炎疫情表彰大会上的讲话中指出,中国人民和中华民族以敢于斗争、敢于胜利的大无畏气概,铸就了生命至上、举国同心、舍生忘死、尊重科学、命运与共的伟大抗疫精神。这段论述充分肯定了抗疫取得的重大战略成果,也生动概括出了伟大抗疫精神的内涵和要义。

(1)抗击疫情的斗争再一次淬炼了中国精神。运用实践是认识的基础的知识对此加以说明。(12分)

(2)结合材料,运用中华文化和民族精神的知识,说明大力弘扬伟大抗疫精神的时代价值。(10分)

(3)班级召开“弘扬抗疫精神”主题班会,请就如何弘扬抗疫精神列出两条发言要点。(4分)

41. 阅读材料,完成下列要求。(25分)

材料一

到了明朝,学校对学生的品性要求,有专门的稽考簿考核,内容有德行、经艺、治事三项,以德行最为重要。所谓德行,就是指孝亲敬长,不犯上作乱。朱元璋曾专门制定针对生员的八条禁例颁布全国执行。清朝顺治九年(1652年)颁布于全国学校的“卧碑”规定:“诸生当上报国恩,下立人品”“生员立志,当学为忠臣清官”。康熙时颁行十六条“圣谕”,作为政治和思想道德教育的指导原则,其中有:“敦孝弟(悌)以重人伦”“笃家族以昭雍睦”“和乡党以息争讼”“尚节俭以惜财用”“黜异端以崇正学”“明礼让以厚风俗”等等。雍正时又将此再次申述颁行全国,规定每逢岁科考试,生员必须默写一遍。

——据余仕麟《中国古代道德教育思想的历史演变及其思想精华》整理

材料二

民国初年,时人发出“伦理的觉悟,为吾人最后觉悟之最后觉悟”的呼喊,在各种教育理论、思潮影响之下,人们的德育观念开始发生根本性转变,主要表现为:提倡“人权时代,人人以自由生活为第一义”,建设“平民的道德”,面向全体国民、追求“平民人格”的实现成为新时期道德教育的理念;从“教育即生活”的思想出发,主张德育应当从儿童的生活经验出发,尊重和发挥儿童的道德自主性,“要知道处处有德育的机会,事事有德的意思,正不如到特定的地方去寻求”。这表明人们关于德育模式的主张,渐渐由伦理知识本位转向了社会生活本位。1919年4月,教育部教育调查会提出以“养成健全人格,发展共和精神”作为中华民国教育的新宗旨。这些新型的德育观念,对当时的教育实践产生了巨大影响,也一直深刻地影响着此后中国的德育思想和实践。

——据郑航《“五四”时期的文化革新与近代德育观念的转变》整理

- (1)根据材料一并结合所学知识,概括明清时期学校道德教育的特点并说明其形成原因。(12分)
- (2)根据材料一、二并结合所学知识,指出民国初年道德教育观念的转变,并说明其时代价值。(13分)

42. 阅读材料,完成下列要求。(12分)

材料

1871—1914年欧洲和欧洲人世界引人注目的特点,是迄今在物质和工业上空前的增长,国际和平,国内稳定,立宪的、代议制的和民主的政府的进步,以及继续对科学、理性和进步怀有的信心。可是,正是这些年里,在政治、经济、哲学及艺术诸领域也有了一些新动向,它们对欧洲文明自由主义的前提和宗旨起着破坏作用。与此同时,新一波的欧洲帝国主义浪潮在非洲和亚洲扩散,造就了新的殖民帝国、新的世界经济联系,以及新的国际冲突和文化冲突。所有这些进展促成了并反映出1914年前欧洲的支配地位。

——摘编自[美]R.R.帕尔默《现代世界史》

围绕材料自拟一个能够反映1871—1914年世界历史发展特征的主题,并运用具体史实予以阐述。(12分)

要求:主题明确,论证充分,史实准确,表述清晰。

(二)选考题:共 25 分。请考生从 2 道地理题、3 道历史题中每科任选一题作答。如果多做,则每科按所做的第一题计分。

43. [地理——选修 3:旅游地理](10 分)

丹洲岛位于广西壮族自治区三江侗族自治县、融安县、融水苗族自治县交界处,呈狭长状,总面积 1.6 平方千米。岛上始建于明朝万历十九年的古城,是明、清、民国地方政府所在地,是中国唯一的水上古镇。常年居住人口千余人,居民世代以种植沙田柚为主。近年来,旅游业快速发展,国庆节和丹洲柚子节等旅游高峰期,游客超过岛上原住民数倍,部分游客只能在河对岸旁观;节假日外的丹洲岛游客稀少,呈现一幅掩映在常绿柚林中的岛上田园风光。图 12 为丹洲岛俯瞰景观。



图 12

简析丹洲岛旅游业可持续发展可采取的措施。

44. [地理——选修 6:环境保护](10 分)

目前,我国建筑垃圾年排放 20 多亿吨,建筑业的机械化、信息化、智能化程度相对较低。2020 年 9 月,住建部等 9 部门联合发布《关于加快新型建筑工业化发展的若干意见》,提出以新型建筑工业化带动建筑业全面转型升级,明确今后在保障性住房和商品住宅中积极应用装配式混凝土结构,鼓励有条件的地区全面推广应用预制内隔墙、预制楼梯板和预制楼板,积极推动建立以标准部品为基础的专业化、规模化、信息化生产体系,持续推动以标准化设计、工厂化生产、装配化施工、一体化装修和信息化管理为特征的装配式建筑发展。

分析我国加快新型建筑工业化发展的意义。



45. [历史——选修 1:历史上重大改革回眸](15 分)

材料

唐朝,随着阶级基础的扩大,退休制度作为官僚制度的一部分,较之汉朝更为完备。唐朝规定:

致仕年龄	“诸职事 ^① 七十听致仕……年虽少形容衰老者,亦听致仕”“年七十以上应致仕,若齿力未衰,亦听厘务”
致仕手续	造册上报即可,“五品以上上表,六品以下中省奏闻”
致仕仪式	“开元五年十月敕,致仕应请物令所由送至宅”
致仕待遇	政治上,贞观二年(628年)九月诏:“内外文武群官年高致仕,抗表去职者,参朝之日,宜在本品见任之上。”后又规定“三品以上并听朝朔望”,即三品以上官致仕后,仍恩准参与国事决策。经济上,五品官以上致仕者给半俸,功臣元勋经皇帝特恩,可给全俸;六品以下,则有口分田养老。另外,高官致仕,允留一子领薪侍养,“致仕官子弟无京官者,其在外者,听一人停官侍养”

——据钟兴永《中国古代退休制度述略》整理

- (1)根据材料并结合所学知识,概括指出唐朝官员致仕制度的特点。(6分)
- (2)根据材料并结合所学知识,简析唐朝完善官员致仕制度的影响。(9分)

46. [历史——选修 3:20 世纪的战争与和平](15 分)

材料

威尔逊任期内恰逢第一次世界大战、俄国十月革命等极大地改变了世界历史的重大事件的发生,以维也纳体系为标志的欧洲中心时代走向终结。这为威尔逊按着他的世界主义的理想来设计世界新秩序提供了良机。威尔逊主张建立一个符合“人类利益的更完善的国际体系”,如果真的按我们理解的字面含义来实施,威尔逊的“新世界”真够得上理想的了。但是,从颠覆墨西哥韦尔塔政权到出兵海地、多米尼加和古巴,威尔逊并无迟疑地再次扮演了“大棒总统”的角色。而他宣称建立国际联盟的目的是“要为世界的其余地区做门罗主义为西半球世界所做的事情”,则明白无误地表明了“新世界”的篮子里到底装的什么货色。所以威尔逊是理想主义地提出目标——承认时代的进步所带来的新的价值观念,现实主义地实现目标——以美国的利益为出发点。

——据纪胜利《威尔逊、罗斯福和布什的“世界新秩序”之比较》整理

- (1)根据材料并结合所学知识,概括威尔逊提出“新世界”构想的背景。(6分)
- (2)根据材料并结合所学知识,分析威尔逊“新世界”构想不能实现的必然性

47. [历史——选修4:中外历史人物评说](15分)

材料

黄遵宪,字公度,道光二十八年(1848年)生于广东省嘉应州攀桂坊。在外交中,他主张“伸自主之权”“保公众之益”。光绪八年(1882年),黄遵宪奉命调驻美国旧金山总领事。驻美期间,美国不准华人假道美国。黄遵宪指责这是“背条约,妨国例,且有违公法”的,表示要“与之力争”,“争之亦终必收效”。经过黄遵宪的交涉,美国政府同意“华商人等由他国来美,及曾居住美国再来与执领事护照而再来者,均得通行;华工假道旧金山往他处者,亦由领事给照,不受留难”。对此,旅美华商华工“无不感戴恩泽”。……美国官吏还以不卫生为由,逮捕了许多华侨。黄遵宪亲自到监狱看望被捕华侨。他让随从人员测量关满华侨监狱的面积,质问美国官吏:“此处卫生,顾右于侨居耶!”美官吏理屈辞穷,只好释放被捕华侨。

——据白寿彝《中国通史》整理

- (1)根据材料并结合所学知识,概括指出黄遵宪赴美开展外交活动的背景。(6分)
- (2)根据材料并结合所学知识,简要评述黄遵宪的外交思想和实践。(9分)



参考答案及解析

河北衡水中学 2021 届全国高三第二次联合考试(I) · 文综

一、选择题

1. B 【解析】私家车短途出行灵活方便,速度快,可以实现门到门出行;高铁短距离不可能依次设站;城市公交不会延伸到秦岭山区;短途出行步行不可能越来越多。可推断小慢车短途客流量越来越少的最可能原因是随着近年来我国经济社会的发展,拥有私家车的家庭越来越多。
2. C 【解析】受自然条件影响小是铁路运输的突出特点。雨雪天气私家车出行困难,当地居民选择小慢车出行人数会明显增多。
3. B 【解析】读图,白天由湖到陆的大气水平运动较弱,可知白天湖风不显著;夜晚由陆到湖的大气水平运动明显,可知夜晚陆风显著。
4. D 【解析】读图可知,与夜晚相比,白天风力较小;夜晚盛行陆风,湖区气流上升,可判断降雨夜间多于白天;湖陆风属于局地环流,容易受到背景风的影响,不可能夜雨频频。
5. A 【解析】正常情况下,白天陆地升温快、气压低,湖泊升温慢、气压高,气流由湖泊吹向陆地;青海湖区白天湖泊效应微弱,说明湖泊温度较高,与陆地之间没有形成明显的温度差,应是青海湖比热容大,夏季积累热量多,秋季降温慢所致。
6. A 【解析】图 4 中城市西部三个时间工业空间都没有分布,若有铁路或公路,利于工业布局;哈尔滨地处平原,城区没有山脉分布;哈尔滨西临松花江,受河流的阻隔作用,工业区难以向西拓展。
7. C 【解析】2003—2017 年,16 个扇形区有三个方向没有扩展,有两个扇形区在第二阶段发生了萎缩;0~4 千米城市中心部位有所减少,并没有全部外迁;东南和西北方向扩展最显著。
8. C 【解析】哈尔滨市工业空间由中心城区向周边扩散,但在 5~11 千米圈层呈明显集聚状态,工业空间在扩散中呈现集聚。
9. A 【解析】图示区域林线高度自南向北变低,是由于纬度越高获取太阳辐射越少,热量减少。
10. B 【解析】地面是大气的直接热源,青藏高原地区海拔高,大气的直接热源位置高,直接向上传递的热量高度大,导致图中同一纬度林线西部青藏高原地区比东部地区高。
11. B 【解析】从图示位置可知,最高林线处于雅鲁藏布江谷地附近,西南季风携带暖湿水汽沿雅鲁藏布江谷地上行,导致谷地附近水热特别丰富,从而形成图示中最高的林线。
12. B 【解析】睡眠消费是一种健康消费新形式,人们对改善睡眠质量的需求不断增长和升级,助推了睡眠市场扩张,①④符合题意。销量的增加、产业规模增长均无法推导出企业生产效率的提高,②不选;传统眼罩类商品的成交额也在快速增长,③表述不符合事实。
13. C 【解析】通过分析比较选项内容,实施制造业专项贷款发挥作用的传导路径如下:增强金融服务实体经济能力,推动产融合作、银企对接,支持传统制造业升级,加快新兴产业培育,推动重大项目建设,推动制造业高质量发展。C 正确。
14. A 【解析】数字人民币是由中国人民银行发行的法定货币,其风险性与绑定银行账户无关,③不选;数字人民币具有非盈利性,追求的是社会效率和福利最大化,④不选;①②表述正确且符合题意。
15. C 【解析】科技创新和基础设施建设水平的提高,各类市场主体各显其能、竞相发展说明市场竞争促进了互联网普及,②③符合题意。互联网进入千家万户改变了人们的生活消费方式,①因果倒置,排除。市场在资源配置中起决定作用,④说法错误。
16. A 【解析】材料强调的是共同体意识,①③符合题意。从国家个体角度表述不符合材料主旨,②④排除。
17. B 【解析】国务院科技部执行全国人大和全国政协的决定表述错误,②排除。人大代表和政协委员没有行使管理社会事务的权力,③排除。①④表述正确且符合题意。
18. C 【解析】材料反映了全国人大通过《关于修改〈中华人民共和国国旗法〉的决定》,然后由国家主席签署主席令予以公布、实施,说明我国国家机关实行民主集中制原则,②④入选。全国人大是我国最高立法机关,①错误。国家主席对全国人大负责,不能领导全国人大常委会的工作,③错误。
19. D 【解析】汉字是中华文化源远流长的重要见证,①不选。实践是深圳创造力的重



- 圳文化具有改革开放的时代性和包容性,③④符合题意。
20. A 【解析】根据题意可知,是科研成果和科技手段实现了远古文明的重现,③不选;文化交流可以增进中法两国对彼此文化的理解,而不是认同,④不选。①②符合题意。
21. C 【解析】灵感有利于创新,但不是创新的关键,排除①。突破事物固有的必然的联系表述错误,不选③。科研工作者创新的成果,体现出新的人为事物的联系,人民群众是社会财富的创造者,②④符合题意。
22. B 【解析】在当前形势下,逐步形成新发展格局,以国内大循环为主体,促进国内国际循环相互贯通,①④符合题意。从实际出发,正确认识和把握规律是发挥主观能动性的前提,②不选。立足点应为国内市场,③错误。
23. D 【解析】宪法属于上层建筑的范畴,不属于生产关系的范畴,①入选,②排除;③说法错误,价值判断是价值选择的前提;让人民群众感受到公平正义体现了以人民为中心的价值导向,④正确。
24. B 【解析】材料表明杞国国君因为使用“夷礼”拜见鲁国君主而被歧视,在记载中称其为“子”,说明当时华夷之防的观念已经比较显著,对于封国君主的礼仪具有礼乐文化的显著特征,因此B项是正确答案。A项内容材料无法体现;C项与史实不符;宗法秩序以血缘关系为主要纽带,D项材料无法体现。
25. D 【解析】材料表明,西汉初期按爵位等级授田,没有封国的侯爵可分得大量土地,庶民也可授一顷,甚至犯有轻罪的官员也可分得五十亩土地。这表明当时政府控制着大量土地,政府尽量分配土地以利于恢复生产,因此D项符合题意。材料反映的是汉初政府授田情况,不同等级获得的土地数量虽有差异,但这并非土地兼并,A项材料无法体现;B项与史实不符;材料强调的是按官员的级别授予土地,而不是按照军功的大小授予爵位,C项与材料主旨不符。
26. C 【解析】材料表明,北宋重用文臣压制武官,用人“大率以文词进”,带兵打仗“恢复幽蓟”还不及“状元登第”,这些现象都是北宋推行重文抑武政策的结果,故C项正确。A项说法不符合史实;B项材料没有体现;材料反映的是北宋强化中央集权的措施,D项说法错误。
27. A 【解析】《红楼梦》以贾、王、史、薛四大家族的兴衰为背景,展现了清朝时期社会生活尤其是贵族生活的场景。材料表明,众多饮食中“粥”的烹制工序烦琐、品种多样,且以养生滋补功能为主,不仅仅是果腹之用,有些还是普通百姓难以见到的美食,这反映出当时贵族生活的奢靡,因此A项正确。B、C、D三项材料无法体现。
28. D 【解析】材料表明,晚清著名实业家张謇兴农的目的是要解决“工无所作”“商无所蓄”的问题,是为民族工商业的发展创造条件,故D项正确。其他三项所述内容在材料中没有体现,故排除。
29. B 【解析】十月革命为中国人民争取民族解放指明了新的道路,故B项正确。近代中国民主革命属于资产阶级民主革命的范畴,性质并未改变,排除A项;C项说法错误;五四运动后,宣传马克思主义成为新文化运动的主流,排除D项。
30. D 【解析】材料表明,《群众》周刊承认并维护蒋介石的抗战领袖地位,有利于巩固国共合作,统一全国人民的抗日活动,表明中国共产党具有团结抗战的鲜明态度,故选D项。1937年9月抗日民族统一战线已经形成,排除A项;材料体现的是中国共产党拥护国民党的政策而不是斗争,排除B项;C项不符合史实,排除。
31. A 【解析】改革开放后,在农村经济体制改革中,我国实行家庭联产承包责任制,包产到户、包干到户,这项制度是对计划经济体制的突破,客观上也突破了人民公社体制的桎梏,因此A项是正确答案。个体经济是指在劳动者个人占有生产资料的基础上,从事个体劳动和个体经营的私有制经济,农村经济体制改革后,只是采取个体经营形式,土地仍归集体所有,排除B项;家庭联产承包责任制依然以土地承包为基础,故排除C项;以家庭为单位的生产不是“规模化经营”,排除D项。
32. D 【解析】材料表明,雅典各级官职向一切公民开放,但在具体抽签选举的过程中,会根据实际情况具体问题具体分析,其目的就是保障公民平等参政的机会,因此D项是正确答案。抽签选举只体现了选举方面雅典公民的部分自由,不能说明雅典公民享有充分自由,故A项错误;古代希腊城邦国家并不都采用抽签选举,故B项错误;材料主要涉及选举方式,不是权利的执行和监督,排除C项。
33. B 【解析】伴随着英国资本主义经济的发展,议会制度也处于不断完善的过程中。英国“光荣革命”后形成的弹劾程序在实践中过于烦琐,且由于上议院多为贵族,对高级官员的监督并不有力,因此英国议会从1864年起代之以不信任投票程序,监督的目标对准了内阁,且不信任程序对于政府内阁而言是一种相当严厉的监督制约措施,民主运行机制因此进一步发展完善,B项正确。A、C、D三项说法均



34. C 【解析】图中信息表明,外国投资出现在美国社会多种行业,影响到美国社会生活的多个方面,因此 C 项符合题意。图片显示的是外国投资美国铁路的资本数量,无法得出外资“控制了美国铁路行业”,排除 A 项;材料未显示投资世界其他国家和地区的资本数量,无法得出 B 项结论;D 项与史实不符,排除。
35. C 【解析】第二次世界大战后,西欧国家受美国影响,普遍运用宏观调控手段取得了一定成功,出现了经济发展的“黄金时期”。材料中法国的做法就是这一发展特征的体现,因此 C 项正确。法国仍然是市场经济体制,并非要建立计划经济体制,A 项说法错误;法国工业化在工业革命时就已起步,B 项错误;D 项材料未体现。

二、非选择题

(一)必考题

36. (1)根浅、茎叶茂,与果树争夺养分少;耐寒,生长期主要在冬半年,与果树错季生长,共用养分时间短;耐阴,适宜在果树下生长;耐践踏,便于果园管理;固氮能力强,掩埋或死亡后能明显增加土壤肥力,改善土壤质地;侵占性强,能减少杂草生长。(每点 2 分,共 5 点得 10 分)
- (2)春季覆盖地面,能防风阻沙;夏季覆盖地面,降低果园内气温;三叶草蒸腾水汽,能增加果园空气湿度。(每点 2 分,共 6 分)
- (3)果园套种的三叶草,产量有限;不便于机械化作业,人工投入多,生产成本低;水果喷施农药时,牧草不能给牲畜食用(可能有农药残留)。(每点 2 分,共 6 分)
37. (1)厚度范围:28~76 米。(2 分)
- 判断依据:沉积层的最小厚度应大于黄土层、黏土层和卵石层最小厚度之和;沉积层的最大厚度应小于黄土层、黏土层和卵石层的最大厚度之和。(每点 2 分,共 4 分。判断结果不对,但依据正确也可得分)(若答“沉积层的厚度应介于黄土层、黏土层和卵石层的累加值之间”可得 2 分。)
- (2)早期为宽阔的河道,河流流量大、流速快(沉积形成卵石层);后演化为静水(或湖泊)环境(沉积形成黏土层);后地壳上升,环境干燥(风力沉积形成黄土层)。(每点 2 分,共 6 分)
- (3)东南(或东)部坡度较大;西北(或西)部平缓;地势东南(或东)高、西北(或西)低。(每点 2 分,共 6 分)
- (4)坡陡沟深;降水变率大,地层水分条件变化大,黄土层遇水,不稳定性增加;底部受流水侵蚀严重,坡体稳定性差。(每点 2 分,共 6 分)
38. (1)我国数字经济总体规模持续扩大,对我国经济发展贡献不断增强。(2 分)我国地区之间数字经济发展不平衡,各地区数字经济与经济发展水平具有较强的正相关性。(2 分)
- (2)大力发展数字经济,有利于激发数字生产要素的活力,为三大产业发展赋能,促进经济结构优化;(3 分)有利于促进技术进步和自主创新,推动数字技术与实体经济集成融合和新模式新业态全面变革;(3 分)有利于转变经济发展方式,推动经济发展质量变革、效率变革、动力变革。(4 分)(若考生从供给侧结构性改革和产业结构优化升级等角度作答亦可酌情给分)
39. 共产党员践行初心和使命,在中国反贫困斗争中发挥了先锋模范作用。(4 分)共产党员贯彻落实党中央脱贫攻坚方针政策,以全心全意为人民服务为根本宗旨,发挥自己的苦干、带头和桥梁作用,以坚定的理想和信念团结带领人民向贫困宣战;(4 分)共产党员不惜牺牲个人利益,全力攻克脱贫攻坚的关卡难题,实现和维护人民的利益,是中国反贫困斗争不断取得胜利的强大保证。(4 分)
40. (1)实践决定认识,认识在实践中不断深化、向前发展。(4 分)中国人民在长期共同生活和社会实践中形成了中国精神,中国精神为抗疫斗争实践注入强大的精神动力。(4 分)同时中国精神在抗疫斗争实践中得到升华,成为我们新时代接续奋斗的强大精神支柱。(4 分)
- (2)伟大抗疫精神同中华民族长期形成的特质禀赋和文化基因一脉相承,植根于中华优秀传统文化,是民族精神和时代精神在新时代的集中展现。(4 分)大力弘扬伟大抗疫精神有助于凝聚爱国主义情怀,重铸和提振民族精神,增强文化自信,推动新时代中国特色社会主义事业走向伟大胜利,推动构建人类命运共同体。(6 分)
- (3)答案示例:学习领会伟大抗疫精神的丰富内涵;向抗疫英模学习;等等。(每点 2 分,共 4 分)
41. (1)特点:统治者重视,以维护封建统治秩序为目的;宣扬儒家的纲常伦理;学校教育与社会教化相结合;鼓励修身律己;等等。(任答 3 点即可得 6 分)
- 原因:君主专制进一步强化;商品经济发展冲击原有社会秩序;重视道德教化的传统;程朱理学趋于僵化。(任答 3 点即可得 6 分)
- (2)转变:由注重宣扬封建纲常向追求民主共和转变(或答从崇尚圣贤向实现平民人格转变);由伦理知识本位向社会生活本位转变;由注重教化向尊重儿童自主转变。(只要表述合理即可得 6 分)



时代价值：冲击了封建思想统治地位，有利于民主共和观念的传播（或有利于思想解放）；推动了新文化运动的深入开展；推动了中国社会的近代化；推动了近代中国教育改革；有利于践行社会主义核心价值观（或答为社会主义建设培养合格人才）。（1点2分，任答4点7分）

42. 示例：

主题：资本主义世界体系的形成。（准确反映时代特征的主题均可，3分）

阐述：1871—1914年间，欧美主要国家资产阶级代议制度进一步完善，统一的民族国家得到巩固，为海外殖民扩张提供了政治保障；第二次工业革命发生，使资本主义进入垄断资本主义阶段，帝国主义国家凭借其强大经济实力，掀起了瓜分世界的狂潮，亚非拉地区国家相继沦为殖民地或半殖民地；新式交通运输工具的使用，加速了全球范围内资本、人员的流动，国际贸易扩大，资本主义世界体系形成。（结合史实论证，合理即可，9分）

（二）选考题

43. 旅游旺季利用现代通信和网络技术，实行预约旅游；实行淡季门票价格变动调整，合理控制游客数量；挖掘文化内涵，加强宣传，扩大知名度，发挥水上古镇优势；让游客参与岛上特色农业活动，增强游客参与体验感；发展特色岛上民宿，让游客体验岛上生产生活风情。（每点2分，共10分。其他答案合理亦可得分）

44. 预制板件集中工厂化生产，有利于提高资源、能源、木材等的利用率；有效降低建造过程中的扬尘、噪声和建筑垃圾等环境污染；缩短施工周期，提高施工效率；降低人工成本，减少工人劳动强度和时间；标准部品，精确安装，能确保建筑物建造质量；提高机械化、信息化和智能化在建筑业中的应用程度。（每点2分，任答5点得10分）

45. （1）相对完备（如致仕年龄较灵活；致仕手续简便；注重官员的致仕欢送仪式；致仕官享受优厚待遇）；注重安抚和笼络官员；具有鲜明的等级性。（6分）

（2）有利于加强皇权；完善了封建官僚制度，影响后世；宣扬了尊老孝亲的传统美德；有助于吏治清明、社会稳定与发展。（1点2分，4点9分）

46. （1）第一次世界大战摧毁了旧有的国际格局（或答维也纳体系崩溃）；美国经济实力增强；美国国内孤立主义政策松动等。（6分。若答出生产和贸易日益国际化、世界联系加强等，酌情给分）

（2）当时美国尚不具备主导世界的实力；遭到英法等大国及新兴民族独立国家的反对；国内孤立主义势力的反对；等等。（9分）

47. （1）列强加紧对华侵略，外交环境恶劣；华人华侨在美国的利益受到损害；西方外交理念传入中国，对清朝官员有所影响。（6分。言之有理，即可得分）

（2）主张“伸自主之权”“保公众之益”，是正义的外交诉求；在外交中勇于抗争、据理力争，一定程度上维护了国家权益和华侨利益，具有爱国性；限于国际环境、国家实力，这些抗争无法从根本上改变中国的外交境遇。（9分。言之有理，即可得分）

关于我们

自主选拔在线是致力于提供新高考生涯规划、强基计划、综合评价、三位一体、学科竞赛等政策资讯的升学服务平台。总部坐落于北京，旗下拥有网站（<http://www.zizzs.com/>）和微信公众平台等媒体矩阵，用户群体涵盖全国90%以上的重点中学师生及家长，在全国新高考、自主选拔领域首屈一指。

如需第一时间获取相关资讯及备考指南，请关注**自主选拔在线**官方微信号：**zizzsw**。



微信搜一搜



自主选拔在线

关注后获取更多资料：

回复“答题模板”，即可获取《高中九科试卷的解题技巧和答题模版》

回复“必背知识点”，即可获取《高考考前必背知识点》