

2023年抚顺市普通高中高三模拟考试

历史

注意事项:

1.答卷前,考生务必将自己的姓名、准考证号填写在答题卡上。

2.答选择题时,选出每小题答案后,用铅笔把答题卡对应题目的答案标号涂黑。如需改动,用橡皮擦干净后,再选涂其它答案标号。答非选择题时,将答案写在答题卡上。写在本试卷上无效。

3.考试结束后,将本试卷和答题卡一并交回。

一、选择题:本大题共16小题,每小题3分,共48分。在每小题给出的四个选项中,只有一项是符合题目要求的。

1.图1为浙江余姚河姆渡遗址出土的猪纹陶钵。它体现了

- A.此陶钵是用来喂猪的器皿
- B.猪开始成为十二生肖之一
- C.原始绘画的抽象主义风格
- D.动物驯化家畜饲养的发展



图1

2.光武帝刘秀曾经引用《黄石公记》阐发他的治国

思想,“柔者德也,刚者贼也…弱者仁之助也,强者怨之归也。故曰:有德之君,以所乐乐人;无德之君,以所乐乐身。…逸政有忠臣,劳政多乱人。”由此可知

- A.西汉初以道家思想治国
- B.刘秀治国能从现实出发
- C.当时采用法家思想治国
- D.儒家正统地位尚未确立

3.北魏以法律的形式禁止士庶通婚。北魏文成帝拓跋浚曾下令“皇族师傅百王公侯及士民之家,不得与百工使巧卑姓为婚,犯者加罪”,北魏孝文帝拓跋宏也曾下令“皇族贵戚及士民之家,不得与非类婚偶”。这反映了

- A.北魏的民族歧视
- B.士族的利益受到侵犯
- C.中央集权的加强
- D.门阀政治的畸形发展

4.宋代承前朝开设尚药局,于药政方面开前朝先河,置和剂局和惠民局。王安石变法实行国家对成药专营。政府规范药物生产,增强了药品销售和流通方面的监督管理。大力编书,树立了药品炮制和加工制作的国家标准。响应重大疫情,快速给药,及时治疗。这些措施

- A.主要目的是增加财政收入
- B.促进了人口快速增长
- C.说明宋朝取消了药业民营
- D.体现了儒家民本思想

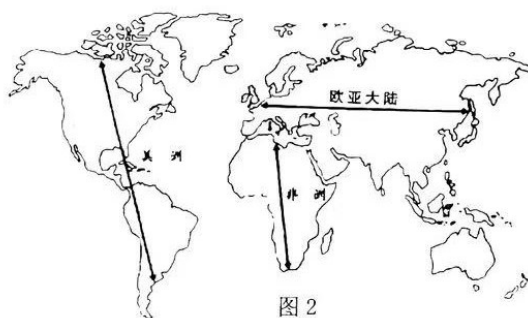
5.北宋政治家余靖在《武溪集》卷18《契丹官仪》中记载:“胡人之官,领番中事者皆胡服,谓之契丹官,…领燕中事者,虽胡人亦汉服,谓之汉官…”。材料体现了契丹

- A.南北面官，胡汉对峙
B.推行汉服，文化认同
C.官制改革，提高效率
D.因俗而治，因地制宜
6. 明朝时期一些商人“与贤士大夫倾盖交欢”，文人士子也逐渐改变不屑与商贾为伍的清高态度，开始从相对封闭的圈子中走出来，出入市井，与商人、名工巧匠、艺人等交游。这反映出当时
- A.儒家传统观念颠覆
B.士农工商社会结构解体
C.城市工商业的繁荣
D.政府重农抑商政策废弛
7. 近年我们多认为协定关税和治外法权是《南京条约》、《虎门条约》等不平等条约的核心。但在道光时代人的目米中，这些不过是让夷人管夷人，方便省事的办法，以至洋洋得意，结果导致中国
- A.完全沦为半殖民地半封建社会
B.近代关税征收腐败混乱
C.近代民族工业的发展受到限制
D.人民反帝爱国斗争兴起
8. 1923年，梁启超在《五十年中国文化概论》中说：“革命成功将近十年，所希望的渐渐都落空，渐渐有点废然思返，觉得社会文化是整套的，要拿旧心理运用新制度，绝不可能，渐渐要求全人格的觉醒。”这段话主要揭示了
- A.戊戌变法与护国运动的联系
B.辛亥革命与新文化运动的联系
C.戊戌变法与文学改良的联系
D.辛亥革命与国民大革命的联系
9. 1938年11月，毛泽东指出：“人民要求政府满足自己的政治经济要求，同时给政府以一切可能的利于抗日的援助；工人要求厂主改良待遇，同时积极作工以利于抗日；地主应该减租减息，同时农民应该交租交息，团结对外。”让步和帮助都应该是积极的“主要是为了
- A.推动工农武装割据的实现
B.发动人民加入到民族战争
C.代表社会全体成员的利益
D.打击封建主义与官僚主义
10. 1964年下半年开始，辽宁省的很多企业出现了人员调动、技术援助或整体搬迁的现象，如沈阳东北制药六厂的麻醉药品车间和人员，迁往宁夏中卫县，利用一个下马的铁厂作为厂址进行生产；抚顺铝厂的纯硅车间和人员，迁到贵州都匀，建设成贵州纯硅厂，为机械工业提供纯硅原料。材料反映的历史事件
- A.说明了辽宁向全国各地援助
B.实现了工业布局的均衡发展
C.是为了备战、备荒、为人民
D.有利于抗美援朝战争的胜利
11. 表1为2021年《中国统计年鉴》中的相关数据，由此可以推论出我国

表1第一、二、三产业从业人员占比数量表

年份	第一产业	第二产业	第三产业
	构成(合计=100)		
1952年	83.5	7.4	9.1
1965年	81.6	8.4	10
1979年	69.8	17.6	12.6
1992年	59.7	21.4	18.9

- A.农村人口不断流失经济衰退 B.计划经济时期的重点是发展农业生产
C.第三产业经济产值增长最快 D.经济体制改革推动了社会结构新变化
- 12.有学者认为，大陆轴线（图2所示）的走向关乎农作物的传播速度和其他发明的传播。新航路开辟前，农作物从两河流域向西到欧洲和埃及（由埃及向南到了埃塞俄比亚后就此打住）、向东到印度河流域，传播平均每年约0.7英里，但墨西哥3500年前被驯化的玉米北上美国东部则是在公元900年，每年传播不到0.3英里。据此可知



- A.地理环境影响文明发展 B.欧亚文明高于非洲美洲
C.全球已初步建立起联系 D.农作物在各大洲间传播
- 13.教皇英诺森三世在位时期（1198-1216），积极干预各国政事，对各国君主指手划脚，其权势已伸张至全欧洲。从他写给欧洲各国君主的6000余封书信来看，满纸都是威胁警告之辞。他声称：“教皇的责任是看管罗马帝国的利益，因为罗马帝国起源于教皇统治，而且从教皇那里取得它的最终权力。”这主要反映了当时
- A.教皇直接管理各国政事 B.教会垄断知识和学术
C.政教合一局面开始形成 D.教权凌驾于王权之上
- 14.图3是18世纪后期英国棉纺织业领域出现的技术革新成果。由此可知，这一时期的技术创新推动了英国

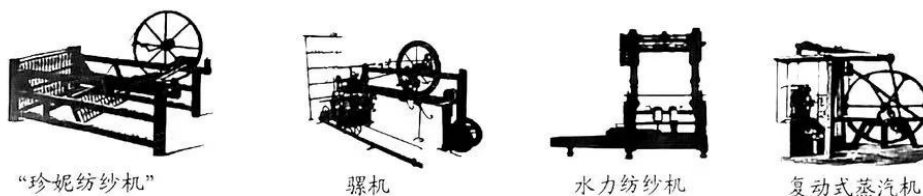


图3

- A.生产效率的快速提升
B.科学与技术紧密结合
C.垄断组织的蓬勃发展
D.生产与资本高度集中

15. 219世纪末-20世纪初亚非拉民族独立运动简表

地区	国家	时间	斗争名称
亚洲	印度	1905-1908	民族解放运动
	伊朗	1905-1911	立宪革命
	中国	1911	辛亥革命
非洲	埃及	1882	反英斗争
	苏丹	1881-1898	马赫迪起义
	埃塞俄比亚	1894-1896	抗意战争
拉丁美洲	海地	1804	独立运动
	西属墨西哥	1821	独立运动
	葡属巴西	1822	独立运动

据表2可知，这些斗争产生的影响是

- ① 打击了帝国主义的侵略势力
② 完成了本国的民主革命任务
③ 提供了宝贵的革命斗争经验
④ 推动了民族独立的继续发展
- A.①②③ B.①②④ C.①③④ D.②③④

16. 1947-1962年是好莱坞电影创作的高潮时期，大量带有浓厚意识形态对抗色彩的电影出现在了银幕上。其中107部电影明确攻击了共产主义和苏联，同时还有几十部关注共产主义威胁的影片。同时期苏联的电影围绕“抨击美国帝国主义、军国主义、揭露社会问题”和“对比苏联的善与美国的恶”进行创作。这表明
- A.电影竞争决定美苏冷战的胜负
B.电影创作充斥强烈的冷战思维
C.电影事业深刻影响冷战的走势
D.电影宣传成为冷战的核心手段

二、非选择题:本大题包括4小题,均为必做题,共52分。

17. 阅读材料,完成下列要求。(12分)

材料

唐代是封建社会体育文化的发展高峰,无论是城市,还是乡村,体育活动都触处可见。从体育项目看,唐代不仅传承了蹄鞠、缘竿、马术、摔跤(相扑)、棋类、武艺…而且还出现了马球、象棋等新的体育项目,据文献记载,太宗皇帝是引进马球的重要人物之一。

在民俗体育方面,如秋千、斗鸡、踏春、赛龙舟也在城乡蓬勃开展,其中有些项目来自西域,也有些项目远播朝鲜、日本、东亚、西亚,甚至欧洲,出现了以唐朝为文化中心的传播流。

--摘自王俊齐《唐代体育文化史》

(1) 根据材料,概括唐代体育文化发展的特点。(6分)

(2) 根据材料并结合所学知识,分析唐代体育文化兴盛的原因。(6分)

18. 阅读材料,完成下列要求。(15分)

材料一

在伊丽莎白统治时期,议会通过了两项改造水路的立法。…为了拓展英国的海外运输,17世纪中期,英国相继出台了一系列的航海条例和航海法案,禁止外国船只在英国沿海航行…。工业革命初期,英国运河运输兴旺起来。英国运河运输业的发展既得力于市场经济发展需求,又受益于政府引导和扶持…。此外,国家还给运河运输业一定程度上的政策倾斜,如减免税收。但随着铁路的兴起,运河运输逐渐衰落下去。

--摘编自张卫良《工业革命前英国交通运输业的发展》

材料二

随着近代交通的发展,清政府设立机构进行管理。1906年,清政府设立邮传部,管理轮船、铁路和电邮。1907年邮传部下设船政司,专门管理水上交通。清末邮传部为了振兴航运业,采取了以下措施:调查各地航运业发展状况;制定注册章程,健全规章制度;以资金补助航运。此外,邮传部还制定内河航运计划,积极发展内河航运,采取措施反对垄断。为了对抗外国航运公司,成立中美轮船公司,开通国际航线。邮传部竭力维持中国航运业发展。

--摘编自白寿彝《中国交通史》

(1) 根据材料一并结合所学知识,概括近代英国水路运输的主要特征。(6分)

- (2) 根据材料一、二并结合所学知识，指出近代中国水路运输相较于近代英国的不同之处，并分析造成不同的主要原因。(9分)

19. 阅读材料，完成下列要求 (13分)

材料一

希腊和东方的埃及、巴比伦等国频繁的贸易交往极大地促进了器物文化方面的交流。希腊移民接触到比自身更为先进的东方文化，不同程度地加以吸收和借鉴，并将它们传回希腊，成为东西方文化交流的重要媒介。进入古典时代之后，旅行者或学者有选择的把东方先进的文化带回希腊本土，进而达到两种文化的相互促进。

--摘编自李金凤《论希腊化时代东西方文化交流与融合》

材料二

罗马帝国的统治开启了世界性的交流和联系，罗马文明把极具开创、进步意义的希腊文明继承下来，并在地连欧亚非三大洲的帝国范围内发扬光大。罗马人用武力打通了西方与东方各族人民的交往通道，从此，地中海世界的各地区、各民族由相互闭塞逐步走向对外开放，由彼此分散逐步走向密切交往，世界历史开始了更新、更广阔的篇章。

--摘编自杨俊明《古代帝国与东西方文明的交流传播》

- (1) 根据材料一和材料二，概括出古代世界东西方文明交流的主要途径。(5分)
- (2) 根据上述材料并结合所学知识，简析古代世界的帝国对文明发展所产生的影响。(8分)

20. 阅读材料，完成下列要求（12分）

材料一

表3 建国以来生育政策的历史脉络

时间	生育阶段	政策目标	生育观念
1949-1952年	鼓励生育	巩固人民政权、恢复国民生产	多子多福、养儿防老;人多力量大
1953-1979年	柔性计生	有计划地提倡节育、控制人口数量	生得少一些;生得迟一些
1980-2012年	刚性计生	严格控制人口增长	一对夫妇只生育一个孩子;晚婚、晚育、少生、优生
2013年至今	优化生育	优化人口结构、促进人口长期均衡发展	自主生育;增强生育政策包容性

--摘自黄雾云《我国计划生育政策的演化轨迹及机理研究》

材料二

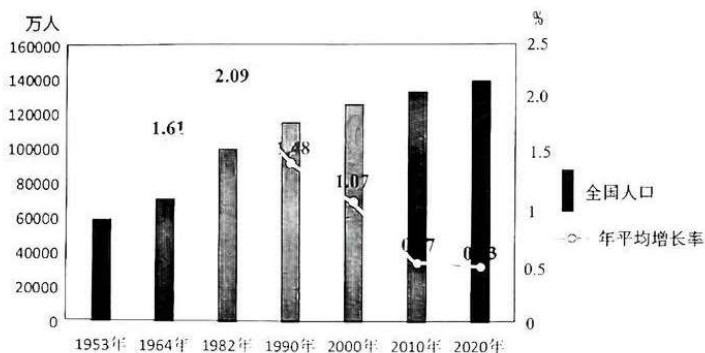


图4 建国以来七次人口普查数据图

（1949年至1953年，全国人口净增长4600多万，人口自然增长率高达23%）

--摘自国家统计局相关数据

人口是主权国家最主要的要素之一，人口受生育政策、政治、经济、文化、国际环境等多重因素影响。根据材料并结合所学知识，就材料整体或其中任意部分拟定一个论题，并予以阐述。（要求：论题明确，持论有据，论证充分，表达清晰）

关于我们

自主选拔在线是致力于提供新高考生涯规划、强基计划、综合评价、三位一体、学科竞赛等政策资讯的升学服务平台。总部坐落于北京，旗下拥有网站（[网址: www.zizzs.com](http://www.zizzs.com)）和微信公众平台等媒体矩阵，用户群体涵盖全国90%以上的重点中学师生及家长，在全国新高考、自主选拔领域首屈一指。

如需第一时间获取相关资讯及备考指南，请关注**自主选拔在线**官方微信号：**zizzsw**。



 微信搜一搜

 自主选拔在线