

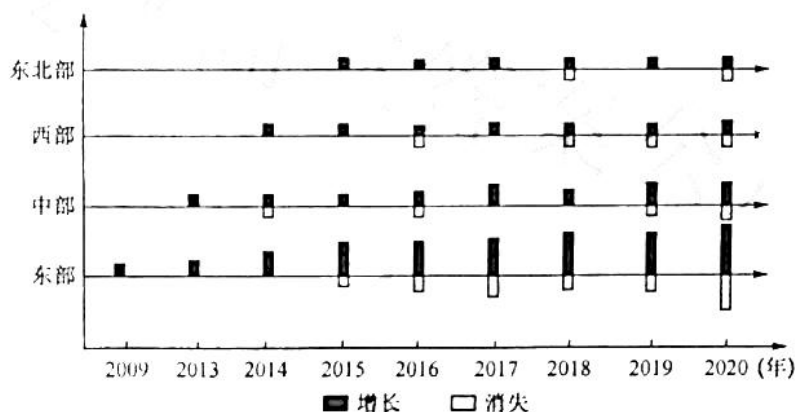
## 文科综合

### 考生注意：

1. 本试卷分选择题和非选择题两部分。满分 300 分，考试时间 150 分钟。
2. 答题前，考生务必用直径 0.5 毫米黑色墨水签字笔将密封线内项目填写清楚。
3. 考生作答时，请将答案答在答题卡上。选择题每小题选出答案后，用 2B 铅笔把答题卡上对应题目的答案标号涂黑；非选择题请用直径 0.5 毫米黑色墨水签字笔在答题卡上各题的答题区域内作答，超出答题区域书写的答案无效，在试题卷、草稿纸上作答无效。
4. 本卷命题范围：高考范围。

一、选择题：本题共 35 小题，每小题 4 分，共 140 分。在每小题给出的四个选项中，只有一项是符合题目要求的。

淘宝村是指活跃网店数量达到当地家庭户数 10% 以上、电子商务年交易额达到 1 000 万元以上的村庄，自 2009 年以来在我国呈爆发式增长。下图示意 2009~2020 年我国四大板块淘宝村“增长、消失”数量分布情况(将  $t-1$  年不存在于淘宝村名单而  $t$  年存在的定义为增长淘宝村， $t-1$  年存在于淘宝村名单而  $t$  年不存在的定义为消失淘宝村)。据此完成 1~3 题。

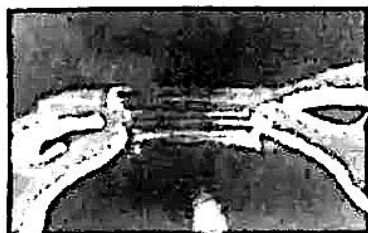


1. 2009~2020 年，我国淘宝村
  - A. 西部数量多于东部数量
  - B. 2016 年起开始出现消失现象
  - C. 消失数量大于增长数量
  - D. 四大板块之间增速差异明显
2. 导致我国四大板块部分淘宝村“消失”的主导因素是
  - A. 政策变化
  - B. 产品质量
  - C. 市场竞争
  - D. 产品价格
3. 消失淘宝村所售卖的产品最可能是
  - A. 服装、鞋袜
  - B. 箱包、家具
  - C. 古玩、字画
  - D. 珠宝、首饰

乐陵市位于鲁西北平原(由黄河冲积而成)，已经有 3 000 多年种植乐陵金丝小枣的历史。乐陵金丝小枣喜温、喜光，果实皮薄肉厚，品质优异，获批农产品国家地理标志。掰开半干的乐陵金丝小枣可清晰

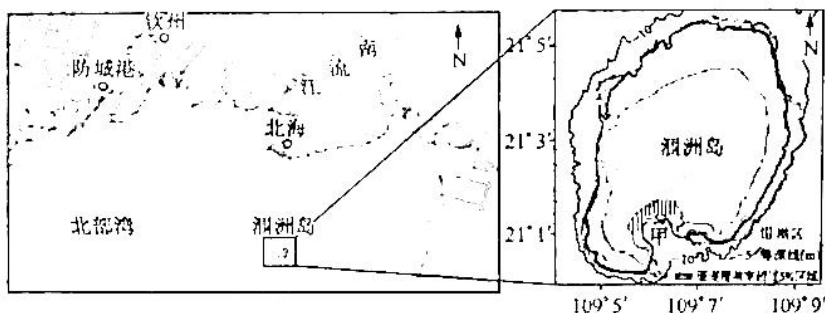
【高三第二次模拟考试试题·文综 第 1 页(共 12 页)】

地看到由果胶质和糖组成的缕缕“金丝”粘连于果肉之间(如下图所示),拉长1~2寸不断。乐陵金丝小枣每年5月中旬至6月底开花,10月上旬前成熟,花期无用花多,消耗的营养多。据此完成4~6题。



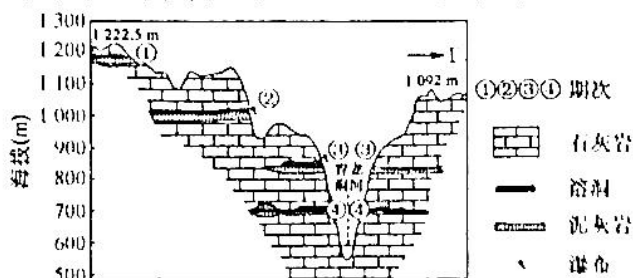
4. 乐陵金丝小枣获批农产品国家地理标志,关键在于  
A. 便利的水运交通      B. 独特的自然环境      C. 传统的生产方式      D. 丰富的种植经验
5. 半干的乐陵金丝小枣中有缕缕“金丝”,主要得益于  
A. 昼夜温差较大      B. 土壤质地黏重      C. 夏季降水集中      D. 晾晒技术精湛
6. 为了提高金丝小枣的产量和品质,6月份乐陵市的枣农应及时  
A. 修剪枝条      B. 铺反光膜      C. 定期排水      D. 灌溉施肥

珊瑚主要分布在气候温暖(最适温度介于24.5~29°C,温度过高或过低则难以生长)、光照充足、水质清澈的浅水海域。涠洲岛位于我国南海北部,处于热带边缘,是我国最年轻的火山岛,该岛的珊瑚礁是南海珊瑚的潜在避难所。20世纪80年代涠洲岛的珊瑚覆盖率达50%,2015年覆盖率下降到约6%。下图示意涠洲岛地理位置。据此完成7~9题。



7. 涠洲岛的珊瑚礁是南海珊瑚的潜在避难所,关键在于涠洲岛  
A. 处于热带边缘      B. 地质构造稳定  
C. 距离大陆较近      D. 淡水较为充足
8. 涠洲岛珊瑚覆盖率从20世纪80年代的50%下降到2015年的约6%,主要是因为  
A. 岛屿面积不断缩小      B. 土壤肥力下降  
C. 水产养殖规模扩大      D. 阴雨天气增多
9. 甲地珊瑚覆盖率较低,主要的影响因素是  
A. 海水深度      B. 夏季风      C. 径流量      D. 海水水质

水平溶洞是在地壳相对稳定期,当地表水沿着岩石裂隙下渗遇到不透水岩层时,水流的运动方向由垂直运动改为水平运动并溶蚀而成,其发育与当地侵蚀基准面相适应。下图示意河南某地多层水平溶洞的地质剖面,该地底层形成于一个封闭的浅海海盆,自上而下溶洞的形成越来越晚。据此完成10~11题。



注:泥灰岩是由黏土和碳酸盐微粒组成的不透水岩层。

10. 青龙洞河两岸四个期次溶洞形成过程中
- A. 地壳持续抬升  
B. 地壳持续下沉  
C. 地壳间歇抬升  
D. 地壳间歇下沉
11. 水平溶洞顶部多发育有瀑布,其形成过程是
- A. 水平溶洞出露—流水下蚀—岩体崩塌—地壳抬升  
B. 地壳抬升—流水下蚀—岩体崩塌—水平溶洞出露  
C. 地壳抬升—水平溶洞出露—流水下蚀—岩体崩塌  
D. 岩体崩塌—水平溶洞出露—流水下蚀—地壳抬升
12. 下图为 2021 年 12 月人民币国际支付全球排名,人民币国际支付全球排名首次超越日元。据此,下列认识正确的是

2021年12月  
基于金额统计的全球支付排名

币种	占比	名次
美元	40.51%	第一
欧元	36.65%	第二
英镑	5.89%	第三
人民币	2.7%	第四 (较11月上升一位)
日元	2.58%	第五 (较11月下降一位)

这是六年来人民币首次升至第四位



- ①人民币国际支付提升源自其价值尺度职能增强 ②使用人民币进行跨境贸易结算已成为国际共识  
③人民币在国际贸易中将发挥着更为重要的角色 ④人民币作为国际储备货币的功能必然得到加强
- A. ①②  
B. ①③  
C. ②④  
D. ③④
13. 2021 年 12 月 6 日,经国务院批准,中国物流集团有限公司以综合物流作为主业的新央企诞生。新组建的中国物流集团由原中国铁路物资集团,与中国诚通控股集团物流板块的中国物资储运集团、华贸国际物流股份有限公司、中国物流股份有限公司、中国包装有限责任公司 4 家企业为基础整合而成。中国物流集团的成立
- ①旨在推动国企由质量效益提升向规模扩张转变 ②致力于优化国企资本布局,增强国有经济活力  
③可以推进物流领域专业化整合,优化资源配置 ④通过降低社会物流成本,以提高物流服务水平
- A. ①③  
B. ①④  
C. ②③  
D. ②④
14. 中央财经委员会第十次会议明确提出“形成中间大、两头小的橄榄型分配结构”,同时提出了“鼓励勤劳致富”“扩大中等收入群体比重,增加低收入群体收入”等具体原则。这些要求相互衔接,体现了市场与政府是实现共同富裕过程中应发挥的重要作用。下列对市场与政府实现共同富裕中的作用表述正确的是
- ①实现共同富裕需要发挥市场基础性作用 ②政府的再分配政策致力于实现财富共享 ③市场在共同富裕中具有赋能和兜底功能 ④政府主导的第三次分配可弥补分配缺漏
- A. ①②  
B. ①④  
C. ②③  
D. ③④
15. 据海关统计,2021 年我国货物贸易进出口总值 39.1 万亿元人民币,比 2020 年增长 21.4%。其中,出口 21.73 万亿元,增长 21.2%,进口 17.37 万亿元,增长 21.5%。贸易伙伴中,对欧美日等经济体进出口增长 17.5%,对拉丁美洲、非洲进出口分别增长了 31.6%和 26.3%。可见
- ①我国对外开放向纵深推进,国际市场份额稳步提高 ②非洲、拉丁美洲已经成为我国最主要的贸易伙伴国 ③我国外贸展示出强劲韧性,有力助推世界经济复苏 ④外商对华投资信心增强,进出口货物结构得到优化
- A. ①②  
B. ①③  
C. ②④  
D. ③④
16. “互助五兴”是十八洞村在实践中总结完善、概括提升形成的“村党支部—互助小组—农户”的治理模式,即一名党员联系五户群众,结成互助小组,用群众喜闻乐见的办法,在学习、生产、生活、邻里和睦

【高二第二次模拟考试试题,文综 第 2 页(共 12 页)】

色五个方面开展互帮互助。解决了许多政府“包”不了、家庭“办”不了、个人“干”不了的事情，形成了“1+1>2”的合力。该村的做法

①体现了基层党组织为民服务宗旨 ②强化了基层政权的公共服务职能 ③划清了与政府公权力的管理边界 ④构建了共治共享的乡村治理模式

A. ①③ B. ①④ C. ②③ D. ②④

17. 2022年1月，国务院办公厅印发的《关于全面实行行政许可事项清单管理的通知》提出，行政许可实施机关要严格依照清单实施行政许可，不得增加附加条件或限制。要严肃清查整治各种名义设立的变相许可。要对清单内事项逐项明确监管主体，对多部门共同承担监管职责的事项，行业主管部门应当会同相关部门实施综合监管。可见，《通知》的出台旨在

①缩减政府权力，推动依法行政 ②规范行政行为，转变政府职能 ③提高监管效能，科学履职尽责 ④改革政府机构，推动部门协调

A. ①② B. ①④ C. ②③ D. ③④

18. 人口问题关系民族的未来和国家的长远发展，是真正的“国之大者”。2021年5月31日，中共中央政治局会议指出，进一步优化生育政策，实施一对夫妻可以生育三个子女政策及配套支持措施；2021年8月20日，全国人大常委会会议表决通过了关于修改人口与计划生育法的决定。材料表明

①中国共产党领导了人大立法 ②人大常委会坚持民主集中制 ③人大常委会行使最高立法权 ④人大常委会是党的执法机关

A. ①② B. ①③ C. ②④ D. ③④

19. 舞蹈诗剧《只此青绿》在2022年春晚播出后获得人气口碑双丰收。该剧以古典文学的叙事方式，通过展卷、问篆、唱丝、寻石等七个篇章，讲述了一位故宫青年研究员“穿越”回北宋，以“展卷人”视角“窥”见画家王希孟创作《千里江山图》的故事，深深打动了观众。这体现了

①文化创新的基础在于立足优秀的传统文化 ②文艺创作应结合社会生活创新其呈现形式 ③人既是文化的创造者，也是文化的享受者 ④历史题材厚重的文艺作品最具文化感染力

A. ①③ B. ①④ C. ②③ D. ②④

20. “文艺要通俗，但决不能庸俗、低俗、媚俗。文艺要生活，但决不能成为不良风气的制造者、跟风者、鼓吹者。文艺要创新，但决不能搞光怪陆离、荒腔走板的东西。文艺要效益，但决不能沾染铜臭气、当市场的奴隶。”习近平在中国文联十一大、中国作协十大开幕式上的这段讲话，启示广大文艺工作者

①加强文化市场监管，端正行风 ②提高站位，拒绝文艺商业运作 ③追求艺术理想，争做德艺双馨 ④坚守正道，提升文艺社会效益

A. ①② B. ①④ C. ②③ D. ③④

21. 右边漫画启示我们

A. 在社会实践中才能获得正确认识  
B. 善于根据实际情况建立新的联系  
C. 把握事物的当前联系和长远联系  
D. 墨守成规与冒险蛮干都是有害的



22. 党史学习教育不是一次集中性学习教育就能够完全实现的，也不是一个时期、一个阶段就能够彻底解决的，需要作为我们党的建设的永恒课题和每名党员干部的终身课题常抓长抓、抓细抓实。党史学习教育只有进行时，没有完成时，必须常态化开展、长效化落实。可见，开展党史学习教育

①有利于党员树立正确意识 ②要经历一个量的积累过程 ③是一个圆圈式的循环运动 ④其发展道路是迂回曲折的

A. ①② B. ①③ C. ②④ D. ③④

23. 2022年1月，北京市丰台区的青年党员、团员、青年志愿者放弃休息、第一时间响应号召，集结到战“疫”一线。从协助大数据精准流调，到保障全员核酸检测；从多方面筹措、配送物资，到全面服务封控区居民的日常生活和安全健康，丰台区这群年轻人用特殊的方式打开了新的一年。这启示我们

【高三第二次模拟考试试题·文综 第4页(共12页)】

- ①事实判断影响人们的价值判断 ②要正确处理个人与社会的关系 ③客观环境决定人生价值的大小 ④在劳动和奉献中才能创造价值
- A. ①③                      B. ①④                      C. ②③                      D. ②④
24. 《墨子·鲁问》载：“公输子削竹木以为鹊，成而飞之，三日不下。公输子自以为至巧。墨子谓曰：‘子之为鹊也，不如翟之为车辖（车轴两头的插销）。’”据此可知，墨子意在强调
- A. 公输子发明缺乏创新性                      B. 科技发明应注重实用性  
C. 车辖制作技术的进步性                      D. 经验总结推动科技发展
25. 2002年，我国考古工作者在秦代里耶古城发现的简牍，系秦王朝洞庭郡迁陵县府的文书档案，内容涵盖户口登记、土地开垦、田租赋税、劳役徭役、仓储钱粮、兵甲物资、道路津渡、邮驿管理、奴隶买卖、司法文书、刑徒管理、祭祀先农以及教育学习等相关政令和文书。这些史料可以佐证秦代
- A. 地方政府管理制度严密                      B. 中央集权和地方分权相统一  
C. 法律制度规定异常繁琐                      D. 地方官总揽军政财一切大权
26. 学者张国刚把安史之乱后的唐朝藩镇划分为割据型（河朔地区）、防遏型（中原地区）、御边型（西北、西南边疆）、财源型（东南地区）四种类型。并指出，在唐代后期近50个藩镇中，真正割据的主要是河朔三镇。据此推断，这一时期的藩镇
- A. 促使唐朝开始由盛转衰                      B. 是特定历史环境的产物  
C. 控制了朝廷的财政收入                      D. 利于延续当时唐朝统治
27. 清代前期，江苏松江府一带，“每村庄知务本种稻者，不过十之二三，图利种棉者，则有十之七八”；福建龙岩州，“农民多夺五谷之地以种蔗及烟草”；山西榆次县一些农村种桃，“岁收以代稼”；山东胶州东部，农民“以落花生代稼”；广东南海九江乡，“民多改业桑渔，树艺之夫，百不得一”。据此可知，当时
- A. 精耕细作的技术得以突破                      B. 农业生产的经营模式发生变革  
C. 农业生产商品化程度提高                      D. 特色作物种植已成为农业主导
28. 有学者指出：“他们中的许多人曾是洋务运动的支持者或直接参加者……由于他们个人的坎坷经历以及他们活动的范围大都处在中西文化交融的前沿，这就使其对西学的观察、体认比他们的前者多了一份全面和深刻，能够超越‘洋务’，提出更新的‘借法自强’方案。”其意在强调该方案
- A. 折射出全面西化思潮出现                      B. 以孔教名义提出了革命新要求  
C. 主张推翻传统的君主体制                      D. 是东西文化冲突下的理性认知
29. 1907年，哈尔滨“同记”创业之初就采取前店后厂的模式：前边卖什么，后边就加工什么；前边什么好卖，后边就加工什么。这种模式使“同记”的生意越做越大，到1928年其下辖的企业有10余家，是当地最大的商工联合企业。据此可知，哈尔滨“同记”的成功主要在于
- A. 政府放宽民间设厂限制                      B. 注重创新商业经营方式  
C. 哈尔滨边贸经济较活跃                      D. 南京国民政府统一全国
30. 下表是新民主主义革命时期，中国共产党政策文件中有关阶级划分词语出现频率统计情况。其变化表明，当时

主要 阶级 划分 词语	土地革命时期		抗日战争时期		解放战争时期	
	中华苏维埃共和国 土地法令		中共中央关于抗日根据 地土地政策的决定		中国土地法大纲	
	次数	占阶级划分词语 总次数之比	次数	占阶级划分词语 总次数之比	次数	占阶级划分词语 总次数之比
地主	10	16.9%	22	35.5%	6	18.2%
逃亡地主	0	0	1	1.6%	0	0
经营地主	0	0	1	1.6%	0	0
农民	17	28.8%	25	40.3%	19	57.6%
富农	7	11.9%	12	19.4%	2	6.1%

【高三第二次模拟考试试题·文综 第5页(共12页)】

- A. 中国社会结构出现剧烈变动  
B. 中共解决了中国革命道路问题  
C. 中共对国情的认识不断深入  
D. 中国革命性质发生了根本变化
31. 2017年4月,海南省第七次党代会确定了努力实现全省人民的幸福家园、中华民族的四季花园、中外游客的度假天堂“三大愿景”奋斗目标,作出了深入推进改革开放、争创经济特区体制机制新优势的具体部署。其体现出的思想实质是
- A. 解放思想,实事求是  
B. 拨乱反正,团结协作  
C. 勇于担当,不搞争论  
D. 与时俱进,开拓创新
32. 古雅典的一些赛事是以部落为单位的,比赛是部落间的竞争,参赛者代表的是整个部落,最终的奖品也是授予获胜部落的全体公民,比如奖品是一些金钱或一头公牛。雅典这类赛事的设置
- A. 促进了各种体育活动的普及  
B. 意在增强雅典公民的集体意识  
C. 加快了雅典民主政治的完善  
D. 说明平等自由是雅典基本原则
33. 有学者认为,18世纪欧洲的启蒙思想家继续高举“理性”旗帜,但他们所崇尚的理性不同于17世纪来自于神的天赋的理性,而在于更多地接近感官和经验现象。他们不再沉迷于思想领域,而是纯粹现实和世俗化了。可为上述观点提供依据的是
- A. 法国大革命的狂飙突进  
B. 早期工人运动的兴起  
C. 英国持续进行议会改革  
D. 浪漫主义文艺的兴盛
34. 在当时的条件下,苏联没有集体农庄,就不可能实现工业化,而没有工业化,苏联早在20世纪30年代就被击垮了。此外,集体农庄使人们的生活有了变化,“与集体农庄相伴随的新生活方式,如会议、谈话、宣传报告等现象,使人们的生活变得比以往更有趣味”。这表明苏联农业集体化
- A. 符合历史的时代要求  
B. 服务于工业建设需求  
C. 推动了社会主义改造  
D. 维护了社会环境稳定
35. 右图是“现代绘画之父”塞尚于1906年创作的名画《橘尔当的乡间小屋》。该作品
- A. 利用色彩的对比变化表现造型  
B. 具有反传统抽象性特点  
C. 将浪漫主义之风融入绘画艺术  
D. 超越了既往艺术的成就

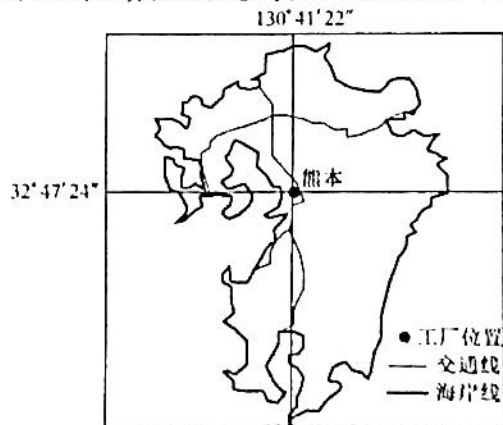


二、非选择题:共160分。第36~42题为必考题,每个试题考生都必须作答。第43~47题为选考题,考生根据要求作答。

(一)必考题:共135分。

36. 阅读图文材料,完成下列要求。(24分)

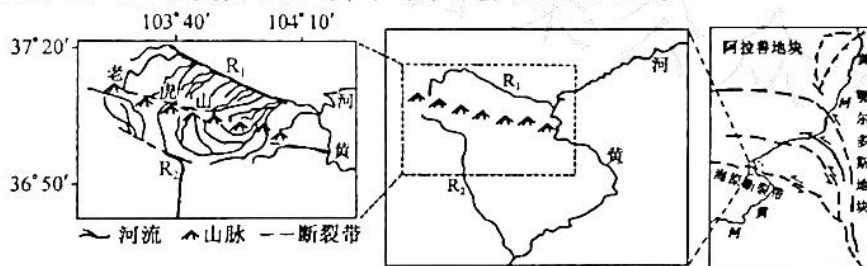
台积电是目前全球最大的半导体和芯片代工制造商,总部和主要工厂位于台湾,其4.7%的营业收入来自日本公司。2021年11月,台积电计划与索尼公司(台积电在日本的最大客户)联合在日本建立其有史以来首家芯片制造厂。该芯片制造厂设在日本熊本县,厂址靠近索尼公司的一家主要生产半导体及汽车芯片的工厂,将于2022年开始建设,2024年正式启用。该芯片制造厂项目的初期投资高达70亿美元,日本政府决定为其提供补贴,补贴资金约占总成本的50%左右。下图示意日本熊本县地理位置。



- (1)说明台积电到日本建厂的主要目的。(6分)
- (2)指出熊本县吸引台积电芯片制造厂落户的优势。(8分)
- (3)推测日本政府决定为台积电芯片制造厂项目提供补贴的主要原因。(4分)
- (4)简述新工厂正式启用后对日本的有利影响。(6分)

37. 阅读图文材料,完成下列要求。(22分)

在青藏高原东北部海原断裂带和黄河交汇区域,构造运动和地势差异在不同空间尺度对水系重组和特定的河流地貌发育有重要作用。受到断裂带附近的强烈挤压,老虎山隆升。地貌勘测表明,老虎山东段南侧水系由向南流转为向北流,但老虎山的隆升并不是其东段南侧水系转向的原因。下图示意老虎山地理位置及山河形势,该区域年平均降水量不足200 mm。



- (1)推测海原断裂带的形成过程。(4分)
- (2)说明内力作用对图示区域河流发育的主要影响。(6分)
- (3)指出水系转向后老虎山东段北侧河谷形态的变化特征,并分析原因。(6分)
- (4)老虎山的隆升并不是其东段南侧水系转向的原因,对此作出合理解释。(6分)

38. 阅读材料,完成下列要求。(14分)

2021年12月,国务院印发《“十四五”数字经济发展规划》(以下简称《规划》)。《规划》提出了数字经济的发展目标:到2025年,数字经济迈向全面扩展期,数字经济核心产业增加值占GDP比重达到10%。

《规划》指出,“十三五”时期,我国深入实施数字经济发展战略,不断完善数字基础设施,加快培育新业态新模式,推进数字产业化和产业数字化取得积极成效。2020年,我国数字经济核心产业增加值占国内生产总值(GDP)比重达到7.8%,数字经济为经济社会持续健康发展提供了强大动力。但与此同时,我国数字经济发展也面临一些问题和挑战:关键领域创新能力不足,产业链供应链受制于人的局面尚未根本改变;不同行业、不同区域、不同群体间数字鸿沟未有效弥合,甚至有进一步扩大趋势;数据资源规模庞大,但价值潜力还没有充分释放;数字经济治理体系需进一步完善。

结合材料,运用经济生活知识,为推动我国数字经济健康发展提出合理建议。

39. 阅读材料,完成下列要求。(12分)

2022年1月25日,中国同中亚五国建交30周年视频峰会举行,习近平总书记在峰会上发表讲话指出:

中国同中亚国家30年的交往合作,立在真诚互信,立在平等互利。30年来,中国同中亚五国在互谅互让基础上彻底解决历史遗留的边界问题,使3300多公里共同边界成为友好、互信、合作的纽带;双方携手同行、共谋发展,贸易和相互投资增长上百倍,中国—中亚天然气管道、中哈原油管道、中塔公路等大项目成功建成,途经中亚的中欧货运班列快速发展;双方积极践行共同、综合、合作、可持续的新安全观,联手打击“三股势力”和跨国组织犯罪、贩毒,坚决反对外部干涉和策动“颜色革命”,有力维护了共同安全利益和地区和平稳定;双方共同捍卫多边主义,在涉及彼此核心利益问题上坚定相互支持,关键时刻挺身而出为对方仗义执言,维护了我们的正当权益和战略利益。

峰会指出,30年来,中国同中亚国家打造战略伙伴关系,政治互信和全面合作达到前所未有的高水平,树立了新型国家关系典范。

结合材料,运用政治生活知识,说明中国为什么能够成功地同中亚国家构建新型国家关系。



40. 阅读材料,完成下列要求。(26分)

2022年2月,北京2022年冬奥会恰逢中国最隆重的传统节日——春节。

春节是万家团圆的时刻,处处体现出中华“和”文化的美妙,彰显着“更团结”的力量。当春节与冬奥会相遇,世界更加感受到中国传统文化和文明交流互鉴的魅力,从团圆、团结中获取开创美好未来的信心和力量。

冬奥会期间,丰盛的中国传统美食和丰富多彩的民俗文化传统为奥运参与者提供十分特别的难忘体验。在既古老又现代的北京,融合春节、民俗、冬奥元素的城市景观随处可见。在以四合院理念设计建设的冬奥村内,饺子等春节美食和装有福字、春联、灯笼的“春节礼包”,让运动员们感受到“过大年”的乐趣。

中华“和”文化蕴涵着天人合一的宇宙观、协和万邦的国际观、和而不同的社会观、人心和善的道德观,与“团结友爱、公平竞争、相互理解”的奥林匹克精神高度契合,都代表着人类追求和平、发展、合作、共赢的共同愿景。中华“和”文化与奥林匹克精神相汇相融,共同奏出世界和谐乐章,更加彰显弥足珍贵的时代价值。

- (1)中华“和”文化与奥林匹克精神共同奏出世界和谐乐章。结合材料并运用矛盾普遍性和特殊性的辩证关系的知识对此加以说明。(12分)
- (2)结合材料并运用文化生活知识,说明中华“和”文化与奥林匹克精神相汇相融的时代价值。(10分)
- (3)某校开展“为奥运喝彩,我为冬奥写对联”活动,请你拟写两条。(4分)

41. 阅读材料,完成下列要求。(25分)

材料一

元代中后期,大都城市人口对海运米极度依赖,“百司庶府之繁,卫士编民之众,无不仰给于江南”。1341年,出现过“海运不给”的问题。1351年,“京师料钞十锭,易斗粟不可得”。翌年,张九四起义军据浙西,方国珍据浙东海道,运道遂梗。元代后期,京畿地区水、旱、蝗、雹等自然灾害频繁。据《元史·五行志》统计,大都地区自中统元年至至治三年的63年间,危及人民生计乃至生命的灾害计有48次。大都与近畿人口饥疫、流离、死亡的过程随之加速。早在元至正初“海运不给”之后,至正九年(1349年),即已开始于京畿和余,并重新整治运河。与此同时,元朝政府实行大规模畿内屯田,虽属权宜之计,但还是取得了一定的效果。

——摘编自韩光辉 向楠《元末大都城市的粮食供应》

材料二

工业革命导致英国城市人口的剧增,带来了严重的粮食供应问题。为此,英国政府通过了多项决议支持运河和铁路的修筑,推动了国内不同地区的粮食互补,以增强城市粮食供应的稳定性。在工业资产阶级的要求下,政府废除了《谷物法》,支持从国外大量进口小麦。据统计,英国19世纪30年代进口粮食比重为2%,19世纪60年代增至24%。粮食问题的基本解决,顺应了英国社会发展进程。

——摘编自贾倩《第一次工业革命时期英国城市粮食供应问题研究——以曼彻斯特为例》

- (1)根据材料一并结合所学知识,概括元末大都粮食供应不足的原因。(8分)
- (2)根据材料二,指出与元末大都相比,近代英国解决城市粮食供给问题的不同之处;并结合所学知识,分析其意义。(13分)
- (3)根据材料并结合所学知识,简析元朝和近代英国处理城市粮食供应问题的历史启示。(4分)

42. 阅读材料,完成下列要求。(12分)

材料

中国共产党国家安全观的百年演进表

新民主主义革命时期	党的二大提出要“消除内乱,打倒军阀,建设国内和平”;“推翻国际帝国主义的压迫,达到中华民族完全独立”;党的七届二中全会上,毛泽东提出“两个务必”,意在使全党在即将取得的胜利面前保持清醒的头脑。
社会主义革命和建设时期	1957年,毛泽东提到:“全党一定要重视农业,农业关系国计民生极大……不抓粮食,总有一天要天下大乱,农业关系到五亿农村人口的吃饭问题。”
改革开放和社会主义现代化建设新时期	邓小平认为,国际上虽然存在着霸权主义和强权政治,但“现在世界上真正大的问题,带全球性的战略问题,一个是和平问题,一个是经济问题或者说发展问题”。
中国特色社会主义新时代	2014年4月15日,习近平总书记在中央国家安全委员会第一次会议讲话中指出:“当前我国国家安全内涵和外延比历史上任何时候都要丰富,时空领域比历史上任何时候都要宽广,内外因素比历史上任何时候都要复杂,必须坚持总体国家安全观。”

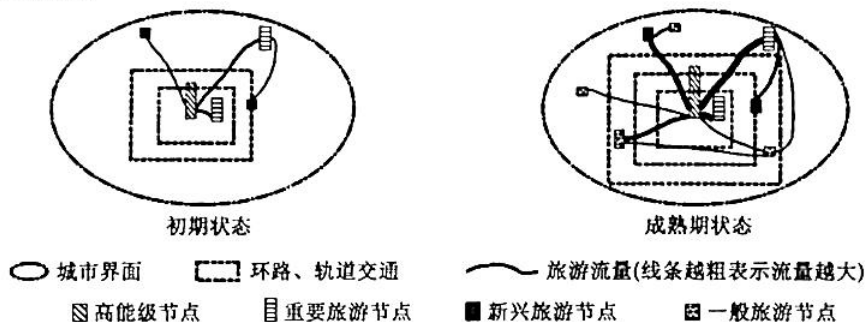
——摘编自张琳 赵佳伟《中国共产党国家安全观的百年演进与现实启示》

根据材料并结合所学知识,选取表格中任一时期或多个时期,围绕“中国共产党的国家安全观”自行拟定一个论题,并就所拟论题进行阐释。(要求:自拟论题,史论结合,史实准确,逻辑严密。)

(二)选考题:共 25 分。请考生从 2 道地理题、3 道历史题中每科任选一题作答。如果多做,则每科按所做的第一题计分。

43. [地理——选修 3:旅游地理](10 分)

首都北京历史文化悠久、古迹众多,是全球拥有世界遗产(7 处)最多的城市,是全球首个拥有世界地质公园的首都城市,对外开放的旅游景点达 200 多处,有世界上最大的皇宫紫禁城,还有八达岭长城及世界上最大的四合院恭王府等名胜古迹,吸引着大量游客流入。下图示意北京旅游流(仅指客流)网络的层级进化。



指出北京旅游流的空间分布特征,并简述旅游流网络的层级进化对该市旅游业发展的积极影响。

44. [地理——选修 6:环境保护](10 分)

世界卫生组织指出,各国因应对新冠疫情而产生的成千上万吨的额外医疗废物,不仅给医疗废物管理系统带来了巨大压力,而且威胁到了人类和环境健康。世界卫生组织的一份最新报告估计,2020 年 3 月至 2021 年 11 月期间采购的个人防护装备约 8.7 万吨,这些设备中的大部分最终都会成为医疗废物。同时,全球已经接种了 80 亿剂以上的疫苗,产生了 14.4 万吨注射器、针头和安全盒等额外废物。

简述各国应对新冠疫情产生的医疗废物的主要来源,并提出可行性应对措施。

45. [历史——选修 1:历史上重大改革回眸](15 分)

材料

辛亥革命后,袁世凯急需一笔贷款来巩固其统治,于是向英、法、德、日等六国提出贷款要求,后者同意向袁世凯贷款,但前提是中国政府拿盐税收入作抵押。1913 年盐务稽核所的建立是中国盐税主权丧失的主要标志。民国初期,北洋当局公布了盐税改革章程,增添了正税、截留盐税和各类附加税。这次盐税改革不但没有去除积弊,反而造成了盐税制度的混乱状况。南京国民政府建立初期,为了取信于异邦财阀,承担了北洋政府期间的外债。为了摆脱经济贫瘠的局势、填补财政赤字、均衡预算,南京当局不断地向英美等国乞贷。旧债加新债,使得债台越筑越高。1927 年,古应芬取消盐务稽核所,由财政部设立盐务处,后更名为盐务署,掌管全国盐政。孙科继任财政部长后,保留盐务署并恢复了盐务稽核所,同时改变了由外国人掌握实权的现象,使职员全部由华人构成。1928 年,南京政府提出了统一税率的主张,后又提高了盐税。1931 年 5 月,南京国民政府立法院颁布了《盐法》,涉及改革运销、统一税率。1934 年,南京政府的盐税收入已经达到两万零六百七十万元。从 1927 年到 1936 年的盐税收入增长了十倍。

——摘编自纪秋颖《南京国民政府时期的盐税改革评析》

(1)根据材料并结合所学知识,概括南京国民政府统治前期盐税改革的背景。(6 分)

(2)根据材料并结合所学知识,指出南京国民政府统治前期盐税改革的积极影响。(9 分)

46. [历史——选修 3:20 世纪的战争与和平](15 分)

材料

1933 年 1 月,希特勒被德国垄断资产阶级推上了总理的宝座,开始实施其对外侵略计划。1934 年,苏联和法国共同拟就的集体安全体系——《东方公约》草案提出后,法、苏两因为正式缔结公约积极开展活动。法国外长巴尔都访问了英国、波兰和捷克斯洛伐克,说服它们支持或参加《东方公约》。英国起先态度冷淡,后来在持保留条件的前提下同意给予支持,捷克则积极支持。德国蓄意进行破坏,始则叫嚣《东方公约》意在包围德国,当苏、法两国表示不反对德国参加后,它又声称在军备平等的权利恢复之前拒绝参加任何国际安全体系。德、波两国拒绝参加,使《东方公约》难以缔结。1934 年 10 月,巴尔都被法西斯雇佣者刺死,继任外长赖伐尔在推行“大联盟”外交时,把意大利放在主要位置上,进一步给《东方公约》蒙上阴影。在多边条约不可能缔结的情况下,苏、法于 1935 年 5 月 2 日签订了《苏法互助条约》。德国重新武装莱茵区后,法国又追随英国推行绥靖政策,致使条约根本没有发挥应有的作用。

——摘编自王斯德《世界通史》

(1)根据材料并结合所学知识,概括《东方公约》无法缔结的原因。(6 分)

(2)根据材料并结合所学知识,说明《东方公约》未缔结的影响。(9 分)

47. [历史——选修 4:中外历史人物评说](15 分)

材料

章学诚,1738 年生于浙东会稽(今绍兴),1801 年卒于湖北。章学诚从小喜爱读书,尤爱史书。乾嘉之际,研经证史的考据之风趋向高涨。章学诚则独树一帜,向社会潮流挑战,他大声疾呼“学问所以经世,而文章期于明道”“君子苟有志于学,则必求当代典章,以切于人伦日用。”章学诚是“六经皆史”说的集大成者,他针对时弊,对这一命题作了全面而系统的论述。“史德”一说是章学诚的独创,是对刘知几良史“三长”之说的重要补充。他首次阐述了“心术”对才、学、识的制约关系,把史德提高到具备良史之条件的第一位,强调史学家在加强学术修养的同时,更要加强思想道德的修养。在史籍分类方面,章学诚明确提出按史籍的性质和作用的不同区分为“撰述”和“记注”提出了明确的要求。他认为,“撰述”是创造性的著作活动,要按自己独到的见解对史料进行分析和综合,“记注”是史料汇编性质,两者各有其用,都很重要。

——摘编自郭明道《论章学诚的史学思想》

(1)根据材料并结合所学知识,分析章学诚的史学思想产生的时代背景。(6 分)

(2)根据材料并结合所学知识,简评章学诚的史学思想。(9 分)

## 高三文科综合参考答案、提示及评分细则

1. D 据图中信息可知,我国四大板块之间淘宝村增速差异明显,整体上东部地区快于中部、西部和东北部地区;我国东部淘宝村数量多于西部;我国四大板块淘宝村消失现象开始于2014年,各年均表现为增长数量大于消失数量。
2. C 结合所学知识分析可知,随着电子商务的快速发展,我国四大板块淘宝村大量涌现,市场竞争加剧,部分淘宝村产品的竞争力下降,销售量锐减,导致这些淘宝村“消失”。政策变化、产品质量、产品价格等都有一定的影响,但不是主导因素。
3. A 分析可知,与日常生活相关的产品,如服装、鞋袜等,需求量大,市场准入门槛低,随着淘宝村的大量涌现,同类产品的早期生存空间被不断压缩,同质化竞争加剧,导致部分淘宝村“消失”。
4. B 根据材料可知,乐陵市地处鲁西北平原,太阳辐射丰富,昼夜温差大,花期升温快,光照好,果实生长期降水量大,热量丰富。独特的自然环境条件非常适合喜光、喜温的金丝小枣生长,使得乐陵金丝小枣品质优异,获批农产品国家地理标志。
5. A 半干的金丝小枣中含有由果胶质和糖组成的缕缕“金丝”,说明果实含糖量高,主要是因为乐陵市为温带季风气候,果实生长、成熟期光照好,昼夜温差大,有利于糖分积累。
6. D 据材料可知,乐陵金丝小枣5月中旬至6月底开花,花期无用花多,消耗的营养多,花期后进入果实生长期,枣树对水分和营养的需求量大,而6月份雨季未到,应及时灌溉施肥,从而提高产量和品质。
7. A 分析可知,在全球气候变暖背景下,海水温度不断上升,超过了珊瑚生存的上限温度,导致珊瑚栖息地向更高纬度区域转移,使得涠洲岛的珊瑚礁成为南海珊瑚的潜在避难所。
8. C 据图文材料分析可知,涠洲岛距大陆较近,随着经济的发展,该岛水产养殖规模不断扩大,频繁的人类活动加剧了涠洲岛环境的恶化,导致该岛珊瑚覆盖率急剧下降。
9. D 据图文材料分析可知,甲地为海湾(三面环陆,一面为海洋),靠近港区,人类活动密集,水体污染较严重,不利于珊瑚生长,导致该地珊瑚覆盖率较低。
10. C 水平溶洞是在地壳稳定期形成的,有四个溶洞且自上而下溶洞的形成越来越晚,说明在溶洞的形成过程中,该地地壳间歇抬升。
11. B 结合所学知识分析可知,水平溶洞形成后,地壳抬升,流水下蚀剧烈,形成峡谷,后纵向及横向处岩层分离,岩体沿断裂处解体崩塌,水平溶洞出露,形成瀑布。
12. D 人民币在国际支付中全球排名上升,人民币外汇储备规模增长,说明人民币国际化稳步推进,人民币作为国际储备货币的功能进一步加强,将推动人民币在国际舞台上发挥更为重要的角色,③①符合题意;纸币没有价值尺度的职能,①不选;目前,人民币作为结算支付工具还没有得到国际社会普遍认可,②不符合实际,不选。
13. C 中国物流集团由原中国铁路物资集团与王家企业为基础整合而成,这有利于推进物流领域专业化整合,优化国企资本布局,提高国有经济活力,②③符合题意;中国物流集团的成立旨在推动国企由规模扩张向质量效益提升转变,①不选;降低社会物流成本的目的不是提高物流服务水平,④不选。
14. A 共同富裕不是平均主义,仍需区分收入差距,这种区分依靠市场来完成,①符合题意;再分配是政府对要素收入进行再次调节的过程,旨在加快推进社会公共服务均等化,缩小收入差距,②符合题意;政府在共同富裕中发挥兜底作用,③不选;第三次分配的主体是民间社会力量,不是政府主导的,④不选。
15. B 2021年我国货物贸易进出口总值较快增长,表明了①③;我国对拉丁美洲、非洲的进出口增长率虽高于对欧美日等经济体的增长率,但并不意味着非洲与拉美成为我国最主要的贸易伙伴国,②不选;材料反映的是对外进出口贸易,不涉及进出口货物结构,④不选。
16. B 十八洞村在实践中形成“村党支部—互助小组—农户”的治理模式,由党员联系五户群众,结成互助小组,开展互帮互助,形成了“1+1>2”的合力,发挥了基层党组织的战斗堡垒作用,体现了基层党组织践行为民服务宗旨,构建了共治共享的乡村治理新模式,①④符合题意;村民自治不涉及国家政权,②不选;村民参与管理村务,属于村民自治范畴,不是和政府分权的问题,③不选。
17. C 《通知》要求,行政许可实施机关要严格依照清单实施行政许可,严肃清查整治各种名义设立的变相许可,并强化对清单内事项的监管力度,旨在推进依法行政,提高监管效能,推动政府科学履职尽责,②③符合题意;全面实行行政许可事项清单管理制度没有缩减政府权力,①不选;《通知》的目的没有涉及改革政府机构,④不选。
18. A 中共中央政治局会议提出立法建议,全国人大常委会按照法定程序表决通过人口与计划生育法,表明中国共产党领导立法,人大常委会坚持民主集中制的工作原则,①②符合题意;材料体现了立法权但这不是行使最高立法权,且行使最高立法权的主体是全国人大,③不选;严格执法的主体是政府,④不选。
19. C 舞蹈诗剧《只此青绿》以古典文学的叙事方式,以故宫青年研究员穿越的剧情,实现了古老文物与现代人之间的情感连接,并收获好评,告诉我们文艺创作应结合社会生活创新其呈现形式,②符合题意;该剧以叙事方式进行别具一格的创作并打动观众体现了人既是文化的创造者,也是文化的享受者,③符合题意;文化创新的基础是社会实践,①不选;文艺作品是否能引起观众共鸣受多种因素影响,最具文化感染力说法太绝对,④不选。
20. D 文艺不能庸俗、低俗、媚俗,不能成为不良风气的制造者、跟风者、鼓吹者,不能搞光怪陆离、荒腔走板的東西,不能

- 沾染铜臭气、当市场的奴隶,这启示广大文艺工作者自觉承担社会责任,自觉遵守国家法律法规,加强道德品质修养,进行文艺创作要坚持把社会效益放在首位,①②③符合题意;加强文化市场监管的主体是政府,④不选;强调文艺创作要把社会效益放在首位,但并不意味着否认文艺作品的商业价值,⑤不选。
21. B 患者等待机会,智者创造机会,启示我们要根据客观实际情况建立新的联系,B符合题意,材料不是体现如何获得知识,也没有体现冒险蛮干、当前联系和长远联系,A、C、D均不选。
22. A 党史学习教育不是一个时期、一个阶段就能够完成,需要作为我们党的建设的永恒课题和每名党员干部的终身课题常抓长抓、抓细抓实,只有进行时,没有完成时,这强调了党史学习教育要重视量的积累,有利于党员树立正确意识,坚定理想信念,①②符合题意;事物的发展是在量变和质变的循环往复中不断前进的,③中“圆圈式的循环运动”表述错误,不选;党史学习教育道路的曲折性在材料中没有体现,④不选。
23. D 这群年轻人放弃休息、第一时间响应号召,集结到战“疫”一线,服务封控区居民的日常生活和安全健康,说明他们在劳动和奉献中、在个人与社会的统一中创造和实现人生价值,②③符合题意;材料没有体现事实判断和价值判断的关系,①不选;④夸大了客观条件对实现人生价值的作用,不选。
24. B 考查墨家思想。材料中墨子以对人有用为巧,这是借公输子作为反面事例,来宣扬墨家的实用思想,故B项正确,排除A项;材料中墨子通过比较竹鸢与车辖的发明,意在强调车辖的实用性,故C项错误;材料没有涉及墨子对“经验总结与科技发展”的看法,故D项错误。
25. A 考查秦朝地方治理。这些秦代的竹简涉及文书、政令,内容涵盖户口登记、土地开垦、田租赋税、劳役徭役、仓储钱粮、兵甲物资、道路津渡、邮驿管理、奴隶买卖、司法文书、刑徒管理、祭祀先农以及教育学习等,这些史料可以佐证秦代地方政府管理制度严密,故A项正确。材料体现不出中央集权和地方分权相统一,故排除B项;材料涉及法律制度,但这不是材料的主旨,故排除C项;秦代实行中央集权,中央牢牢控制地方各项权力,故排除D项。
26. D 考查唐朝的藩镇割据。根据材料可知,东南藩镇从财力上支持朝廷,边疆藩镇以武力护卫朝廷,而中原藩镇总体上具有镇遏河朔、屏障关中的重要作用。这样,河朔地区与中原地区为割据与防割据的关系,中原地区与边疆地区为维系内外均势的平衡关系,边疆地区、东南地区与中原地区为武力与财力的互相依赖关系,构成了一个密切而又互相制约的整体结构,从而维系了唐朝百余年相对稳定的统治,故D项正确。促使唐朝由盛转衰的是安史之乱,故排除A项;B项不是材料强调的主旨,故排除;C项是对材料的片面解读,故排除。
27. C 考查清朝经济。根据材料并结合所学知识可知,耕以自食,织以自衣,这种习俗经济是农民悠久的历史传统。清代前期,农民为追求市场利益,在发展农产品商品生产中,少种或不种粮食,杂米以食,并种植大量经济作物,这成为农民资源配置的一个重大变化,且这种现象随处可见,这表明农业生产商品化程度提高,故C项正确。材料不涉及精耕细作的农业生产技术,故排除A项;中国古代农业生产经营模式是男耕女织的小农经济模式,一直到近代这一模式并未发生根本改变,故排除B项;题干反映了特色经济作物的种植规模很大,但没有居于农业的主导地位,当时仍然以粮食作物的种植为主,故排除D项。
28. D 考查早期维新思想。根据材料并结合所学知识可知,材料所述为早期维新派。早期维新派主张政治变革,建立君主立宪制政体,这一认识是在第二次鸦片战争后,随着民族危机的加剧及地主阶级探索失败后得出的相对理性的认知,故D项正确,排除B、C两项。全面西化思潮出现于新文化运动时期,故排除A项。
29. B 考查近代中国民族资本主义的发展。材料反映出我国近代商业经营方式的变化,以哈尔滨“同记”为代表的民族商业资本与产业资本紧密结合,建立了独特的资本循环,它既可以在一定程度上摆脱帝国主义的控制和封建势力的束缚,又不同于传统的以未致富、以本守之的旧式地主资本,这显然有利于近代民族工商业的发展,故B项正确。甲午战后清政府放宽了对民间设厂的限制,但材料并未反映这一信息,故排除A项;材料并未直接体现出中国企业在哈尔滨与日、俄等国商业贸易的信息,故排除C项;1928年南京国民政府形式上统一全国,且与哈尔滨“同记”的成功并无直接的关联,故排除D项。
30. C 考查中国新民主主义革命。从材料中地主阶级出现的频率来看,“地主”阶级的词汇在不同革命时期呈现的频率不同,联系知识可知,土地革命时期,中共主张消灭地主,并没收其财产和土地;抗日战争时期,出于建立抗日统一战线的考虑,需要团结地主一致抗日,此时“党的政策仅是扶助农民减轻封建剥削,而不是消灭封建剥削”,法规中“地主”一词使用频率的下跌拐点出现在解放战争时期的《中国土地法大纲》中,由此可知,当时的阶级划分词汇的频率与中国革命任务变化息息相关,这表明中共对国情认识的不断深入,故C项正确。近代中国处于半殖民地半封建社会性质下,社会结构未出现剧烈变动,故排除A项;中共解决中国革命道路是在土地革命时期,故排除B项;整个中国近代,中国革命的性质都是资产阶级民主革命,故排除D项。
31. D 考查改革开放。进入新世纪后,海南的改革开放进一步加快了步伐,海南省第七次党代会确立的奋斗目标和具体部署体现出新世纪海南全省要在深化经济体制、机制改革和对外开放中,探索出新的广阔天地的宏伟理想,这体现出的是一种典型的与时俱进、开拓创新的特区精神,故D项正确。1978年底“真理标准问题”的大讨论和中共十一届三中全会使中国共产党确立了解放思想、实事求是的思想路线,故排除A项;此后中国共产党进行的拨乱反正、平反冤假错案等行动加强了全党、全国人民的团结,故排除B项;深圳等经济特区的改革开放也引起国内“姓资”“姓社”等诸多争议,但特区广大领导和干部勇于担当、不搞争论、埋头苦干,邓小平发表“南方谈话”和中共十四大召开,已解决了思想领域的争论问题,故排除C项。
32. B 考查雅典民主政治。材料核心信息是以部落为单位的比赛,奖品授予获胜部落的全体公民,让全部公民集体享有,这一做法意在促进雅典公民为集体服务的意识,故B项正确。材料本身没有涉及赛事的发展问题,故排除A项;材料信息有助于雅典民主的发展,但民主政治的完善突出角度是民主的程序问题,材料无法体现,故排除C项;D项在材料

中体现不出来,故排除。

33. A 考查启蒙思想。材料反映出 18 世纪欧洲的启蒙思想家已经不再沉醉于单纯在思想精神领域对天主教神学统治进行批判,而是更多地深入到社会现实生活领域,把矛头对准各国世俗封建君主的专制统治,在他们的影响和推动下,法国大革命的声浪一波又一波,并把大革命的思想和精神带到了欧洲各地,使欧洲出现了资产阶级革命的高潮,故 A 项正确。19 世纪三四十年代,欧洲早期工人运动兴起,故排除 B 项;工业革命的深入发展,英国在 19 世纪先后进行了三次议会改革,在政治妥协的基础上使政治民主上移工业资产阶级,并下移普通公民,故排除 C 项;19 世纪前期对于启蒙思想家所倡导的“理性王国”的极端失望,浪漫主义文艺兴起,故排除 D 项。
34. A 考查苏联斯大林模式。根据材料信息“苏联没有集体农庄……就被击垮了”“集体农庄使人们的生活有了变化”“使人们的生活变得比以往更有趣味”可知,该材料意在强调农业集体化符合苏联历史的时代要求,故 A 项正确。服务于苏联工业发展没有体现材料的特定社会背景,故排除 B 项;材料未涉及农业集体化和苏联社会主义改造的关系的信息,故排除 C 项;从材料的信息看不出农业集体化维护了社会主义稳定,故排除 D 项。
35. A 考查 19 世纪以来的世界文学艺术。根据题干的信息提示“塞尚创作的名画《橘尔当的乡间小屋》”,可以确定这是印象画派的绘画风格,这类绘画注重利用色彩的冷暖变化表现造型,故 A 项正确。B 项表述为现代艺术画派的特点,故排除;浪漫主义之风不符合印象画派特点,故排除 C 项;材料体现不出塞尚的创作超越了既往艺术成就,故排除 D 项。
36. (1)将芯片生产转移到日本,减少芯片运输费用,提高产品在日本市场的竞争力;扩大市场份额,提高利润;借助日本先进技术,提高产品研发和创新水平;分散产能布局,加速实行全球化战略等。(每条 2 分,答对 3 条得 6 分,共 6 分)  
(2)位于日本西部九州岛的中心位置,地理位置优越;海岸线曲折,多优良港湾,海运条件好;是陆上重要交通节点城市,交通便利;已建有索尼半导体工厂,产业基础较好;临海地带,气候条件优越等。(每条 2 分,答对 4 条得 8 分,共 8 分)  
(3)通过承诺注入大量补贴资金,提高台积电入驻积极性,加快项目落地和投产;以补贴换供应,该厂优先向日本市场供应芯片,保障供应链安全;以补贴换技术,提高日本芯片制造水平,提振日本半导体产业等。(每条 2 分,答对 2 条得 4 分,共 4 分)  
(4)提供大量芯片,缓解日本的“芯片荒”;带动日本半导体及相关产业的发展;带动就业,提高经济收入;促进产业结构调整,推动区域经济一体化等。(每条 2 分,答对 3 条得 6 分,共 6 分)
37. (1)地质历史时期,受到来自印度洋板块强烈的推挤作用,青藏高原隆起并向东北方向推挤,推挤过程中受到阿拉善地块和鄂尔多斯地块的阻挡;当挤压力超过岩层承受能力时,岩层断裂,形成海原断裂带。(每条 2 分,共 4 分)  
(2)断裂带大致呈东西走向,一级支流 R 总体上沿断裂带自西向东流;老虎山的隆升,形成南北两侧的水系;构造抬升活跃,流水下切,多峡谷等。(每条 2 分,共 6 分)  
(3)河谷形态变化特征:变宽变深。(2 分)原因:水系转向后,老虎山东段北侧河流的水量增大,流域面积扩大,侵蚀能力增强,河谷拓宽;水流变急,在原有谷底的下部继续下切,形成深切的“V”形谷。(每条 2 分,共 4 分)  
(4)老虎山的隆升应导致东段南侧支流向南流入 R;降水量较少,河流径流量小,侵蚀能力弱,东段南侧支流难以切穿隆升的老虎山;R 汇入黄河的河口海拔高于 R 河口,R 是低位河,侵蚀能力更强,溯源侵袭,切穿分水岭是水系转向的原因。(每条 2 分,共 6 分)
38. ①坚持创新发展理念,加大对数字基础研究和关键数字技术研发投入,完善产业链供应链相关环节,牢牢把握数字经济自主权。(1 分)②坚持协调发展理念,提升数字产业化和产业数字化普惠水平,促进数据优质资源共享机制,推动数字赋能三大产业均衡发展。(1 分)③推动数据资源标准体系建设,提高数据管理水平和数据质量,提升数据运营和开发利用水平,加快数据要素市场化步伐,实现数字赋能更多地向现实生产力转化。(3 分)④加强宏观调控和市场监管,完善数字经济发展的法律法规和政策制度,规范数字收集和使用安全,推动数字经济行业自律和健康发展。(3 分)(其他答案,符合题意,酌情给分)
39. ①中国与中亚国家在边界问题上互谅互让,相互尊重主权独立和领土完整,奠定了构建新型国家关系的基础。(3 分)  
②中国与中亚国家坚持携手同行,促进贸易和相互投资,深化互利合作,实现双方共同发展、共同繁荣,顺应了渴望发展的时代主题。(3 分)③中国与中亚国家积极践行新安全观,联手打击国际违法行为,有力维护了共同安全利益和地区和平稳定,符合世界人民呼唤和平的共同期盼。(3 分)④中国与中亚国家共同捍卫多边主义,积极维护了双方正当权益,促进了国际关系民主化,推动国际秩序朝着更加公正合理的方向发展。(3 分)(其他答案,符合题意,酌情给分)
40. (1)矛盾的普遍性和特殊性相互联结。一方面,普遍性寓于特殊性之中,并通过特殊性表现出来,没有特殊性就没有普遍性;(2 分)另一方面,特殊性离不开普遍性,特殊性包含普遍性,不包含普遍性的事物是没有的。(2 分)我们要坚持矛盾普遍性和特殊性、共性与个性具体的历史的统一。(2 分)中华“和”文化蕴涵的天人合一的宇宙观、协和万邦的国际观、和而不同的社会观、人心和善的道德观,与“团结友爱、公平竞争、相互理解”的奥林匹克精神,不尽相同,各有自己的独特内涵,属于矛盾的特殊性。(2 分)人类追求和平、发展、合作、共赢的共同愿景是中华“和”文化和奥林匹克精神的共性,属于矛盾的普遍性。(2 分)中华“和”文化与奥林匹克精神相汇相融,彰显出世界文明交流互鉴的魅力。(2 分)(其他答案,符合题意,酌情给分)  
(2)①加深奥运参与者对中华优秀传统文化的认知,扩大中华文化的国际影响力;(3 分)②在春节与奥运文化的交流、互鉴、融合中促进中华文化的发展和世界文化的繁荣;(4 分)③传承人类追求和平、发展、合作、共赢的共同愿景,促进世界和平与发展,构建人类命运共同体。(3 分)  
(3)①九州新貌气雄增,双奥古都神采足。②五环彩帜迎春舞,九域红梅傲雪开。(每条 2 分,共 4 分)(其他答案,符合

题意,酌情给分)

41. (1)原因:经济重心南移,南方成为主要粮食供给中心;海运不畅,南方粮食难以北运;封建统治腐朽,民族矛盾和阶级矛盾尖锐;大都地区自然灾害频繁,当地粮食生产遭到严重破坏。(8分)  
(2)不同:重视发展近代交通运输业;主要是通过经济手段解决;推崇自由贸易政策。(5分)意义:促进了英国各地的经济交流,为工业革命的深入发展创造条件;密切了英国与世界各地的联系,推动了世界市场的形成;沉重打击了英国土地贵族;有助于解决城市粮食供应问题,稳定社会秩序。(8分)  
(3)启示:政府要积极主动发挥重要作用;应对措施要与社会经济发展水平相适应等。(1分,言之成理即可)

42.【评分标准】

(1)论题:(2分)

- ①没有论题或不是材料中得出的论题不得分。  
②根据材料,概括提出的论题合适准确者得2分,余者酌情给分。

(2)阐述:(10分)

- ①能准确全面论证论题正确合理,至少举出三个或三个以上论据者得8分,余者酌情给分。  
②论证充分,逻辑清楚、文字通顺,得2分,但全题不得超过12分。

(3)学生答案言之成理即可,示例答案仅供评分及答题参考。

示例:

论题:新中国成立以来,中国国家安全观实现了与时俱进。(2分)

阐述:新中国成立之初,面对内忧外患的严峻时局,以毛泽东为核心的党和国家领导人始终认为“战争与革命”是时代的主题,且战争无法避免,形成了以政治安全为核心、军事安全为主要手段的传统安全观。面对敌对势力的安全威胁,中国始终重视军事力量建设,实施“三线”建设、研制核武器。从邓小平时期开始,中国基于“和平与发展”的时代主题的判断,在安全内容认知方面,实现了以“政治安全”为核心向以“经济安全”为主的重大转变。在安全维护手段方面,邓小平倾向于对话与合作,体现了慎武的态度。中共十八大以来,国际安全面临的不稳定性、不确定性更加突出,体现在国际格局的深刻演变,全球和地区性安全问题的持续增多,中国国家安全面临多元复杂的威胁和挑战。习近平总体安全观不是孤立地看待一国的安全,而是从多领域、多层次地看待国家安全,重视国际安全合作,将“结伴而不结盟”视为实现国际安全的重要路径,更加注重“中国作为”在国际安全中的积极作用。(10分)

43. 空间分布特征:北京旅游流集中于市中心的高能级节点;随着重要旅游节点及一般旅游节点的增多,旅游流呈现出一定的分散化。(每条2分,共4分)积极影响:促进旅游景点之间公共设施的完善,优化游客进出和停留时间;有利于优化传统旅游景点功能,促进外围新的旅游节点的发展;有利于将旅游流便捷导入到其他旅游节点上,提高城市旅游的运转效率;提高旅游业收入,提升旅游业服务水平等。(每条2分,答对3条得6分,共6分)
44. 主要来源:一次性口罩;个人防护服;核酸检测废弃试剂盒;核酸检测化学废物;大量注射器、针头和安全盒等。(每条2分,答对2条得4分,共4分)应对措施:制定便于操作的一次性口罩专项回收措施,引导公众参与集中回收处理;使用安全、可回收、可降解和可重复使用的个人防护装备;加大科技投入,研发非燃烧的废物处理技术,如高压灭菌器;对非传染性废物进行集中处理和回收利用;加大宣传力度,提高公众环保意识等。(每条2分,答对3条得6分,共6分)
45. (1)背景:北洋时期盐税制度混乱;国民政府债台高筑,财政危机严重;盐税主权丧失,中国半殖民地化程度加深。(6分)  
(2)积极影响:盐务主权的回归是历史的进步;改变了盐税征收与管理混乱的局面,一定程度上实现了统一盐税税率的目标;加强了中央税收的权威,促进了盐务的全面发展;推动了商品流通和经济发展,有利于人民生活的安定;一系列盐法新规的颁布及盐务机构改革,降低了帝国主义对南京政府的控制,促进了食盐运销;为抗日战争提供了一定的财政基础;促进了中国盐务管理的近代化。(9分,任答三点即可)
46. (1)原因:英国对《东方条约》态度冷淡;德、波拒绝参加;赖伐尔推行“大联盟”外交政策;德国的破坏。(6分,任答三点即可)  
(2)影响:促使法、苏走向自保,签订《苏法互助条约》;不利于反法西斯战线的建立;加速英法实施绥靖政策;一定程度上纵容了法西斯的侵略,加速了二战的爆发。(9分)
47. (1)背景:清代考据学的兴起;宋明理学和陆王心学的日益僵化;明末清初启蒙思想的兴起;传统史学的发展。(6分,任答三点即可)  
(2)简评:经世致用是章学诚史学思想的核心,对清代中后期史学经世思想的复兴产生了一定的影响;章学诚经史并重,极大地提高了史学的地位,扩大了史学研究和史料搜集的范围,有利于史学研究的深入与发展;强调史学家要加强思想道德修养,对史学研究和撰著工作具有重要的指导和借鉴意义;其史学分类思想及要求,直至今日仍有重要的学术价值和指导意义。(9分,任答三点即可)



## 关于我们

自主选拔在线是致力于提供新高考生涯规划、强基计划、综合评价、三位一体、学科竞赛等政策资讯的升学服务平台。总部坐落于北京，旗下拥有网站（[网址: www.zizzs.com](http://www.zizzs.com)）和微信公众平台等媒体矩阵，用户群体涵盖全国90%以上的重点中学师生及家长，在全国新高考、自主选拔领域首屈一指。

如需第一时间获取相关资讯及备考指南，请关注**自主选拔在线**官方微信号：**zizzsw**。

