

无锡市 2022 年秋学期普通高中期末考试试卷

高三政治 2023.1

命题单位：江阴市教师发展中心 制卷单位：无锡市教育科学研究院

注意事项：

1. 本试卷分第 I 卷（选择题）和第 II 卷（非选择题）两部分，满分 100 分，考试时间为 75 分钟。
2. 请将第 I 卷（选择题）的答案用 2B 铅笔填涂在答题卡上，第 II 卷（非选择题）的答案一律用 0.5 毫米黑色墨水的签字笔书写。
3. 答题前，请将自己的学校、班级、姓名、考试号填写在答题卡的规定位置。
4. 考试结束后试卷由学生自行保管，以备讲评。

第 I 卷（选择题 共 45 分）

一、选择题：本题共 15 小题，每小题 3 分，共 45 分。在每小题给出的四个选项中，只有一项最符合题目要求。

1. 恩格斯指出：“氏族制度的伟大,但同时也是它的局限性,就在于这里没有统治和奴役存在的余地。”这表明
①氏族内部的所有成员之间的关系都是平等的
②阶级的产生是以生产力发展到有一定剩余产品为前提的
③氏族制度的伟大之处在于它与极低的生产力水平相适应
④氏族制度的局限性在于它没有人剥削人、人压迫人的现象
A. ①② B. ①③ C. ②④ D. ③④
2. 美国正经历疫情和经济危机的双重打击。美国商务部 7 月公布的首次预估数据显示 2022 年美国 GDP 已连续两个季度负增长。美国如果不能通过实施有效的宏观经济政策来调控，2023 年或将正式进入衰退进程中。据此，下列说法正确的是
①贯穿人类社会始终的私有制成为资本主义发展的阻碍

②资本主义国家无法从根本上解决经济危机

③出现这一系列问题的根本原因在于资本主义社会的主要矛盾

④资本主义国家通过制定宏观经济政策可以缓解经济风险

A. ①③ B. ①④ C. ②③ D. ②④

3. 产业数字化是指在新一代数字科技支撑和引领下，以数据赋能为主线，对产业链上下游的全要素数字化升级、转型和再造的过程。目前，我国已建成了全球最大规模的5G网络，助力产业数字化。产业数字化的发展为我国制造业的健康发展提供强劲动力，产业数字化传导路径正确的是

A. 降低产品研发和制造成本→实现精细化营销、个性化服务→催生盈利商业模式

B. 提升生产的自动化、智能化水平→增强市场竞争力→提高经济效益

C. 驱动精准触达客户需求→提升产业价值链、供应链→占领市场制高点

D. 产业分工精细化、协同化、平台化→扩大经济规模→全新产业生态体系

4. 下表为重要资源跨区域调配的国家级战略工程：

工程	内容
西电东送	把中国煤炭、水能资源丰富的西部省区的能源转化成电力资源，输送到电力紧缺的东部沿海地区。
西气东输	将西部丰富的天然气资源通过管道输送到需求巨大的东部地区。
东数西算	让西部的算力资源更充分地支撑东部数据的运算，更好为数字化发展赋能,推动更多数据中心向可再生能源更丰富的西部转移。

表中这些工程的共同意义是

①有利于推动区域协调发展，增强发展的整体性

②有利于激发市场主体活力，为经济发展提供体制保障

③有利于东部和西部双方优势互补，实现资源优化配置

④有利于推动清洁能源开发利用，实现碳达峰、碳中和的目标

- A. ①② B. ①③ C. ②④ D. ③④

5. 中国特色社会主义进入新时代，我国经济发展也进入了新时代，基本特征就是我国经济已由高速增长阶段转向高质量发展阶段。实现我国经济高质量发展要求

- A. 深化改革，发挥投资对优化供给结构的基础性作用
- B. 完善宏观调控，通过行政手段处置长期亏损的企业
- C. 处理好政府和市场的关系，发挥大型国企主体作用
- D. 全面实施乡村振兴战略，在发展中保障和改善民生

6. 动辄几十元一个的“天价雪糕”表面平平无奇，和“普通雪糕”一起躺在店家的冰柜里，当你随手拿起一个排队结账时，高昂的价格往往会给人“致命一击”，但此时已经不好意思再放回去了。网友给它们取名为“雪糕刺客”。这表明

- A. 生产经营者应充分发挥主观能动性，探求市场运行规律
- B. 生产经营者应自觉站在人民立场上，提高产品的性价比
- C. 政府应加强监管，维护消费者权益，坚决取缔高价消费
- D. 消费者应端正消费态度，作出正确价值判断与价值选择

7. 某地基层党组织在社区治理短板过程中探索建立“一核两驱五升级”模式。“社区党建突破项目”“月度擂台赛”成为党建目标管理的“两个驱动”；建立“邻里议事会”等议事平台，变居民“上门找”为干部“找上门”；开发建设“智慧社区”数据平台，数据化推进工作，吸纳外卖骑手担任兼职网格员。该模式之所以能破解治理难题，是因为


- ①发挥了党统筹全局的核心作用，凝聚合力
- ②能优化基层社会治理格局，推动各主体共商共建
- ③调动各主体参与，共同履行社会管理的职能
- ④发挥基层民主协商作用，消除居民利益差异

- A. ①② B. ①④ C. ②③ D. ③④

8. 当前我国正处在实现中华民族伟大复兴的关键时期，必须发挥法治的积极作用，提升法治促进国家治理体系和治理能力现代化的效能。“法与时转则治，治与世宜则有功”，这需要

- A. 立法机关从国情和实际出发，制定良善之法来保障善治
- B. 人民代表大会加强法律监督，确保行政权依法高效运行
- C. 人民群众积极投身法治实践，建立完备的法律服务体系
- D. 各级法院独立行使审判权，通过结果公正实现程序公正
9. 哲学星空群星灿烂，马克思主义哲学是其中最明亮的。习近平总书记主持中央政治局集体学习马克思主义哲学时强调共产党人要掌握马克思主义哲学这个“看家本领”。这是因为马克思主义哲学
- ①第一次实现了唯物主义和辩证法的结合，是中国共产党的指导思想
- ②实现了哲学史上的伟大变革，是建设中国特色社会主义的理论基础
- ③是科学的世界观与方法论，能随着历史和实践的发展而不断向前发展
- ④具有指导人们认识世界和改造世界的功能，能够帮助人们确立人生观
- A. ①② B. ①④ C. ②③ D. ③④

10. 汉服的袖口都是宽大畅松的，代表了天道圆融，汉服的衣体展示了公平正直和包容万物的东方哲学意蕴。正是汉服“天人合一”的文化内涵和飘逸洒脱的外在形式，成为一个国家一个民族的深刻记忆，一直是国人心中代表中国文化的美丽“符号”。这表明
- ①汉服文化具体内涵在世代传承中保持稳定性
- ②汉服蕴含着中华民族的思想观念和价值追求
- ③汉服文化契合了中国人的审美视角和精神需要
- ④汉服文化因兼收并蓄而具有穿越时空的影响力
- A. ①② B. ①④ C. ②③ D. ③④



11. 阅读右图漫画，给我们的警示是
- ①要常备不懈，不断砥砺自我
- ②要居安思危，防止矛盾转化
- ③要未雨绸缪，做到防微杜渐

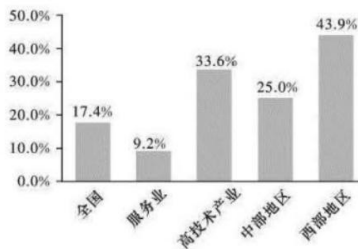
④要抓住时机，促成事物飞跃

A. ①③ B. ①④ C. ②③ D. ②④

12. 2022年8月9日，美国总统拜登签署总额高达280亿美元的《芯片和科学法案》，加码对华科技“脱钩”，企图遏制中国半导体产业的发展。美国这一做法不仅波及全球产业链的稳定，也终将封锁自己，反噬自身。这说明

- A. 联系具有多样性，坚持一切以时间地点条件为转移
- B. 矛盾同一性不能脱离斗争性，是包含着差别的同一
- C. 上层建筑为落后经济基础服务，则会阻碍社会前进
- D. 价值观影响人们对事物的评价，影响人们行为选择

13. 2022年1—6月，全国实际使用外资金额7233.1亿元人民币。结合2022年上半年我国实际使用外资金额同比增长情况（如右图）可推断出



- A. 我国深度融入全球化进程，对外依存度不断提高
- B. 我国创新对外投资方式，培育贸易新业态新模式
- C. 我国吸引外资势头强劲，不断优化外资利用结构
- D. 我国利用外资提高效益，培育国际竞争新优势

14. 公司甲与业余发明人乙订立了一份技术开发协议，约定由乙为甲开发完成一套智能考勤系统，由甲为乙提供开发资金设备资料等，并支付报酬。在约定的时间内乙完成了合同约定的任务，并按约定将全部技术资料 and 权利都交给了甲公司。此外，乙在完成开发任务的过程中，还开发出了一项附属技术T，并以自己的名义就技术申请专利。甲公司知道此事后，认为技术T的专利申请权应归甲公司所有，甲、乙双方发生争议诉诸法院。根据上述信息，下列说法正确的是

- A. 法院应判决技术T的专利申请权归公司甲所有
- B. 乙违约。因为公司甲为乙提供开发资金设备资料等，并支付报酬
- C. 发明人乙完成技术T的发明创造后可以向国家工商局申请专利
- D. 乙不违约。因为乙履行了合同约定的所有义务

15. 刘某在某火锅店就餐时不小心被热油大面积烫伤，引发人身损害赔偿纠纷。由于刘某家庭困难，司法所为其提供法律援助，促成双方就赔偿及后续治疗达成一致。该案例中的法律援助

- ①是化解社会矛盾、解决纠纷的最优选择
- ②目的在于帮助受援助公民获得更多经济赔偿
- ③为刘某保障自身合法权益提供无偿法律服务
- ④彰显法治的理性和温情，维护司法公平正义

A. ①② B. ①④ C. ②③ D. ③④

第 II 卷 （非选择题 共 55 分）

二、非选择题：本题共 4 题，共 55 分。请紧扣题意，结合所学相关知识，回答问题。

16. 真理之光，穿越历史，照亮今天。下列材料节选自 1848 年发表的《共产党宣言》。

摘录一：至今一切社会的历史都是阶级斗争的历史。在过去的各个历史时代，我们几乎到处都可以看到社会完全划分为各个不同的等级，看到社会地位分成的多种多样的层次。在古罗马，有贵族、骑士、平民、奴隶，在中世纪，有封建主、臣仆、行会师傅、帮工、农奴，而且几乎在每一个阶级内部又有一些特殊的阶层。

从封建社会的灭亡中产生出来的现代资产阶级社会并没有消灭阶级对立。它只是用新的阶级、新的压迫条件、新的斗争形式代替了旧的。

摘录二：资产阶级在历史上曾经起过非常革命的作用。自然力的征服，机器的采用，化学在工业和农业中的应用，轮船的行驶，铁路的通行，电报的使用，整个大陆的开垦，河川的通航，仿佛用法术从地下呼唤出来的大量人口——过去哪一个世纪料想到在社会劳动里蕴藏有这样的生产力呢？

资产阶级在它的不到一百年的阶级统治中所创造的生产力，比过去一切世代创造的全部生产力还要多，还要大。

资产阶级在它的不到一百年的阶级统治中所创造的生产力,比过去一切世代创造的全部生产力还要多,还要大。

摘录三:资产阶级生存和统治的根本条件,是财富在私人手里的积累,是资本的形成和增殖;资本的条件是雇佣劳动。雇佣劳动完全是建立在工人的自相竞争之上的。资产阶级无意中造成而又无力抵抗的工业进步,使工人通过结社而达到的革命联合代替了他们由于竞争而造成的分散状态。于是,随着大工业的发展,资产阶级赖以生产和占有产品的基础本身也就从它的脚下被挖掉了。它首先生产的是它自身的掘墓人。资产阶级的灭亡和无产阶级的胜利是同样不可避免的。

摘录四:代替那存在着阶级和阶级对立的资产阶级旧社会的,将是这样一个联合体,在那里,每个人的自由发展是一切人的自由发展的条件。

请任选两则摘录,以“在阅读经典中感悟真理力量”为主题撰写一篇阅读心得。(6分)

要求:①运用《中国特色社会主义》相关知识;

②观点明确,理由充分,逻辑清晰,结构合理;

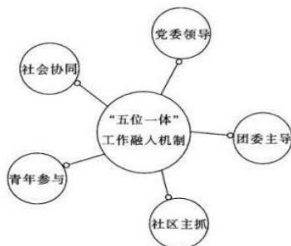
③学科术语使用规范,字数在150字左右。

17. 2022年5月,中共中央办公厅、国务院办公厅印发了《乡村建设行动实施方案》。该

方案决定到2025年,农村公共基础设施往村覆盖、往户延伸取得积极进展,加快构建便捷高效的农村公路骨干网络,加强防汛抗旱基础设施建设。中央和地方财政要积极支持乡村建设,道路、供水等重点领域基础设施建设投资由政府主导,同时引导社会力量参与。推行经营性、准经营性设施使用者付费制度,鼓励社会资本和专业化企业有序参与农村公共基础设施管护。

结合材料,运用《经济与社会》的相关知识,分析政府与社会力量在乡村建设中的作用。(12分)

18. 在党建引领下，某市各级团组织深入推进社区青春行动，形成了“五位一体”（如右图）工作融入机制，积极调动“团干+社工+志愿者+社会组织+社区青年”五方力量投身社区治理，不断扩大“朋友圈”，广泛动员团员青年参与社区建设和服务，在 15 个社区实施后，将取得的经验推向全市以供借鉴。



结合材料，运用唯物辩证法的相关知识，论证该市团组织工作思路的合理性。（10 分）

19. “金砖+”是加强金砖国家与其他发展中国家和新兴经济体联络、互动的合作模式。2022 年 5 月 19 日，外交部长王毅在北京主持金砖国家同新兴市场和发展中国家外长视频对话会时表示，五年前，习近平主席倡议提出“金砖+”合作模式，得到各方积极支持和热烈响应，丰富提升了“金砖”价值。目前，金砖合作正进入一个崭新的发展阶段，面临着全新的发展机遇，这对合作机制的创新也提出了新的要求。展望未来，“金砖+”模式必将会走上一条更加光明的共同发展、繁荣富强之路。

结合材料，运用《当代国际政治与经济》的相关知识，分析“金砖+”合作模式前途必将更加光明的原因。（9 分）

20. 法治是城市治理的优良品格。某市始终坚持高位谋划，发挥法治的核心竞争力，在赋能高质量发展、创造高品质生活、实现高效能治理上当样板、作表率。组建惠企法律服务“金牌团队”，在全省首推“律师志愿服务进政务大厅”，率先推出行政执法“义诊”，执法检查、执法监督与复议监督衔接联动等一系列工作举措；坚持改革创新求突破，在省城范围内首创“网格自管”新范式，着力打造矛盾纠纷联合调解中心；大力建设法治文化阵地，6 个法治文化公园与 12 条普法街纵贯全区。该地先后被确定为第一批省法治政府建设示范区、全国首批行政执法协调监督工作体系建设试点区。

该市老洪多年来一直从事传统蜡染艺术的设计创作，曾被授予“非物质文化遗产保护工作先进个人”荣誉称号。他创作的一幅名为《和谐共生十二》的作品，色彩以靛蓝为主，描绘了一幅花鸟共生的和谐图景。A 公司在生产销售当地土特产的产品包装上，使用了一幅蜡染花鸟图案。该图案与老洪的作品在花鸟图形的结构造型、线条排列等方面高度一致，只在图案的底色和线条的颜色方面存在差别。

阅读材料，完成下列要求。

(1) 结合材料，运用《政治与法治》的知识，说明该市是如何运用法治方式和法治思维促进城市治理的。（12 分）

(2) 结合材料，运用《法律与生活》的知识回答，老洪的作品是否受法律保护？为什么？（6 分）

关于我们

自主选拔在线是致力于提供新高考生涯规划、强基计划、综合评价、三位一体、学科竞赛等政策资讯的升学服务平台。总部坐落于北京，旗下拥有网站（[网址：www.zizzs.com](http://www.zizzs.com)）和微信公众平台等媒体矩阵，用户群体涵盖全国 90% 以上的重点中学师生及家长，在全国新高考、自主选拔领域首屈一指。

如需第一时间获取相关资讯及备考指南，请关注**自主选拔在线**官方微信号：**zizzsw**。



 微信搜一搜

 自主选拔在线

