

高三文科综合

考生注意：

1. 本试卷分选择题和非选择题两部分。满分 300 分，考试时间 150 分钟。
2. 答题前，考生务必用直径 0.5 毫米黑色墨水签字笔将密封线内项目填写清楚。
3. 考生作答时，请将答案答在答题卡上。选择题每小题选出答案后，用 2B 铅笔把答题卡上对应题目的答案标号涂黑；非选择题请用直径 0.5 毫米黑色墨水签字笔在答题卡上各题的答题区域内作答，**超出答题区域书写的答案无效，在试题卷、草稿纸上作答无效。**
4. 本试卷主要命题范围：高考范围。

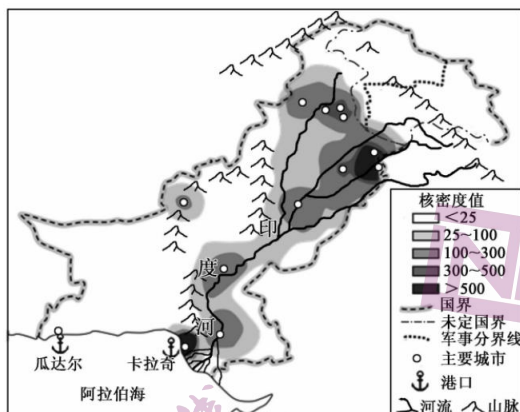
一、选择题：本题共 35 小题，每小题 4 分，共 140 分。在每小题给出的四个选项中，只有一项是符合题目要求的。

海水稻(耐盐碱水稻)，是指能在盐(碱)浓度 0.3% 以上的盐碱地生长的一种水稻。2021 年，袁隆平海水稻团队已在全国签约 600 万亩盐碱地改造项目，正式启动海水稻的产业化推广和商业化运营，拟用 8 至 10 年实现 1 亿亩盐碱地改造整治目标，以实现“亿亩荒滩变良田”。据此完成 1~3 题。

1. 原生海水稻植株在海边可以长到 1.8~2.3m，主要是为了
 - A. 适应涨潮时海水较深的环境
 - B. 防御海浪对海岸的侵蚀
 - C. 减少海洋生物对种子的破坏
 - D. 充分利用海岸的太阳光
2. 促进海水稻能够进行产业化推广和商业化运营的关键因素是
 - A. 消费市场
 - B. 劳动力数量
 - C. 科学技术
 - D. 气候变暖
3. 海水稻进行商业化运营的主要目的最可能是
 - A. 延长水稻产业链
 - B. 开展粮食出口贸易
 - C. 增加水稻附加值
 - D. 保障国家粮食安全

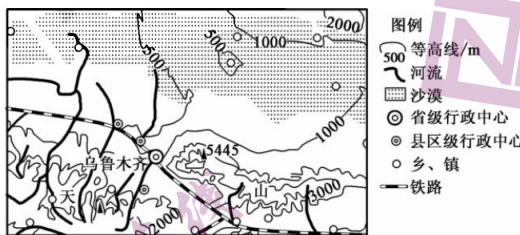
巴基斯坦位于南亚次大陆西北部，全境五分之三为山区和丘陵。据统计，巴基斯坦 2019~2020 财年 GDP 中农业、工业和服务业比例为 19.3 : 19.3 : 61.4，其中服务业中批发与零售、居家服务以及其他私人服务占服务业部门产值的 60.1%。2019 年该国城镇化率为 36.91%，54.3% 的城镇人口集中在 10 个人口 100 万以上的城市，92.5% 的城镇人口数量在 20 万以下。下图示意 2019 年巴基斯坦城镇核密度空间分布(城镇核密度可有效反映城镇体系空间密集区范围的分布特征，>300 的区域为城镇密集区，>500 的为城镇集聚核心区)。据此完成 4~6 题。

【文综 第 1 页(共 12 页)】



4. 目前巴基斯坦城镇化的特点是
- A. 中间级别的城市发展滞后 B. 大多数城市出现逆城市化现象
- C. 主要由生产性服务业推动 D. 形成了体系合理的城镇化格局
5. 形成巴基斯坦城镇体系“东密西疏”空间格局的基础条件是
- A. 文化教育水平差异 B. 自然环境差异
- C. 交通运输便捷程度 D. 国际贸易差异
6. 卡拉奇港和瓜达尔港是巴基斯坦两个重要的港口城市。与卡拉奇港相比,瓜达尔港
- A. 货物吞吐量更大 B. 更适合建深水港
- C. 经济腹地更大 D. 基础设施更完善

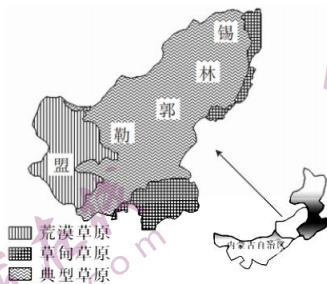
在下沉过程中受逆温层阻挡而不能在地面着陆,只发生在中高层的焚风称为低空型焚风。乌鲁木齐市地处东南高而窄、西北低而阔的喇叭口形峡谷地带,常常出现低空型焚风,对当地城市建设、交通、作物生长、空气质量等产生了重要的影响。下图示意乌鲁木齐位置。据此完成7~8题。



7. 乌鲁木齐市低空型焚风发生频率最高的季节是
- A. 春季 B. 夏季 C. 秋季 D. 冬季
8. 当低空型焚风强盛时,乌鲁木齐市
- A. 逆温层温差增加 B. 垂直方向对流运动增强
- C. 近地面风速增大 D. 近地面气温显著升高


【文综 第2页(共12页)】

NPP(植被净初级生产力)是生态系统中绿色植被通过光合作用所固定有机质的数量,即绿色植物在单位时间、单位面积上所积累的光合物质扣除自身呼吸损耗的部分。草地作为陆地生态系统的重要组成部分之一,不仅为人类社会发展提供着强大的物质基础,而且在生态服务功能上具有不可替代的作用。锡林郭勒盟草原位于内蒙古自治区中部,海拔为 800~1800 m,年降水量为 100~350 mm。下图示意锡林郭勒盟主要草原类型及其分布。据此完成 9~11 题。



9. 锡林郭勒盟地区的水热分布规律大致为
- 降水由西南向东北递减,温度由东北向西南递增
 - 降水由东北向西南递减,温度由西南向东北递增
 - 降水由西南向东北递减,温度由西南向东北递增
 - 降水由东北向西南递减,温度由东北向西南递增
10. 锡林郭勒盟各类型草原的 NPP 值由高到低依次是
- 典型草原、草甸草原、荒漠草原
 - 荒漠草原、典型草原、草甸草原
 - 草甸草原、典型草原、荒漠草原
 - 典型草原、荒漠草原、草甸草原
11. 据调查,近年来锡林郭勒盟草原年 NPP 值呈提高趋势,其主要原因可能是
- 扩大了种植业面积,产量增加
 - 规定了合理载畜量,放牧合理
 - 延长了草原产业链,草质提高
 - 扩大了城市的规模,人口增加
12. 习近平新时代中国特色社会主义思想在许多方面都具有开创性、原创性。这种开创性、原创性,打破了惯常的视野局限、思维局限与理论局限,既是对马克思主义基本原理的进一步揭示,又有关于当今时代问题的新思想新观点。由此可见,习近平新时代中国特色社会主义思想
- ①是习近平同志个人独创的治国理政新思想
 - ②为解决当今中国的时代课题提供了具体方案
 - ③是具有开创性意义的新理念新思想新战略
 - ④是马克思主义与中国实践相结合的理论成果
- ①②
 - ①④
 - ②③
 - ③④
13. 香港特区政府财政司司长陈茂波表示,在中国梦里,也有着香港梦,香港全社会要团结,心往一处想、劲往一处使,不为任何风险所惧,不为任何干扰所惑。香港要与全国人民一起团结合力,为实现中华民族伟大复兴而奋斗。上述论述体现了
- ①中国梦是国家的梦,民族的梦,也是每一个中华儿女的梦
 - ②中国梦让每个人获得发展的机会,要在实现个人梦的实践中放飞梦想
 - ③中国梦是中华民族团结奋斗的最大公约数和最大同心圆
 - ④中国梦是中国人民追求幸福的梦,也同世界人民的梦想息息相通
- ①②
 - ①③
 - ②④
 - ③④

【文综 第3页(共12页)】

14. 算法技术是一种通过人工智能分析和过滤机制对海量数据进行深度分析、完成信息内容与用户精准匹配的技术。基于算法技术,平台根据用户的支付能力、消费偏好、使用习惯等,对新老交易相对人实行差异性交易价格,进行“大数据杀熟”。对利用算法技术“大数据杀熟”认识正确的是
①新技术应用对实施宏观调控提出新要求 ②算法技术高效地完成了人和信息的匹配
③要强化对利用新技术不正当竞争的监管 ④算法技术侵犯了部分消费者的合法权益
A. ①② B. ①③ C. ②④ D. ③④
15. 2022年12月,兰州新区财政局、民政司法和社会保障局为新区城乡低保对象、低保边缘人口、特困人员、优抚对象、孤儿和事实无人抚养儿童等困难群体发放价格临时补贴共计13.25万元。据测算,此次价格临时补贴受益的困难群众有2862户5939人。以上补贴
①主要是为了激发劳动要素活力 ②是消除收入差距的现实要求 ③是政府履行再分配调节功能的表现 ④彰显了我国以人民为中心的发展思想
A. ①② B. ①④ C. ②③ D. ③④
16. 从城乡社区里的村(居)民议事会、村(居)民论坛、民主恳谈会、民主听证会到党代表、人大代表、政协委员联合进社区,从“小院议事厅”到“板凳民主”,从线下“圆桌会”到线上“议事群”,中国人民在火热的基层生活中,摸索创造了一个又一个充满烟火气的民主形式。充满烟火气的民主形式
①创新了基层群众自治组织形式 ②增强了基层群众的民主意识和民主能力 ③彰显了我国全过程人民民主的鲜明特色 ④有利于提升社区治理的行政化水平
A. ①③ B. ①④ C. ②③ D. ②④
17. 广西某地创新开发“代表来了”小程序。小程序上创设“民意心声”“部门回应”“人大督办”等模块专区。依托该程序,人大代表线上实时“下单”,后台管理人员分拣“派单”,政府相关职能部门及时“接单”,在代表与人大机关、政府相关职能部门之间搭建了一辆“民意直通车”。该程序开发使用有利于
①人大代表密切联系群众,更好地行使监督权 ②增强人大民生监督实效,提升建议办理质量 ③提升国家治理水平,保证国家机关协调高效运转 ④倾听人民群众呼声,实现人大代表常态履职
A. ①③ B. ①④ C. ②③ D. ②④
18. 漫画《机会面前》讽刺了一些人想问题、做事情
①不能正确发挥主观能动性 ②不能够果断抓住时机,实现飞跃
③不懂得抓住矛盾的主要方面 ④不善于具体问题具体分析
A. ①② B. ①④ C. ②③ D. ③④
- 
19. 习近平在推进南水北调后续工程高质量发展座谈会上强调,南水北调等重大工程的实施,使我们积累了实施重大跨流域调水工程的宝贵经验。其中一个经验是集中力量办大事,从中央层面统一推动,集中保障资金、用地等建设要素,统筹做好移民安置等工作。可见,集中力量办大事,必须做到
①局部服从全局,地方服从中央 ②重视量的积累,促成质的飞跃 ③立足发展需要,推动联系转化
④坚持系统观念,把各个部分联系起来统筹考虑
A. ①③ B. ①④ C. ②③ D. ②④

【文综 第4页(共12页)】

20. 二十国集团财长和央行行长会议在华盛顿举行。各方重申将根据需要运用所有可用的政策工具，共同防范经济下行风险和负面溢出效应，维护金融稳定和长期财政可持续性。中方表示，G20 应加大对发展中国家和弱势群体支持，促进发展成果共享。材料表明

- ①二十国集团主要讨论全球重大经济金融热点问题 ②二十国集团是积极构建人类命运共同体的核心力量 ③中国倡导平等、开放、合作、共享的全球经济治理观 ④二十国集团的经济政治一体化进程加快

A. ①③ B. ①④ C. ②③ D. ②④

21. 邓女士散步时被一只狗咬伤，邓女士跟着狗找到马某家并要求马某担责，马某辩称，这只狗是流浪狗，他并非狗的实际主人，只是近期才好心收留，与自家狗一同喂食，自己不应担责。邓女士不服，遂向法院提起诉讼。下列说法正确的是

- ①马某应就这只狗是流浪狗负有举证责任 ②邓女士自身若有重大过失，马某可以不承担或者减轻责任 ③本案适用“举证责任倒置”，应由马某承担全部举证责任 ④若邓女士对一审判决不服，必须在收到判决书 10 日内上诉

A. ①② B. ①④ C. ②③ D. ③④

22. 同一律要求人们：在同一思维过程中，每一思想必须保持自身同一性。下列违反同一律的是

- ①物质是世界的本原，原子是物质，所以，原子是世界的本原 ②我赞成实践是检验真理的唯一标准，但我认为马克思主义基本原理也应当是检验真理的标准 ③采纳他的意见，或者不采纳他的意见，我都不赞成 ④顾客问：“你这儿有好茶吗？”服务员回答：“我这儿全是好茶，从来就不卖变质的茶。”

A. ①② B. ①④
C. ②③ D. ③④

23. 爱因斯坦提出光具有波粒二象性的理论后，法国科学家德布罗意曾这样推测：“凡有质量的都是有能量的，凡实物粒子都是有质量的，所以，凡实物粒子都是有能量的。”这个三段论

- ①大前提是“凡有质量的都是有能量的” ②是正确的，符合三段论的推理规则 ③是错误的，犯了“大项不当扩大”的错误 ④结论中的主项“实物粒子”是“大项”

A. ①② B. ①③ C. ②④ D. ③④

24. 商代借民力以助“公田”，而不向百姓的“私田”征收赋税；周代后期，不分公田、私田，均按什一比例征收实物税，政府的收入得以增加。这一变化的发生

- A. 减轻了农民的赋税负担 B. 源于社会生产力的进步
C. 推动了生产工具的改进 D. 直接导致分封制的崩溃

25. 中国古代社会统治思想的确立有一个“试错”的过程，战国时期，诸子蜂起，百家争鸣，游说诸侯，以求自售；秦始皇重用韩非法家之说；汉武帝时“罢黜百家，独尊儒术”，思想界“大一统”局面形成。这一变化过程反映了

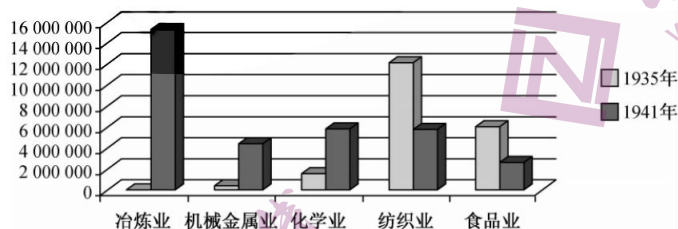
- A. 诸子百家逐渐走向消亡 B. 社会大变革由思想主导
C. 中国从分裂走向了统一 D. 儒家学说顺应时代潮流

【文综 第 5 页(共 12 页)】

26. 下表所示为宋神宗元丰元年矿产品税课情况。由此可知,当时采冶业

项目	总收入	北方坑冶收入及所占百分数		南方坑冶收入及所占百分数	
金	10 710(两)	9 696	90.5	1 024	9.5
银	215 385(两)	35 087	16.3	180 298	83.7
铜	14 605 969(斤)	15 411	0.1	14 590 558	99.9
铁	5 501 097(斤)	5 299 134	96.3	201 863	3.7

- A. 技术实现了较大突破
B. 成为财政收入的主要来源
C. 布局及发展的不平衡
D. 扶植了贵金属行业的发展
27. 明清时期的文书避讳更加严格。朱元璋为回避他做和尚的经历,在文书的语言中均不许提及;到清代文书避讳更变本加厉,除了避皇帝名字的“敬讳”,还有所谓避“凶讳”等等,名目极为繁多。这实质上反映了明清时期
- A. 皇帝重视树立权威
B. 封建迷信思想盛行
C. 限制臣民言论自由
D. 君主专制不断强化
28. 鸦片战争后,耆英致美国专使顾盛的函件中说:“中国之待各国商人,不能有所偏,偏则各国人心不服,是以上年本大臣议定贸易章程之事……大皇帝不待各国请求,即通行一体照办,此即一无所偏之明证,非专为英国贸易通商所定也。”这反映出清朝
- A. 对外开放态度日趋积极主动
B. 抛弃了传统落后的华夷观念
C. 近代国家主权意识尚未形成
D. 完全沦为列强侵略中国工具
29. 1899年,梁启超撰文说:“此股忧愤激者之言,此事虽屡行于欧美,而不切于我中国今日之事势也。……今中国尚孩提也,孩提而强使自主,时曰助长,非徒无益,将又害之。”据此可看出梁启超
- A. 固守资产阶级改良主义的道路
B. 成为资产阶级革命的支持者
C. 舍弃了向西方学习的救国方案
D. 找到了中国自强独立的新出路
30. 下图反映的是1935年和1941年中国民族工业某些领域资本总额的情况(单位:元)。此表反映了这一时期我国民族工业



- A. 投资成本得到迅速膨胀
B. 构建起完整的工业体系
C. 因抗战需要而迅速崛起
D. 行业间发展严重不平衡
31. 1956年,苏联干涉波兰和匈牙利的事件发生后,毛泽东指出:“就其性质来说,是资产阶级沙文主义的错误。这种错误,特别是大国沙文主义的错误,对于社会主义各国的团结和共同事业,必然会带来严重的损害。”这反映出我国
- A. 欲发挥大国应有的政治影响力
B. 坚持独立自主的外交基本原则
C. 基本放弃“一边倒”的外交战略
D. 努力倡导“求同存异”外交方针

【文综 第6页(共12页)】

32. 在拜占庭文化中,《荷马史诗》的诗篇和寓意被基督教神学家改造,其故事失去了多神教的色彩,着重传达了基督教的信念,基督徒的价值观也被植入其中。这反映了
- A. 基督教文化根植于古希腊的文化之中
B. 古希腊文化是拜占庭文化的重要来源
C. 拜占庭帝国统治者重视本国文化发展
D. 基督教的发展不利于希腊文化的传承
33. 恩格斯说:“人们可以把旧的封建性法权形式的很大一部分保存下来,并且赋予这种形式以资产阶级的内容,甚至直接给封建的名称加以资产阶级的含义。”恩格斯这番话最适合用来评价
- A. 英国内阁的继承性特点
B. 美国联邦制的创新性特点
C. 德国议会的虚假性特点
D. 法国民主革命曲折性特点
34. 1871年,达尔文在《人类的由来》中指出:“人尽管有他的一切华贵的品质,有他高度的同情心,能怜悯最为下贱的人,有他的慈爱……有他的上帝一般的智慧,能探索奥秘,窥测到太阳系的运行和组织……然而,在他的躯干上面仍然保留着他出身于寒微的永不磨灭的烙印。”据此可知,达尔文
- A. 否定了人文主义核心内涵
B. 试图融合神学的思想
C. 坚持生物进化的基本观点
D. 受到浪漫主义的影响
35. 1947年,苏联不少地区缩小集体农庄基本劳动组织的规模,成立劳动组,并实行包产到组的制度。负责全国农业领导工作的安德烈也夫在《真理报》撰文指出:“集体农庄劳动基本形式越个体化……对发展粮食和畜牧业越有成效”。这些探索
- A. 改变了苏联农业的社会主义性质
B. 冲破了斯大林模式对农业的束缚
C. 拉开了战后苏联经济改革的序幕
D. 反映了苏联社会摆脱困境的愿望

二、非选择题:共 160 分。

36. 阅读图文材料,完成下列要求。(20 分)

老挝是东南亚唯一的内陆国,是世界最不发达国家之一,境内 80% 为山地和高原,且多被森林覆盖。中老昆万铁路是“一带一路”倡议提出后,首条以中方为主投资建设、全线采用中国技术标准,使用中国设备并与中国铁路网直接联通的国际铁路,线路全长 1000 多公里。截至 2022 年 12 月 2 日,中老铁路开通一年,累计发送旅客 850 万人次。下图为昆万铁路示意图。

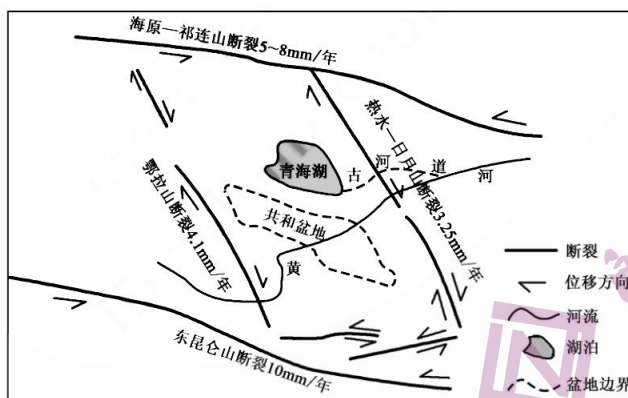


【文综 第 7 页(共 12 页)】

- (1)除昆万铁路外,老挝国内仅有首都万象至老泰边境3公里铁路。试简析老挝国内铁路线路短缺的主要社会经济原因。(6分) 更多试题与答案, 关注微信公众号: 三晋高中指南
- (2)说明昆万铁路全线采用中国技术标准的可能原因。(6分)
- (3)说明昆万铁路建设后对老挝产生的社会效益。(8分)

37. 阅读图文材料,完成下列要求。(18分)

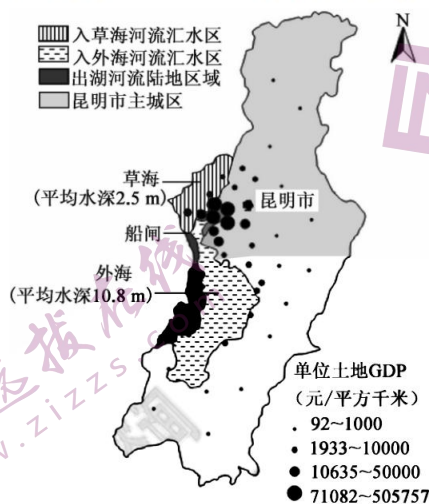
印度洋板块与亚欧板块的挤压导致青藏高原的隆升,青藏高原及其外围形成一系列褶皱—断块山,局部地区形成盆地。青海省东部是青藏高原向东北挤压的前缘部位,多条大断裂交汇,构造块体衔接(见下图),其地貌格局深受断裂和块体运动的制约。青海湖原为外流湖,随着热水—日月山断裂抬升,古河道倒流,青海湖成为内流湖。共和盆地曾为封闭的共和古湖,黄河溯源切开热水—日月山断裂的豁口进入共和盆地,古湖湖水外泄。随后黄河继续溯源切开鄂拉山的豁口,共和盆地的水环境再次发生改变。



- (1)伴随青藏高原的隆升,局部地区形成盆地,请对此作出合理解释。(6分)
- (2)根据断层运动特征,判断图示区域地势最高的位置,并说明理由。(6分)
- (3)分别说明黄河切开热水—日月山断裂和鄂拉山断裂对共和盆地水文特征的影响。(6分)

38. 阅读图文材料,完成下列要求。(18分)

滇池位于昆明主城区西南侧的西山脚下,是昆明的母亲湖,也是云南面积最大的湖泊,1966年修建的船闸将湖区分割为几乎不交换的草海和外海两部分。与外海相比,草海水质明显较差,一度恶化到劣V类。下图为滇池草海和外海概况示意图。更多试题与答案,关注微信公众号:三晋高中指南



- (1) 指出滇池所具有的环境功能。(8分)
- (2) 分析草海水质较差的主要原因。(4分)
- (3) 请为改善滇池水质提出合理化建议。(6分)

39. 阅读材料,完成下列要求。(14分)

材料一 我国是能源消费大国,也是能源进口大国,我国石油和天然气对外依存度分别高达70%、40%以上,能源安全面临严峻挑战。大力发展可再生能源已成为全球能源革命和应对气候变化的主导方向和一致行动。近年来,光伏发电作为重要的可再生能源发电技术取得了快速发展,在很多国家已成为清洁、低碳并具有价格竞争力的能源形式。我国在“碳中和”成为全球命题的背景下,仅2021—2022年就出台了10余项扶持政策鼓励光伏产业发展创新。同时,国家在对可再生能源方面的资金扶持力度也进一步加大。在多方面利好的政策环境下,我国光伏行业实现稳定增长。根据国家统计局数据显示,2022年1—6月中国光伏电池累计产量为14202.9万千瓦,累计增长31.8%;2016—2021年中国光伏电池产量逐年递增,2021年达到最高。经历了近几年的政策扶持和企业的自主创新,我国光伏产业走在世界最前列,2021年我国光伏制造四环节(硅料、硅片、电池片、光伏组件)产值突破7500亿,出口额(超280亿美元)、新增装机量(54.88GW)、累计装机量(300GW)均创历史新高。

材料二 2022年以来,我国全方位加强国际能源合作:9月,2022年太原能源低碳发展论坛举行,中国释放愿同世界各国一道,推动构建开放共赢的能源国际合作新格局的强烈信号;11月,第四届中俄能源商务论坛以线下与线上相结合的方式举行,释放出两国继续深化、扩大能源合作的积极信息;12

【文综 第9页(共12页)】

月,首届中国—阿拉伯国家峰会、中国—海湾阿拉伯国家合作委员会峰会举行,从传统能源到清洁能源、低碳经济、能源转型,中阿能源合作水平持续提升。

(1)结合材料一,运用经济与社会知识,说明我国发展光伏产业的积极意义。(8分)

(2)结合材料二,运用“世界多极化”的知识,说明我国全方位加强国际能源合作的理由。(6分)

40. 阅读材料,完成下列要求。(12分)

为了彻底整治群众身边腐败和作风问题,福建省纪委监委问计于民,创新推出“群众点题、部门答题、纪委监督、社会评价”工作机制,并对“点题”实行项目化推进、流程化运作、清单化管理,推动问题整改落实。

群众点题	部门答题、纪委监督	全程公开
过去,纪委监委都会针对群众身边的问題,向相关部门开出整改清单,但有的并未真正契合群众切身诉求。现在向全社会征集群众诉求,确立“整治”清单项目。	牵头相关部门开展联合整治,并跟踪督促问题整改。纪委监委定主体、定目标、定措施、定进度;督促职能部门组建“作战部”,制定“路线图”“时间表”。	实时接受群众监督,将通过第三方机构开展满意度测评。“最终效果好不好,还要让群众说了算。”整治工作全程公开,实时接受群众监督。确保整治真正回应群众关切。

结合材料并运用政治与法治知识,说明福建省纪委监委“点题整治”能把群众的烦心事办成暖心事的原因。更多试题与答案,关注微信公众号:三晋高中指南

41. 阅读材料,完成下列要求。(26分)

近几年,我国执行“三线四档”、房地产贷款集中度管理、严查经营贷违规进入楼市等降杠杆手段以及限购、限贷、限售等调控手段,打击投资投机行为,坚持房子是用来住的、不是用来炒的定位,积极促进房地产市场平稳健康发展。

第十三届全国人民代表大会常务委员会第三十一次会议作出决定,授权国务院在部分地区开展房地产税改革试点工作。试点地区的房地产税征税对象为居住用和非居住用等各类房地产,不包括依法拥有的农村宅基地及其上住宅。土地使用权人、房屋所有权人为房地产税的纳税人。非居住用房地产继续按照《中华人民共和国房产税暂行条例》《中华人民共和国城镇土地使用税暂行条例》执行。

多年来,我国商品房的刚需一直很大。中国人好像一定要有一套自己的屋子,落上自己名字的房

【文综 第10页(共12页)】

产证,才可以称得上完美的人生。导致这种思想的主要原因是传统观念根深蒂固,从古至今中国人对房子就有一种执念,房子不但是住所,更是社会地位的象征。而许多外国人都是租房子生活,从来不会因为房子的问题去局限自己的脚步。“房子是租来的,但生活不是”,这句话是租客网自成立以来就打出的广告语,简单一句话却包含了很多内涵,不论你是买房子还是租房子,生活都是你自己的。

(1)结合材料并运用“社会基本矛盾运动”的相关知识,说明我国开展房地产税改革试点工作的合理性。(12分)更多试题与答案,关注微信公众号:三晋高中指南

(2)结合材料并运用“文化传承与创新”的知识,谈谈你对中国住房文化的认识。(8分)

(3)结合材料,运用法律与生活知识,简要说明开征房地产税的意义。(6分)

42. 阅读材料,完成下列要求。(25分)

材料一

旧时居于买卖双方之间,从中撮合,以获取佣金的人叫牙人,又称牙子。明代牙人在商业活动中有着不可或缺的重要作用,他们的存在既体现出了明代商业发展的需要,同时也是国家商业管理政策的意志体现。国家通过法规来规范牙人的行为,也就是承认了牙人在商业活动中的地位。在明中后期,受到商业发展的影响,私牙群体数量扩大,一方面国家以牙人进行商业管理的体制受到了冲击,另一方面也加剧了牙人之间的竞争。

——摘编自李潇《明代商人与商业研究》

材料二

按照相关统计,1872—1913年中国共开办145家新式企业,已知投资人202人,其中人数最多的是地主和官僚,有113人;其次即是买办,有50人。“买办不仅在数量上、投资的规模上极力侧身于近代工商企业,而且获利颇丰。买办的这些活动,给社会的各个阶层做出了一个很好的示范作用,带动了国人投资近代新式企业的热情,有利于近代民族资产阶级队伍的扩大”。买办对普通人的生活也产生很大影响,农村通过他们才用上了物美价廉的煤油、洋布和其他棉织品。

——摘编自金普森、易继苍在《买办与中国近代社会阶层的变迁》

(1)根据材料一并结合所学知识,简析明代牙人“不可或缺”的原因。并说明其对当时社会发展的影响。(10分)

(2)根据材料二并结合所学知识,指出中国近代“买办”阶层的身份特征,辩证分析其对近代中国社会经济活动的影响。(15分)

43. 阅读材料,完成下列要求。(12分)

材料

时间	作品	人物形象
1599~1602年	莎士比亚《哈姆雷特》	哈姆雷特是一个渴望理想人生、对未来和人类充满信心的青年,他对生活的美好幻想因父亲的暴毙而破灭……在实施复仇计划时,他想改造崩溃的现实社会,又因优柔寡断的性格丧失良机,最终落得一败涂地的下场
19世纪30年代	巴尔扎克《欧也妮·葛朗台》	葛朗台将全部感情强烈地倾注在金钱上,只知敛财,不知享受生活和天伦之乐。他不顾妻子和女儿的健康,妻子生病舍不得请医生看病;禁闭女儿,每天只给面包和凉水。他的一生可悲可笑,是一个被金钱异化的吝啬鬼
1929年	海明威《永别了,武器》	美国青年弗瑞德里克·亨利是抱有幻想与爱国精神的热血青年,出于对国家的信任,他志愿参加了一战。但是当他深入战场后,他看到的是死亡与困苦,眼前的战争是非正义的,这让亨利陷入迷惘

根据材料并结合所学知识,自行拟定一个论题并予以阐述。(要求:论题明确,逻辑清晰,史论结合。)更多试题与答案,关注微信公众号:三晋高中指南

44. 阅读材料,完成下列要求。(15分)

材料一

第二次世界大战后,美、苏两国从战时合作走向了战后对抗。国际关系的变动,给中共对外政策提出了一个新的课题:如何在美苏对峙的环境中选择最有利于中国革命的策略?起初,针对美苏转向对抗的形势,中共并不打算偏就哪一方,而是想独立自主地奉行对外政策。但是,作为两大阵营的领导人,美国和苏联都想尽可能使中国这个地域、人口大国加入到各自的队伍中来,这在客观上使得中国很难中立,必须得明确自己的立场。后来,随着美、苏两国对待国共内战和新中国的态度的变化、中国经济建设的需要,新中国不得不放弃中立的可能,在外交上旗帜鲜明地站在社会主义阵营一边。

——摘编自张秀华《关于“一边倒”外交政策》

材料二

中苏结盟在很大程度上影响了中国介入朝鲜战争,而对越战争之前最重大的事件就是中美建交。朝鲜战争与中国对越战争的一个共同点是中国与苏、美两个超级大国建立某种形式的联盟关系。两次结盟使中国的国家安全战略、国家发展战略、国家对外关系战略高度统一,实现了三者的良性发展。冷战时期中国同苏、美的两次结盟行为及其背后反映出的思维方式的影响是长远的、全面的。

——摘编自牛军《冷战时期中国对外三次战略决策及影响》

- (1)根据材料一并结合所学知识,简要分析新中国成立后在外交上推行“一边倒”战略的原因。(6分)
- (2)根据材料二并结合所学知识,概要论述冷战时期中国同苏、美的两次结盟行为所产生的战略影响。(9分)

高三文科综合参考答案、提示及评分细则

1. A 原生海水稻植株在海边可以长到 1.8 ~ 2.3m, 是对生长环境的一种适应, 海水潮起潮落, 滩涂周期性被海水淹没, 海水稻植株长得比较高, 可以避免在高潮水位时被淹没。
2. C 海水稻能够进行产业化推广和商业化运营得益于科技的进步。
3. D 海水稻商业化运营能够增加粮食产量, 有利于保障国家粮食安全。
4. A 由题干可知, 巴基斯坦城镇人口主要集中在人口 100 万以上的特大城市和 20 万以下的小城市, 中间级别城市 (50 万~100 万人口的大城市) 发展滞后, 城镇体系不合理。据材料信息可知巴基斯坦经济落后, 工业化水平低, 工业基础薄弱, “服务业中批发与零售、居家服务以及其他私人服务占服务业部门产值的 60.1%” 说明其目前城市化的推动力主要是生活性服务业。
5. B 读图可知, 巴基斯坦西部多高原、山地, 城镇稀疏; 东部印度河平原地区海拔相对较低, 地形较平坦, 水源充足, 城镇密集。故自然环境的差异是形成“东密西疏”城镇格局的基础条件。
6. B 由图可以看出, 卡拉奇港城镇核密度值远大于瓜达尔港, 说明卡拉奇港经济较瓜达尔港发达, 其港口吞吐量更大、基础设施更完善; 瓜达尔港周边城市较少, 卡拉奇港是巴基斯坦与世界联通的交通门户、贸易门户和临港工业中心, 故其经济腹地更广阔; 卡拉奇港位于印度河三角洲附近, 泥沙淤积多, 建深水港的条件不如瓜达尔港。
7. D 低空型焚风主要是受逆温层阻挡形成的, 乌鲁木齐市逆温现象在冬季最频繁、最显著 (冬季冷空气受天山山脉阻挡, 速度减缓, 盆地地形冷空气容易停滞聚集, 天气稳定, 地面夜间冷却却强, 白天高空增温强, 形成下冷上热的稳定逆温结构)。更多试题与答案, 关注微信公众号: 三晋高中指南
8. A 低空型焚风会使逆温层上层温度升高, 从而使逆温层上下层温差增大; 逆温层温差增大后, 下冷上热的大气结构更稳定, 无论是垂直方向的对流还是水平方向的风都会进一步减弱; 低空型焚风未着陆, 主要使中高层气温升高, 不会使地面气温显著升高 (实际上地面气温反而会因逆温层温度梯度的变化而下降)。
9. D 东北部临近大兴安岭, 受地形影响, 降水相对丰富, 纬度较高, 热量较少。
10. C 东部降水多于西部, 植被相对丰富, 草甸草原的 NPP 较高, 西部荒漠草原植被稀少, 草原的 NPP 较低, 故 NPP 由高到低依次为草甸草原、典型草原、荒漠草原。
11. B 规定合理载畜量、合理放牧对草原植被的恢复起到了积极作用, 使草原年 NPP 值提高。扩大种植业面积和城市规模, 会导致草原破坏、草原面积缩小, 草原年 NPP 值下降; 延长草原产业链与草原年 NPP 值关联性小。
12. D 习近平新时代中国特色社会主义思想是党和人民实践经验和集体智慧的结晶, 故①说法不准确, 不选。习近平新时代中国特色社会主义思想为解决当今中国的时代课题提供了理论指导和行动指南, 不是具体方案, 故②不选。③④说法正确且符合题意。
13. B 在中国梦里, 也有着香港梦, 香港全社会要团结, 心往一处想、劲往一处使, 与全国人民一起团结合力, 为实现中华民族的伟大复兴而奋斗, 体现了中国梦是国家的梦, 民族的梦, 也是每一个中华儿女的梦, 是中华民族团结奋斗的最大公约数和最大同心圆, ①③正确。要在实现中国梦的实践中放飞梦想, ②说法错误。④说法正确, 但不符合题意。
14. B “大数据杀熟”表明国家需要科学的宏观调控, ①正确; ②不是对设问的思考, 不符合题意; “大数据杀熟”是利用新技术进行不正当竞争的行为, 应强化对利用新技术不正当竞争的监管, ③正确; 算法技术的使用者侵犯了部分消费者的合法权益, 不是技术本身侵犯了部分消费者的合法权益, ④错误。
15. D 政府部门向困难群体发放价格临时补贴, 是发挥再分配机制作用, 促进社会公平, 彰显了我国坚持以人民为中心的发展思想, ③④符合题意; 这里的财政补助主要是生活补助, 属于再分配, 不是工资待遇的提高, ①不选; ②中“消除收入差距”的说法错误, 不选。
16. C “村委会”“居委会”是基层群众自治组织形式, 材料没有体现创新基层群众自治组织的形式, 只是创新基层自治活动和方式, ①不选; 材料中各种民主实践形式和中国人民火热的基层政治生活, 表明充满烟火气的民主形式增强了基层群众的民主意识和民主能力, 故②正确; 材料中“村(居)民议事会、村(居)民论坛、民主恳谈会、民主听证会”“党代表、人大代表、政协委员联合进社区”彰显了我国的民主是全过程的人民民主, 故③可选; 社区治理要去行政化, ④

【文综参考答案 第 1 页(共 4 页)】

- 不选。
17. D 从材料不难看出,“代表来了”小程序的开发使用,有利于密切人大代表和人民群众的联系,听取和反映人民群众的意见和建议,切实解决人民群众的困难,提高政府工作的实效,故②④符合题意;人大行使监督权,故①不选;人民代表大会制度保证了国家机关高效协调高效运转,③夸大了该程序的作用,不选。
18. A 漫画主要讽刺,有些人面对机遇,不能正确发挥主观能动性,优柔寡断,错失大好时机,故①②符合题意;漫画没有涉及矛盾特殊性、矛盾的主要方面等知识,故③④不选。
19. B 讲话强调,“集中力量办大事,从中央层面统一推动”这说明①可选。从“集中保障资金、用地等建设要素,统筹做好移民安置等工作”可推知④入选。材料没有涉及量变和质变关系,故②不选。推动联系转化必须立足客观实际,故③排除。
20. A 二十国集团财长和央行行长举行会议,各方重申将根据需要运用所有可用的政策工具,共同防范经济下行风险和负面溢出效应,维护金融稳定和长期财政可持续性,表明①符合题意;中方表示,G20 应加大对发展中国家和弱势群体支持,促进发展成果共享,表明③符合题意。并不是所有二十国集团成员都认同构建人类命运共同体理念,且材料也不能表明二十国集团在构建人类命运共同体中发挥核心力量,故②不选;二十国集团政治一体化在材料中没有体现,故④不选。
21. A 民事诉讼实行“谁主张,谁举证”的举证原则,本案不适用“举证责任倒置”,①正确,③错误。本案中邓女士自身若有重大过失,马某可以不承担或者减轻责任,②正确。在民事诉讼中,对一审判决不服,可在收到判决书 15 日内上诉,④错误。
22. B 材料中“物质是世界的本原”的“物质”与“原子是物质”中的“物质”不是一个意思,偷换了“物质”的概念,所以违反同一律,故①符合题意。顾客问的“好茶”是指品质优良的茶叶,而卖茶叶的人说的“好茶”指的是没有变质的茶叶。违背了同一律要求,故④可选。材料中“我赞成实践是检验真理的唯一标准,但我认为马克思主义基本原理也应当是检验真理的标准”犯了“自相矛盾”的错误,违反了矛盾律,故②不符合题意。采纳他的意见,或者不采纳他的意见,我都不赞成,属于“两不可”,违背了排中律,故③不选。
23. A 结论中的主项为小项,故结论中的主项“实物粒子”是小项,④错误。“有能量的”是大项。包含大项的前提是大前提,①正确。大项在前提中是不周延的,在结论中也是不周延的,故没有犯“大项不当扩大”的错误,③不选。上述推理符合推理规则,②可选。
24. B 考查先秦时期的土地及税收制度。根据材料信息可知,由商代到周代,特别是春秋时期私田的增多及调整了产品分配形式,由劳役地租向实物地租过渡,调动了劳动者的积极性,从而增加政府的收入。此外,私田开始征税表明私田的合法性得到承认,而私田大量出现本身就是生产力发展的结果,故 B 项正确。根据材料,到西周时期,不论公田、私田都要征收实物税,这在一定程度上是增加土地拥有者的负担,且奴隶社会并没有农民这一说法,故排除 A 项;材料中的收税变化与生产工具没有直接关系,故排除 C 项;秦统一全国的军事行动及郡县制的实行直接导致分封制崩溃,故排除 D 项。更多试题与答案,关注微信公众号:三晋高中指南
25. C 考查中国古代儒学发展。从战国到秦汉,中国从分裂走向了统一,思想上也相应由“百家争鸣”到“重用韩非法家之说”再到“罢黜百家,独尊儒术”,故 C 项正确。
26. C 考查宋代的手工业。根据材料可知,北方在金、铁生产中占优势,而南方在银、铜、铅生产中超过北方,这体现出南北采掘冶炼手工业布局与发展的不平衡,故 C 项正确。材料没有关于采掘冶炼技术方面的信息,且没有以往发展状况的信息,故排除 A 项;材料没有涉及采冶手工业税收在财政总收入中的比重,故排除 B 项;材料能够说明政府对采冶手工业的收税,但是体现不出其他的政策,故排除 D 项。
27. D 考查明清君主专制的强化。朱元璋时期,为了回避他做和尚的经历,在文书中的语言中均不许提及,这实质上反映了朱元璋采取某种手段来维护自己天下独尊的皇帝权威;清朝的文书中除规定避皇帝名字的“敬讳”,还有所谓避“凶讳”,这实质上体现了明清时期君主专制体制的不断强化,故 D 项正确。A、B、C 三项均不能反映材料的实质,故排除。
28. C 考查鸦片战争。为了体现“一无所偏”,就将贸易主权拱手相让,反映出清朝统治者近代主权意识的缺失,故 C 项正确。清朝统治者“一体照办”,并非以扩大对外开放为目的,故排除 A 项;通过“不能有所偏”“大皇帝不待各国请求”,表明清朝统治者尚未完全抛弃传统华夷观念,故排除 B 项;D 项出现在八国联军侵华战争后,故排除。
29. A 考查维新思想。梁启超强调“殷忧愤激者之言”不切于“中国今日之事势”,反对反清革命,固守改良之路,故 A 项

【文综参考答案 第 2 页(共 4 页)】

- 正确,故排除B项。梁启超的维新思想源于西方,故排除C项;资产阶级维新方案无法实现中国自强独立,故排除D项。
30. D 考查中国民族工业的发展。由图可得出,民族工业在抗战前轻工业发展快,抗战期间以发展重工业为重点,这说明民族工业在这一时期各行业发展是不平衡的,故D项正确。投资成本迅速膨胀从图中看不出来,故排除A项;B项材料体现不出来,故排除;抗战时期,民族工业受到国内外势力的束缚,故排除C项。
31. B 考查新中国外交。从材料可以看出毛泽东对苏联干涉波兰和匈牙利国内事件是持反对态度的,这说明中国反对苏联干涉别国内政,主张各国独立自主地解决本国内部问题,实际上也是对苏联的大国霸权主义抱有警惕,故B项正确。
32. B 考查中古欧洲文明。材料中“荷马史诗”的诗篇和寓意被基督教神学家改造,其故事失去了多神教的色彩”而成为了拜占庭文化的组成部分,故B项正确。“根植于”逻辑错误,题干提及的是基督教神学家利用了古希腊文化的形式,融入的是基督教的理念而已,故排除A项;题干提及的是基督教神学家的作用,未提及拜占庭统治者的信息,故排除C项;“不利于”不合史实,应为“一定程度上推动了”,故排除D项。
33. A 考查英国资产阶级代议制。英国内阁制度是资本主义的政治制度,但它的形式和某些职能却是从封建社会继承下来的,故A项正确。其他三项均不符合题目的主旨,故排除。
34. C 考查达尔文进化论。达尔文在承认人类优秀品质的同时,强调其“出身于寒微的永不磨灭的烙印”,重申了其进化论思想,故C项正确。进化论并未否定人的价值,故排除A项;进化论与神创论根本对立,故排除B项;达尔文提及人的情感,同时也讲到人的理性,无法体现浪漫主义的影响,故排除D项。
35. D 考查二战后苏联经济。二战后,苏联面临严重经济困难,包产到组旨在调动农民积极性,“发展粮食和畜牧业”,这反映了苏联社会摆脱困境的愿望,故D项正确。包产到组并未改变土地的公有制性质,故排除A项;包产到组只是局部地区的初步尝试,并未打破斯大林模式的束缚,故排除B项;1953年斯大林去世后,苏联经济改革得以开启,故排除C项。更多试题与答案,关注微信公众号:三晋高中指南
36. (1)社会经济欠发达,科技水平薄弱;基建能力不足;客货运输市场需求小。(每点2分,共6分)
(2)中国铁路建设技术成熟,经验丰富;部分线路在中国境内,使用统一的中国技术标准,有利于标准化生产和铁路网有效衔接;老挝经济落后,资金不足,需要中国投资大量资金,中国技术标准有利于获得贷款。(每点2分,共6分)
(3)改善交通基础设施;增加就业机会;方便居民出行;促进相关产业发展;提升老挝国际形象等。(每点2分,答对四点得8分,共8分)
37. (1)强大的挤压导致地壳断裂、位移,相对下降的地块形成盆地;形成一系列褶皱—断块山,山脉之间地势相对低洼的地区形成盆地。(每点3分,共6分)
(2)鄂拉山断裂和东昆仑山断裂交汇处。(2分) 西、北、东三个方向断裂带均向此方向挤压;位移速率较快,尤其是东昆仑山断裂带。(每点2分,共4分)
(3)切开热水—日月山断裂:共和盆地由内流区转为外流区,水体盐度降低,水量减少。(3分) 切开鄂拉山断裂:共和盆地汇水区扩大,水量增大,季节变化减小,盐度进一步降低。(3分)
38. (1)调节局地气候,减小温差;调节径流,涵养水源,蓄洪防旱;降解污染物,净化水源;美化环境;维护生物多样性等。(每点2分,答对四点得8分,共8分)
(2)沿岸人类活动强度大(人口密集,工农业发达),生产、生活排放的污染物多;水域面积小,水浅,流动性差,污染物扩散慢,自净能力弱。(每点2分,共4分)
(3)控制生产、生活污水排放量,节约用水,提高水资源利用率;植树造林,改善生态环境;合理布局产业活动,调整产业结构,控制人口规模;建立健全湖水保护法规和严惩制度;加强污水处理等。(每点2分,答对三点得6分,共6分)
39. (1)①有助于缓解我国传统能源短缺、对外依存度过高的问题,保障我国能源安全;(2分)②有助于进一步贯彻落实绿色发展理念,促进人与自然和谐共生,不断满足人民群众日益增长的美好生活需要;(3分)③有助于提高我国光伏产品在国际市场的竞争力,不断壮大我国实体经济,进一步夯实现代化经济体系的基础,促进我国经济高质量发展。(3分)(其他答案,符合题意,可酌情给分)
(2)①维护国家利益是主权国家对外活动的出发点和落脚点。我国全方位加强国际能源合作,有利于充分利用国际国内两种资源,保障我国能源安全和可持续发展。(2分)②促进共同发展是当今时代主题之一。我国全方位加强国际能源合作,顺应了发展、合作、共赢的时代潮流,有利于促进国际能源资源配置更加合理,维护全球能源市场稳定,促进世

【文综参考答案 第3页(共4页)】

- 界共同发展。(2分)③我国实行独立自主的和平外交政策。我国全方位加强国际能源合作,是维护我国发展利益的需要,符合我国外交政策的基本目标要求,有利于满足人民群众用能需求。(2分)(其他答案,符合题意,可酌情给分)
40. ①有中国共产党坚强的领导,且党不断推进党的建设伟大工程;②有包括中国共产党党内监督、国家监察机关监督、社会与公民监督在内的较为完善的监督体系;③纪委监委坚持以人民为中心,立足人民诉求,维护人民利益,提高解决问题的针对性;④纪委监委整合各种资源,形成部门合力,健全完善问题整改机制,提高问题解决的实效性;⑤纪委监委坚持人民主体地位,践行全过程人民民主,由人民评判工作好坏,激发人民群众主人翁精神。(每点3分,答出其中任意4点即可得满分12分。其他答案,符合题意,可酌情给分)
41. (1)①生产力与生产关系的矛盾是社会的基本矛盾,当生产关系不适应生产力发展的要求时,生产关系将阻碍生产力的发展。(3分)我国不征收房地产税,会导致很多居民把购房当成投资行为,不利于我国房地产市场健康发展。(3分)②社会主义社会的基本矛盾可以通过改革来解决。(3分)我国开展房地产税改革试点工作,是对生产关系的局部调整,有利于促进我国房地产市场平稳健康发展。(3分)(其他答案,符合题意,可酌情给分)
- (2)①文化具有自身的传承性,对社会和人的发展产生深远影响。中国人传统住房观念根深蒂固,今天仍秉持着自己拥有一套房子的传统观念。(3分)②中华文化源远流长、博大精深。中国古人对拥有自己的一套房子有执念。且在中国人观念里,房子不但是住所,更是社会地位的象征。(3分)③当代中国人对中国传统住房文化,要继承传统,推陈出新,既可以选择购房,也可以选择租房。(2分)(其他答案,符合题意,可酌情给分)
- (3)①弱化房地产投资属性,优化房产资源配置,促进房地产业健康发展。②增加国家财政收入,巩固国家治理的物质基础。③健全财产税体系,规范财产税制度。④深化城市经济体制改革,理顺城市资金运行渠道,降低金融风险。(每点2分,答出其中任意3点即可得满分6分。其他答案,符合题意,可酌情给分)
42. (1)原因:商业发展的需要;国家商业管理的体现。(4分)影响:冲击传统商业体制;促进商品经济发展;推动社会阶层分化。(6分)
- (2)特征:受雇于外商,并协助外商在中国进行商贸活动,为列强经济侵略中国服务的代理人;投资于近代工商业,是拥有一定资金、技术、管理的资本家。(6分)分析:买办凭借雄厚的资金,投资创办近代企业,推动了民族工业的发展;其在经济上的内引外联作用,丰富了人们的日常生活,有利于中外经济文化交流;但其充当列强侵华的代理人,方便了列强对中国的侵略和中华民族利益掠夺,从这个角度看中国近代“买办”是中华民族罪人。(9分)
43. 示例:
- 论题:文学创作受时代的影响,其所塑造的人物形象往往带有鲜明的时代特征。(2分)
- 阐述:14~17世纪,随着资本主义的产生与发展,欧洲出现文艺复兴运动,人文主义广泛传播,文学创作深受影响,哈姆雷特的经历反映出个人性格的复杂性和多样性,树立了典型的人文主义者的形象。19世纪上半期,随着工业革命的进一步开展,资产阶级迅速崛起,引发了社会生活和思想观念的变化,尤其是对财富的追逐。社会矛盾的日趋尖锐促使人们对社会现实进行冷静、深刻地审视与批判。葛朗台这一吝啬鬼的形象揭示了资本主义社会中拜金逐利和私欲横流的社会现实,是对当时社会生活的集中反映。19世纪中后期至20世纪初期,资本主义国家间的政治经济发展不平衡加剧了各国冲突,第一次世界大战爆发,战争的残酷摧毁了人们的信仰,使人们陷入痛苦与迷惘之中。海明威通过塑造亨利这一角色来引起人们对战争的反思,表达了海明威对战争的谴责与抗争。(8分)
- 总之,社会存在决定社会意识,社会意识反映社会存在;因此,时代影响了文学作品的创作,文学作品一定程度上也体现了时代风貌。(2分)
44. (1)原因:解放战争期间,美国公然援蒋反共;新中国成立后,以美国为首的资本主义阵营对新中国采取敌视和不承认的政策;以苏联为首的社会主义阵营率先承认新中国,并在经济上、军事上给予中国大量援助;意识形态和国际形势的变迁也影响了新中国外交战略的选择。(6分,任答三点即可)
- (2)影响:使中国对外关系格局的模式基本固定下来,从中苏结盟到中美建交,大致是“一边倒”的局面;中国国家战略固定下来,与中苏同盟配套的是中国按照苏联模式建设社会主义。中美建交后与西方关系的“一边倒”配合的是中国改革开放,使中美关系、中国同发达国家的合作关系固定下来;营造了中国周边的安全环境,中国利用地区相互制约的形势构建了地区安全结构;为自己的社会主义建设赢得了相对有利的周边环境。(9分)

【文综参考答案 第4页(共4页)】

关于我们

自主选拔在线是致力于提供新高考生涯规划、强基计划、综合评价、三位一体、学科竞赛等政策资讯的升学服务平台。总部坐落于北京，旗下拥有网站（网址：www.zizzs.com）和微信公众平台等媒体矩阵，用户群体涵盖全国90%以上的重点中学师生及家长，在全国新高考、自主选拔领域首屈一指。

如需第一时间获取相关资讯及备考指南，请关注**自主选拔在线**官方微信号：**zizzsw**。



微信搜一搜

自主选拔在线