

绝密★启用前

2022~2023 学年度高三 2 月质量检测

文科综合

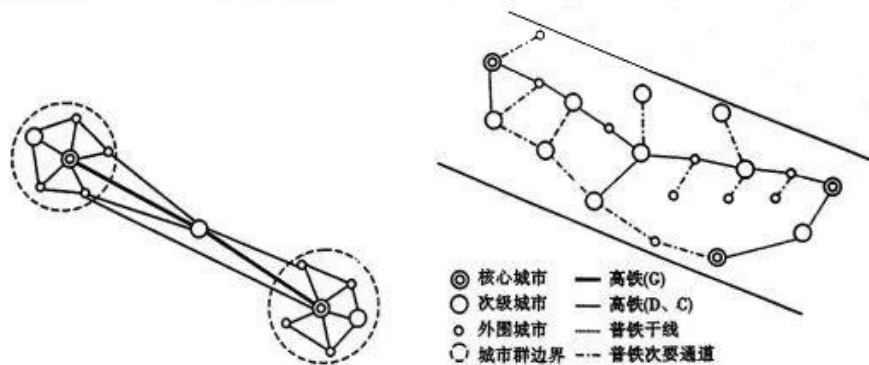
全卷满分 300 分,考试时间 150 分钟。

注意事项:

1. 答卷前,考生务必将自己的姓名、准考证号填写在答题卡上,并将条形码粘贴在答题卡上的指定位置。
2. 回答选择题时,选出每小题答案后,用铅笔把答题卡上对应题目的答案标号涂黑。如需改动,用橡皮擦干净后,再选涂其他答案标号。回答非选择题时,将答案写在答题卡上。写在本试卷上无效。
3. 考试结束后,将本试卷和答题卡一并收回。
4. 本卷主要考查内容:高考范围。

一、选择题:本题共 35 小题,每小题 4 分,共 140 分。在每小题给出的四个选项中,只有一项是符合题目要求的。

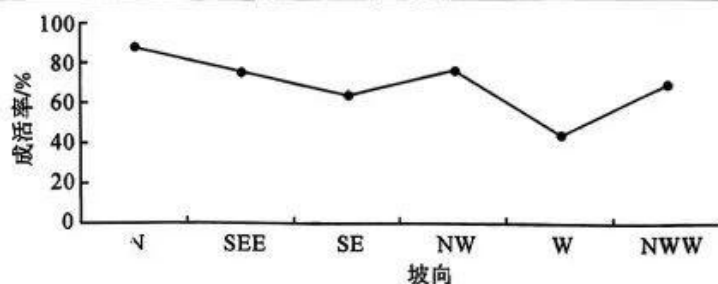
由于速度、票价、合理运距等技术经济特征的差异,高速铁路和普通铁路可以反映不同功效层级的空间运输联系。下图示意高速铁路和普通铁路的区际联系模式。读图,完成 1~2 题。



1. 与普通铁路相比,高速铁路加强空间联系明显突出的是
 - A. 城市群内部
 - B. 外围城市之间
 - C. 核心城市之间
 - D. 核心城市和次级城市之间
2. 与高速铁路相比,普通铁路运行更关注
 - A. 灵活性
 - B. 时效性
 - C. 均衡性
 - D. 连续性

20 世纪 70 年代开始,张掖地区引种栽培了华北落叶松,相关研究团队针对祁连山高海拔区不同环境梯度华北落叶松造林及苗木生长过程进行了苗期生长规律的研究。下面为不同海拔梯度华北落叶松生长量对比表和不同坡向华北落叶松造林成活率统计图。读表和图,完成 3~4 题。来源:高三答案公众号

样地号	海拔/m	树龄/a	树高/cm	树高当年生长量/cm	生长状况
1	2 700	10	66.34	22.1	良
2	2 780	8	31.80	19.9	中
3	2 800	10	50.70	16.8	良
4	2 900	10	62.20	16.4	良
5	3 000	8	25.20	10.5	差
6	3 100	6	50.60	7.80	差
7	3 200	8	11.80	4.80	差



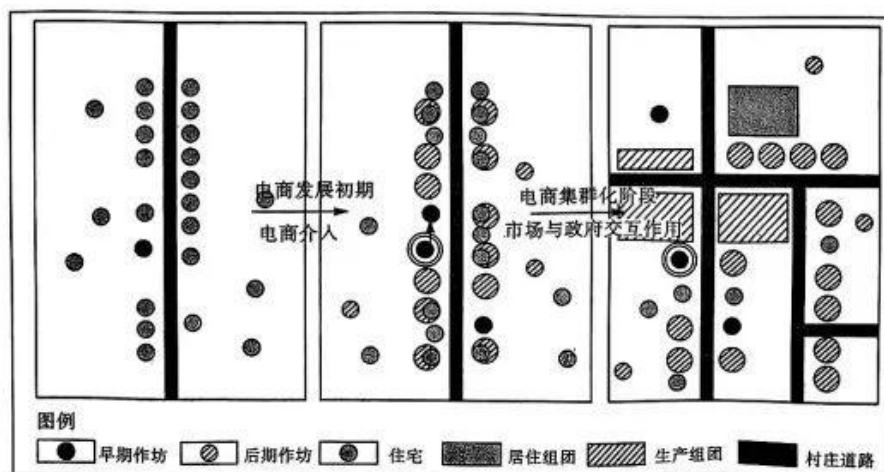
3. 下列关于树木生长量与海拔关系的说法,正确的是

- A. 树木当年生长量随海拔增加而增加
- B. 影响树木当年生长量随海拔变化的因素是太阳辐射
- C. 海拔 2 900 米处树木的生长量最大
- D. 影响树木当年生长量随海拔变化的因素是水热条件

4. 正北方向幼苗成活率最高,是因为北坡

- A. 降水量大
- B. 蒸发弱,土壤水分好
- C. 太阳辐射强
- D. 背风坡,气温高

电商集群是传统产业集群借力电子商务实现产业价值链的分工合作,以此获取竞争优势的一种产业集群形态。东风村经历了领军企业示范与社会网络支配下的电商发展初期及市场牵引、政府引导共同作用下的电商集群化阶段两个时期。下图示意电商集群导向下乡村空间演化过程。读图,完成 5~6 题。



5. 电商发展初期

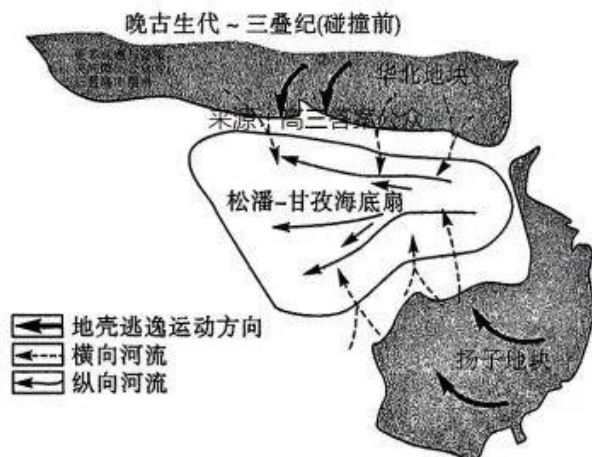
- A. 作坊数量少
- B. 距离道路远
- C. 与住宅分离
- D. 产居一体化

【高三文综 第 2 页(共 12 页)】

6. 电商集群化发展的影响是

- A. 住宅数量减少 B. 生产范围缩小 C. 管理更加便利 D. 竞争强度降低

松潘—甘孜盆地位于青藏高原东缘,有着广泛而巨厚的三叠纪(2.5~2亿年前)沉积层,且保存较好。研究表明,三叠纪时期,松潘—甘孜盆地位于华北地块和扬子地块碰撞地带的西缘(下图)。读图,完成7~8题。



7. 与松潘—甘孜盆地巨厚三叠纪沉积层的形成有关的有

- ①三面陆地环绕 ②海湾水深较浅 ③纵向河流伸展 ④地块相向挤压

- A. ①② B. ①④ C. ②③ D. ③④

8. 松潘—甘孜盆地巨厚三叠纪沉积层能够保存至今,主要得益于

- A. 抬升幅度较小 B. 地表侵蚀较弱 C. 上覆岩层较厚 D. 抗蚀能力较强

空气负氧离子具有较好的杀菌与清洁空气的效果。水体快速流动导致水滴破碎,水分子破解失去电子,电子被空气分子捕获能够形成负氧离子。右图示意贵州天缘洞负氧离子空间分布,该洞穴内的温度和湿度稳定。读图,完成9~11题。

9. 天缘洞的洞口可能位于

- A. ①②
B. ①④
C. ②③
D. ③④

10. 根据洞穴内外空气交换推测,天缘洞负氧离子浓度最高的季节可能是

- A. 春季
B. 夏季
C. 秋季
D. 冬季

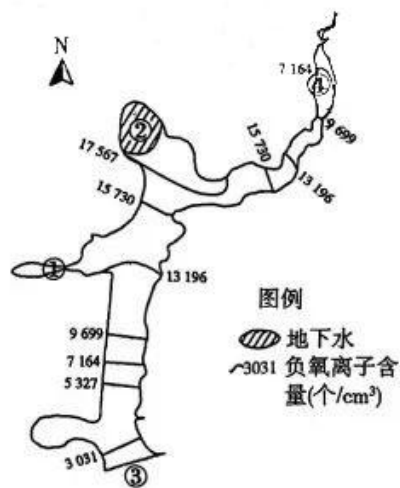
11. 与天缘洞负氧离子含量关系最小的是

- A. 洞穴形态 B. 洞穴海拔 C. 洞穴容积 D. 洞穴岩性

12. 习近平总书记在党的二十大报告中指出,科学社会主义在二十一世纪的中国焕发出新的蓬勃生机,中国式现代化为人类实现现代化提供了新的选择,中国共产党和中国人民为解决人类面临的共同问题提供更多更好的中国智慧、中国方案、中国力量,为人类和平与发展崇高事业作出新的更大的贡献。科学社会主义在二十一世纪的中国焕发出新的蓬勃生机的重要原因在于

①马克思主义行、中国化时代化的马克思主义行

②马克思主义为中国的建设提供了具体的科学建设方案



- ③我国社会主义生产力发展水平适应生产关系发展状况
④中国共产党结合中国实际不断开辟马克思主义新境界
A. ①② B. ①④ C. ②③ D. ③④
13. 党的十八大以来,以习近平同志为主要代表的中国共产党人,坚持把马克思主义基本原理同中国具体实际相结合、同中华优秀传统文化相结合,科学回答了新时代坚持和发展什么样的中国特色社会主义、怎样坚持和发展中国特色社会主义等重大时代课题,创立了习近平新时代中国特色社会主义思想。习近平新时代中国特色社会主义思想
①是全党全国人民为实现中华民族伟大复兴而奋斗的行动指南
②是中国特色社会主义理论体系的重要组成部分
③是对毛泽东思想、邓小平理论、“三个代表”重要思想、科学发展观的总结
④是习近平总书记个人智慧的结晶,是中华文化和中国精神的时代精华
A. ①② B. ①④ C. ②③ D. ③④
14. 2022年11月14日,中国人民银行、银保监会、财政部等六部门联合印发《关于进一步加大对小微企业贷款延期还本付息支持力度的通知》,对于今年第四季度到期的小微企业贷款,鼓励银行业金融机构按市场化原则与企业共同协商延期还本付息。该举措对经济发展产生的积极影响,其传导路径正确的是
①激发企业经营活力 ②促进企业可持续发展
③助力稳助经济大盘 ④降低企业的融资成本
⑤减轻企业资金周转压力
A. ①→⑤→②→③ B. ⑤→②→③→④ C. ⑤→①→②→③ D. ①→⑤→③→④
15. 2022年11月,深圳数据交易所揭牌成立,启动线上数据交易,形式丰富的数据产品陆续上线。深圳数据交易所从交易主体、交易标的、交易方式及跨境场景要求等方面,给予专业、全面的评估意见,以保障数据合规安全跨境流通,保护数据交易多方主体的相关权益。数据交易所的成立有利于
①提高劳动报酬在初次分配中的比重
②缩小收入差距,实现收入分配公平
③维护交易主体权益,加快培育数据要素市场
④挖掘数据价值,让创造社会财富的源泉充分涌流
A. ①② B. ①④ C. ②③ D. ③④
16. 2022年10月27日,全国政协提案委员会一行走访台盟中央并召开座谈会,了解台盟中央提案工作有关情况,听取对提案工作的意见建议,加强提案委员会与台盟中央工作交流与合作。这次走访,也标志着全国政协十三届提案委员会已经将8个民主党派中央和全国工商联全部走访完毕。全国政协提案委员会高度重视各民主党派中央和全国工商联提案
①有利于巩固和发展中国共产党领导的多党合作和政治协商制度
②有利于推进国家治理体系和治理能力现代化,巩固我国根本政治制度
③是基于人民政协全国委员会是中国共产党与民主党派合作机构
④是基于各民主党派是参政党,可以参与国家大政方针的制定
A. ①② B. ①④ C. ②③ D. ③④
17. 党的二十大报告多次提到“法治”,首次用“坚持全面依法治国,推进法治中国建设”一个章节专门部署法治建设,围绕立法、执法、司法、守法四个法治环节,提出了今后推进全面依法治国的主要措施。下列属于加快建设法治社会的措施的是
①加强检察机关法律监督工作,完善公益诉讼制度
②推进多层次多领域依法治理,提升社会治理法治化水平
③加大关系群众切身利益的重点领域执法力度,完善行政执法程序
④建设覆盖城乡的现代公共法律服务体系,深入开展法治宣传教育
A. ①③ B. ①④ C. ②③ D. ②④

18. 2022年11月5日至13日,《湿地公约》第十四届缔约方大会在中国湖北武汉和瑞士日内瓦同步举行。大会以“珍爱湿地,人与自然和谐共生”为主题,致力于凝聚各方共识,推进全球湿地保护合作,谱写人类可持续发展新篇章。从大会的主题中我们可以感悟到
- ①人与自然界是绝对统一关系 ②人的理性可以为自然界立法
③世界的真正统一性在于它的物质性 ④规律具有客观性,要尊重客观规律
- A. ①② B. ①④ C. ②③ D. ③④
19. 2022年11月3日,我国生物医学成像领域的大科学工程——多模态跨尺度生物医学成像设施项目工程在北京怀柔科学城竣工。未来将对生命体的结构与功能进行跨尺度、可视化地描绘与精确测量,为复杂生命科学问题和重大疾病研究提供成像组学研究手段,助力全景式研究和解析生物医学重大科学问题。这说明
- ①认识工具是人们获得正确认识的基础
②实践活动具有客观物质性和主观能动性
③认识工具可以延伸人类的认识器官
④生物医学成像设施项目产生于认识的需要
- A. ①② B. ①④ C. ②③ D. ③④
20. 2022年11月16日,中国文字博物馆续建工程和汉字公园正式面向公众开放。这座以文字为主题的国家级博物馆,系统展陈了中国文字的构形特征和演化历程,尽显中国文字文化之美。中国文字博物馆续建工程和汉字公园的开放
- ①有利于增强人们文化自信的底气
②有利于丰富文化载体的多样性
③旨在推动传统文化创造性转化和创新性发展
④旨在为经济社会发展提供不竭的精神动力
- A. ①② B. ①④ C. ②③ D. ③④
21. 2022年1至10月,我国实际使用外资10898.6亿元人民币,按可比口径同比增长14.4%(下同)。服务业实际使用外资金额7988.4亿元人民币,同比增长4.8%。高技术产业实际使用外资增长31.7%。我国东部、中部、西部地区实际使用外资同比分别增长12.4%、33.6%和26.9%。对此,下列说法正确的是
- ①我国积极推动对外开放朝着结构优化和提高效益方向转变
②中西部投资环境不断优化,成为外商投资首选地
③我国创新对外投资方式,转变对外经济发展方式
④我国不断优化营商环境,增强了吸引外资的新优势
- A. ①② B. ①④ C. ②③ D. ③④
22. 李某(9岁)与文某(10岁)均系株洲市石峰区某学校学生,在课间休息期间,李某与文某在教室外的走廊发生碰撞,两人都摔倒在地。李某摔倒后被送往医院治疗,经检查李某两颗牙齿断裂,需多次治疗。经司法鉴定机构鉴定,后续治疗还需33000元。事故发生后,伤者李某父母与文某父母就损害赔偿事宜多次进行协商未果,李某父母遂将文某、文某父母、学校一并诉至法院,要求各被告向原告赔偿医药费、后续治疗费、精神抚慰金共计46644元。对本案分析正确的是
- ①学校未尽到教育、管理的职责,应当承担侵权责任
②李某父母请求学校承担赔偿责任的诉请,法院依法应予支持
③李某与文某对于事故的发生均具有一定过错
④文某造成他人损害,应当由其监护人承担赔偿责任
- A. ①② B. ①④ C. ②③ D. ③④

【高三文综 第5页(共12页)】



23. 某企业在 100 人的调查问卷中,发现有 50 名顾客表示新产品口味下滑,因此认定新产品开发失败,对产品可以进行下线处理。对该推理分析正确的是

- ①犯了轻率概括的逻辑错误 ②属于演绎推理
③属于科学归纳推理 ④属于不完全归纳推理

A. ①③ B. ①④ C. ②③ D. ②④

24. 殷人认为天命素定,但周公在总结夏商亡国教训时,明确意识到“天命靡常”已经成为一种必然。这一思想在周公那里被上升到了政治意识形态的高度,并较为理性地认为天命不是固定在哪一个朝代哪一个人身上的,而是根据王者的“德行”而转移的。周公的天命靡常思想

- A. 否定了夏商君主的治理效果 B. 强化了君权神授的政治理念
C. 意在确立周朝统治的合法性 D. 使民本思想贯穿于周朝始终

25. 史学家周一良在《魏晋南北朝札记·魏书篇》中指出:“对于南朝北投者,拓跋氏尤能注重拔擢……这种情况与南朝统治者专重侨姓,排斥南人,而晚渡北人又被目为荒伦,备受排斥,北方各族更不予考虑者,迥不相同。”这可以用来说明

- A. 南朝政治迫害严重 B. 北魏政治环境宽松
C. 南人争相加入北朝 D. 北方经济更加繁荣

26. 《折槛图》(局部)是南宋画家所绘,描绘的是西汉时期,朱云向成帝求赐尚方宝剑,斩奸相张禹。成帝震怒,命御林军将朱云拖出问斩,朱云攀槛力争,左将军辛庆忌为朱云力辩的场景。该画作



- A. 深受当时主流思想的影响 B. 折射出南宋民族矛盾尖锐
C. 体现出西汉中期奸臣乱政 D. 反映出人物画的笔墨意境

27. 从明朝正德时期起,阁臣开始兼有吏部尚书之例,至隆庆年间高拱以大学士兼吏部尚书竟达三年,直接侵夺部权。此间虽然内阁的地位渐隆,但六部仍然受到皇帝的眷顾,有时在参与机要上竟获得比内阁更高多的信任。由是内阁、六部经常争权,职权界限不清。这

- A. 造成了宦官专权的局面 B. 影响了明朝政府的行政效率
C. 削弱了君主专制的权力 D. 加剧了朝政腐败与社会矛盾

28. 下表是上海礼查饭店的建立和发展状况。据此可知,这些新变化

1846 年	英国商人礼查在英租界与上海县城之间建立
1867 年	使用煤气
1882 年	使用电灯照明
1901 年	安装了电话,号码为 200
1913 年	放映来自美国的有声电影

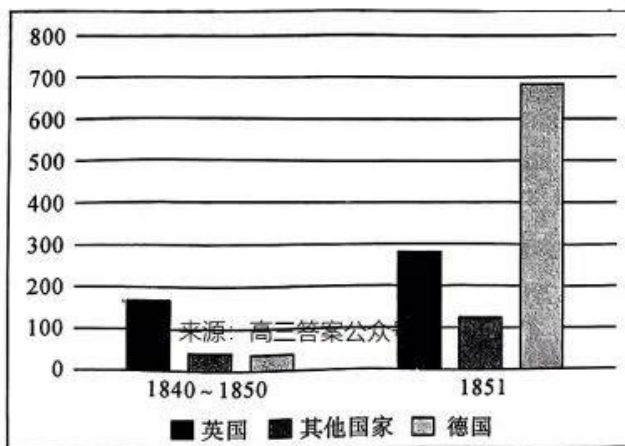
- A. 体现了中国近代化进程 B. 反映出列强对中国的侵略逐渐深化
C. 说明英美两国技术先进 D. 客观上推动了中国社会的新陈代谢

【高三文综 第 6 页(共 12 页)】

29. 抗日战争中,河北深县后营村妇女自卫队每年接受做军鞋任务三、四次,每次 700 多双,平时为驻军缝补不计其数。大榆林妇女队员在抗战期间共累计做军鞋 2400 多双,军袜 2600 双、军被 3400 床。这充分反映出
- A. 妇女成为抗日战争主力军
B. 抗日民族统一战线的效果显著
C. 抗日战争是一场人民战争
D. 八路军物资供应得到充分保障
30. 20 世纪 80 年代的城乡街头张贴了一系列宣传画(见下图)。据此可知,当时



- A. “科教兴国”战略促进教育发展
B. 爱国主义精神得到了大力弘扬
C. 改革开放促进了绘画艺术繁荣
D. 精神文明与物质文明建设并进
31. 西罗马帝国的灭亡、法兰克王国的建立让罗马教会必须要适应新的环境寻求新的政治保护和依靠,以振昔日的权势。而法兰克王国从克洛维到查理大帝,为了巩固统治和进行扩张,也深知需要罗马教会这样一个有力的精神工具。这表明,法兰克王国时期
- A. 教会的权力大于世俗王权
B. 基督教控制了西欧精神世界
C. 国王利用教会扩大了疆域
D. 教会与王权相互需要与利用
32. 19 世纪二三十年代,英、法、美等发达国家修建了铁路并展现出铁路运输的潜力,此时的德国在经济上明显落后于英、法,但不甘落后的德国人也开始修建铁路。下表是 1840—1851 年德国机车的进口和自产的数据统计表(单位:辆)。图表中数据的变化反映出



- A. 英国丧失了工业革命领头羊地位
B. 德国铁路建设推动了制造业发展
C. 德国的制造业已完成了国产替代
D. 铁路推动了德国统一市场的形成
33. 1857 年,美国爆发经济危机,破产企业多达 4900 家,损失资本达 3 亿美元之多。经济危机很快波及到英国,大量银行和企业经不住危机的冲击而纷纷破产。接着,危机又蔓延到德国、俄国、奥地利、意大利和北欧国家。该危机具有“世界性”的主要原因是
- A. 国际市场逐步形成
B. 美国经济实力最强
C. 资本主义矛盾尖锐
D. 欧美之间关系密切

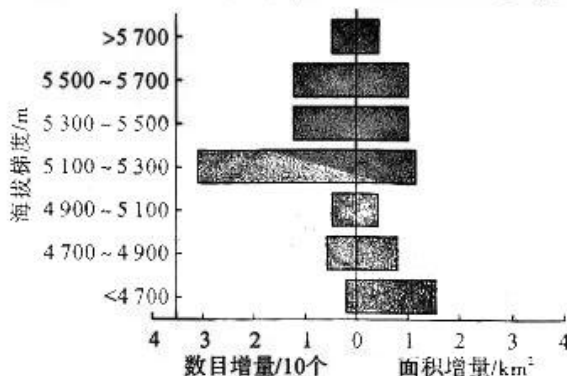
【高三文综 第 7 页(共 12 页)】

34. 在苏俄(联)党内,还有相当一批人患有“怀旧病”,他们认为在那个“英雄年代”里,所面临的环境是艰难的,但建立起来的社会制度是美好的。只要战争一结束,生产就会得到恢复和发展,根本不需要恢复商品货币关系,就可以到达真正的共产主义。这可以用来说明
- A. 战时共产主义政策深得民心
B. 苏共党内对发展道路未达成共识
C. 新经济政策实施具有盲目性
D. 人民群众对工业化建设充满期待
35. 在朝鲜战争期间,为了防止美国得知苏联空军参战的消息,苏联对参加战斗的飞行员和飞机进行了严格的限制。根据命令,参战的飞机一律不许从苏联领土起飞投入战斗,参战的飞行员一律穿中国人民志愿军的服装,战斗中飞行员不许讲俄语等。这反映出苏联
- A. 履行了与中国的同盟协定
B. 极力维护社会主义阵营利益
C. 受到了“冷战”格局的制约
D. 在美苏争霸中处于优势地位

二、非选择题:共 160 分。

36. 阅读图文材料,完成下列要求。(22 分)

冰湖是在冰川作用下形成、以冰川融水为主要补给的湖泊,一般位于冰川末端、表面或者侧方。由于冰湖与冰川密不可分的关系,冰湖变化常被当作全球气候变化的敏感性指标。冰湖在内外力作用下极易发生溃决,会给下游居民的生命财产安全带来极大威胁。下图为某区域 1990~2020 年各海拔梯度内冰湖数量和面积的变化示意图。



- (1)分析冰湖溃决对下游威胁极大的原因。(4分)
- (2)针对冰湖溃决,请提出有效的防治措施。(6分)
- (3)分析在高海拔地区冰湖数目增加较多的原因。(6分)
- (4)简述冰湖规模扩大对冰川消融的影响。(6分)

37. 阅读材料,完成下列要求。(22 分)

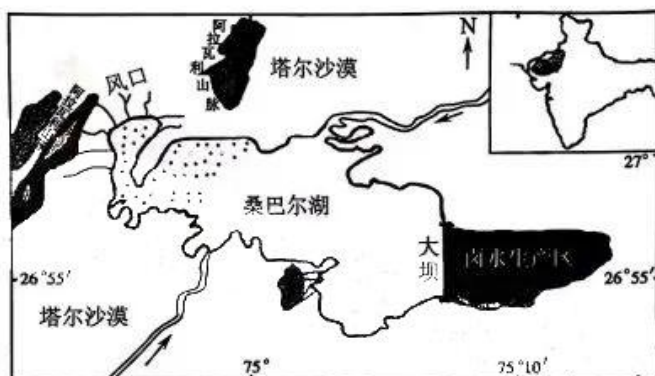
当前氢能产业逐渐进入发展快车道。我国是世界最大的制氢国,年制氢量约 3 300 万吨,但大部分来自化石能源制氢,属于灰氢;绿氢(通过光伏发电、风电等新能源电解水制氢)占比较低。如何让氢能产业更绿色、更低碳,日益成为业界关注的焦点。截至目前,全国已有 20 多个省区市发布氢能规划和指导意见等政策文件。长三角、珠三角、环渤海三大区域氢能产业呈现集群化发展态势。上海市计划,到 2025 年,建设各类加氢站 70 座左右,燃料电池汽车保有量突破 1 万辆,氢能产业链产业规模突破 1 000 亿元。2022 年前三季度,我国各地上马绿氢项目达 40 多个,主要分布在内蒙古、河北、宁夏、甘肃、新疆等风、光资源丰富的地区。

【高三文综 第 8 页(共 12 页)】

- (1)与煤炭资源相比,指出绿氢的优点。(4分)
- (2)指出长三角、珠三角、环渤海三大区域氢能产业呈现集群化发展的优势条件。(6分)
- (3)简析西北地区绿氢产业发展的制约因素。(6分)
- (4)简述我国促进氢能源汽车产业发展的合理性措施。(6分)

38. 阅读图文材料,完成下列要求。(12分)

桑巴尔洼地位于印度西部塔尔沙漠东缘,距今3万年前洼地因地壳拉张下陷形成桑巴尔湖,洼地中的河流在演化过程中流程先缩短后延长。桑巴尔洼地原本风力较弱,当阿拉瓦利山脉发育风口之后,盛行风显著改变洼地地表形态,干涸的湖盆上发育了众多沙丘,加剧了桑巴尔湖盐度升高,目前风口仍保留有古河流带来的卵石等遗迹。为开发桑巴尔湖盐业资源,当地在湖泊东部修筑大坝,大坝以东水域作为卤水生产区。下图示意桑巴尔洼地地形及水系。



- (1)桑巴尔洼地演化过程中,贯穿河流流程先缩短后延长,对此作出合理解释。(6分)
- (2)分析桑巴尔洼地风口的形成过程。(6分)

39. 阅读材料,完成下列要求。(14分)

材料一

2022年1—9月我国农产品进出口情况

农产品	进口	出口
食用油籽	496.5 亿美元	72.5 亿美元
水果	128.7 亿美元	47.0 亿美元
畜产品	384.4 亿美元	48.0 亿美元
食用植物油	59.2 亿美元	2.6 亿美元

注:我国谷物净进口规模从2009年的183万吨增长至2021年6275.6万吨,年均增幅达到34.2%;棉花净进口规模持续升高,由2001年的0.76万吨增长至2021年的234.2万吨,年均增幅达到33.2%;食用植物油与食糖的进口年均增长率分别达到9.4%与9.1%。

【高三文综 第9页(共12页)】



材料二 近年来,我国农产品受国内农业基础条件以及国际市场变化的影响,在国际农产品市场激烈竞争的环境中逐渐显现出很多的劣势,面临的市场风险也越来越大。出口的农产品以原材料和初级加工的农产品为主,在产品的精深加工层面做得远远不够,有机农产品以及品牌农产品出口比例仍然很低。随着我国中等收入群体不断扩大,其对优质食材的需求也越来越高,国内供给的农产品已不能满足全部国内消费群体的需求,因此他们愈发地依赖进口。近年来除了传统的农作物之外,还有家禽、海产品等多种农产品均遭遇贸易壁垒,包括技术贸易壁垒限制。当前,受新冠疫情大流行影响,国际贸易市场环境发生重大变化,一些发达国家遭遇新冠疫情较大冲击,我国农产品出口企业更应开拓新的出口市场,如“一带一路”沿线国家。

(1)运用当代国际政治与经济知识,解读材料一中的信息。(6分)

(2)结合材料二,运用经济与社会知识,为我国农产品国际贸易发展提出相应对策。(8分)

40. 阅读材料,完成下列要求。(12分)

互联网背景下,骑手劳动保障权益现状如何?全国人大代表鲁曼做过相关调查。这一查,发现问题还真不少:用工法律关系边界模糊不清、加班普遍、保险保护力度不够、维权难……鲁曼分析认为,互联网背景下外卖骑手陷入“泥潭”,一是由于用工关系认定过于僵硬,二是用人单位与外卖骑手法律意识淡薄,另外,政府监管力度也不够。

经过多次调研走访后,一份关于保障外卖骑手群体权益的代表建议,提交到十三届全国人大四次会议。在这份建议中,除了灵活界定用工关系、培养骑手的安全与法律意识,鲁曼在完善保险制度、加大政府监管力度方面也提出了自己的见解。建议提交后,交由人社部、公安部、国家税务总局分别办理。2021年12月,十部门联合出台《关于开展新就业形态就业人员职业伤害保障试点工作的通知》;2022年4月,相关部门又印发了《新就业形态就业人员职业伤害保障业务经办和征收管理规程(试行)》,试点工作已于2022年7月在北京、上海等7省市启动,部分外卖平台企业就业的骑手等群体人员获得职业伤害保障权益。税务总局有关人士表示,这为新就业形态人员参加社会保险开了先河。

结合材料,运用政治与法治相关知识,分析人大代表鲁曼提交就保障外卖骑手群体权益的代表建议的原因。

41. 阅读材料,完成下列要求。(26分)

材料一 乡村振兴是实现中华民族伟大复兴的一项重大而紧迫的任务,文化振兴是实施乡村振兴的重要内容和力量源泉,乡风文明是乡村振兴的重要目标。在新的起点走中国特色社会主义乡村振兴道路,既要塑形,也要铸魂。悠久的农耕文明是中华优秀传统文化的精神根脉,优秀的乡村文化凝聚着中华民族最深层的思想智慧,维系着中华民族最深层的集体记忆,也镌刻着中华民族最深层的精神标识。

【高三文综 第10页(共12页)】

材料二 推进乡村文化振兴要坚持创造性转化、创新性发展,找到传统文化和现代生活的连接点,真正让优秀传统文化能够扎根乡村、滋养乡风文明。比如某些地区通过优化设计、改善工艺,推出更符合当下审美的产品,让传统的刺绣蜡染产业打开广阔市场;再比如一些短视频“达人”,通过镜头展现充满乡土气息的农村生活,让传统技艺与年轻观众相遇。这些不仅让乡土文化“活起来”“火起来”,也给乡村振兴注入了新的动能。来源:高三答案公众号

- (1)结合材料一,运用哲学与文化中辩证否定观知识,分析应该如何推进乡村文化振兴。(12分)
- (2)结合材料二,说明材料中推进乡村文化振兴的做法所体现的科学思维的特征。(6分)
- (3)新时代新征程大力推动乡村文化振兴,让人民享有更加充实、更为丰富、更高质量的精神文化生活,对于推进乡村振兴具有重要意义。结合材料,请运用文化知识加以说明。(8分)

42. 阅读材料,完成下列要求。(25分)

材料一 宗族内部自治以宗族习惯法为基本依据,这种习惯法以族规的形式得到表现。有关族产管理和宗族内部亲属、继承、土地、借贷等多方面的民事关系,构成习惯法的重要内容。宗族在族长的领导下,按照族规规定的方式运作,而当内部发生纠纷时,族人会依族规调解,调解不成时,由族长召集全族或族内头面人物听取双方意见,然后进行劝告,最后公断是非。对于违反族规的行为,宗族可以依族规进行处罚,其处罚方式有:训斥、罚站、罚跪、罚款、扣发“分贍”、责打、削族、鸣官,甚至处死。但是族规对于族人的约束更重要的是表现在族人对宗族的认同感上,宗族作为一个对族人无论在精神上还是在物质上都具有归属感的群体,其对族人行为的道德评价具有巨大的约束力量。

——摘编自李力《清代法律制度中的民事习惯法》

材料二 调研结果显示,“运用民俗习惯解决纠纷,当事人的接受程度高达98%。”调研还显示,习惯法在解决传统民间民事纠纷如彩礼返还纠纷、财产继承纠纷、宅基地纠纷、相邻权纠纷等方面发挥着重要作用。“71%的受访法官认为,民俗习惯在某些情况下比成文法更能有效地解决纠纷。”此外,各地法院也积极探索习惯法在司法实践中的运用,结合本地实际,发现和挖掘本地的习惯法价值。陕西省安康市汉滨区法院运用善良风俗调解解决的纠纷有2100起,占审结案件总数的28%。案件涉及返还彩礼、赡养、精神损害赔偿、分割家庭共有财产等方面。

——摘编自钟春《现状与未来:我国习惯法的司法应用》

材料三 近代,一些国家法律完全否认了民俗习惯作为法源的合法性。但在司法实践中,由于当事人选择地方习惯和行业习惯作为其法律行为的内容,民俗习惯甚至优于制定法而被法官适用。有学者在谈到《法国民法典》时不得不承认,《法国民法典》就是一部真正的“习惯法”。可见,在立法上完全否认民俗习惯的法源地位,几乎是行不通的。在现代社会,人们已经意识到认识的非至上性,即使是立法者自身要想掌握绝对真理也是难以实现的,即使是最完备的法典也具有局限性。

——摘编自吕复栋《民俗习惯的司法适用》

- (1)根据材料一并结合所学知识,分析清代民事习惯法的特点。(8分)
- (2)根据材料一、二并结合所学知识,概括与清代民事习惯法相比,当代习惯法应用的不同之处。(8分)
- (3)根据材料二、三并结合所学知识,分析民俗习惯的作用。(9分)

33. 阅读材料,完成下列要求。(12分)

材料 综观罗马一千余年的发展历史,我们完全能够得出:罗马是一个勤劳、务实的民族,同时也是一个善学习、爱思考的民族。罗马人不但用自己的劳动和心智创造文明,而且更以海纳百川的胸襟和气魄,广泛地吸纳各种优秀文化给它带来的众多养分。在弱小时,不消极;在强势下,不保守。在开放、比较中定位自己;在开放、融合中,创造更具自身特色的文明。罗马人的这种开放精神,不但迅速地改变了罗马早先文明的落后地位,而且后来居上很快地超越了其他邻近的地域文明,成为具有广泛影响力的地中海强势文明。

——摘编自杨共乐《罗马文明持续发展的动力》

围绕材料中“罗马文明从落后走向先进”的主题,从上述材料中提炼出一个观点,并结合所学知识进行阐释。(要求:紧扣主题,持论有据,论证充分,逻辑清晰)

44. 阅读材料,完成下列要求。(15分)

材料一 为了克服和改变官卖制度经济效益下降这一情况,宋朝政府遂将全国茶叶的专卖改行通商法,茶商园户交易,按质论价,也可讨价还价。这样就使茶叶交易趋于优质优价的经济原则,也减少了交易程序。《宋史》记载,行禁榷(即官卖法)时平均每年从茶利得到的财政收入109.41万贯,改行通商法后平均每年得117.75万贯,可见改行通商法财政收入有了增加。

——摘编自屠振林《我国古代茶叶专卖政策和茶税征收办法》

材料二 1834年1月,英国印度总督本梯克设立了一个茶叶委员会,负责调研和规划在印度种植茶叶的问题。在英印政府和民间资本的大力支持和积极参与下,印度茶叶种植事业得以迅速发展。1839年在印度成立了阿萨姆公司,由于缺乏种茶经验和管理不善,该公司在初期遭到了巨大亏损,以至于到1848年面临破产的危险。在调整了管理者和改进生产方法后,种植上经过科学的剪枝与采摘,培育上又细心从事,而且是以节省人工的最新机器制造出来的。阿萨姆公司最终摆脱了困境,并于当年宣布首次获利3000英镑,1852年公司有了第一次盈余。此后私人资本纷纷投资于植茶业,到1859年,私人经营的茶园已达50处以上。

——摘编自林齐模《近代中国茶叶国际贸易的衰减——以对英国出口为中心》

(1)根据材料一并结合所学知识,概括宋代茶叶通商法的影响。(6分)

(2)根据材料二并结合所学知识,近代印度茶崛起的原因。(9分)

关于我们

自主选拔在线是致力于提供新高考生涯规划、强基计划、综合评价、三位一体、学科竞赛等政策资讯的升学服务平台。总部坐落于北京，旗下拥有网站（[网址: www.zizzs.com](http://www.zizzs.com)）和微信公众平台等媒体矩阵，用户群体涵盖全国90%以上的重点中学师生及家长，在全国新高考、自主选拔领域首屈一指。

如需第一时间获取相关资讯及备考指南，请关注**自主选拔在线**官方微信号：**zizzsw**。



 微信搜一搜

 自主选拔在线