

## 高三地理

### 考生注意：

1. 本试卷分选择题和非选择题两部分。满分 100 分，考试时间 90 分钟。
2. 答题前，考生务必用直径 0.5 毫米黑色墨水签字笔将密封线内项目填写清楚。
3. 考生作答时，请将答案答在答题卡上。选择题每小题选出答案后，用 2B 铅笔把答题卡上对应题目的答案标号涂黑；非选择题请用直径 0.5 毫米黑色墨水签字笔在答题卡上各题的答题区域内作答，**超出答题区域书写的答案无效，在试题卷、草稿纸上作答无效。**
4. 本试卷主要命题范围：高考范围。

一、选择题：本题共 22 小题，每小题 2 分，共 44 分。在每小题给出的四个选项中，只有一个选项是符合题目要求的。

2022 年 7 月 14 日央视网消息：《关于在重点工程项目中大力实施以工代赈促进当地群众就业增收的工作方案》日前发布，将推动政府投资重点工程项目实施以工代赈，以工代赈将优先吸纳返乡农民工、脱贫人口，防止返贫监测对象。在确保工程质量安全和符合进度要求等前提下，按照“应用尽用、能用尽用”的原则，充分挖掘用工潜力。据此完成 1~3 题。

1. 在重点工程项目中大力实施以工代赈的主要目的是  
A. 控制人口流动规模  
B. 促进当地产业转型升级  
C. 减少国家救助资金  
D. 确保脱贫人口稳岗就业
2. 为了确保工程质量安全，实施以工代赈的企业应  
A. 大规模机器代工  
B. 改善当地基础设施  
C. 提高劳动力工资  
D. 开展劳动技能培训
3. “应用尽用、能用尽用”原则的主要影响是  
A. 降低用工成本  
B. 导致耕地撂荒严重  
C. 扩大就业容量  
D. 促进人口均衡分布

长春市从 2021 年开始实施 300 万头肉牛产业暨“秸秆变肉”工程(如下图所示)。同时，以玉米秸秆变肉为纽带，着力构建“秸秆膨化饲料加工→生态肉牛养殖→牛粪养殖蚯蚓(牛粪经过蚯蚓过腹变成蚯蚓肥)→蚯蚓喂鱼喂鸡/蚯蚓肥种植有机蔬菜、玉米、水稻”于一体的产业链，促进农民增收，产业增效。据此完成 4~5 题。



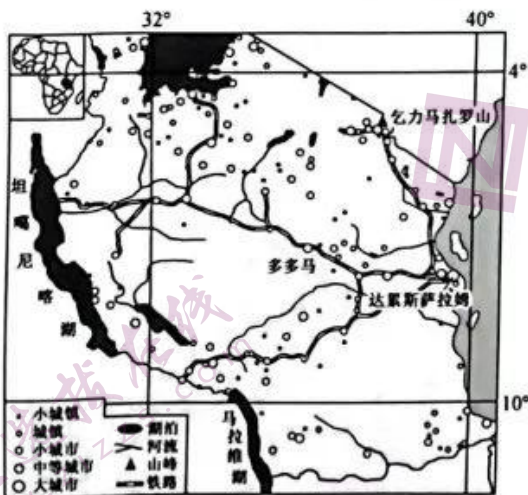
4. 长春市实施“秸秆变肉”工程主要是为了  
A. 优化种植结构  
B. 助力农牧循环经济发展  
C. 改善空气质量  
D. 促进区域一体化发展

【高三开学考·地理 第 1 页(共 6 页)】

5. 长春市能大规模实施“秸秆变肉”工程的突出优势是

- A. 气候湿热      B. 光照充足      C. 矿产丰富      D. 秸秆丰富

坦桑尼亚是世界上最不发达的国家之一，城市化发展水平整体偏低，但近年来该国城市化速度加快，预计到2050年城市化率将超过50%。该国的前首都达累斯萨拉姆，20世纪70年代迁新首都至西部城镇多多马。下图示意坦桑尼亚地理位置及其城市体系空间分布。据此完成6~8题。



6. 推测坦桑尼亚人口密度的分布特征主要表现为

- A. 北密南疏      B. 西密东疏      C. 中部密集      D. 东北稀疏

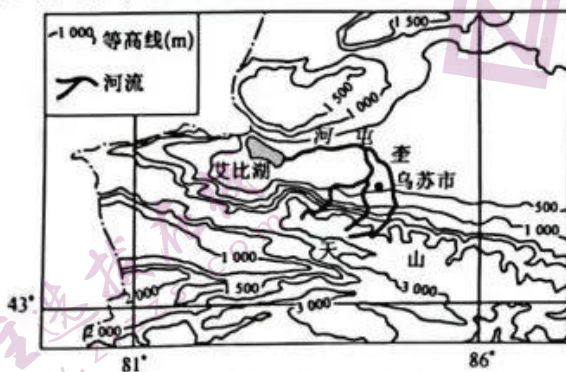
7. 坦桑尼亚城市化发展水平整体偏低的主要原因是

- A. 深居内陆，交通较闭塞      B. 乡村剩余劳动力少  
C. 工业化起步晚，水平低      D. 中小城市数量过多

8. 与达累斯萨拉姆相比，多多马成为新首都的优势条件是

- ①人口数量更多    ②气候更加凉爽    ③交通枢纽地位更明显    ④更靠近国土几何中心  
A. ①②      B. ②④      C. ①③      D. ③④

葡萄的生长周期约为90~100天。葡萄萌芽至果粒膨大的生长发育前、中期需水量大；成熟期需水量相对较少，且若此时期降水天气少，对提高葡萄品质有利。乌苏市是我国葡萄主产区之一，该市葡萄成熟期集中在8~9月。下图示意乌苏市地理位置及周边地区。据此完成9~11题。



9. 在生长发育前、中期，降水对乌苏市葡萄影响较小，主要是因为

- A. 需水量不大      B. 有河流流经      C. 降水丰富      D. 蒸发量小

10. 葡萄成熟期，乌苏市周边地区

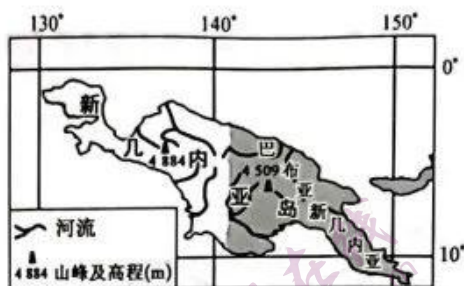
- A. 昼夜温差较大      B. 常绿林枝繁叶茂  
C. 暴雨频繁发生      D. 艾比湖水位较高

【高三开学考·地理 第2页(共6页)】

11. 成熟期降水天气少,对提高葡萄品质有利,主要体现在

- A. 提高结果数量
- B. 方便果实采摘
- C. 利于糖分积累
- D. 便于葡萄晾晒

巴布亚新几内亚是太平洋西南部的一个岛群,主要居民有巴布亚人、美拉尼西亚人、西非几内亚人等,也有4万多外来的居民。巴布亚新几内亚沿海地区多见A形茅屋,高度可达25 m,上半部装饰着抽象的图案,下半部用编织的草席做墙,后部逐渐倾斜到达地面,屋顶覆盖茂密的茅草。下图示意巴布亚新几内亚岛群局部地区地理位置及A形茅屋景观。据此完成12~14题。



12. A形茅屋高度可达25 m,其主要功能是

- A. 信息传递
- B. 仓储
- C. 安全防卫
- D. 娱乐

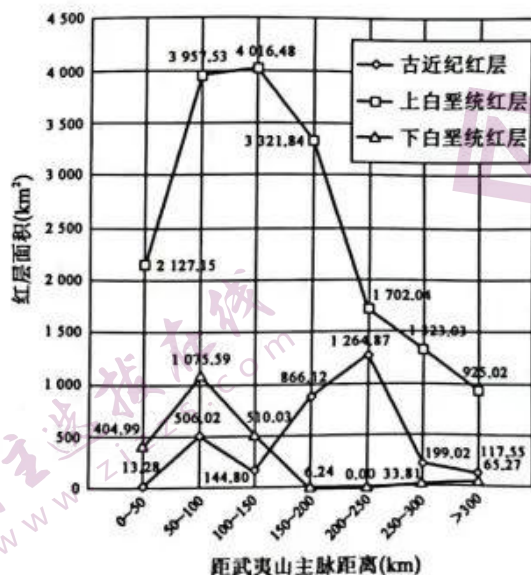
13. A形茅屋坡度较大,下半部用编织的草席做墙,这样建造可以

- A. 抵御台风,抗震抗倒
- B. 便于排水,通风防潮
- C. 就地取材,防风保暖
- D. 扩展用地,排除积雪

14. 新几内亚岛的岛屿类型为

- A. 珊瑚岛
- B. 冲积岛
- C. 火山岛
- D. 大陆岛

武夷山位于江西省东部与福建省交界处,呈东北—西南走向,武夷山隆起对江西省红层(形成丹霞地貌的岩层)地貌分布和发育具有重要的控制作用。下图示意江西省红层面积在武夷山主脉西侧缓冲区内分布。据此完成15~17题。



15. 图示不同时期江西省红层面积的分布状况是

- A. 均大致自东向西逐渐增加
- B. 上白垩统大致呈东多西少趋势
- C. 古近纪大致自东向西递减
- D. 下白垩统大致呈东少西多趋势

【高三开学考·地理 第3页(共6页)】

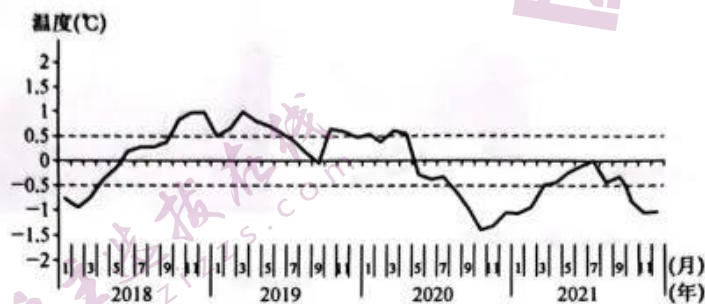
16. 构成江西省红层地貌的主要岩石

- A. 可能含有化石
- B. 多片理构造
- C. 多冷凝成层状
- D. 多气孔结构

17. 江西省的红层地貌区

- A. 冰川堆积作用显著
- B. 以物理风化为主
- C. 流水下蚀作用强烈
- D. 以风力侵蚀为主

依据《厄尔尼诺/拉尼娜事件判别方法》国家标准,当关键区(尼诺3.4区,即 $120^{\circ}\text{W}\sim 170^{\circ}\text{W}$ , $5^{\circ}\text{S}\sim 5^{\circ}\text{N}$ 之间的区域)3个月滑动平均海表温度低于气候平均态 $0.5^{\circ}\text{C}$ 时,即为拉尼娜状态,持续5个月以上便形成一次拉尼娜事件。下图示意2018年1月~2021年12月关键区海表温度距气候平均态变化。据此完成18~19题。



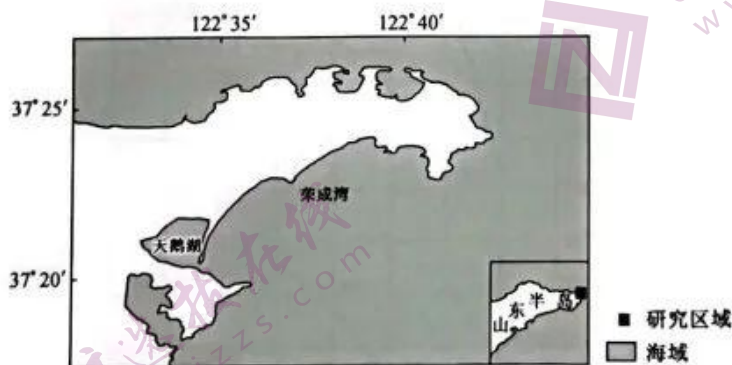
18. 2021年赤道中东太平洋开始进入拉尼娜状态的月份为

- A. 2月
- B. 4月
- C. 8月
- D. 10月

19. 2018年1月~2021年12月期间

- A. 2021年拉尼娜影响时间最短
- B. 出现拉尼娜状态的间隔缩短
- C. 中东部太平洋水温长期偏低
- D. 秘鲁沿海渔业资源趋于减少

天鹅湖位于山东半岛最东端、荣成湾湾顶,有5条季节性河流注入,是一个通过一条狭窄的水道与荣成湾相连的泻湖,面积不足 $5\text{ km}^2$ ,东侧有一条形似月牙形的沙坝。天鹅湖地区属于较粗颗粒砂质海滩,该地区的地质纵剖面形态均呈上陡下缓的特征。自1957年开始,当地为了扩大海参养殖规模,不断开发利用天鹅湖,1979年当地政府在天鹅湖口门建造了水坝。下图示意天鹅湖地理位置。据此完成20~22题。



20. 天鹅湖形成的主要外力作用是

- A. 海浪的堆积作用
- B. 海浪的侵蚀作用
- C. 河流的堆积作用
- D. 河流的侵蚀作用

21. 天鹅湖地区的地质纵剖面形态均呈上陡下缓的特征,与其关联性最大的是

- A. 风力强劲
- B. 降水较少
- C. 下渗显著
- D. 终年低温

【高三开学考·地理 第4页(共6页)】

22. 天鹅湖口门建造了水坝后, 该湖

- ①水体交换不畅 ②泥沙淤积加重 ③换水周期缩短 ④冲淤趋于平衡

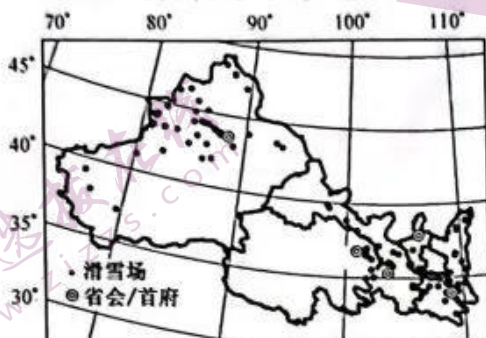
- A. ①② B. ①③ C. ②④ D. ③④

二、非选择题: 共 56 分。第 23~24 题为必考题, 每个试题考生都必须作答。第 25~26 题为选考题, 考生根据要求作答。

(一) 必考题: 共 46 分。

23. 阅读图文材料, 完成下列要求。(24 分)

西北五省区包括陕西、甘肃、宁夏、青海和新疆, 面积约 310 万  $\text{km}^2$ 。域内平均海拔较高, 气候多样, 山脉连绵, 冰雪运动历史悠久, 冰雪文化厚重。近年来, 在市场需求与政策引导的双轮驱动下, 西北五省区冰雪运动和冰雪产业进入快速发展阶段。下图示意西北五省区主要滑雪场分布。



- (1) 指出西北五省区滑雪场的整体分布特征。(4 分)  
 (2) 西北五省区滑雪场较多, 说明有利于其形成的自然条件。(6 分)  
 (3) 与南疆相比较, 说明北疆滑雪场分布较多的原因。(6 分)  
 (4) 请你为西北五省区冰雪产业的快速发展献计献策。(8 分)

24. 阅读图文材料, 完成下列要求。(22 分)

美国新奥尔良建于 1718 年, 该城市发展源于其优越的地理位置, 也受制于地理环境所造成的自然灾害。2005 年 8 月 29 日, 新奥尔良遭受卡特里娜飓风袭击, 损失惨重, 是美国近代史上受灾规模最大的。图 1 示意新奥尔良地理位置, 图 2 示意 1980~2020 年新奥尔良周边地区海平面变化。

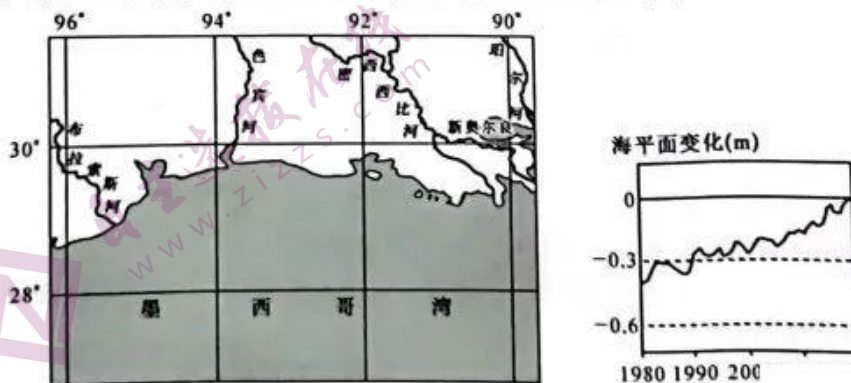


图 1

【高三开学考·地理 第 5 页(共 6 页)】

- (1)简述早期新奥尔良发展的地理位置优势。(6分)  
 (2)从地形和水文角度,说明新奥尔良易受洪水威胁的原因。(4分)  
 (3)推测卡特里娜飓风灾害给新奥尔良带来的主要影响。(6分)  
 (4)指出 1980~2020 年新奥尔良周边地区海平面的变化状况,并分析成因。(6分)

(二)选考题:共 10 分。请考生从 2 道题中任选一题作答。如果多做,则按所做的第一题计分。


25.【选修 3:旅游地理】(10 分)

北极旅游一般指在北极圈以内区域开展的旅游活动。北极旅游始于 20 世纪 50 年代初,规模的旅游活动发端于 20 世纪 80 年代。近年来,北极地区游客数量大幅增加。

列举北极旅游的特色旅游资源,并分析近年来北极地区游客数量大幅增加的北极因素。

26.【选修 6:环境保护】(10 分)

多环芳烃(PAHs)是一种广泛存在于环境中的持久性有机污染物,土壤是 PAHs 累积和迁移重要介质。钢铁企业及其衍生产业在生产、加工、运输、存储等过程中会产生大量 PAHs 迁移扩散周边环境中,对生态环境安全造成威胁。下图示意我国某钢铁厂表层土壤中 PAHs 空间分布(颜色深代表数值越大)。



指出该钢铁厂表层土壤中 PAHs 的空间分布特征,并提出应对措施。

## 高三地理参考答案、提示及评分细则

1. D 据材料分析可知,以工代赈将优先吸纳返乡农民工、脱贫人口、防止返贫监测对象,即在重点工程项目中大力实施以工代赈的主要目的是确保脱贫人口稳岗就业。
2. D 据材料并结合所学知识分析可知,以工代赈以促进当地农民工、脱贫人口就业为主,而他们大多数文化水平和劳动技能较低且参差不齐,因此,实施以工代赈的企业应对参与群众开展劳动技能培训,提高技术水平,确保工程质量安全。
3. C 分析可知,我国返乡农民工、脱贫人口、防止返贫监测对象数量庞大,按照“应用尽用、能用尽用”的原则,可以扩大就业容量,为当地群众就地就近就业提供更多的机会,巩固脱贫攻坚成果。
4. B 分析可知,“秸秆变肉”工程将玉米秸秆加工成牲畜饲料,饲养肉牛牲畜,使秸秆资源过腹再还田,利用牛粪养殖蚯蚓并产生蚯蚓肥,蚯蚓喂鱼喂鸡,蚯蚓肥种植有机蔬菜、玉米、水稻,实现了种养有机结合,助力农牧循环经济发展。
5. D 结合所学知识分析可知,长春市是我国粮食大市,玉米秸秆资源丰富,为该市实施“秸秆变肉”工程提供了丰富的秸秆饲料。
6. A 分析可知,影响城市分布的区位因素与影响人口分布的区位因素具有相似性。图中显示,坦桑尼亚北部地区城镇与城市数量较多,密度较大,南部地区城镇与城市数量较少,密度较小。由此推测,坦桑尼亚人口密度呈现北密南疏的分布特征。
7. C 据材料及所学知识可知,坦桑尼亚目前处于城市化的加速发展时期,此阶段工业化是推动城市化的主要动力,因此,坦桑尼亚城市化整体水平偏低,主要是因为其工业化起步晚,水平低。
8. B 据材料及所学知识分析可知,达累斯萨拉姆位于沿海平原,多多马位于东非高原,海拔高,气候凉爽,且多多马更靠近坦桑尼亚国土的几何中心,作为新首都,对周边地区的辐射带动作用强,更有利于促进区域均衡发展。达累斯萨拉姆作为前首都,该城市城市化起步早,水平高,人口数量更多,是沿海重要的港口城市,交通枢纽地位更明显。
9. B 据材料分析可知,乌苏市葡萄生长发育前、中期集中在春季,该市的河流以冰雪融水补给为主,春季气温回升,冰雪融化,河流水量丰富,水源充足,因此在生长发育前、中期降水对乌苏市葡萄影响较小。葡萄生长前、中期,需水量较大;春季气温回升,蒸发量较大。
10. A 分析可知,乌苏市葡萄成熟期集中在8~9月,此时段乌苏市周边地区气温高,降水少,暴雨发生频率小,大气保温作用弱,昼夜温差较大。8~9月气温高,风力大,蒸发旺盛,加之农业用水多,入湖径流量小,使得艾比湖水位较低。
11. C 结合所学知识分析可知,葡萄成熟期降水天气少,利于葡萄进行光合作用,糖分积累多,葡萄品质佳。
12. C 据材料分析可知,巴布亚新几内亚岛群的民族构成复杂,外来居民较多,将茅屋高度建到25 m,站在屋顶上可以居高临下地望见通向屋内的通道,可以起到防卫的功能。
13. B 据图并结合所学知识分析可知,巴布亚新几内亚岛群位于热带雨林气候区,终年高温多雨,A形茅屋坡度较大,便于排水,下半部用编织的草席做墙,便于通风防潮。
14. D 结合经纬度位置分析可知,新几内亚岛面积较大,距澳大利亚大陆较近,七千年前曾与澳大利亚大陆相连,后由于海平面上升,两者被海水分隔,即新几内亚岛应为大陆岛。
15. B 据图可知,江西省红层面积总体上呈自东向西先增加再减少的趋势。上白垩统和下白垩统红层面积主要分布在距武夷山主脉西侧0~150 km范围内,其大致呈东多西少趋势;古近纪红层面积在距\_\_\_\_\_ km范围内较大,其大致呈自东向西增加的趋势。
16. A 分析可知,构成江西省红层地貌的主要岩石为沉积岩,其有明显的层理构造,可能含有化石。
17. C 据材料“武夷山隆起对江西省红层地貌分布和发育具有重要的控制作用”,可知随着武夷山的隆起,江西省地壳相对下陷,流水沉积作用形成深厚的红层,后经流水下蚀作用形成红层地貌。冰川作用主要发生在高海拔、高纬度地区,

- 物理风化普遍存在于温差较大的干旱和高寒地区,风力侵蚀主要发生在干旱半干旱地区。
18. D 据材料信息可知,进入拉尼娜状态需要3个月滑动平均海表温度低于气候平均态 $0.5^{\circ}\text{C}$ ,图中显示2021年10月、11月、12月这3个月,关键区的平均海表温度均低于气候平均态 $0.5^{\circ}\text{C}$ ,因此,2021年10~12月赤道中东太平洋进入拉尼娜状态,10月为开始的月份。
19. B 图中信息显示,2018年1月~2021年12月期间,第一次拉尼娜状态出现在2018年1~3月,第二次拉尼娜状态出现在2020年8~10月,第三次拉尼娜状态出现在2021年10~12月,时间间隔缩短。2018年1月~2021年12月期间,2019年没有进入拉尼娜状态,也没有出现拉尼娜事件,说明2019年几乎不受拉尼娜影响;整体来看,水温偏低和偏高的时段相差不大,水温偏低,会使得秘鲁渔场的渔业资源变得丰富,水温偏高,秘鲁渔场渔业资源减少,但是并没有出现趋于减少的趋势。
20. A 据图文材料分析可知,受东侧沙坝分割而与外海相分离形成天鹅湖,而沙坝是海浪堆积作用的结果,因此,天鹅湖形成的主要外力作用是海浪的堆积作用。
21. C 分析可知,天鹅湖地区属于较粗颗粒砂质海滩,下渗显著,地表流损耗使向海方向的回流大大减弱,沉积物在海滩上部堆积使地质纵剖面形态上部坡度变大,呈上陡下缓的特征。
22. A 据材料可知,1979年当地政府在天鹅湖口门建造了水坝,阻挡了天鹅湖与荣成湾的水体交换,导致水体交换不畅,水体循环及向外输沙的能力减弱,泥沙淤积加重。
23. (1)西北部(或西部)、东南部(或东部)多(或密集);中部少(或稀疏)。(每条2分,共4分;若能答出“从东西两端向中部减少”可直接得1分)
- (2)地形多样,有利于滑雪场建设;冬季较长,温度较低;积雪资源丰富;雪质优良;雪域宽广等。(每条2分,答对3条得6分,共6分)
- (3)雪量大,冰雪运动条件好;经济相对发达,人口聚居多,建设能力强(或大城市辐射带动作用强);消费市场广阔;交通便利等。(每条2分,答对3条得6分,共6分)
- (4)完善冰雪运动设备;提高滑雪场建设水平;健全冰雪产业体系;加强交通设施建设;强化冰雪文化引领作用;加强宣传,让民众了解冰雪运动等。(每条2分,答对4条得8分,共8分)
24. (1)位于中纬度地区,气候适宜;位于沿海,地势平坦;位于密西西比河下游入海口,便于发展河海联运等。(每条2分,共6分)
- (2)地处密西西比河河口三角洲,地势低洼,排水不畅;密西西比河水位季节变化大,易泛滥。(每条2分,共4分)
- (3)强风会摧毁房屋、建筑物,造成财产和生命损失;暴雨诱发城市内涝,破坏城市基础设施;风暴潮会破坏沿海堤坝,引发海水倒灌等。(每条2分,共6分)
- (4)变化状况:波动上升。(2分)成因:全球气候变暖,冰川融化;海水温度升高,海水受热膨胀;入海泥沙减少,海水侵蚀加剧等。(每条2分,答对2条得4分,共4分)
25. 特色旅游资源:极光;冰川;海湾;北极熊、海豹、海象等野生动物;极地苔原植物;北极圈自然标志地;原住民文化、人类活动遗址遗迹等。(每条2分,答对3条得6分,共6分)北极因素:全球气候变暖,使得北极地区的海冰不断减少,提高了北极地区的可达性,增加了游客的访问机会;北极地区气温升高,生长季延长,气候舒适度提升;北极地区的地缘战略价值提升,各国建设国家公园、旅游胜地等促进了北极地区旅游业的发展等。(每条2分,答对2条得4分,共4分)
26. 空间分布特征:呈点源分布;极值点出现在中部地区和东南部地区(或极值出现在核心区域附近及废气、废水集中排放区)等。(每条2分,共4分)应对措施:提高煤炭燃烧效率;废气、废水达标排放;进 及风险管控等。(每条2分,答对3条得6分,共6分)



## 关于我们

自主选拔在线是致力于提供新高考生涯规划、强基计划、综合评价、三位一体、学科竞赛等政策资讯的升学服务平台。总部坐落于北京，旗下拥有网站（[网址: www.zizzs.com](http://www.zizzs.com)）和微信公众平台等媒体矩阵，用户群体涵盖全国90%以上的重点中学师生及家长，在全国新高考、自主选拔领域首屈一指。

如需第一时间获取相关资讯及备考指南，请关注**自主选拔在线**官方微信号：**zizzsw**。



微信搜一搜

自主选拔在线

## 高三历史

考生注意:

1. 本试卷分选择题和非选择题两部分。满分 100 分, 考试时间 90 分钟。
2. 答题前, 考生务必用直径 0.5 毫米黑色墨水签字笔将密封线内项目填写清楚。
3. 考生作答时, 请将答案答在答题卡上。选择题每小题选出答案后, 用 2B 铅笔把答题卡上对应题目的答案标号涂黑; 非选择题请用直径 0.5 毫米黑色墨水签字笔在答题卡上各题的答题区域内作答超出答题区域书写的答案无效, 在试题卷、草稿纸上作答无效。
4. 本试卷主要命题范围: 高考范围。

一、选择题(本大题共 24 小题, 每小题 2 分, 共计 48 分。在每小题列出的四个选项中, 只有一项是最符合题目要求的。)

1. 下表为孔子的一些经济思想。由此可见, 这些思想的基本要义是

治民观	赋税观	节俭观	生态观	诚信观	货值观
居教行简	敛从其薄	宁简毋奢	取物有节	无信不立	待贾而沽

- A. 天下为公  
B. 以民为本  
C. 克己复礼  
D. 中庸之道

2. 据统计, 在湖南武陵山里耶镇出土的秦简多为迁陵县署日常行政管理文书, 包括户籍变化、田租赋税、劳役徭役、仓储钱粮、兵甲物资、道路里程、邮驿津渡管理、刑徒管理、祭祀先农以及教育、医药等政令。这反映出秦朝

- A. 赋税负担沉重  
B. 法律制度严酷  
C. 基层管理严密  
D. 行政效率提高

3. 汉朝的刑事责任年龄分为三段, 即幼年、成年、老年。汉律规定, 只有成年而未步人老年的人才负有刑事责任, 某些老弱妇孺病残者犯罪, 可以减免刑罚或区别对待。这反映了汉代

- A. 儒学的官方化  
B. 司法制度逐步完善  
C. 法律的儒家化  
D. 儒学的影响力广泛

4. 魏晋南北朝时期, 后赵石勒设“君子营”, 礼遇“衣冠华族”, 重用汉儒张宾等, “朝会常以天子礼乐飨其群下, 威仪冠冕从容可观矣”。北魏拓跋理吸收汉族上人, 制定典章制度, 按照周秦以来中原王朝的规模, 建立北魏朝廷。这些做法

- A. 促进了北方的民族交融  
B. 实现了国家大一统  
C. 推动了北方民族的内迁  
D. 加强了君主的权力

5. 下表为宋代不同时期江南与全国农村劳动力的变动情况(单位:户、人)。据此可推知,当时

时间	江南地区		全国		江南地区农村劳动力 占全国农村劳动力比重(%)
	户数	农村劳动力人数	户数	农村劳动力人数	
980年	349 283	890 672	6 418 500	16 367 175	5.4
1078年	1 120 331	2 856 844	16 603 954	42 340 082	6.7
1102年	1 265 762	3 227 693	18 113 945	46 190 560	6.9

- A.个体农耕规模扩大  
B.经济重心南移完成  
C.土地兼并日益严重  
D.江南经济持续发展

6. 下表为某学者对明朝赋役改革进程的描述。由此可见,明朝的赋役改革

进程一	赋役折银—农民从纳粮当差到纳银不当差 从身份到契约 农民与土地分离雇工和商帮群体形成
进程二	赋役折银农业从单一到多元 经营权与所有权分离 农业商品化
进程三	赋役折银农村从封闭、半封闭到开放市镇兴起

- A.从根本上提高了农民的社会地位  
B.导致生产关系发生巨变  
C.顺应了社会经济发展的内在要求  
D.体现了重农抑商的特点

7. 乾隆时期,有些内阁大学士从没进过军机处,但是很受皇帝重用如在统一新疆战争中,乾隆帝多次咨询内阁大学士史贻直的意见。乾隆帝的这一做法

- A.使内阁成为议行合一的机构  
B.是强化君主专制的结果  
C.大大提高了政府的行政效率  
D.使军机处成为法定机构

8. 有学者指出:“如果没有西方势力的侵人和太平天国接纳西方文化的举动,也就不能引发敌手们“借师助剿”的需求;没有“借师助剿”以及与洋人共同镇压太平军的合作,就不会有强烈的中西文化差异带来的刺激,也就不会有学习西方物质文化的迫切愿望和行动”该学者意在强调太平天国运动


- A.具有反封建反侵略的性质  
B.促使清廷权力结构发生变化  
C.导致中外反动势力的联合  
D.客观上推动了中国的近代化

9. 1902年,梁启超在《新史学》中指出,传统史学“知有朝廷而不知有国家;知有个人而不知有群体....提出“民族历史是主流”。在他看来,“新史学”当务之急,就是要效法“泰西之

良史”，以“民统”代替“君统”。以“国史”代替“朝史”，以“民史”代替“君史”。梁启超旨在

- A. 否定传统史学的价值  
B. 为维新变法失败辩护  
C. 激发国人的国家意识  
D. 支持清术的立宪改革

10. 下面是 1908 年《神州日报》上发表的名为《立宪真相》的两幅漫画。这些漫画意在揭示



- A. 预备立宪实为加强专制集权  
B. 国民民主参政意识增慢  
C. 清末新政客观推动了近代化  
D. 辛亥革命缺乏群众基础

11. 创建于 1918 年的上海永安公司为著名商业企业,它还创办了永安纺织印染公司,下属 5 个纺织厂和 1 个印染厂。同时期的天津同升和鞋帽店,除有 5 个分店外,还附设制帽、制鞋两个工厂,并有专门技工负责生产和管理。上海冠生园食品公司也于 1934 年在杭州超山创设工厂。这些现象

- A. 表明政府对国民经济的干预加强  
B. 扭转了近代中国经济落后的局面  
C. 体现民族工业“短暂春天”的到来  
D. 利于促进中国民族资本主义发展

12. 1924 年,广东成为全国农民运动中心,到 1926 年 5 月,广东有农会组织的县由 14 个扩展到 61 个,增长了约 3.36 倍,会员由 18 万增至 62 万,增长了 2.44 倍。1926 年底到 1927 年上半年,两湖农民运动迅猛发展,而广东农民运动却停滞不前。这一现象说明

- A. 土地革命调动了农民革命热情  
B. 革命形势发展影响了农民运动  
C. 中国革命道路从城市转向农村  
D. 国民革命的群众基础得以扩大

13. 1947 年 6 月,为保障作战行动的后勒供给,中共中央筹备发行“中国人民解放军华东野战军军用流通券”,背面的布告内容是,“本军奉命解放华东,军行所至,军民交易,一律使用本军军用流通券。”据此可知,党中央的这一举措

- A. 适应了民主革命形势的变化  
B. 说明国民经济恢复任重道远  
C. 表明国共战时合作关系破裂  
D. 导致党的工作重心发生转移

14. 下图为 1949 年前后中国民歌歌词云图。图中的变化



1949年前民歌歌词云图



1949年后民歌歌词云图

- A.体现了社会主义公有制的优越性  
B.有利于构建新的国家认同  
C.表明“双白”方针推动了文化繁荣  
D.反映出新旧文艺观念冲突

15. 1954年5月24日,世界和平理事会柏林特别会议召开,中国在这次会议上的发言稿(部分)如下表。作为中国外交关系的史料,其价值在于

	主要内容
第一条	着重指出日内瓦会议上两条道路的斗争,即我方的道路是和平的道路,而美方的道路是战争的道路
第二条	着重揭露美国在日内瓦会议中的两面派手法,即一面在会内进行关于恢复印度支那和平与和平解决朝鲜问题的谈判,另一面又在会外加紧进行法、美读判和组织东南亚军事侵略集团
第三条	着重宣传我方真诚愿意和平协商解决亚洲问题,强调亚洲各国要在互相尊重领土主权、互不侵犯、互不干涉内政、平等互惠及和平共处的原则上建立亚洲各国人民的集体安全

- A.反映出中国外交始终以联合国为中心  
B.体现出中国致力于维护亚非国家的团结  
C.用于印证中国奉行独立自主外交政策  
D.揭示出建国初期中国外交的革命性特征

16. 20世纪80年代初起,广东和福建就被国家赋予了特殊政策,多年来,沿海地区在取消价格管制、扩大企业经营自主权、市场化融资、自由就业和土地有偿使用等方面都是先行一步,成为中国改革的试验区。这说明我国

- A.借助“一国两制”打造示范城市  
B.沿海地区在国家战略中率先受益  
C.地理位置决定地区的开放力度  
D.全方位的对外开放格局已经形成

17. 古代雅典法律规定,对一切不相信现存宗教者和对一切神明持不同意见者,立即治罪。比如苏格拉底就以“慢神”和“蛊惑青年罪”被判处死刑,这反映了古代雅典

- A.缺乏宗教信仰基础  
B.少数贵族独享民主  
C.直接民主存在弊端  
D.公民缺乏参政热情

18. 居住权制度起源于古罗马查士丁尼皇帝的-道敕令。就居住权的本质而言,很难把它完全与用益权的关系割断。因为,居住权人有权出租房屋,这是用益的主要方式之一。不过,居住权更加强调整其人身属性,这令其有一些不同于用益权的差异.例如居住权不因为人格减等和不行使而消灭,该权利由权利人终身享有。这表明居住权

- A.确立了私有财产不可侵犯原则
- B.违背了自然法的精神要义
- C.协调了帝国境内公民之间权益
- D.暗含对用益权的适度限制

19. 某学者曾说:"美国制宪先贤了不起的地方,在于他们通过罗协的方式,把启蒙时代思想家的睿智和北美殖民地的自治及制宪经验融会贯通,炮制出既有明确原则,又有具体条款;既可以操作,又富有弹性的美利坚合众国的第一部,也是迄今为止美国唯一的--部宪法。”据此可知,该学者意在强调美国 1787 年宪法

- A.具有实用主义政治倾向
- B.条文体系的完备性
- C.践行了天赋人权的思想
- D.权力运作的前瞻性

20. 英国的自耕农不是突然消失的,他们面临的最大困难就是如何与资金充裕的大型专业农场竞争。农业革命开始以后,小于 25 英亩的农场很难盈利。1815 年之后,农产品价格下滑,很多小农场主不得不卖掉田地。这客观上

- A.推动英国走上了对外扩张的道路
- B.利于新生产方式的扩展
- C.促使英国奉行国家干预经济政策
- D.导致了农业社会的解体

21. 有根罗斯学者指出,“这场即将发生的革命不仅是由于仍然保留的平农奴利和等级制在社会关系中的不成熟性所决定的.而且是由于国家必须实现社会经济、文化、政治发展的现代化要水决定的。在城市和乡村、在上层和下层,日益尖锐的矛盾就是这种要求的反映。”该学者意在说明

- A.十月革命是双重性质的革命
- B.-战成为十月革命的催化剂
- C.十月革命有广泛的群众基础
- D.十月革命的爆发具有必然性

22. 一些艺术家王张:文艺是个人主观精神的表现,强调文艺只表现潜意识、下意识。他们在绘画艺术上主张“纯形式”的构图力式,师完全白主的色彩马形式的构肉”,使读长的注意力跳过具象.凝聚幻象,去把握作品的抽象意义。该绘画流派

- A.追求画面统一和谐
- B.强调表达现实的准确性
- C.注重集中表现自我
- D.善于捕捉物体瞬间印象

23. 二战后,美国独占日本、力图把日本改造成一个和平、民主的国

再成为美国的威胁”:1951年,美日签订了《美日安全保障条约》,1954年又签订了《共同防御协议》。美国为日本提供经济援助,加速对日本军事工业的扶植。这一变化基于

- A.远东局势的变化  
B.日本军国主义抬头  
C.美苏冷战的开始  
D.两极格局最终形成

24.有学者认为,全球化的种种神话是媒体以及一些热衷于领导世界的政治家们制造出来的谎言,今天大约有45亿人生活在“发展中国家”,80%的人生活在贫困中,13亿人每天收入不到1美元,8亿人食不果腹。该学者意在强调经济全球化

- A.是由发达国家主导的  
B.并没有使全球均衡发展  
C.其发展趋势不可逆转  
D.使发展中国家深受其害

二、非选择题(本大题包括必考题和选考题两部分,共52分。第25~26题为必考题,每个试题考生都必须作答。第27~29题为选考题,考生根据要求作答。)

(一)必考题:共37分。

25.阅读材料,完成下列要求。(25分)

材料一

周朝“畿内之民,十家为保”。春秋战国,各诸侯采用“什伍制”,“五家为伍,伍之长;什伍为里,里置有司”。商鞅变法实行“什伍连坐制”,将什、伍作为基层行政单位。北宋王安石变法颁布的保甲法规定“今所以为保甲,足以除盗,然非特除盗也,固可渐习其为兵,既人人能射,又为旗鼓变其耳目,或使与募兵相参,则可以消募兵骄志,省养兵财费”。之后保甲法在全国各地逐步推行。1076年,各路“义勇、保甲民兵多达718万人”,形成一个庞大的地主武装。明清两代乡里制度基本上都经历了由里甲制度向保甲制度演进的过程。“里甲”与“保甲”“相似而实不同,里甲主于役,保甲主于卫”。而且,明清两朝的保甲已经在向“保”和“甲”两级机构发展,主要负责治安、户籍查报、人口迁移等。

——摘编自韩永周《中国保甲制度的历史流变与利弊》

材料二

1928年,中共湖北省委颁布了《乡村苏维埃的组织决议案》划归成立行政小组,选举乡代表,赋予工农群众及一切劳动者以真正的民主权利。在后来的抗日战争和解放战争时期,鄂豫皖边区在县、乡实行普选制,取消联保,赋予保甲以全新的思想内容。1941年,《鄂豫边区行政公署组织条例》和《鄂豫边区县各级政府组织条例》规定:实行保甲自治,保长和甲长由选民选举产生,保甲长平均三个月改选一次,并由所辖全体人民监

民大会上,从来不敢过问政治的老百姓,也敢选取他认为“可以”的人,作为自己的代表”。1949年2月,中共武汉市委讨论决定今后的工作总方针是“更加积极的、有重点的建立、加强与扩大在群众中的核心组织,团结各阶层...有计划地完成接管城市的各项工作,争取彻底解放”。

——摘编自荣丽萍《新中国初期武汉城市居委会的历史考察》

(1) 根据材料一并结合所学知识,概括我国古代保甲制度的特点,并分析其影响。(12分)

(2) 根据材料二并结合所学知识,简析新民主主义时期中国共产党实行保甲自治的背景及意义。(13分)

26. 阅读材料,完成下列要求。(12分)

材料

蔗糖是糖的一种,主要从甘蔗中榨取得到。在公元1000年时,还很少有欧洲人知道蔗糖的存在:到1650年时,英格兰的贵族和富翁们变得嗜糖成癖,而蔗糖则频频现身于他们的药品、文学想象以及社会等级的炫耀过程中;最迟到1800年,在每一个英格兰人的日常饮食中,蔗糖已经成为一种必需,虽然仍是价格不菲的稀缺品;到1900年时,蔗糖在英国人的日常饮食里提供了近1/5的热量。由于糖或者说是因对糖的需求而兴起的庞大市场——百万非洲奴隶到达了新大陆...糖陆陆续续地把一批批不同族群的人们带到了夏威夷,而且至今还让人们在加勒比来四迁徙。甘蔗栽种与甘蔗经过机械或化学的转化而生成蔗糖之间的关系,是通过砍伐和榨取、蒸煮和结晶、榨汁间和甘蔗地之间的协调一致才建立起来的。由此上层需要悉心规划劳动安排,对待下层则施以铁的纪律。

——摘编自[美]西敏斯《甜与权力:糖在近代历史上的地位》

阅读材料,围绕“糖与世界发展”自拟一个论题,并运用世界史的相关史实进行简要的阐述。(12分)(要求:论题明确,史论结合,论述充分,表达清晰)

(二) 选考题:共15分。请考生从3道题中任选题作答。如果多做,则按所做的第一题计分。

27. 【选修1:历史上重大改革回眸】(15分)

材料

1883年,日本文部省公布了《农学校通则》,第二年又制定了《商学校通则》。以此为起点,日本开始大力发展近代职业教育。明治初年,文部省明确指出:尽管我国文明确有进步。然而这种科学知识技能尚未渗透到普通民众中间,教育与劳动



等各种事业大部分仍因袭陈规陋习;今天国家欲充实未来的实力。必须努力向民众子弟施以科学技术和实业一致并适当结合的教育。因此,当时的日本的大、中、小学都贯彻技术教育的方针。一方面,在课程设置上,小学设置手工科,中学设置实验科目;另一方面,在各级教育上,专设了实验学校,如初等教育开办实业补习学校、乙种实验学校等。中等教育开办实验中学,甲种实验学校等,高等教育则开办专科实验学校。

---摘编自肖兴安熊家国《日本明治维新时期的教育改革及其启示》

- (1) 根据材料并结合所学知识,简析日本明治政府职业教育改革的背景。(7分)
- (2) 根据材料,概括日本明治政府职业教育改革的主要特点。(8分)

28. 【选修3:20世纪的战争与和平】(15分)

材料

1950年代后期,苏印关系迅速升温,两国贸易额剧增,苏联还向印度提供了巨额经济援助。作为回应,美国也加大对印度的援助力度。肯尼迪执政后,更是希望将印度扶植为在亚洲遏制中国的主要国家。当时英国正力图向美国证明它是可靠的盟友,作为英联邦的领导人,英国必须极力避免英联邦成员国印度倒向苏联。此前印度的国防装备仍以英制为主,但随着美苏影响力上升,印度领导人对英国这一殖民宗主国“心理上的依赖逐渐下降”,印度的军购更多着眼于自身实际需求。1962年,印度将从苏联购买米格-21战斗机的消息被披露,立即引起英国的密切关注。英国认为英联邦成员“在决定之前应当提醒英国,而不是在决定之后通知”,“要避免给美国人造成我们没有尽力帮忙的印象”,于是立即向印度提出以英制“闪电”战斗机作为替代品。但由于性价比、技术转让等因素的影响,印度最后依然选择了购买苏式战机。

---摘编自刘恒《英国对1962年苏印米格-21战斗机交易的反应》

- (1) 根据材料并结合所学知识,指出美苏积极援助印度的各自目的。(8分)
- (2) 根据材料并结合所学知识,说明美苏对印度援助的影响。(7分)

29. 【选修4:中外历史人物评说】(15分)

材料

1977年,万里担任安徽省第一书记,指出农业生产当中“最重要的生产力是人,是广大群众的社会主义积极性。没有人的积极性,一切无从谈起”,并亲赴小岗村调研指导工作。1978年10月在中央工作会议上,万里公开提出对“政社合一”的管理体制进行改革。1980年,万里调任中央担任副总理并分管农村工作,在1982年的农业书记会

的蓬勃发展，是农村经济新局面中的一个基本特征”。在万里的推动下，1984 年底，中央一号文件提出要改革农产品统派购制度。1988 年万里当选为第七届全国人大常委会委员长，在万里的提议下，1992 年全国人大修改了 1982 年宪法，将家庭联产承包责任制长期不变写入了宪法当中。

--- 摘编自李云鹏《万里农村改革思想研究》

- (1) 根据材料并结合所学知识,指出万里农村改革思想提出的背景。(9 分)
- (2) 根据材料并结合所学知识,概括万里农村改革思想的特点。(6 分)

## 高三历史参考答案、提示及评分细则

1. B 考查孔子的经济思想。根据材料并结合所学知识可知,孔子的这些思想体现了其“因民之所利而利之”的思想原则,体现了孔子从重人、重民的思想出发,把政治与经济紧密联系在一起,故B项正确,排除其他三项。
2. C 考查秦朝的基层管理。根据材料并结合所学知识可知,出土的里耶秦简全方位展示了秦时县级政府的行政管理模式,是秦朝行政体制和社会风貌的缩影和代表。材料中的“户籍变化、田租赋税、劳役徭役、仓储钱粮、兵甲物资、道路里程、邮驿津渡管理、刑徒管理、祭祀先农以及教育、医药等”政令文书均体现出当时严密的基层管理,故C项正确。材料信息无法体现沉重的赋税负担,故排除A项;材料涉及政令而非法律,故排除B项;行政效率提高应该是制度建设的影响,材料未涉及政令文书的具体实施效果,故排除D项。
3. C 考查汉代法律。据材料可知,汉代法律体现了儒学的仁政思想,这反映出汉代法律的儒家化特征,故C项正确。材料的主旨是强调汉代法律受儒学的影响,而儒学官方化指的是儒学经董仲舒改造之后,成为历代统治者所推崇的正统思想,材料所述现象未必是官方化的结果,故排除A项;材料无法体现司法制度逐步完善,故排除B项;材料仅涉及汉代法律受儒学影响,无法体现儒学的影响广泛,故排除D项。
4. A 考查魏晋时期的民族交融。据材料可知,魏晋时期一些少数民族在建立政权后,重用汉族世家,制定封建官制礼仪,这些措施的实施促进了北方民族的交融,故A项正确。后赵和北魏均处于国家分裂时期,没有实现国家大一统,故排除B项;据所学知识可知,这些措施是北方民族内迁的结果,故排除C项;材料没有体现加强君主权力的措施,故排除D项。
5. D 考查宋代经济的发展。表格数据表明,宋代江南地区农村劳动力人口呈快速增长之势,从北宋初期的8.90万人增长到北宋中期的28.57万人,到北宋末期,江南地区的劳动力已经达到了32.28万人,占同时期全国农村劳动力比重分别为5.4%、6.7%、6.9%。江南农村劳动力人口不仅在绝对值上呈现出大幅度增长的趋势,而且在相对值上也随着时间的推移呈现缓慢上升的特征。由此可推知,是农村劳动力的快速增长支撑了宋代江南农业经济的发展,故D项正确。A项不符合史实,故排除;经济重心南移完成是在南宋时期,故排除B项;土地兼并严重在材料中体现不出来,故排除C项。
6. C 考查明朝经济。根据材料并结合所学知识可知,随着明朝赋役改革的推行,农民、农业、农村都发生了巨大变化,货币化与市场化、商业化、城市化同步,这顺应了当时社会经济发 展的内在要求,故C项正确。根据所学知识可知,赋役改革使农民与国家的关系从身份走向契约,这虽是社会的巨大进步,但并未从根本上提高农民的社会地位,也没有使生产关系发生巨变,故排除A、B两项;D项与题干主旨不符,故排除。
7. B 考查清朝政治。从材料信息可知,一些没有在相关部门任职的官员,也可以直接参与决策,而参与决策权力得之于皇帝的信任,由此推知,乾隆这些举措是君主专制强化的结果,故B项正确。材料不能说明内阁掌握执行权,内阁成为议行合一机构的结论不成立,故排除A项;政府行政效率是否得到提高在材料中没有体现,故排除C项;军机处始终不是法定的中央一级的行政机构或决策机构,故排除D项。
8. D 考查太平天国运动的影响。根据材料信息,该学术观点主要针对的是“太平天国运动与洋务运动”的关系,这一关系涉及清政府“借助外国的势力”以及“学习西方物质文化”,而这两种情况客观上推动了以汉族地方督抚为主导的、向西方学习的洋务运动的兴起,故D项正确。反封建的任务不能反映太平天国运动与洋务运动的联系,故排除A项;清廷权力结构的变化只是反映了“利用汉族地方武装力量镇压”的信息,是对材料的片面解读,故排除B项;导致中外反动势力的联合不是材料强调的重点,故排除C项。
9. C 考查梁启超的思想。根据材料可知,梁启超认为传统史学以帝王政治为中心,以朝廷、个人为服务对象,揭示了传统史学服务对象的落后。结合所学知识可知,梁启超的新史学强调“民统”“国史”“民史”,意在通过激发国人的国家意识,达到挽救民族危机,反对封建专制的目的,故C项正确。材料所述主要是梁启超对封建史学进行了反思和批判,且梁启超本人深受传统史学的影响,其“新史学”建立在传统史学基础上,故排除A项;材料强调新史学的内容特点,与维新变法无关,故排除B项;清末立宪改革始于1905年五大臣出洋考察,时间不符,排除D项。
10. A 考查清末政治。该漫画发表于1908年,反映的是预备立宪。第一幅图是一个人在“专制”的树根上嫁接“立宪”的树枝;第二幅图是一名清廷官员,脚踩两只船,一支船桨上写有“禁止国会”,另一只船桨上却写有“催陈立宪意见”,漫画实际反映了作者在揭露和嘲讽预备立宪是虚,加强专制集权是实,故A项正确。材料讽刺的是清政府的“预备立宪”的欺骗性,与国民民主意识增强无关,故排除B项;C项与材料主旨不符,故排除;预备立宪骗局使一部分先进知识分子看清了清政府的反动面目,转而支持革命,这在一定程度上壮大了辛亥革命的阶级基础,故排除D项。
11. D 考查近代中国民族工业的发展。根据材料并结合所学知识可知,这一时期民族工商业发展过程中出现了较为明显的商业资本大量投入工业资本的现象,这些现象对于资金少、规模小的民族工业的发展非常有利,故在一定程度上利于促进民族资本主义的发展,故D项正确。政府对经济的干预在材料中没有体现,故排除A项;B项不符合史实,故排除;民族工业“短暂春天”是在1912~1919年,故排除C项。
12. B 考查国民大革命与农民运动。据材料可知,1924年1月以国共合作为基础的国民大革命开始,最初革命中心在广东,所以广东的农民运动发展迅速,1926年开始北伐,半年以后国民大革命的中心由珠江流域转移到长江流域,两湖地区成为国民革命中心,所以1926年底到1927年上半年,两湖农民运动迅猛发展,而广东农民运动却停滞不前,这说明革命形势的发展影响了农民运动,故B项正确。材料体现的是国民大革命时期,不是土地革命时期,故排除A项;中国革命道路从城市转向农村是在1927年秋收起义失败后,故排除C项;材料无法体现国民革命的群众基础扩大,故D项错误。
13. A 考查解放战争。结合材料中的时间信息“1947年6月”,再结合“军行所至,军民交易”可以判定解放战争发生重大战略转折,即当时人民军队已揭开战略反攻的序幕,这一举措适应了当时中国民主革命形势的变化,故A项正确。材料强调的是解放战争的信息,不是国民经济恢复任务任重道远,故排除B项;国共战时合作关系已经破裂不符合材料主旨,故排除C项;1949年七届二中全会标志着我党工作重心即将发生转移,故排除D项。
14. B 考查新中国文化建设。文化服务于国家政治和经济,根据材料内容可知,建国后“毛主席、太阳”等词汇逐渐流行,这有助于构建新的国家认同,故B项正确。社会主义公有制建立是在1956年,与材料所示时间不符,故排除A项;“双百”方针提出是在1956年,故排除C项;D项没有反映材料主旨,故排除。
15. C 考查建国初期的中国外交。根据材料信息可知,1954年在世界和平理事会柏林特别会议上,中国一方面对美国的两面派做法进行揭露,对美国的战争道路、侵略行为进行针锋相对的斗争,同时,又积极宣传和平共处五项原则

- 则,这份发言稿作为中国外交关系的史料,它的价值在于可以印证当时中国奉行独立自主的外交政策,故C项正确。中国恢复联合国合法席位是在20世纪70年代,而开展以联合国为中心的多边外交是在十一届三中全会后的新时期,故排除A项;材料中未提及非洲国家,故排除B项;“革命性”符合史实,但不是材料强调的重点,故排除D项。
16. B 考查我国对外开放。根据材料和所学知识可知,广东和福建的一些地区,从20世纪80年代初就被国家赋予了特殊政策——设立为经济特区,因为只有实行与海外类似的经营管理体制,才能适应相互竞争与合作的需要。于是多年来,沿海地区在取消价格管制、扩大企业经营自主权、市场化融资、自由就业和土地有偿使用等方面都是先行一步,成为中国改革的试验区,这说明沿海地区在国家战略中率先受益,故B项正确。材料强调的不是“一国两制”,故排除A项;C项表述过于绝对,故排除;D项在材料中没有体现,故排除。
17. C 考查雅典民主政治。根据材料并结合所学知识可知,雅典是一个具有自由精神的城邦,所以才出现了苏格拉底等许多进行自由讨论的思想家,才出现了文化繁荣的景象。然而,它的自由是以容忍为保证的,而不是法律。当多数人的意志认为个人的自由已经危害到城邦利益时,雅典的民主就会迅速作出反应,毫不留情地剥夺个人的自由权利,甚至生命。这诠释了“不是为自由存在的权威不是权威,而是暴力”,也就表明雅典直接民主存在一定的弊端,故C项正确。A项不符合材料主旨,故排除;苏格拉底生活在雅典实行民主政治时期,雅典民主是成年男性公民的民主,故排除B项;D项在材料中没有体现,故排除。
18. D 考查古代罗马法。根据材料可知,古代罗马居住权强调的是居住权拥有人居住权与用益权的区别,拥有居住权不等于拥有完整的用益权,因此用益权受到了适度限制,故D项正确。材料是对所有权的限制而不是确定,故排除A项;古罗马的居住权是对没有继承权的社会弱势群体的保障制度,一定程度上体现了公平正义的自然法原则,排除B项;材料没有体现协调了帝国境内公民之间权益,故排除C项。
19. A 考查美国1787年宪法。据材料“通过妥协的方式……炮制出既有明确原则,又有具体条款;既可以操作,又富有弹性的美利坚合众国的第一部,也是迄今为止美国唯一的一部宪法”可知,美国宪法具有很强的实用性,故选A项。B项不符合材料主旨,也不符合史实,故排除;美国宪法带有种族歧视的烙印,故排除C项;权力运作的前瞻性在材料中没有体现,故排除D项。
20. B 考查工业革命背景。材料所述的是英国工业革命前土地所有权的转移,这种转移更加有利于采用资本主义的生产方式,即有利于新生产方式在英国的扩展,B项正确。17世纪时,英国就已经开始了殖民侵略与扩张运动,故排除A项;当时英国推行的是自由主义经济政策,故排除C项;D项夸大了土地所有权转移的作用,故排除。
21. D 考查俄国十月革命。据材料可知,十月革命前俄国国内问题重重,既有农奴制残余和各种社会矛盾,还有要实现国家现代化的需求,这说明十月革命的爆发不是偶然的,故选D项。材料的主旨不是强调十月革命的性质,故排除A项;材料无法体现一战成为十月革命的催化剂,故排除B项;十月革命的群众基础在材料中也没有体现,故排除C项。
22. C 考查现代主义艺术。据材料信息可知,材料强调的艺术流派属于现代主义中的抽象主义艺术流派,故C项正确。追求画面的统一和谐属于新古典主义绘画的特点,故排除A项;强调表达现实的准确性属于现实主义艺术的特点,故排除B项;善于捕捉物体瞬间印象属于印象派绘画的特点,故排除D项。
23. A 考查二战后的美日关系。据材料可知,二战后美日关系经历了由战后初期的美国打击、限制日本到扶持日本、美日结盟的变化,导致这一变化的主要原因是新中国成立、朝鲜战争爆发等远东形势的变化,美国为了制衡中国,称霸亚洲,有意扶持日本,故A项正确。二战后日本军国主义抬头一般是指日本经济崛起以后,大约20世纪60年代以后,而且日本军国主义抬头不是材料中变化的原因,故排除B项;美苏冷战开始于1947年的杜鲁门主义,故排除C项;二战后两极格局形成的标志是1955年华约的成立,故排除D项。
24. B 考查经济全球化趋势。据材料和所学知识可知,经济全球化是由发达国家主导的,发达国家与发展中国家在经济全球化中的受益是不同的,这说明经济全球化并没有使全球获得均衡发展,故B项正确。材料的主旨是强调经济全球化的弊端,故排除A项;材料无法体现经济全球化的发展趋势不可逆转,故排除C项;经济全球化对发展中国家是利弊共存,D项表述过于片面,故排除。
25. (1)特点:历史悠久,且不断沿袭变革;服务于国家统治的需要;保甲制度管理范围较广,形式多样。(6分)影响:有利于维护基层社会秩序的稳定;提高了国家军事实力;减少了国家财政负担。(6分)  
(2)背景:中国共产党的建立及其革命战争的需要;日本全面侵华;国民党实行反动统治。(6分)意义:有利于积蓄群众力量,为新民主主义革命的胜利创造了条件;保障了人民当家做主的权利,为新中国成立和政权巩固奠定基础;为新中国的基层自治体系的构建提供了经验教训;有利于人民民主意识的不断提高。(7分,言之有理即可)
26. 示例:  
论题:蔗糖消费的普及反映了欧洲社会的发展。(2分)  
阐述:中世纪,由于甘蔗产量小,加上欧洲庄园经济占主导地位,商品经济不发达,市场狭窄,所以当时糖是稀罕珍贵食品,只有少数贵族和精英家庭才能消费得起。15世纪以来,随着新航路的开辟和早期殖民扩张,洲际物种交流频繁,甘蔗在美洲大量种植。种植园经济的繁荣,世界市场的初步形成与发展,使得运往欧洲的蔗糖不断增加,蔗糖的消费量猛增,蔗糖成为普通家庭的日常食品。随着欧洲蔗糖消费的普及,欧洲与世界的联系更加密切,尤其是英国工业革命开展后,蔗糖被英国工厂大量生产出来,也推动了欧洲工业革命的进程。蔗糖生产的日益丰富,使蔗糖不再是欧洲社会上层特有的奢侈品,从而冲击了欧洲社会结构和人们的思想观念。(8分)  
总之,蔗糖消费的日益普及,使欧洲乃至世界都发生了重大变化,也反映了欧洲社会的发展进步。(2分)  
(“示例”仅作参考,其他答案言之成理即可得分)
27. (1)背景:以美国为首的西方列强入侵造成日本民族危机加深;工业革命推动了资本主义世界市场基本建立,世界各地联系更加紧密;工业文明成果和科学技术传入日本;西方教育的发展尤其是职业技术教育的发展;日本资本主义经济的发展需要大量技术工人;明治政府的建立及明治维新的推行。(7分,任答四点即可)  
(2)特点:设置专门机构具体负责;注重制度或相应法规的制定;注重科学知识与技术向普通民众渗透;注重教育与劳动相结合;主要服务于经济发展,增强国力;注重开设各类技术教育课;体系等。(8分,任答四点即可)
28. (1)苏联目的:发展与印度的关系,扩大苏联在亚洲的势力范围。(2分) 遏制苏联在印度势力的扩张;遏制社会主义的威胁;遏制中国;拉拢印度并控制印度。(任答两点4分)根本目的:维护美国的霸主地位。(2分)  
(2)影响:激化了美苏对第三世界的争夺;使南亚地区局势复杂化;对不结盟运动造成一定冲击;影响了英联邦国家的关系;既有利于印度的发展同时又使印度面临更大的压力等。(每点2分,三点得6分,四点7分,任答四点即可)
29. (1)背景:人民公社体制挫伤了广大农民的生产积极性,造成农业生产长期落后;关于真理标准问题的讨论,促进了思想的解放;中共十一届三中全会的召开,党和国家的工作重心转移到经济建设上来;以邓小平为核心的党中央新的领导集体形成;中国实施改革开放伟大战略;小岗村的大包干拉开了我国农村改革序幕;万里担任安徽省第一书记及副总理职务期间重视农村工作等。(9分,任答四点即可)  
(2)特点:调整农村生产关系,注意调动农民生产积极性;改革农村基层管理体制;鼓励农村发展商品经济。(6分)

## 关于我们

自主选拔在线是致力于提供新高考生涯规划、强基计划、综合评价、三位一体、学科竞赛等政策资讯的升学服务平台。总部坐落于北京，旗下拥有网站（[网址: www.zizzs.com](http://www.zizzs.com)）和微信公众平台等媒体矩阵，用户群体涵盖全国90%以上的重点中学师生及家长，在全国新高考、自主选拔领域首屈一指。

如需第一时间获取相关资讯及备考指南，请关注**自主选拔在线**官方微信信号：**zizzsw**。



微信搜一搜

自主选拔在线

考生注意：

1. 本试卷分选择题和非选择题两部分。满分 100 分，考试时间 90 分钟。
2. 答题前，考生务必用直径 0.5 毫米黑色墨水签字笔将密封线内项目填写清楚。
3. 考生作答时，请将答案答在答题卡上。选择题每小题选出答案后，用 2B 铅笔把答题卡上对应目的答案标号涂黑；非选择题请用直径 0.5 毫米黑色墨水签字笔在答题卡上各题的答题区域作答，超出答题区域书写的答案无效，在试题卷、草稿纸上作答无效。
4. 本试卷主要命题范围：高考范围。

一、选择题：本大题共 24 个小题，每小题 2 分，共 48 分。在每小题给出的四个选项中，只有一项是符合题目要求的。

1. 据不完全统计，2022 年以来，已有超 20 家新能源汽车企业宣布涨价，包括特斯拉、比亚迪、小鹏汽车、哪吒汽车、吉利旗下的几何汽车、威马汽车等新能源车企官宣涨价。不考虑其他因素，下列能支撑新能源汽车涨价的合理因素是

- ① 2021 年以来锂、镍等动力电池原材料价格大幅上涨
- ② 新能源汽车行业蓬勃发展，持续受到各路资本青睐
- ③ 新能源汽车品质提升设计新颖，引领汽车消费潮流
- ④ 消费者对新能源车接受度提升，新能源车销量井喷

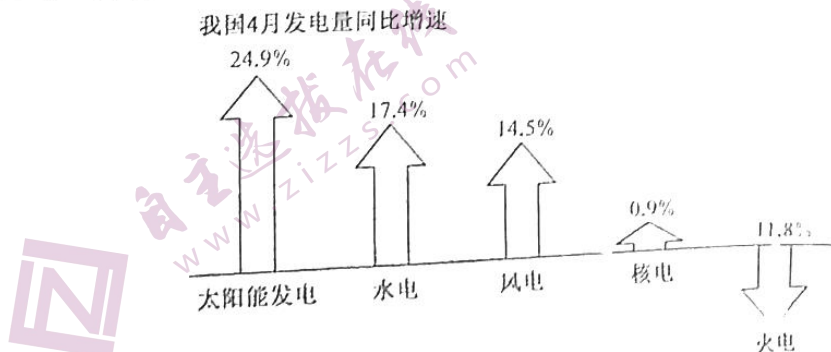
- A. ①②                                      B. ①④                                      C. ②③                                      D. ③④

2. 2022 年 5 月 23 日，中国人民银行在香港成功发行了两期 250 亿元人民币央行票据，中标利率分别为 2.49% 和 2.80%。此次发行受到境外投资者广泛欢迎，多个国家和地区的银行、央行、基金、保险公司等机构投资者以及国际金融组织踊跃参与认购，投标总量接近 580 亿元。这一现象反映了

- ① 境外投资者对中国经济拥有充足信心
- ② 央行票据有低风险高收益的投资优势
- ③ 人民币资产对境外资金有较强吸引力
- ④ 人民币的发行规模受到市场波动影响

- A. ①③                                      B. ①④                                      C. ②③                                      D. ②④

3. 下图为 2022 年 4 月份我国发电情况。据此，下列推断合理的是



- ③我国传统能源安全问题得到根本解决
4. 2022年5月,某省银保监局要求银行机构按照市场化原则,对受疫情影响较大但有还款意愿、吸纳就业能力强的物流主体不盲目惜贷、压贷,同时灵活调整相关从业者个人住房按揭、信用卡、汽车贷款等信贷还款安排,帮助其渡过难关。银保监局此举意在引导物流从业人员坚持理性消费。
- ③有效降低了物流行业的市场准入门槛
5. 就业事关广大家庭生计。2022年4月份,全国城镇调查失业率为6.1%,就业形势持续承压。针对就业领域的严峻形势和挑战,国家发展改革委将进一步加大就业优先政策实施力度,落实落细稳就业各项举措。这些政策措施可能包括
- ①加强税收征管,严格清理和控制税收的减免优惠  
②推动发展职业教育,支持产教融合试点城市建设  
③加快落实退税减税、缓缴社保费等助企纾困政策  
④央行提高存款准备金率,限制金融机构信贷扩张
6. 据财政部消息,2022年5月,根据党中央、国务院决策部署,统筹考虑农资市场价格走势和农业生产形势,中央财政再次向实际种粮农民发放一次性农资补贴100亿元,支持夏收和秋播生产。这一举措有利于
- ①进一步调动种粮农民的生产积极性  
②对冲农资成本价格上涨带来的影响  
③发挥国家在农资配置中的决定作用  
④突显货币政策维护粮食安全的功能
- 2022年6月28日,中共中央宣传部就“完整、准确、全面贯彻新发展理念,推动高质量发展情况”举行发布会。据此完成7~8题。
7. 会议指出,2017~2021年我国连续缩减外资准入负面清单,全国和自贸试验区限制措施条目分别缩减至31条、27条,在制造业、采矿业、农业、金融业等领域推出了一系列重大开放措施。这一系列措施必将
- ①促成外商对华投资量质齐升  
②增强我国发展的内外联动性  
③创新我国对外直接投资方式  
④加快经济全球化的发展进程
8. 会议指出,尽管受疫情影响,2022年以来,我国实际使用外资仍实现“节节高”。2022年1至5月份,我国实际使用外资金额5642亿元人民币,同比增长17.3%,特别是高技术产业实际使用外资同比增长42.7%,仍保持了较高增长水平。据此,下列判断正确的是
- ①中国市场蕴含着巨大潜力和机遇  
②中国对外贸易创新发展成效显著  
③中国调整和优化外资使用的结构  
④外商在华投资的成本远低于全球
9. 自开展加强基层监督深化治理整治“三个一批”工作以来,某县坚持高起点谋划、高标准推进、高质量落实,切实通过“党建引领一批、督办化解一批、以案促治一批”,不断探索出乡村治理的新方式新路子,以治理整治的实际成效回应群众期盼,赢得群众认可。可见,开展“三个一批”工作
- ①发挥了我在乡村治理中的政治和组织优势  
④表明法治是探索改变基层自治主体的新路子  
③是夯实基层基础、实现乡村振兴的有力举措

10. 2022年5月16日至19日,全国人大常委会环境保护法执法检查团在福建开展检查和指导。检查组听取了福建省政府贯彻实施环境保护法的情况汇报,并先后到福州市、三明市、莆田市等地实地检查,与各级人大代表、一线工作人员、专家学者等座谈交流,广泛听取意见建议。这说明了
- A. 全国人大常委会是我国的执法检查机关  
B. 全国人大常委会依法对地方人大进行工作指导  
C. 全国人大常委会履行环境保护管理职能  
D. 全国人大常委会落实了民主集中制原则
11. 2022年5月,中国的夏粮收割正在由南向北开镰。受疫情和柴油价格上涨等多种因素的影响,某市政协眼看麦子熟了,农机收割队却始终没落实。在了解具体情况后,通过和农机部门面对面协商,附近农机合作社调配数台收割机,解决了村民燃眉之急。对此,下列认识正确的是
- ①地方政协可代替政府履行组织经济建设职能  
②政协在乡村振兴助农增收中发挥了积极作用  
③人民政协彰显出为国履职、为民尽责的情怀  
④帮助村民解决困难是政协对政府负责的表现
- A. ①②  
B. ①③  
C. ②③  
D. ③④
12. 铸牢中华民族共同体意识是新时代党的民族工作的“纲”。在实现中华民族伟大复兴历史进程中,某高校坚持用习近平新时代中国特色社会主义思想铸魂育人,推动铸牢中华民族共同体意识进教材、进课堂、进校园、进网络、进生活。高校此举
- ①有利于促进我国各民族和谐相处,共同发展  
②旨在引导当代学生树立正确的国家观民族观  
③为民族平等和各民族共同繁荣奠定物质基础  
④表明民族共同体意识是高校教育的薄弱环节
- A. ①②  
B. ①③  
C. ②③  
D. ③④
13. 为有效遏制新冠肺炎疫情扩散蔓延,M市宗教界积极响应党委、政府号召,宗教场所和民间信仰场所暂停对外开放、暂停集聚性宗教活动。同时,各宗教团体、宗教场所自发开展捐款捐物献爱心活动,助力抗击疫情,为人民的健康平安祈祷祝福,为疫情防控工作贡献力量。可见,在我国
- ①宗教始终服务于国家的最高利益  
②宗教能成为社会发展的积极力量  
③宗教可以与社会主义社会相适应  
④新时代以来宗教本质发生了改变
- A. ①③  
B. ②③  
C. ①④  
D. ②④
14. “治国常富,而乱国常贫”。为了促进世界安危与共,2022年4月21日,习近平主席在博鳌亚洲论坛年会开幕式上首次提出全球安全倡议,强调要坚持共同、综合、合作、可持续的新安全观,共同维护世界和平和安全。这一重大倡议的提出
- ①顺应了国际社会倡导多边主义、构建命运共同体的潮流  
②符合各国人民共克时艰、携手开创美好世界的普遍愿望  
③为消除国家利益分歧、弥补人类和平赤字贡献中国智慧  
④彰显出大国领袖风范,为落实新安全观提供了法律遵循
- A. ①②  
B. ①④  
C. ②③  
D. ③④
15. 奥运场馆的建设和赛后利用是历届奥运会面临的重大难题之一。在奥运筹办之初,北京就策划了奥运会后的京张文化旅游带的建设与运营。我国依托国家跳台滑雪中心、国家冬季两项中心等场馆使之成为展示奥运文化、中国文化、北京独特魅力的重要窗口。由此可见
- ①奥运场馆是民族文化的集中展示  
②奥运场馆文化具有鲜明的地域性  
③要主动推动文化与经济相互交融  
④文化交流传播不能离开文化载体
- A. ①③  
B. ①④  
C. ②④  
D. ③④
16. 2022年5月19日,由中国公共关系协会主办的2022“一带一路”年度汉字线上发布活动如期举行。经过前期专家、媒体评选和推荐,“通”字最终脱颖而出,成为2022“一带一路”年度汉字。举办这一活动有利于
- ①发挥汉字在搭建文化交流中的桥梁作用  
②各国增强对中华文化的认同感和归属感  
③展现汉字作为人类文明标志的独特魅力  
④世界凝聚共建“一带一路”的国际共识
- A. ①③  
B. ②④  
C. ①④  
D. ②③

【高 开学考·政治 第3页(共6页)】



- “喜迎二十大 家和万事兴”齐鲁好家风主题展在济南启动。本次展览分为“优良家风、廉洁家风故事”“优良家风”“廉洁家风”四个版块，用215幅图片、2万多字讲述全国和山东各地好家风故事，教育引导广大群众更加注重家庭、注重家教、注重家风。开展这一活动旨在
- (1)引导人们认识活动实践活动  
(2)良好家风是人们砥砺品行的“磨刀石”  
(3)良好家风与社会主义核心价值观相承接  
(4)良好家风的形成离不开家庭的社会活动
- A. (1)(2) B. (2)(3) C. (2)(4) D. (3)(4)
18. 2022年5月18日，国家文物局发布了2021年度我国博物馆事业发展最新数据：2021年新备案博物馆395家，备案博物馆总数达6183家，排名全球前列。其中，5605家博物馆实现免费开放，占比达90%以上。全国博物馆举办展览3.6万场，教育活动32.3万场。博物馆免费开放旨在
- (1)保障人民群众的基本文化权益  
(2)加快现代文化产业的发展步伐  
(3)提高人民群众的科学文化修养  
(4)倒逼文化类企业提高产品质量
- A. (1)(2) B. (1)(3) C. (2)(4) D. (3)(4)
19. 恩格斯说：“一个民族要想站在科学的最高峰，就一刻也不能没有理论思维” 毛泽东主席说过，必须“用社会科学来了解社会，改造社会，进行社会革命”。中国共产党历来高度重视哲学社会科学 是基础哲学社会科学
- (1)是人们认识世界、改造世界的重要工具  
(2)是推动社会发展和进步的重要力量  
(3)始终认为了解社会比改造社会更为重要  
(4)包含对人类社会发 展规律的终极性认识
- A. (1)(2) B. (1)(4) C. (2)(3) D. (3)(4)
20. 瘟疫是由于一些强烈致病性物质，如细菌、病毒引起的传染病。人类正是在与瘟疫的抗争中掌握了传染病防治知识并成功地用于抗疫；麻风病让人类学会了“隔离”；霍乱教会了我们清洁用水；新冠教会了我们戴口罩；鼠疫告诉我们要保持公共卫生、消灭鼠患；肺结核、肝炎的传播，促进了疫苗的研发和普及。由此可见
- (1)事物本质的暴露有一个过程  
(2)实践活动是认识的唯一来源  
(3)矛盾双方有时是相反相成的  
(4)科学理论推动实践顺利开展
- A. (1)(3) B. (1)(4) C. (2)(3) D. (2)(4)
21. 2022年3月，习近平在参加首都义务植树活动时强调，生态系统保护和修复、生态环境根本改善不可能一蹴而就，仍然需要付出长期艰苦努力。总书记号召大家都做生态文明建设的实践者、推动者，持之以恒，久久为功，让我们的祖国天更蓝、山更绿、水更清、生态环境更美好。这启示我们
- (1)推动生态文明建设要做好量的积累  
(2)开展生态环保工作要贯彻群众路线  
(3)推动绿色发展要抓住时代发展机遇  
(4)环保意识是开展环保工作的出发点
- A. (1)(2) B. (1)(4) C. (2)(3) D. (3)(4)
22. 漫画讽刺了一些人在想问题、做事情时，没有
- (1)把握事物联系的多样性  
(2)抓住该事物的本质联系  
(3)认识到矛盾的普遍存在  
(4)做到具体问题具体分析
- A. (1)(2) B. (1)(3) C. (2)(4) D. (3)(4)



改革以来 10 多年来,中国从实行高度集中的计划经济到提出“计划经济为主,市场调节为辅”“有计划的商品经济”,再到确立“社会主义市场经济”,提出“构建高水平社会主义市场经济体制”,创造了举世瞩目的经济持续高速增长奇迹。这一事实表明

- 考主变化
- 生产关系一定要适应生产力发展状况
- ①(1) (2) (3) (4) (5) (6) (7) (8) (9) (10) (11) (12) (13) (14) (15) (16) (17) (18) (19) (20) (21) (22) (23) (24) (25) (26) (27) (28) (29) (30) (31) (32) (33) (34) (35) (36) (37) (38) (39) (40) (41) (42) (43) (44) (45) (46) (47) (48) (49) (50) (51) (52) (53) (54) (55) (56) (57) (58) (59) (60) (61) (62) (63) (64) (65) (66) (67) (68) (69) (70) (71) (72) (73) (74) (75) (76) (77) (78) (79) (80) (81) (82) (83) (84) (85) (86) (87) (88) (89) (90) (91) (92) (93) (94) (95) (96) (97) (98) (99) (100)

在疫情防控一线,在白衣执甲的 90 后、00 后在冰雪冬奥赛场,有年轻的身影奋勇拼搏;在脱贫攻坚的战场上,在脚踏实地的青年男担使命与责任……从脱贫共富到科技攻关,从抢险救灾到守卫边疆,在中国梦的接力赛中,中国青年在赓续红色血脉中唱响青春之歌。这反映了

- A. 中国青年的价值选择能因时而变  
B. 在砥砺前行中才能实现人生价值  
C. 要兼顾人的自我价值与社会价值  
D. 投身抗疫一线才能实现人生价值

二、非选择题:共 52 分。  
26. 阅读材料,完成下列要求。(14 分)

市场是连接供给和需求的桥梁,是企业竞争博弈的空间,是产品和服务变现的“最惊险一跃”。全国统一大市场是由市场主体根据竞争性价格信号进行分散决策,同时便于政府进行宏观管理的大市场。中国人口有 14.1 亿人,占全球总人口的比例接近 20%,如果某一类产品自给自足,就相当于覆盖了全球人口 20% 的市场份额。在目前国际局势愈发晦暗不明的時候,构建全国统一大市场并着力进行发展,成为中国抵御全球贸易保护主义的一大利器。2022 年 4 月,《中共中央 国务院关于加快建设全国统一大市场的意见》从全局和战略高度为“十四五”和今后一个时期建设全国统一大市场提供了行动纲领。《意见》提出,要强化市场基础制度规则统一;推进市场设施高标准联通;打造统一的要素和资源市场;推进商品和服务市场高水平统一;推进市场监管公平统一。落实好《意见》提出的重点任务,将推动全国统一大市场建设迈出新步伐。

结合材料并运用经济生活知识,说明加快建设全国统一大市场的积极意义。

26. 阅读材料,完成下列要求。(12分)

2022年4月16日出版的第8期《求是》杂志发表中共中央总书记习近平的重要文章《促进共同富裕,保障事业高质量发展、可持续发展》。文章指出,我们党把社会保障作为改善人民生活的基础民生工程,稳步推进社会保障体系建设,取得了重大进展。但也存在“漏保”“脱保”“断保”,城乡、区域、群体之间待遇差并不尽合理等不足。为此,我们必须高度重视并切实加以解决。一是在统筹推进“五位一体”总体布局、协调推进“四个全面”战略布局中思考和谋划社会保障事业发展。二是深化社会保障法、执法、司法、守法各环节加强社会保障工作,在法治轨道上推动社会保障事业健康发展;等等。

结合材料,运用政治生活知识,说明中国共产党应如何稳步推进社会保障体系建设。

27. 阅读材料,完成下列要求。(26分)

二十四节气是上古农耕文明的产物,也是我国劳动人民的智慧结晶。通过观察天体运行,认知一岁中时令、气候、物候的变化,总结其变化规律,先民们有序组织农事生产,合理安排日常生活。

二十四节气依据太阳运行规律,直观反映四季变化。一方面,节气命名反映季节、气温、降水甚至物候等变化,是人们生产生活的行动指南。另一方面,节气命名反映出中国传统思想文化中自然哲学的辩证思想,是中国哲学的生动实践。2006年,二十四节气入选第一批国家级非物质文化遗产名录。2016年被联合国教科文组织列为人类非物质文化遗产。如今,它不断焕发着新的光彩。在2022年北京冬奥会开幕式上,借力世界盛会大舞台,一跃成为“中国式浪漫”的代名词之一,为其在世界范围内的“出圈”奠定基础。

随着工业化、城镇化的发展,农业技术的进步,二十四节气指导农业实践的实用价值受到一定冲击。而其承载的中华传统科学知识、哲学认知、美学观念,尊重自然、保护自然、利用自然等天人合一思想,仍然具有重要的时代价值。尤其在推动乡村振兴的当下,二十四节气表达的顺天应时理念,仍是当代人需要从中汲取智慧的宝贵文化遗产。

- (1) 结合材料,运用辩证唯物论知识,分析二十四节气的形成给我们的哲学启示。(12分)
- (2) 结合材料,运用文化生活知识,说明传播二十四节气文化的时代价值。(10分)
- (3) 请就如何传承节气文化、向世界讲好中国故事提出两条建议。(4分)

## 高三政治参考答案、提示及评分细则

1. B 不考虑其他因素,原材料价格大幅上涨、新能源汽车需求增加,推动新能源汽车价格上涨,①④符合题意;新能源汽车行业受资本青睐、品质提升,不必然导致新能源汽车价格上涨,②③不选。
2. A 中国人民银行在香港发行的央行票据受到境外投资者广泛欢迎,反映出人民币资产的吸引力,也说明境外投资者对中国经济的充足信心,①③符合题意;投资的收益和风险成正比,②中“低风险高收益”不符合实际,不选;人民币央行票据与人民币发行规模不是一回事,④不选。
3. D 上图反映我国太阳能发电、水电、风电发电量同比增长,这有利于优化电力资源消费结构,②符合题意;清洁能源发电量同比增长,火电发电量同比负增长且幅度较大,表明了④;①③均不符合我国能源的实际情况,不选。
4. C 银保监会要求银行机构对物流主体不盲目惜贷、压贷,灵活调整相关从业者个人信贷还款安排,帮助其渡过难关,有助于疏通物流卡点,畅通经济循环,能够稳住物流行业,增强其发展韧性,②④符合题意;此举的目的不在于引导物流从业人员理性消费,①不选;此举不会降低物流行业的入市门槛,⑤不选。
5. C 推动发展职业教育和产教融合,是通过人才培养强化就业支撑,②符合题意;加快落实退税减税、缓缴社保费等助企纾困政策,有利于减轻市场主体经营负担,稳定就业岗位,促进就业,③符合题意;①属于紧缩性的财政政策,④属于紧缩性的货币政策,均不利于扩大就业,不选。
6. A 财政部再次向实际种粮农民发放一次性农资补贴资金支持夏收和秋播生产,有利于缓解农资价格上涨给农民带来的负面影响,有利于调动种粮积极性,①②符合题意;市场在资源配置中起决定作用,③不选;向种粮农民发放农资补贴属于财政政策,不属于货币政策,④不选。
7. D 我国连续缩减外资准入负面清单,进一步放宽了外资市场准入门槛,势必增强我国发展的内外联动性,加快经济全球化的发展进程,②④符合题意;这一系列举措有利于增加外资入华的数量,但不能保证外商投资质量的提升,①不选;我国对外直接投资在材料中没有体现,⑤不选。
8. B 尽管受疫情影响,2022年以来,我国实际使用外资仍实现“节节高”,表明了①;我国高技术产业实际使用外资保持了较高增长水平,表明了⑤;对外贸易在材料中没有体现,②不选;④的说法不符合实际,不选。
9. B 通过“党建引领一批、督办化解一批、以案促治一批”的乡村治理的新方式新路子,以治理整治的实际成效赢得群众认可,体现了基层治理能力的提高,发挥了党组织在乡村治理中的政治和组织优势,有利于夯实基层群众基础,①③符合题意;发挥领导核心作用的主体是党,不是政府,②不选;开展“三个一批”工作没有改变基层自治的主体,④不选。
10. D 全国人大常委会环境保护法执法检查组开展执法检查和指导,听取了福建省政府贯彻实施环境保护法情况汇报,是全国人大常委会代为行使全国人大的监督权,坚持了民主集中制原则,D符合题意;人大常委会是权力机关的常设机关,不是执法检查机关,A不选;地方人大在材料没有涉及,B不选;履行环境保护管理职能的是政府,C不选。
11. C 政协通过和农机部门面对面协商,调配收割机,帮助村民解决夏粮收割问题,表明了②③;组织经济建设职能的主体是政府,政协不能代政府履行国家职能,①不选;政协不对政府负责,④不选。
12. A 高校坚持推动铸牢中华民族共同体意识进教材、进课堂、进校园、进网络、进生活,旨在引导学生树立正确的国家观民族观,促进各民族和谐相处、共同发展,①②符合题意;此举不是民族平等和各民族共同繁荣的物质基础,③不选;高校此举不能反映出高校教育的薄弱环节,④不选。
13. C 疫情期间,宗教场所和民间信仰场所暂停对外开放、暂停集聚性宗教活动,并积极组织开展公益活动,表明了②③;①中“始终服务于”的表述太绝对,不选;宗教本质未发生改变,④不选。
14. A 提出全球安全倡议顺应了和平与发展的时代主题,响应了各国人民开创美好世界的普遍愿望,①②符合题意;各国之间的利益差别无法消除,③不选;全球安全倡议不是国际法,不能为促进世界安危与共提供法律遵循,④不选。
15. D 奥运会后京张文化旅游带的建设与运营体现了文化与经济相互交融,⑤符合题意;依托国家跳台滑雪中心、国家冬季两项中心等场馆使之成为展示奥运文化、中国文化、北京独特魅力的重要窗口,说明文化传播要通过载体呈现出来,④符合题意;庆祝民族节日是民族文化的集中展示,①错误,不选;②在材料中没有体现,不选。
16. B 举办“一带一路”年度汉字发布活动,搭建了中外文化交流合作的桥梁,有利于凝聚共建“一带一路”的全球共识,

- ①④符合题意;各民族认同的和归属的应是本民族的文化,②不选;汉字是中华文明的标志,不是人类文明标志,③不选。
17. C 开展齐鲁好家风主题展,讲述优秀家风、廉洁家风故事,是基于良好家风作为优秀文化可以塑造人生,有利于培育社会主义核心价值观,②③符合题意;文化影响人的认识活动、实践活动,①中“决定”表述错误,不选;④与设问不构成因果关系,不选。
18. B 博物馆实现免费开放旨在保障人民群众基本文化权益,提高人们的科学文化修养,①③符合题意;博物馆免费开放与经济利益无关,不涉及文化产业的发展,也不是为了倒逼文化产品质量的提高,②④不选。
19. A 一个民族要想站在科学的最高峰不能没有理论思维,必须用社会科学来指导,是基于哲学社会科学对社会发展的积极作用,①②符合题意;马克思主义哲学认为改造世界比认识世界更重要,③不选;认识活动永无止境,④不选。
20. D 人们在治疗瘟疫的活动中总结出了防疫方法,表明实践是认识的来源,②符合题意;人们用传染病防治知识指导抗疫并取得成功,表明了④;事物本质的暴露有一个过程在材料中没有体现,①不选;任何矛盾双方总是相反相成的,③错误,不选。
21. A 生态系统保护和修复、生态环境根本改善不可能一蹴而就,必须锲而不舍、驰而不息,持之以恒,久久为功,启示我们要注重量的积累,①符合题意;总书记号召大家都做生态文明建设的实践者、推动者,启示我们开展生态环保工作要尊重人民的历史主体地位,坚持群众路线,②符合题意;抓住时代发展机遇在材料中没有体现,③不选;客观规律要求我们一切从实际出发而不是从环保意识出发,④不选。
22. B “见利不见害”“见食不见钩”,没有坚持全面的观点看问题,也没有把握联系的多样性,①③符合题意;抓住本质联系、坚持具体问题具体分析不符合漫画寓意,②④不选。
23. D 改革开放 40 多年来,我国经济体制的不断调整,是为了更好地适合社会生产力的发展状况,③符合题意;社会主义社会的基本矛盾是非对抗性的,我国不断调整经济体制是通过改革解决生产力与生产关系之间的矛盾,④符合题意;①违背了社会意识的相对独立性,不选;②夸大了意识的作用,不选。
24. C 中国青年勇担使命与责任,自觉投身为人民服务的实践中,在赓续红色血脉中唱响青春之歌,启示我们要在砥砺自我中实现人生价值,C符合题意;价值选择因时而变在材料中没有体现,A不选;实现人生价值的途径多样,B不选;材料没有涉及自我价值与社会价值的关系,D不选。
25. ①建立统一开放、竞争有序的现代市场体系,促进市场要素自由有序流动,畅通社会再生产的四个环节;(4分)②贯彻协调发展理念,遏制地方保护和部门保护,建立彰显优势、协调联动的区域发展体系;(3分)③强化有效市场与有为政府更好结合,促进公平竞争,营造稳定透明可预期的法制化营商环境;(4分)④构建以国内大循环为主体的新发展格局,积极抵御全球贸易保护主义,维护国家经济安全。(3分)(其他答案,符合题意,酌情给分)
26. ①发挥总揽全局、协调各方的作用,对社会保障事业作好顶层设计,为稳步推进社会保障体系建设提供政治保证;(4分)②牢记党的宗旨和使命,始终坚持以人民为中心,推动社会保障制度改革,高质量建设人民满意的社会保障体系;(4分)③坚持依法执政,依法推进社会保障体系建设,运用法治手段破解社会保障体系建设难题,为社会保障体系建设创造法治环境。(4分)(其他答案,符合题意,酌情给分)
27. (1)①人们依据太阳运行规律,顺应自然农时,总结出二十四节气,启示我们要尊重规律的客观性,把客观规律作为行动的依据;(4分)②人们通过对自然规律、气象以及农作物生长特点等多方面知识的认识 and 把握,制定出二十四节气表,启示我们要发挥主观能动性,重视意识在认识和改造世界中的能动作用;(4分)③二十四节气是古人通过观察天体运行和自然界的变化而形成的,是上古农耕文明的产物,启示我们要坚持物质决定意识,做到一切从实际出发,实事求是。(4分)(其他答案,符合题意,酌情给分)
- (2)①彰显博大精深、源远流长的中华文化,推动中华文化走出去,提升中华文化国际影响力,坚定文化自信;(3分)②倡导利用自然规律,增强农业生产活动和人们日常生活的预见性,促进人与自然和谐统一;(2分)③发挥中华优秀传统文化丰富人的精神世界的功能,提升人的审美能力和科学认知水平,促进人的全面发展;(3分)④展示中华历史文化成就,助力研究人类文明的演进,维护民族文化多样性,促进世界文化繁荣。(2分)(其他答案,符合题意,酌情给分)
- (3)①做好宣传普及,组织二十四节气科普活动进学校、进社区;(2分)②举办二十四节气主题元素文艺创作活动,促进活态传承。(2分)(其他答案,符合题意,酌情给分)

## 关于我们

自主选拔在线是致力于提供新高考生涯规划、强基计划、综合评价、三位一体、学科竞赛等政策资讯的升学服务平台。总部坐落于北京，旗下拥有网站（[网址: www.zizzs.com](http://www.zizzs.com)）和微信公众平台等媒体矩阵，用户群体涵盖全国90%以上的重点中学师生及家长，在全国新高考、自主选拔领域首屈一指。

如需第一时间获取相关资讯及备考指南，请关注**自主选拔在线**官方微信号：**zizzsw**。



微信搜一搜

自主选拔在线