

2022—2023 学年高三年级上学期期末考试

文科综合

考生注意：

1. 答题前,考生务必将自己的姓名、考生号填写在试卷和答题卡上,并将考生号条形码粘贴在答题卡上的指定位置。
2. 回答选择题时,选出每小题答案后,用铅笔把答题卡对应题目的答案标号涂黑。如需改动,用橡皮擦干净后,再选涂其他答案标号。回答非选择题时,将答案写在答题卡上。写在本试卷上无效。
3. 考试结束后,将本试卷和答题卡一并交回。

一、选择题:本题共 35 小题,每小题 4 分,共 140 分。在每小题给出的四个选项中,只有一项是符合题目要求的。

交通优势度是交通设施支撑能力、交通干线影响度和区位优势的综合体现,其演变是自然条件、社会需求和经济发展协同作用的结果。表 1 示意 2010 年和 2016 年东北地区交通优势度分级。据此完成 1~3 题。

表 1

优势度	2010 年		2016 年	
	县域单元数目	人口覆盖度/%	县域单元数目	人口覆盖度/%
0~0.5	12	0.73	7	0.56
0.5~1.0	15	1.43	12	0.83
1.0~1.5	82	24.71	44	10.76
1.5~2.0	91	43.61	88	30.95
≥2.0	28	29.52	77	56.89

注:人口覆盖度=各等级县域单元总人口/东北地区总人口×100%。

1. 导致 2010—2016 年东北地区交通优势度变化的主要交通运输方式最可能是
A. 高铁与航空 B. 河运和高铁 C. 海运与航空 D. 公路与河运
2. 东北地区交通优势度变化对区域人口的影响是
A. 降低出行效率 B. 大幅增加人口数量
C. 促进人口集聚 D. 减小环境人口容量
3. 推测未来对东北地区交通优势度提高影响较大的是
A. 生态环境改善 B. 国家政策支持
C. 劳动力素质提高 D. 矿产资源开发

地处干旱、半干旱区的新疆,由于地质地貌条件和植被条件特殊,一次强降水事件就很容易引发洪水灾害。图1示意1980—2019年新疆南部一般性暴雨洪水灾害事件出现次数的空间分布。据此完成4~6题。

4. 图示暴雨洪水灾害严重多发的地区是

- A. 阿克苏地区
- B. 哈密市
- C. 和田地区北部
- D. 吐鲁番市



图1

5. 与东南沿海地区相比,新疆南部暴雨洪水灾害造成损失较小的主要人文因素是

- A. 人口素质
- B. 暴雨次数
- C. 基础设施
- D. 经济发展水平

6. 暴雨洪水对塔里木河流域的短期影响可能主要是

- A. 气候趋于温和湿润
- B. 河流沿岸农牧业受损
- C. 河流航运能力减弱
- D. 土壤肥力显著提高

黄河流域是我国重要的经济地带,其发展受到内外部因素的影响和制约。黄河流域市域经济发展重心位于陕西省延安市,图2示意2013—2018年黄河流域市域经济发展重心演变轨迹。据此完成7~8题。



图2

7. 黄河流域市域经济发展重心移动的主要原因是黄河流域

- A. 上游开发力度加大
- B. 中游城市群规模扩大
- C. 下游经济转型发展
- D. 全域交通项目建设

8. 黄河流域市域经济发展的内源动力是

- A. 科技创新
- B. 城镇化发展
- C. 交通条件改善
- D. 人口数量增长

设置挡沙墙的目的是阻挡风沙,阻截相同输沙量(如90%的累积输沙量)的挡沙墙的高度越低,则该挡沙墙的防沙效果就越好。不同挡沙墙对风速的敏感性不同,挂板式和轨枕式最弱,铃铛式弱,箱式较差,PE网则最强。图3示意某地风速为10米/秒时不同挡沙墙累积输沙量随高度的变化情况。据此完成9~11题。

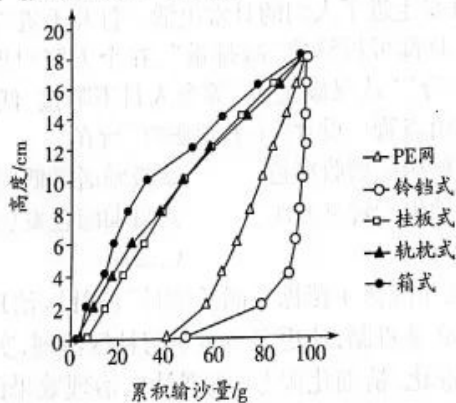


图3

9. 图示不同高度挡沙墙阻截输沙量的差异,反映出挡沙墙影响
- A. 地表起伏 B. 植被生长状况 C. 近地面气流 D. 岩石风化程度
10. 图示防沙效果最好的挡沙墙类型是
- A. PE网 B. 铃铛式 C. 箱式 D. 轨枕式
11. 相较于其他类型挡沙墙,挂板式和轨枕式挡沙墙的地区适用性
- A. 最差 B. 一般 C. 较好 D. 最强
12. 大米用途广泛,可以用作口粮,也可以用于酿酒、制作米粉,在比价关系合理的情况下,大米还可以替代玉米做饲料。近年来,世界市场上小麦、玉米等粮食品种价格持续高位运行,但大米价格相对稳定,我国企业在压减玉米进口的同时,增加碎大米进口以满足饲料生产需要。这表明
- ①经济全球化导致粮食价格波动 ②大米的使用价值受其价格变动的影
③价格变动调节生产要素的投入 ④优化用粮结构可缓解成本上涨的压力
- A. ①② B. ①③ C. ②④ D. ③④
13. 新冠疫情爆发后,一种线上线下相融合的“即时零售”模式应运而生。即时零售是消费者通过线上交易平台下单,线下实体零售商(通常是社区生活超市、便利店等)线上接单后执行配送的一种零售服务方式。一般情况下,即时配送能在30分钟至60分钟内,完成从用户下单到拣货打包再到商品配送的整个流程。在当前形势下,即时零售模式的优势在于
- ①兼顾抗疫与经济发展,促进生活生产恢复
②打通传统消费场景堵点,畅通经济微循环
③作为生产与消费连接纽带,决定消费质量
④减少商品流通环节,提供物美价廉的服务
- A. ①② B. ①④ C. ②③ D. ③④
14. 留抵退税,就是对现在还不能抵扣、留着将来才能抵扣的进项增值税,予以提前全额退还。2022年3月,财政部、国家税务总局公布《关于进一步加大增值税期末留抵退税政策实施力度的公告》,明确1.5万亿元增值税留抵退税4月起正式启动。加大增值税期末留抵退税力度
- ①意在提振市场主体信心,增强经济发展的内生动力
②可应对经济长期下行压力,促进经济持续稳定发展
③为企业提供现金流,利于加快技术改造和设备更新
④通过刺激消费,可缓解经济运行受需求不足的制约
- A. ①③ B. ①④ C. ②③ D. ②④
15. 近年来,“个人碳账户”逐步走进了人们的日常生活。打开手机应用软件,骑行、走路、购买节能产品、不选一次性餐具都可折算成“减排量”,在个人账户里一目了然;登陆小程序,“广东碳普惠”“西宁碳积分”“武汉碳宝包”等令人目不暇接,低碳行动转换为减碳积分,再支持绿色消费,让人不由点赞。设立“个人碳账户”旨在
- ①健全碳排放权交易,拓展居民增收渠道 ②激励居民低碳生活,培育健康消费方式
③发挥消费决定作用,推动生产转型升级 ④贯彻绿色发展理念,促进消费端碳减排
- A. ①② B. ①③ C. ②④ D. ③④
16. 近年来,某社区完善“社区+院落+楼栋+四长四员”的社区治理体系,建立“社区+业委会+物业公司”三级联动机制,让更多力量参与社区治理,实施志愿服务积分制度,为辖区居民提供多样化、精准化、精细化服务,实现社区治理效果的最大化。这一做法的成功之处在于

- ①整合社会资源,形成社区治理合力
③坚持党建引领,实现共建共治共享
A. ①②
B. ①④
C. ②③
D. ③④
17. 生态环境部提出,继续做好清洁取暖工作要坚持先立后破、不立不破。新改造尚不具备安全稳定通气条件的、尚未经过一年实际运行检验的,不拆除原有燃煤取暖设施;山区等暂不具备改造条件的地区,可以使用洁净煤等方式采暖,确保民众温暖过冬。生态环境部的要求
- ①严格履行了保护生态环境的职责
③遵循了从群众中来到群众中去的工作方法
A. ①②
B. ①③
C. ②④
D. ③④
18. 以人工智能为代表的颠覆性技术的应用,为人类发展按下了“加速键”,同时给全球非传统安全带来新风险、新挑战。为此,中国多次在联合国等国际组织提出倡议,呼吁各国应重视彼此合理的人工智能安全和发展关切,争取早日达成均衡、有效、可持续的人工智能全球治理架构。材料说明
- ①我国积极为全球性问题的解决贡献智慧和方案
②加强人工智能全球有效治理符合我国国家利益
③中国在国际事务中的话语权和主导权日益增强
④世界各国在人工智能全球治理上有相同的利益
A. ①②
B. ①④
C. ②③
D. ③④
19. 九色鹿开口说话、神鸟化身伽瑶仙子、“反弹琵琶”晋身乐队 C 位……近年来,根据敦煌壁画创作的动画大受中外观众的欢迎。敦煌研究院党委书记赵声良说:“敦煌有很多特别有趣的动漫形象,我们仅仅做了一点点。动漫是最应该学习敦煌文化的。”这表明
- ①文艺发展要以创造性转化优秀传统文化为目的
②现代艺术只有植根中华优秀传统文化才有价值
③繁荣当代文化需要从优秀传统文化中汲取营养
④中华优秀传统文化具有历久弥新的生命力
A. ①②
B. ①④
C. ②③
D. ③④
20. 习近平总书记深刻总结古今中外治乱兴衰的历史规律,指出:“人类历史上,没有一个民族,没有一个国家可以通过依赖外部力量、跟在他人后面亦步亦趋实现强大和振兴。那样做的结果,不是必然遭遇失败,就是必然成为他人的附庸。”这警示我们
- ①要有战胜挫折的决心和勇气,对中国的发展前途充满信心
②坚持自信自立自强,把国家民族命运牢牢掌握在自己手中
③坚决反对封闭主义和保守主义,全面推进中国的改革开放
④学习借鉴其他文明有益成果,要坚持以我为主、为我所用
A. ①②
B. ①③
C. ②④
D. ③④
21. 对艺术家而言,不管是写字还是雕塑、绘画、摄影,如果诚心诚意去创作,到最后就是一张“自画像”。人家会说,这就是某某人的作品。因为他的作品,最后就像自己了。可见
- ①艺术风格受创作者的世界观、个人情感等因素影响
②艺术作品在本质上是艺术家主观世界的直接映象
③矛盾具有特殊性,艺术家的作品往往有自己的风格
④艺术的形式是主观的,但内容都来源于客观世界
A. ①②
B. ①③
C. ②④
D. ③④

文科综合试题 第4页(共12页)

22. 2022年11月,国务院联防联控机制综合组公布进一步优化疫情防控的二十条措施,要求各地科学精准做好防控工作。近三年来,我国根据全球疫情形势和病毒变异情况,结合我国疫情防控实践经验,不断优化疫情的防控举措,做到既防住疫情,又尽可能减少对经济社会发展和民生服务保障的影响。这说明
- ①病毒是复杂多变的,人们对病毒的认识是一个不断深化的过程
②疫情防控是一项系统性工程,加强协调统筹才能取得更好效果
③当前防控疫情与稳定经济都很重要,要均衡用力不能只抓一点
④人民群众是推动社会发展的决定力量,防疫不能减损群众利益
- A. ①② B. ①③ C. ②④ D. ③④
23. 近年来,数字化艺术藏品、网络游戏皮肤、虚拟社区土地交易……越来越多基于区块链技术的非同质化数字资产在元宇宙虚拟场景实现交易。2022年7月,为裁决元宇宙场景发生的交易纠纷,广州仲裁委员会设立全球首家元宇宙仲裁院,开创元宇宙仲裁规治的先河。设立元宇宙仲裁院
- ①是与经济基础发展相适应的上层建筑变革
②从根本上保证了数字资产交易的公平公正
③旨在以司法领域的创新推动数字经济发展
④通过改革生产关系激发元宇宙发展的动力
- A. ①② B. ①③ C. ②④ D. ③④
24. 从商代卜辞的记载中看,卜辞中关于“来禾”“受禾”“受黍”“登黍”“告麦”“案年”“来年”的记载,非常之多,此外尚有因农产物的关系而“卜雨”的记载。据此推知,商代
- A. 社会经济分工日益细密 B. 经济生活充斥神秘色彩
C. 精耕细作耕作方式形成 D. 农业成为主要生产部门
25. 秦始皇统一中国后,实行的统治方法,就是韩非子主张的法、术、势并用的统治术。秦二世当政时,李斯将其发展为督责之术,使其成为封建独裁和暴君统治的理论基础。这表明秦代
- A. 君权至上局面嬗变 B. 法律制度条文不断完善
C. 国家治理走向僵化 D. 官僚体制设计趋于理性
26. 魏晋时期,黑暗恐怖的现实给人以朝不保夕的畏惧感,也导致诸如王道理想、皇朝权威、正统道德、伦常秩序之类往日曾被视为神圣的东西,在被怀疑、被疏离中走向黯淡甚至崩溃。这一状况有助于
- A. 消除伦理道德的束缚 B. 思想自由和解放
C. 维护社会主流价值观 D. 士族门阀的统治
27. 据明代《黄溪志》记载的当地食俗显示,当地佣工“极贪口腹”,甚至会因伙食问题另谋他处,为此雇主向佣工提供的肴饌必须包含“鲜味”,每遇节候,“肴饌更为丰盛”,从而带动了鱼虾的畅销和交易的活跃,“故市中卖鱼虾极早,迟则不可得”。这反映出当地
- A. 雇工政治地位提高 B. 社会风气的恶化
C. 商业管理日益规范 D. 市场化水平较高
28. 1844年6月,美国公使顾盛致信美国驻广州领事,认为“按照欧美奉行的国际法,每一外国人居住或暂留在任何基督教国家内都应该服从该国家的法律”,对于合众国在中国的公民,认为“受美国所派驻华官员的审判”。这反映了
- A. 国际法仅适用于欧美国家 B. 殖民者对中国司法主权的破坏
C. 美国获得治外法权的特权 D. 美国以广州为侵略中国的中心
29. 第一家国人创办的交易所于1920年7月在上海开业,此后大量涌现。截止1925年,共新设银行257家,1925年实收资本达到16914万元,是1912年的6.2倍。在银行业的推动下,信托公司应运而生。这些现象反映出当时

- A. 近代市场交易的发展
B. 实业救国思潮的兴起
C. 西方资本输出的加剧
D. 新型营销方式的出现
30. 孙中山提出人民是国家主人,是有权的人,政府是专门家,是有能的人,分别赋予“四大民权”和“五大治权”,使人民手中的政权对政府手中的治权有支配作用,两者之间是主权者和执行者的关系,就相当于车主与司机的关系。孙中山意在强调
A. 人民应该监督政府施政
B. 西方政体模式值得借鉴
C. 政权性质决定治权实施
D. 社会治理需要制约平衡
31. 20世纪60年代创作的《我为祖国献石油》中的“红旗飘飘映彩霞,英雄扬鞭催战马,我当个石油工人多荣耀,头戴铝盔走天涯”歌词曾被改为“三面红旗迎彩霞,铁人精神传天下,毛泽东思想指引着我们,自力更生建设国家”。这反映了
A. 歌词创作必须与现实结合
B. 我国基本上实现了石油自给
C. 文艺创作与现实关系密切
D. 经济建设决定文化艺术创作
32. 苏格拉底问普罗泰格拉,希波格拉底将从他那里学到什么?普罗泰格拉答道:“如果他跟我学习,他学到的不是别的,就是他来这里要学的东西。这主要是好的方法,即在个人事务上懂得如何尽可能好地料理家务,在公共事务上,懂得在城邦事务中如何最有成效地说和做。”这一对答反映出智者运动
A. 维护了公民智力神圣性
B. 突出了人的个性自由
C. 重塑了社会道德价值观
D. 顺应了政治发展需要
33. 1844年6月,普鲁士爆发了纺织工人起义。对于这次起义,马克思曾评价:“西里西亚起义是恰恰在开始时就具有了法国和英国的工人起义在结束时才具有的东西……这次起义的行动本身就具有这种优越性质。”“这种优越性质”是指
A. 马克思主义学说的指导
B. 对无产阶级本质的意识
C. 坚持暴力革命的斗争
D. 明确夺取国家政权目标
34. 20世纪80年代,发达国家通货膨胀率基本上被控制在5%以下,经济从1983年以来连续七年保持增长势头。但紧缩性货币政策造成的高利率使经济增长的速度大大放慢,失业率又趋上升。整个80年代是发达资本主义国家战后经济增长最慢的十年,失业率在西欧各国高达10%左右。这表明
A. 经济危机周期性渐趋弱化
B. 发达国家出现持续的衰退
C. 西方国家干预具有局限性
D. 自由放任的经济政策失灵
35. 莫奈用了两年多时间,每天对着干草堆悉心作画。干草堆不再是废弃之物,在画家眼里成为最美丽的风景。干草堆一年四季,阴晴雨雪,薄雾艳阳,晨昏正午,在画家手里呈现出五光十色、万紫千红。据此可知,该系列作品
A. 强调光与色的应用
B. 追求画面严整和谐
C. 注重内心自我感觉
D. 遵循写实主义原则

二、非选择题:本题包括必考题和选考题两部分。第36~42题为必考题,每个试题考生都必须作答。第43~47题为选考题,考生根据要求作答。

(一)必考题:共135分。

36. 阅读图文材料,完成下列要求。(22分)

新零售是一种以互联网为依托,运用大数据、人工智能等技术,对商品的生产、流通与销售过程进行升级改造,并对线上服务、线下体验和现代物流进行深度融合的零售新模式。瑞幸咖啡采用新零售营销理念,以满足消费者多样化需求为服务核心,利用外卖服务的策略来迎合客户足不出户的需求,对传统咖啡品牌星巴克、咖世家产生较大竞争。图4示意上海市中心星巴克、咖世家和瑞幸咖啡门店的微区位对比。

文科综合试题 第6页(共12页)

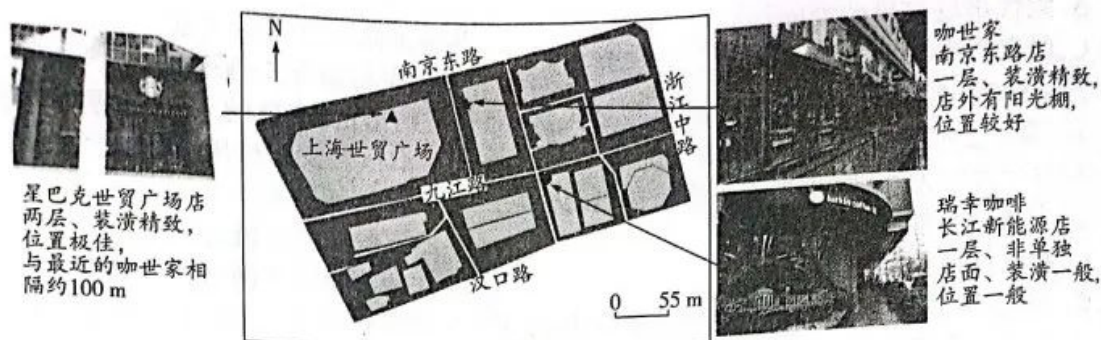


图4

- (1) 指出影响咖啡店选址的主要因素。(4分)
- (2) 说出与瑞幸咖啡相比,星巴克、咖世家定价较高的主要原因。(6分)
- (3) 简述瑞幸咖啡门店布局在靠近星巴克、咖世家的商圈非中心位置的主要原因。(8分)
- (4) 说明瑞幸咖啡新零售营销理念门店布局与营销模式的实现途径。(4分)

37. 阅读图文材料,完成下列要求。(24分)

土壤剖面由上至下分为:凋落物层(分解强烈)、淋溶层、淀积层和母质层。土壤生物有效磷是指土壤中可被植物吸收利用的磷的总称,其含量受成土母质、成土时间、气候、生物活动和土壤理化性质等因素共同影响。贡嘎山位于青藏高原和四川盆地的交界处,东坡海拔2600~3200米是峨眉冷杉林带,该区土壤成土母质主要为花岗岩,年平均气温4.2℃,年降雨量约1947毫米,6—10月为植物生长季。图5示意贡嘎山东坡局地等高线(单位:米)分布及不同采样点土壤生物有效磷含量的垂直变化情况。

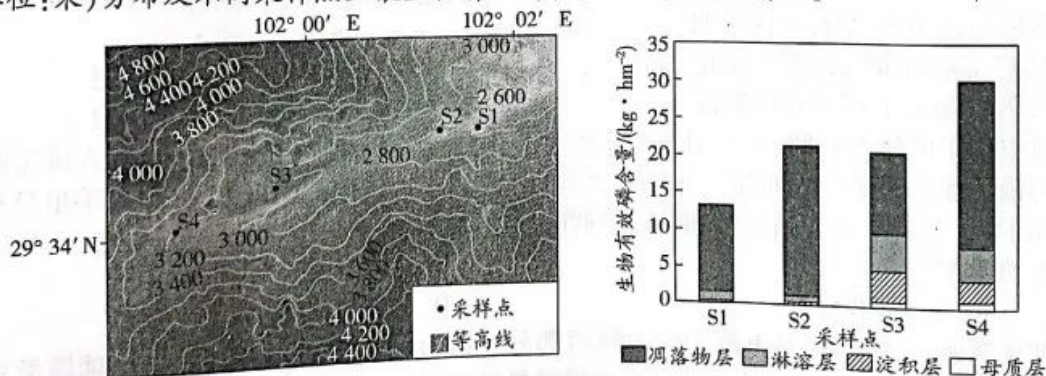


图5

- (1) 描述图示区域土壤生物有效磷含量的空间分布特点。(4分)
- (2) 简述选取S1至S4作为采样点的主要原因。(6分)
- (3) 分析8月图示区域表层土壤生物有效磷含量小的主要原因。(6分)

(4) 推测贡嘎山东坡海拔3 200米以上区域土壤生物有效磷含量随海拔的变化情况,并简要说明理由。(8分)

8. 阅读材料,完成下列要求。(14分)
材料一



图6

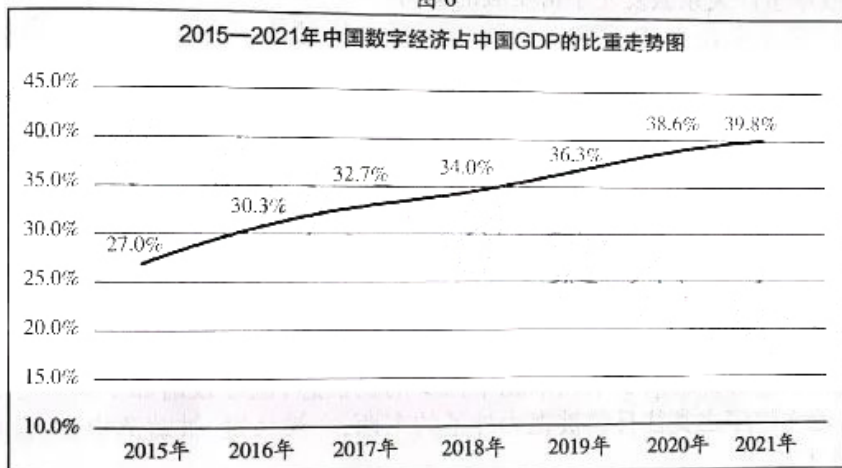


图7

注:目前,我国农业的数字化渗透率不到10%,工业的数字化渗透率在20%,第三产业的数字化渗透率接近40%。

材料二 当今世界,谁能抓住数字经济改革和创新的浪潮,谁才能赢得先机。党的二十大报告提出,加快发展数字经济,促进数字经济和实体经济深度融合,打造具有国际竞争力的数字产业集群。

近年来,我国在数字经济和实体经济融合发展领域取得长足进步,但是一些前所未有的风险和挑战也逐渐凸显。关键领域核心技术外部依赖性大,数字技术尚未全产业链、全生命周期地融入到实体经济中,数字经济本身也暴露出供应链安全隐患、数字监管缺失、数字鸿沟等诸多问题。未来,规则标准可能成为美欧针对中国数字经济的新型“卡脖子”工具。

(1) 归纳材料一反映的经济信息。(4分)

(2) 结合材料二,运用经济生活的知识说明我国如何才能在数字经济浪潮中防范风险,迎接挑战。(10分)

39. 阅读材料,完成下列要求。(12分)

坚决维护党中央权威和集中统一领导是马克思主义政党的一贯主张。毛泽东同志在党的七大预备会议上指出:“一个队伍经常是不大整齐的,所以就要常常喊看齐,向左看齐,向右看齐,向中看齐。我们要向中央基准看齐,向大会基准看齐。”习近平总书记指出:“如果党中央没有权威,党的理论和路线方针政策可以随意不执行,大家各自为政、各行其是,想干什么就干什么,想不干什么就不干什么,党就会变成一盘散沙,就会成为自行其是的‘私人俱乐部’,党的领导就会成为一句空话。”党的十九届六中全会通过的《中共中央关于党的百年奋斗重大成就和历史经验的决议》强调“坚决维护党中央权威和集中统一领导”。

于党的百年奋斗重大成就和历史经验的决议》强调“坚决维护党中央权威和集中统一领导”。百年以来,我们党之所以能团结带领人民书写中华民族几千年历史上最恢宏的史诗,关键是有坚强的领导核心。当前,中华民族伟大复兴进入关键时期。改革发展稳定任务之重、矛盾风险挑战之多、治国理政考验之大都前所未有,世界百年未有之大变局深刻变化前所未有,尤须统一思想、统一意志、统一行动,团结一致向前进。

结合材料,运用政治生活知识说明为什么要坚决维护党中央权威和集中统一领导。

40. 阅读材料,完成下列要求。(26分)

习近平总书记在二十大报告中强调:“全党同志务必不忘初心、牢记使命,务必谦虚谨慎、艰苦奋斗,务必敢于斗争、善于斗争,坚定历史自信,增强历史主动,谱写新时代中国特色社会主义更加绚丽的华章。”在中国共产党成功实现第一个百年目标,意气风发迈上第二个百年新征程的时间节点,提出“三个务必”的号召,是党中央聚焦于世界之变、着眼于时代之变、立足于历史之变对全党同志提出的新要求。勉励新时代中国共产党人保持赶考永远在路上的清醒和自觉,激扬奋斗精气神,重整行装再出发。

伟大建党精神是中国共产党的精神之源,“务必不忘初心、牢记使命”是新征程弘扬伟大建党精神的具体体现,更是新时代践行伟大建党精神的切实行动。面临新挑战新机遇,全党务必不忘初心、牢记使命,方能谱写新篇章、续写新辉煌。

1949年3月,面对中国共产党即将赢得革命全面胜利,进而执掌国家政权的“大考”关头,毛泽东向全党发出了“务必使同志们继续地保持谦虚、谨慎、不骄、不躁的作风,务必使同志们继续地保持艰苦奋斗的作风”的号召。“务必谦虚谨慎、艰苦奋斗”赓续传承了“两个务必”的精神内核,指引着新时代中国共产党人延续光荣传统、传承优良作风,以谦虚谨慎的姿态、艰苦奋斗的状态奋力谱写新的赶考路上的辉煌篇章。

敢于斗争、善于斗争是中国共产党百年奋斗的宝贵经验,更是新征程上全党迎接风险、应对挑战、攻坚克难、披荆斩棘的看家本领。敢于斗争、敢于胜利,是党和人民不可战胜的强大精神力量。

(1)在伟大的历史成就面前,全党更要永葆“赶考”的清醒和坚定,始终牢记“三个务必”。结合材料并运用社会存在与社会意识的关系原理加以说明。(10分)

(2)结合材料,运用文化传承与创新的知识,说明“三个务必”是如何正确处理文化的继承与发展的关系的。(10分)

(3)敢于斗争,善于斗争,就要增强斗争的勇气和本领,而斗争本领不是天生的。请就青年学生如何增强斗争的勇气和本领提出三条建议。(6分)

41. 阅读材料,完成下列要求。(25分)

材料一 表2 英、德、美三国福利国家建构过程中的社会规约功能对比

福利国家的社会规约功能	英国	德国	美国
典型实践的时间段	16、17世纪工业化前,惩罚(体罚等)与社会救济并重,1601年的济贫法实施也伴随着明显的社会规约实践	19世纪中后期,伴随着快速工业化过程	20世纪中后期,福利国家建设加速期
目的	缓解商贸活动、圈地运动带来的人员流动问题以及城市贫困等社会问题	回应不断高涨的工人运动与社会民主党势力不断壮大的政治问题	实现对底层社会和少数民族裔的有效社会规约
对象	城乡社会流动与社会贫困,城市治安问题等	阶级矛盾与无产阶级政党	社会纵向分层与种族分层
方式与手段	强制性工作,惩罚与社会救济并存,依据新旧济贫法实施	政治上打压与福利收买并用,依社会保险立法实施	强调工作伦理,强化社会共享价值,即自力更生等自由理念;有限的、分散的救济政策
效果	缓解了社会问题,大量供给工业化需要的廉价劳动力	对工人阶级实现了分化、收买与整合;分化了德国左翼政党势力	对社会贫困和种族问题实现了良好的社会控制

——摘编自陈兆旺《通过福利国家实现的社会规约与国家治理——基于英、德、美三国实践的比较研究》

材料二 新中国社会福利制度发展大体上经历三个阶段:1949—1956年是传统福利制度的创建阶段;1957—1983年是传统福利制度的发展阶段;1984年至今是传统福利制度向新型社会福利制度的转型阶段。新中国社会福利制度发展与改革历程与新中国社会主义制度的建立与发展密切关联。随着向市场经济转轨,在市场化改革的背景下,通过对职工福利、民政福利的改革和社区服务的发展,社会福利制度的保障范围得到拓展,逐步由补缺型向适度普惠型转变,社会福利的社会化特征日渐凸现,传统福利制度经历制度重塑并向现代化福利制度模式转变,即一个以国家、集体兴办的社会福利机构为骨干,以社会力量兴办的社会福利机构为新的增长点,以社区福利服务为依托,以居家供养为基础的现代社会福利体系正在形成。

——摘编自宋士云《新中国社会福利制度发展的历史考察》

(1) 根据材料一并结合所学知识,概括近代英、德、美三国福利国家建构过程中社会规约功能的异同点。(13分)

(2) 根据材料一、二并结合所学知识,指出中国福利制度的特点,并分析中国福利制度发展的影响。(12分)

42. 阅读材料,完成下列要求。(12分)

材料 五四时期,新文化运动的倡导者们对中国灿烂的古代文明进行了“批判”“发现”“重构”三个方面的工作(表3),对中国文化的发展与现代化建设的推进发挥了重要作用。

表3

基本态度	具体表现
批判	五四新文化运动的倡导者指出,孔子不再是“仰之弥高,钻之弥坚”的高不可攀的圣人,儒家学说成为九流之一,九流并美而非儒学独尊成了一个共识。
发现	陈独秀说:“九流百家,无一非国粹。”周秦诸子,无一没有研究的价值。“阴阳家明历象,法家非人治,名家辨名实,墨家有兼爱、节葬、非命诸说,制器敢战之风,农家之并耕食力,此皆国粹之优于儒家孔子者也”。
重构	胡适提出了一个16字的著名现代文化建设公式:“研究问题、输入学理、整理国故、再造文明。”

——摘编自杨宏雨《批判、发现、重构:五四新文化运动对中国古代文化的反思与审视》
阐述从上述材料中发现的历史信息,并得出一个结论。(要求:信息源自材料,结论明确,史论结合,表述清晰。)

(二) 选考题:共25分。请考生从2道地理选考题、3道历史选考题中每科任选一题作答。如果多做,则每科按所做的第一题计分。

43. [地理——选修3:旅游地理](10分)

2020年,我国工业旅游接待游客量达到2.4亿人次,旅游收入超过300亿元,吸纳就业人数42.8万,工业旅游成为旅游产业融合发展和全域旅游的有生力量。图8示意2017年我国工业旅游示范点空间核密度分布(核密度指单位面积内的工业旅游示范点数量)。

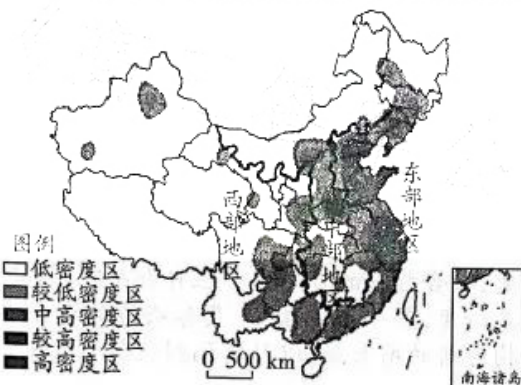


图8

说明我国中部地区出现工业旅游开发“中部塌陷”危机的主要原因。

44. [地理——选修6:环境保护](10分)

近年来,在政府的努力下我国的大气质量有所好转,大多数城市污染物浓度有所下降。图9示意2015—2019年我国7个地理大区城市CO浓度的变化。简述华北地区CO浓度变化量大于华南地区的主要原因。

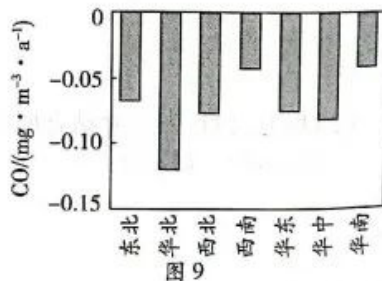


图9

45. [历史——选修1:历史上重大改革回眸](15分)

材料 唐初统治者吸取隋亡教训,勤政修德产生了司法审判中的集体决断制度。唐代司法集体决断制度禁止由长官强行统一意见,所有参与决断的官吏均畅所欲言,发表自己的

司法意见。唐代司法集体决断制度涵盖了从中央司法机关到地方各级衙门、从皇亲贵族到平民百姓、从疑难复杂案件到普通刑事案件。唐代实行严格的司法责任制原则,司法责任覆盖司法裁判形成和制作的各个环节。法律把各级各类官吏中千差万别的官吏以其共同的责任状况,采用一般概念的名称分为四等。在四等同署官都判断错误时,按照“各以所由为首”承担集体连带责任。唐代司法集体决断制度使得重大刑事案件的审判更加慎重,唐代统治者通过裁判者异议制度构筑起了冤错案件的防护机制,确保案件处断公允。唐代司法集体决断制度在实际运作层面,是一种典型的“合议制”。

——摘编自王燕芳《唐代司法集体决断制度探析》

(1)根据材料并结合所学知识,概括唐代司法集体决断制度的特点。(7分)

(2)根据材料并结合所学知识,分析唐代司法集体决断制度的价值。(8分)

46. [历史——选修3:20世纪的战争与和平](15分)

材料 《泰晤士报》记者吉尔乐叫嚷,甲午战后的中国“如此一筹莫展,以致随时可能成为大国手中的玩偶”,他认为中国“如此衰败,在遇到外来的第一个压力时,就必然立即出现全面、彻底的崩溃”,认为英国政府无须“对一个幸存下来的帝国纯粹名义上的独立和完整表示关心”。甲午战前,日本“基本上仍然是一个遭受西方压迫的亚洲小国”,但甲午战后,战胜国日本国际地位上升,成为亚洲强国,并参与了列强争夺中国的斗争。日本在甲午战争中的胜利和《马关条约》的签订使俄国深感威胁,俄财政大臣维特认为:“日本占领南满对俄国来说是一个经常的威胁,迟早会导致日本占领整个朝鲜。”英日两国在经反复磋商后于1902年1月30日签署了《英日同盟条约》。

——摘编自张玉芬《远东格局变化下英日同盟的成立》

(1)根据材料并结合所学知识,指出英日同盟签订的背景。(7分)

(2)根据材料并结合所学知识,分析英日同盟产生的影响。(8分)

47. [历史——选修4:中外历史人物评说](15分)

材料 19世纪中期的中国,是一个光明与黑暗交织、希望与失望并存的年代,伴随着门户开放,西学开始东渐,这使少年时便有“慨然欲为经世实学,以备国家一日之用”抱负的薛福成看到了希望,正在兴起的一场求强求富的自强运动更让他看到了报国的机会。1865年,这个27岁的年轻人给当时的洋务大臣曾国藩上书《上曾侯相书》,由此成为曾国藩的幕僚。薛福成认为,国家选人才应该“征辟与科举并用”,对具有一长一艺之实用之才,应不拘一格录用,尤其是工商人才;由于农民力量孱弱,此领域要更多发挥官方作用,官方借给民垦者以籽种和牛具助其生产;应当以屯田为基础实现屯政,筑城堡、设守备,人们三时务农一时讲武,各自为守,培育民众能力,自治防暴;吏治关乎国家修创痍为富庶、化凋敝为敦朴,所以要“慎其选、养其廉、尽其才”;应该减兵营以省岁饷,厚民生以培元气,让百姓富起来;为了不被邻敌所侮,应当筹巨款、设巨厂,购买并学习西方的火器和轮船术,亦可派敏慧学子赴西方国家学习机器技术。

——摘编自李湘云《论薛福成变法图强的经济思想》

(1)根据材料并结合所学知识,分析薛福成思想产生的时代背景。(8分)

(2)根据材料并结合所学知识,指出薛福成的思想主张。(7分)

天一大联考
2022—2023 学年高三年级上学期期末考试

文科综合·政治答案

12~23 小题,每小题 4 分,共 48 分。

12. 答案 D

命题透析 本题以世界粮食危机为情境,考查价格变动的影响、市场配置资源等知识,考查考生获取和解读信息、调动和运用知识的能力,考查科学精神学科素养。来源:高三答案公众号

思路点拨 小麦、玉米价格持续高位,其替代品大米的价格相对稳定,导致大米被更多用于饲料生产,这反映了价格变动调节生产要素的投入,③正确;通过缩减涨价多的小麦玉米占比,增加涨价少的大米用量,能缓解饲料生产成本上涨给企业的压力,④正确。①说法片面;②错误,使用价值是商品的自然属性,不会因价格变动而改变。

13. 答案 A

命题透析 本题以销售模式的创新为情境,考查社会再生产的过程相关知识,考查考生获取和解读信息、调动和运用知识的能力,考查科学精神学科素养

思路点拨 线上下单、线下社区零售店配送的方式,能减少疫情对零售业和居民生活的冲击,兼顾防疫和经济发展,①正确;新冠疫情导致传统面对面交易的消费场景受到冲击,而即时零售则化解了这一矛盾,有利于畅通经济微循环,②正确;生产决定消费,③错误;本来能直接到便利店购买的生活用品,需要通过线上下单配送才能获得,会增加流通环节,排除④。

14. 答案 A

命题透析 本题以《关于进一步加大增值税期末留抵退税政策实施力度的公告》为情境,考查税收的作用的有关知识,考查考生获取和解读信息的能力,考查政治认同学科素养

思路点拨 对现在还不能抵扣、留着将来才能抵扣的进项增值税,予以提前全额退还,能够为企业提供现金流,切实减轻企业负担,有利于企业加快转型,加快技术改造和设备更新;同时,有利于提振市场主体信心,增强发展内生动力,①③符合题意。②错误,这一政策主要能够应对短期经济下行的压力。④“刺激消费”与题意不符。

15. 答案 C

命题透析 本题以“个人碳账户”的设立为情境,考查树立正确消费观、绿色发展观等知识,考查考生获取和解读信息、调动和运用知识的能力,考查科学精神、政治认同等学科素养。

思路点拨 设立个人碳账户,旨在通过建立激励机制,引导居民绿色生活,在生活消费中实现碳减排,②④正确。“个人碳账户”中的碳积分并不能在碳排放交易市场进行交易,目前,碳排放交易的主体是企业,排除①;③错误,生产决定消费,而不是消费决定生产。

16. 答案 B

命题透析 本题以某社区创新治理模式为情境,考查民主管理的有关知识,考查考生获取和解读信息的能力,考查公共参与学科素养。

思路点拨 某社区完善“社区+院落+楼栋+四长四员”的社区治理体系,建立“社区+业主委员会+物业公司”三级联动机制,让更多力量参与社区治理……可见,该社区创新治理机制,整合社区资源,调动基层治理主体的积极性,实现社区治理效果的最大化,①④正确。上述治理模式并没有变革基层自治组织形式,②错误。③“党建引领”材料没有体现。

17. 答案 C

命题透析 本题以生态环境部门做好清洁取暖工作的具体要求为情境,考查政府工作的宗旨和对人民负责的原则等知识,考查考生获取和解读信息、调动和运用知识的能力,考查政治认同学科素养。

思路点拨 政府根据实际情况,弹性执行清洁能源工作,①与材料主旨不符;生态环境部要求具备条件的地区才实行清洁取暖,这体现了求真务实的工作作风,②正确;③在材料中没有体现;生态环境部要求确保民众温暖过冬,体现了以人民为中心的发展思想,④正确。

18. 答案 A

命题透析 本题以中国推动人工智能全球治理为情境,考查国际关系的决定因素、我国外交政策的实践等知识,考查考生获取和解读信息、调动和运用知识的能力,考查科学精神、政治认同等学科素养。

思路点拨 中国多次就人工智能发展向国际组织提出倡议,体现了①;中国之所以关注人工智能发展安全,推动人工智能全球有效治理,是因为这符合我国的国家利益,②正确;③“主导权”说法错误,且材料没有显示中国倡议带来国际社会的积极反映,故没有体现话语权增强;④错在“相同利益”,应该是“共同利益”。

19. 答案 D

命题透析 本题以根据敦煌壁画创作动画为情境,考查文化创新的途径、传统文化的作用等知识,考查考生获取和解读信息、调动和运用知识的能力,考查科学精神等学科素养。

思路点拨 ①错误,推动社会实践发展是文艺发展的根本目的;②错误,现代艺术只要满足人们的精神需求、能推动社会发展都有价值;将敦煌壁画中的形象转化为现代动漫形象,仅仅做了一点点,便取得了巨大成效,说明我们要从优秀传统文化中汲取文化发展的营养;③正确;根据古老敦煌壁画创作的现代动画受到中外观众的欢迎,说明中华优秀传统文化的生命力历久弥新,④正确。

20. 答案 C

命题透析 本题以习近平总书记重要讲话为情境,考查文化自信、正确处理本民族文化与外来文化的关系等知识,考查考生获取和解读信息、调动和运用知识的能力,考查科学精神、政治认同等学科素养。

思路点拨 习近平总书记强调不可依赖外部力量获得发展、不能通过照抄他国实现振兴,这要求我们坚持自信自立自强,自己掌握民族和国家的命运,②正确;不能在他人后面亦步亦趋,不能成为他人的附庸,从文化角度看,要求我们学习借鉴他国成果时,不能失去自我,要坚持以我为主、为我所用,④正确;材料体现的是为什么失败,而不是如何看待失败,①不符合题意;材料强调要坚持独立自主、走自己的路,③不符合题意。

21. 答案 B

命题透析 本题以艺术创作中的现象为情境,考查意识活动的特点、矛盾的特殊性的知识,考查考生获取和解读信息、调动和运用知识的能力,考查科学精神学科素养。

思路点拨 诚心诚意创作的艺术作品最后就是“自画像”,这说明艺术家的主观因素影响其创作,①正确;②错误,艺术作品是对客观世界的能动反映;人们能判断出这是某某人的作品,这基于艺术作品具有艺术家的个人风格,体现了矛盾的特殊性,③正确;材料没有涉及艺术作品的内容的客观性,④不符合题意。

22. 答案 A

命题透析 本题以我国不断优化疫情防控措施为情境,考查认识过程的特点、系统优化等知识,考查考生获取和解读信息、调动和运用知识的能力,考查科学精神、政治认同等学科素养。

思路点拨 我们不断优化疫情防控措施,这是基于在实践中对病毒的认识不断深化,①正确;优化疫情防控措施,既要防住疫情,又要尽量减少防控措施对经济发展、民生保障的影响,坚持了用系统综合的思维看问题,②正确;③错在“均衡用力”,两点是有重点的两点,不能把防控疫情与稳定经济等同起来看待;④错误,疫情防控不可避免地影响群众利益,只是我们要尽量在疫情防控中减少群众利益损失。

23. 答案 B

命题透析 本题以我国设立元宇宙仲裁院为情境,考查社会基本矛盾、改革等知识,考查考生获取和解读信息、调动和运用知识的能力,考查科学精神、法治意识等学科素养。

思路点拨 仲裁院属于国家机关,而国家机关属于上层建筑的组成部分,数字资产在虚拟环境下的交易及其产生的纠纷是经济中出现的新现象,设立元宇宙仲裁院是适应经济基础变化的上层建筑变革,也属于司法领域的创新,有利于推动数字经济发展,①③正确,④错误;②错在“根本”,夸大了元宇宙仲裁院设置的意义,排除。来源:高三答案公众号

38. **命题透析** 本题以我国数字经济发展的情况为情境,考查社会主义市场经济体制的优越性、新发展理念等知识,考查考生获取和解读信息、调动和运用知识、描述和阐释问题、探究和论证问题等能力,考查科学精神、政治认同等学科素养。

答案要点 (1)数字经济规模逐年扩大,占GDP的比重日益增加,数字经济对经济增长的贡献不断加强;(2分)数字经济在三大产业的渗透率不均衡,农业和工业的数字化程度相对第三产业较低。(2分)

(2)坚持党的领导,发挥党总揽全局、协调各方的领导核心作用,为数字经济发展提供政治保证。(3分)坚持创新发展,加快自主创新步伐,发挥举国体制优势,攻克关键领域核心技术,打破西方技术封锁。(3分)促进数字经济与实体经济融合发展,提高数字技术在实体经济中的贡献率。(2分)完善数字经济法律法规,加强数字经济监管,规范数字经济秩序,维护数据信息安全。(2分)

39. **命题透析** 本题以党和国家领导人关于坚决维护党中央权威和集中统一领导的论述为情境,考查中国共产党的有关知识,考查考生解读信息、运用所学知识分析、论证问题的能力,考查政治认同等学科素养。

答案要点 中国共产党作为马克思主义政党,拥有坚强的领导核心是加强党的建设的内在要求,能增强“四个意识”,确保党始终总揽全局、协调各方。(4分)坚决维护党中央权威和集中统一领导是我国革命、建设、改革事业不断取得胜利的根本政治保证,也是我们党不断从胜利走向胜利的宝贵经验。(4分)在中华民族伟大复兴的关键期,坚决维护党中央权威和集中统一领导,是推进全面从严治政、提高党的创造力凝聚力战斗力的客观要求。(4分)(若从民主集中制角度回答,言之有理酌情给分)

40. **命题透析** 本题以二十大报告提出“三个务必”要求为情境,考查社会存在与社会意识的关系、文化的继承与发展、培育担当民族复兴大任的时代新人等知识,考查考生获取和解读信息、调动和运用知识、描述和阐释问题、探究和论证问题等能力,考查科学精神、政治认同、公共参与等学科素养。

答案要点 (1)社会存在决定社会意识,社会意识具有相对独立性,先进的社会意识对社会发展具有积极促进作用。(3分)党领导人民创造了伟大的历史成就,但是面对世界、时代和历史之变,形势依然严峻,任务更加艰巨,需要全党永葆“赶考”的清醒和坚定。(3分)“三个务必”是从党的百年奋斗历程中总结概括出来的宝贵经验,体现了中国共产党强烈的使命担当、忧患意识和斗争精神,是先进的、科学的社会意识。(2分)坚持“三个务必”将激励和引导广大党员在新时代自警、自律、不懈追求,战胜新征程中的各种风险挑战,夺取新的伟大胜利。(2分)

(2)文化继承与发展是同一过程中的两个方面,继承是发展的必要前提,发展是继承的必然要求。(3分)“三个务必”是对党的伟大精神、优良传统的继承和发展。(1分)“三个务必”总结概括党的百年历史经验,以伟大建党精神为精神之源,坚守初心使命,继承党的斗争精神,延续光荣传统,保持优良作风,坚守了思想文化创新的根基。(3分)立足新时代中国特色社会主义伟大实践,顺应世界、时代、任务之变,对全体党员提出新要求,为伟大建党精神、斗争精神和“两个务必”注入了新的时代内涵,增添了新的生机和活力。(3分)

(3)答案示例:广大青年学生要树立“四个自信”,坚定理想信念,坚持立场和原则;(2分)增强学习意识,提高辨别是非的能力,掌握斗争的方法和策略;(2分)主动在各种斗争实践中淬炼思想、磨炼意志,增强胆魄,增长才干。(2分)

天一大联考
2022—2023 学年高三年级上学期期末考试

文科综合·历史答案

24~35 小题,每小题 4 分,共 48 分。

24. 答案 D

命题透析 本题以商代卜辞记载为背景材料,旨在考查学生获取和解读信息、调动和运用知识的能力,同时体现了对唯物史观、历史解释、家国情怀学科素养的考查。

思路点拨 由材料中商朝卜辞中发现大量有关农业的内容可知,农业在商代具有重要地位,D 项正确。材料未涉及其他行业信息,排除 A 项;材料仅涉及农业,“经济生活”的表述有夸大之嫌,排除 B 项;材料未涉及农业生产方式,排除 C 项。

25. 答案 C

命题透析 本题以秦朝的统治方法变化为背景材料,旨在考查学生获取和解读信息、调动和运用知识的能力,同时体现了对唯物史观、时空观念、历史解释学科素养的考查。

思路点拨 材料显示,秦始皇时采用“法、术、势并用的统治术”,秦二世时“发展为督责之术”,为封建独裁和暴君统治奠定理论基础,这表明秦代国家治理走向僵化,C 项正确。材料强调的是法家思想在秦朝的使用情况,不能说“君权至上”,排除 A 项;B 项中“完善”的表述不符合材料主旨,排除;材料强调的是“成为封建独裁和暴君统治的理论基础”,并非官僚体制趋于“理性”,排除 D 项。

26. 答案 B

命题透析 本题以魏晋时期社会现状为背景材料,旨在考查学生获取和解读信息、调动和运用知识的能力,同时体现了对唯物史观、时空观念、历史解释、家国情怀学科素养的考查。

思路点拨 根据材料信息可知,这一现状是指“给人以朝不保夕的畏惧感”,但是同时也给民众突破“王道理想、皇朝权威、正统道德、伦常秩序之类”一些“机会”,再结合魏晋时期的思想自由的时代特征可知,这一现状有助于当时民众实现思想自由和解放,B 项正确。“消除”的表述夸大了这一状况的作用,排除 A 项;材料强调的是“暗淡甚至崩溃”,不能说维护社会主流价值观,排除 C 项;“士族门阀的统治”与材料主旨不符,排除 D 项。

27. 答案 D

命题透析 本题以明代《黄溪志》记载为背景材料,旨在考查学生获取和解读信息、调动和运用知识的能力,同时体现了对唯物史观、时空观念、历史解释、家国情怀学科素养的考查。

思路点拨 根据材料可知,明代雇工对于待遇比较挑剔,为此雇主向佣工提供的肴饌必须包含“鲜味”,带动了鱼虾的畅销和交易的活跃,这反映出当地市场化水平较高,D 项正确。A 项中“政治地位”的表述不符合当时实际情况,排除;材料强调的是雇工待遇提高引发的市场活跃,不能说明社会风气的恶化,排除 B 项;C 项中“规范”不符合材料主旨,排除。

28. 答案 B

命题透析 本题以美国公使致信美国驻广州领事为背景材料,旨在考查学生获取和解读信息、调动和运用知识的能力,同时体现了对唯物史观、时空观念、历史解释、家国情怀学科素养的考查。

思路点拨 根据材料中“合众国在中国的公民,认为‘受美国所派驻华官员的审判’”可知,美国无视中国的法

律和司法审判权,B项正确。根据所学知识可知,国际法的适用范围是全部国家而非仅限于欧美国家,排除A项;美国是通过签订条约和片面最惠国待遇获得“治外法权”,排除C项;D项与史实不符,排除。

29. 答案 A

命题透析 本题以中国近代市场交易机构设置为背景材料,旨在考查学生获取和解读信息、调动和运用知识的能力,同时体现了对唯物史观、时空观念、历史解释、家国情怀学科素养的考查。

思路点拨 根据材料中“交易所”“新设银行257家”“信托公司应运而生”并结合这一时期的时代特征可知,这些现象的出现反映出近代交易市场的发展,A项正确。实业救国思潮兴起于19世纪末20世纪初,排除B项;新设银行、信托公司并非都是西方资本输出的结果,C项错误;D项中“营销方式”的表述错误,排除。

30. 答案 A

命题透析 本题以孙中山思想为背景材料,旨在考查学生获取和解读信息、调动和运用知识的能力,同时体现了对唯物史观、时空观念、历史解释、家国情怀学科素养的考查。

思路点拨 材料中“使人民手中的政权对政府手中的治权有支配作用”“相当于车主与司机的关系”表明,孙中山认为西方民主制度存在弊端,人民仅有选举权,不能对选举后的政府进行有效监督,A项正确。B、C、D三项不符合材料的主旨,均排除。

31. 答案 C

命题透析 本题以《我为祖国献石油》歌词改动为背景材料,旨在考查学生获取和解读信息、调动和运用知识的能力,同时体现了对唯物史观、时空观念、历史解释、家国情怀学科素养的考查。来源:高三答案公众号

思路点拨 根据材料中“三面红旗迎彩霞”并结合所学知识可知,当时歌词的改动与“左”倾错误有关,C项正确。A项中“必须”表述过于绝对,排除;B项与史实不符,排除;经济建设会影响文化艺术创作,而不是“决定”,排除D项。

32. 答案 D

命题透析 本题以苏格拉底与普罗泰格拉的交谈为背景材料,旨在考查学生获取和解读信息、调动和运用知识的能力,同时体现了对唯物史观、时空观念、历史解释学科素养的考查。

思路点拨 根据材料中苏格拉底和普罗泰格拉的对话可知,智者运动的代表人物普罗泰格拉强调“个人事务上懂得如何尽可能好地料理家务,在公共事务上,懂得在城邦事务中如何最有成效地说和做”,这一主张顺应当时雅典城邦政治的发展需要,D项正确。A、B、C三项不符合材料的主旨,均排除。

33. 答案 B

命题透析 本题以马克思对西里西亚起义评价为背景材料,旨在考查学生获取和解读信息、调动和运用知识的能力,同时体现了对唯物史观、时空观念、历史解释学科素养的考查。

思路点拨 根据所学知识可知,“欧洲三大工人运动”标志着无产阶级开始作为独立的政治力量登上历史舞台,材料中西里西亚起义具有了“法国和英国的工人起义在结束时才具有的东西”表明无产阶级开始觉醒,产生对自身本质的认识的意识,B项正确。马克思主义学说诞生于1848年,晚于材料中“1844年6月”,排除A项;暴力革命是从巴黎公社运动开始的,排除C项;这一时期的工人运动没有涉及夺取国家政权的任务,排除D项。

34. 答案 C

命题透析 本题以20世纪80年代发达国家经济状况为背景材料,旨在考查学生获取和解读信息、调动和运用知识的能力,同时体现了对唯物史观、时空观念、历史解释学科素养的考查。

思路点拨 根据材料可知,发达国家在实现低通货膨胀、高经济增长的背景下,失业率不断攀升,这是西方国

家过度干预的结果,表明西方国家干预具有局限性,C项正确。A项中“弱化”不符合史实,排除;材料提到“经济从1983年以来连续七年保持增长势头”,不能说“出现持续的衰退”,排除B项;这一时期西方国家的经济政策不是自由放任,排除D项。

35. 答案 A

命题透析 本题以莫奈的作品为背景材料,旨在考查学生获取和解读信息、调动和运用知识的能力,同时体现了对唯物史观、时空观念、历史解释学科素养的考查。

思路点拨 根据材料可知,这一类的作品呈现出“五光十色、万紫千红”,即强调绘画创作中的光与色的应用,A项正确。B、C、D三项不符合该类绘画的风格,均排除。

41. **命题透析** 本题以近代英德美福利国家与新中国福利制度为背景材料,旨在考查学生获取和解读信息、调动和运用知识、描述和阐释事物的能力,同时体现了对唯物史观、时空观念、历史解释、家国情怀学科素养的考查。

答案要点 (1)同:基于缓和社会矛盾的考虑;关注社会底层的处境;借助法律等强制手段;社会效果比较明显。

异:英国,起步早;与早期资本积累同步;具有历史传承。德国,受益于工业革命的发展;着眼于缓解阶级矛盾。美国,关注少数族裔;强化社会共享价值。(13分,言之成理即可)

(2)特点:阶段性明显;呈现渐进性;凸显社会主义制度优势;保障范围广泛;普惠型特征明显;凸显社会化特征;形成现代社会福利体系。

影响:保障了困难群众的基本生活;化解了社会矛盾;有助于实现全社会的共同富裕;彰显了社会主义制度的优越性。(12分,言之成理即可)

42. **命题透析** 本题以五四新文化运动对中国古代文化的反思与审视为背景材料,旨在考查学生获取和解读信息、调动和运用知识、描述和阐释事物、论证和探讨问题的能力,同时体现了对唯物史观、时空观念、历史解释、家国情怀学科素养的考查。

答案要点 示例:

信息:五四运动重塑了中国现代精神传统。(2分)

阐述:五四时期,新文化运动的倡导者们从推进中国发展与现代化的角度,对中国灿烂的古代文明进行了“批判”“发现”“重构”三个方面的工作。陈独秀等人把批判的矛头集中指向了孔子和儒学,打倒一尊、九流并美,瓦解经学、构建新子学,直接推动了文化的现代转型与建立。近现代中国知识阶层发掘中国古代文化中的现代性资源,构建新子学话语体系,既是为了化解中国传统文化与现代化之间的矛盾与紧张关系,同时也是致力于建构“中国现代精神传统”。(8分,言之成理即可)

结论:在中国现代精神传统的建构过程中,应把开放态度、批判精神、包容意识与创新性有机地结合起来。(2分)

(“示例”仅为阅卷参考,其他答案言之成理亦可)

45. **命题透析** 本题以唐代司法集体决断制度为背景材料,旨在考查学生获取和解读信息、调动和运用知识、描述和阐释事物的能力,同时体现了对唯物史观、时空观念、历史解释、家国情怀学科素养的考查。

答案要点 (1)特点:评议形式合理;适用范围广泛;司法责任严密;法官承担连带责任。(7分,任答3点,言之成理即可)

(2)价值:维护了专制皇权;确立了公允持平的司法标准;形成了合而不同的合议规则;构建了严格周密的司法责任体系;弥补了裁判者个人知识和价值单一的缺陷;促进了中华法系的审判制度形成。(8分,任答4点,言之成理即可)

46. **命题透析** 本题以英日同盟为背景材料,旨在考查学生获取和解读信息、调动和运用知识、描述和阐释事物的能力,同时体现了对唯物史观、时空观念、历史解释、家国情怀学科素养的考查。

答案要点 (1)背景:甲午战败,列强掀起瓜分中国狂潮;甲午战后,日俄矛盾日益尖锐;英国在远东优势地位遭到严重削弱;英日具有相同利益。(7分,任答3点,言之成理即可)

(2)影响:提高了日本的国际地位;加速了日俄战争爆发;加剧了列强在华侵夺;有助于保护英国在华利益。(8分,言之成理即可)

47. **命题透析** 本题以薛福成的思想为背景材料,旨在考查学生获取和解读信息、调动和运用知识、描述和阐释事物的能力,同时体现了对唯物史观、时空观念、历史解释、家国情怀学科素养的考查。

答案要点 (1)时代背景:清政府腐败无能;西学东渐兴起;开明地主设法自救;民族危机严重。(8分,言之成理即可)

(2)主张:养人才;广垦田;兴屯政;澄吏治;厚民生;筹海防。(7分,任答3点,言之成理即可)

天一大联考
2022—2023 学年高三年级上学期期末考试
文科综合·地理答案

1~11 小题,每小题 4 分,共 44 分。

1. 答案 A

命题透析 本题以东北地区交通优势度为情景,考查交通运输方式的变化,旨在考查考生获取和解读地理信息、调动和运用地理知识的能力,综合思维、区域认知的学科核心素养。来源:高三答案公众号

思路点拨 由表可知,2010—2016 年东北地区的交通优势度整体呈上升态势。东北地区采用水路运输较少,水路运输对区域交通优势度的影响有限;随着经济的发展,东北地区对高铁、航空等快捷交通的需求增大,高铁和航空基础设施建设,促使区域交通优势度快速提高。

2. 答案 C

命题透析 本题以东北地区交通优势度为情景,考查交通运输建设对人口的影响,旨在考查考生获取和解读地理信息、调动和运用地理知识的能力,综合思维的学科核心素养。

思路点拨 由表可知,2010—2016 年东北地区交通优势度高的县域增多,且人口覆盖度也增大,故交通优势度高的地区吸引人口集聚;东北地区经济发展相对缓慢,人口迁入少,且人口出生率低,人口数量不会大幅增加;交通优势度变化主要影响区域内部人口的空间分布,对环境人口容量影响小。

3. 答案 B

命题透析 本题以东北地区交通优势度为情景,考查影响交通运输的因素,旨在考查考生获取和解读地理信息、调动和运用地理知识的能力,区域认知、综合思维的学科核心素养。

思路点拨 东北地区交通优势度的快速提高是由快捷交通建设实现的,这需要国家投资建设,且国家正在实施东北振兴计划;生态环境和劳动力素质对交通优势度的影响较小;经过多年开发,东北地区的矿产资源日益减少,故矿产资源开发不是东北地区未来的主要发展方向。

4. 答案 A

命题透析 本题以新疆南部暴雨洪水灾害为情景,考查区域地理的相关知识,旨在考查考生获取和解读地理信息的能力,综合思维的学科核心素养。

思路点拨 由图可知,阿克苏地区暴雨洪水灾害次数较多。

5. 答案 D

命题透析 本题以新疆南部暴雨洪水灾害为情景,考查暴雨洪水的影响,旨在考查考生获取和解读地理信息、调动和运用地理知识的能力,区域认知、综合思维的学科核心素养。

思路点拨 人口素质对暴雨洪水造成的损失大小影响不大;与东南沿海地区相比,新疆南部经济发展水平低,受暴雨洪水影响产生的损失小;暴雨次数为自然因素;新疆南部基础设施薄弱。

6. 答案 B

命题透析 本题以新疆南部暴雨洪水灾害为情景,考查暴雨洪水的影响,旨在考查考生获取和解读地理信息、调动和运用地理知识的能力,区域认知、综合思维的学科核心素养。

思路点拨 塔里木河流域气候干旱,暴雨持续时间不长,对流域的气候影响小,不会使气候趋于温暖湿润;塔里木河流量小,航运能力弱,暴雨会导致河流水位上涨,但是对航运的影响有限;洪水漫过河岸,给两岸土壤带来

一定肥力,但暴雨洪水年内出现次数少,不可能导致土壤肥力显著提高;暴雨洪水短期内会导致河流两岸的农牧业受损。

7. 答案 C

命题透析 本题以黄河流域市域经济发展重心演变轨迹为情景,考查区域经济发展的相关知识,旨在考查考生获取和解读地理信息、调动和运用地理知识的能力,区域认知、综合思维的学科核心素养。

思路点拨 由图可知,黄河流域市域经济发展重心整体向东南方向移动,东南方向为黄河的下游地区,经济发展较快,并不断向高新技术、第三产业方向发展;黄河上游主要位于经济发展重心的西侧,且上游为水源地,生态环境较为脆弱,应以环境保护为主;延安就在黄河中游,中游城市群规模的扩大不会使经济发展重心向东南方向移动;全域交通项目建设对经济发展重心的移动影响不大。来源:高三答案公众号

8. 答案 A

命题透析 本题以黄河流域市域经济发展重心演变轨迹为情景,考查区域经济发展的相关知识,旨在考查考生获取和解读地理信息、调动和运用地理知识的能力,区域认知、综合思维的学科核心素养。

思路点拨 市域经济发展需要产业结构优化来实现,产业升级又主要依托科技创新来推动,因此科技创新是其内源动力;交通条件改善、城镇化发展利于区域经济发展,但都不是内源动力。

9. 答案 C

命题透析 本题以挡沙墙的设置情景,考查挡沙墙的影响相关知识,旨在考查考生获取和解读地理信息、调动和运用地理知识的能力,综合思维的学科核心素养。

思路点拨 由图可知,挡沙墙影响的高度不超过18厘米,对近地面影响较大。不同高度的挡沙墙阻截的输沙量不同,输沙方式又主要是风力作用,说明挡沙墙对近地面气流的影响较大。

10. 答案 B

命题透析 本题以挡沙墙的设置情景,考查不同挡沙墙的防沙效果,旨在考查考生获取和解读地理信息、调动和运用地理知识的能力,综合思维的学科核心素养。

思路点拨 由图可知,相同高度的情况下,转槽式挡沙墙的累积输沙量在所有挡沙墙中都是最高的,所以防沙效果最好。

11. 答案 D

命题透析 本题以挡沙墙的设置情景,考查不同挡沙墙的适用性,旨在考查考生获取和解读地理信息、调动和运用地理知识的能力,综合思维、地理实践力的学科核心素养。

思路点拨 由材料可知,挂板式和轨枕式挡沙墙对风速的敏感性最弱,说明在不同风速情况下,挂板式和轨枕式挡沙墙防沙效果差异较小,故其地区适用性最强。

36. **命题透析** 本题以瑞幸咖啡的新零售为情景,考查服务业的相关知识,旨在考查考生获取和解读地理信息、调动和运用地理知识、论证和探讨地理问题的能力,区域认知、综合思维的学科核心素养。

答案要点 (1)市场;交通;集聚状况;地租等。(任答其中2点,每点2分,共4分。其他答案合理可酌情给分)

(2)装潢好,投资与运营成本高;顾客群体定位为高收入、高消费人群;实行高端品牌营销策略。(每点2分,共6分。其他答案合理可酌情给分)

(3)共享线下消费者,利于占领市场;地处商圈附近,受辐射带动作用强;在空间上接近消费者,便于提供差异化服务;商圈非中心位置地租较低,运营成本较低。(每点2分,共8分。其他答案合理可酌情给分)

(4)通过技术手段,利用外卖订单位置数据,计算出潜在的最佳门店位置;高度重视用户线上体验,利用消费数据,实现精准的个性化营销与配送。(每点2分,共4分。其他答案合理可酌情给分)

37. **命题透析** 本题以贡嘎山东坡土壤生物有效磷含量为情景,考查土壤、自然环境的整体性和差异性相关知识。

旨在考查考生获取和解读地理信息、调动和运用地理知识、论证和探讨地理问题的能力,区域认知、综合思维、地理实践力的学科核心素养。

答案要点 (1)土壤生物有效磷含量空间分布不均;随海拔升高,土壤生物有效磷含量增大;土壤生物有效磷主要分布在凋落物层。(任答其中2点,每点2分,共4分。其他答案合理可酌情给分)

(2)四地位于不同海拔高度的河谷地区;水热条件好,利于土壤发育;地形较为平坦,利于土壤物质积累。(每点2分,共6分。其他答案合理可酌情给分)

(3)气温高,生物生长旺盛,吸收大量土壤生物有效磷;属季风气候区,夏季降水多,土壤生物有效磷淋失和流失多;地形坡度较大,地表径流流速快,侵蚀作用强,土壤生物有效磷流失量大。(每点2分,共6分。其他答案合理可酌情给分)

(4)变化情况:土壤生物有效磷含量随海拔升高而减小。(2分)

理由:随海拔升高,温度与湿度降低,风化作用与微生物分解作用减弱;生物与植被群落减少,土壤生物有效磷来源减少。(每点3分,共6分。其他答案合理可酌情给分)

43. 命题透析 本题以我国工业旅游示范点空间分布为情景,考查旅游开发的相关知识,旨在考查考生获取和解读地理信息、调动和运用地理知识、论证和探讨地理问题的能力,区域认知、综合思维的学科核心素养。

答案要点 中部地区工业起步晚,工业遗产较少,工业旅游资源相对贫乏;工业特色不鲜明,缺乏独特性;工业发展较为落后,工业旅游资源开发数量少;是重要的农业生产基地,国土开发以农业用地为主。(每点3分,任答3点给10分。其他答案合理可酌情给分)

44. 命题透析 本题以我国7个地理大区城市CO₂浓度变化趋势为情景,考查大气污染的相关知识,旨在考查考生获取和解读地理信息、调动和运用地理知识、论证和探讨地理问题的能力,区域认知、综合思维、人地协调观的学科核心素养


答案要点 与华南地区相比,华北地区经济结构以能源、重工业为主,工业污染物排放较多;降水少,大气污染物沉降较少,CO₂浓度较高;国家战略实施后,大气污染治理成效较显著;能源消费结构调整,大气污染物排放减少;生态环境得到改善,吸附大气污染物增多。(每点2分,共10分。其他答案合理可酌情给分)

关于我们

自主选拔在线是致力于提供新高考生涯规划、强基计划、综合评价、三位一体、学科竞赛等政策资讯的升学服务平台。总部坐落于北京，旗下拥有网站（网址：www.zizzs.com）和微信公众平台等媒体矩阵，用户群体涵盖全国 90% 以上的重点中学师生及家长，在全国新高考、自主选拔领域首屈一指。

如需第一时间获取相关资讯及备考指南，请关注**自主选拔在线**官方微信号：**zizzsw**。



 微信搜一搜

 自主选拔在线