

考号:

姓名:

班级:

## 文科综合能力测试

一、选择题:本题共 35 小题,每小题 4 分,共 140 分。在每小题给出的四个选项中,只有一项是符合题目要求的。

河南信阳某油茶园依托“公司+基地+农户”的农业运营模式(如图 1 所示),即企业租用土地、建设基地,并雇用农民进行田间管理,形成了集油茶种植、水产特禽养殖及旅游观光于一体的农林示范基地。据此完成 1~3 题。

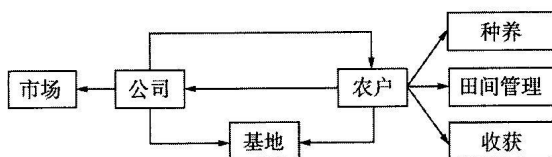


图 1

- 加入公司后,农民家庭明显增加的是  
A. 茶园面积      B. 家禽数量      C. 劳动力数量      D. 收入来源
- 该公司提高经济效益的主要途径是  
A. 扩大油茶规模      B. 实施多种经营      C. 创建产品品牌      D. 延长产业链条
- 相比于普通的油茶种植,该油茶园的突出优势为  
A. 产品更多,效益更高      B. 市场更广,产品价格更低  
C. 能耗更小,环境更优      D. 投入更少,生产成本更低

城市的土地利用要遵循因地制宜的原则。图 2 为我国陕西北部地区某城市土地利用示意图。据此完成 4、5 题。

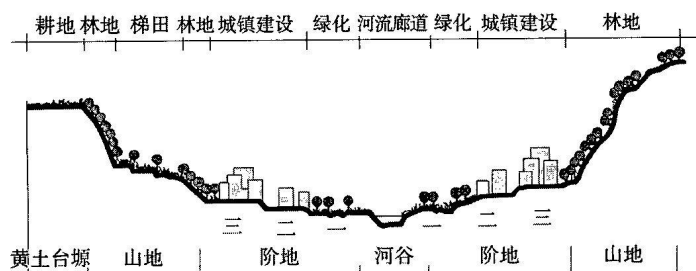


图 2

- 影响图 2 中各土地利用方式的主要因素是  
A. 地形      B. 河流      C. 土壤      D. 气候

5. 城镇建设用地图在二、三级阶地上,主要考虑的是

- A. 减少耕地占用
- B. 城市取水方便
- C. 避免城市内涝
- D. 受洪灾影响小

黄河入海口西北侧某海域(如图3所示)以淤泥质海岸为主。近年来,在人类活动和自然条件的共同影响下,该海域冲淤变化显著,但海岸线稳定。某科研团队对该海域冲淤变化情况进行了相关研究。图4为1976—2014年研究区内5 m和10 m等深线包络面积(等深线与海岸线间的面积)变化示意图。据此完成6~8题。

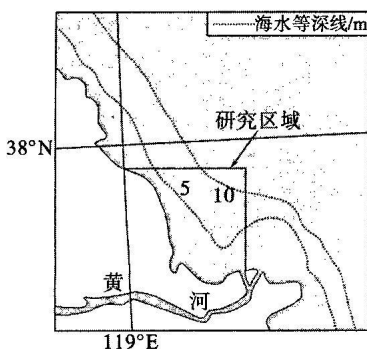


图3

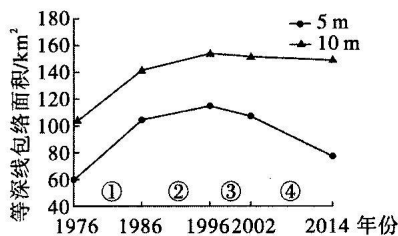


图4

6. 研究区域内5 m等深线距海岸的平均距离变化缓慢的时段是

- A. ①
- B. ②
- C. ③
- D. ④

7. 1976—2014年,研究区近岸海域

- A. 持续淤积
- B. 持续侵蚀
- C. 先淤积后侵蚀
- D. 先侵蚀后淤积

8. 据图推测,2002—2014年黄河流域

- ①年均降水量减少
  - ②水库泄洪量增加
  - ③森林覆盖率增加
  - ④耕地面积增加
- A. ①③
  - B. ①④
  - C. ②③
  - D. ②④

北极草苔原植被群落多出现在水源充足、气候寒冷地区。其根系较浅,也被称为“多草苔原”。据此完成9~11题。

9. 多草苔原植被根系较浅的原因是

- A. 土壤肥沃
- B. 风力较大
- C. 冻土埋藏浅
- D. 地上植株小

10. 在寒冷季节积雪较浅的环境下,多草苔原在雪面之上少植物残留的原因是

- A. 太阳辐射较弱
- B. 温度过低
- C. 流水侵蚀
- D. 风和雪的磨蚀

11. 随着全球气候变暖,北极草苔原植被群落的演化趋势是
- A. 逐渐被灌木和森林代替                      B. 逐渐被荒漠代替  
C. 草苔原植被群落获得明显优势              D. 寒冷季节草苔原植被长势喜人
12. 方向决定道路,道路决定命运。俄国十月革命以来,世界上多个国家科学社会主义的实践进行了艰辛探索。中国有不同于欧洲发达资本主义国家也不同于当年俄国的独特国情,中国革命和建设必须从中国实际出发。我们党百年奋斗积累了极其丰富的宝贵经验,归结到一点,就是把马克思主义基本原理同中国具体实际相结合、同中华优秀传统文化相结合,走自己的路。这表明,走自己的路,建设中国特色社会主义
- ①是科学社会主义实践连续性和间断性相统一的印证  
②是对中国基本国情、中国最大实际的深刻把握  
③是探索不断超越现有发展阶段的大胆尝试  
④是对中国革命和建设历史经验的深刻总结
- A. ①②                      B. ①③                      C. ②④                      D. ③④
13. 从基本医疗保险参保率稳定在 95% 以上,织就世界最大的社会保障网,到持续打好蓝天、碧水、净土保卫战,以良好生态带给群众更多获得感……攸关民生福祉的大事小情,办一件成一件。在实现小康梦、强国梦、中国梦的生动实践中,绘就了山乡巨变、山河锦绣的时代画卷,让千家万户迎来翻天覆地的变化,让亿万人民的幸福生活梦想成真。实现这一伟大梦想需要
- ①党领导人民进行伟大斗争、建设伟大工程、推进伟大事业  
②坚持发展为了人民、发展依靠人民、发展成果由人民共享  
③发挥中国共产党的主体作用,做中国梦的建设者和享受者  
④青年人坚定理想信念,在实现个人利益的过程中矢志奋斗
- A. ①②                      B. ①④                      C. ②③                      D. ③④
14. 2022 年 4 月,国务院办公厅印发的《关于进一步释放消费潜力促进消费持续恢复的意见》指出,适应常态化疫情防控需要,促进新型消费,加快线上线下消费有机融合,扩大升级信息消费,培育壮大智慧产品和智慧零售、智慧旅游、智慧广电、智慧养老、智慧家政、数字文化、智能体育、“互联网+医疗健康”“互联网+托育”“互联网+家装”等消费新业态。此举能
- ①推动信息消费升级,为新型消费领域发展注入新动力  
②转变传统消费观念,决定新型商品价值的形成和实现

- ③促进商品和服务供给端升级,实现产业结构转型升级  
④决定生产方式的优化升级,完善、强化数字经济产业链
- A. ①②                      B. ①③                      C. ②④                      D. ③④
15. 专精特新企业是指具备专业化、精细化、特色化、新颖化特征的中小企业,是未来产业链的重要支撑,是强链补链的生力军。2022年,财政部、工信部将新培育3000家左右“小巨人”企业,用好中央财政资金,再支持一批重点专精特新企业。对这一政策的实施及其影响路径,下列推导正确的是
- ①制定财政支持实施方案→按规定拨付奖补资金→支持相关企业加大创新投入  
②设立专精特新企业发展基金→引导社会资本与政府基金合作→增强企业经营能力  
③制定定向财政补贴政策→开发针对性贷款产品→增强专精特新企业供应能力  
④支持专精特新企业上市融资→提高国有资本占比→发挥国有经济的控制力优势
- A. ①②                      B. ①④                      C. ②③                      D. ③④
16. 为打通农村基层治理“最后一步”,织密基层治理组织网底,充分调动基层积极性,增强群众主人翁意识,黔南布依族苗族自治州全覆盖组建村党组织领导下的村民小组事务管理委员会、组务管理委员会和“村民自治小组”11211个,有效破解基层对村组事务不关心、发展不热心、治理不上心,对村组干部办事有意见、不满意等“三心二意”问题,凝聚起推动乡村振兴蓬勃力量。该做法
- ①缩小了广大群众参与基层自治的范围  
②尊重了基层群众在民主自治中的主体地位  
③完善了基层民主管理的组织和活动形式  
④调动了群众参与政治的积极性,促进了乡村振兴
- A. ①②                      B. ①③                      C. ②④                      D. ③④
17. 近年来,某市系统推进工业园区改革,突出“瘦身”与“健身”相结合,“加法”与“减法”相统筹,“规范”与“创新”相衔接。全市撤并整合各类园区管理机构3个,园区管委会领导职数和内设机构设置全部予以规范,省级园区不再承担社会事务。这些改革旨在
- ①完善行政体制机制,提高管理和服务效能  
②规范园区干部管理,提升干部业务能力  
③强化社会管理职能,突出发展主责主业  
④深入推进“放管服”改革,优化营商大环境
- A. ①③                      B. ①④                      C. ②③                      D. ②④

18. 山东省海阳市政府在核能综合利用上大胆探索、先行先试,与山东核电有限公司共同启动推进核能供热项目,开创了国内核能商业供热的先河。项目投运后,海阳核电1号机组取代了当地12台燃煤锅炉,每个供暖季可减排二氧化碳18万吨,同时减少向环境排放热量130万吉焦,有效改善了区域供暖季的大气环境和海洋生态。同时,围绕核电项目建设,海阳决定培育壮大核电建设、运营、服务一体化产业链条。山东海阳的核能综合利用表明
- ①联系是事物发展的源泉和动力,是把握事物发展的钥匙
  - ②把握联系的多样性是正确认识和有效利用事物的前提
  - ③事物发展的关键在于把事物的不利条件转变为有利条件
  - ④人们可以通过实践调整事物之间原有的联系,建立新的联系
- A. ①②                      B. ①③                      C. ②④                      D. ③④
19. 2021年8月,中共中央宣传部决定,授予世界著名麻风病防治专家、首都医科大学附属北京友谊医院医生李桓英同志“时代楷模”称号。李桓英舍弃国外优厚条件,回国投身麻风病防治工作。她始终心系人民健康,把毕生精力贡献给了卫生健康事业。她推广的“短程联合化疗”方法救治了无数的麻风病患者,为我国乃至世界麻风病防治工作作出了巨大贡献。这对我们实现人生价值的启示是
- ①放弃的个人利益越多,自身的价值就越大
  - ②积极投身为人民服务的实践,是实现人生价值的必由之路
  - ③正确的价值观取决于正确的价值行为选择
  - ④社会价值与自我价值的实现统一于劳动奉献之中
- A. ①③                      B. ①④                      C. ②③                      D. ②④
20. “文房四宝”动漫国学——中国传统文化走进法国活动在法中两国线上线下成功举行。该活动由法国法中经济文化教育交流协会和湖南省动漫游戏协会主办。中法双方代表分别在中国和法国现场举行签约仪式,希望用文化来增进中法民心交流,促进中法两国在文化经济领域交流与合作不断深化。随后,中国的汉学老师为法国的学生们进行了云授课。本次活动给我们的启示是
- ①文化多样性是人类社会发展进步的重要动力
  - ②不同文化交流互鉴应坚持以我为主、为我所用的原则
  - ③不断增进交流与合作可以促进中法两国文化相互融合
  - ④现代传媒技术是人们超越时空局限共享文化的重要手段
- A. ①②                      B. ①④                      C. ②③                      D. ③④

21. 几千年前,中国古代的贤哲就提出“协和万邦”的和平理念,近代以来的思想家也提出了“永久和平”的理念,追求和平乃至永久和平是人类永恒的理想和愿望。和平是人类社会繁荣兴盛的前提,有了和平稳定,人类才能更好地实现梦想。共创后疫情时代美好世界,需要世界各国
- ①以命运共同体理念为引领,维护本国根本利益
  - ②遵循平等交往原则,平等相待、有事互商互谅
  - ③摒弃一切形式的原有外交思维,通过对话消除分歧
  - ④树立全球治理新观念、新理念,构建新型国际关系
- A. ①②                      B. ①③                      C. ②④                      D. ③④
22. 随着平台经济迅速发展,新就业形态已成为劳动者就业特别是灵活就业的重要方式。由于平台的用工形式和新就业形态劳动者的就业方式相对灵活,劳动者的权益保障面临新情况新问题。上海市人社局、发改委、总工会等八部门联合出台了《关于维护新就业形态劳动者劳动保障权益的实施意见》,提出了完善就业服务体系、优化社会保险经办、改善工作生活条件等方面的措施。针对新就业形态出台相关规定可以
- ①明确劳动者权益保障责任,补齐劳动者权益保障短板
  - ②规范劳动用工行为,提高劳动者遵守相关法律法规的自觉性
  - ③优化劳动者权益保障服务,完善劳动者权益保障工作机制
  - ④增强劳动者法律维权意识,消除不理性维权现象
- A. ①②                      B. ①③                      C. ②④                      D. ③④
23. “没有中国共产党,就没有新中国,就没有中华民族伟大复兴”。中国共产党的百年奋斗,创造了各个历史时期一个个伟大成就,推动了中华民族伟大复兴一次次伟大飞跃,书写了百年大党志在千秋伟业更显风华正茂的伟大奇迹。历史证明,只有中国共产党的领导才能救中国、才能发展新中国。中国被拯救、新中国得到发展,因此,中国坚持了中国共产党的领导。下面推理与此推理类型一致的是
- ①不登险峰,不识天地的辽阔,识天地辽阔,所以,人登了险峰
  - ②兄弟同心,其利断金,金没断,因此,兄弟不同心
  - ③只有勇于自我革命才能赢得历史主动,没有勇于自我革命,因此没有赢得历史主动
  - ④骄傲使人落后,虚心使人进步,因此,骄傲使人落后且虚心使人进步
- A. ①③                      B. ①④                      C. ②③                      D. ②④

24. 在《管子·地数》中,管子对齐桓公说:“出铜之山四百六十七山。”主要成书于战国时期的《山海经·中山经》也假托夏禹之口说:“天下名山……出铜之山四百六十七。”这反映了
- A. 二者的记载都是可信的  
B. 二者的资料来源相同  
C. 当时国家垄断青铜资源  
D. 我国青铜技术领先于世界
25. 汉初著名思想家陆贾认为,统治者应该“立狱制罪”,约束情欲,同时要通过道德教化去启发和强化人们固有的“礼仪之性”。这表明
- A. 汉初政治实行无为而治政策  
B. 汉初汉承秦制,略有损益  
C. 汉初学者探索新的治国策略  
D. 儒家思想成为汉正统思想
26. 魏晋初期,魏晋玄学的代表人物向秀提出“夫人含五行而生,口思五味,目思五色,感而思室,饥而求食,自然之理也,但当节之以礼耳”。据此可知,向秀的思想
- A. 体现了感性和理性的结合  
B. 是对董仲舒思想的继承  
C. 与庄子的思想具有一致性  
D. 是当时政治需要的产物
27. 明中期以来,“福建、广东近海之地,又多行使洋钱”,官民交易、完粮纳税、商业记账等多以外国银币结算。明末,福建商民乃至地方官府依外洋形制、重量、成色,仿铸银元。据此可知,明朝
- A. 为世界经济体系构建作出巨大贡献  
B. 商品经济发展与货币矛盾突出  
C. 中国已经被卷入资本主义世界市场  
D. 大量白银流入推动了货币改革
28. 梁启超于 1898 年 12 月在日本横滨创办了《清议报》。从 1898 年 12 月到 1900 年 5 月,《清议报》涉日内容大部分是以向日本学习为主。然而此后《清议报》则是以仇日和谴责日本为主。这一变化发生的主要原因是
- A. 八国联军对中国人民犯下滔天罪行  
B. 民族资本主义初步发展惊醒了国人  
C. 戊戌变法失败使梁启超更加理性  
D. 甲午中日战争失败加重了民族危机
29. 图 5 是 1941 年美术家古元在延安创作的木刻画《逃亡地主又归来》。该图出现的历史原因是
- A. 国民党反共高潮的出现  
B. 新民主主义革命理论形成  
C. 抗日民族统一战线建立  
D. 具有现实主义的艺术特征



图 5

30. 1956 年中共八大曾提出以国家集体经营为主体、个体经营为补充,计划生产为主体、自由生产为补充,国家市场为主体、自由市场为补充的经济发展方针。这一方针
- A. 体现了独立性和探索性  
B. 导致了“大跃进”运动  
C. 体现了“一边倒”方针  
D. 找到了符合国情的道路

31. 图 6 为 1975 年全国美术作品展览中的优秀作品《支农列车到山村》。该作品反映了

- A. “左”倾错误继续发展  
B. 以政治思想宣传作为主题  
C. 国家工业化得到发展  
D. “双百”方针得到重新贯彻



图 6

32. 柏拉图对民主痛恨到极点,但是对君主制或贵族制最为满意,他对民主的否定走向了另一个极端。柏拉图这一思想出现的主要原因是
- A. 商品经济的高度发达  
B. 人民对民主政治的不满  
C. 苏格拉底被判处死刑  
D. 民主制度弊端日益显露
33. 1780—1880 年,英国利用自身丰富的煤炭储备建立起世界上最具活力和最繁荣的经济体。到 1938 年,煤炭在英国能源结构中的比重更是达到了 97.7% 的历史峰值。这一“历史峰值”的出现可以说明,当时英国
- A. 国际竞争力下降  
B. 已经落后于时代潮流  
C. 渡过了经济危机  
D. 能源优势地位的巩固
34. 从 1988 年起,苏联领导人戈尔巴乔夫提倡把所谓的“民主化”“公开性”作为“改革”的主要内容。曾任苏联部长会议主席的雷日科夫多年后评论说,“戈尔巴乔夫并没有考虑到过渡阶段的复杂性”,“改革”的“这两个内容同几十年来根深蒂固的制度发生了冲突”。这一评论旨在强调
- A. 原有模式成为破坏改革的关键  
B. 社会矛盾复杂阻碍完成过渡  
C. 忽略国情埋下改革失败的隐患  
D. 个人原因导致整个国家解体
35. 2017 年,特朗普承认耶路撒冷为以色列首都。2018 年 5 月 15 日,设在耶路撒冷的美国驻以色列大使馆在当地时间 14 日举行开馆仪式,引发巴以冲突,造成 52 名巴勒斯坦抗议者死亡。2018 年 5 月 16 日,朝鲜宣布因韩美军演中止朝韩高级别会谈,半岛局势再起波澜。这些现象说明
- A. 地区动荡都是美国造成的  
B. 地区冲突本质是文明冲突  
C. 政治多极化促进和平发展  
D. 历史遗留问题要妥善处理



二、非选择题:共 160 分。

36. 阅读图文材料,完成下列要求。(24 分)

盲盒是消费者无法提前得知具体产品款式的玩具盒子。原创 IP(知识产权)与热门 IP 联名的能力是盲盒品牌的核心竞争力,创新营销和开辟新零售渠道也有利于提升品牌竞争力。总部设在北京的 P 公司是中国领先的潮流文化企业。目前该公司与国内外知名设计家合作推出的盲盒产品销售火爆。其中与美国迪士尼、环球影城等国际知名 IP 合作的产品收入超过了 11%。该公司还推出了具有新品发布、商品推荐及二手盲盒交换功能的网络社区平台。TGI(Target Grope Index)指数,是反映目标群体在特定研究范围(如地理区域、媒体受众、产品消费者)内强势或弱势的指数,TGI 指数与目标群体对产品的关注度呈正相关。图 7 为盲盒消费者 TGI 指数主要地域分布图。

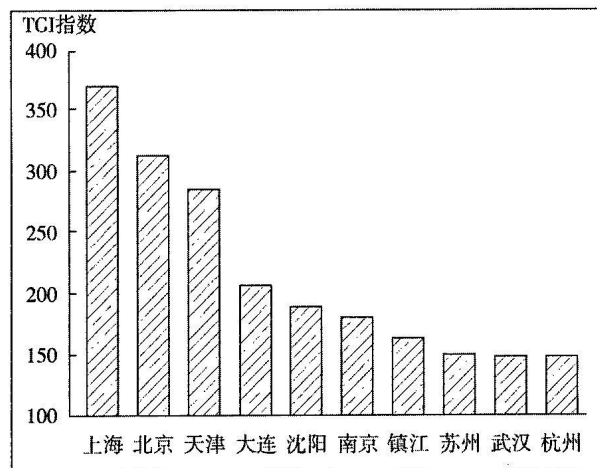


图 7

- (1)分析 P 公司总部设在北京的优势条件。(8 分)
- (2)推测盲盒的主要目标消费人群。(4 分)
- (3)举例说明上海盲盒自助售货机的布局地点及原因。(6 分)
- (4)学习 P 公司的成功经验,为提高我国文创产业的竞争力提出建议。(6 分)

37. 阅读图文资料,完成下列要求。(22分)

沙丘与湖泊共存是沙漠中的独特景观。与沙丘共存的湖泊多为地形低洼处的地下水出露而成。干旱的气候、丰富的地下水和盛行风向的改变,影响着沙丘和湖泊的演化。科学研究表明:新月形沙丘形成后,沙丘背风地带地面水平方向上出现风速差异,风速差异引起气压差异,风速与气压呈负相关。我国巴丹吉林沙漠中某湖泊经历了从月牙湖到双湖的演化过程:在阶段Ⅰ形成月牙湖,在阶段Ⅱ该湖所在地区气候曾一度极端干旱,新的新月形沙丘形成后,月牙湖演化为双湖。图8示意新月形沙丘形态及其背风地带地面水平风速分布,图9示意巴丹吉林沙漠某湖泊演化的不同阶段。

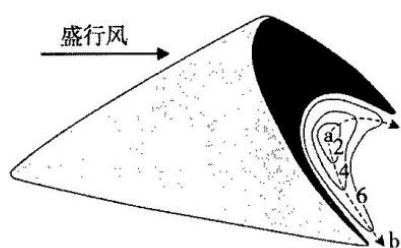


图8

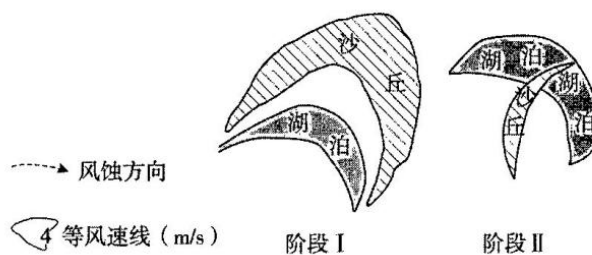


图9

- (1) 指出 a、b 间的风向并简析原因。(8分)
- (2) 分析阶段Ⅰ月牙湖形成的过程。(6分)
- (3) 从气候变化的角度,推测阶段Ⅱ月牙湖变成双湖的原因。(8分)



38. 阅读材料,完成下列要求。(10分)

农贸市场、生鲜超市、大卖场生鲜部等业态是生鲜食品流通的最后环节。随着农产品流通方式的变化(由农户—大型批发市场—农贸市场的二段式向农户—生鲜超市的单段式转变),2005年以来,武汉中心城区部分农贸市场向生鲜超市转型。

(1)简述武汉中心城区部分农贸市场向生鲜超市转型的原因。(6分)

(2)分析农贸市场向生鲜超市转型对农业产生的有利影响。(4分)

39. 阅读材料,完成下列要求。(6分)

青春孕育无限希望,青年创造美好明天。一个民族只有寄望青春、永葆青春,才能兴旺发达。

在中国共产党坚强领导下,全国各族人民万众一心、齐心协力,胜利实现了第一个百年奋斗目标,在中华大地上全面建成了小康社会,正在意气风发向着全面建成社会主义现代化强国的第二个百年奋斗目标迈进。

实现中国梦是一场历史接力赛,当代青年要在实现民族复兴的赛道上奋勇争先。时代总是把历史责任赋予青年。新时代的中国青年,生逢其时、重任在肩,施展才干的舞台无比广阔,实现梦想的前景无比光明。在庆祝中国共产党成立100周年大会上,共青团员、少先队员代表响亮喊出“请党放心、强国有我”的青春誓言。这是新时代中国青少年应有的样子,更是党的青年组织必须有的风貌。

“时代成就青年,青年当不负时代”。运用中国特色社会主义的知识,谈谈你对此观点的理解。

40. 阅读材料,完成下列要求。(14分)

材料一 近年来,随着互联网技术的进步和数字经济的发展,国际贸易发生了重大变革,跨境电商从无到有快速发展。跨境电商让“买全球、卖全球”的范围扩大。通过政策创新,更多国外的优质产品通过网购等方式进入国内市场。数据显示,跨境电商进口规模从2016年的39.3亿美元增加至2021年的170.9亿美元,增长3.3倍。同时,跨境电商企业通过打造要素集聚、反应快速的柔性供应链,更好地满足了海外消费者的个性化、定制化需求。

10年来,跨境电商的蓬勃发展,不仅丰富了国内市场供给、更好满足了人民对美好生活的需要,也为全球贸易投资注入了新动能。

材料二 至2020年年底,全国农村网商(店)达1520.5万家,综合示范带动农村就地创业就业3600万人,累计带动618.8万脱贫群众增收。

截至2021年6月,我国农村地区互联网普及率为59.2%,行政村通光纤和4G的比例均超过了99%,越来越多的乡亲享受到数字化带来的便利与实惠。

2020年,全国832个脱贫县已建设各类电商服务点超过10万个,农产品上行、工业品下行通道进一步畅通。人流、物流、资金流向脱贫地区延伸,促进一家一户小生产有效对接大市场,从“产什么卖什么”向“市场需要什么生产什么”转变。与此同时,商务部推动全国电子商务公共服务平台建设应用,开展惠民惠企行动,统筹电商平台、专业培训机构等多类服务资源,面向涉农主体在内的广大中小企业和个人,免费提供农村电商课程和相关服务等。

(1)结合材料一,运用当代国际政治与经济相关知识,分析我国跨境电商为世界各国发展提供了哪些机遇。(6分)

(2)结合材料二,运用经济与社会相关知识,说明我国是如何通过发展农村电商来助力农业农村现代化发展的。(8分)

41. 阅读材料,完成下列要求。(12分)

材料一 为贯彻落实党的十九届五中全会精神、《中华人民共和国国民经济和社会发展第十四个五年规划和2035年远景目标纲要》有关安排,按照国家和省政府统一部署,某省就渐进式延迟法定退休年龄改革召开多场征求意见座谈会,广泛听取人大代表、政协委员及管理人员、专业技术人员 and 职工等社会各界代表的意见和建议。

座谈会覆盖各类型单位,职工代表涵盖各类行业、各类岗位、各年龄段。在征求意见座谈过程中,参会代表普遍认为,实施渐进式延迟法定退休年龄改革,对应对人口老龄化、促进人力资源充分利用、推动经济社会协调发展具有重要性和必要性,并对实施渐进式延迟法定退休年龄的目标、改革节奏、弹性实施、配套措施等提出了意见和建议。

材料二 十三届全国人大常委会完成了对民事诉讼法的修改。本次民事诉讼法的修改主要涉及司法确认程序、小额诉讼的程序、简易程序等方面,明确了在线诉讼的法律效力、完善了电子送达等在线诉讼规则,使民事诉讼规则更好地适应社会生活的发展变化。

同时,本次修法还将司法确认程序适用范围扩展至依法设立的调解组织调解达成的调解协议,为党委领导下“三治融合”的社会多方解纷力量提供了有力的司法保障。本次修法高度重视当事人诉讼权利保障问题,在相关程序创新中均明确了权利保障条款。

- (1)有人认为,只要充分发扬民主就能实现国家治理现代化。结合材料一,运用政治与法治知识对此观点加以评析。(6分)
- (2)结合材料二,运用法律与生活的相关知识,分析本次民事诉讼法修改的重要意义。(6分)

42. 阅读材料,完成下列要求。(20分)

习近平总书记在文联十一大、中国作协十大开幕式上的讲话中指出:“‘登高使人心旷,临流使人意远。’广大文艺工作者要紧跟时代步伐,从时代的脉搏中感悟艺术的脉动,把艺术创造向着亿万人民的伟大奋斗敞开,向着丰富多彩的社会生活敞开,从时代之变、中国之进、人民之呼中提炼主题、萃取题材,展现中华历史之美、山河之美、文化之美,抒写中国人民奋斗之志、创造之力、发展之果,全方位全景式展现新时代的精神气象。”

文学艺术体现时代风貌,这不仅是中国文学艺术创作的优良传统,而且符合马克思主义文艺反映论。新民主主义革命时期,毛泽东继承和发展马克思主义文艺反映论,深入阐明文艺创作与社会生活的辩证关系,提出了文艺源于生活而又高于生活的观点:人民生活中本来存在着文学艺术原料的矿藏,这是自然形态的东西,是粗糙的东西,但也是最生动、最丰富、最基本的东西……它们是一切文学艺术取之不尽、用之不竭的唯一的源泉。

历史指针指向了新时代、新征程,舞台更广阔,使命更崇高。广大文艺工作者要深刻把握民族复兴的时代主题,把人生追求、艺术生命同国家前途、民族命运、人民愿望紧密结合起来,心系民族复兴伟业,热忱描绘新时代、新征程的恢宏气象。

- (1)结合材料,运用正确发挥主观能动性相关知识,说明如何才能使艺术创造既融于时代又超越时代,与时俱进。(6分)
- (2)结合材料,运用发展中国特色社会主义文化相关知识说明当代文艺工作者应如何紧跟时代步伐,展现新时代的精神气象。(6分)
- (3)结合材料,运用逻辑与思维中关于认识发展历程的知识,谈谈为什么新时代文艺工作者在不同的作品创作中要坚持面向人民生活。(4分)
- (4)在疫情防控过程中,涌现出无数感人事迹。作为青年学生,请你从“担当、奉献、青春”中任选主题,列举两条发言提纲,说明应从抗疫工作者身上学习哪些优秀品质。(4分)

43. 阅读材料,完成下列要求。(25分)

材料一 20世纪40年代,政府就职业官僚的“忠诚”问题进行了有针对性的调查,发现职业官僚不忠于国家和泄露政府机密的现象普遍存在。伴随着大战的结束和冷战时期的到来,从小罗斯福到艾森豪威尔,这一时期的许多总统都把职业官僚的“忠诚”问题当作政府行政改革的一项重要内容,并通过法律或总统行政命令的形式加以规定和确认。

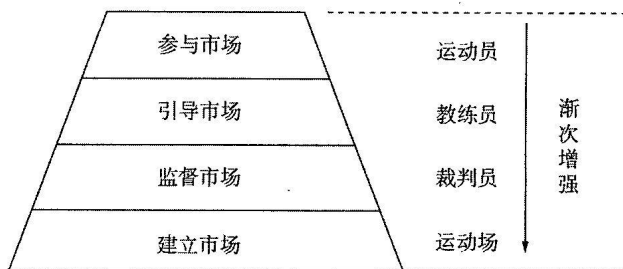
20世纪70—80年代,由于美国经济、政治和国际地位的衰退与下降,特别是由于以“水门事件”为代表的一系列政治丑闻的出现,使联邦政府陷入了全面危机。为了恢复人民对政府的信任,“道德政府”便成为这一时期联邦政府行政改革所追求的主要目标。

——摘编自石庆环《20世纪美国联邦政府行政改革的历史考察》

材料二 中国政府职能的转变与西方国家走过了截然不同的历程。改革开放后,中国政治结构和社会结构发生了深刻变化,先后进行了六次行政体制改革,对政府职能进行调整。1982—1998年以大幅精简机构和人员为改革的主题,政府职能的转变处于次要地位。2003—2008年,主要还是部门整合、职能归并,但是职能转变的重要性得到提升。2003年颁布实施的《行政许可法》,使政府职能转变呈现出法制化的趋势。2013年明确了政府职能改革的路径和突破口——行政审批制度改革,推进政府由“全能型”向“服务型”转变。

——摘编自青锋、张水海《我国政府职能转变的历史演进及法制特点》

材料三 图10为政府与市场关系图。



资料来源:薛澜,张帆. 欧美政府管理企业模式//成思危主编. 政府如何管理企业. 北京:民主与建设出版社,1998:53.

图 10

- (1) 根据材料一概括美国联邦政府在20世纪中期到20世纪70—80年代行政改革侧重点的主要变化,并结合所学知识分析这种变化发生的原因。(10分)
- (2) 根据材料一、二并结合所学知识,指出20世纪80年代以来中国政府行政职能转变历程的基本特点及主要原因。(10分)
- (3) 结合上述材料,谈谈你对转型期政府职能转变的认识。(5分)

44. 阅读材料,完成下列要求。(12分)

“路径依赖”理论是由美国经济学家道格拉斯·诺斯提出来的,认为制度选择与运行一旦进入某一路径(无论是“好”是“坏”)就可能对这种路径产生依赖,并在以后发展中得到自我加强,既可能进入良性循环的轨道并迅速优化,也可能陷入制度无效率状态而不能自拔。

——[美]保罗·戴维《技术选择、创新和经济增长》

根据上述材料,结合英国、苏联和中国的现代化建设历程,谈谈你对“路径依赖”理论的认识。(要求:观点明确,史实准确,论证充分,表述清晰。)

45. 阅读材料,回答下列要求。(15分)

材料一 马克思(1818—1883年)在研究殖民主义问题时曾提出:“英国在印度要完成双重的使命:一个是破坏性的使命,即消灭旧的亚洲式的社会;另一个是建设性的使命,即在亚洲为西方式的社会奠定物质基础。”……西方学者通常援引此观点,认为:殖民主义为殖民地人民带来了西式文明,促进了落后国家和地区向世界先进地区靠拢……所有对东方“野蛮”“专制”“未开化”等描述,无不导致了一个结论:东方需要西方来拯救。

——摘编自于志伟《列宁殖民地理论研究》

材料二 在印度民族大起义、法国巴黎公社运动等的影响下,马克思在晚年纠正了其对不列颠殖民主义的看法,对殖民主义在印度的历史作用进行了重新分析,深刻批驳了殖民统治在东方国家造成的沉重灾难。

——摘编自李包庚、刘云霞《马克思对大不列颠殖民主义的批判及其时代意义》

(1)根据材料一,分别概括马克思与西方学者对殖民主义的认识,并分析其认识的视角。

(6分)

(2)根据材料二,概括马克思对殖民主义的新认识。结合所学知识,说明认识变化的原因。

(9分)



## 关于我们

自主选拔在线是致力于提供新高考生涯规划、强基计划、综合评价、三位一体、学科竞赛等政策资讯的升学服务平台。总部坐落于北京，旗下拥有网站（[网址: www.zizzs.com](http://www.zizzs.com)）和微信公众平台等媒体矩阵，用户群体涵盖全国 90% 以上的重点中学师生及家长，在全国新高考、自主选拔领域首屈一指。

如需第一时间获取相关资讯及备考指南，请关注**自主选拔在线**官方微信信号：**zizzsw**。

