

2023 届高三二轮复习联考(三)

历史试题

注意事项:

- 1.答卷前,考生务必将自己的姓名、考场号、座位号、准考证号填写在答题卡上。
- 2.回答选择题时,选出每小题答案后,用铅笔把答题卡上对应题目的答案标号涂黑。如需改动,用橡皮擦干净后,再选涂其他答案标号。回答非选择题时,将答案写在答题卡上。写在本试卷上无效。
- 3.考试结束后,将本试卷和答题卡一并交回。

考试时间为 90 分钟,满分 100 分

一、选择题:本题共 15 小题,每小题 3 分,共 45 分。每小题给出的四个选项中,只有一项是符合题目要求的。

1.他认为音乐的本质是表现“民之常性”,故他的音乐美学观点表现为“法天贵真”。法天贵真的音乐就是合乎人的自然情性、自由抒发人的情性的音乐。这一思想曾极大地影响了嵇康、李贽。材料中的“他”是

A.孟子 B.墨子 C.庄子 D.韩非子

2.西汉高祖时“诸侯皆赋”,“(王国)置丞相,黄金印”。景帝时,“(王国)去丞相曰‘相’,银印,诸侯独得食租税”。这一转变旨在

A.削弱丞相权力 B.加强中央集权
C.完善官僚政治 D.实施“推恩令”

3.据《蜀堰记》记载,顺帝至正元年(1341年)重修都江堰,效果很好,修堰之前,“常岁获水之用仅数月,堰辄坏。今虽缘渠所置雄磴纺绩(借助水力推动的捣米器具和纺车)之处以千万数,四时流转而无穷”。这表明,都江堰的重修

A.有利于古代水力机械的推广 B.巩固了官营手工业的技术优势
C.促成手工业领域的技术革新 D.推动了中国南北经济均衡发展

4.清代规定:“满洲、蒙古尚书以下,司官、小京官以上,亲伯叔兄弟同衙门者,令官小者回避。……祖孙父子,均令子孙回避。……汉官在京部院祖孙父子亲叔伯兄弟回避之例,与满洲蒙古同。”清政府此举主要是为了

A.维护等级制度 B.学习汉族文化
C.加强官员管理 D.消除民族隔阂

5.19世纪60年代,为解决生源问题,清政府规定同文馆的学生可以拿薪水。开始年薪为36两银子,后又提高到120两,最高时达到140两。当时七品官年薪才45两,五品官也不过80两上下。这从侧面深刻反映了

A.科举制度渐趋衰落 B.官办学校待遇较高
C.洋务运动成效显著 D.传统思想根深蒂固

6.清末,东北地区的大豆及大豆制品在未建铁路时出口量不多,1890年输出总值为白银37万两,自有了铁路后,大豆及大豆制品输出总值逐年增加,1900年达白银547万两,1910年达白银3669万两。这说明,铁路在当时

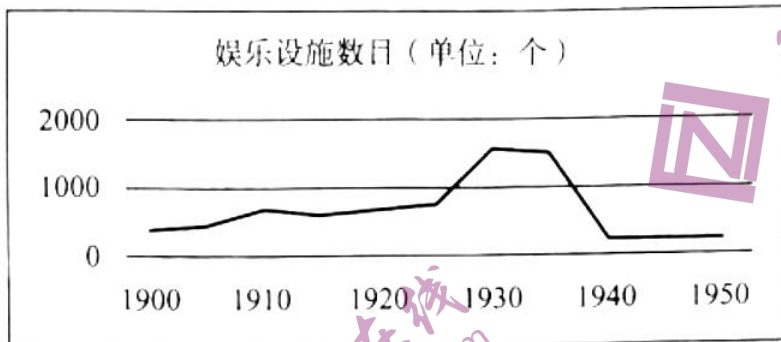
A.促进了农产品的商品化 B.改变了农业的产业布局
C.导致了传统农业的衰落 D.丰富了出口货物的种类

7.民国时期,上海某百货公司曾在报纸上刊文称:“鄙公司虽系统办全球货品,然宗旨首重国货,欧美货次之,日货则仅供市上之所需求耳。”不过,由于抵制日货的声浪如排山倒海而来,该公司只好再度声明:概将日本货品“完全收束不卖,宁愿牺牲血本,以示与众共弃

之决心。”该公司态度变化源于

- A.实业救国思潮的兴起 B.爱国救亡运动的影响
C.南京临时政府的压力 D.国民革命运动的推动

8.下图为 20 世纪上半期上海近代文化娱乐设施数量曲线图。影响这一时期上海娱乐设施数目变化的主要因素是



- A.人口数量的增减 B.民族工业的发展
C.政治局势的变化 D.租界面积的大小

9.1955 年,毛泽东说:“我们……所钻研的,是钻社会主义工业化……并且开始要钻原子能……”;1963 年,他又指出“科学技术这一仗,一定要打,而且必须打好。……不搞科学技术,生产力无法提高”。这表明毛泽东

- A.对科学技术重要性的认识不断深化 B.看到了参与国际科技竞争的重要性
C.主张科技成果由军用逐步转为民用 D.认为“一五”计划要为科技现代化服务

10.下图为公元前 13 世纪的埃及壁画。这反映了当时埃及



- A.农耕生活的基本场景 B.社会分工的进一步细化
C.男耕女织的小农家庭 D.畜牧业经营方式的变革

11.这一时期,他们对宗教秉持着一种以理性改之的态度,开始摆脱宫廷、教会进行创作,对于某些基督教神学的荒谬、教会因迷恋权力而导致的堕落以及因人民的盲从与轻信而仍然影响人民生活的有害权力予以讽刺和抨击。材料中的“他们”可能包括

- A.但丁 B.马丁·路德
C.哥白尼 D.休谟

12.1849—1870 年,英国第三级铁路客运(为下层人民提供运输服务)人数增长了 6 倍,而其他两级客运人数只增长了 4 倍。1846—1870 年,第三级客运人数的比重由不足一半提高到 65%,而客运收入的比重则由不足 20%提高到 44%。这表明铁路客运

- A.促进了城乡经济的一体化 B.实现了交通运输的商业化

C.推动了社会观念的平等化 D.加速了交通服务的大众化


13.20 世纪 20 年代，苏共领导人哈布林指出：为了使社会再生产和社会主义不断增长尽可能有利地进行，从而达到对无产阶级尽可能有利的国内阶级力量对比，必然力求把国民经济各种基本成分尽可能正确地结合起来。这一思想

- A.受到了计划经济体制的影响
- B.其重心是调整国家与农民的关系
- C.旨在弥补新经济政策的不足
- D.进一步完善了社会主义市场经济

14.1977 年，有西方学者曾指出：图书馆将逐渐消亡，它的历史使命已经完成。这一观点

- A.看到了技术革命对社会生活的影响
- B.体现了对西方传统文化衰落的担忧
- C.指出工业化造成了精神世界的空虚
- D.反映了现代科技与传统社会的矛盾

15.下图为 2018 年加拿大讽刺特朗普的漫画，以反对美国对加拿大等盟友的进口钢铁和铝分别征收 25%及 10%的高关税。据此可知

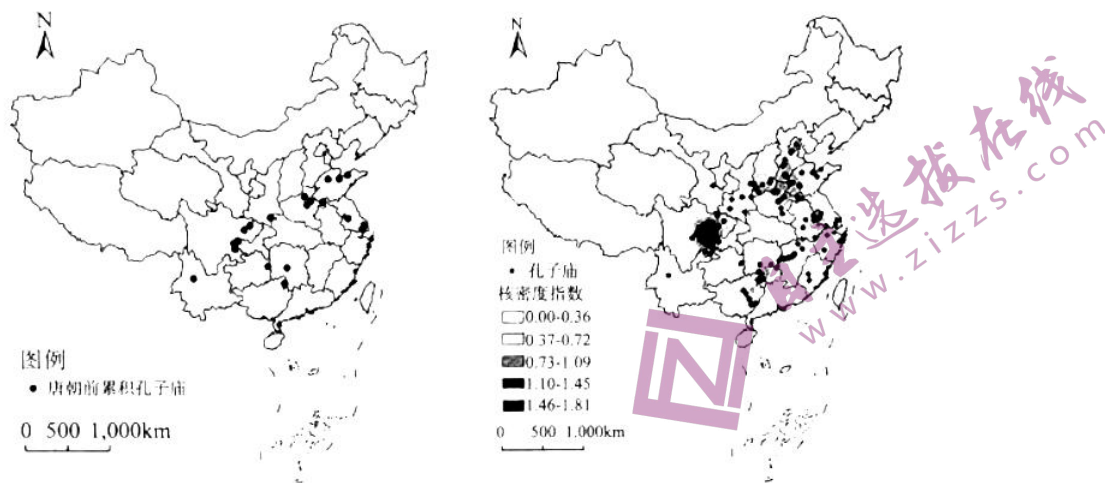


- A.霸权主义导致资本主义阵营的动荡
- B.经济危机使多极化趋势放缓
- C.单边主义易加重“逆全球化”现象
- D.经济全球化使单极世界解体

二、非选择题：本题共 4 小题，共 55 分。

16.(14 分)阅读材料，回答问题。

材料



唐朝以前中国孔子庙空间分布格局

唐朝中国孔子庙空间分布格局

——摘编自李梦羽《中国孔子庙空间分布特征研究》

- (1) 根据材料并结合所学，分别说明推动和阻碍汉至南北朝时期孔子庙修建的因素。(4分)
 (2) 根据材料指出唐朝孔子庙分布的变化，并分析其原因。(10分)

17.(14分)阅读材料，回答问题。

材料

晚清时期，画报画刊作为“图文并茂”的新式媒介开始出现，以下为其发展历程简表。

时期	阶段	概况
1872—1883	发轫期	教会画报画刊独步天下，如《画图新报》就以宣传基督教义为主，兼及科学知识介绍
1884—1899	兴起期	创办主体逐渐向国人自办转变，一系列丧权辱国的事件使国内各阶层不断掀起反帝反封建的浪潮，画报画刊更以独特的图像叙事方式深受人们欢迎

(续表)

时期	阶段	概况
1900—1904	发展期	“刊载国内外时事、揭露帝国主义侵略、介绍西方科学技术知识”成为画报画刊宣传的主流。部分画报画刊为吸引读者、扩大发行量,颇为重视编辑业务的改革,如1904年商务印书馆出版的《东方杂志》经常选登官办或民办报刊上的新闻讯息,留下了回看历史场景的珍贵影像资料
1905—1911	鼎盛期	共创刊93种,占晚清画报画刊出版总数的73.8%;除政治中心北京外,主要集中在上海、广州等南方沿海沿江城市,其中上海最为抢眼有72种,占晚清画报画刊出版总数的57.1%。各政治派别不断创办画报画刊作为宣传其主张、形象的代言平台,如1905年留日学生创办的《醒狮》、汉口黄陂街昌明公司发行的《不缠足画报》等。此外,还有些跳出“政治圈”的画报画刊,如劝募赈灾的《图画灾民录》、专注知识介绍的《科学画报》、文化遗产保护的《中国名画》等

——摘编自任谢元《晚清时期画报画刊出版的历程、特点及影响》

根据材料及所学,谈谈你对晚清时期画报画刊出版这一历史现象的认识。

18.(12分) 阅读材料,回答问题。

材料

1968年12月,我从北京理工大学毕业,被分配到重庆市国营晋林机械厂工作,开始了长达29年的三线生涯。重庆三线建设的重点是建设以重庆为中心的常规兵器工业基地,共有26个项目并扩展到周围的14个区县共46个企业和8个科研、学校等单位,累计投资15.23亿元。我所在的工厂即是第一阶段率先启动的“三炮一光”计划中的一个火炮厂,由山西太原老厂包建。……三线建设修通了川黔、襄渝两条铁路干线,使重庆成为成渝、川黔襄渝三条铁路的枢纽;重点建设了西南铝加工厂、四川汽车制造厂等34个大中型项目。

1983年12月3日,国务院下达了关于成立三线建设调整改造规划办公室的通知。1984年1月22日至26日,我参加了国务院三线办公室第一次成员会议。会议指出,三线企业的调整改造,必须从国民经济发展的全局出发,合理配置生产力,促进专业化协作。

——摘编自陈宏逵《我所知道的三线建设和三线调整》

结合材料及所学,对作者的“三线生涯”进行历史阐释。(要求:观点明确,持论有据,论述充分,逻辑清晰。)

19.(15分) 阅读材料,回答问题。

材料一

英国在加纳是通过“分而治之”和“间接统治”的方法进行殖民统治的。这使一些酋长和知识分子认为通过合法的途径就能够使他们争取到民族的自决权。二战后加纳的独立就是在恩克鲁玛为首的民族主义政党领导下实现的。曾指出“印度和加纳的独立斗争有许多共同的特点”的恩克鲁玛在独立运动之初指出“现在有两种方法可以实现自治,一个是用武装革命的方法,另一个是采用合乎宪法和法律的暴力方法。……我赞成采用后一种方法。”

——摘编自张象《论加纳独立的道路》

材料二

1957—1966年,美国艾森豪威尔、肯尼迪、约翰逊三届政府对撒哈拉以南非洲第一个独立的国家加纳采取了一系列政策。

政府	政策
艾森豪威尔政府 (1952—1960)	1957年加纳举行独立庆典时,副总统尼克松亲自参加,说“艾森豪威尔主义”并不局限于“传统意义上的”中东地区,他把其政策称为“民主生活方式”的扩展。在经济上,向加纳提供援助,促进美国资本流入加纳。
肯尼迪政府 (1960—1963)	由于苏联同加纳积极发展关系,美国加大了金元外交的力度。在政治上,肯尼迪政府也提高了对加纳领导人恩克鲁玛的重视程度,如亲临机场迎接等。针对苏联同加纳签订的文化协定,美国通过医疗“援助”等方式加强了对加纳的吸引力和控制力。
约翰逊政府 (1963—1969)	美加关系恶化。看到加纳并不屈服于美国的压力,中央情报局于1966年2月24日策划并发动了政变,推翻了恩克鲁玛政府。经过这场斗争,美国在同苏联争夺加纳的较量中,再次占据了上风。

——摘编自王江《冷战时期美国对加纳的政策(1957—1966年)》

- (1) 根据材料一并结合所学知识,分析恩克鲁玛“赞成采用后一种方法”的原因。(6分)
- (2) 根据材料二并结合所学知识,以“1957—1966年美国的对加政策”为主题写一则历史小短文。(9分)(要求:观点明确,史论结合,叙述成文。)

关于我们

自主选拔在线是致力于提供新高考生涯规划、强基计划、综合评价、三位一体、学科竞赛等政策资讯的升学服务平台。总部坐落于北京，旗下拥有网站（[网址: www.zizzs.com](http://www.zizzs.com)）和微信公众平台等媒体矩阵，用户群体涵盖全国90%以上的重点中学师生及家长，在全国新高考、自主选拔领域首屈一指。

如需第一时间获取相关资讯及备考指南，请关注**自主选拔在线**官方微信号：**zizzsw**。



微信搜一搜

自主选拔在线