

# 高三文科综合

## 考生注意：

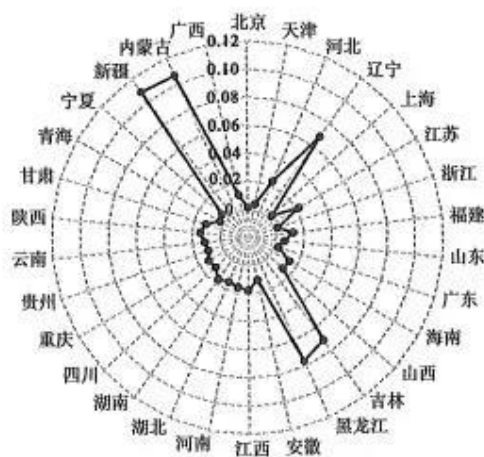
1. 本试卷分选择题和非选择题两部分。满分 300 分，考试时间 150 分钟。
2. 答题前，考生务必用直径 0.5 毫米黑色墨水签字笔将密封线内项目填写清楚。
3. 考生作答时，请将答案答在答题卡上。选择题每小题选出答案后，用 2B 铅笔把答题卡上对应题目的答案标号涂黑；非选择题请用直径 0.5 毫米黑色墨水签字笔在答题卡上各题的答题区域内作答，超出答题区域书写的答案无效，在试题卷、草稿纸上作答无效。
4. 本卷命题范围：高考范围。

一、选择题：本题共 35 小题，每小题 4 分，共 140 分。在每小题给出的四个选项中，只有一项是符合题目要求的。

为保障我国粮食安全，我国一直坚持耕地资源保有量为 18 亿亩的红线。进入到 2020 年后，在新版的《土地管理法》中，国家严格实施占用耕地补偿制度，非农业建设经批准占用耕地的，按照“占多少，垦多少”的原则，由占用耕地的单位负责开垦与所占用耕地的数量和质量相当的耕地。据此完成 1~2 题。

1. 推测按照“占多少，垦多少”的原则，对保护耕地发挥效应最大的地区是
  - A. 国营农场
  - B. 中心城区
  - C. 偏远山区
  - D. 远郊区
2. 我国东南丘陵地区在严格执行占用耕地补偿制度过程中，需要特别注意的问题是
  - A. 水土流失加剧
  - B. 人口外流增加
  - C. 城乡差距变大
  - D. 土地沙化加剧

工业水资源投入拥塞，是指工业生产的经济效益会在水资源投入量不断提高的过程中出现与之相反的变化。研究发现，我国 30 个省区（未含西藏、港澳台）工业水资源投入普遍存在拥塞效应。下图示意 2000~2018 年我国 30 个省区工业水资源投入拥塞水平状况（数值越大，表明拥塞效应越大）。据此完成 3~5 题。

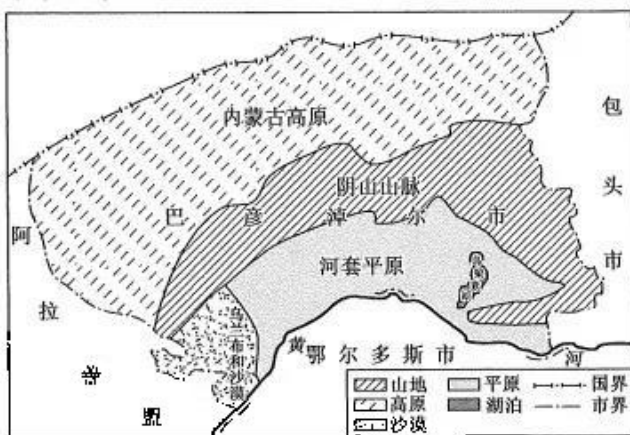


3. 我国 30 个省区工业水资源投入拥塞水平的空间差异表现为
  - A. 各省区之间拥塞水平差异小
  - B. 水能丰富省区拥塞水平很低
  - C. 老工业基地的拥塞水平较低
  - D. 浙鲁粤拥塞水平低于云贵川

【高三 1 月质量检测·文综 第 1 页(共 12 页)】

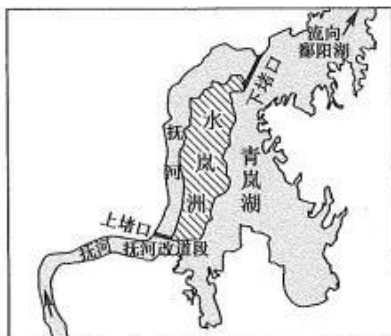
4. 我国 30 个省区工业水资源投入拥塞水平差异的形成,关键在于
- A. 资源分布差异显著  
B. 降水时空分布不均  
C. 投入要素结构失衡  
D. 人口回流现象明显
5. 为了改善我国 30 个省区工业水资源投入拥塞状况,可采取的合理措施有
- ①更新工业设备,提高工业用水效率 ②分散工业布局,降低水资源梯级利用 ③缩小工业规模,减少工业用水量 ④优化产业结构,发展高新技术产业
- A. ①②  
B. ②③  
C. ①④  
D. ③④

巴彦淖尔市位于内蒙古西部,地处阴山山脉、黄河和乌兰布和沙漠结合处,具有非常特殊的地质和地理特征。下图示意巴彦淖尔市地貌分布。研究显示,阴山山脉属古老的断块山,其在晚生代造山运动中隆起并带来一系列的地质变化。乌兰布和沙漠腹地曾发育面积较大的湖泊群,后来随着自然条件变化,这些湖泊群逐渐演变消失在沙漠中。据此完成 6~8 题。



6. 巴彦淖尔市
- A. 可发展边境贸易  
B. 地势起伏较小  
C. 不受夏季风影响  
D. 水能资源丰富
7. 阴山山脉在晚生代造山运动中隆起并带来一系列的地质变化,主要包括
- A. 河套平原断裂抬升  
B. 阴山南北两坡不对称  
C. 碎屑物质来源减少  
D. 阴山南部多为内流河
8. 乌兰布和沙漠腹地湖泊群演变为沙漠的过程中
- ①东南季风影响增大 ②地面松散物质增多 ③风力作用影响增强 ④流水作用影响增强
- A. ①②  
B. ②③  
C. ①④  
D. ③④

抚河发源于武夷山脉西麓血木岭,全长 312 千米,流域面积 15 811 平方千米,是鄱阳湖水系的主要河流,其下游拟开挖新河道入青岚湖,经青岚湖入鄱阳湖。抚河改道后,青岚湖将由原来的高水位倒灌型湖泊变为过水性湖泊。模拟试验发现,改道对泥沙搬运和青岚湖淤积有较大影响,改道 150 年时,青岚湖淤积基本达到平衡,泥沙在湖内淤积明显减少,且继续向下游输送。下图示意抚河拟改道模型及青岚湖位置。据此完成 9~11 题。



【高三 1 月质量检测·文综 第 2 页(共 12 页)】



9. 抚河下游拟开挖新河道入青岚湖,主要是因为该河下游
- A. 无支流汇入  
B. 排水不畅  
C. 多地质灾害  
D. 凌汛多发
10. 抚河改道后,将导致改道口以上河段
- A. 水位升高,流速减缓  
B. 水位升高,流速增加  
C. 水位降低,流速减缓  
D. 水位降低,流速增加
11. 据模拟试验,改道 150 年时,青岚湖可能
- A. 下蚀增强  
B. 整体抬升  
C. 淤积消失  
D. 面积扩大
12. 2021 年 11 月,国家发改委价格司会同价格成本调查中心赴中国煤炭工业协会开展调研,就建立健全煤炭生产流通成本调查制度召开座谈会,听取协会及相关企业意见建议。建立煤炭生产流通成本调查制度有利于
- A. 促使煤炭价格转向由市场决定  
B. 完善煤炭市场价格形成的机制  
C. 增加全国煤炭产量和市场供应  
D. 缓解煤炭市场供应紧张的局势
13. M 省多渠道吸引市场力量和社会资本参与城镇老旧小区改造,通过“利益共享”,推行“改造+运营+物业”模式,提升老旧小区改造收益、提供专业化物业服务方式、鼓励市场力量和社会资本作为实施主体等方式参与改造。建立共谋、共建、共管、共评、共享的城镇老旧小区改造良性循环新机制。该省的以上做法旨在
- ①拓宽城镇老旧小区改造的融资渠道 ②发挥好市场对公共物品的配置作用 ③创新机制激发老旧小区改造的活力 ④降低市场准入门槛以凝聚发展合力
- A. ①③  
B. ①④  
C. ②③  
D. ②④
14. 2021 年 11 月,中国银保监会发布新修订的《保险集团公司监督管理办法》。本次新修订内容包括:加强保险集团公司治理监管、强化保险集团风险管理,完善非保险子公司监管、系统完善保险集团监管要求等。以上修订内容的意义在于
- ①降低保险企业运营成本,保障投保人收益安全稳定 ②防范保险集团经营风险,促进金融保险业健康发展 ③规范保险业经营行为,提升保险集团公司治理能力 ④扩大保险公司业务范围,提高保险业的市場影响率
- A. ①②  
B. ①④  
C. ②③  
D. ③④
15. 党的十八大以来,我国持续实施减税降费政策,着力用政府收入的“减法”,来换取企业效益的“加法”和市场活力的“乘法”,放水养鱼,固本培元。国家税务总局最新公布的数据显示,2021 年前三季度,全国新增减税降费 9 101 亿元,其中新增减税 7 889 亿元,新增降费 1 212 亿元。下列举措与这一政策相符合的有
- ①全面推进营业税改征增值税试点工作 ②持续下调小型微利企业所得税免征额 ③加大对各类违规涉企收费的查处力度 ④优化企业研发费用预缴加计扣除政策
- A. ①②  
B. ①④  
C. ②③  
D. ③④
16. 某村将“清单制”引入乡村治理,探索出了村级小微权力清单、承担事项清单、公共服务清单等做法,将基层管理服务事项以及农民群众关心关注的事务细化为清单,编制操作流程,明确办理要求,建立监督评价机制,取得了良好效果。该地的举措可以
- ①优化村级组织结构,扩大群众政治参与 ②补齐公共服务短板,提升便民服务质量 ③规范村级事务管理,提升乡村治理效能 ④厘清基层政权边界,激发基层自治活力
- A. ①②  
B. ①④  
C. ②③  
D. ③④
17. 2021 年某省积极创新异地就医定点、备案、结算等工作机制,不断简化优化服务流程,推动全省异地就医结算工作走上快速道。截至 2021 年 10 月底,该省已经有 235 家定点医院实现住院费用跨省直接结算,门诊费用直接结算定点医院 201 家。该省以上做法

【高三 1 月质量检测·文综 第 3 页(共 12 页)】



- ①能够提高公共服务效能,便利群众就近就医 ②表明全省医疗机构利益共享,绩效共进共退 ③可以健全医疗服务体系,塑造政府良好形象 ④意在规范定点医疗机构行为,守护人民健康
- A. ①③ B. ①④ C. ②③ D. ②④
18. 自 2021 年 8 月十三届全国人大常委会通过关于修改人口与计划生育法的决定以来,我国各地相继启动地方人口与计划生育条例修改工作。据不完全统计,截至 2021 年 11 月 28 日,全国已有 20 多个省份完成人口与计划生育修法或启动修法,其中“延长产假”“增设育儿假”“发补贴”等成为高频词。由此可见
- ①全国人大常委会依法监督法律的实施 ②地方各级人大是全国人大的执行机关 ③地方法规必须与国家相关法律相承接 ④我国持续提升社会治理的法治化水平
- A. ①② B. ①③ C. ②④ D. ③④
19. 我国非物质文化遗产项目——蒙镶制作工艺,是通过金属的锤敲、篆刻、花雕编织、镶嵌宝石等形成的一套综合处理工艺手法。这项技艺涉及一个综合类学科,需要融通美术、绘画、金属特性、化学等知识。现在越来越多的国内外人士喜欢上了蒙镶作品并学习蒙镶制作技艺,立志传承蒙镶文化。传承这项工艺有利于
- ①培育综合思维,确立综合类学科的学术地位 ②以中华优秀传统文化浸润滋养当代工匠精神 ③坚定文化自信,推动各国普遍认同中华文化 ④研究人类文明的演进,展示世界文化多样性
- A. ①③ B. ①④ C. ②③ D. ②④
20. 2021 年国庆期间,以抗美援朝战争第二次战役中的长津湖战役为背景的电影《长津湖》引发观影热潮,并打破多项中国影史票房纪录。制作方博纳影业始终坚持“主旋律+致敬”的特色主旋律模式,取得良好社会反响。八一电影制片厂对红色题材尤其是战争片的摄制,在中国影坛独树一帜。这对文艺创作的启示有
- ①文艺作品尽量选用经典红色题材 ②顺应时代需要,弘扬爱国主旋律 ③赋予中国传统文化新的时代内涵 ④强化社会主义核心价值观的引领
- A. ①② B. ①③ C. ②④ D. ③④
21. 漫画给我们的哲学启示是
- A. 树立实践第一观点  
B. 警惕冒险蛮干行为  
C. 反对主观教条主义  
D. 按照客观规律办事
22. 2021 年 11 月,习近平在致首届中国网络文明大会的贺信中强调,各级党委和政府要担当责任,网络平台、社会组织、广大网民等要发挥积极作用,共同推进文明办网、文明用网、文明上网,以时代新风塑造和净化网络空间,共建网上美好精神家园。材料启示我们
- ①部分影响甚至决定整体功能发挥 ②立足于整体才能选择出最佳方案 ③部分的性能状态事关整体的功能 ④要发挥好局部对整体的促进作用
- A. ①② B. ①④ C. ②③ D. ③④
23. “汉语盘点”活动一直坚持用字词勾勒年度热点,浓缩时代精神。11 月 19 日,“汉语盘点 2021”活动在北京启动。主办方推荐的国内、国际词有:双减、建党百年、神舟十三号、碳中和、德尔塔等。清华大学沈教授作为“汉语盘点”活动的评议专家,推荐了“治、离、元宇宙”等年度字词。可见
- ①社会意识能动地反映社会存在 ②社会意识来自生活并高于生活 ③人的价值选择具有主体差异性 ④思想价值观念需保持与时俱进
- A. ①② B. ①③ C. ②④ D. ③④
24. 战国时期的变法运动中,魏国李悝主张“食有劳而禄有功”;楚国吴起主张“使封君之子孙三世而收其爵禄”;秦国商鞅主张“有功者显荣,无功者虽富无所芬华”等等。据此可知,这些变法运动



- A. 加强了中央集权统治  
B. 助推了官僚政治的形成  
C. 巩固了宗法与分封制  
D. 确立了封建土地私有制

25. 下图是汉代灌溉区分布示意图。据此可知,当时



- A. 农本观念在中原地区影响深厚  
B. 农业区的分布取决于水利工程兴修  
C. 翻车的使用推动农业灌溉发展  
D. 以中原为重心的经济格局开始形成

26. 唐代,朝廷把漕运重点逐渐放在南方,漕运线路也由秦汉时期的东西向转变为东南、西北向;元、明、清三朝,漕运线路则转变为南北方向。漕运线路的上述变化

- A. 是政治中心与经济重心变迁的结果  
B. 表明政策推动了长途贩运的形成  
C. 促进历代政府的财政收入持续增长  
D. 折射出新的经济因素在发展壮大

27. 明末清初,王夫之建立了以务实、主动、重行、思变为特征的哲学体系,以及反对“私天下”“存理灭欲”为核心的早期启蒙学说,学术重心也由“体”转向“文”和“用”。王夫之的思想和追求

- A. 受到了欧洲启蒙思想的影响  
B. 体现出儒家倡导的时代担当精神  
C. 改变了知识分子的价值取向  
D. 打破了程朱理学的正统思想地位

28. 明清时期,苏州有所谓“天下四聚”之一的称号,南北货物运至苏州后集散到长三角各地;而到了19世纪六七十年代,却是“小贾收买交大贾,大贾载入申江(黄浦江)界。申江鬼国正通商,繁华富丽压苏杭”。出现这一变化的主要原因是

- A. 中西贸易的扩大  
B. 农民运动的冲击  
C. 江南经济的衰退  
D. 民族工业的兴起

29. 下表为20世纪30年代不同政治力量关于五四运动的部分观点。据此可知

政治力量	主要观点
国民党	五四运动是“本党数年来植于社会大革命思想所促成的救国救民的运动”;五四运动使多数青年“不求实学,徒事奔走示威”,要求学生“专心求学,努力教育建设”
资产阶级激进派	一再将“五四运动”阐释为中国的“文艺复兴”
共产党	五四运动是反帝反封建的运动,是中国新民主主义革命的开端,开辟了知识分子与工农群众相结合的新方向

- A. 五四运动改变了中国革命性质  
B. 历史解释需要不断被重构完善  
C. 研究者的立场决定其历史认知  
D. 五四运动使民族意识开始觉醒

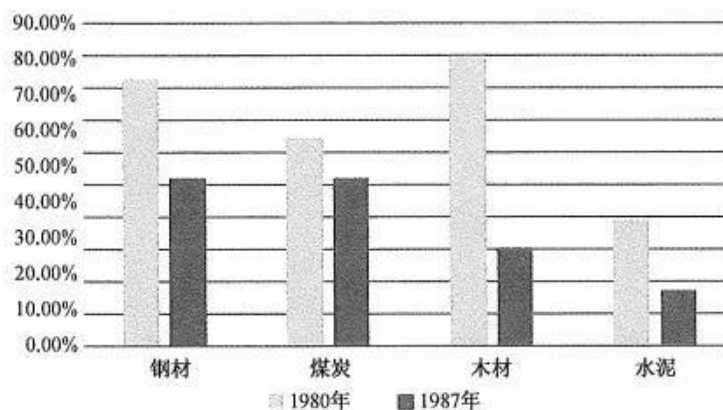
30. 毛泽东在《论联合政府》中强调:“没有一个由共产党领导的新式的资产阶级性质的彻底的民主革命,要想在殖民地半殖民地半封建的废墟上建立起社会主义社会来,那只是完全的空想”。毛泽东旨在

- A. 重申走农村包围城市的革命道路  
B. 批评资产阶级革命的不彻底性  
C. 阐明建立社会主义制度的迫切性  
D. 强调新民主主义革命的必要性

【高三1月质量检测·文综 第5页(共12页)】



31. 下图是 20 世纪 80 年代我国重要原材料统配变化情况。据此可知,这一时期我国



- A. 经济结构得到持续优化  
B. 市场消费需求快速扩张  
C. 经济体制改革目标确立  
D. 生产流通渠道呈多元化

32. 下表为一学者对罗马法发展状况的相关说明。这一状况

类别	具体内容
法律渊源	习惯法、军伍大会、平民大会以及元老院决议,还包括能够迅速因应现实社会发展的裁判官法及皇帝敕令
创制主体	军伍大会、地区大会、平民大会及元老院等立法机构,裁判官、法学家等
创制方式	既有对习惯法的认可,又有制定成文法的模式,同时还一定范围内维持着“法官造法”的模式,皇帝的敕令也成为法律得以形成的途径

- A. 推动了罗马帝国的形成  
B. 不利于罗马法体系的建立  
C. 体现了罗马法的随意性  
D. 利于增强罗马法的适应性

33. 下图是漫画《宗教改革》,画面中教皇愤怒撕下贴在教堂门口的《九十五条论纲》,而站在其对面的马丁·路德投以胜利者的目光与神情。该漫画反映出宗教改革



- A. 源于教会腐朽统治  
B. 旨在变革现行政体  
C. 解放了人们的思想  
D. 倡导宗教信仰自由

34. 被誉为“现代经济学之父”的英国经济学家亚当·斯密认为,社会上每个资本富余的人都在不断地努力,为自己所能支配的资本找到最有利的用途。他所考虑的永远是自身的利益,“但他对自身利益的研究自然会,或者毋宁说必然会引导他选定最有利于社会的用途。”据此可知,亚当·斯密意在

- A. 认可重商主义的经济政策  
B. 否定马克思主义的剩余价值学说  
C. 倡导自由主义的经济思想  
D. 肯定国家干预对经济的重要作用

35. 在 20 世纪 60 年代,肯尼迪总统的“新边疆”政策体系中有一项举措颇为引人注目,即向第三世界国家派遣以技术人员、教师为主的和平队计划。对肯尼迪及美国文化而言,第三世界是亟待探索的“新边

【高三 1 月质量检测·文综 第 6 页(共 12 页)】

疆”的象征。据此可知,肯尼迪提出和平队计划旨在

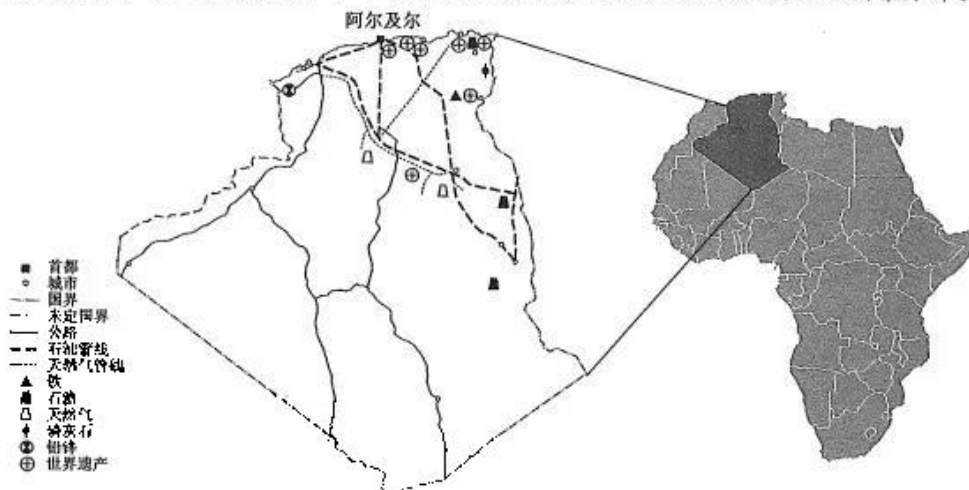
- A. 展示美国强大的政治经济实力  
B. 与苏联争夺中间地带  
C. 争取国内贫困选民的政治支持  
D. 转移冷战的战略重心

二、非选择题:共 160 分。第 36~42 题为必考题,每个试题考生都必须作答。第 43~47 题为选考题,考生根据要求作答。

(一)必考题:共 135 分。

36. 阅读图文材料,完成下列要求。(22 分)

阿尔及利亚位于非洲西北部,海岸线长约 1 200 千米,是非洲面积最大的国家,总人口 4 300 多万,油气等矿产资源丰富。多年以来,阿尔及利亚积极扩大对外开放,目前经济规模处于非洲前列,但是农业发展缓慢,粮食主要依赖进口。下图示意阿尔及利亚地理位置及该国地理要素分布。

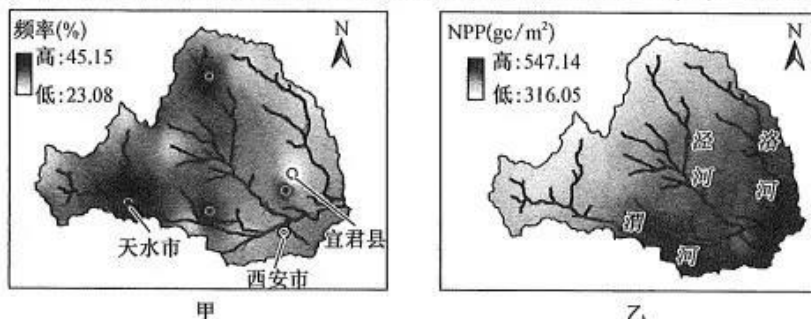


- (1) 指出阿尔及利亚首都选址的优势条件。(6 分)
- (2) 分析阿尔及利亚经济规模处于非洲前列的主要原因。(4 分)
- (3) 据图文材料推测阿尔及利亚粮食主要依赖进口的原因。(6 分)
- (4) 请为阿尔及利亚经济的进一步发展献计献策。(6 分)



37. 阅读图文材料,完成下列要求。(24分)

植被净初级生产力(NPP)是指绿色植物在单位时间、单位面积内所累积的有机物数量,是由植物光合作用所产生的有机质总量减去自养呼吸后的剩余部分,不同用地类型 NPP 的大小依次为林地>灌木林>草地>耕地>建设用地。近年来,渭河流域干旱发生的频率急剧增加,对生态系统 NPP 产生了较大的影响。研究表明:1961~2014 年渭河流域 NPP 总体呈下降趋势。甲图示意 1961~2014 年渭河流域干旱发生频率,乙图示意 1961~2014 年渭河流域 NPP 年均值的空间分布格局。



- (1)简述 1961~2014 年渭河流域干旱发生频率的空间分布特征。(4分)
- (2)说明 1961~2014 年渭河流域 NPP 年均值的空间分布特点,并分析其自然原因。(8分)
- (3)指出 1961~2014 年渭河流域干旱发生频率与 NPP 年均值之间的关系,并解释原因。(6分)
- (4)从提高 NPP 的角度提出缓解渭河流域旱灾的可行性措施。(6分)

38. 阅读材料,完成下列要求。(14分)

亚太地区一直是世界经济的重要增长极。几十年来,亚太地区不仅在应对危机中战胜一次次挑战,也在开发合作中保持较长时期快速发展态势,目前 GDP 总量占全球 60%以上,贸易总量占全球 50%以上。当前,亚太地区发展正处在关键路口,承载着率领世界实现经济复苏和振兴的希望,也面临着自身亟待破解的诸多发展难题。

2021 年 11 月 11 日,习近平主席应邀在北京以视频方式参加亚太经合组织工商领导人峰会,并发表题为《坚持可持续发展 共建亚太命运共同体》的主旨演讲。习近平指出,新冠肺炎疫情仍在全球蔓延,世界经济复苏艰难曲折,亚太地区应该勇担时代责任,发挥引领作用,坚定朝着构建亚太命运共同体目标迈进。习主席提出各国“全力抗击疫情”“坚持开放合作”“推进绿色转型”“积极推进创新”的“四点倡议”,为处于关键历史当口的亚太地区擘画了发展路径和蓝图。

结合材料并运用经济生活知识,说明落实习近平所提主张对构建亚太命运共同体目标的经济意义。

39. 阅读材料,完成下列要求。(12分)

保障国家粮食安全是一个永恒课题,任何时候这根弦都不能松。

粮安天下,农稳社稷。党的十八大以来,以习近平同志为核心的党中央把粮食安全作为治国理政的头等大事,确立了以我为主、立足国内、确保产能、适度进口、科技支撑的国家粮食安全战略,走出了一条中国特色粮食安全之路。我国粮食生产已实现了连续十八年丰收,保障了口粮绝对安全的同时,



也为经济持续健康发展夯实了基础。

仓禀实,天下安。虽然目前我国粮食处于安全状态,但依然面临严峻挑战。在世纪疫情冲击下,外部环境更趋复杂严峻。国内种业发展不适应性和短板弱项依然存在,大豆、玉米单产水平不到美国的60%,番茄、甜椒等少数专用品种进口比例超过了50%;建设完成的高标准农田部分工程质量不达标,农业配套设施相对匮乏,农业机械化发展水平不均衡;频发的极端灾害天气和攀升的生产资料价格也成为中国粮食生产新的不确定性因素。面对困难,如何保障粮食安全,端牢中国饭碗?中国将进一步落实党政同责,保障国家粮食安全。

结合材料并运用政治生活知识,说明中国应如何落实党政同责,保障国家粮食安全。

40. 阅读材料,完成下列要求。(26分)

2022年2月4日至20日,第24届冬季奥林匹克运动会将在北京召开。

奥林匹克运动会是体育比赛的盛会,更是展现“和平、友谊、理解、包容和拼搏”精神的盛会。奥运会会徽是奥运会最有权权威性的形象标志。2022年北京冬奥会会徽为“冬梦”,以汉字“冬”为灵感来源,运用中国书法的艺术形态,将东方文化与国际化的现代风格融为一体,呈现新时代的中国新形象、新梦想,传递出中国为办好冬奥会,圆体育强国之梦,为国际奥林匹克运动做出贡献的不懈努力和美好追求。



会徽图形上半部分展现滑冰运动员的造型,下半部分表现滑雪运动员的英姿。中间舞动的线条流畅且充满韵律,代表举办地起伏的山峦、赛场、冰雪滑道和节日飘舞的丝带,为会徽增添了节日喜庆的视觉感受,也象征着北京冬奥会将在中国春节期间举行。会徽以梦幻的蓝色为主色调,寓意梦想与未来,以及冰雪的明亮纯洁。红黄两色源自中国国旗,代表运动的激情、青春与活力。“BEIJING 2022”字体的形态上汲取了中国书法与剪纸的特点,增强了字体的文化内涵和表现力,也体现了与会徽图形的整体感和统一性。标识运用世界范围内最为人们广泛认知的奥运五环,其色彩彰显动感、时尚与现代,将中国文化、体育和奥林匹克精神相结合。

- (1)结合材料,运用文化生活知识,说明2022北京冬奥会会徽的设计对文化创作的启示。(10分)
- (2)“冬梦”标识是奥林匹克精神与中国文化的完美结合。请结合材料并运用矛盾的观点对此加以说明。(12分)
- (3)某中学举办“健体迎冬奥 一起向未来——2021筑梦冬奥户外拓展活动”,请你为本次活动拟写两条宣传标语。(4分)

41. 阅读材料,完成下列要求。(25分)

材料一

宋代雕版印刷书目增多,除儒家经典外,又遍及释、藏、道、典、史、子、经、算、类书和唐宋名家诗文集、文选等。政府刻印以儒经为主,并刻了卷册繁多、工程浩大的类书与释藏道经。宋代私家所刻印书,称“一家刻本”或“家塾本”。私家所刻的书,多为其祖先文集,或表彰乡贤、学派,或得一善本欲公之于世;而刻书者多学者、名流,校勘精审;所雇刻工亦多高手。因而其书内容好、版本善、校勘精、刻

【高三1月质量检测·文综 第9页(共12页)】



工技术高。坊刻本是书坊的书商所为,他们多自己拥有写工、刻工。宋代书坊设立较为普遍,最有名的要算建安余仁仲的万卷堂,至今还可见到它所刊刻的不少传世刻本。家刻本在校勘方面认真仔细,一丝不苟,痛下苦功。坊刻为了多获利润,力求节省工料,因而行紧字密。但为了提高信誉,打通销路,所以在校勘、版式上也力求达到一定水平,而且为了适应社会多方面的需要,印刷种类也较为广泛。

——摘编自胡子琪《宋代雕版印刷浅论》

#### 材料二

上海开埠后,墨海书馆和土山湾印书馆堪称基督教与天主教引进西方近代印刷术的两个最重要的据点。1876年,上海徐家汇土山湾印书馆使用石印,国内书商才纷纷设局,石印术周期短,印量大,成本低,因此盛极一时。上海出现了近百家石印书局,各类石印书籍大量出现,甚至远销全国各地。商务印书馆于1901年已拥有了上海最先进的印刷设备,与此同时,商务印书馆等出版机构中已有明确的印刷、出版、发行、编辑等分工。商务印书馆于1902年编印出版了中小学教科书,教会和官方出版机构都难以望其项背。1925年,上海有新式印书机构1126家。新印刷技术创造了书籍的空前产量,上海在近代能成为中国最大的新出版中心,很重要的一条就是率先引进和推广近代西方先进的印刷技术。

——摘编自邹振环《晚清书业空间转移与中国近代的“出版革命”》

- (1)根据材料一并结合所学知识,概括宋代雕版印刷发展的特点,并分析其原因。(10分)
- (2)根据材料一、二并结合所学知识,比较宋代雕版印刷与近代上海出版印刷的异同,并分析近代上海出版印刷发展的影响。(15分)

#### 42. 阅读材料,完成下列要求。(12分)

##### 材料

在古希腊,贵族与平民之间的斗争直接影响着政体的形态,亚里士多德的混合政体思想,是从城邦公民的习惯里产生出来的,是立足于现实城邦中两种形式政体优点的基础上提出来的。近代自由主义民主,源于封建社会等级与新兴资产阶级的冲突和妥协。就民主政治的实现形式——分权制衡体制来说,从洛克关于行政(国王)与立法(国会)之间的权力制衡,到孟德斯鸠关于立法、司法和行政三种权力之间的制衡,学说开始在理论上一步步走向成熟。从实践层面而言,英国受洛克思想的影响,在经历了王权与议会的轮番较量和1688年“光荣革命”以后,逐渐形成了君主立宪体制。只有在美国,孟德斯鸠完备的分权理论才算得到了最充分的运用。从古代民主迈步到近代民主,是民主发展的辩证法,也是民主形式不断丰富、内涵不断展开的演进过程。如果说古代民主是城邦的对应物,那也就是说它是“直接民主”,而“以个人参与为基础的民主”只有在一定的条件下才是可能的;相应的是,如果这些条件不存在,那么代议制民主就是唯一可能的形式。

——摘编自李莹《西方古代民主与近代民主之比较研究》

根据材料并结合所学世界史的相关知识,围绕“古代、近代西方的民主政治”提出自己的见解,并说明理由。(要求:见解明确,持论有据,表述清晰。)





(二)选考题:共 25 分。请考生从 2 道地理题、3 道历史题中每科任选一题作答。如果多做,则每科按所做的第一题计分。

43. [地理——选修 3:旅游地理](10 分)

澜沧江(如下图)从我国青海省唐古拉山东北部发源后,一直南下穿过横断山区。澜沧江峡谷地带,东有云岭山脉,西有碧罗雪山耸立。从西双版纳勐腊县出境,成为老挝和缅甸的界河,后始称湄公河。中国国家地理科学考察部计划于 2021 年 12 月 30 日至 2022 年 1 月 5 日到澜沧江进行研学旅行。



根据图文材料为此次澜沧江研学旅行设计实践项目,并指出研学旅行中应注意的事项。

44. [地理——选修 6:环境保护](10 分)

2021 年秋收季节,在湖北荆门市沙洋县的田间地头,总能看到一台台巨大的秸秆打捆机来回穿梭在已经收割完的稻田里,将农田上散落的秸秆“吃”进肚子里,再经过过筛、除杂,“吐”出成捆的秸秆包。这些打包好的秸秆一部分被送到生物质发电厂,一部分被送到菌菇基地、养殖场,实现了秸秆由“还田”到“离田”的转变。

分析秸秆由“还田”到“离田”转变的关键原因和主要意义。

45. [历史——选修 1:历史上重大改革回眸](15 分)

材料

中华民国成立后,孙中山在西方文官制度模式的基础上,吸收了中国古代官吏的考试和弹劾制度,形成了其通过文官考试选才的思想。到了北京政府时期,文官考试制度又借鉴西方,分为普通和高等两种。南京临时政府成立后,草拟了《文官任官令草案》,并颁布实施了《考试法》《文官俸给条例》。南京国民政府的一切文官均须为国民党的一党私利服务,成为实际上的“党务员”。军阀之间相互割据,凭借军事势力制造政潮,以军压政,文人在政府中没有什么话语权。知识分子因此饱受打击,一些知识分子“宁可奔竞钻营,以求夤缘幸进,不愿辛勤苦学,以循考试之途”。南京临时政府时期的文官制度,由于袁世凯的谋权篡位而胎死腹中;“北京政府命令是出不了都门的,故凡中央所简派的地方官吏,横遭当地军阀予以挡驾”;南京国民政府时期,地方势力与中央政府之间仍然矛盾重重,地方势力往往将中央所派遣的官员看成是蒋介石集团的人事渗透而拒绝实施,这使得知识分子入仕困难,甚至可以说是举步维艰。

——摘编自陶继波《民国时期文官制度发展概述——兼论其对知识分子的影响》

(1)根据材料并结合所学知识,概括民国时期文官制度的特点。(8 分)

(2)根据材料并结合所学知识,简评民国时期的文官制度改革。(7 分)

【高三 1 月质量检测·文综 第 11 页(共 12 页)】

46. [历史——选修3:20世纪的战争与和平](15分)

材料

甲午战后,沙俄不仅租借辽东半岛,还派十几万大军控制中国东北,并染指朝鲜,大有把日本势力从朝鲜驱逐出去的趋势,因此日本把俄国看成其实施大陆政策的最大障碍。日本在与英国结盟之后,积极寻求美国的支持。美国认为沙俄在东北的扩张对其“门户开放”政策是极大的破坏,所以在开战之初罗斯福就向德法警告,表示不允许“三国还辽”事件重演。1904年2月10日,日本与俄国相互宣战,战争以俄国失败结束。1905年9月5日,日俄缔结和约,日本控制了朝鲜和南满,出现产业投资热潮,经济规模和对外贸易空前扩大,到一战前已形成了完整的工业体系,并迅速走上了帝国主义道路。战争使日本军部的军阀们权力日益膨胀,不仅把握军事大权,而且左右内阁。日本逐步抛弃了奉行多年的“脱亚入欧”论,以“驱逐白种人统治解放亚洲各族人民”的“亚洲门罗主义”取而代之,日美关系也随之紧张,美国改变了战前纵容甚至支持日本的政策,开始遏制日本的扩张。

——摘编自李孔胜《简论日俄战争与二战前日美关系的转折》

(1)根据材料并结合所学知识,概括日俄战争爆发的背景。(7分)

(2)根据材料并结合所学知识,简析日俄战争对日本的影响。(8分)

47. [历史——选修4:中外历史人物评说](15分)

材料

洗夫人是梁、陈、隋时期岭南俚族首领,其参与平定侯景、欧阳纥、王仲宣等叛乱。洗夫人率部归顺隋朝后,隋命设置崖州,使海南在遥领500多年后重新归属中央朝廷。《隋书》记载,洗夫人在父母家时,就常劝亲族为善。隋仁寿元年,番禺总管赵讷贪虐百姓,引起俚僚人民反叛逃亡。洗夫人上书控告赵讷,并提出安抚百姓之策,隋文帝采纳了她的意见,惩处了赵讷,并委派洗夫人招抚叛亡的各族百姓,叛亡的各族百姓都重新归附朝廷,岭南重获安定。粤西罗州刺史冯融听说洗夫人很有见识和才华,于是为儿子高凉太守冯宝提亲。洗夫人作为俚人首领,排除了两家之间民族不同、文化各异、政治经济相殊的障碍,同意嫁给冯宝,对于其后的汉俚通婚、民族融合影响深远。南朝时期俚人社会“法”的概念十分淡薄,争强斗胜、恃强凌弱是常有之事。洗夫人明确要求俚人“使从民礼”,不得违犯。她还与冯宝一起断案,俚族首领犯法,也决不姑息,岭南社会秩序日渐和谐。洗夫人先后被多位君王敕封,被尊称为岭南“圣母”。《隋书》评价说:“至于明识远图,贞心峻节,志不可夺,唯义所在,考之图史,亦何世而无哉!”

——摘编自李润等《洗夫人信仰的精神内涵及价值功能》

(1)根据材料并结合所学知识,概括洗夫人受到后人尊崇的原因。(8分)

(2)根据材料并结合所学知识,简要评价洗夫人的历史功绩。(7分)



## 高三文科综合参考答案、提示及评分细则

1. D 分析可知,随着城市化的推进,建成区的范围逐渐扩大,远郊区大量农业用地将被占用为建设用地,按照“占多少,垦多少”的原则,需要开垦补偿的耕地面积较大,此原则发挥效应最大。中心城区主要为建设用地,占用耕地的空间小;国营农场和偏远山区主要从事农业活动,耕地被占用的可能性较小。
2. A 结合所学知识分析可知,我国东南丘陵地区以海拔 1 000 米以下的低山、丘陵为主,地势崎岖。随着大规模非农建设的实施,该地区坡度小、海拔低处的耕地将被优先占用,按照“占多少,垦多少”的原则,增补耕地主要分布在坡度大、海拔高的地区,可能会导致水土流失加剧,在严格执行占用耕地补偿制度过程中需要特别注意。
3. D 结合图文材料分析可知,我国 30 个省区工业水资源投入都存在不同程度的拥塞效应,各省区之间的拥塞水平差异较大,其中,辽宁、吉林、黑龙江、新疆和内蒙古 5 个省区的工业水资源投入拥塞水平达 0.06 以上,拥塞效应较为严重,东部拥塞水平普遍低于中、西部,浙鲁粤拥塞水平低于云贵川。
4. C 分析可知,我国 30 个省区都存在不同程度的拥塞效应,各省区之间的拥塞水平差异较大,主要是因为我国各省区经济发展水平差异显著,经济发达省区,水资源利用效率高,工业水资源投入呈减少趋势,拥塞效应小,经济欠发达省区,水资源利用效率低,工业水资源投入呈上升趋势,拥塞效应大,即投入要素结构失衡是导致我国 30 个省区工业水资源投入拥塞水平差异形成的关键。
5. C 我国 30 个省区都存在不同程度的拥塞效应,可以通过更新工业设备,提高工业用水效率,优化产业结构,发展高新技术产业等高层次产业,减少工业水资源投入,从而改善我国 30 个省区的工业水资源投入拥塞状况。
6. A 据图分析可知,巴彦淖尔市与蒙古国的边境线长,可发展边境贸易;该市北部为内蒙古高原,中部为阴山山脉,南部为河套平原,地势起伏较大;位于季风区与非季风区的过渡地带,受夏季风影响小;降水少,地表河流发育较少,水能资源不丰富。
7. B 据图分析可知,阴山北坡和缓倾向内蒙古高原,南坡以高落差降到河套平原,南北两坡不对称。阴山山脉在隆起生成的过程中,形成了较大范围的断裂,此过程导致河套平原断裂下陷,阴山南部多发育外流河。
8. B 乌兰布和腹地的湖泊群演变消失,说明气候变得愈加干旱,受东南季风的影响减小。在强劲的风力作用下,湖泊群周围的地面松散堆积物被侵蚀、搬运、堆积,湖泊群逐渐演变消失在沙漠中。
9. B 结合图文材料分析可知,抚河流域位于亚热带湿润季风气候区,其下游主要流经平原地区,夏季降水量大,排水不畅,常泛滥成灾,因此,拟开挖新河道入青岚湖,降低洪灾对下游地区的影响。
10. D 由材料可知,抚河改道工程实施后,水流由改道段进入青岚湖,青岚湖原是高水位的倒灌型湖泊,不利于洪水期抚河泄洪,改道后青岚湖转变为行洪通道,改道口以上河段则会因为水流顺畅进入青岚湖,而导致水位有所降低;同时,因为河道水流顺畅,所以沿途一定范围内的水流流速有所增加。
11. A 结合材料“改道 150 年时,青岚湖淤积基本达到平衡”可以推断,此时青岚湖已经因为淤积,基本改变原来的湖泊形态,形成河道,水流通道变窄,流速提高,下蚀增强。抚河改道后,改变了入湖的水沙形势,青岚湖由原来的高水位倒灌型湖泊变为过水性湖泊,泥沙将在湖内不断淤积,湖泊面积逐渐变小。
12. B 建立煤炭生产流通成本调查制度,了解煤炭生产流通成本变化情况,可以为完善煤炭市场价格形成的机制提供支撑,B 符合题意;煤炭价格本来就是由市场决定的,故不选 A;对煤炭生产流通成本进行调查不能直接调节煤炭供求,也不能缓解煤炭供应紧张的局势,C、D 不选。
13. A 引导市场力量和社会资本参与城镇老旧小区改造,建立城镇老旧小区改造良性循环新机制,是为了拓宽老旧小区改造融资渠道,激发老旧小区改造活力,①③符合题意;国防、治安、消防等公共物品是由政府配置而不能由市场配置,②不选;该省的以上做法并未降低市场准入门槛,故④不选。
14. C 《办法》要求加强保险集团公司治理监管和保险集团风险管理,完善非保险子公司监管和保险集团监管,有利于规范保险业经营行为,防范保险集团经营风险,促进金融保险业健康发展,②③符合题意;加强对保险集团公司监督管理不涉及保险企业运营成本,①不选;加强对保险集团公司监督管理没有涉及保险公司扩大业务范围,④不选。
15. B “营改增”可以减少重复征税,降低企业税负负担;优化企业研发费用预缴加计扣除政策,可以引导企业加大研发投入,提高自主创新能力,激发市场活力,①④符合题意;下调企业所得税免征额,会增加纳税主体,增加企业税负,②不选;加大对各类违规涉企收费的查处力度,是优化营商环境的做法,不属于减税降费政策的内容,③不选。
16. C 实施村级小微权力清单、承担事项清单、公共服务清单制,将村级事务细化为清单,编制操作流程,明确办理要求,建立监督评价机制,有利于规范村级权力运行,提高为民服务质量,②③符合题意;在乡村治理中运用“清单制”针对的是村级权力运行边界,不会优化村级组织结构,①不选;村级小微权力是基层自治组织的权力,不是基层政府权力,④不选。
17. A 该省推动全省异地就医结算工作,是为了健全医疗服务体系,方便群众就近就医,从而也塑造了政府良好形象,①③符合题意;医疗机构有各自的不同利益,②中“绩效共进共退”的说法错误,不选;“意在规范定点医疗机构行为”与

【高三 1 月质量检测·文综参考答案 第 1 页(共 4 页)】



- 材料主旨不吻合,不是该省以上做法的目的,④不选。
18. D 全国人大常委会通过关于修改人口与计划生育法的决定以来,我国各地相继启动地方人口与计划生育条例修改工作,体现了③;我国开展人口与计划生育法修法工作,旨在发挥法治在社会治理中的作用,④符合题意;全国人大常委会的监督权在材料中没有体现,①不选;在我国,行政机关是人大的执行机关,②不选。
19. D 蒙镶制作工艺是一套综合处理工艺手法,是一个综合类学科,注重实操,其传承有利于以中华优秀传统文化浸润滋养当代工匠精神,②符合题意;蒙镶制作工艺作为非物质文化遗产项目,对研究人类文明的演进和展示世界文化的多样性具有重要意义,④符合题意;综合类学科的学术地位早已确立,不是传承这项工艺使然,①不选;对待文化多样性,既要认同本民族文化,又要尊重其他民族文化,③中“推动各国普遍认同中华文化”的说法错误,不选。
20. C 《长津湖》引发观影热潮,制作方坚持“主旋律+致敬”的特色模式,取得良好社会反响,体现了②④;文艺创作题材可以多样化,选用红色题材不是文艺作品成功的必要条件,①说法太绝对,不选;“赋予传统文化新的时代内涵”在材料中没有体现,③不选。
21. A “不要认为有了计划就大功告成,实干胜于空谈”,这句话强调重视实践的作用,A符合题意;B、C、D不符合漫画寓意。
22. D 净化网络空间,共建网上美好精神家园需要各方力量共同发挥积极作用,启示我们要正确把握整体与部分的辩证关系,搞好局部以提高整体功能,③④符合题意;只有关键部分才决定整体功能的发挥,①不选;②强调的是整体的作用,不选。
23. B “汉语盘点2021”活动,用字词勾勒年度热点,浓缩时代精神,体现了①;主办方和清华大学教授分别推荐了不同的字词,体现了③;理想高于生活,②中“社会意识高于生活”表述错误,不选;“思想价值观念与时俱进”在材料中没有体现,④不选。
24. B 考查商周时期的政治制度。材料表明,战国时期的变法革新运动使贵族特权受到了限制,而士人则以其才学智能进入到政治领域,成为官僚。可见这些改革为官僚政治形成创造了条件,故选B项。秦统一全国后建立了中央集权统治,故排除A项;春秋时期宗法分封体制已经伴随着生产力的发展和王室衰微逐渐解体,故排除C项;井田制瓦解,封建土地私有制开始确立,且这不符合材料的主旨,故排除D项。
25. A 考查汉代经济。据材料可知,汉代的灌溉区主要分布在黄河流域,结合水利是农业命脉的事实,这说明当时中原地区的农业得到较大发展,同时也表明农本观念在中原地区影响深厚,故选A项。农业区的分布深受水利工程的影响,但是不能说取决于水利工程,故排除B项;翻车是曹魏时期发明的灌溉工具,与汉代时间不符合,故C项错误;汉以前就已形成以中原为中心的经济重心,故D项错误。
26. A 考查中国古代经济。根据材料并结合所学知识可知,漕运线路虽一再变动,但漕粮的征集地区始终指向经济发达区域。漕运在空间上的不断变化,直接反映了政治中心与经济重心在空间地域上的变动。总体趋势是政治中心与经济重心区域分立北南,南粮大量北运,故A项正确。漕运是古代历朝政治中心对于经济重心的依赖、索取与牵制,是调控经济发达地区的重要手段。此外,长途贩运出现于明清时期,故排除B项;C项不符合史实,同时在材料中也体现不出来,故排除;新经济因素指的是资本主义萌芽,这与题干主旨不符,故排除D项。
27. B 考查明末清初的儒家思想。根据材料并结合所学知识可知,王夫之的这些思想的出现是学术界对明末清初社会大变动的必然反映,具体到思想领域,是对当时宋明理学的空疏教条学风的反对和批判,要求学用一致、经世济民,故B项正确。王夫之卒于1692年,伏尔泰生于1694年,明清思想家早于启蒙运动,故排除A项;由于时代和阶级的局限性,王夫之的思想并未形成广泛的影响,故并未改变知识分子的价值取向,故排除C项;近代新文化运动打破了儒家思想的正统地位,故排除D项。
28. A 考查晚清经济的发展。根据材料“明清时期”“天下四聚”等信息并结合所学可知,19世纪初,苏州是重要的商品集散地,到19世纪六七十年代,随着西方列强的侵略和国门的被迫打开,中西贸易扩大,商贸中心转移到上海(“鬼国”是指外来侵略者),故A项正确。农民运动不利于贸易的发展,因此农民运动不是材料所述现象的主要原因,故B项错误;这一时期随着西方列强的侵略和通商口岸的被迫开放,客观上促进了江南经济的发展,而不是衰退,故C项错误;民族工业在19世纪六七十年代开始兴起,不能成为材料所述变化的主要原因,故D项错误。
29. C 考查五四运动。根据所学可知,所有的历史叙述都受作者的立场及价值观的影响而有所不同。结合材料可知,国民党的观点是:既抽象肯定五四运动的历史地位,又具体否定五四运动的革命精神和新文化运动的批判精神,而其立场是维护一党专政 官僚资产阶级立场;资产阶级激进派的观点是:五四运动是中国的“文艺复兴”,其立场是社会改良主义者 资产阶级自由主义者的立场;共产党的观点是:五四运动是中国新民主主义革命的开端,其立场是新民主主义革命的领导者 无产阶级的立场,故C项正确。中国近代革命的性质属于资产阶级民主革命,故排除A项;历史事件的性质是客观的,B项说法有误,故排除;鸦片战争后,中国民族意识逐步开始觉醒,故排除D项。
30. D 考查毛泽东思想。根据所学知识结合材料“要想在殖民地半殖民地半封建的废墟上建立起社会主义社会来,那只是完全的空想”可知,毛泽东认为在半殖民地半封建社会废墟上不能直接建立社会主义国家,毛泽东意在强调结束半殖民地半封建社会后建立新民主主义国家的重要性,故D项正确。《论联合政府》是1945年4月24日,毛泽东在中国共产党第七次全国代表大会上所作的政治报告,与农村包围城市武装夺取政权的革命道路无关,故A项错误;材料中

【高三1月质量检测·文综参考答案 第2页(共4页)】



- 毛泽东强调推翻半殖民地半封建社会后建立新民主主义国家的重要性,没有批评资产阶级民主革命彻底与否的问题,故 B 项错误;“要想在半殖民地半封建的废墟上建立起社会主义社会来,那只是完全的空想”,说明在半殖民地半封建社会被推翻前不能建立社会主义制度,故 C 项错误。
31. D 考查新时期中国国有企业改革。据材料图示,国家统配部分的重要原材料钢材、木材等迅速下降可知,这一时期国家统配在生产流通的比重降低,说明存在其他解决物资需求的渠道,即经济中的市场因素增加,故选 D 项。材料的主旨是生产资料的流通问题,没有体现经济结构的变化,故排除 A 项;材料体现政府对于经济的干预程度减少,不能体现市场消费需求情况的变化,故排除 B 项;1992 年中共十四大提出社会主义经济改革的目标是建立社会主义市场经济体制,故排除 C 项。
32. D 考查罗马法。依据材料可知,罗马法在法律渊源、创制主体及创制方式上都体现出很强的开放性和灵活性,而这一特征利于增强罗马法的适应性,故 D 项正确。罗马的立法渊源及形式与罗马帝国的形成并无直接联系,故 A 项错误;材料反映的是罗马法的立法形式具有多元性和灵活性的特点,这有利于罗马法体系的建立,故 B 项错误;材料强调的是罗马法的立法形式多元灵活,不是罗马法随意、主观性强,故 C 项错误。
33. A 考查欧洲的宗教改革。漫画中教皇愤怒地撕下贴在教堂大门上的《九十五条论纲》,而站在其对面的马丁·路德投以胜利者的目光与神情,其背后的德国民众则纷纷举手抗议教皇并且撕碎了教会售卖的赎罪券,表明教皇腐朽统治引发众怒,宗教改革已势不可挡,故选 A 项。结合所学,变革政体是启蒙运动时期的主张,故排除 B 项;C 项所述涉及宗教改革的影响,而题干涉及的是宗教改革的背景,故排除;D 项不符合马丁·路德的思想,故排除。
34. C 考查工业革命。材料中“为自己所能支配的资本找到最有利的用途”“他所考虑的永远是自身的利益”“毋宁说必然会引导他选定最有利于社会的用途”等所体现的是自由投资、自由经营、自由贸易等自由主义的经济思想,故选 C 项,并排除 D 项。重商主义流行于 15 世纪至 17 世纪中叶,亚当·斯密一再抨击和反对重商主义,排除 A 项;马克思主义的经济政治学说当时尚未产生,排除 B 项。
35. B 考查美苏冷战。根据材料中肯尼迪的设想,美国应采取的重大举措之一就是向第三世界国家派遣技术人员、教师、医生、护士为主的和平队。当时的国际环境,以及美国决策者的冷战思维,使得美国对外政策的任何重大措施都包含有冷战的考虑,派遣和平队也不例外,和平队计划不仅是 20 世纪 60 年代美国与第三世界发展新型关系的标志,更是与苏联争夺广阔的“中间地带”、具有“长远战略眼光”的措施,故 B 项正确。展示美国强大的政治经济实力是手段不是目的,且材料不能展示美国的政治经济实力,故排除 A 项;题干描述的是美国的对外政策,不是对内政策,排除 C 项;美苏冷战的战略重心一直在欧洲,故排除 D 项。
36. (1)位于地中海沿岸,靠近世界重要的海上航线,地理位置优越;位于滨海平原,地势平坦,城市建设条件好;位于地中海气候区,冬季温和多雨,水分条件较南部地区好;人类活动早,人口稠密等。(每条 2 分,答对 3 条得 6 分,共 6 分)
- (2)地处大西洋和地中海沿岸地区,海陆交通便利;海岸线漫长,港口众多;油气等矿产资源丰富,出口量大;对外开放吸引众多外国企业入驻,带动相关产业及经济发展;经济腹地大,人口较多,发展潜力大等。(每条 2 分,答对 2 条得 4 分,共 4 分)
- (3)可耕地面积小,粮食产量小;耕作技术落后,单位面积产量低;降水变率大,粮食产量起伏较大;人口多,对粮食的需求大等。(每条 2 分,答对 3 条得 6 分,共 6 分)
- (4)加大科技投入,提高现有油气田的采收率;延长产业链,增加附加值;兴建水利设施,改善农业生产条件;进一步扩大开放,引进资金和技术;依托世界遗产,大力发展旅游业等。(每条 2 分,答对 3 条得 6 分,共 6 分)
37. (1)干旱发生频率的空间差异明显,总体自东向西增加;河流沿岸的城镇大多干旱发生频率较高,天水市附近干旱发生频率最高;洛河流域干旱发生频率较低,宜君县干旱发生频率最低等。(每条 2 分,答对 2 条得 4 分,共 4 分)
- (2)分布特点:呈自东南向西北逐渐减少的趋势。(2 分)成因:受夏季风影响,渭河流域年降水量自东南向西北逐渐减少;东南部以林地为主,西北部以草地为主,植被覆盖率自东南向西北下降;东南部地处秦岭山区,多地形雨;西北部纬度较高,受冬季风影响较大,水热条件较差等。(每条 2 分,答对 3 条得 6 分,共 6 分)
- (3)关系:大致呈负相关(或干旱频率高的区域,NPP 年均值较低;干旱频率低的区域,NPP 年均值较高)。(2 分)原因:干旱频率高,水分不足,不利于植被的生长(或干旱频率低,水分较充足,有利于植被的生长);(2 分) NPP 年均值高,植被覆盖较好,可调节区域气候、水文、土壤湿度等,降低干旱发生频率(或 NPP 年均值低,植被覆盖较差,调节区域气候、水文、土壤湿度的能力弱,容易发生干旱)。(2 分)
- (4)退耕还林还草,提高植被覆盖率;因地制宜,种植 NPP 较高的植被类型;加大天然林保护力度,提高对天然林的保护意识,启动“天然林禁伐令”;控制城市建设用地规模,提高城市绿化面积等。(每条 2 分,答对 3 条得 6 分,共 6 分)
38. ①全力抗击疫情,有利于抑制疫情蔓延,加快亚太经济复苏和振兴步伐,筑牢发展的安全屏障。(4 分)②坚持开放合作,有利于促进亚太各国之间资源要素有序流动,优势互补,稳定产业链和供应链,实现互利共赢。(3 分)③推进绿色转型,有利于促进亚太区域生态保护,推动亚太地区绿色发展和产业转型,破解经济社会可持续发展高质量发展的难题。(4 分)④积极推进创新,有利于亚太成员加强科技协作,提高发展效能,为亚太区域高质量发展提供动力支撑,实现创新驱动发展。(3 分)(其他答案,符合题意,可酌情给分)
39. ①坚持中国共产党的领导,确立正确的国家粮食安全战略,走中国特色粮食安全之路。(3 分)②我国政府组织社会主



- 义经济建设,进行科学的宏观调控,推动高标准农田水利等基础设施建设,调动农民种粮积极性,保障粮食生产安全。(3分)③我国政府组织社会主义文化建设,推广现代农业生产经验,组织农业科学技术攻关,提高农业机械化发展水平,摆脱外部环境带来的不确定性因素制约。(3分)④我国政府在党的领导下履行好对外职能,优化粮食进口结构,坚持粮食适度进口,保障国家粮食安全。(3分)(其他答案,符合题意,可酌情给分)
40. (1)①会徽的取材和丰富内涵等设计启示我们进行文化创意要立足于社会实践生活,体现活动主题和时代精神。(4分)②会徽融入中华文化元素等启示我们进行文化创意要继承中国传统文化,彰显文化自信。(3分)③会徽将东方文化与国际化的现代风格融为一体启示我们进行文化创意要推动世界民族文化交融互鉴,共同发展。(3分)(其他答案,符合题意,可酌情给分)
- (2)①矛盾具有普遍性,“冬梦”标识遵循了国际惯例,以奥运五环为标志,表达了广大人民群众对“和平、友谊、理解、包容和拼搏”精神的共同价值追求。(4分)②矛盾具有特殊性,“冬梦”标识融入汉字、中国书法、剪纸、春节等中国传统文化元素,彰显了中国文化的深厚底蕴,极具中国特色。(4分)③矛盾普遍性和特殊性相互联结,“冬梦”标识是奥运精神和中华民族特色文化内涵的双重展示,即是民族的,也是世界的。(4分)(其他答案,符合题意,可酌情给分)
- (3)①享受冰雪运动,成就健康人生。②校园冰雪迎冬奥,燃情相约筑梦圆。(每条2分,共4分,其他答案,符合题意,可酌情给分)
41. (1)特点:多种手工业部门共同发展;官方印刷质量高;民营出版发展迅速;出现专门的印刷书坊。(6分,任答三点即可)原因:雕版印刷术的普及;政府“崇文抑武”政策的实行;士大夫主体意识的觉醒;手工业经济的发达及商品经济的繁荣。(4分,任答两点即可)
- (2)同:印刷种类繁多;设立商业机构负责经营。(4分)异:宋代以手工生产为主,近代中国采取机器生产;宋代有官营和民营两大类,近代中国以民族资本为主导,并受到西方影响。(4分)影响:促进了中国近代民族工业的发展;增强了近代上海的影响力;推动了中国近代教育事业的发展;有利于促进近代中国人的思想解放和民族意识的觉醒。(7分)
42. 示例:  
见解:西方古代民主是实践先于理论,近代民主是理论先于实践。(2分)  
理由:无论是在古希腊还是古罗马,法治始终与民主并存。亚里士多德“法治应当优于一人之治”的观念、西塞罗“权力从属于法律”的论断,无疑都是受到了当时法治实践的影响和启迪。特别是亚里士多德,作为西方法律史上最早崇尚法治的先驱,他的法治观是“总结了包括雅典在内的100多个希腊城邦的治国经验后”提出的。由此可见,古代政治思想家对民主问题的探讨,不是乌托邦构想,而是立足于城邦现实,而这也正是古代民主实践先于理论的贡献和证明所在。而到了近代,纵观英国的政治体制、美国的权力结构、法国的革命传统是一定程度上洛克、孟德斯鸠和卢梭思想的实践,他们的理论蓝图为现实构建了目标和方向,成为近代民主发展的掌舵者和领路人,这也正是近代民主理论先于实践的表现和注解所在。(10分)
43. 实践项目:观赏壮美的山脉和壮阔的澜沧江,感受大自然造物的神奇;澜沧江漂流,体验最具版纳特色的“江中泼水节”;进行山光水影的摄影,领略山河之美等。(每条2分,答对2条得4分,共4分)应注意的事项:地形崎岖,交通不便,注意出行安全;沿途少数民族众多,须尊重当地民风民俗;冬季气温低,准备御寒衣物;昼夜温差大,适时增减衣物等。(每条2分,答对3条得6分,共6分)
44. 关键原因:秸秆还田无法杀灭病菌和虫卵,导致农作物病虫害逐年加重;秸秆还田分解速度慢,播种质量差;秸秆还田肥力释放有限,营养成分不能完全补充到土壤中等。(每条2分,答对2条得4分,共4分)主要意义:秸秆离田,可以解决秸秆还田带来的诸多问题;能保障秸秆禁烧率,减少大气污染;提高秸秆利用率,增加经济收入;综合利用,环保处理,变废为宝等。(每条2分,答对3条得6分,共6分)
45. (1)特点:古今融合,中西合璧;考试法规数量大、种类多,内容涵盖全面;考试法规和制度逐步完善;党治、军治的色彩浓厚;推广实践有限。(8分,任答四点即可)
- (2)简评:民国时期的文官制度改革,体现出继承性、创新性和融合性的特色,内容较为完备和周密;其运行缓解了政治危机,有利于社会的稳定;但在实施中存在考试与任用相脱节等情况,使其效用性大打折扣,也对近代中国知识分子的发展和治理产生了不利影响。(7分,言之成理即可)
46. (1)背景:沙俄在中国东北的扩张,严重损害到日、美等国的利益;日本欲报甲午战后“三国还辽”之仇;沙俄对朝鲜的渗透,与日本“大陆政策”发生根本矛盾;1902年《英日同盟》条约签订;美国支持日本遏制沙俄在东北亚的扩张。(7分,任答四点即可)
- (2)影响:日本国民经济快速发展,确立了其世界强国地位;加强了日本对殖民地的依赖程度,也加快了日本对外侵略扩张的步伐;促使日本军国主义的强化和对外政策的改变;日美关系发生转折,由合作开始走向对抗。(8分)
47. (1)原因:反对分裂叛乱势力,坚定维护国家统一;以民为本,倡行仁爱,保护百姓;推动汉俚融合,促进民族团结;革旧布新,改造社会,推动岭南地区社会进步。(8分)
- (2)评价:冼夫人始终能顺应时代的进步方向,坚持不懈反对分裂割据,矢志不渝地为巩固民族团结而努力,为发展汉越人民友好交往和安定岭南地区的局面作出了突出贡献;冼夫人积极提倡先进文化,锐意改革俚僚陋俗,使封建的典章制度、生产技术广为传播,改变了岭南社会风气,促进了社会经济的发展等。(7分,言之成理即可)



## 关于我们

自主选拔在线是致力于提供新高考生涯规划、强基计划、综合评价、三位一体、学科竞赛等政策资讯的升学服务平台。总部坐落于北京，旗下拥有网站（[网址: www.zizzs.com](http://www.zizzs.com)）和微信公众平台等媒体矩阵，用户群体涵盖全国90%以上的重点中学师生及家长，在全国新高考、自主选拔领域首屈一指。

如需第一时间获取相关资讯及备考指南，请关注**自主选拔在线**官方微信号：**zizzsw**。

