

# 哈尔滨市第九中学2023届高三第三次高考模拟考试

## 文科综合试卷

(考试时间: 150 分钟 试卷满分: 300 分)

本试卷分第I卷(选择题)和第II卷(非选择题),共45题,共10页,考试结束后,将本试卷和答题卡一并交回。

- 1.答题前,考生先将自己的姓名、准考证号码填写清楚。
- 2.选择题必须使用 2B 铅笔填涂;非选择题必须使用 0.5 毫米黑色字迹的签字笔书写,字体工整,字迹清楚。
- 3.请按照题号顺序在各题目的答题区域内作答,超出答题区域书写的答案无效;在草稿纸、试题卷上答题无效。
- 4.保持卡面清洁,不得折叠,不要弄破、弄皱,不准使用涂改液、刮纸刀。

### 第I卷(选择题)

一、选择题:本题共35小题,每小题4分,共140分。在每个小题给出的四个选项中,只有一项是符合题目要求的。

最具代表性的农村电子商务承载实体——“淘宝村”,在农村产业发展中作用重大。我国淘宝村的发展情况是各种因素综合作用的结果,在不同地区差异明显。下表是我国淘宝村分布与主要影响因素相关性情况统计(“+”代表该因素与淘宝村分布为正相关,“-”代表该因素与淘宝村分布为负相关),里仁洞村所在地与广州市的主城区仅有一江之隔,下图1示意该村的发展阶段。

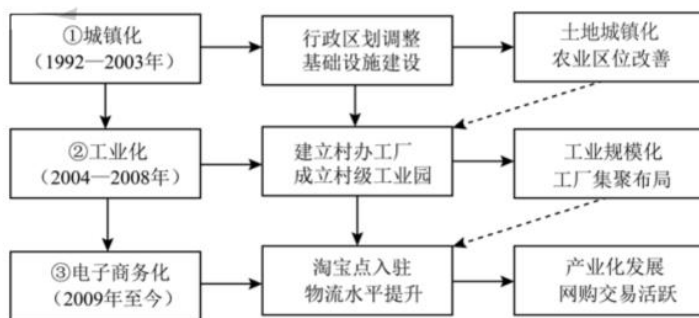


图 1



- C. 受工业港口等人类活动影响大，水产品品质差
- D. 受风浪台风等海洋灾害影响大，水产品产量小
- 5. 从资源安全的角度，深海养殖对北部湾的积极影响（ ）
  - A. 可以利用更多的海洋空间，缓解海洋空间资源的不足
  - B. 可以开发更多的海洋生物资源，使得生物多样性增加
  - C. 可以减少占用近海滩涂湿地，有利于保护生物多样性
  - D. 可以积极推进海洋渔业产业发展，使得渔业产值占比增加

图3为世界时2023年1月4日7时19分全球各地观测到某地理现象的概率分布图，颜色越深表示概率越高。

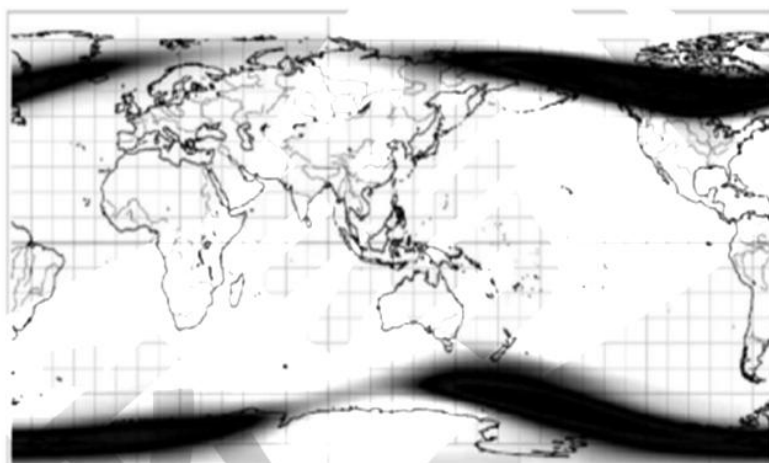


图3 某地理现象的概率分布

- 6. 该地理现象及其形成原因对应正确的是（ ）
  - A. 极昼或极夜—地球公转
  - B. 月食——月球对太阳光的遮挡
  - C. 昼夜分布——地球自转
  - D. 极光——太阳活动
- 7. 此时能够最佳观测到该地理现象的地区是（ ）
  - A. 欧洲北部
  - B. 南极半岛的南部
  - C. 北美洲北部
  - D. 新西兰南岛
- 8. 水星上没有该地理现象，主要是由于（ ）
  - A. 昼夜温差大
  - B. 几乎没有大气
  - C. 距太阳近
  - D. 磁场较强



岩层产状是指即岩层的产出状态，是由倾角、走向和倾向构成岩层在空间产出的状态和方位的总称。图4中图（a）为岩层产状三要素示意图，图（b）为岩层产状图例说明图，图（c）为某区域略图，图中a、b、c、d、e为沉积岩。

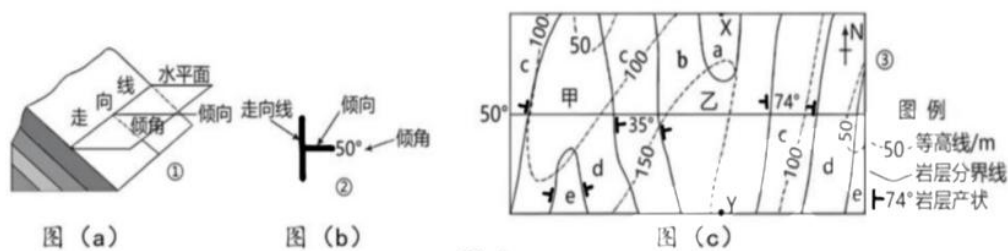


图 4

9. 关于该区域岩石说法正确的是（ ）
- A. 有明显的层理，有化石  
B. 有明显的流纹，多气孔  
C. 冷却凝固而成，多矿藏  
D. 高温高压形成，颗粒大
10. 图4中沉积岩由老到新的顺序（ ）
- A. a、b、c、d、e    B. e、d、c、b、a    C. c、d、e、b、a    D. b、c、d、e、a
11. 关于图中的叙述，正确的是（ ）
- A. 甲处为向斜谷  
B. 乙处岩层有储水构造  
C. 乙处地形主要由内力作用形成  
D. 该区域岩层具有明显的片理构造
12. 现代化没有统一的模式，中国式现代化既遵循社会发展规律，又立足中国实际，坚持和发展中国特色社会主义。中国式现代化不仅改写着世界现代化的版图，而且破除西方现代化的神话和迷雾，拓宽了发展中国家走向现代化的途径。对中国式现代化理解正确的是（ ）
- ①为发展中国家提供具有普世性的中国方案  
②新征程上全面推进中华民族伟大复兴的必由之路  
③彰显了科学社会主义强大的生命力  
④中华民族有史以来最深刻最伟大的社会变革
- A. ①③                      B. ①④                      C. ②③                      D. ②④

13. 2023年1月14日共青团十八届七中全会作出如下决议：广泛开展新时代十年伟大变革宣传教育，开展实地学习、参观寻访活动，让青年在沉浸式氛围中感受十年变革；丰富拓展国情教育、形势政策教育、国家安全教育；通过灵活多样的方式引导广大青少年增强志气、骨气、底气，扎实做好新时代青年人才培养工作。作出以上决议的原因是（ ）

- ①让青年感受我国政治优势、理论优势和制度优势
- ②广大的青年是实现中华民族伟大复兴的主体力量
- ③青年一代要开展建功行动，在奋斗中去创新创造
- ④各方面青年人才是担当民族复兴大任的时代新人

A. ①②                      B. ①④                      C. ③④                      D. ②③

14. 李克强总理在今年的政府工作报告中指出，五年来我们实施积极的财政政策，各级政府坚持过紧日子，严控一般性支出，中央部门带头压减支出，盘活存量资金和闲置资产，腾出的资金千方百计惠企裕民，全国财政支出70%以上用于民生。下列属于积极的财政政策的是（ ）

- ①适度超前开展基础设施投资，扩大社会总需求，增强内生动力
- ②缩减地方政府专项债券规模，为经济社会发展降低金融风险
- ③优化和落实减税基础设施投资，减轻中小企业负担，激发市场活力
- ④下调银行存贷款利率，降低企业融资成本，助力企业纾困减负

A. ①②                      B. ①③                      C. ②④                      D. ③④

15. 我国当前正处在由制造大国向制造强国迈进的关键阶段，这也是制造业走向创新引领、专业化发展的重要阶段。近年来，国家陆续出台了一系列具体措施支持专精特新企业发展。制造业向专精特新方向发展有利于（ ）

- ①提升产业链供应链韧性，推动制造业转型升级
- ②打破国外技术垄断，掌握关键核心技术
- ③丰富高品质供给，推动经济高速发展
- ④增加市场主体数量，积蓄市场强劲动能

- A. ①②                      B. ①③                      C. ②③                      D. ③④

16. 2023年3月13日，十四届全国人大一次会议高票通过了《全国人民代表大会关于修改〈中华人民共和国立法法〉的决定》。此次修改贯彻落实了党的二十大精神、中央人大工作会议精神和党中央决策部署，采取多种方式征求各方面意见，大会前组织代表研读讨论，总结了新时代立法工作的新成果新经验。全国人大通过立法法的修改（ ）

- ①为规范立法权限和程序提供根本政治保证
- ②坚持科学立法，使法律符合社会发展需求
- ③使宪法和法律得到有效实施和普遍遵守
- ④有利于推动备案审查工作更加规范化、制度化

- A. ①③                      B. ①④                      C. ②③                      D. ②④

17. 基层治理平台建设是推进基层治理创新的重要载体。党的二十大报告提出，要进一步完善网格化管理、精细化服务、信息化支撑的基层治理平台，提升社会化服务效能，保障基层治理工作开展的可持续性。加强基层治理平台建设需要（ ）

- ①推动政府职能由管理转向服务，打造共建共治共享的基层治理格局
- ②创新基层自治组织形式，完善基层网格化治理体系
- ③推动数字化治理模式变革，提升解决问题的精确度
- ④充分运用新兴信息技术，提升基层信息化水平

- A. ①②                      B. ①③                      C. ②③                      D. ③④

18. “三十功名尘与土，八千里路云和月。莫等闲、白了少年头，空悲切。”这首词作书写了作者对中原沦陷的悲愤，对前功尽弃的痛惜，表现了赤胆忠心和浩然正气。一首英雄满江红，一曲精忠报国曲，千百年过去了，它依然牵动震撼着千万中华儿女的爱国之心。对此理解正确的有（ ）

- ①词人想象的激昂场景，来源于自身独特的思维和丰富的想象力
- ②词人借“云”与“月”等客观存在，表达内心的凄凉和失意的主观映象
- ③词人结合自己的经历抒发情感，体现了意识活动的自觉选择性



④词人通过想象创造当下和未来的客观联系，展现其奋发图强的志向

- A. ①③                      B. ①④                      C. ②③                      D. ②④

19. 每一个城市，都有它的味道；每一种味道，都是一种乡愁。美食纪录片《早餐中国》带着观众走进不同城市的烟火人间，寻找人们最熟悉的味道。节目通过短小精悍的体量带来高浓度的信息获取体验，用真正平等的目光，展现笑中带泪的生活图景，让人们了解祖国南北东西不同区域特色鲜明的文化烙印。该节目的成功之处在于（ ）

- ①感悟到人民群众在实践中创造和享用饮食文化
- ②感受到对传统文化进行创造性转化、创新性发展
- ③坚持了迎合时代需求，发展通俗文化的创作导向
- ④创新文化表达，使其转化为符合时代特点的呈现方式

- A. ①③                      B. ①④                      C. ②③                      D. ②④

20. “高质量共建‘数字丝绸之路’，积极发展‘丝路电商’”“拓展数字领域国际合作空间”“积极参与数据跨境流动等相关国际规则构建”……2023年2月27日，中共中央、国务院印发《数字中国建设整体布局规划》，提出构建开放共赢的数字领域国际合作格局。规划的印发有利于（ ）

- ①深化数字领域合作，推动世界多极格局发展
- ②筑牢可信可控的数字安全屏障，维护网络安全
- ③主导国际规则制定，完善国际数字治理生态
- ④构筑自立自强数字技术创新体系，培育国家竞争优势

- A. ①③                      B. ①④                      C. ②③                      D. ②④

21. 2023年2月10日，国家主席习近平在会见柬埔寨首相洪森时指出，今年是中柬建交65周年，中方同柬方共谋合作、共促发展，着力打造中柬“钻石六边”合作架构。洪森表示要深化各领域务实合作，共同构建柬中命运共同体。中方提出的共建“一带一路”倡议、全球发展倡议、安全倡议，对维护世界和平和发展意义重大，柬方积极支持并参与。上述材料说明（ ）

- ①中柬双方顺应了和平发展、合作共赢的时代主题

②维护和扩大共同利益有利于国际关系的稳健发展

③中柬双方在经济全球化中推进了互利合作和共赢

④中国在国际新秩序中彰显大国应有的担当和责任

A. ①②                      B. ①④                      C. ③④                      D. ②③

22. 李某与妻子赵某共有婚后存款100万元，李某甲系二人养女（已成年）。赵某去世后，李某又与王某登记结婚，夫妻共同生活一段时间后，李某亦因病去世。李某、赵某二人生前均未订立任何书面遗嘱。据此我们可以判定，李某甲共可继承遗产（ ）

A. 0元                      B. 50万元                      C. 62.5万元                      D. 75万元

23. 大兴国际机场，被誉为“新世界七大奇迹”之首。机场顶部设计成橙色盖顶，是暖色系中最温暖的的颜色，代表炽烈之生命，是富足、快乐、幸福。造型像一只展翅飞翔的金凤凰，安卧在北京的南中轴线延长线上，联通四海，吞吐寰宇，寓意平安起落，承载凤凰的祥瑞祝福。关于该设计理念，下列说法正确的是（ ）

①机场的设计思维体现了以感性形象作为基本单元的形象思维

②具有预测性，机场承载的寓意超越了时间和空间的限制

③经历了从感性具体到思维具体的认识发展过程

④体现了人的思维具有能动性的特征

A. ①③                      B. ①④                      C. ②③                      D. ②④

24. 《荀子·王政》有言“故修礼者王，为政者强，取民者安，聚敛者亡。”据此可知当时（ ）

A. 具有民本思想                      B. 实现四民平等

C. 建立君主专制                      D. 人民管理国家

25. 从秦至隋朝，铜币钱文是货币重量的大小。而到了唐代，表示钱币重量的钱文消失了，代以“通宝”这类写有国号、年号或者吉利语的钱币。这一变化说明（ ）

A. 货币经济占据商业主导地位                      B. 货币的政府信用性日渐突出

C. 货币由多样化逐渐趋向单一                      D. 金属货币被纸制货币所取代



26. 南宋叶适评述北宋制度设计：“今内外上下，一事之小，一罪之微，皆先有法以待之；极一世之人志虑之所周浹，忽得一智，自以为甚奇，而法固已备之矣，是法之密也。”这反映了北宋政治的特点是（ ）

- A. 建立完备法制体系
- B. 制度设计过于僵化
- C. 政府行政效率低下
- D. 中央集权空前强化

27. 明中期以后，“伶人士人化”倾向愈发明显，一部分士人参与戏曲编排、登场串戏，甚至科举落第后以曲谋生，走向优伶之列；一些伶人主动向士人靠拢，开始具有甚至超越士人的品格风范。该史料可以用于研究（ ）

- A. 制度变革与社会阶层流动的关系
- B. 戏曲艺术与国民文化素质的关系
- C. 世俗文化与主流思想变迁的关系
- D. 商品经济与社会价值取向的关系

28. 下图（图5）是中国近代某一历史时期的革命形势发展示意图。这一时期（ ）



图 5

- A. 星星之火已成燎原之势
- B. 清政府已成了“洋人的朝廷”
- C. 人民解放战争胜利在望
- D. 基本推翻了北洋军阀的统治

29. 毛泽东在某次会议上指出“当时大家的根本观念都以为国民党是人家的”“不知道它是一架空房子等人去住。其后像新姑娘上花轿一样勉强挪到此空房子去了，但始终无当此房子主人的决心。我认为这是一大错误。”这段话是针对（ ）

- A. 党在革命统一战线中领导权问题  
B. 是否要武装反抗国民党反动派  
C. 党内存在“左”倾冒险主义错误  
D. 城市中心道路与国情是否相符

30. 1985年，由政府投资并管理的“菜篮子工程”——最早的农贸市场出现了；到90年代城乡集贸市场已达8.3万个，21世纪初菜篮子工程进入快速发展阶段。影响这一变化的主要因素是（ ）

- A. 城乡一体协同发展  
B. 国家宏观调控指导  
C. 市场化改革见成效  
D. 人民生活水平提高

31. 《汉谟拉比法典》第108条明确规定：“倘卖酒妇不受谷以为西克拉（计量单位）之费，而按超重的砝码收银，而西克拉之定率量比之谷物之定率量为低，则此卖酒妇应被检举。”该规定旨在（ ）

- A. 用立法规范市场行为  
B. 保护私人物权  
C. 维护竞争中契约精神  
D. 法律的普适性

32. 下列选项中，史实与史论相符合的是（ ）

	史实	史论
①	创作于13世纪的戏剧《罗宾与玛丽昂》以旋律自然的对话形式，歌颂了民间爱情的忠贞，嘲弄了封建骑士的卑劣	西欧社会人文主义广泛传播
②	中古时期法国享有铸币权的诸侯人数逐渐减少	中古时期法国诸侯的特权被取消
③	《天方夜谭》中的很多故事反映了帝国境内各族人民以及印度和中国等东方各国人民的生活习俗、社会制度等	阿拉伯帝国促进了多元文化的交汇
④	《高丽律》规定：“年古七十以上父母无守护，其子孙犯罪应配岛者，存留孝养。”	高丽王朝孝文化历史悠久

- A. ①  
B. ②  
C. ③  
D. ④

33. 某学者在研究苏俄（联）某一经济政策时写道：“反对者认为该政策使财富在一极积累，而另一极贫困。也许在某个地方工业和商业会得到发展，但工人阶级会落入深渊，矛盾将发展，其结果将导致资本主义复辟。”据此可知该政策（ ）

- A. 推动国家工业化实现
- B. 是直接过渡到共产主义的实践
- C. 实行了国家资本主义
- D. 使国家走上资本主义发展道路

34. 如表所示为20世纪二三十年代伊拉克发展大事记。这可用来说明（ ）

时间	事件
1921	英国将费萨尔立为伊拉克国王
1922	费萨尔政府与英国签订《英伊条约》伊拉克取得名义上的独立
1930	英国宣布正式结束委任统治，伊拉克成为一个独立的国家
1932	伊拉克在英国的支持下成为国际联盟的成员国

- A. 民族独立运动进入新阶段
- B. 英国殖民体系受到冲击
- C. 英国的经济实力受到削弱
- D. 世界殖民体系走向瓦解

35. 1959年美苏两国依据文化协议举办国家展览，在莫斯科展出的美国主要展品是食品、服装、体育用品、书籍、音响设备；在纽约展出的苏联主要展品则是喷气式飞机、拖拉机、汽车、水力发电装置。据此可知（ ）

- A. 美国民生产品更具吸引力
- B. 苏联重工业取得显著成就
- C. 和平与发展成为时代主流
- D. 美苏冷战渗透到文化领域



## 第II卷（非选择题）

二、非选择题：共 160 分。(36-37题为地理必答题；38-42题为政治必答题；43-45为历史必答题。)

36. 阅读图文资料，完成下列要求。（28分）

材料一 俄罗斯是国土面积世界第一的国家，但相比于中国全里程15万公里的高速公路，美国7.7万公里的高速公路网，俄罗斯的高速公路不过才只有区区的几千公里，且多数为苏联时期建造。在国土面积广阔的前提下，俄罗斯的国产民用轿车却品牌少、产量低。在“一带一路”倡议下，中国C汽车公司在俄罗斯图拉市建立了生产厂，产出的SUV车型主要销往俄罗斯和周边的欧洲国家。

材料二 当今世界，俄罗斯是小麦生产和出口大国。俄罗斯采用轮耕的种植方式，并严格控制化肥农药的使用量和严格限制转基因小麦种子的使用。在单产方面，冬小麦平均每亩只有500斤左右，春小麦更低，只有240斤左右。而我国小麦平均亩产可达800斤。



图6 俄罗斯高速公路分布图

- (1) 简述俄罗斯高速公路里程短的原因。（6分）
- (2) 与中国相比，分析该工厂生产的汽车针对俄罗斯市场在配置上需要做出的调整。（8分）
- (3) 指出俄罗斯谷物农业主要分布区，分析该区域适宜农业发展的自然地理条件。（8分）
- (4) 结合俄罗斯的自然环境，说出俄罗斯小麦总产量较我国少但出口量较多的原因。（6分）

37. 阅读图文资料，完成下列要求。（28分）

材料一 2020年中国南水北调集团有限公司成立，主营调水工程建设与运营、城市供水、沿线资源开发。已建成的南水北调中线和东线工程以明渠为主，全长约2899km。输水线路的日常运行耗电量巨大，公司计划在中、东线输水明渠上建设水面光伏发电(下图示意南水北调中、东线路分布)，采用“自用 自发、余电上网(国家电网)”的运营模式，被誉为我国的“绿色长城”。



图7 南水北调中东线路分布图

材料二 高端航运服务业主要从事航运交易、海事融资、海上保险、船级管理、海事仲裁、船舶经纪、风险管理、货运代理、航运信息咨询、航运相关培训等方面服务。上海作为长三角城市群的核心城市，高端航运服务业服务水平高、发展速度快，企业数量从2006年的31家增加到2018年的124家。

- (1) 简述在输水明渠上建设水面光伏发电的经济效益。(8分)
- (2) 指出中、东线水面光伏工程被誉为“绿色长城”的原因。(6分)
- (3) 简述上海高端航运服务业数量的增加对长三角地区经济发展的影响。(8分)
- (4) 为促进高端航运服务业的发展，提出合理化建议。(6分)

38. 阅读材料，完成下列要求。（10分）

一名党员就是一面旗帜、一根标杆。乌鲁木齐新民路支行副行长李鹏就是这样的旗帜和标杆。

◆入行以来，李鹏不忘初心，心系人民，获得过“全国优秀共产党员”“全国劳动模范”、“全国五一劳动奖章”、“全国三八红旗手”等荣誉称号。她说：“作为一名共产党员，要有坚定的理想信念，首先要做到忠诚、干净、担当，无论何时都要勇挑重担、勇于担责。还要做到廉洁自律，不能触碰底线、逾越红线。”

◆扎根基层银行网点30多年，她追求精益求精，努力提升自身专业素养，用心用情为群众服务；她言传身教、先后带徒近50人，为优质服务队伍补充“新鲜血液”。她将工作经验提炼成“李鹏工作法”，对年轻同事倾囊相授。如今，这些年轻人在工作中都能独当一面。

◆深耕基层一线，为群众送去党的好声音。她结合自己的成长经历、奋斗故事、切身感受，向金融职工乃至各族群众通俗易懂地宣传党的创新理论，凝聚奋进力量。

结合材料，运用《政治与法治》的知识，说明李鹏是如何发挥共产党员的先锋模范作用的。

（10分）

39. 阅读材料，完成下列要求。（10分）

3月5日，习近平总书记在参加江苏代表团审议时强调，要紧紧抓住人民群众急难愁盼问题，着力做好重点群体就业帮扶服务等工作。甘肃认真贯彻落实习近平总书记重要讲话精神，充分认识到今年高校毕业生人数的持续增加，疫情和经济下行导致的企业裁员或降薪及存量就业群体结构性矛盾突出等问题，从自身实际出发，实施一系列举措，着力做好重点群体就业帮扶工作。

高校毕业生——“一生一策”荐岗位，“校地联盟”搭桥梁

2023年春季开学以来，兰州大学按照“一人一档”“一生一策”的要求，分阶段开展精准化就业指导。“从就业中心到学院辅导员，再到班级就业联络人，从简历、网申、笔试到面试，形成了立体的就业信息服务网络。”截至目前，共举办线上线下招聘活动1151场，提供就业岗位1.3万余个。

就业困难人员——公益岗优先安置，家门口实现就业

甘肃通过乡村就业工厂等多种渠道，帮助大龄农民工、乡村女性等人员就近就业。截至目前，全省累计认定2541个乡村就业工厂，吸纳就业9.76万人。

结合材料，运用具体问题具体分析的相关知识，说明甘肃省是如何贯彻习总书记讲话精神，破解就业难题的。（10分）



40. 阅读材料，完成下列要求。（10分）

伊朗总统于2023年2月7日签署命令，要求实施有关伊朗加入上海合作组织的法律。伊朗总统网站声明上合组织在经济等诸多领域积极开展活动，伊朗正式加入后能够更有效地维护其在相关领域的利益。此外，伊朗成为上合组织成员国的重要性之一是促进伊朗参与“一带一路”倡议。当地时间2月22日，白俄罗斯外交部长提出，2023年白俄罗斯最重要的外交任务就是加入上海合作组织。

上合组织不是封闭排他的“小圈子”，而是开放包容的“大家庭”，走出了“结伴不结盟、对话不对抗”的新路。中吉乌铁路开辟了亚欧互联互通新通道，建设中欧班列和中亚交通基础设施，现代农业、现代物流、跨境电商、绿色能源、人工智能、大数据、跨境支付、信用评级、文旅交流等领域的合作，打击“三股势力”、毒品走私、网络和跨国有组织犯罪，应对数据安全、生物安全等非传统安全挑战……未来可期，上合组织将继续造福各成员国和促进地区与全球安全稳定。

结合材料，运用《当代国际政治与经济》的知识，说明上合组织大家庭不断扩员的原因。（10分）

41. 阅读材料，完成下列要求。（12分）

近日，北京二中院披露了一起劳动纠纷案，案件中用人单位以员工考核结果为“待改进”为由与员工解除了劳动合同。张某入职之初，甲公司即向其送达了《绩效管理办法》，该办法规定：“个人绩效考核结果连续两个季度为待改进或年度绩效考核结果为待改进的，甲公司有权对员工予以解聘处理。”

2019年，张某年度考核结果为待改进；2020年第一季度，张某的考核结果为待改进。2020年5月，甲公司向张某送达《解除劳动合同通知书》（依据《中华人民共和国劳动合同法》第三十九条的规定）。张某认为甲公司的解除行为违法，遂提起劳动仲裁，要求甲公司继续履行劳动合同。2020年10月，劳动争议仲裁委员会裁决甲公司与张某继续履行劳动合同。甲公司不服该裁决，向法院提起诉讼。

法院经审理认为，甲公司制定的《绩效管理办法》虽然规定员工连续两个季度或年度考核结果为待改进时即可解除劳动合同，但是该情形不符合《中华人民共和国劳动合同法》第三十九条的规定。法院判决公司属于违法解除，双方应继续履行劳动合同。

附《中华人民共和国劳动合同法》第三十九条的规定：劳动者有下列情形之一的，用人单位可以解除劳动合同：（一）在试用期间被证明不符合录用条件的；（二）严重违反用人单位的规章制度的；（三）严重失职，营私舞弊，给用人单位造成重大损害的；（四）劳动者同时与其他用人单位建立劳动关系，对完成本单位的工作任务造成严重影响，或者经用人单位提出，拒不改正的；（五）因本法第二十六条第一款第一项规定的情形致使劳动合同无效的；（六）被依法追究刑事责任的。

（1）结合材料与《中华人民共和国劳动合同法》第三十九条的规定，运用《法律与生活》的知识，分析法院判决的合理性。（6分）

（2）结合材料，运用《法律与生活》的知识，阐述本案对构建和谐劳动关系的启示。（6分）

42. 阅读材料，完成下列要求。（10分）

以“如果王丽、张超获得了‘学习二十大精神’征文一等奖，那么韩梅没有获得一等奖”为其中一个前提，若要必然推出“王丽没有获得征文一等奖”这一结论，则需要补充什么前提。

运用《逻辑与思维》的相关知识写出推导前提的过程。（10分）

43. 阅读材料，完成下列要求。（25分）

材料一 与任何其他国家一样，美国自诞生之日国家安全的问题就相伴而生。从建国到19世纪末，美国政府专注于国内的发展和在美洲的扩张，国家安全主要是本土和西半球的安全……第二次世界大战彻底改变了美国的国际行为模式，使其国家安全有了新的含义。对外，不可避免地深深卷入世界事务。20世纪50年代，美国国家安全内外因素联系非常紧密，以至于艾森豪威尔总统认为安全问题与外交问题为一回事。1989年后，美国开始调整其安全战略，其重点转向建立美国独霸全球的单极世界。

——摘编自孟庆龙《美国国家安全思想和战略的演变》

材料二 新中国成立后，毛泽东作了“现在的世界，是处在战争与革命的时代”。进入20世纪60年代，毛泽东提出了“世界大战不可避免”的现点，认为保障国家安全的手段主要是增强军事实力和建立国际统一战线，在传统国家安全观时期，中国建立了一套以中共中央委员会和中共中央军事委员会为主体的国家安全领导体制。进入20世纪70年代末，非法谍报活动和“和平演变”活动等外部非军事安全问题，成为主要外部安全问题。1993年，中国出台了《中华人民共和国国家安全法》从法律上对国家安全机关的反间工作做出规定。特别是进入20世纪90年代末，中国官方越来越多地提及生态安全、信息安全，能源安全、文化安全等更广泛的非传统安全问题。在转型国家安全观时期，中国开始组建专门机构，履行国家安全领域重大问题的决策和协调职责。

——摘编自钟开斌《中国国家安全观的历史演进与战略选择》

材料三 总体国家安全观是党中央领导集体面临错综复杂的新的安全局势创造的最新理论成果，“以人民安全为宗旨，以政治安全为根本，以经济安全为基础，以军事、文化、社会安全为保障，以促进国际安全为依托”，是中国国家安全理论的最新成果。

——摘编自张志丹《总体国家安全观的重要意义》

- (1) 根据材料一并结合所学知识，指出近代以来美国国家安全战略的阶段性特点及形成的主要原因。（12分）
- (2) 根据材料二并结合所学知识，概括中国国家安全观的变化并分析其原因。（9分）
- (3) 根据材料三并结合所学知识，阐述总体国家安全观的重要意义。（4分）



44. “中国”是一个具有特定空间、由不同民族和不同文化在漫长的历史中不断融合而形成的共同体。阅读材料，完成下列要求。（12分）

内容	出处
“中国”一词出现后，仅在古代中国就衍生出多种含义，如王国都城及京畿地区、中原地区、国内或内地、诸夏族居地乃至华夏国家等。	许宏《前中国时代与“中国”的初兴》
在辽宋夏金对峙时期，金人一直自称“中国”。金人进据中原后，即沿袭汉族儒士这种“中原政权即是中国”的传统观念……其实金朝争正统，并不是为了将同时存在的其他政权排除在“中国”之外，不过是为金朝争得一定的政治地位，以便得到各个政权的承认，更有利于他们的统治而已。	赵永春《试论金人的“中国”观》
整个中国是一个“天下”……将各种地方文化吸纳入中原文化，使“天下”的文化多元而渐变，共存而不排他。这样一个核心，加上其放射的影响力，终于形成了后世的“中国”。于是，即使在古代各地的居民原来可能是有不同基因的族群，经过如此布局，实际上所谓的“中国”居民，已经是来源复杂的混合体。“中原”向四周扩散，又不断融合，终于熔铸为一个人数众多的文化、经济、政治共同体。	许倬云《说中国》

依据材料并结合中国古代史内容，自拟一个论题，并就所拟论题进行阐述。（要求：明确写出所拟论题，阐述须有史实依据。）（12分）

45. 阅读材料，完成下列要求。（15分）

材料 19世纪70年代，生丝外销的不振及其由此造成的国际收支逆差，引起中国各界的震惊。从70年代中到80年代初，以《申报》为中心，展开了如何振兴丝业、挽救国粹的讨论。1874年《申报》第一次在中国对“西国治蚕茧之法”进行介绍：“盖中国人于蚕茧方成之时，即欲抽取以做生丝，宜其丝内多有损坏也。如能照西法治之，则断无此等弊矣”。1881年又在《论丝、茶二业整顿难易》中指出：在西方国家，“商”受“官”之保护，只要对振兴输出有利，“官”即尽心竭力加以培育，以供“商”之利用。要想振兴贸易，就必须改造迄今的“官”“商”关系，使官、商结为一体，互为助力。随后《申报》发表《观缫丝局记》，以实地考察丝厂生产的游记形式，记述了公平缫丝局的规模、机器设施、原料储备、生产过程和管理状况，引起强烈反响，破除了社会上对投资或举办机器丝厂的犹疑和观望心态。1887年，总理衙门发出上谕：“令民间置办机器缫丝，不必由官经理”。

——摘编自杨中华等《近代中国工业化的第一次大讨论》

(1) 根据材料，概括《申报》关于振兴丝业的建议。（5分）

(2) 结合相关历史背景，评价近代工业化的第一次大讨论。（10分）

## 关于我们

自主选拔在线是致力于提供新高考生涯规划、强基计划、综合评价、三位一体、学科竞赛等政策资讯的升学服务平台。总部坐落于北京，旗下拥有网站（[网址: www.zizzs.com](http://www.zizzs.com)）和微信公众平台等媒体矩阵，用户群体涵盖全国 90% 以上的重点中学师生及家长，在全国新高考、自主选拔领域首屈一指。

如需第一时间获取相关资讯及备考指南，请关注**自主选拔在线**官方微信信号：**zizzsw**。



 微信搜一搜

 自主选拔在线

