

# 喀什地区 2023 年普通高考 4 月适应性检测

## 文科综合

(卷面分值: 300 分; 考试时长: 150 分钟)

### 注意事项:

1. 本试卷分第 I 卷(选择题)和第 II 卷(非选择题)两部分。答题前, 考生务必将自己的姓名、准考证号填写在本试卷和答题卡相应的位置上。
2. 回答第 I 卷时, 选出每小题答案后, 用 2B 铅笔把答题卡上相应题目的答案标号涂黑。如需改动, 用橡皮擦干净后, 再选涂其他答案标号。写在本试卷上无效。
3. 回答第 II 卷时, 将答案写在答题卡上, 写在本试卷上无效。
4. 考试结束后, 将本试卷和答题卡一并交回。

### 第 I 卷(选择题)

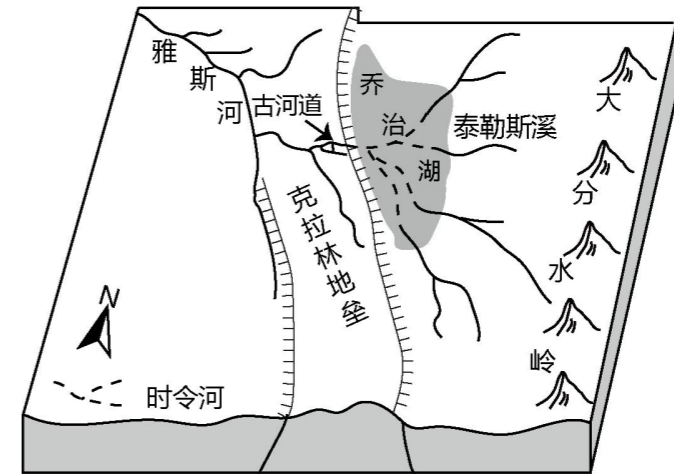
一、选择题: 本卷共 35 小题, 每小题 4 分, 共 140 分。在每小题给出的四个选项中, 只有一项是符合题目要求的。

在某城市中心, 一种创新型绿色建筑——垂直森林高层住宅落成面世。它是在建筑的垂直方向上, 覆盖满本地乔木、灌木和草本等植物, 为每层住户营造“空中花园”, 形成具有森林效应的生态居住群落。图示意“垂直森林”局部景观。据此完成下面小题。



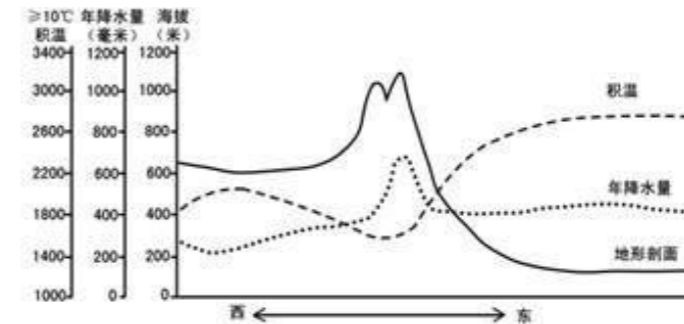
1. 与传统设计相比, “垂直森林”在居住空间设计上变化最大的地方是( )  
A. 厨房      B. 客厅      C. 卧室      D. 阳台
2. “垂直森林”的灌溉系统适宜采用( )  
A. 井灌      B. 漫灌      C. 喷灌      D. 滴灌
3. 相较于一般城市绿地, “垂直森林”( )  
A. 抗风能力更强      B. 生态系统更加稳定  
C. 土地利用效率更高      D. 维护成本更低

古雅斯河发源于澳大利亚大分水岭西侧, 古河道为遗留废弃河道, 地垒为两个同性质断层之间的上升断块。读图, 完成下面小题。



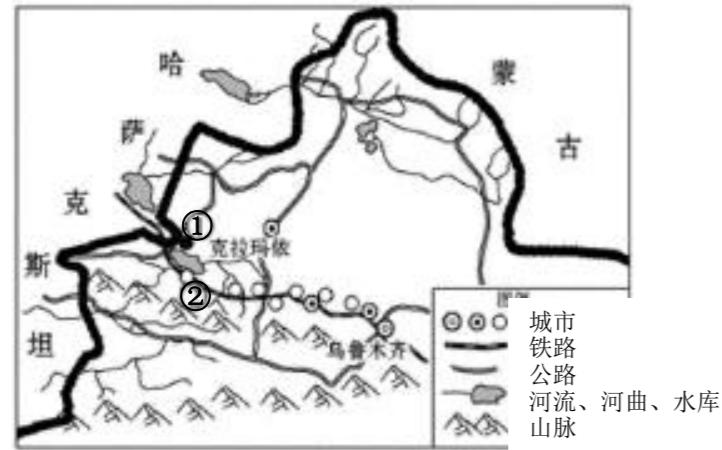
4. 图中( )  
A. 强烈的构造运动导致古河道演变      B. 泰勒斯溪与雅斯河属于同一水系  
C. 大分水岭地处太平洋板块的边界      D. 雅斯河自西北向东南流入乔治湖
5. 乔治湖( )  
A. 流域面积逐渐减小      B. 多以冰川补给为主  
C. 水位季节变化大      D. 参与海陆间循环

读我国大兴安岭东西坡积温和降水量图, 回答下列问题。



6. 图中积温最小处出现的海拔高度大约是( )  
A. 800 米左右      B. 1000 米左右      C. 600 米左右      D. 200 米左右
7. 造成东西坡积温差异的主要原因有( )  
①地势高低    ②受冬季风影响的强弱    ③纬度高低    ④距海远近    ⑤植被类型的不同  
A. ①②③      B. ②③⑤      C. ①②④      D. ③④⑤
8. 下列关于山脉东坡降水量变化的叙述中, 正确的是( )  
A. 随高度的增加先变化不大, 后降水量明显增加  
B. 随高度的增加降水量先增加后减少  
C. 随高度的增加降水量先减少后增加  
D. 随高度的增加降水量减少

克拉玛依的魔鬼城曾是丝绸之路的重要景观, 而今作为我国西部重要的石油工业重镇, 克拉玛依是新疆最大的外来移民城市, 城市化水平超过乌鲁木齐。下图为我国新疆北部区域示意图。读图完成下面小题。



9. 下列地理因素与①、②两地降水量差异无明显相关性的是 ( )
- A. 地形      B. 湖泊      C. 盛行风      D. 距海远近
10. 图示城市分布区的地貌类型成因是 ( )
- A. 流水侵蚀      B. 冰川堆积      C. 风力侵蚀      D. 流水堆积
11. 克拉玛依城市化水平高于乌鲁木齐, 主要是克拉玛依 ( )
- ①为工业城市, 第二产业比重大      ②规模大, 等级高, 服务范围广  
③农业生产条件差, 从事农业人口少      ④城市起步早, 第三产业发达
- A. ①②      B. ①③      C. ②③      D. ②④
12. 2022 年我国社会消费品零售总额达到 439733 亿元, 比 2012 年增长 1.1 倍, 年均增长 8.8%; 消费对 GDP 增长的贡献率为 65.4%, 比 2012 年提升 10 个百分点; 全国网上零售额 13.1 万亿元, 比 2012 年增长 9 倍。由此可以推断出: ( )
- ①我国居民可支配收入增长, 消费对经济拉动作用增强  
②居民消费结构日趋完善, 居民生活水平不断提升  
③经济发展转入高速增长阶段, 激发居民消费动力  
④消费新业态蓬勃发展, 助力居民消费需求扩大
- A. ①②      B. ①④      C. ②③      D. ③④
13. 2023 年, 中央企业战略性重组和专业化整合力度加大。今后一个时期, 要瞄准高水平、导向性, 支持推动国有资本协同合作, 持续推进低效无效资产和非主业非优势业务退出, 做好产能过剩行业整合, 促进产业调整升级。由此可见, 中央企业战略性重组和专业化整合可以 ( )
- ①有效解决央企同质化竞争, 打造优势企业  
②大力引进战略投资者, 优化央企股权结构  
③实现各类资本优势互补, 做优做强国有资本  
④加快国有经济布局优化, 提升国有资本配置效率
- A. ①②      B. ①④      C. ②③      D. ③④
14. 2023 年积极的财政政策要加力提效。支出、税收、政府债券等都是财政政策的重要工具, 中央经济工作会议要求保持必要的财政支出强度, 优化组合赤字、专项债、贴息等工具, 在有效支持高质量发展中保障财政可持续和地方政府债务风险可控。下列关于积极的财政政策的作用路径分析正确的是 ( )
- ①增加专项债券规模→撬动社会资本→形成投资合力→持续形成投资拉动力  
②扩大财政支出规模→扩大有效投资→增加社会总供给→促进经济平稳运行  
③实行减税降费政策→减轻企业负担→降低企业经营风险→释放企业发展活力  
④优化财政支出结构→加大重点领域投入→推动产业转型升级→实现高质量发展
- A. ①②      B. ②③      C. ①④      D. ③④

15. 在全球经济下行压力的冲击下, 一些经济体面临需求锐减、产业链供应链服务中断等问题。在此背景下, 2022 年 8 月 31 日, 2022 年中国国际服务贸易交易会 (简称服贸会) 在北京举办。“服贸会”的举办 ( )
- ①目的在于吸引更多外商投资, 为我国创造更多的就业机会  
②展现了我国加强国际贸易合作、推动世界经济复苏的意愿  
③说明服务贸易全球化势不可挡, 已经成为世界经济新引擎  
④旨在促进服务贸易高质量发展, 提高我国服务业的竞争力
- A. ①②      B. ①③      C. ②④      D. ③④
16. “领导留言板”是《人民日报》专门为中央部委和地方各级党委政府主要负责同志搭建的网上群众工作平台。2023 年 2 月 24 日发布的《2022 年度“领导留言板”江苏数据报告》显示, 过去一年, 江苏板块共收到群众留言 2.8 万余件, 2.6 万余件获相关部门回复, 回复率为 94%。在留言评价量 5000 件以上的省份中, 网民评价满意度居全国首位。“留言板”堪称我国全过程人民民主的成功实践范例。这种“全过程人民民主” ( )
- ①是一种最广泛、最真实、最管用的民主      ②体现了人民民主的阶级性  
③有利于提升公民的政治参与意识      ④是保证人民行使当家作主权力的根本途径
- A. ①②      B. ①③      C. ②④      D. ③④
17. 党的二十大报告提出“构建高水平社会主义市场经济体制”, 而“放管服”正是实现这一目标的重要手段。为不断增加市场活力, 实现社会生产力的迅速发展, 要求政府对行政审批权力持续“瘦身”、“放管服”改革继续升级提速。提升面向市场主体和人民群众的政务服务效能, 着力推动已出台政策落地见效。这要求政府 ( )
- ①依照法定程序和方式进行执法活动, 有效履行职能服务社会公众  
②通过优化流程、运用现代科技等手段, 不断提高行政效率和水平  
③理顺办事环节简化审批流程, 助力企业节约时间成本提高竞争力  
④坚持全心全意为人民服务的工作态度, 树立求真务实的工作作风
- A. ①③      B. ①④      C. ②③      D. ②④
18. 十四届全国人大一次会议由全体人大代表表决通过了关于修改《中华人民共和国立法法》的决定。立法法是规范国家立法制度和立法活动、维护社会主义法治统一的基本法律。此次立法法修改, 不仅对立法指导思想与时俱进地作了修改完善, 同时还丰富了依法立法、民主立法原则的内涵。此次立法法修改 ( )
- ①有助于完善中国特色社会主义法律体系, 建设社会主义法治国家  
②人大代表行使立法权, 实现人民当家作主的权利  
③全国人民代表大会是最高国家权力机关, 行使最高决定权  
④全国人大坚持民主集中制, 推进依法治国进程
- A. ①③      B. ②③      C. ①④      D. ②④
19. 2022 年 6 月 11 日是“文化和自然遗产日”。文化和旅游部启动非遗宣传展示系列活动, 各地将举办 6200 多项非遗宣传展示活动, 这些活动旨在促进非遗资源数字化转化利用和全民共享、满足公众认识非遗、学习非遗、研习技艺的需求, 展示非遗服务经济社会发展的积极作用。重视“非遗”保护工作的文化价值在于 ( )
- ①保护人类文化的传承, 培植社会文化的根  
②延续历史文脉, 凝聚民族情感, 坚定文化自信  
③促进文明交流交融, 推动中华文化产业的发展  
④弘扬革命文化, 为建设文化强国提供精神火炬
- A. ①②      B. ①④      C. ②③      D. ③④
20. 习近平主席在 2023 年新年贺词中指出: “今天的中国, 是赓续民族精神的中国。这一年发生的

地震、洪水、干旱、山火等自然灾害和一些安全事故，让人揪心，令人难过，但一幕幕舍生取义、守望相助的场景感人至深，英雄的事迹永远铭记在我们心中。每当辞旧迎新，总会念及中华民族千年传承的浩然之气，倍增前行信心。”这说明，中华民族精神是（ ）

- ①支撑中华民族生存、发展的精神支柱
- ②发展中国特色社会主义的立足点，引领人们不断前进
- ③中国人民在长期奋斗中培育、继承和发展起来的
- ④人民的宝贵精神财富，为中华民族伟大复兴提供物质滋养

A. ①②            B. ①③            C. ②④            D. ③④

21. “五个必由之路”是习近平总书记站在党和国家事业发展的战略高度，回顾新时代党和人民奋进历程，精辟概括这一历程所形成的重要认识，即“坚持党的全面领导是坚持和发展中国特色社会主义的必由之路，中国特色社会主义是实现中华民族伟大复兴的必由之路，团结奋斗是中国人民创造历史伟业的必由之路，贯彻新发展理念是新时代我国发展壮大的必由之路，全面从严治党是党永葆生机活力、走好新的赶考之路的必由之路”。“五个必由之路”重要认识说明（ ）

- ①真理与客观事物的符合关系必然随着人类的实践发展而拓展深化
- ②正确认识的获得往往要经过由认识到实践再到认识的多次反复才能完成
- ③要与时俱进，开拓创新，在实践中追求和发展真理
- ④真理是在不断克服谬误的基础上获得的

A. ①②            B. ①③            C. ②③            D. ③④

22. 小麦赤霉病，是世界范围内极具毁灭性且防治困难的真菌病害，有小麦“癌症”之称。我国科学家团队从小麦近缘植物长穗偃麦草中首次克隆出抗赤霉病主效基因 Fhh7，且成功将其转移至小麦品种中，首次明确并验证了其在小麦抗病育种中不仅具有稳定的赤霉病抗性，而且具有广谱的解毒功能。这表明（ ）

- ①人们可以根据自身的需求，创造具体的人为事物的联系
- ②联系是普遍的，任何事物之间都存在联系
- ③人们能够把握不同基因之间的联系并根据需要加以利用
- ④联系是客观的、有条件的，必须尊重客观联系

A. ①③            B. ②④            C. ③④            D. ①②

23. 中共中央组织部印发《关于改进推动高质量发展的政绩考核的通知》，从考核导向、内容指标、方式方法、结果运用、组织实施等方面，对改进推动高质量发展的政绩考核作出了明确具体的规定。《通知》的印发（ ）

- ①旨在以价值观引领经济的高质量发展            ②体现了党中央调整经济基础以巩固上层建筑
- ③发挥了社会意识对社会存在的能动作用            ④有利于引导领导干部树立正确政绩观

A. ①②            B. ①③            C. ②④            D. ③④

24. 有学者指出，春秋战国时期，随着战争频率的提高和规模的扩大，兵制改革日益急迫。于是，在齐国实行“国野分治”建立军旅组织、晋国“作州兵”扩大军队规模、楚国“清查户口”以整顿军备之后，编户齐民成为当然，作为其保障的乡里制度和郡县制度等也随之出现。这反映出春秋战国时期（ ）

- A. 兵役制度改革取得了显著成效            B. 诸侯国都加强了对人口的控制
- C. 郡县制度在各地普遍建立起来            D. 诸侯国生存竞争推动社会转型

25. 据《三辅黄图》记载：“（汉代）长安市有九，凡各方二百六十六步。六市在道西，三市在道东。四里为一市，致九州之人在突门，夹横桥大道，市楼皆重屋，又曰旗亭楼。”汉代“市井”图砖显示，汉代集市四周有围墙，东、西、南三方设门，每门三开。这反映出汉代（ ）

- A. 注重城市集市规划            B. 城市集市较为开放
- C. 重农抑商政策废弛            D. 市场经营管理规范

26. 进奏院始建于唐代安史之乱期间，一般由藩镇自行选举所属幕职担任，其主要职责是接待各地来京办事的官员、转递公文、收集情报等。宋代设都进奏院统一管理各州进奏院，并对进奏官进行厘选，一般以八品文官或三班使臣充任，仅为传递公文的文书官员。这一变化反映出宋代（ ）

- A. 监察制度建设的延续性            B. 中央集权统治得到强化
- C. 地方机构的膨胀            D. 选官制度的完善

27. 明前期，底层文人为满足市场需求创作通俗小说。明中后期，一批具有影响力的文人贤达从“致君尧舜”转向“致民尧舜”，也参与到通俗小说的评点和创作中，以教化百姓。由此可知，明代中后期（ ）

- A. 市民文学转向精英化            B. 商业发展瓦解传统伦理
- C. 经世致用成为主流价值            D. 心学思想影响力扩大

28. 鸦片战争后中国社会生活发生巨大变化，譬如清政府除传统的驿传制度外，又新建了以轮船、电报等为基础的通信电报系统。传统的驿站制度以国家财政全额支付，官府专用；新的通信电报系统采用资本主义的经营的方式，同时开放给官府和百姓使用。1906年清廷专设邮传部，并于1912年废除驿传制度。由此可知（ ）

- A. 经济变迁促进了制度的革新            B. 西学传播加剧清朝半殖民地化
- C. 政权的更迭有利于技术的改进            D. 交通发展深刻影响人们生活

29. 1895《马关条约》的签订进一步惊醒了中国人，绅商初步萌生了近代民族主义意识，呼吁商人确立“公共思想”，尽“公共义务”，和西方开展“商战”。这表明当时（ ）

- A. 义利观念发生根本改变            B. 维新变法呼声高涨
- C. 民主共和观念深入人心            D. 救亡图存意识增强

30. 下图是1941年美术家古元在延安创作的木刻画《逃亡地主又归来》，该图意在说明边区（ ）



- A. 封建势力卷土重来            B. 土地革命深入开展
- C. 阶级矛盾彻底消除            D. 贯彻落实统战政策

31. 2019年以来，教育部批准22所学校开展本科层次职业教育试点，打破了职业教育止步于专科层次的“天花板”。2021年，国务院提出在“十四五”时期，要以高等职业教育改革为主要任务，大力培养重点领域专业人才。由此可见，职业教育改革（ ）

- A. 标志着我国已经全面建成小康社会            B. 适应新时代经济社会发展的要求
- C. 致力于培养工匠精神与创新精神            D. 为奋进的中国提供强大的精神力量

32. 考古发现，阿富汗一处公元1世纪的遗址中墓主的装饰品有骑海豚少年金领别针、半裸的女神阿洛狄忒垂饰、雕着女神像用希腊语刻着雅典娜名字的戒指、罗马提比略皇帝金币、刻着汉字的中国铜镜。这些出土物反映出当时（ ）

- A. 丝绸之路加强了中外交流            B. 希腊文化是当时最优秀的文化
- C. 罗马帝国的扩张促使其金币向外流传            D. 该地区是东西文明的交汇地区

33. 西班牙地理学家洛佩斯·德·维拉斯科于1574年写成《印度群岛地理通论》一书。书中表现出对信息、数字、规模、名字、疆域的难以抑制的欲望，令人感到世界在无限延伸。这反映出

作者（ ）

- A. 认为世界市场已初步形成
- C. 重视科学方法

- B. 已具有全球维度意识
- D. 主张构建环球交通网络

34. 1931年美国四分之三的学校管理委员会拒绝聘请已婚妇女当教师，美国劳工联合会敦促雇主不要雇佣其丈夫仍在工作的妇女，一些媒体舆论也赞同这一做法。当时美国出现这一现象是由于（ ）

- A. 当时的性别歧视所致
- C. 萧条时期就业竞争激烈
- B. 社会普遍都重视家庭观念
- D. 政府的福利政策不需要已婚妇女工作

35. 二战后的非洲新兴国家中，埃及，苏丹，利比亚曾提出“阿拉伯社会主义”，加拿大提出“泛非社会主义”，塞内加尔民主社会主义等；拉丁美洲则普遍流行基督教社会主义，另外阿根廷和玻利维亚也曾经宣布搞“军事社会主义”等。这表明（ ）

- A. 社会主义思潮推动民族解放事业
- C. 全球化助推意识形态趋于一致
- B. 社会主义阵营扩大到非洲和拉美
- D. 社会主义在世界的影响力增强

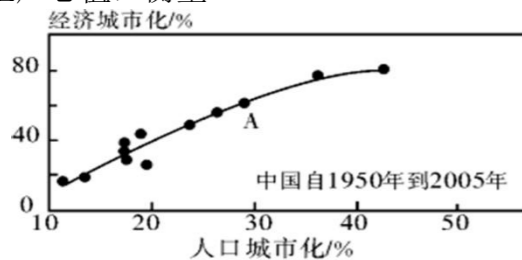
### 第II卷（非选择题）

二、非选择题：本卷包括必考题和选考题两部分。第36-42题为必考题，每个试题考生都必须作答。第43-47题为选考题，考生根据要求作答。（共160分）

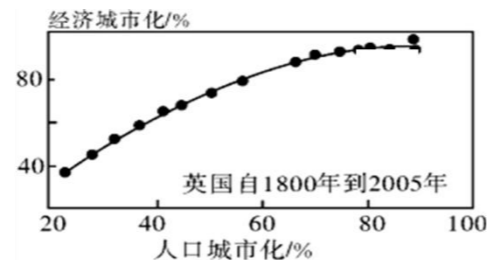
（一）必考题（共135分）

36.（22分）阅读下列有关城市化的图文资料，回答问题。

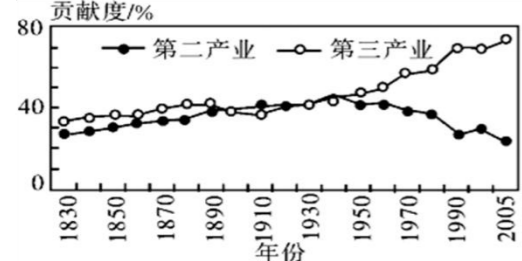
国际社会从各国城市化的实践出发，提出的现代城市化新概念，包含人口城市化和经济城市化两方面，经济城市化是指城市的财富积累状态，通常以城市建成区内各类生产活动所产生的GDP（国内生产总值）衡量。



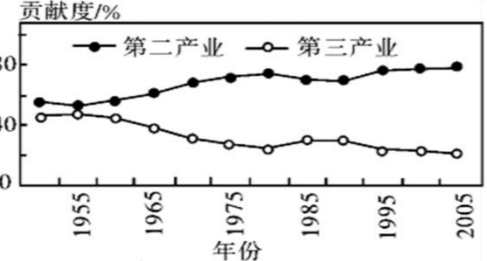
甲 中国人口城市化和经济城市化关系



乙 英国人口城市化和经济城市化关系



丙 发达国家产业发展对人口城市化的贡献



丁 中国产业发展对人口城市化的贡献

(1) 据图甲，归纳我国1950年到2005年城市化进程的特点。（4分）

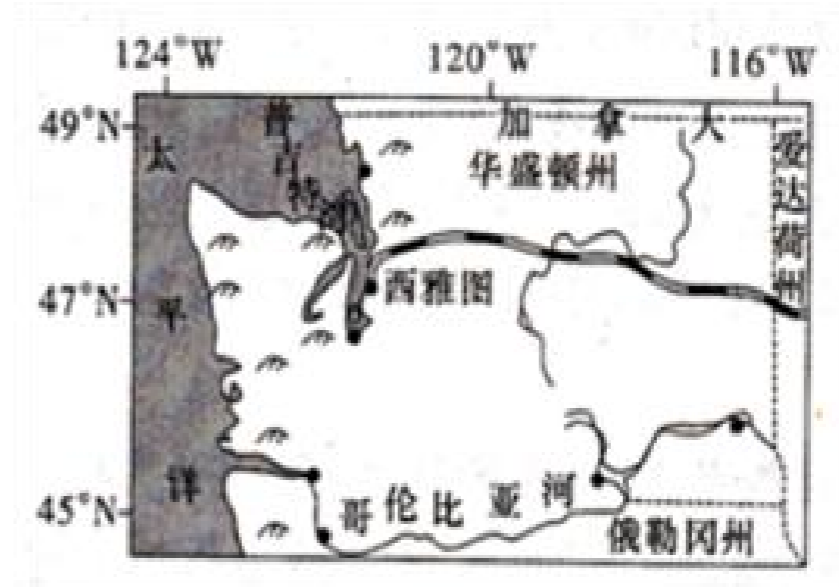
(2) 据图甲和图乙，比较中国和英国2005年城市化水平的差异。（4分）

(3) 据图丙和图丁，比较发达国家和中国1950年以来第二产业与第三产业对人口城市化发展贡献度的差异。（8分）

(4) 归纳分析我国城市化推进过程中，尤其应该关注哪一产业的发展？说明理由？（6分）

37.（24分）阅读图文材料，完成下列要求。

西雅图港与横跨北美大陆的铁路线相连，是美国本土通向亚太国家和阿拉斯加州的门户。西雅图所在的华盛顿州及南部俄勒冈州植被覆盖率达65%。哥伦比亚河是北美洲西部大河之一，源出加拿大南部落基山脉，注入太平洋，流域内植被保护较好，森林和铝土矿资源丰富，干支流建有很多大小水坝，用于灌溉和发电，流域大力发展炼铝业。下图为西雅图和哥伦比亚河位置示意图。



(1) 分析西雅图及其周边地区森林覆盖率高的自然原因。（4分）

(2) 分析哥伦比亚河春季径流量大的原因。（6分）

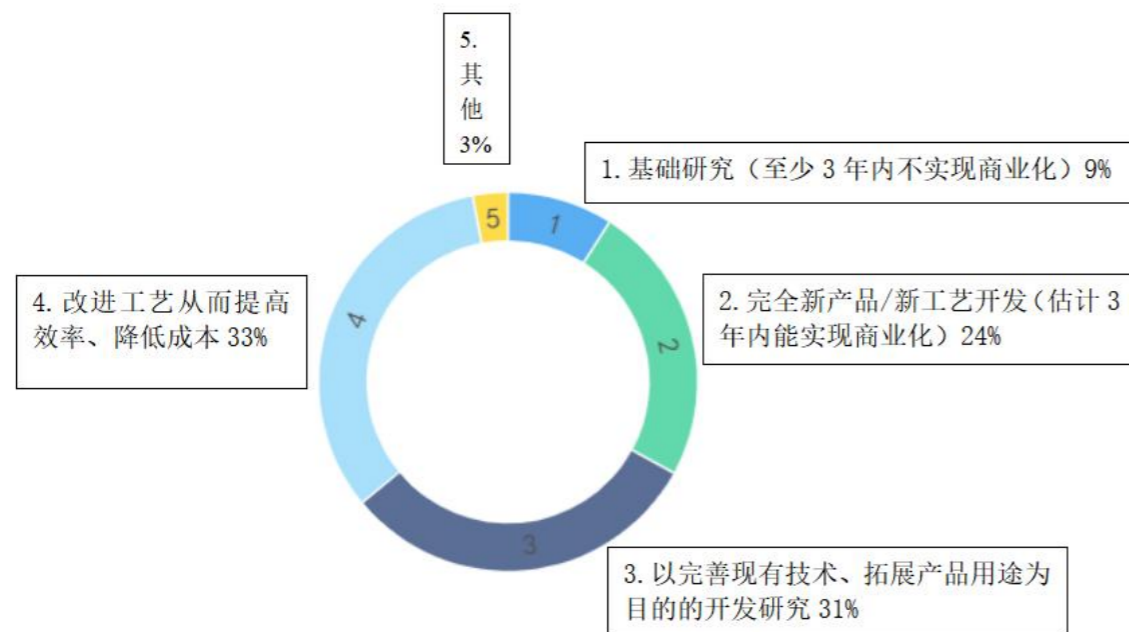
(3) 说明西雅图港成为美国西北部最大港口的地理条件。（8分）

(4) 简述哥伦比亚流域大力发展炼铝工业的优势条件。（6分）

38. (14分) 阅读材料, 完成下列要求。

创新是引领经济发展的第一动力

材料一



材料二

近年来, 某地紧牵科技创新“牛鼻子”, 推动企业从传统“制造”向“智造”转变, 点燃制造业转型升级新引擎。实施科技企业成长工程, 累计培育科技型企业 1440 家, 有效期内高新技术企业达 301 家; 出台“鼓励科技创新二十五条”, 打造市级及以上研发平台 127 个, 规模以上工业企业建立研发机构占比达 50%; 引导汽摩、消费品、电子等传统优势产业转型升级, 累计完成智能化改造项目 236 个, 培育智能工厂 3 个、数字化车间 34 个; 加快发展工业互联网, 建成工业互联网赋能中心, 引导 300 余家企业上云上平台。

(1) 解读材料一蕴含的经济信息。(4分)

(2) 结合材料二, 运用经济生活知识, 说明该地是如何点燃制造业转型升级新引擎的。(10分)

39. (12分) 阅读下面材料, 回答问题

4月6日, 全国人大外事委员会针对美国国会众议长麦卡锡等国会议员在美国会见台湾地区领导人蔡英文发表声明: 对美国国会众议长麦卡锡等国会议员不顾中方强烈反对和严正交涉, 执意会见“过境”窜美的台湾地区领导人蔡英文。此举严重违反一个中国原则和中美三个联合公报规定, 严重违背国际法和国际关系基本准则, 严重损害中方主权和领土完整。中国全国人大对此坚决反对, 予以强烈谴责。

中国的主权和领土完整不容侵犯、不容分割。世界上只有一个中国, 台湾是中国领土不可分割的一部分, 中华人民共和国政府是代表全中国的唯一合法政府。包括《开罗宣言》《波茨坦公告》在内的一系列国际法文件, 都明确了中国对台湾的主权。台湾除了作为中国的一部分, 没有其他国

际法地位。麦卡锡众议长作为美国政府三号政治人物, 所作所为严重违背美方在台湾问题上对中方所作承诺, 向“台独”分裂势力发出严重错误信号, 是对历史事实和正义的践踏, 是对国际法治的破坏。

台湾问题是中国核心利益中的核心, 是中美关系政治基础中的基础, 是中美关系第一条不可逾越的红线。我们坚决反对任何形式的美台官方往来, 严正敦促美国政府和国会停止歪曲虚化掏空一个中国原则, 停止跨越红线的冒险行径, 停止损害中美关系的政治基础。

结合材料, 运用国际社会的知识, 分析全国人大外事委员对美执意会见“过境”窜美的台湾地区领导人蔡英文的行为坚决反对和强烈谴责的原因。

40. (26分) 阅读材料, 完成下列要求。

材料一

一个国家实现现代化的具体道路不能照抄照搬他国, 必须基于自身历史和现实进行自主探索。早在改革开放初期, 邓小平就明确指出, “我们搞的现代化, 是中国式的现代化”。习近平总书记指出, 在新中国成立特别是改革开放以来长期探索和实践基础上, 经过十八大以来在理论和实践上的创新突破, 我们党成功推进和拓展了中国式现代化。中国式现代化, 既有各国现代化的共同特征, 更有基于自己国情的中国特色。世界上既不存在定于一尊的现代化模式, 也不存在放之四海而皆准的现代化标准。我们党把现代化理论构建和顶层设计与亿万人民的实践探索紧密结合, 坚持“先试点、后推广”的改革模式, 在先行先试形成集成制度创新、改革示范效应后再全面铺开, 党带领人民开创中国式现代化新道路的过程也是中国式现代化科学范式形成的过程。实践证明, 中国式现代化是符合中国国情、依靠人民创造的正确道路, 是一条面向未来、立足当下、蹄疾步稳的现代化新道路, 也为人类社会实现现代化提供了新选择。

材料二

习近平总书记指出: “西方很多人习惯于把中国看作西方现代化理论视野中的近现代民族国家, 没有从五千多年文明史的角度来看中国, 这样就难以真正理解中国的过去、现在、未来。”新中国成立特别是改革开放以来, 我们党团结带领人民探索中华民族复兴之路和中国发展的现代化道路, 从中华文明传统中寻找现代化的文化根基和源头活水, 是推动中国式现代化的基本经验。同时, 我们也注重借鉴世界各国现代化的有益经验。中国式现代化体现了中华文明传统和全人类共同价值的融通融合, 是 21 世纪人类社会现代化的康庄大道。

(1) 结合材料, 运用矛盾的普遍性和特殊性关系原理, 谈谈你对中国式现代化的认识 (10分)

(2) 结合材料二, 运用“文化创新”的知识, 说明我们党是如何成功推进和拓展了中国式现代化的。(12分)

(3) 实践证明, 中国式现代化是符合中国国情、依靠人民创造的正确道路。就我们党怎样“推进中国式现代化”提两条方法论建议。(4分)

41. (25分) 阅读材料, 完成下列要求。

材料一

19世纪80年代, 德国初步建立了社会保险制度。1935年, 美国颁布《社会保障法》, 标志着美国现代社会保障制度的最终确立。第二次世界大战后, 英国率先构建了包括家庭津贴、养老、疾病、失业、伤残和死亡等内容的社会保障体系, 基本实现了全民覆盖, 大大推动了社会保障制度的发展。此后, 瑞典、挪威、芬兰、丹麦等北欧国家以及法国、德国、加拿大和澳大利亚等国都建成了福利国家, 社会保障制度基本建立。资本主义国家的社会保障制度包括全民就业、社会保障和服务等方面的内容, 它是资本主义社会生产力发展到一定高度时产生的社会和经济制度。但是, 过度的社会保障, 加大了国家财政支出的负担, 容易助长懒惰行为, 使得整个社会缺乏工作动力, 效率低下。

——摘编自齐世荣主编《世界史》等

材料二

19世纪中叶以后, 中国开始向近代转型, 在这个过程中国家赈济制度已经衰落, 传统的家庭救济模式也无法适应新的社会结构变化。中国近代社会立法工作在民国北京政府时期已经略见成效, 例如1915年仿照欧美《济贫法》制定的《游民习艺所章程》。南京国民政府时期的社会福利立法, 则以1943年《社会救济法》为其典型, 将社会上极度贫困的弱势群体与受灾民众作为优先照顾的对象。由于近代中国复杂的社会环境, 社会福利立法产生的实际效果非常有限。

——摘编自聂鑫《近代中国社会立法与福利国家的建构》等

材料三

新中国成立后, 1951年, 政务院颁布了《劳动保险条例》, 这是新中国第一部劳动保险法规, 至1957年, “初步建成了以国家责任为主体, 覆盖国家机关、企事业单位职工生活方方面面的福利制度”。改革开放后, 以城乡统筹为特征的社会福利制度取得了极大的进展。新中国成立七十年来, 社会福利制度从城乡分割到城乡全覆盖, 努力实现对全体社会成员的福利保障。

——摘编自胡晓义《当代中国社会保障制度》等

(1) 根据材料一并结合所学知识, 概括近现代欧美国家社会保障制度的特点及其历史影响。(12分)

(2) 根据材料二、三并结合所学知识, 指出近现代中国社会保障制度的主要不同之处, 并说明造成不同的主要原因。(8分)

(3) 根据上述材料并结合所学知识, 谈谈近现代中西方社会保障制度的历史经验。(5分)

42. (12分) 阅读材料, 完成下列要求。

下列知识结构导图反映人类历史是在发展进程中不断克服问题和困难, 从而取得历史的发展和进步。



——改编自熊国荣《统编版高中历史专题复习教学策略》

根据所学中外近现代史知识, 就材料某一问题或多个问题, 自拟论题, 并就所拟论题进行阐述 (要求: 论题明确, 史论结合, 表述清晰)

(二) 选考题 (共 25 分)

43. 【地理——选修 3: 旅游地理】阅读材料, 回答下列问题。(10 分)

森林康养产业包括森林康养基地建设、康养林营建、森林康养文化传播, 是当前生态文明建设兴起的一项朝阳产业, 发展前景广阔。在森林资源比较丰富的贫困山区, 发展森林康养可以促进山区经济发展, 加快实现脱贫攻坚的目标。2020年3月24日, 国家森林康养基地(第一批) 107个单位公示中, 云南省墨江哈尼族自治县名列其中。墨江哈尼族自治县是我国唯一的哈尼族自治县, 县域内树种共698种, 其中被国家列为一、二、三级珍稀保护树种的有中华栲、云南红豆杉、滇桐、云南石梓、滇南菠萝蜜、滇南风吹楠、红椿、翠柏等。据中药资源普查, 境内植物药材主要有防风、南板兰根、茯苓、龙胆草、乌梅、山楂、木瓜、成灵仙等。

说明墨江哈尼族自治县发展森林康养产业对实现山区脱贫的作用(4分), 并为当地发展森林康养特色旅游业提出合理建议(6分)。

44. 【地理——选修6：环境保护】(10分) 阅读材料，回答下列问题。

鳌太穿越，是指由鳌山沿秦岭山脊徒步至太白山，堪称是国内最难走的徒步线路之一，被誉为“行走在中华龙脊”上的探险。整个穿越过程，经过秦岭保护区核心区，行走在冰川遗迹形成的石海、雪地之间，高山动物(羚牛、熊猫)时有出没、植物资源丰富，几乎囊括了秦岭的所有精华。

但因非法穿越的人众多，不仅给当地生态带来伤害，也出现了不少人员伤亡事故。2018年4月16日，陕西太白山国家级自然保护区管理局、陕西省森林公安局第二分局发布禁止“鳌太穿越”的公告。

从生态环境保护的角度，谈谈禁止“鳌太穿越”的原因。

45. 【历史——选修1：历史上重大改革回眸】阅读材料，回答下列问题。(15分)

材料一

中国古代主要货币

朝代	货币
先秦-秦-汉	贝币、布币、刀币、蚁鼻钱、五铢钱、半两钱
宋朝	北宋诞生“交子”，纸币与铜钱兼行
元朝	纸币作为单一流通货币发行
明朝	自明中期起，白银成为基本支付手段
清朝	完全承认白银的法定地位，与铜钱兼用

材料二

从秦朝至清初，圆形方孔钱一直是中国最主要的流通货币，其制作均是由手工雕刻出“母钱”之后，再作为样本翻砂制造。随着两次鸦片战争的爆发，银元成为西方列强对华进行经济侵略的主要方式之一，清末外国金属币和钞票占到了中国流通货币的65.71%。清政府不得不调整币制与之竞争。1886年，张之洞购进了英国的造币机，开始铸造广东银币，引起各省效仿。1900年，清政府开始铸造无孔铜圆，各省都有自己的风格和样式，1910年清政府将银币造币权收归中央(部分省份也可以代中央铸造银币并标明省份名称)，开始铸造统一的“大清银币”，其主体形制与铜圆相似。全国的行用银元形制基本上得到了统一。

——摘编自李钰《浅析晚清货币形制变革的原因》

(1) 根据材料一、二并结合所学知识，归纳货币的形制和其演变趋势。(8分)

(2) 根据材料二并结合所学知识，简要评述晚清货币制度变化的影响。(7分)

46. 【历史——选修3：20世纪的战争与和平】阅读材料，回答下列问题。(15分)

材料

1892年，法俄签订同盟条约，在欧洲大陆与德奥意同盟分庭抗礼，在海外殖民地的争夺中也更加咄咄逼人，对英国形成了严重的冲击。1899-1902年的英布战争，英帝国动用45万军队才击败了

只有6万人的布尔军队，英国陷入窘迫境地。为此，英国开始改变不结盟的原则，于1902年1月与日本签订同盟条约，宣告了英国“光荣孤立”政策的结束。因为害怕与俄国的同盟关系将自己卷入与英国的战争之中，法国开始寻求与英国的接近，并于1904年签订《英法协约》，在殖民地问题上达成妥协，大大地缓和了两国矛盾。1907年，英俄两国签订协约，规定了彼此在中亚的势力范围，英法俄三国协约正式成立。从此，英国失去了战略自由与主动权，极大地增强了法俄同盟的力量，刺激了法国与俄国的战争野心。同时，英国的结盟加深了英德之间的战略猜疑，催生了第一次世界大战。

——摘编自夏一东《军事同盟：是福还是祸？》

(1) 根据材料并结合所学知识概括，一战前大国关系的特点？(6分)

(2) 根据材料并结合所学知识简评一战前英国走上结盟道路的影响？(9分)

47. 【历史——选修4：中外历史人物评说】阅读材料，回答下列问题。(15分)

材料

“振兴中华，乃我辈之责”。这是1982年一位青年在大学毕业时写给同学的一句话，他就是黄大年，26年后，他成为航空地球物理领域的顶级科学家。2009年，我国实施“千人计划”后，黄大年说服妻子，留下还在读书的女儿，毅然回国。他深知，核心技术是买不来的，中国要实现“弯道超车”，需要在统一的机制下汇集各方面人才，因此推动成立了吉林大学移动平台探测技术研发中心。在管理项目组时，黄大年主张借鉴外国大企业的组织管理模式，组织重大科研项目，征集最优秀的科学家，一起完成重大攻关。黄大年带领400多名科技人员，于2018年成功研制出我国第一台万米科学钻——“地壳一号”，标志着中国成为继俄罗斯和德国之后，世界上第三个拥有实施万米大陆钻探计划专用装备和相关技术的国家。自主研发综合地球物理数据分析一体化的软件系统，提高国家深部探测关键仪器的制造能力。

——摘编自黄欣《黄大年：透视地球》

(1) 根据材料并结合所学知识，概括黄大年是如何践行“振兴中华，乃我辈之责”信念的？(8分)

(2) 根据材料并结合所学知识，谈谈我们青年学生应该学习黄大年的哪些优良品质？(7分)