

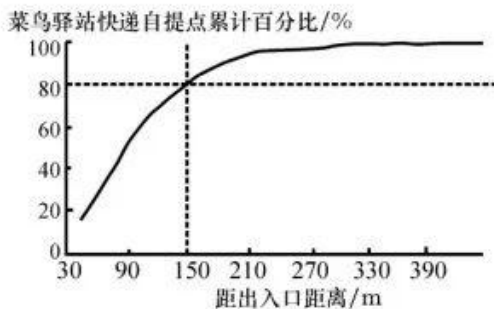
成都七中高 2023 届三诊模拟文综试题

满分：300 分 时间：150 分钟

第 I 卷

本卷共有 35 小题，每小题 4 分，共 140 分。在每小题给出的四个选项中，只有一项是符合题目要求

随着电子商务的发展与全民网购时代的到来，快递行业迅速崛起，在此背景下快递自提点应运而生，成为解决物流“最后一公里”服务瓶颈问题的关键。下图是武汉市菜鸟驿站快递自提点随距服务对象（如社区、学校等）出入口距离累计数量变化图。据此完成 1~2 小题。

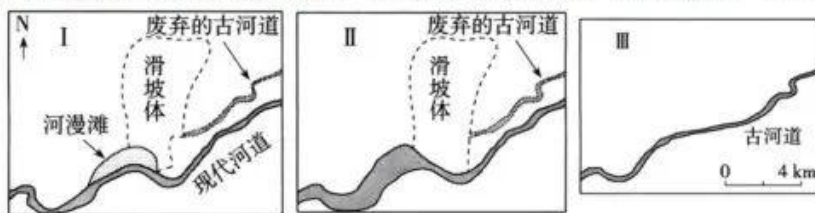


- 武汉市菜鸟驿站空间依托类型最主要是
 - 物流公司、快递公司
 - 酒店、宾馆
 - 便利店、超市
 - 银行、电信营业厅
- 武汉市菜鸟驿站数量由城市中心向外呈现“低—高一低”规律，其影响因素主要是
 - 行政管辖
 - 城市规划
 - 交通通达度
 - 空间结构

经济全球化背景下，越来越多的中国企业响应国家共建“一带一路”，到国外投资设厂。我国某洗涤用品企业多年来不断在全球拓展事业，目前已在全球五大洲 70 多个国家和地区培育市场，出口自主品牌产品。2020 年我国某企业与当地 N 公司合作，在非洲安哥拉成立首家海外工厂，以“销地产”模式（在主要销售市场投资建厂，就地生产）谋求更大的市场竞争力，从以往产品贸易、知识产权输出转变成经营管理、生产技术和企业文化等综合性输出，全方位助力当地经济发展。据此完成 3~5 题。

- 该企业海外工厂生产初期面临的首要问题是
 - 语言障碍
 - 技能培训
 - 政策变化
 - 资金筹措
- 与独资建设相比，该企业选择与 N 公司合作的方式主要是为了
 - 节约建设投资
 - 加强文化交流
 - 提高产品质量
 - 提高管理水平
- 与产品出口贸易相比，“销地产”模式的主要优势有
 - ①降低原料运输费用
 - ②及时获取市场信息
 - ③扩大市场需求
 - ④避开贸易壁垒
 - ⑤生产与供应更加高效
 - ①②⑤
 - ①③④
 - ②③④
 - ②④⑤

某河流流经滑坡集中分布区，该区域历史上发生过一次规模较大的滑坡，下图示意滑坡发生前后当地河谷地貌演化过程中的 3 个阶段（未分先后）。据此完成 6~8 题。



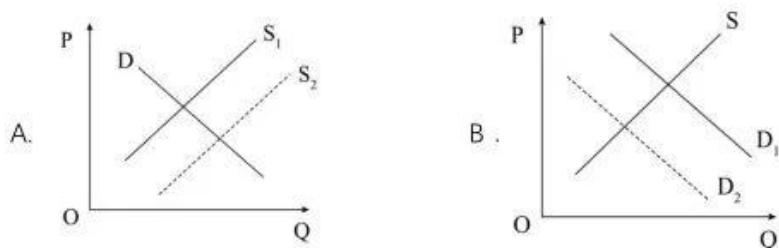
第 1 页

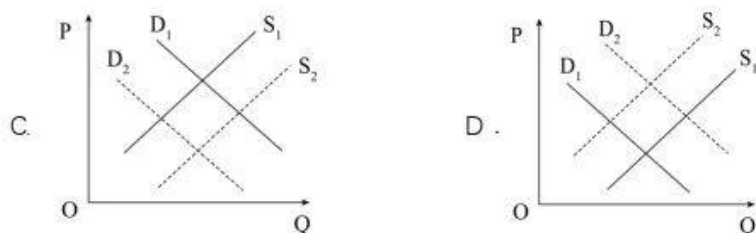
6. 该河谷地貌按时间演化的先后顺序是
A. I、II、III B. II、I、III C. III、II、I D. III、I、II
7. II阶段, 该河流部分河段河面变宽的主要原因是
A. 河流的侧蚀拓展 B. 滑坡体堵塞的作用
C. 上游来水量加大 D. 河床泥沙淤积增多
8. I阶段, 新形成在河流左岸的河漫滩
A. 在洪水期不会被淹没 B. 由河流快速下切而成
C. 在河流凹岸侵蚀而成 D. 由坡面径流侵蚀而成

一般典型山地植被带的高差都小于 1000 米, 在我国南北分界线的秦岭北坡出现了落叶阔叶林带的垂直高差达到了 2000 多米的现象, 这是世界上带幅最宽、结构最复杂的山地落叶阔叶林带, 被称为“超级垂直带”, 下图示意秦岭北坡落叶阔叶林带的垂直结构。据此完成 9~11 题。



9. 秦岭北坡山地落叶林带形成“超级垂直带”的原因有
①落叶林物种多②位于暖温带南界附近③气候垂直差异小④地形坡度大
A. ①② B. ②③ C. ①④ D. ③④
10. 在“超级垂直带”中形成不同亚带的主要因素是
A. 光照 B. 热量 C. 降水 D. 坡度
11. 在“超级垂直带”中, 自然状况下最可能发生变化的植被带是
A. 栓皮栎亚带 B. 锐齿槲栎亚带 C. 蒙古栎亚带 D. 糙皮桦亚带
12. 为贯彻落实党的二十大“逐步把永久基本农田全部建成高标准农田”的决策部署, 2022 年 11 月, 中央财政提前下达农田建设补助资金 346 亿元, 支持各地提前谋划高标准农田建设项目, 推动项目早建设、早建成、早见效。若不考虑其他因素, 该举措对我国粮食生产的影响可图示为 ()





13.2023年2月21日，中国人民银行在香港成功发行250亿元人民币央行票据（中央银行债券），美、欧、亚洲的多个国家和地区的银行、央行、基金、保险公司等机构投资者以及国际金融组织踊跃参与认购，投标总量超过700亿元。对材料理解正确的是

- ①我国增加货币供应量，增强市场活力 ②国际投资者对我国经济发展有较强信心
③债务收入是国家财政收入的形式之一 ④人民币资产对境外投资者有较强吸引力
- A. ①② B. ①③ C. ②④ D. ③④

14.M村在传统种植柑橘的基础上，引进猕猴桃、黄桃等水果品种，组建经济合作社发展特色种植，积极构建“旅游+特色种植”产业新模式，山庄、驿站等特色农家乐相继涌现，农户手工磨的豆腐、自家做的擂茶、山上放养的土鸡都变成“真金白银”，装进了村民腰包。

M村发展农村经济的经验是

- ①发展混合所有制经济，促进农村产业融合
②延伸农业产业链价值链，多渠道农民增收
③调整种植结构，用特色产业取代传统种植业
④培育新型农业经营主体，加快推进乡村振兴

- A. ①② B. ①④ C. ②③ D. ②④

15.近日，海南全面启动全岛封关运作准备。“封关”是一个海关术语，即海南全岛成为一个“境内关外”区域，与境外实现货物、资金和人员等要素自由流动，岛内可以享受零关税等优惠政策，但从海南出入国境内其他区域的货物，纳入海关管理，征收相应的税收并进入贸易统计。下列关于海南封关带来的影响推导正确的是

- ① 实施境外进口商品零关税政策→增加高品质消费品供给→提高国人消费质量
② 实行商品离岛全部免税政策→消费成本降低→游客增多→带动旅游产业发展
③ 实现各要素跨境自由流动→推动更高水平对外开放→对国际资本吸引力增强
④ 创新对外投资方式→引导外资流向服务和研发环节→提高我国产业技术水平

- A. ①② B. ①③ C. ②④ D. ③④

16.2023年3月13日，十四届全国人大一次会议审议通过了关于修改立法法的决定。此次修法强调立法应当适应改革需要，突出依宪法立法的理念，健全立法机关和社会公众沟通机制，把全过程人民民主的理念、原则和要求贯彻到立法的全流程、全链条、全方位，最大限度体现民智、民意、民情。此举有利于

- ① 与时俱进健全立法体制机制，立良法、促善治
② 寻求全社会意愿的最大公约数，推进依法治国
③ 保障公民参与权和提案权，实现科学民主立法
④ 建立以宪法为核心的法律体系，夯实法治基石


- A. ①② B. ①③ C. ②④ D. ③④

17.湖南某村在卸职村干部、老党员、老乡贤和复员军人的牵头下，先后成立了慈善协会、诗词协会、爱卫协会、红白理事会、文艺宣传队、乡村振兴理事会等10余个协会组织，借助群团协会调动民智民力，为乡村振兴注入了新的动力活力。某报社记者在宣传报道这一成功经验时，最合适的标题是（ ）

- A. 完善民主协商制度，保障村民的合法权益
B. 以村民自治为抓手，让文明乡风润泽民生
C. 发挥村委会的领导作用，实现共建、共治、共享
D. 创新基层群众自治组织，凝聚力量助力乡村振兴
18. 2022年12月，习近平主席应邀出席首届中国—阿拉伯国家峰会、中国—海湾阿拉伯国家合作委员会峰会并对沙特进行国事访问。用三个关键词可以彰显中阿合作的时代价值和世界意义：“坚定支持”，立足维护彼此核心利益；“团结协作”，立足加强发展中国家合作；“美美与共”，立足推动人类文明进步。可见中阿
- ①顺应了和平与发展的时代主题，平等互利、包容互鉴
②守望相助、共谋合作、共享发展，共建人类命运共同体
③将结成战略互信、相互帮助、合作共赢的区域共同体
④成为世界的风向标，用共同价值引领国际合作深入发展
- A. ①② B. ①④ C. ②③ D. ③④
19. 在2022年多彩贵州旅游商品大赛上，参赛作品“竹编太空舱宠物外出包——匠·生万物”将竹编与皮革的拼接融合玩出了新意，让人眼前一亮，获得了大赛银奖。主创人利用非遗竹编工艺+皮革工艺，给贵州非遗文创市场带来了更多可能性。这一成功案例表明（ ）
- ①非遗文创市场的繁荣带动了文化的发展
②挖掘当地文化资源有利于推进文化创新
③推进当地文化体制创新有利于促进区域文化的发展
④推动优秀传统文化创造性发展有利于发展文化产业
- A. ①② B. ①③ C. ②④ D. ③④
20. 电影《满江红》以《满江红·怒发冲冠》这首千古流传的古典诗词作为影片叙事主线，很好地处理了历史与艺术、真实与虚构、写实与想象的关系，将爱国主义价值编织进生动曲折、跌宕起伏、一唱三叹的情节叙述中，给观众带来极为生动、自然、深刻的爱国主义精神洗礼。这表明影视创作要（ ）
- ①推动优秀传统文化创造性转化、创新性发展
②深刻把握时代潮流，丰富传统文化本质内涵
③主动引领社会文化思潮，坚持凝聚社会共识
④弘扬主旋律，发展人民喜闻乐见的大众文化
- A. ①③ B. ①④ C. ②③ D. ②④
21. 2023年3月19日，中共中央办公厅印发了《关于在全党大兴调查研究的工作方案》。调查研究是我们党的传家宝，习近平总书记强调指出，调查研究是谋事之基、成事之道，没有调查就没有发言权，没有调查就没有决策权；调查研究是获得真知灼见的源头活水，是做好工作的基本功。大兴调查研究之风表明
- ①人们的直接经验比间接经验更具有实践价值
②发挥主观能动性才能实现主观与客观的统一
③求真务实精神是我们做好一切工作的出发点
④群众路线是我们党的生命线和根本工作路线
- A. ①② B. ①③ C. ②④ D. ③④
22. “透明工厂”系列直播是人民网新推出的一档融媒体节目，旨在以“生产透明”推动“企业透明”，进而建立健全“行业透明”制度。同时带领广大消费者“云调研”车间一线，近距离了解生产全链条，检验“中国制造”的匠心品质，探寻“中国创造”的最新成果，领略“中国品牌”的非凡魅力。材料主要说明（ ）

- A. 劳动是人类最基本的实践活动，也是人的存在方式
- B. 在认识复杂事物发展过程中，要着重把握主要矛盾
- C. 只有把握事物矛盾的特殊性，才能够正确解决矛盾
- D. 把握事物之间的内在联系，有利于推动实践的发展

23. 下图漫画《吹》警示我们要（ ）



吹

- ①坚持实事求是，做到尊重实际
- ②善于开拓思路，敢于创新方法
- ③发挥意识作用，改造客观世界
- ④敢于直面事实，勇于解决矛盾

A. ①② B. ①④ C. ②③ D. ③④

24. 传说尧舜时代的“诽谤之木”，柱上那一条弯钩，方便百姓“上书”，原来立于“大路交衢”，在谤木上数落“王恶”，诽谤官府，均不得治罪。汉代重树诽谤木转立于皇宫门前，“以表王者纳谏”，后更以石代木，雕龙饰物，改称华表，威风凛凛。从“谤木”到“华表”的演变

- A. 说明了先秦时期专制王权尚未形成
- B. 体现了儒家思想在古代长期居于主导地位
- C. 说明了古代专制皇权不断得到加强
- D. 体现了从先秦到秦汉时期政治转型的完成

25. 如图为唐代长安城商业分布示意图，阴影部分为“市”以外的商业区域。与“安史之乱”前相比，“安史之乱”后的长安城内



- A. 市以外经营行业的种类大大增加
- B. 商业活动日趋突破坊市功能的界限
- C. 官府对交易场所的限制更加严格
- D. 官府设市数量增加，坊的数量减少

26. 宋初形成了“中书主民，枢密院主兵，三司主财务”的局面，但也出现了“财已匮而枢密院益兵不已，民已因而三司取财不已；中书视民之困，而不知使枢密减兵、三司宽财以救民困，制国用之职不在中书也”的状况。上述文字意在说明

- A. 分割相权解决了宰相擅权的问题
- B. 制度创新带来了严重的社会危机
- C. 行政不统一影响政府的治理效果
- D. 机构重叠加重了政府的财政负担

27. 王夫之认为：“未有马矢而无射道，未有车马而无御道……未有子而无父道，未有弟而无兄道，道之可有而且无者多矣。故无其器则无其道，诚然之言也”。这一观点

- A. 体现了经世致用的思想 B. 肯定了人私欲的正当性
C. 批判了君主专制的体制 D. 体现了朴素的唯物思想

28. 蒋廷黻在其《中国近代史》中说：“林则徐实在有两个，一个是士大夫心目中的林则徐，一个是真正的林则徐。前一个林则徐是主剿的，他是百战百胜的，他所用的方法都是中国的古法，可惜奸臣琦善受了英人的贿赂，把他驱逐了。”这实际上说明

- A. 传统夷夏观有一定的突破 B. 林则徐是一个坚定的抵抗派
C. 古代中国军事技术的先进 D. 士大夫具有天朝上国的观念

29. 1919年11月，有人指出当时全国新出版物中普遍有“一个‘?’疑问符”，“这个‘疑’字不但把我国固有的思想信仰摇动了，而且把‘舶来品’的思想信仰也摇动起来”。

思想界这一状况

- A. 是基于对五四运动的反思 B. 促进了新思想的进一步传播
C. 反映中西文化矛盾的激化 D. 表明使用新式标点成为时尚

30. 从1940年始，日本对华经济政策由走私倾销转变为严厉的贸易线封锁，而国民政府的政策则由严查走私变为鼓励与稽查走私并重。这些政策转变的主要原因是

- A. 抗日民族统一战线的形成 B. 日本以战养战政策的需求
C. 国际贸易封锁局面的形成 D. 国际反法西斯同盟的支持

31. 新中国出现千万人以上规模的人口迁徙，主要有：1958年至1962年的大跃进运动和困难时期的精简下放；20世纪80年代中期以来的农民主流动。这体现了

- A. 城市化进程的加速 B. 资源配置方式变化
C. 工业结构日趋合理 D. 城乡工农统筹发展

32. 关于雅典民主政治，苏格拉底说：“没有人愿意用抽签的方法去雇用一位舵手和建筑师、吹笛手或其他行业的人，而这类事若出错的话，危害还比在管理国家事务上出错轻得多。”这段话

- A. 表明雅典人用抽签的方法雇用一些行业的人 B. 认为抽签选举方式的危害小
C. 实质上揭示了直接民主制度的弊端 D. 管理国家事务比抽签雇人容易出错

33. 15世纪前欧洲人仅把棉织品用作装饰品、桌布等，从16世纪开始，印度实用、舒适、色彩斑斓的棉纺织品源源不断运到欧洲。到17世纪中期，印度莫卧儿帝国生产了占世界1/4的棉纺织出口品，年获利甚至达到数百万两白银。这可以用来佐证（ ）

- A. 海路贸易得到蓬勃发展 B. 印度生产组织方式的变革
C. 人文主义鼓励冒险精神 D. 欧洲产生价格革命的根源

34. 下表反映了英国不同时期工业制成品出口的地域分布情况（单位：%）。表中信息表明（ ）

| 地区 | 1699—1701 | 1772—1774 | 1804—1806 | 1834—1836 | 1854—1856 |
|------------------|-----------|-----------|-----------|-----------|-----------|
| 欧洲 | 83.6 | 45.0 | 37.3 | 36.3 | 28.9 |
| 美国、印度 加拿大 | 13.3 | 46.9 | 46.4 | 34.7 | 28.1 |
| 非洲、亚洲、 大洋洲和拉美 | 3.1 | 8.1 | 16.3 | 29.0 | 43.0 |

- A. 英国产品的国际竞争力不断增强 B. 亚非拉地区经济水平大大提高

- C. 英国在欧洲的产品销售额下降 D. 亚非拉地区殖民地化程度逐渐加深
35. 1954年苏联外长曾提出召开欧洲安全会议；60年代中期，苏联再次提议召开欧洲安全会议。均遭到美国反对。1972年5月尼克松访苏期间，双方就召开“欧洲安全与合作会议”和“中欧裁军会议”达成协议。美苏关于欧洲安全问题的做法
- A. 体现了欧洲为中心的世界格局为两极格局取代
B. 说明了美苏争霸的发展形势发生了根本性变化
C. 体现了世界格局向多极化趋势发展
D. 反映了美苏争霸的核心是欧洲安全

第II卷

本卷包括必考题和选考题两部分。第36题--第42题为必考题，每个试题考生都必须作答。第43题—第47题为选考题，考生根据要求作答。

36. 阅读图文材料，完成下列要求。(22分)

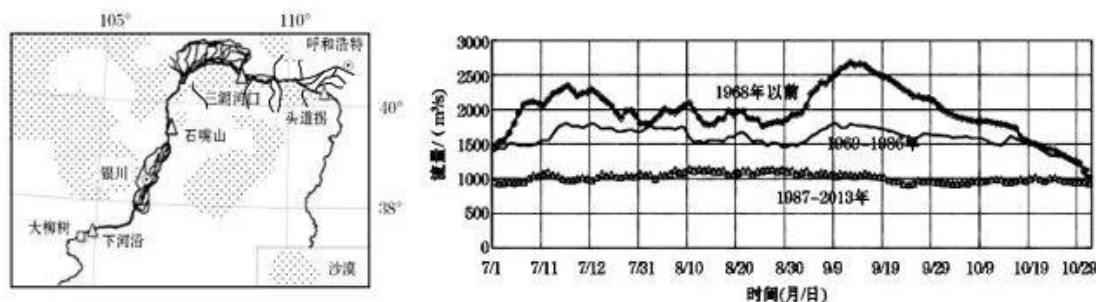
奥伯豪森市原是德国鲁尔区一个重要的钢铁工业城市，工业衰落后，该地建成了完善的立体运输网络，并利用保存完好的厂房、生产设备、矿坑等建成了以工业景观为背景的欧洲大型购物中心。这里有许多品牌商店，也不乏物美价廉的商品，吸引了德国及周边国家的人们前来购物。



- (1) 分析奥伯豪森市转型后以服务业作为主导产业的原因。(6分)
- (2) 说出奥伯豪森市在转型发展过程中保留原有工业遗产的理由。(6分)
- (3) 指出奥伯豪森市利用工业遗产可发展的第三产业。(4分)
- (4) 分析奥伯豪森市转型建设大型购物中心的有利条件。(6分)

37. 阅读图文资料，完成下列要求。(24分)

黄河宁蒙河段由宁夏段(下河沿-石嘴山)和内蒙古段(石嘴山-头道拐)两部分组成，泥沙淤积严重、洪涝灾害频发。上游多个大型水利工程的建成，改变了宁蒙河段来水来沙特点，冲淤量(河段冲淤量是输入沙量与输出沙量的差值)和排洪能力发生明显变化，出现河道萎缩现象。加上凌汛影响，宁夏段水患严重。现计划在宁蒙河段起始段建大柳树水利枢纽综合调控宁蒙河段。下图为不同时期宁蒙河段汛期日流量过程变化示意图。



- (1) 简析黄河上游大型水利工程的运行对宁蒙河段水量的影响。(6分)
- (2) 与宁夏段相比,内蒙古三湖河口-头道拐段冲淤量更大,分析其主要原因。(8分)
- (3) 分析冲淤量变大对宁蒙河段河道形态及防汛的影响。(6分)
- (4) 说明大柳树水利枢纽对防治宁蒙河段水患的积极作用。(4分)

38. (14分) 阅读材料,完成下列要求。

党的二十大报告指出,要支持专精特新企业发展,为中小企业发展营造良好环境,激发涌现更多专精特新中小企业。

某环保科技有限公司在油泥热解无害化处理技术领域创新突破,让石油开采过程中受到油泥污染的土壤恢复了健康;某高科技股份有限公司的3D打印技术使我国运动员配备的新型流线型短道速滑冰刀强度更高、重量更轻……这些专精特新企业专注于细分领域,在实现自身发展的同时,引领和推动着所在行业的技术创新,成为推动高质量发展的生力军、引领中小企业创新发展的“领头雁”、提升我国经济韧性的强支撑。

党的十八大以来,我国已培育专精特新“小巨人”企业8997家,参与制修订标准13000余项,主导产品国内细分市场占有率达90%以上。2022年来,受复工复产加速推动,6万多家专精特新中小企业的招标个数和招聘岗位数环比增长最快,抗风险指数稳健、大幅上升,营收增速、利润率和发明专利成果占有量远超规上工业中小企业。实践证明,中小企业走专业化、精细化、特色化、新颖化的路子,是抓住风口的最优解。

- (1) 结合材料,概括专精特新企业的发展优势。(4分)
- (2) 结合材料,从社会主义市场经济体制的角度,说明如何为专精特新中小企业的发展营造良好环境。(10分)

39. (12分) 阅读材料,完成下列要求。

国家机构改革是推进国家治理体系和治理能力现代化的一场深刻变革。

随着形势和任务的不断变化,一些与经济社会发展不相适应的机构职能、体制机制等问题进一步凸显,比如一些领域党政机构重叠、职责交叉、权责脱节问题比较突出,一些政府机构职能转变还不到位、执法不规范等问题仍然存在,迫切需要通过新一轮的机构改革优化政府职责体系和组织结构,理顺党政机构职责关系,合理分工、各司其职,实现优化、协同、高效的目标,保障中央和地方各级运行顺畅、执行高效、充满活力。

2023年3月16日,中共中央、国务院印发了《党和国家机构改革方案》。本次改革以加强党中央集中统一领导为统领,着重深化金融、科技、社会管理等重点领域机构改革:组

建中央金融工作委员会，统一领导金融系统党的工作；组建中央科技委员会，整合中央国家实验室建设领导小组、国家科技领导小组等机构，统筹解决科技领域战略性、方向性、全局性重大问题；组建中央社会工作部，统一领导国家信访局，将国家信访局由国务院办公厅管理的国家局调整为国务院直属机构，加强、改进人民信访工作；系统考虑老龄工作，将养老工作体制由卫健委归口到民政部，以推动养老服务水平的提升。

结合材料和所学政治生活知识，说明深化党和国家机构改革对推进国家治理体系和治理能力现代化的意义。

40. (26分) 阅读材料，完成下列要求。

雷锋的一生不满 22 岁，却在人们心中活成了永恒；他的身高只有 1 米 54，却是人们心中的道德高峰。他没有惊天动地的壮举，也没有力挽狂澜的伟业，却获得了党和国家领导人的题词褒奖。一个重要的原因是，他是一颗“永不生锈的螺丝钉”，拧在哪里都闪闪发光：当学生，他是先锋少先队员；当农民，他是优秀拖拉机手、治水模范；当工人，他是标兵、红旗手、先进工作者……他在本职岗位，为我们论证了“有限与无限”的辩证关系；他用实际行动，给我们标定出“平凡与伟大”的坐标系。雷锋精神的核心是信念的能量、大爱的胸怀、忘我的精神、进取的锐气，这也正是我们民族精神的最好写照。2018 年 9 月，习近平总书记在抚顺市雷锋纪念馆参观时指出：“如果 13 亿多中国人、8900 多万党员、400 多万党组织都能学习雷锋精神，都能在自己的岗位上做一颗永不生锈的螺丝钉，我们的凝聚力、战斗力将无比强大，我们将无往而不胜。”

60 年前，毛泽东等老一辈革命家为雷锋同志题词，向全国人民发出“向雷锋同志学习”的号召。2023 年，习近平总书记对深入开展学雷锋活动作出重要指示强调，深刻把握雷锋精神的时代内涵，让雷锋精神在新时代绽放更加璀璨的光芒。

(1) 结合材料，运用量变与质变辩证关系的知识，说明今天我们继续提倡做一颗“永不生锈的螺丝钉”的重要意义。(12 分)

(2) 结合材料和文化生活知识，谈谈我们青少年应如何让雷锋精神在新时代绽放更加璀璨的光芒。(10 分)

(3) 每年的 3 月 5 日为学习雷锋日，全国各地都要开展学雷锋活动。请你列举一项自己曾参加的学雷锋具体活动，并用一句话概括参加该活动的感受。(要求言简意赅，字数总体不超过 30 字)(4 分)

41. (25 分) 阅读材料，完成下列要求。

材料一 宋政府在可以设司获利的港口设了市舶司，管理对外贸易，负责对舶船运来的诸国物货进行征税，叫做“抽解”。抽解商品分为粗、细两类。就抽解的比例来看，从北宋淳化二年到宋神宗熙宁初年，市舶司的抽分是下降的，从宋徽宗以来到南宋时国家财政恶化，市舶税率逐渐上升。

——摘编自杨文新《宋代市舶司研究》；王兴文《宋代市舶关税的抽解制度及其经济地位》等

材料二 中英《南京条约》规定了协定关税制度。中英《天津条约》规定：英国对中国出口商品，缴纳 5% 的关税和 2.5% 的子口税。1861 年总理衙门统辖海关，外籍税务司制度在中国确立并合法执行，协定关税和外籍税务司制度为晚清殖民贸易提供了便利

第 9 页

——摘编自胡公启《晚清关税制度与对外贸易关系研究》

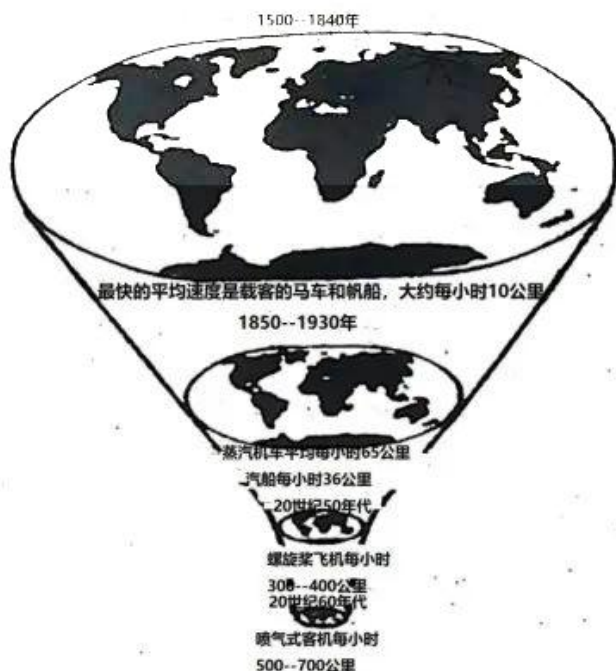
材料三 1951年《中华人民共和国海关进出口税则》的平均关税为52.9%，很长一段时期内一直维持高关税税率。改革开放以来，不断降低税率，但是到1992年，我国关税的算术平均税率仍然高达47.2%。1992年后，开始自主降低关税。1996年11月，APEC第四次领导人非正式会议上，中国宣布：“将在2000年把关税总水平降低至15%左右”。2001年1月1日，中国关税降至15.3%。从2002年起，我国开始履行为加入WTO而承诺的关税降税义务，到2011年将关税总水平降至9.8%。

——摘编自杨瑞《新中国关税政策的变迁及其经济效益的分析》

- (1) 根据材料一并结合所学知识，分析宋代关税的特点。(6分)
- (2) 根据材料二，说明晚清丧失关税主权的表现与危害。(7分)
- (3) 根据材料三并结合所学知识，指出新中国成立以来关税税率的阶段性变化，并分别指出变化的主要原因。(12分)

42. (12分) 阅读材料，完成下列要求。

材料 马克思说：“把商品从一个地方转移到另一个地方所花费的时间缩减到最低限度。资本越发展，以而资本借以流通的市场，构成资本空间流通道路的市场越扩大，资本同时也就越是力求在空间上更加扩大市场，力求用时间去更多地消灭空间。”下图是对这一话语的图示：



——根据马克思《1857—1858年经济学手稿》整理

根据上述材料及所学知识，对“时间消灭空间”这一命题进行解读。(要求：观点明确，史论结合，逻辑清晰)

43. (10分) [地理—选修3: 旅游地理]

“剧本杀”一词起源于西方宴会实况角色扮演“谋杀之谜”，是玩家到实景场馆体验推理性质的项目。近几年，跨界融合的剧本杀在我国快速兴起，2021年全国剧本杀线下门店已突破3万家，并出现景区版、民宿版、酒店版、邮轮版、古镇版等多种类型，不少年轻人坐火车、“打飞的”去体验。2022年1月，上海市发布《上海市密室剧本杀内容管理暂行规定》，明确规定了“剧本”中禁止出现宣扬淫秽、色情、赌博、暴力等内容，这是第一次有地方行业主管部门对密室剧本杀这种业态进行规范性管理。

说出为了促进剧本杀旅游的持续发展，剧本杀行业可采取的措施。

44. (10分) [地理——选修6: 环境保护]

我国城市中随处可见大草坪，但绿化草坪往往采用非当地的单一物种，且维护需要大量用水和农药。近几年，我国很多城市逐渐采用“草本、灌木、木本”组合的绿化方式建成了“小森林”，大草坪渐渐“失宠”。

试分析采用“草本、灌木、木本”组合的绿化方式对城市物种多样性的好处。

45. [历史——选修1: 历史上重大改革回眸]

材料 平城时代是北魏势力发展的重要时期，但随着北魏帝国的发展，平城已不再适宜作为都城。493年秋，孝文帝放弃平城，迁往洛阳。洛阳素有“王里”之称，却在晋末大乱时毁于兵火，“号为荒土”。孝文帝“营洛务求壮丽”，“礼盛周宣《斯干》（祝贺周朝贵族宫室落成的歌辞）之制，事高汉祖壮丽之仪”，里坊形制益发规整化。城中有“户十万余”，若按五口之家的标准计算，至少也有五六十万人。而后世王夫之则认为：迁洛“涂饰虚伪……糜天下于无实之文，自说升平之象。强宗大族，以侈相尚……部落心离，浮华气长”，是北魏速亡的原因。

——摘编自陈汉玉《也谈北魏孝文帝的改革》等

(1) 根据材料并结合所学知识，概括孝文帝时期重建洛阳的特点。(8分)

(2) 根据材料并结合所学知识，简评孝文帝时期重建洛阳的活动。(7分)

46. [历史——选修3: 20世纪的战争与和平]

材料 1914年爆发第一次世界大战之时，资本主义大国已发展到帝国主义阶段。交战方均以重新瓜分世界和争夺全球霸权为最终目标。由于时代背景的变化，长期阵地战的僵局摧毁了他们速战速决的侥幸心理，长期消耗的总体战又将各国的全部国力及其殖民帝国也卷入其中，使整个社会基础受到了空前重创。大战的爆发和战争的长期化，使全世界饱受战乱之苦的普通大众对和平社会有强烈的期待，导致世界和平运动大大发展。与此同时，几乎所有交战国和中立国的政治家都认为“欧洲协调”已崩溃，应建立一个国际常设组织来防止战争爆发。正如华尔脱斯所说：“各国必须找出某种办法来保证以后不会再有这种事发生。这就是促使国际联盟成立的有效的原动力和动机。”

——摘编自徐蓝《第一次世界大战与欧美和平运动的发展》

(1) 根据材料并结合所学知识，概括一战后和平运动发展的历史背景。(8分)

(2) 根据材料并结合所学知识，简析一战后和平运动发展的影响。(7分)

47. [历史——选修4：中外历史人物评说]

材料 邓小平在担任新中国国家领导职务期间，始终奉行“发展体育运动，增强人民体质”的宗旨。1952年，他参与主持成立中央体委及群众体育司，我国第一次有了规划、管理群众体育的专职政府部门。邓小平认为要搞好体育运动，就要从娃娃抓起。他曾多次告诫国家体委的领导同志：“要把学校的体育工作搞好。”邓小平还十分重视竞技体育事业的发展，他认为体育（竞技成绩）是一个国家经济、文明的表现。20世纪80年代末90年代初，他提出群众体育与竞技体育协调发展的方针，该方针于1995年被写进了《中华人民共和国体育法》，以法律形式宣示了群众体育与竞技体育的辩证关系。邓小平还是新中国最早提出申办奥运会的国家领导人。在他的积极推动下，我国于1979年恢复在国际奥委会的合法席位，并于20世纪90年代开启了申奥历程。

——摘编自伍绍祖《邓小平的体育情结》

(1) 根据材料并结合所学知识，概括邓小平对新中国体育事业发展作出的贡献。(8分)

(2) 根据材料并结合所学知识，简析邓小平作出这些贡献的原因。(7分)

关于我们

自主选拔在线是致力于提供新高考生涯规划、强基计划、综合评价、三位一体、学科竞赛等政策资讯的升学服务平台。总部坐落于北京，旗下拥有网站（网址：www.zizzs.com）和微信公众平台等媒体矩阵，用户群体涵盖全国90%以上的重点中学师生及家长，在全国新高考、自主选拔领域首屈一指。

如需第一时间获取相关资讯及备考指南，请关注**自主选拔在线**官方微信号：**zizzsw**。



 微信搜一搜

 自主选拔在线

 自主选拔在线
微信号: zizzsw

 自主选拔在线
微信号: zizzsw

 自主选拔在线
微信号: zizzsw

 自主选拔在线
微信号: zizzsw