

铜川市 2023 年高三第二次质量检测

文科综合

注意事项:

1. 本试题分第 I 卷和第 II 卷两部分, 第 I 卷为选择题, 用 2B 铅笔将答案涂在答题卡上。第 II 卷为非选择题, 用 0.5mm 黑色签字笔将答案答在答题卡上, 考试结束后, 只收答题卡。
2. 答第 I、II 卷时, 先将答题卡首有关项目填写清楚。
3. 全卷满分 300 分, 考试时间 150 分钟。

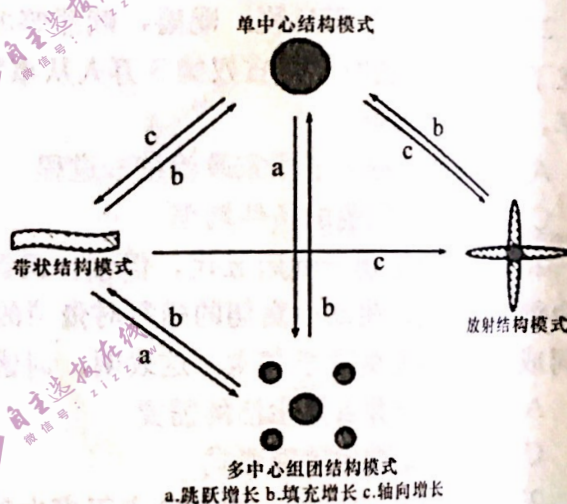
第 I 卷 (选择题 共 140 分)

一、选择题: 本题共 35 小题, 每小题 4 分, 共 140 分。在每小题给出的四个选项中, 只有一项是符合题目要求的。

我国特大城市常见的空间结构分别有单中心结构模式、带状结构模式、放射结构模式、多中心组团结构模式。读“我国城市空间结构演变基本模式图”, 完成 1~2 题。

1. 关于我国城市空间结构演变特征的说法, 下列正确的是


- A. 单中心结构模式可通过三种增长模式分化发展
- B. 带状结构模式通过轴向增长演化为多中心组团模式
- C. 多中心组团模式只能直接演化成单中心模式
- D. 放射结构模式可通过填充增长演化成单中心结构模式



2. 近年来, 全国多数沿江、河、湖、海的特大城市提出并实施了跨江、跨河、跨湖、跨海发展战略, 城市空间结构增长模式扩张最可能出现

- A. 跳跃增长
- B. 填充增长
- C. 轴向增长
- D. 差别不大

“气化长江”是指通过技术改造升级, 将原来以柴油、重油为主要燃料的长江内河船舶, 改造为 LNG (液化天然气) 和柴油双燃料, 并逐步被纯 LNG 动力燃料替代的油改气工程, LNG 水上加注站建设是实现“气化长江”的重要保障。下图示意 2021 年 12 月建成的长江三峡地区首个 LNG 加注码头主体工程。据此完成 3~4 题。



3. 与管道天然气相比, LNG 最显著的优点是

- A. 安全可靠 B. 成本低廉 C. 来源广泛 D. 运输灵活

4. 实现“气化长江”的主要目的是

- A. 节能减排, 构建绿色航运 B. 利用新能源, 节约运输成本
C. 提高运量, 增强竞争实力 D. 推广新技术, 降低管理费用

2022年3月16日, 日本本州岛东岸近海发生的7.4级地震, 震源深度10千米(如图所示)。地震导致东京电力公司和东北电力公司旗下合计6座热电厂受损停运, 日本政府21日发布电力供应紧张警报。关东地区22日出现降雪和降雨天气, 当日东京的地标建筑东京塔只点亮下半部。据此完成5~7题。



5. 此次地震震源位于

- A. 大洋板块
B. 生长边界
C. 岩石圈
D. 软流层

6. 3月22日夜晩, 东京塔只亮下半部的原因有

- ①居民取暖用电增加 ②地震影响发电量
③夜晩方便行人照明 ④节能减排的要求

- A. ①② B. ①③ C. ②③ D. ②④

7. 面临如此困境, 东京电力公司可采取的措施中, 最为直接有效的是

- A. 全力抢修受损热电厂 B. 加大其他电厂发电量
C. 呼吁辖区用户节约用电 D. 辖区内分区拉闸限电

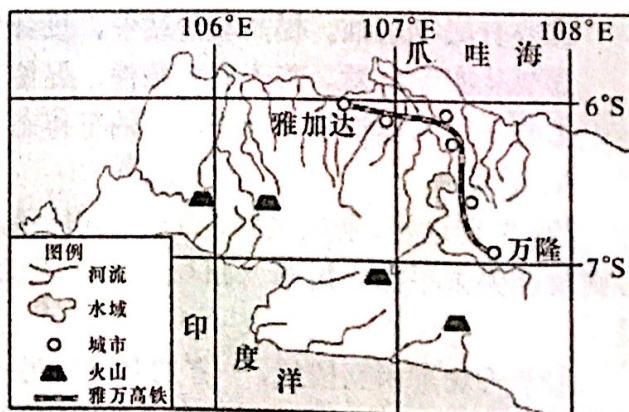
当地时间2022年11月16日17时, 中国和印尼合作建设的雅万高铁首次试验运行的画面开始网络直播: 一列由我国研发制造的崭新亮丽的综合检测列车缓缓驶出万隆站, 并逐渐加速前行。如图示意雅万高铁沿线地区。据此完成8~9题。

8. 修建雅万高铁面临的主要困难是

- A. 群岛国家, 领土过于分散
B. 板块交界附近, 地质条件复杂
C. 途经多座山峰, 地形起伏大
D. 常年遇到火山喷发, 安全性差

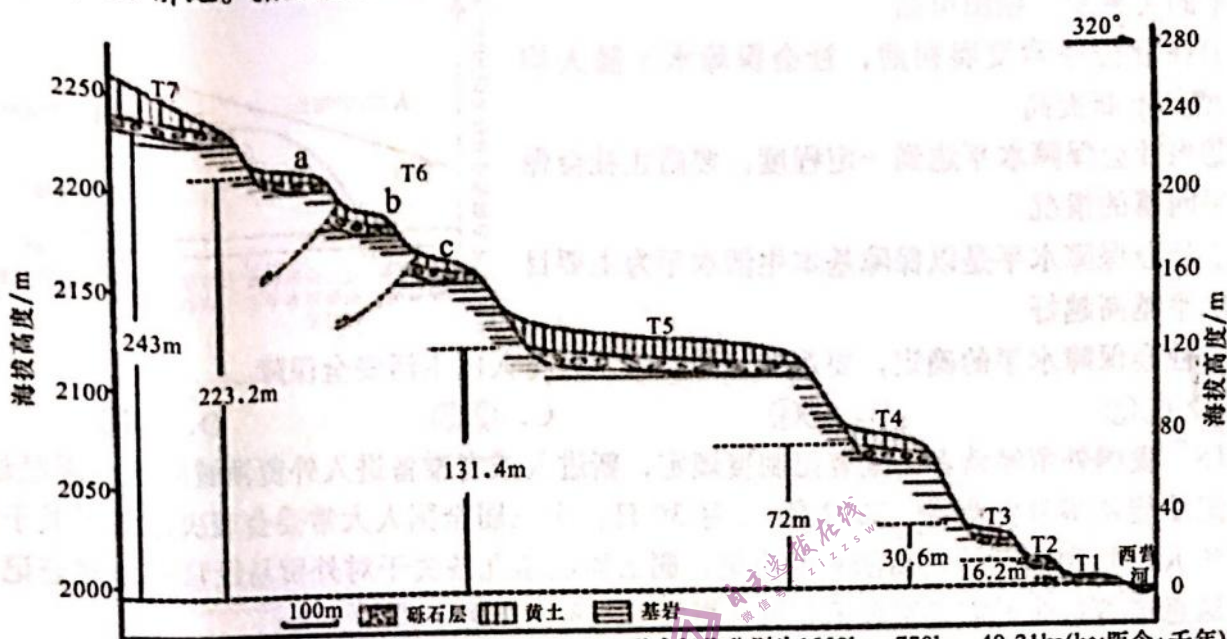
9. 中国和印尼合作建设的雅万高铁试验运行这天

- A. 检测车迎着落日的余晖驶离站台
B. 万隆站正午日影朝向正南
C. 在佛山19点开始可观看全程直播
D. 雅加达昼长时间比北京长



西营河发源于青藏高原东北缘祁连山, 在构造隆起抬升中发育了序列完整、保存较好的河流阶地。根据河流阶地的形成时代和拔河高度(指阶地高出河床的相对高度)可以分

析区域的地貌演化特点。下示意西营河某处河流阶地横剖面，图中 a、b、c 三处砾石层年龄相同，均属于 T6 阶地。据此完成 10~11 题。



注：该处阶地依照形成年代划分为T7-T1，其中T7、T5、T3形成年代分别为1550ka、770ka、49.21ka(ka:距今·千年)

10. 祁连山隆升的特点是

- A. 阶段隆升 B. 速度均匀 C. 升降交替 D. 先弱后强

11. T6 阶地地貌的形成过程可能是

- ①岩层断裂错动，形成 a、b、c 三处阶地 ②河流的堆积作用，形成砾石层
③风力堆积作用，形成黄土层 ④地壳隆升，砾石层露出洪水位

- A. ①②③④ B. ②③①④ C. ②④③① D. ③②④①

12. 2022 年 6 月，银保监会与财政部、税务总局联合印发《关于进一步明确商业健康保险个人所得税优惠政策适用保险产品范围的通知》，规定税优健康险的税优额度保持不变，但投保者可以在税优额度内为家人购买，非纳税人群享受投保者的额度，同时提供更加丰富的产品池，涵盖住院及门诊医疗、长期护理、健康管理等一揽子健康保障。这有利于

- ①降低居民投保成本，提高保险公司的盈利水平
②提高国家社保水平，增强群众获得感和安全感
③鼓励非纳税人群投保，扩大税优健康险覆盖面
④完善政策和产品设计，满足居民多样化健康需求

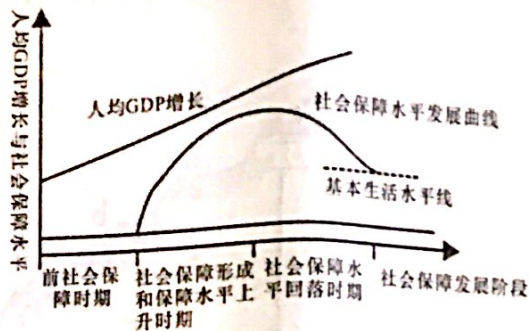
- A. ①② B. ①③ C. ②④ D. ③④

13. 《中共中央、国务院关于做好 2023 年全面推进乡村振兴重点工作的实施意见》(以下简称《意见》) 将防止规模性返贫作为全面推进乡村振兴的底线任务进行具体部署。《意见》明确提出，中央财政衔接推进乡村振兴补助资金用于产业发展的比重力争提高到 60% 以上，重点支持补上技术、设施、营销等短板。下列有关此举发挥作用的传导路径，正确的是

- ①补齐农业农村发展短板 ②坚决守住不发生返贫底线 ③优化财政支出结构
④巩固脱贫攻坚成果，促进乡村振兴 ⑤夯实农业农村的发展基础

- A. ③→①→⑤→④ B. ②→③→⑤→④
C. ③→④→①→⑤ D. ①→⑤→②→④

14. 社会保障水平是衡量社会经济发展水平的重要指标之一，下图是人均 GDP 与社会保障水平的关系图，据图可知



- ①在社会保障发展初期，社会保障水平随人均GDP 增长不断提高
- ②当社会保障水平达到一定程度，要防止社会保障水平回落的情况
- ③社会保障水平是以保障基本生活水平为主要目的，水平越高越好
- ④社会保障水平的确定，要兼顾有利经济发展与人民生活安全保障

A. ①③ B. ①④ C. ②③ D. ②④

15. 我国外贸经营者备案登记制度规定，新进入或者准备进入外贸领域的企业需经过备案登记才能从事外贸业务。2022 年 12 月 30 日，十三届全国人大常委会表决通过了关于修改《中华人民共和国对外贸易法》的决定，删去原法第九条关于对外贸易经营者备案登记的规定，这意味着企业无需备案登记即可从事外贸业务。上述举措

- ①实质是赋予所有的企业外贸经营权，以更好释放外贸创新活力
- ②表明我国以开放为导向，不断变革和完善全球经济治理机制
- ③放宽了市场监管，是我国贸易自由化、便利化的重要制度创新
- ④有利于优化营商环境，推进贸易高质量发展和高水平对外开放

A. ①② B. ①④ C. ②③ D. ③④

16. 十四届全国人大一次会议审议了《中华人民共和国立法法（修正草案）》的议案。修正草案新增了立法应当坚持以人民为中心、坚持依法治国和以德治国相结合、应当适应改革需要，引导、推动、规范、保障相关改革等多项规定。上述修改内容有利于

- ①在立法实践中深入贯彻民主理念，保障人民群众的表决权
- ②不断发挥法治对德治的支撑作用，推进中国式现代化建设
- ③顺应时代要求健全立法体制机制，提高立法的质量和效能
- ④发挥固根本、稳预期、立长远的保障作用，以良法促发展

A. ①② B. ①③ C. ②④ D. ③④

17. 光污染是指各种光源对周围环境和人的损害作用。包括霓虹灯、汽车远光灯、电焊弧光、建筑物产生的有害光反射等。光污染会干扰昼夜节律、影响睡眠甚至破坏动植物生长规律。某校 10 名学生针对所在城市光污染问题成立课题小组，通过调查研究，撰写研究报告，向政府有关部门提出了合理解决城市光污染的建议，并受到政府的高度重视。这表明

- ①要推动居民由行使权利向履行义务的转化
- ②要汇聚治理合力推动社会的共商共治共享
- ③要突出政府在光污染治理中发挥主体作用
- ④学生主人翁意识提高，积极参与社会治理

A. ①② B. ①③ C. ②④ D. ③④

18. 2022 年 11 月 15 日，习近平主席在二十国集团领导人第十七次峰会上强调，各国要坚守团结合作初心，传承同舟共济精神，坚持协商一致原则，相互尊重、求同存异、和平共处，推动建设开放型世界经济。这表明各国应

- ①坚持多边主义，增进对各国事务认同理解②坚持睦邻友好，兼顾彼此之间的根本利益
③坚持互利共赢，坚守合作初心谋发展④坚持协商一致，共同推动国际关系民主化
- A. ①② B. ①③ C. ②④ D. ③④

19. 百年党史熠熠生辉，一颗红心代代相传。党史学习教育开展以来，全省各地以内涵丰富、形式多样的实践活动，通过“党史+艺术”“党史+文创”“党史+直播”等新方式，让党史知识真正“动”起来、“活”起来，成为青少年看得见、摸得着、感受得到的“身边的历史”。探索“沉浸式党课”“红色朗读亭”“行走的党史”等教育手段，让青少年自己扮演党史人物、自己担当党史主播、组队打卡党史圣地，在互动体验中取得了良好的教育效果。这有利于

- ①厚植爱党爱国爱社会主义的情怀，培育时代新人
②筑牢理想信念之基，为践行社会主义核心价值观提供基本遵循
③继往开来，推动中华优秀传统文化创造性转化、创新性发展
④讲好党的故事，拉近历史与青少年的距离

- A. ①② B. ①④ C. ②③ D. ③④

20. 揭示文明之源，照亮前进之路。中华文明探源等重大工程的研究成果，实证了我国百万年的人类史、一万年的文化史、五千多年的文明史，激发我们不断叩问“从哪里来、到哪里去”的深刻命题，探寻“何以中国”的时代答案。这说明

- ①传统文化在世代相传中保留着具体内涵，其基本特征又能够因时而变
②传统文化是文化创新的源泉，在继承基础上发展，在发展过程中继承
③中华文化源远流长生生不息，为建设中华民族现代文明提供丰厚滋养
④文化自信来自于对自身文化价值的充分肯定和文化生命力的坚定信念

- A. ①② B. ②③ C. ①④ D. ③④

21. 习近平总书记在二〇二三年新年贺词中强调，明天的中国，奋斗创造奇迹。苏轼有句话：“犯其至难而图其至远”，意思是说“向最难之处攻坚，追求最远大的目标”。“犯其至难而图其至远”蕴含的哲学智慧有


- ①要有大局意识，胸怀天下，服从大局，不能有个人“小算盘”
②要有底线思维，提高政治站位，投身为人民服务的伟大实践
③要从实际出发，善于创造条件，促使矛盾向相反的方向转化
④要注重工作细节，涵养谨慎的工作态度，戒骄戒躁、脚踏实地

- A. ①② B. ②③ C. ①④ D. ③④

22. 夫妻也好，朋友也罢，当一个人情绪起伏如“凸”状时，另一个人必须去忍耐，充当“凹”，否则就会失去平衡。漫画《凹与凸》(如图所示)反映的哲理是

- ①矛盾双方相互依赖，一方的存在以另一方的存在为前提
②矛盾的斗争性和同一性在一定条件下相互转化
③一切事物都包含着相互对立又相互统一的两个方面
④同一性寓于斗争性之中，并为斗争性所制约

- A. ①③ B. ②③
C. ②④ D. ①④



23. 同样的职能,不同的履职方式,办案效果也大不同。捕诉一体机制运行后,检察官的系统思维、责任意识明显增强,办案质效大大提升,改革的效力可见一斑。而全面推行捕诉一体正是检察机关内设机构改革方案的一项重要设计,捕诉一体机制的成功运行也见证了检察机关这场“重塑性变革”的精准高效落实。从中可以看出

①社会意识具有相对独立性,先进的社会意识推动社会存在的发展

②社会存在决定社会意识,社会存在的变化决定社会意识的变化

③改革是推进中国特色社会主义发展和社会矛盾解决的根本动力

④上层建筑为先进的经济基础服务时,会推动社会的发展和进步

A. ①③

B. ①④

C. ②③

D. ②④

24. 孔子在谈及国家治理时说:“道(引导,治理)千乘之国,敬事而信,节用而爱人,使民以时”;墨子也强调“仁之事者,利人乎即为,不利人乎即止。”这反映出儒墨两派

A. 具有趋同的价值取向

B. 以民为本的施政理念

C. 均强调仁政的重要性

D. 拥有相同的阶级立场

25. 汉文帝时期用免税、赐爵、赎罪等办法移民充实边境力量,同时在西北及北部边境设立了30个牧马场所,用官奴婢3万人从事牧养。至汉景帝时期又进一步训练众多而精强的马军。据此可知当时

A. 这些举措顺应了国家政治统一进程

B. 中央对地方的控制不断加强

C. 解决边患问题的条件增强

D. 推恩令取得了一定的成效

26. 词最早出现于晚唐五代,但创作情调低迷,北宋后以柳永为代表的词人把男女情爱作为创作的主体,生动而真切的描写对爱情的追求,同时在词中加入许多俗语俚语(方言),使词成为雅俗共赏的文学艺术。这表明,词这一文学形式的发展

A. 适应了市井百姓生活的需要

B. 降低了文人的审美情趣

C. 推动了诗歌的表现形式

D. 顺应了冲破理学桎梏的趋势

27. 明太祖洪武年间,政府建立了庞大的官府手工业,所需物资由官府作坊生产;明嘉靖九年(1530年),政府开始采取“官搭民烧”的形式,按件付给民窑成本,同时大量的裁剪了工匠和编役工匠的数量,增加雇役工匠。这一变化表明当时

A. 雇佣劳动关系已经普及

B. 重农抑商政策不断松弛

C. 官营手工业不复存在

D. 民营手工业发展迅速

28. 1898年末,一些在华的西方报刊极力呼吁西方国家出面干涉,保护维新党人和改革成果,并批评各国外交官说“这是在野蛮与改革中选择了野蛮,就接受太后为中国事实上的统治者来说,列强驻北京的公使们都同样犯了严重的错误”。这反映出

A. 部分西方人支持中国革新

B. 列强欲借此扩大在华利益

C. 戊戌政变维护了列强权益

D. 太后的外交手段颇具成效

29. 历史学家徐中约说,在分析十月革命胜利的原因时,孙中山将俄国的成功归于良好的组织和严格的纪律,把自己的失败归咎于纪律腐败、组织涣散及思想灌输不力,而改组国民党成了当务之急。这表明孙中山

A. 欲图效仿俄国的组织模式

B. 放弃了三民主义纲领

C. 准备联合中共发动大革命

D. 接受了马克思主义学说

30. 早期共产党人面对革命形势,认为“乡村是统治阶级的四肢,城市才是他的头脑与心

腹，单只斩断了他的四肢，还不能制他的最后的死命，要斩断其头脑，炸裂其心腹，主要是靠城市工人阶级最后的激烈斗争——武装暴动。”这表明早期中国共产党

- A. 努力争取合作抗日的领导地位
- B. 坚持以城市为中心的暴力革命
- C. 独立自主逐步由幼稚走向成熟
- D. 积极推动革命统一战线的建立

31. “一五”计划时期，党中央对厉行节约工作高度重视，多次发布一系列重要指示文件，要求建立和实行严格的节约制度，在全国范围内推动开展深入、全面的节约运动，并正式确立“勤俭建国”的方针。此方针旨在

- A. 加速社会主义过渡进程
- B. 优化调整工业化的结构
- C. 缓减工业化资金缺口
- D. 树立勤俭节约的美德

32. 苏格拉底认为，一切事务都坚持最“美”的状态，同时，他注重教师自身的人格道德修养对于学生的影响，真正做到了言传身教。苏格拉底的主张意在

- A. 重振雅典人的道德素养
- B. 提升雅典城邦的地位
- C. 消除智者学派的影响
- D. 将哲学焦点转移到人上

33. 1690年，英国议会通过了几个财政法案，限制国王的收入。威廉国王得到的终生享用的收入只及詹姆士二世的一半，完全不敷支出，用当时议会成员埃特里克的话说，新国王被置于了“仅够伙食钱”的困地。这说明在当时英国

- A. 国王权力被完全剥夺
- B. 议会权力高于王权
- C. 责任内阁制已经确立
- D. 财务状况逐渐恶化

34. 1958年，美国学者在调查苏联人民的生活状况时指出，苏联人民的饮食结构中对土豆的需求最大，60%的人不买水果，25%的人不买生菜或其他蔬菜，而肉、蛋、牛奶的消耗更要低很多。这体现了

- A. 美国在与当时苏联争霸中处于劣势地位
- B. 苏联人民为社会主义建设作出巨大贡献
- C. 苏联农业集体化滞后制约工业化的发展
- D. 经济大危机造成了苏联经济结构的失衡

35. 1968年，欧洲艺术家耶洛绘制《美国室内装潢》系列，作品内景是典型的美国家庭室内的精致摆设，而透过窗外的景观，则是有武器的工人、农民等组成的红色政权，来势汹汹。这反映了

- A. 两极格局下美苏关系逐步缓和
- B. 世界多极化趋势取代了两极格局
- C. 马歇尔计划后欧洲经济的复苏
- D. 冷战格局影响了当时的价值思维



美国室内装潢1号，1968年，伦敦泰特美术馆

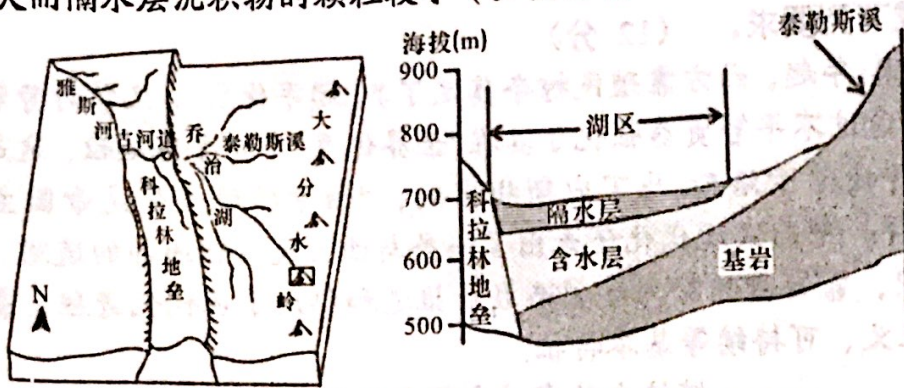
第II卷（非选择题 共160分）

二、非选择题：共160分，第36~42题为必考题，每个试题考生都必须作答。第43~47题为选考题，考生根据要求作答。

（一）必考题：共135分。

36. 阅读图文材料，完成下列要求。(22分)

板块运动造成的地貌格局的变化会引起区域地表径流的形态、河湖底部沉积物的发展变化，古雅斯河发源于澳大利亚大分水岭西侧，构造运动导致其水系发生了演变(如图甲)。乔治湖水位波动大，有时连年干涸，湖底覆盖着不同类型的沉积物。调查发现，含水层沉积物的颗粒较大而隔水层沉积物的颗粒较小(如图乙)。



图甲

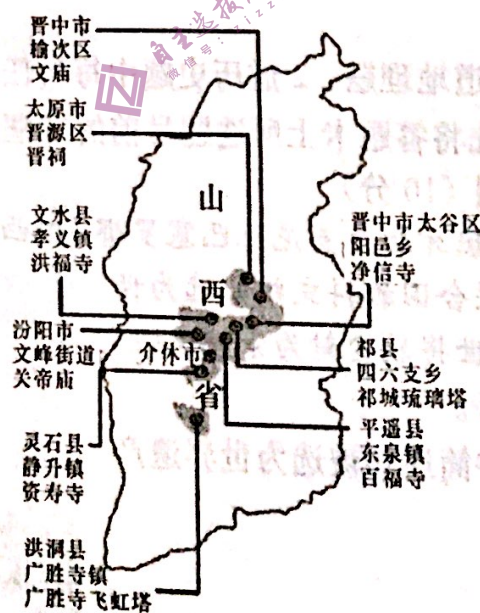
图乙

- (1) 根据材料，简述乔治湖水位波动大的原因。(6分)
- (2) 说明自科拉林地垒形成以来乔治湖水文特征的变化。(8分)
- (3) 依据乔治湖湖底沉积物颗粒的垂直分布差异，指出泰勒斯溪历史时期流速、流量的变化特征。(8分)

37. 阅读图文材料，完成下列要求。(24分)

材料一 中国古代的宗教建筑很多都覆盖着繁复精美的琉璃构件。琉璃的原料大多数是就地取材。历史上，山西省中南部地区是中国建筑琉璃产业最集中的区域，而建筑琉璃匠人辈出的介休又是这一区域琉璃窑火最旺盛的中心——既是烧制中心，又是输出中心。每一件琉璃构件都需要经过选料、造型、素烧、釉烧等十几道工序，一件简单的琉璃都需要经过几个月的制作周期，大中型琉璃构件则需要半年以上。

材料二 山西省中南部地区精品琉璃建筑分布图。



- (1) 分析山西省中南部地区成为我国建筑琉璃产业集聚区域的原因。(8分)
- (2) 分析介休成为琉璃窑火最旺盛中心的原因。(6分)

(3) 随着建筑琉璃技艺的成熟，介休当地很多建筑琉璃匠人远走他乡，推测此现象的原因。(4分)

(4) 在大型建筑上使用的琉璃构件，往往尺幅都比较大，这时就需要将其分解成若干片，再进行烧制，成品后只需简单拼合即可。说明这种方式的优点。(6分)

38. 阅读材料，完成下列要求。(14分)

中央一号文件明确提出“聚焦产业促进乡村发展”。

“互联网+”勾画中国乡村新图景：智慧大棚、农产品电商平台、5G、人工智能、物联网等新一代技术不断与农业生产融合发展，数字基础设施和互联网发展新业态新模式正扎根乡村、服务农民。

在我国第一个全智能数字水稻种植基地，通过一台平板电脑管理200亩的“数字水稻”试验田。设置在田间的俗称“水稻CT机”，扫描作物生长情况，通过特殊的软件就可以分析出来叶片的含水量、枯叶比等各项指标。田间的5G智能杆，负责采集温度、湿度、太阳辐射值，每5到10天无人机航拍一次，掌握稻田的生长态势。“数字水稻”亩产可以增加20%，节水、节肥在30%以上，预测未来每十万亩农田只需要10人就可以搞定。

浙江遂昌的茶叶产业是当地农村经济发展的支柱产业，当地全力打造集研发、加工、物流及产业配套服务于一体的数字茶业创业园。园区为70家茶叶加工企业提供产供销服务，直接增加400余个电商营销就业岗位，预计年产值将达3.5亿元。

据测算，2025年我国数字农业经济规模将接近1.3万亿，占农业增加值的比重将达到15%。

结合材料，运用《经济生活》知识，分析数字经济如何赋能产业兴盛，助力乡村振兴？

39. 阅读材料，完成下列要求。(12分)

某区在市域社会治理工作中坚持用好统筹之“笔”，以党委领导“妙笔”推动社会治理“生花”。三级党委统筹发力、围绕确定的任务和基层治理突出问题，一周一研判，整合力量、协商共治，每日落实接诉即办、未诉先办。依托社区党建工作协调委员会，383个社区统筹居委会、业委会、产权单位、物业公司，发动居民骨干、物业职工等4000余人，组建“民情管家团队”，上门问需、入户服务；选派年轻干部，到群众诉求多的社区担任“治理书记”，蹲点解决问题，共派3.5万名党员干部在社区报到，参与平安巡防、矛盾化解等工作；以党支部为核心。以群众需求为导向，为群众提供法律咨询、纠纷调解、民情恳谈、村民议事等协商活动，向群众面对面宣讲政策、心贴心征求意见、点对点破解难题。

结合材料，运用《政治生活》的知识，分析该区是如何以党委领导“妙笔”推动社会治理“生花”的？

40. 阅读材料，完成下列要求。(26分)

实践没有止境，理论创新也没有止境。要继续推进实践基础上的理论创新，首先要把握好新时代中国特色社会主义思想的世界观和方法论，坚持好、运用好贯穿其中的立场观点方法。

必须坚持人民至上

延安时期，中国共产党提出全心全意为人民服务的根本宗旨并写入党章，强调中国共产

2022年10月27日，党“这个队伍完全是为着解放人民的，是彻底地为人民的利益工作的”。全党同志要站稳人民立场，习近平总书记带领中共中央政治局常委瞻仰延安革命纪念地时强调：“全党同志要站稳人民立场，践行党的宗旨，贯彻党的群众路线，保持党同人民群众的血肉联系，自觉把以人民为中心的发展思想贯穿到各项工作之中，扎实推进共同富裕，让现代化建设成果更多更公平惠及全体人民。”以习近平同志为核心的党中央举全党全国之力脱贫攻坚，实现了中华民族从整体上消除绝对贫困的历史壮举，中国人民生活全方位改善，获得感、幸福感、安全感更加充实、更有保障、更可持续，真正过上了全面小康的幸福生活。

必须坚持文化自信自强

文化自信自强是实现中华民族伟大复兴的必然要求。党的十八大以来，以习近平同志为核心的党中央牢牢把握意识形态工作领导权，将培育和践行社会主义核心价值观作为重大战略任务，坚持把马克思主义基本原理同中国具体实际相结合、同中华优秀传统文化相结合，发展社会主义先进文化、弘扬革命文化，传承中华优秀传统文化，坚持把社会效益放首位、社会效益与经济效益相统一，推动公共文化服务均等化、产业化发展，为文化产业的高质量发展提供支撑，提高全社会文明程度，推动明大德、守公德、严私德，提高人民道德水准和文明素养，加强国际传播能力建设，讲好中国故事、传播好中国声音，展现可信、可爱、可敬的中国形象。

- (1) 中国共产党坚持人民至上。结合材料，运用“价值观相关知识”对此加以说明。(12分)
- (2) 结合材料，运用《文化生活》的相关知识，谈一谈如何推进文化自信自强？(10分)
- (3) 青年兴，则国家兴；青年强，则国家强。在全面建设社会主义现代化国家的进程中，广大青年如何才能不负青春，不负韶华？(4分)

41. 阅读材料，完成下要求。(25分)

材料一 孔子(前551~前479年)，儒家学派的创始人，孔子曾周游列国，到处游说诸侯，晚年回到了鲁国从事讲学。在教育对象上，孔子倡导“有教无类”，这一口号的提出不仅使“私学”走向了兴盛，而且为战国社会变革奠定了人才基础。在教学实践中，孔子重视启发学生学习的自觉性、主动性，强调实事求是的学习态度。在学习过程中，要多听多看，有怀疑的地方不轻易下判断，要持存疑态度。同时孔子还主张要相互学习，取长补短，要做到“不耻下问”。在学习方法上，孔子提出了“学而不思则罔，思而不学则怠”；“学而时习之”，“温故而知新”的主张。面对学生，孔子主张“有教无类”及“因材施教”的观点对后世影响极大。在培养目标上，他倡导“仕而优则学，学而优则仕”的主张，在我国教育史和选官制度变革上具有划时代的进步意义。鉴于孔子在教育上的贡献，国际学术界尊其为世界古代十大思想家之首。

——摘编自朱邵侯、齐涛等《中国古代史》

材料二 柏拉图(前427~前347年)，古希腊著名的哲学家、教育家，曾在雅典创办过阿加德米学院。在教育作用方面，他认为良好的教育是实现理想社会，培养出合格的卫国者的保证。他认为教育在改造人性上也有着巨大的威力，因此他要求国家严格控制教育。柏拉图的最高教育目的则是要培养“哲学王”，经过教育的培养的精英可以成为优秀的哲学家，最终成为统治者。在教育对象上，他主张“精英”教育，应该从第一、二等级中选出最优秀的年轻人进行学习。在教育方法上，柏拉图提倡启发诱导，他认为，只要经过启发，没有学习过的人也能自觉地推导出数学、几何等公式。柏拉图以上的教育理念对欧洲的教育产生了深远的影响。

——摘编自陈桃兰《孔子与柏拉图的教育思想比较》

- (1) 根据材料及所学知识，简析孔子和柏拉图教育理念产生的背景。(12分)
- (2) 根据材料及所学知识，概括孔子和柏拉图教育理念的相同之处。(8分)
- (3) 根据材料，谈谈你对当下教育的建议。(5分)

42. 阅读材料，完成下列要求。(12分)

材料一 大约从1500年起，西方靠殖民掠夺奠定了其“起手优势”，又靠对劳动者的剥削压榨进行原始积累，并且通过不平等贸易强化了其在“世界体系”中的支配地位，这是西方现代化的“共性”。正如英国评论家卡洛斯·马丁内斯指出的，“西方的现代化是帝国主义的现代化”。……除了用时不一样，中国式现代化还走出了一条与西方现代化迥异的道路，中国作为一个人口规模巨大的国家，靠自身的努力和创造成功推进和拓展了现代化进程，表现出独立自主、和平发展、公平正义、可持续等基本特征。

——摘编自韩震《中国式现代化打破“现代化=西方化”迷思》

材料二

西方现代化历程简表

时间	相关事件
14—18世纪	文艺复兴、宗教改革、科学革命、启蒙运动及殖民掠夺
17—19世纪中后期	英法美资产阶级革命、德意王朝战争、俄日资产阶级改革及殖民扩张
18世纪中期—至今	工业革命、第二次工业革命、信息革命及殖民扩张


——摘编自《半月谈·世界现代化道路绝非独尊西方》

- (1) 根据材料一，指出中国式现代化与西方现代化的区别。(6分)
- (2) 根据材料二并结合所学知识，围绕西方现代化的历程展开论述。(要求：史论结合，论证充分，表述清晰。)(6分)

(二) 选考题：共25分。请考生从2道地理题、2道历史题中每科任选一题作答。如果多做，则每科按所做的第一题计分。答题前先将答题卡上所选题号前的方框涂黑。

43. 【地理——选修3：旅游地理】(10分)

圣家族大教堂(如图所示)位于西班牙加泰罗尼亚巴塞罗那，由西班牙建筑师安东尼奥·高迪设计。尽管教堂还未竣工，但已被联合国教科文组织选为世界遗产。2010年11月，教皇本笃十六世将教堂封为宗座圣殿。如今，众多婚礼也会预约到该教堂举行。



指出圣家族大教堂的旅游价值，并简述其被选为世界遗产对加泰罗尼亚巴塞罗那的重要意义。

44.【地理——选修6：环境保护】(10分)

金丝楠是中国特有的珍贵木材，属国家二级保护植物。金丝楠主要分布在中国四川、贵州、湖北和湖南等海拔1000米至1500米的亚热带地区阴湿山谷、山洼及河沟旁，生长缓慢，至少两百年以上才能成为栋梁材。金丝楠木名列中国四大名木之首，被誉为中国“国木”，有淡雅幽香、纹理直而细腻，耐腐蚀性强，是建筑、文玩、高级家具的优良用材。明朝后期金丝楠已经在中国许多地方绝迹，只有在原始森林中才能找到它们的身影。

推测明朝后期金丝楠在中国许多地方绝迹的原因，并为金丝楠的可持续发展提出合理化建议。

45.【历史——选修1：历史上重大改革回眸】(15分)

广东军政府为消除内部隐患，巩固革命政权，与各种军阀和反革命势力进行了一系列的斗争，于1926年2月，彻底肃清了盘踞在广东境内的各种军阀与反革命武装。同年2月，中共中央在北京召开特别会议，会议指出：目前中国革命正处于非常时期，其根本出路“在于广州国民政府北伐的胜利”，因此，党在当前的主要任务是从各方面准备广州政府的北伐。准备北伐“不仅是在广东做军事的准备”，更重要的是在“北伐路线必经之湖南、湖北、河南、直隶等处预备民众奋起的接应”，“以建筑工农革命联合的基础，而达到国民革命在全国范围的胜利”。会后，中国共产党进一步加强了对全国工农运动的领导，并派了许多优秀党员和青年团员到国民革命军中做政治工作，为北伐战争作了群众工作和干部队伍的准备。

——摘编自来新夏等《北洋军阀史》

- (1) 根据材料及所学知识，指出中共中央北伐的背景。(9分)
- (2) 根据材料及所学知识，简析北伐对中国共产党成长的意义。(6分)

46.【历史——选修4：中外历史人物评说】(15分)

葛洪，字稚川，丹阳句容人也。少年好学，因家贫，通过砍柴来购买纸笔，乃至常常在夜间写书诵习。他有时寻求典籍探究学问，不远千里，不顾道路崎岖艰险，于是得以博览群书终成大名。太安年间(302~303年)，石冰作乱，吴兴太守顾秘传檄书召葛洪为将兵都尉，让他攻击石冰的策应部队，葛洪打败了这支敌军，石冰之乱平息后，鉴于乱世加之本人厌恶官场而弃职潜心医学和养生之术，他所撰写《抱朴子》成为道家的重要书籍；同时经过大量的观察、实践为后世留下了《金匮药方》《肘后备急方》等多本涉及道家养生和中医药的书籍，极大的丰富了我中国医药学的发展。我国医药学家屠呦呦于2015年获得的诺贝尔医学奖的青蒿素的发明，就是受到了《肘后备急方》的启发。青蒿素的发明与使用，不仅说明了葛洪医学上成就，而且再一次证明了中医药学的价值。

——摘编自《晋书·葛洪传》等

- (1) 根据材料及所学知识，概括葛洪的贡献。(6分)
- (2) 根据材料及所学知识，概括葛洪取得成就的原因。(9分)