

高 19 级阶段学情调研检测

历史试题

2021.09

第一卷(选择题)

一、选择题(共 29 个题,每题 2 分,共 58 分,每小题只有一个正确选项。)

1. 三星堆遗址新发现的六个坑中出土了大量的青铜器、象牙和祭祀用的丝绸。而对新发现坑中的 73 份碳屑样品进行碳 14 年代检测,初步判定其中 4 号坑年代最有可能在公元前 1199 年至公元前 1017 年。三星堆遗址的新发现

- A. 反映出当时中外之间的交流频繁 B. 体现出社会等级分化初步显现
C. 说明考古发掘能还原真实历史 D. 丰富了对中华早期文明的认知

2. 西周分封制下,周天子与诸侯国君将包括土地及人口的采邑赐给卿、大夫作为世禄。西周中期以后,贵族所获采邑越来越多,到春秋时期,有的诸侯国一个大夫的采邑就多达数十个。这说明

- A. 土地国有制度废除 B. 分封体制不断强化
C. 诸侯国君权力巩固 D. 社会生产持续发展

3. 汉高祖时期,王国职官设置与朝廷基本一致。下表为此后西汉统治者对王国职官的调整概况,这些调整的出发点是时期 调整概况汉景帝时期 改丞相为相;裁撤御史大夫、廷尉等汉武帝时期 郎中令减秩为千石;改太仆(秩两千石)为仆(秩千石)汉成帝时期 裁撤内史;令相治民,与郡太守无异

- A. 精简地方行政机构 B. 节约中央财政开支
C. 维护国家政治统一 D. 废除郡国并行体制

4. 唐开元时(公元 713—741 年)年铸钱百余万缗。天宝十一载(公元 752 年)减为三十二万七千缗。宪宗元和年间(公元 826—827 年)只铸十三万五千缗。文宗太和八年(公元 834 年)则不到十万缗。能够说明这一情况的是

- A. 白银取代铜钱成为主要货币 B. 铜矿开采技术长期不能更新
C. 中央对地方的控制大为削弱 D. 南方社会经济逐渐超过北方

5. 《宋书·百官志》记载:郡守,秦官。秦灭诸侯,随以其地为郡,置守、丞、尉各一人……汉景帝中二年,更名守曰太守,尉为都尉……汉末及三国,多以诸部都尉为郡……晋成帝咸康七年,又省诸郡丞……宋太祖元嘉四年,复置。据此

可知

- A. 郡的设置最早出现于秦朝 B. 汉承秦制推行郡县和封国并行
C. 中央集权制度在不断加强 D. 古代地方行政设置具有延续性
6. “猜灯谜”是中国特有的传统娱乐活动。清末上海某年元宵节上, 灯谜“欧洲种(打一字)”的谜底是“伯”, “德律风(打一地名)”的谜底是“电白”, “成汤鸣条之战”(打一名词)的谜底是“商战”等等。这些灯谜
- A. 具有鲜明的时代气息 B. 体现了政府对西学的重视
C. 反映了民众崇洋之风盛行 D. 旨在加强中外文化交流
7. 1905至1907年间, 中国资产阶级革命派与改良派的思想论战达到了高潮。他们在论战中存在着原则分歧, 但在面对帝国主义侵略问题上也有共通之处, 提出“人必自侮而后人侮之”, “自有可亡之处, 岂能怨人之亡我乎!”这反映出革命派与改良派的共同局限性为
- A. 不反对帝国主义侵略 B. 对帝国主义侵略行为作了开脱
C. 以反清作为御侮之道 D. 希望争取帝国主义的大力支持
8. 瞿同祖在《中国法律与中国社会》中指出: 官僚系统越完备, 对君主个人的品德、才能要求就越低, “君主”也就愈表现为一个纯粹的权力符号, 只靠他一个人的血缘身份便可以推动整个国家机器的运转。瞿同祖意在说明, 官僚制度
- A. 密切了君臣之间的关系 B. 维护了封建国家的统治
C. 加强了社会治理的力量 D. 提高了官员的办事效率
9. 明清时期, “善书”在民间广为流行, 这类书籍多由士绅编撰, 内容侧重倡导忠孝友悌、济急救危、受辱不怨, 戒饬攻讦宗亲、凌逼孤寡等, 以奉劝世人“诸恶莫作, 众善奉行”。“善书”的流行
- A. 确立了理学思想的主导地位 B. 强化了社会主流的价值观
C. 阻碍了官方意识形态的推广 D. 冲击了儒家经典的神圣性
10. 在明代, 庶民袖小衣短, “去地五寸”; 生员袖大衣长, “去地一寸”, 体现斯文之气, 且其服饰颜色和制式内含“比德于玉”“规言矩行”等意。这反映了当时
- A. 儒家思想规范社会生活 B. 科举制度限制社会流动
C. 社会等级结构日益固化 D. 市民文化突破礼制限定

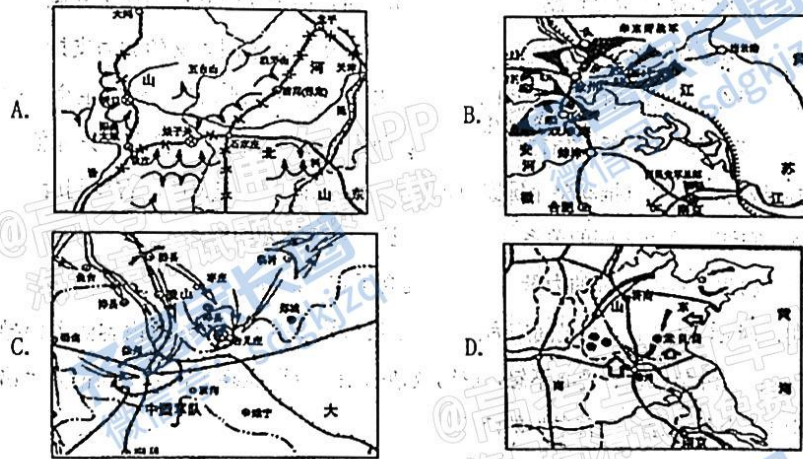
11. 1898 年, 某书商慨叹废八股将使自己损失惨重, 后来发现“经学书犹有人买”, 其损失并不如以前估计之大, 而该书商对新学书籍的投资不久又面临亏损。这可以反映出该时期

- A. 儒学地位颠覆
- B. 列强侵略加剧
- C. 政局变化迅速
- D. 西学深入人心

12. 孙中山在一次演说中认为, 近代欧美各国工商业发达, 却出现“富者敌国, 贫者无立锥”的现象, 因此中国必须“未雨绸缪, 赶紧设法, 免得再蹈覆辙”。孙中山旨在

- A. 抨击资本主义制度的弊端
- B. 宣传“均贫富”的政治理想
- C. 为联合苏俄提供政策依据
- D. 主张社会革命解决民生问题

13. 彭德怀说, “这次战役大大提高了华北人民群众敌后抗日的胜利信心……打击了国民党制造所谓八路军‘游而不击, 的谣言’。”“这次战役”的示意图是



14. 20 世纪初, 武汉三镇“占长江沿岸最枢要之地, 商况之殷盛, 亦冠于沿岸之诸港”, 汉口更是“舟楫之辐辏, 货物之聚散, 其盛不亚于上海, 其余则尚未能比类也”。武汉的这一状况

- A. 表明其航运发展水平超过上海
- B. 说明商业贸易中心向腹地转移
- C. 为长江沿岸工业重新布局奠定基础
- D. 为资产阶级民主革命发生创造条件

15. 1919年11月,有人指出当时全国新出版物中普遍有“一个‘?’疑问符”“这个‘疑’字不但把我国固有的思想信仰摇动了,而且把‘舶来品’的思想信仰也摇动起来”。思想界这一状况

- A. 是基于对五四运动的反思
- B. 促进了新思想的进一步传播
- C. 反映中西文化矛盾的激化
- D. 表明使用新式标点成为时尚

16. 1988年与1978年相比,中国平均每一农村劳动力创造的农村社会总产值增长1.8倍,平均每年增长10.9%;每一农业劳动力创造的农业总产值增长65.1%,平均每年增长5.1%;生产的粮食增长16.3%,平均每年增长1.5%。这得益于家庭联产承包责任制

- A. 调整了土地的所有制关系
- B. 实行了集约化经营手段
- C. 推行了农业机械化生产
- D. 改变了产品分配的方式

17. 以下是《唐关市令复原清本》内容摘录。据此可知,唐代

- 诸蕃客初入朝,未发遣州府过所(通行证)
- 诸外蕃与缘边互市,皆令互市官司检校
- 诸禁物不得并出关
- 诸私共诸蕃交易为人翻(译)获者……没官

- A. 严格限制对外贸易
- B. 不法外商势力猖獗
- C. 注重规范外贸管理
- D. 海上丝绸之路繁盛

18. 明清时期,在《东周列国志》《二十四史通俗演义》等历史通俗演义小说中,孔子不再是大成至圣文宣王的君王形象,而被塑造为一个既食人间烟火又顾及眼前利益,同时讲究灵活变通的人物形象。这一形象的变化

- A. 试图还原一个真实的孔子
- B. 意在颠覆正统的孔子形象
- C. 符合市民民众的审美情趣
- D. 反映了主流价值观念嬗变

19. 1922年中共二大将无产阶级置于“帮助”“援助”“扶助”等历史地位。

1925年中共四大则明确指出:“无产阶级的政党应该知道无产阶级参加民族运动,不是附属资产阶级而参加,乃以自己阶级独立的地位与目的参加,并且取得领导的地位,才能够得到胜利。”这表明中国共产党

- A. 政治思想上逐渐走向成熟
- B. 总结反思大革命经验教训
- C. 对社会性质做出正确判断
- D. 认识到掌握武装的重要性

20. 唐代韩愈对孟子特别推崇,在“道统”中将原先被列为上承孔子的颜渊,排斥在主线之外,以孟子上承孔子,而自承孟子,并且将儒学研究从章句训诂引导为对经典义理的探求。韩愈此举

- A. 影响了宋代儒学的发展
- B. 挽救了儒学的危机
- C. 反映了唐朝文化的多元
- D. 确立了孟子的亚圣地位

21 宋初,延续了唐代良贱不婚的传统。南宋后期,“婚姻不问阀阅”已经成为不少家庭恪守和遵从的信条。这一变化

- A. 深受理学发展的影响
- B. 得益于科举制的完善
- C. 反映了社会结构的变动
- D. 冲击了封建纲常礼教

22. 康熙中后期,与周边国家的“朝贡贸易”在对外贸易总量中已无足轻重,取而代之的是以南洋为中心的中荷贸易、以恰克图为中心的中俄贸易、以广州为中心的中英贸易,这使得大量白银流入国内市场。这表明当时

- A. 朝贡体制走向解体
- B. 入超格局出现逆转
- C. 闭关锁国政策解除
- D. 传统经济仍有优势

23- 1872年,上海轮船招商局在其发行的股票上明确标注“当经本局议定,招募股银壹佰万两,分作千股,先收银五百两,每年壹分生息”的字样。这表明轮船招商局

- A. 标志着中国近代工业的起步
- B. 所有权与经营权的分离
- C. 具有近代企业制度的雏形
- D. 对外国资本具有依赖性

24. 1902年,梁启超创办《新民丛报》,在创刊号上他发表了长篇政论文《新民说》,强调“本报取《大学》新民之义,以为欲维新吾国,当先维新吾民;中国所以不振,由于国民公德缺乏,智能不开,故本报专对此病而药治之”。由此可见,梁启超

- A. 意识到增强国民素质的重要性
- B. 借助媒体舆论鼓动维新变法
- C. 重视思想宣传与群众运动结合
- D. 利用传统文化提高国民公德

25. 下图是《民权画报》于1912年8月13日刊登的一幅漫画,画中有一只猿猴手持五色旗,在地球上绕圈子跑动。该漫画寓意当时中国



- A. 积极顺应世界民主化潮流
- B. 民主共和深入人心
- C. 民众对袁世凯称帝的不满
- D. 政治转型的艰难

26. 1933年5月, 中华苏维埃共和国临时中央政府举行第一届运动会, 运动会上军民互动, 同场竞技。毛泽东为运动会题词“锻炼工农阶级铁的筋骨, 战胜一切敌人”, 还担任乒乓球裁判, 朱德与士兵、百姓一起打排球。举行这届运动会旨在

- A. 激发群众的革命热情
- B. 巩固国民革命的社会基础
- C. 传达健康的体育精神
- D. 适应民族战争形势的需要

27. 1984年10月13日, 国务院发出《关于农民进入集镇落户问题的通知》, 要求各级人民政府积极支持有经营能力和技术专长的农民进入集镇经营工商业, 并放宽其落户政策, 统计为非农业人口, 从而打破了长期以来从户籍上限制农民进城的旧规定。这一做法

- A. 推进了社会主义市场经济体制确立
- B. 发展了农村家庭联产承包责任制
- C. 适应了城乡商品经济发展的需要
- D. 解决了城乡二元户籍制度的弊端

28. 1941年, 日军对沂蒙山根据地中心区进行大“扫荡”, 根据地万余非战斗人员在大青山地区与装备精良的五万多敌人殊死斗争, 最终九千人胜利突围。国际主义战士汉斯·希伯在此次战斗中牺牲。这一事件


- A. 改变了战场上敌我攻防态势
- B. 实践了世界反法西斯同盟的主张
- C. 是敌后抗日战场的一次大捷
- D. 彰显了不畏强暴坚忍不拔的精神

第二卷 (非选择题)

29、(15 分)

1980年6月18日,四川省广汉县向阳人做出了一个在新中国历史上具有重要意义的举动(图

11)。阅读材料,回答问题。



“写好了,墨汁都还没干就匆匆挂上去了。”“在换牌半年多时间里,我连陌生人都不敢见呢。”

——肖开文(新牌子书写者,时任向阳公社文化站站长)

“这(幅照片)是后来补拍的。因为摘牌很低调,当时广汉县委定了三条纪律:不准宣传、不准广播、不准登报。”

——陈武元(四川省社会科学院研究员,1980年前后曾长驻广汉作农村改革调查与研究)

注:以上文字材料摘编自《四川日报》(2009年8月13日)

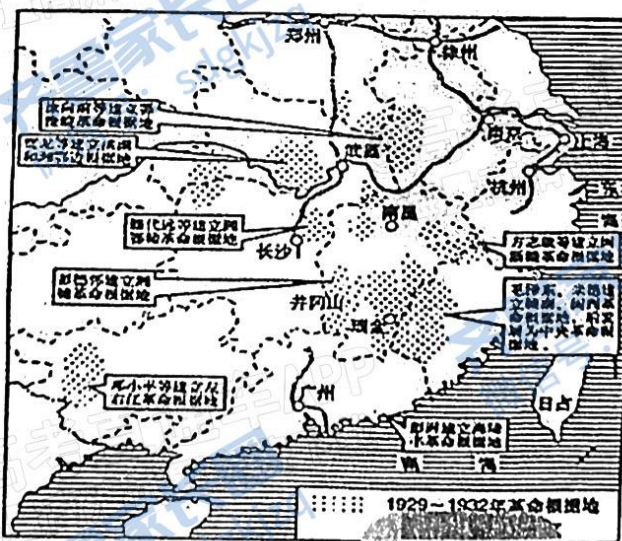
图 11

概括指出材料所蕴含的历史信息,并结合时代背景加以阐释。(14分)

30、(15分)

· 新民主主义革命时期,中国共产党由小到大、由弱变强。图1、图2、图3反映了不同时期的革命形势状况。阅读材料,回答问题。

材料



高19级历史试题 第7页 共10页



图2 华北敌后抗日根据地形势示意图

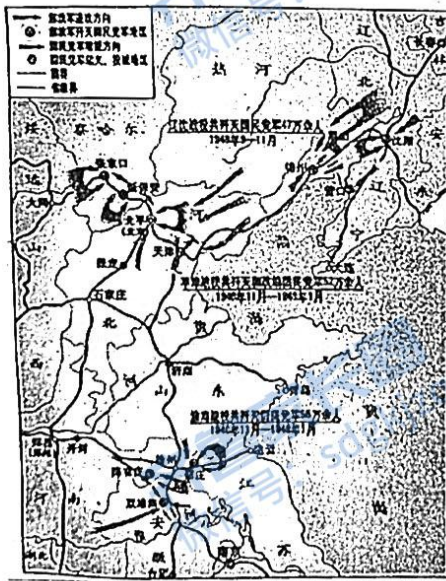


图3 三大战役示意图

(1) 依据图1、图2、图3的信息, 分别概括当时革命形势的特点。

(2) 以“变与不变”为主题, 谈谈你对中国共产党领导民主革命的认识。

31(14分).

劳动模范简称劳模,是在社会主义建设事业中成绩卓著的劳动者,经职工民主评选,有关部门审核和政府审批后被授予的荣誉称号。阅读材料,回答问题。

材料一 1983-1988年全国劳模年度授奖概况

国务院决定表彰的时间	获奖人数	获奖人姓名	获奖人单位和职业	颁奖时间和地点
1983年2月22日	3	赵春城 罗健夫 蒋筑英	河南洛阳老集煤场女工 航天工业部陕西骊山微电子公司工程师 中国科学院长春光学精密机械研究所副研究员	2月28日陕西西安 3月4日河南 3月4日吉林长春
1984年9月24日	1	焦红	河北邯郸运输公司汽车六队货车司机	10月31日石家庄
1985年11月2日	1	杨怀远	上海海运管理局“长柳”号轮船服务员	11月5日上海
1986年7月8日	1	邓稼先	国防科学技术工业委员会科技委员会副主任、核物理学家	7月16日解放军301医院病房
1987年4月11日	5	赵成顺 于敏 艾有勤 李国桥 熊汉仙	鞍山钢铁公司半连轧厂副厂长、高级工程师 核工业部科技委员会副主任、理论物理学家 河北开滦唐家庄煤矿三区采支小队长 广州中医学院副院长 湖北武汉六渡桥百货公司女营业员	4月27日北京中南海怀仁堂
1988年4月20日	10	张兴让 李守堂 赵乃刚 杜德顺	河北石家庄市第一塑料厂厂长 黑龙江牡丹江木工机械厂车工 安徽省水产局局长 北京虎坊路浴池特级修脚技师	4月30日北京人民大会堂

高19级历史试题 第9页 共10页

	顾诵芬	航空工业部科技委员会副主任
	路寅娟	上海第31棉纺厂挡车工
	朱菊儿	山东电力建设第一工程公司副总工程师
	王永民	河南省计算机中心副总工程师
	魏书生	辽宁盘锦市实验中学教师
	聂卫平	中国围棋队总教练

材料二 全国劳模评选自2005年起采取“两审三公示”的办法,由表彰大会筹备委员会办公室对推荐人员的相关情况进行初审和复审,在本单位、省级和全国进行三级公示,以便接受社会监督

2015年4月28日,在时隔36年之后,中共中央、国务院共同发起表彰全国劳模和先进工作者的高规格大会再次举行。2015年与2010年的表彰情况相比,企业一线职工占企业人选的比例由55%提高到57%,农民工占农民人选的比例从6%提高到25%。

——以上材料均摘自姚力《20世纪80年代全国劳模表彰及其时代价值》

- (1) 据材料一概括20世纪八十年代全国劳模授奖的特点,并分析原因。
- (2) 材料二中劳模表彰有何新变化?指出新时代劳模表彰的价值。

高 19 级阶段学情调研检测

历史试题 (参考答案)

1-5 DDCCD 6—10 ABBBA 11-15 CDADB 16-20 CCCBA

21-25 BDCAD 26-28 ACD

29. (15分)

提取历史信息

层次一: 能结合历史发展的时代特征, 准确、全面地概括材料反映的历史信息。例: 人民公社体制开始被打破, 政治体制改革已悄然进行; “左”倾思想的束缚依然存在, 人们对改革心存顾虑。

层次二: 能依据材料, 获取表层信息。例: 向阳人悄悄摘下人民公社的牌子, 人们对摘牌行为感到忧虑。

层次三: 答案与材料没有联系。

进行历史解释

层次一: 能结合时代背景, 在材料所反映的信息和以下知识之间建立联系, 并进行合理解释。如: ①人民公社体制的弊端; ②十一届三中全会及其关于改革的决定; ③拨乱反正工作及当时思想领域的实际状况等。在此基础上, 能提出独立的见解或认识。例: 改革具有艰巨性, 改革是在新旧观念的激烈冲突中展开的。改革者必须有“敢为天下先”的精神和勇气, 才能实现改革的目的。

层次二: 能结合时代背景, 在材料所反映的信息和以下知识之间建立联系, 并进行合理解释。如: ①人民公社体制的弊端; ②十一届三中全会及其关于改革的决定; ③拨乱反正工作及当时思想领域的实际状况等。(依据考生作答时所涉及要点多少及解释的合理程度等酌情给分)

层次三: 不能在历史信息和所学历史知识之间建立某种联系, 没有对历史信息的解释。

历史表述

层次一: 合乎逻辑, 条理清楚, 语言流畅。

层次二: 基本符合逻辑, 条理较清晰, 语言较流畅。

层次三: 缺乏逻辑, 条理不清, 辞不达意。

30(15分)

(1) 图 1 (土地革命时期) 革命中心在南方; 国共矛盾是主要矛盾; 武装反抗国民党统治, 建立农村革命根据地 (工农武装割据); 中国共产党独立领导中国革命。(3分)

图 2 (全面抗战时期) 中共建立敌后抗日根据地, 开辟敌后战场; 华北是敌后抗日根据地集中区域; 民族矛盾和国共矛盾并存, 民族矛盾是主要矛盾。(3分)

图 3 (解放战争时期) 中国共产党领导的人民军队力量壮大; 国共矛盾是主要矛盾; 国共进入战略决战阶段, 国民党军队主力被歼灭; 战略决战主要发生在东北、华北和淮海地区; 革命胜利形势向全国推进。(3分)

(2) “变”: 在革命不同阶段, 中国共产党根据形势变化不断调整民主革命的路线、方针、策略 (如土地政策、斗争对象、具体任务等)。(3分)

“不变”: 在革命过程中, 中国共产党初心不变, 坚持共产主义理想, 为中国人民谋幸福, 为中华民族谋复兴; 坚持依靠人民群众; 坚持马列主义毛泽东思想; 坚持中国特色革命道路; 中国共产党是中华民族伟大复兴的坚强领导。(3分)

31(14分)

(1) 特点: 精心评选, 数量较少; 劳模类型多样、职业广泛; 知识分子所占比例较高; 授奖时间、地点不固定。(4分)

原因: 改革开放展开, 需要调动劳动者积极性; 国家重视知识和科技在经济发展中的巨大作用。(4分)

(2) 新变化: 劳模中基层工人农民比例提高; 评选更科学严谨规范; 新时代国家更加重视劳模表彰, 规格提高。(3分)

价值: 劳模表彰是弘扬劳模精神, 弘扬劳动精神, 弘扬我国工人阶级和广大劳动群众的伟大品格的重要途径; 劳模表彰有利于弘扬和践行社会主义核心价值观, 对提升国民道德素质和社会主义精神文明建设有重要价值; 劳模精神始终是中国人民创造幸福生活和推动社会向前发展的力量来源。(3分)

(从尊重劳动、弘扬劳模精神、加强思想道德建设、增强爱岗敬业意识、倡导良好社会风尚等角度作答, 言之有理均可。)

关于我们

齐鲁家长圈系业内权威、行业领先的自主选拔在线旗下子平台，集聚高考领域权威专家，运营团队均有多年高考特招研究经验，熟知山东新高考及特招政策，专为山东学子服务！聚焦山东新高考，提供新高考资讯、新高考政策解读、志愿填报、综合评价、强基计划、专项计划、双高艺体、选科、生涯规划等政策资讯服务，致力于做您的山东高考百科全书。

第一时间获取山东高考升学资讯，关注**齐鲁家长圈**微信号：**sdgkjzq**。



微信搜一搜

齐鲁家长圈

打开“微信 / 发现 / 搜一搜”搜索