

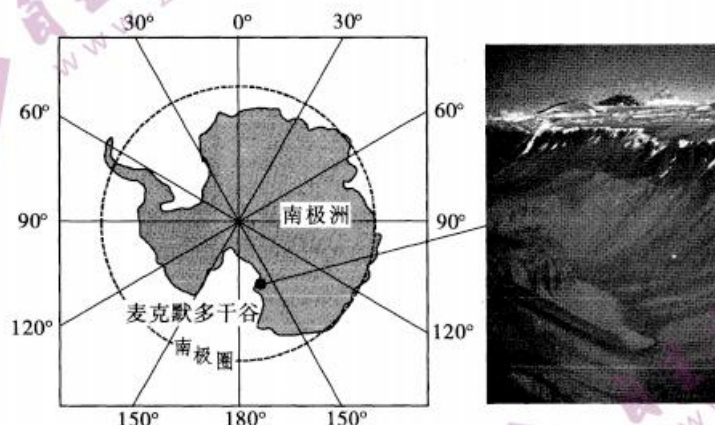
文科综合能力测试

注意事项:

1. 答卷前,考生务必将自己的姓名、准考证号填写在答题卡上。
2. 回答选择题时,选出每小题答案后,用铅笔把答题卡对应题目的答案标号涂黑。如需改动,用橡皮擦干净后,再选涂其他答案标号。回答非选择题时,将答案写在答题卡上。写在本试卷上无效。
3. 考试结束后,将本试卷和答题卡一并交回。

一、选择题:本题共 35 小题,每小题 4 分,共 140 分。在每小题给出的四个选项中,只有一项是符合题目要求的。

麦克默多干谷位于南极洲罗斯海附近的麦克默多海峡山脉西部的维多利亚陆地(见下图),面积约 4000 平方千米,这里常年干燥,没有生命的存在,已经有 200 多万年的时间没有降雪了,是南极洲唯一没有冰层的区域,被誉为地球上最像火星的区域。这段谷地周围是被冰雪覆盖的山岭。据此完成 1~3 题。

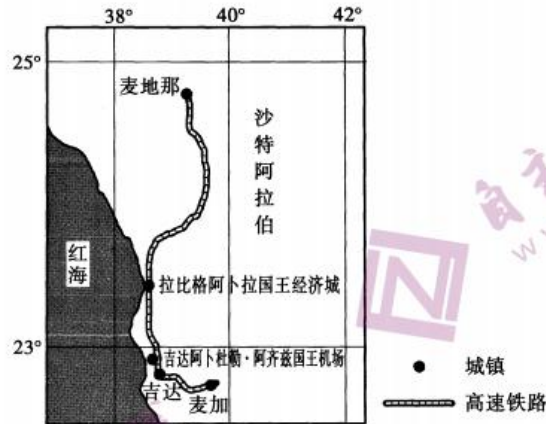


1. 麦克默多干谷既无积雪也无冰层的可能原因是
A. 空气湿度小
B. 盛行离岸风
C. 狭管效应,风力强劲
D. 气流下沉,难成云雪
2. 麦克默多干谷形成的地质过程可能为
A. 冰川堆积——断裂下陷——风力搬运
B. 断裂下陷——冰川侵蚀——风力侵蚀
C. 断裂下陷——冰川堆积——风力搬运
D. 风力侵蚀——断裂下陷——冰川侵蚀
3. 麦克默多干谷与火星的相似之处表现为
A. 整日风沙弥漫
B. 空气稀薄,氧气少
C. 气温日较差大
D. 极度干燥,无生命

沙特阿拉伯有两座伊斯兰教圣城,一座叫麦加,另一座叫麦地那。两座圣城均位于沙漠腹地,每年世界各地的 600 多万穆斯林来到麦加朝觐,朝觐者的大量涌入使狭窄的道路更加紧张,原有的交通系统已经过时。为此,沙特政府投资修建了连接两大圣城的麦麦高速铁路,其中大部分路段由中国企业承建。如今,麦麦高速铁路已经开行两年多,运行效果超出预期,列车准点率超过 93%,客座率达 82%。

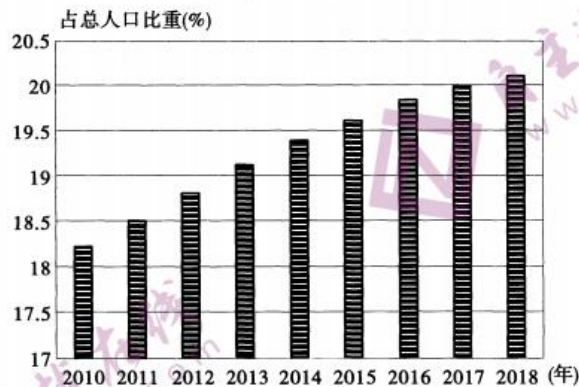


下图示意麦麦高速铁路。据此完成 4~6 题。



4. 沙特阿拉伯能够在沙漠中修建高速铁路, 凭借的是它
- A. 强大的施工能力 B. 独特的宗教文化
- C. 雄厚的资金储备 D. 较大的运输需求
5. 为了达到设计要求, 麦麦高铁在修建过程中, 需要解决的难题主要有
- A. 地势起伏、地形复杂 B. 风沙频发、路基松软
- C. 沙漠浩瀚、劳动力少 D. 阳光暴晒、空气干燥
6. 麦麦高铁修建的主导因素是
- A. 自然 B. 科技 C. 经济 D. 社会

2020年3月3日《瑞典日报》报道瑞典65岁及以上人口比重已由1968年的13.4%, 攀升到2018年的20.10%, 并占世界比重的0.30%。其中厄兰岛的博里霍尔姆市老年居民比例最高, 占35.7%。位于斯德哥尔摩的松德比贝里市老年人口最少, 占比12.5%。下图为2010~2018年瑞典65岁及以上人口占总人口比重。据此完成7~8题。



7. 瑞典人口老龄化趋于严重的直接原因是
- A. 经济发达, 社会养老制度完善 B. 气候寒冷, 人口生育率低
- C. 就业压力大, 育龄妇女少 D. 人口出生率下降, 寿命在延长
8. 博里霍尔姆与松德比贝里两城市均位于瑞典的东南部, 但人口老龄化存在差异, 说明瑞典存在
- A. 宗教文化的地域差异 B. 自然环境的地域差异
- C. 就业机会的地域差异 D. 退休年龄的地域差异



章丘大葱为多年生宿根草本植物,产自山东济南市章丘区,是全国300个地理标志性特产之一,具有高、长、脆、甜的品质特点。在长期的生产实践中,当地人发明了大葱种植“培土技术”。即大葱每长高一次就培土一次,先后有6次左右的人工培土,其好处是既利于大葱的不断增高,也为大葱提供更多的养分。近年来,随着城镇化发展,种植章丘大葱的劳动力短缺。2020年,济南市章丘区村企联手开始“两年种葱,一年养鸡”的种养轮作实验,取得较高经济效益。右图示意一一捆好的章丘大葱。据此完成9~11题。



9. 章丘大葱品质优良的土壤条件是
- A. 疏松、湿润 B. 深厚、透水 C. 透气、保水 D. 深厚、肥沃
10. 为节省劳动力,促进章丘大葱产业可持续发展,应当实现大葱种植的
- A. 自动化、良种化 B. 水利化、集约化
C. 标准化、市场化 D. 规模化、机械化
11. 章丘区村企联手开始“两年种葱,一年养鸡”的种养轮作实验的主要目的是
- ①节省劳动力、增加经济收益 ②抑制病虫害,减少农药施用量
③恢复土壤肥力、保持大葱品质 ④废物利用,发展循环经济
- A. ①④ B. ②③ C. ①③ D. ②④
12. 《史记·货殖列传》记载:待农而食之,虞而出之,工而成之,商而通之。此宁有政教发征期会哉?物贱之征贵,贵之征贱,各劝其业,乐其事,不招而自来,不求而民出之,岂非道之所符,而自然之验邪?材料对当今发展社会主义市场经济的启示有
- ①要使市场在资源配置中起决定性作用 ②应更好地发挥政府的经济职能和作用
③要遵循价值规律来组织生产经营活动 ④合理配置资源才能更好满足人们需求
- A. ①③ B. ①④ C. ②③ D. ②④
13. 科技型企业是指产品的技术含量比较高,具有核心竞争力,能不断推出适销对路的新产品,不断开拓市场的企业。当前科技型中小企业在发展中面临着定位不清晰、融资困难、管理体制有待完善等困境,这需要企业
- ①制定正确的经营战略 ②不断提升自身的管理水平
③提高产品的技术含量 ④务实抓好扶持政策的落实
- A. ①② B. ①③ C. ②④ D. ③④
14. 2020年10月19日,国家统计局公布前三季度国民经济运行情况。2020年前三季度我国国内生产总值722786亿元,同比增长0.7%。全国人均可支配收入23781元,同比增长3.9%,按收入来源分,全国居民人均工资性收入13486元,增长3.6%,占可支配收入的比重为56.7%,人均财产净收入2090元,增长7.2%,占可支配收入的比重为8.8%。下列对上述材料信息解读正确的是
- ①经济效率的提高是实现分配公平的物质基础
②居民收入来源多样化促进了居民收入的增长
③生产资料公有制是实行按劳分配的基本前提
④劳动性收入是我国居民取得收入的主要方式
- A. ①② B. ①③ C. ②④ D. ③④
15. 2020年11月18日召开的国务院常务会议强调,要按照党中央的决策部署,坚定实施扩大内需战略,进一步促进大宗消费、重点消费,更大释放农村消费潜力。进一步释放农村消费潜力,需要国家



- ①立足农村,提供更多满足农民美好生活需要的商品
 ②完善农村商业网点布局,加强物流基础设施的建设
 ③依法加强农村市场监管,进一步优化农村消费环境
 ④流转土地承包经营权,多种方式促进农民收入增加
 A. ①③ B. ①④ C. ②③ D. ②④
16. 吉林省长春市宽城区地处市区北缘,老旧散小区集中,基础差、管理难。近年来,该区通过创新基层社会治理,用更加精细化的措施对接百姓需求、回答时代考题,在共建共治共享中,让群众的获得感、幸福感、安全感不断增强。从宽城区的基层治理我们可以感受到
- ①我国政府是为人民服务的政府 ②基层治理需要人民群众的参与
 ③基层治理要坚持求真务实的作风 ④群众自治有利于决策的科学化
 A. ①② B. ①④ C. ②③ D. ③④
17. 2020年11月19日,H县人大联合部分环资委委员对全国人大常委会有关决定和野生动物保护法贯彻实施情况进行执法检查。检查结束后,召开了座谈会对该县野生动物保护工作进行了质询,并提出了一些建设性的意见和建议。对上述材料认识正确的有
- ①开展执法检查体现人大代表的权利 ②开展执法检查是人大在行使监督权
 ③进行质询是人大在依法行使质询权 ④开展上述活动有利于相关法律落实
 A. ①② B. ①③ C. ②④ D. ③④
18. 2020年10月1日,新疆维吾尔自治区成立65周年。65年栉风沐雨,新时代阔步前行。65年来,全区各族干部群众共同团结奋斗,新疆工作取得重大成效,经济社会发展和民生改善取得前所未有的成就,各族群众的获得感、幸福感、安全感不断增强,呈现出社会稳定、人民安居乐业的良好局面。新疆工作取得重大成效的经验有
- ①新疆人民生活水平显著提高,民生工作成效显著
 ②坚定不移走中国特色社会主义民族地区发展道路
 ③我国各民族之间“大杂居、小聚居”的分布特点
 ④坚持民族区域自治制度,凝聚新疆发展的伟大力量
 A. ①③ B. ①④ C. ②③ D. ②④
19. 近年来,各地各部门坚持立根铸魂、价值引领、实践育人,扎实推进未成年人思想道德建设各项工作。把立德树人作为根本任务旨在
- ①培养爱国情感,弘扬和培育伟大的中华民族精神
 ②教育引导广大青少年坚定理想信念,养成良好品德
 ③引导青少年成长为能够担当民族复兴大任的时代新人
 ④统一思想、强化措施,营造良好的育人文化氛围
 A. ①③ B. ①④ C. ②③ D. ②④
- 最近,拒绝粮食浪费的话题在网上引发热议,一些社交平台也纷纷采取行动。据此完成20~21题。
20. “大胃王”式的“吃播”盛行,会引发人们对饮食的错误认知,造成浪费;也会吸引一些人效仿,尤其是青少年,他们可能会在日常生活中尝试这种行为。这告诉我们
- A. 要用科学的理论武装人,用优秀的作品鼓舞人
 B. 人们接受健康向上文化的影响,关键在于正确引导
 C. 要通过多种平台和渠道传播健康、科学的饮食理念
 D. 文化是人类社会特有的现象,是人们社会实践的产物



21. 健康生活讲究“食饮有节,起居有常”。为了制造大快朵颐、津津有味的直播观感而欺骗观众,把“难吃的”说成“好吃的”,把“应该小口吃”说成“使劲大口吃”,甚至不惜伤身硬塞,这在本质上违背了健康饮食的基本要求。材料给我们的哲学启示有

- ①想问题、办事情要坚持适度原则
 - ②要抓住时机促成事物的飞跃和发展
 - ③要尊重规律,做到按客观规律办事
 - ④要做好迎接困难与挫折的思想准备
- A. ①③ B. ①④ C. ②③ D. ②④

22. 下面漫画中“智者从不固守自己的偏见,常常修正自己的不足”启示我们



- ①只有亲身实践才能获得正确认识
 - ②要有革命批判精神和创新意识
 - ③要坚持解放思想,破除传统观念
 - ④要在实践中不断检验和发展认识
- A. ①② B. ①③ C. ②④ D. ③④

23. 上海浦东在保持经济高质量发展的同时,始终践行人民城市为人民的理念,做实做细基层党建、城市治理等各项工作,打造高品质生活,提升群众获得感和幸福感。上海浦东这样做的哲学依据是

- A. 人生的真正价值在于努力提升人民群众的获得感和幸福感
- B. 作出正确的价值判断和价值选择必须遵循社会发展的客观规律
- C. 价值观是人生的重要向导,对人生道路的选择有重要导向作用
- D. 人民群众是社会历史的主体,创造了社会物质财富和精神财富

24. 下表为先秦典籍记载的内容,这些反映出周朝


记载	出处
毋坏屋,毋填井,毋伐树木,毋动六畜,有不如令者,死无赦	《周文王·伐崇令》
山虞掌山林之政令,而为之守禁,林衡掌巡林麓之禁令,而平其守	《周礼·地官》
早春三月,山林不登斧,以成草木之长。夏三月,川泽不入网罟,以成鱼鳖之长	《逸周书·聚篇》

- A. 保护生态的法律体系完整
- B. 注重对生态环境的保护
- C. 人与自然间长期和谐共存
- D. 最早制定生态保护法律

25. 东晋画家顾恺之的《女史箴图》是一卷插图性画卷,以描绘女范事迹为主题,现存9段,其中如下图中的《冯媛挡熊》,为汉代冯媛以身挡熊,保护汉元帝的故事;《班婕妤却辇》为班婕妤拒绝与汉成帝同辇,以防成帝贪恋女色而误朝政的故事等。这些画作可说明



冯媛挡熊



班婕妤却辇

- A. 汉代女性社会地位得到提升
B. 东晋绘画完全以人物为题材
C. 艺术作品的审美与教化功能
D. 古代文人画的浪漫主义情愫
26. 《宋史》记载：“贾人由海道往外蕃，令以物货名数并所诣之地，报所在州召保，毋得参带兵器或可造兵器及违禁之物，官给以券。”又诏：外蕃“自今惟珠贝、玳瑁、犀象、珊瑚、玛瑙、乳香禁榷外，他药官市之余，听市于民。”这说明宋代
- A. 对外贸易达到高度繁荣
B. 外来奢侈品导致官场腐败
C. 官府垄断专营外贸商品
D. 重视中外贸易的物品管理
27. 叶向高曾三任明朝内阁首辅，他说：“我朝阁臣，只备论思顾问之职，原非宰相。中有一二权势稍重者，皆上窃君上之威重，下侵六曹之职掌，终以取祸。臣备员六年，百几皆奉圣断，分毫不敢欺负；部务尽听主者，分毫不敢与闻。”这反映出，明朝
- A. 内阁首辅窃取君权
B. 皇权受到阁臣制约
C. 阁臣权力源自皇权
D. 君权相权关系紧张
28. 梁启超认为，近代中国思想可分三期：第一期如张之洞、郭嵩焘等辈，算是很新的怪物。第二期如康有为、严复等辈都是新思想界的勇士，张之洞已是老朽思想的代表；到第三期时，许多新青年跑上前线，这些人一趟一趟被挤落后，甚至已经全然退伍了。其意在说明，近代中国
- A. 思想变迁日新月异
B. 政治斗争日趋激烈
C. 西学传播深入人心
D. 民族危机不断加剧
29. 1912年底，民国政府颁布《暂行工艺品奖励章程》，规定：凡发明或改良之制造品称为工艺品，经部考验合格者，应分别等差给予奖励。奖励办法分为名誉上与营业上两种，前者给予褒状，后者则发给执照，许其制造品在五年内专卖。据此可知，该章程的颁布旨在
- A. 推动民族重工业的发展
B. 增加工艺产品的生产量
C. 鼓励工艺品的技术创新
D. 提升外贸产品的竞争力
30. 解读下表，从中可得出的正确结论是，中国全面抗战时期

全面抗战前及战时官僚资本和民族资本的比较

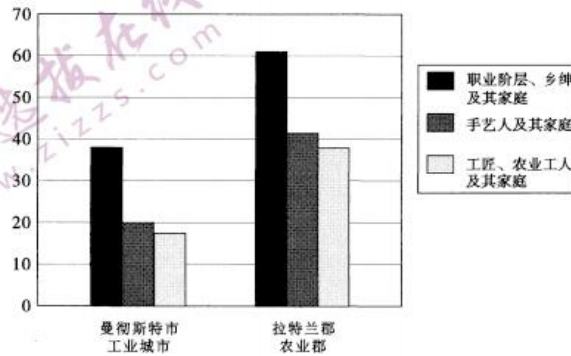
年度	资本数(千元)	官僚资本(千元)	占总额(%)	民族资本(千元)	占总额(%)
1935	250844	30198	12.00	220646	88.00
1941	1600000	800000	50.00	800000	50.00
1942	1939000	1349251	69.58	589774	30.42

- A. 民族工业日益陷入艰难困境
B. 国民党实行一党专政的统治
C. 国统区的经济遭到严重破坏
D. 日本在占领区大肆掠夺经济



31. 新中国成立后,党和政府高度重视宣传工作。中共中央在部分地区试点的基础上,于1951年1月发布《关于在全党建立对人民群众的宣传网的决定》,随后,全国各地积极开始进行宣传网的建设,机关、学校、工厂、街道等宣传网建设迅速展开。这一做法表明,我党
- A. 重视自上而下控制社会舆论
B. 注意提高人民群众的文化水平
C. 创新推动宣传工作的社会化
D. 高度关注建国初期的国内形势
32. 罗马法的“诚信诉讼”规定:承审员可按诚信和公平的原则,根据案情作出衡平的判决,不必严守法规,拘泥形式。原告如有诈欺、胁迫等情况,被告如有可原有的错误,虽程式书中未列有抗辩,承审员也有权减免被告的责任。据此可知,“诚信诉讼”
- A. 损害了法律的客观公正
B. 有助于社会道德的匡正
C. 保证了司法程序的完整
D. 构成罗马法的主体内容
33. 下表反映出当时英国突出的社会问题是

1837年曼彻斯特和拉特兰郡人口平均寿命



- A. 工业革命导致贫富差距拉大
B. 城乡生态环境遭到严重破坏
C. 社会发展与生态环境不协调
D. 城镇化冲击了农业经济发展
34. 在美苏冷战时期,苏联领导人长期头疼于众多国内青年对西方摇滚乐的向往。爵士乐、摇滚乐在青年人中十分流行,到了20世纪80年代,以麦当娜、杰克逊为代表的美国流行音乐全面占领了苏联青年的精神文化生活。这说明
- A. 文化渗透是美国对苏冷战的重要手段
B. 美苏两国长期存在着文化艺术交流
C. 美国流行音乐促进了苏联文化发展
D. 美苏冷战主要体现在意识形态领域
35. 2003年在巴黎召开的文化专业组织第二次国际会议上,与会国的130多个文化专业组织共同呼吁各国政府抵制对文化产业实行自由化政策,在世贸组织新一轮的谈判中坚持“文化产品例外原则”。该呼吁旨在
- A. 维护世界文化的多样性
B. 反对国际间的文化交流
C. 抵制经济全球化的趋势
D. 扩大法国文化的影响力

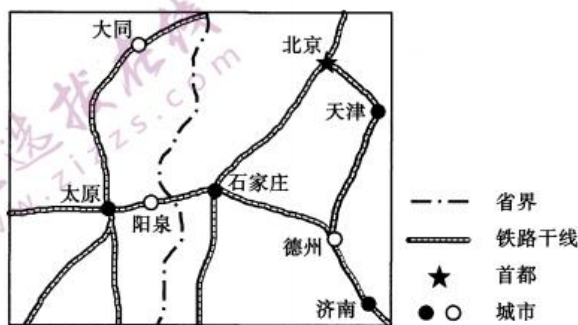


二、非选择题:共 160 分。第 36~42 题为必考题,每个试题考生都必须作答。第 43~47 题为选考题,考生根据要求作答。

(一)必考题:共 135 分。

36. 阅读图文材料,完成下列要求。(24 分)

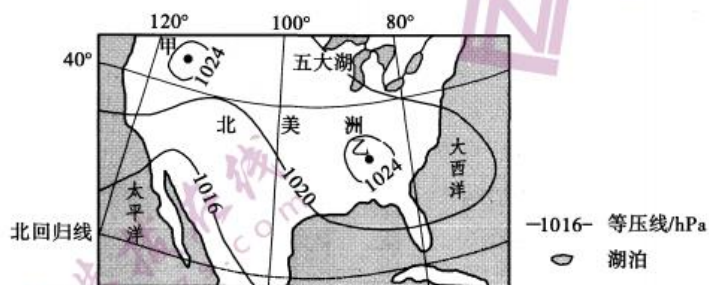
阳泉市是三晋门户,晋冀要道,处于东部发达地区与中西部的结合地带。阳泉市是山西重要的煤炭工业城市,有着丰富的以煤生产纤维原料的技术经验。2020 年 12 月 22 日中国纺织工业联合会、中国化学纤维工业协会确定阳泉市为“中国纤维新材料产业示范基地”。煤炭产业和纺织产业有着天然的纽带关系,化学纤维产业是煤化工领域的重要终端产业之一。近年来,由阳泉阳煤集团更名的华阳新材料科技集团与山东如意集团等纺织龙头企业开展合作,瞄准纺织新材料领域,布局现代煤化工下游,共同打造全国唯一的“煤炭—纤维—纺织—服装—时尚”的全产业链生态体系,实现由“黑”到“彩”的时尚转变。下图示意阳泉市位置。



- (1)分析阳泉市成为中国纤维新材料产业示范基地的区位优势。(6 分)
- (2)说明阳泉煤化工企业与纺织龙头企业开展合作的必要性。(6 分)
- (3)阐释阳泉市“煤炭—纤维—纺织—服装—时尚”的全产业链生态体系建立的经济效益。(6 分)
- (4)简述由“黑”到“彩”的时尚转变对阳泉城市发展的促进作用。(6 分)

37. 阅读图文材料,完成下列要求。(22 分)

下图为北美洲部分地区某月海平面等压线(单位:hPa)分布图。

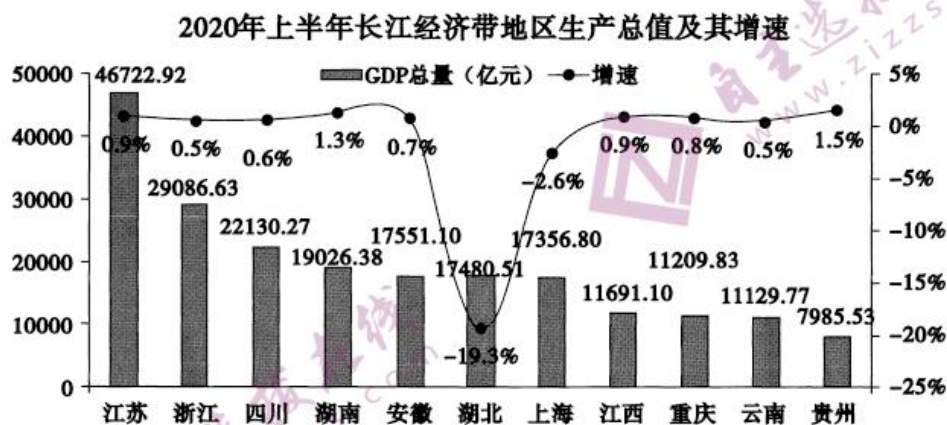


- (1)判断图示地区所在的季节,并阐述理由。(6 分)
- (2)描述图示月份大部分地区的天气状况。(6 分)
- (3)甲、乙两地均位于高压中心,比较两个气压中心形成的不同原因。(4 分)
- (4)五大湖的东岸和南岸是冬季降雪较多的地区,分析该区域降雪天气的形成条件。(6 分)

38. 阅读材料,完成下列要求。(14分)

材料一

推动长江经济带发展是党中央作出的重大决策,是关系国家发展全局的重大战略。下图是2020年上半年长江经济带生产总值及其增速。



注:2020年以来,面对新冠肺炎疫情带来的严峻考验和复杂多变的国内外环境,长江经济带11省市坚决贯彻落实党中央、国务院决策部署,科学统筹疫情常态化防控和经济社会发展,扎实做好“六稳”工作,全面落实“六保”任务。

材料二

2020年11月14日,习近平总书记主持召开全面推动长江经济带发展座谈会并发表重要讲话。他强调,要坚定不移贯彻新发展理念,推动长江经济带高质量发展,谱写生态优先绿色发展新篇章,打造区域协调发展新样板,构筑高水平对外开放新高地,塑造创新驱动发展新优势,绘就山水人城和谐相融新画卷,使长江经济带成为我国生态优先绿色发展主战场、畅通国内国际双循环主动脉、引领经济高质量发展主力军。

(1) 解读材料一包含的经济信息。(4分)

(2) 结合材料并运用经济知识,说明推动长江经济带高质量发展将对我国产生的积极影响。(10分)

39. 阅读材料,完成下列要求。(12分)

中国共产党历来重视法治建设。党的十八大以来,党中央明确提出全面依法治国,并将其纳入“四个全面”战略布局予以有力推进。党的十八届四中全会专门进行研究,作出关于全面推进依法治国若干重大问题的决定。党的十九大和十九届二中、三中、四中全会,从把握新发展阶段、贯彻新发展理念、构建新发展格局的实际出发,围绕建设中国特色社会主义法治体系、建设社会主义法治国家的总目标,以解决法治领域突出问题为着力点,系统研究谋划和解决法治领域人民群众反映强烈的突出问题,推动我国社会主义法治建设发生历史性变革、取得历史性成就。

结合材料,运用政治生活知识,说明在当前和今后一个时期我国推进全面依法治国的措施及意义。(12分)



40. 阅读材料,完成下列要求。(26分)

孩子们的课本中,有许多要求背诵的古诗词。据统计,最新部编版小学语文教材中收入古诗词 111 首,初中语文教材中收入 61 首,高中语文教材中收入 33 首。很多时候,我们把诗词仅仅当作了文字,把课本底栏的注解,仅仅当作了考试的考点。

诗,有它出生的场景,带着诗人的喜怒哀乐,带着时代的跌宕起伏。如果将诗和城市联系起来,你会发现,仅仅在课本中,就可以走遍大半个中国,领略不同古都的气息。“百千家似围棋局,十二街如种菜畦”,这是规整的长安城建城的智慧;“落花踏尽游何处,笑入胡姬酒肆中”,这是开放的长安城热闹的街市;林升一句“暖风熏得游人醉,直把杭州作汴州”,道出了杭州的温柔;苏轼的一句“欲把西湖比西子,淡妆浓抹总相宜”道出了西湖的千姿百媚……更不用说古都洛阳、古都南京,每一座城都有诗人留下的印记,而这座城,是孩子和千百年的诗句相交汇的地方。

(1)课本中的古诗词能够带我们领略不同古都的气息,运用唯物论的知识加以分析。(12分)

(2)结合材料并运用文化生活知识,说明最新部编版中小学语文教材大量收入古诗词的意义。(10分)

(3)与古都洛阳、古都南京有关的诗句有很多,请你任意选择一个,试着写出两句。(4分)

41. 阅读材料,完成下列要求。(25分)

材料一

明朝初年,海运多险,漕运亦艰,成祖迁都北京后,欲恢复元朝运河渠道,以利漕运,加强南北交流。命尚书宋礼等人负责疏浚会通河以通运道。宋礼周咨故老,勘察地形,采纳汶上老人白英的建议,在东平州戴村建坝,阻遏汶水,让其尽流入南旺湖。又在南旺以南建闸 21 座,以北建闸 17 座。使会通河水得到很好的节制,保证了会通河的水源。宋礼又开新河连结旧河;奏请“疏东平东境沙河淤沙”,“筑堰障之”。在沿河两岸边的并湖地设“水柜”用来蓄积湖水,以保证运道水源,不使漕船阻浅,设“陡门”排泄运道的涨洪,以防冲刷堤岸而溃溢。为确保运道水源,成祖又征调民夫 10 万,疏浚贾鲁河故道,引黄河之水入淮河。由于上述治运工程的施设与竣工,“运道以定”。

——摘编自鞠庆波等《历史上对大运河的维护治理及方略》

材料二

新中国成立时,京杭大运河如一条千疮百孔的巨龙,接纳来自黄河、淮河等众多河流的洪水,频频造成水患。当时治理大运河河道,只能放弃明清时期“保运、保漕为先”的方针,首先解决水患问题。1951 年至 1956 年通过对淮河的系統整治,使水患面积缩小一半,注入大运河的淮水减少了 50%。1951 年冬,挖掘了长达 170 公里的苏北灌溉总渠,减轻了由大运河转泄洪水到长江的压力,苏北地区重新成为全国重要的粮棉仓。1958 年起,又开始了大运河的全面治理,提出了重开大运河、实现全线通航的规划。在中央统一规划下,将航运与水利建设工程相结合,在运河沿途各省,陆续整修和建设了一批运河工程。参加人员中,民工达百万人,而参加义务劳动的各行业人员,则多到无法统计。经过几年努力,大运河洪水泛滥得到了有效治理,排洪、防洪、航运、灌溉、涵养水源的功能得到了加强,对沿途经济建设发挥了巨大作用。

——摘编自苗菁《运河之光:历史·文化·生活》

(1)根据材料一并结合所学知识,分析明朝治理大运河的背景及取得良好效果的原因。(12分)

(2)根据材料二并结合所学知识,说明新中国成立后治理大运河的特点及其意义。(13分)



42. 阅读材料,完成下列要求。(12分)

材料

《新全球史》围绕文明的传承与交流两个主题阐述,文明传承反映单个社会的独特经历;文明交流关注在多种文化交流中所有社会的共同经历。该书认为:人类历史的早期阶段文明交流即已开始,后来,联系和交流逐渐增多,范围逐渐扩大,交流也有了交通、运输和贸易网络的支撑。随着交通运输技术的有效发展,这些网络反过来对世界各地人类的生活经历的影响日渐加深,也促使人们之间的交流更加频繁、密集和系统化。在全球化的总趋势中,该书强调互为因果的三点:人口增长、技术不断进步与传播、不同社会之间的交往日益密切。在这些交流形式中,跨地区的技术、农作物和病毒传播较容易,而文化传播所遇到的阻力可能最大,因为每一种文化对异质文化都持抵制的态度,主动推进文化融合的事例在历史上非常少见。

——摘编自魏凤莲《〈新全球史〉与本特利的全球史观》

评析材料中的观点(任意一点或整体,可赞成、质疑、修改或提出观点),结合史实进行阐述并得出结论。(要求:见解明确,持论有据,论证充分,表述清晰。)

(二)选考题:共25分。请考生从2道地理题、3道历史题中每科任选一题作答。并用2B铅笔在答题卡上将所选题目对应的题号方框涂黑。按所涂题号进行评分,不涂、多涂均按每科所答第一题评分;多答按每科所答第一题评分。

43. [地理——选修3:旅游地理](10分)

摩洛哥是位于非洲西北部的沿海国家,旅游资源丰富,不仅拥有绵长的海岸线、撒哈拉沙漠、雪山等胜景,还有马拉喀什、菲斯等历史名城,阿拉伯风情浓郁;气候怡人,一年四季都有适合游客休憩、游览的景区,被誉为“欧洲后花园”。为推动旅游业持续发展,摩洛哥政府在2010年制定了“旅游2020”战略。目前旅游业占摩洛哥国内生产总值17%,创造了超过200万个直接就业岗位。摩洛哥与埃及、南非是非洲三大旅游强国。旅游业已成为摩洛哥的支柱产业之一。

分析摩洛哥旅游业发展为支柱产业之一的区位优势。

44. [地理——选修6:环境保护](10分)

英国《卫报》2020年8月26日报道,挪威计划扩大该国在北极的石油开采工作,计划开发的九个新油田均位于北极腹地的高纬度地区,这里是人类从未接触过的原始区域。对此,有专家称此举恐将使北极脆弱的生态系统造成破坏。

分析挪威若在北极腹地进行石油开采,会对北极脆弱的生态系统造成的破坏。

45. [历史——选修1:历史上重大改革回眸](15分)

材料

自洋务新政以来,为了适应形势的需要,洋务派引进了大量的西方近代自然科学知识,培养了一大批精通洋务的各种新式人才。这实际上已对只培植封建官僚的传统教育目标造成冲击。1898年,学部左侍郎严修奏请设“经济专科”,1901年,清政府正式施行经济专科,其中包括政治、外交、算学、经济、机械等专门知识。科举内容的革新在一定程度上必将造成学校教育目标的多元化。每类专门的自然科学



知识各自具有自己的培养目标,而近代自然科学知识的引进,必将促使我国实业人才的大发展。袁世凯等封疆大吏在“奏请立停科举以广学校”的折子中认为,设立学堂“并非专为储才,乃以开通民智为主,使人人获有普及之教育,且有普通之知能”。由此,在科举制的革废过程中,传统的以培养官僚为主的学校教育目标突破政治因素的绝对控制,向着多元化方向发展。

——摘编自金燕 彭泽平《晚清科举革废进程中政学关系的变化》

- (1)根据材料,概括促使清政府革废科举制的主要因素。(6分)
- (2)根据材料并结合所学知识,简析清末废除科举制的意义。(9分)

46. [历史——选修3:20世纪的战争与和平](15分)

材料

十月革命胜利后第二天,列宁就发布“和平法令”,揭露和谴责“一战”交战双方的掠夺目的以及战争的帝国主义性质和战争的罪责。向一切交战国家政府和人民建议“立即缔结停战协定”、“立即就公正的民主的和约开始谈判”,立即实现“不割地不赔款的和平”。这是苏维埃政权的第一个外交文件,在历史上第一次宣告新的国际关系原则。英法等欧洲强国出于自身利益本能抵抗,但美国总统威尔逊却认为,必须对《和平法令》予以重视并主动回应,否则苏俄的影响将不断扩大。“一战”末,威尔逊提出了美国争霸世界的宣言书——十四点原则,标榜“民族自决”,反对“秘密外交”,倡导建立世界和平,实际上是美国企图利用战争中增长的实力,削弱英法两国实力,孤立新生的苏俄,重新瓜分世界。这是美国企图冲出美洲、对长期以来欧洲列强主宰世界的公开挑战和冲击的号角。

——摘编自王彦敏《列宁的〈和平法令〉和威尔逊的“十四点”原则》

- (1)根据材料并结合所学知识,比较《和平法令》与“十四点原则”的本质区别。(8分)
- (2)根据材料并结合所学知识,说明《和平法令》与“十四点原则”的积极影响。(7分)

47. [历史——选修4:中外历史人物评说](15分)

材料

苏敬(约599~674),为唐代重要勋官。鉴于陶弘景《本草经集注》中的乖违及当时医家用药的繁杂,苏敬对本草学进行了初步的整理研究工作,于657年上书唐高宗,请求政府修订本草。高宗采纳了苏敬的建议,征召全国著名医药学家和科学家、艺术家等学者,以及行政官员20余人,由苏敬主持,共同进行这项工作。在修订工作中,采取了实事求是的科学态度,并注意实际的调查研究工作。一方面,提出“《本经》虽阙,有验必录,《别录》虽存,无稽必正”,不为前代本草著作;另一方面,又强调“下询众议”,“定群言得失”。其间,还下令全国郡县,征集地道药材,并要求各按实物描绘成图,送至京城,以备修订参考。于公元659年编撰成《唐本草》,并由唐政府颁行全国。它是我国医药发展史上第一部药典,比曾认为是世界上第一部药典的《纽伦堡药典》要早800多年。

——摘编自傅维康《世界药学史上之创举——唐代药物大普查和〈唐本草〉》

- (1)根据材料,简析苏敬能成功编撰《唐本草》的原因。(6分)
- (2)根据材料并结合所学知识,说明苏敬编撰《唐本草》过程中所体现的精神。(9分)



2021 年高三第五次联考政治参考答案

题号	12	13	14	15	16	17	18	19	20	21
答案	A	A	C	C	C	C	D	C	C	A
题号	22	23								
答案	C	D								

- 12.A【解析】本题考查价值规律、社会主义市场经济体制的知识。材料中“物贱之征贵，贵之征贱，各劝其业，乐其事，不招而自来，不求而民出之”强调了人们按照价值规律组织生产以满足需要，而不是因为国家颁布了政令才这样做的，启示我们发展社会主义市场经济要使市场在资源配置中起决定性作用，遵循价值规律来组织生产经营活动，①③正确。材料不涉及政府的经济职能和作用，也未涉及合理配置资源，②④不符合题意。故选 A。
- 13.A【解析】本题考查企业经营成功的因素。当前科技型中小企业在发展中面临着定位不清晰的困境，这就需要企业找准自身的定位，制定正确的经营战略，①正确。“管理体制有待完善”就需要企业不断提升自身的管理水平，完善企业关丽丽的体制机制，②正确。科技型企业本身产品科技含量就比较高，所以③不符合题意。落实扶持政策的主体是国家，而不是企业，④不符合设问要求。故选 A。
- 14.C【解析】本题考查我国的分配制度的相关知识。由题干可知，居民收入包括工资性收入、财产性收入，还包括其他收入形式，因此可以看出收入来源多样化促进了居民收入的增长，②正确。工资性收入属于劳动收入，占收入的比重大，可以说劳动性收入是我国居民取得收入的主要方式，④正确。材料不涉及效率与公平的关系，①不符合题意。材料未涉及公有制和按劳分配的关系，③不符合题意。故选 C。
- 15.C【解析】本题考查科学的宏观调控。进一步释放农村消费潜力，需要从供给、需求、消费环境的改善等角度入手，从国家角度来说，可以完善农村商业网点布局，加强物流基础设施建设以增加供给，方便农民消费，②正确；也可以依法加强农村市场监管，进一步优化农村消费环境，让农民放心消费，③正确。提供更多满足农民美好生活需要的商品的主体是企业，而不是国家，①错误。流转土地经营权的主体是农民，国家可以完善土地承包经营权流转的制度，④与设问的主体不符。故选 C。
- 16.C【解析】本题考查基层群众自治制度。“共建共治”告诉我们基层治理需要人民群众的参与，②正确。“对接百姓需求”强调基层治理需要求真务实，③正确。基层治理属于基层群众自治制度，并不体现政府宗旨，①不符合题意。材料与决策科学无关，④不符合题意。故选 C。
- 17.C【解析】本题考查人大的职权和人大开展工作的意义。县人大对全国人大常委会有关决定和野生动物保护法贯彻实施情况进行执法检查是行使监督权的体现，②正确。执法检查和质询活动都有利于法律的贯彻执行，④正确。材料的主体是人大，而不是人大代表，①不符合题意。质询权是人代表的权利，③错误。故选 C。
- 18.D【解析】本题考查民族区域自治制度的相关知识。新疆维吾尔自治区成立 65 年来，取得了一系列的成就，这离不开的民族区域自治制度，离不开我们坚定不移走中国特色社会主义民族地区发展道路，②④正确。新疆人民生活水平显著提高，民生工作成效显著是新疆地区取得的成就，不是给我们的经验，①不符合题意。取得的成就与民族分布特点没有必然关系，③不符合题意。故选 D。
- 19.C【解析】本题考查加强思想道德建设、培养担当民族复兴大任的时代新人。推进未成年人思想道德建设，把立德树人作为根本任务旨在教育引导广大青少年坚定理想信念，养成良好品德，使其成长为能够担当民族复兴大任的时代新人，②③正确。“培养爱国情感，弘扬和培育伟大的中华民族精神”不是把立德树人作为根本任务的最终目的，①不符合设问要求。“统一思想，营造良好的育人文化氛围”是把立德树人作为根本任务的措施，不是目的，④不符合设问要求。故选 C。
- 20.C【解析】本题考查文化传播的相关知识。“大胃王”式的“吃播”盛行，会造成人们对饮食的错误认知，引发人们效仿，这告诉我们要通过多种平台和渠道传播健康、科学的饮食理念，以引导人们做出正确的行为选择，C 正确。材料并不涉及科学理论的作用，也未涉及文化的产生，A、D 不符合题意。人们接受健康向上文化的影响是主动接受的过程，B 错误。故选 C。
- 21.A【解析】本题考查尊重客观规律、坚持适度原则的知识。“食饮有节”强调要坚持适度原则，“起居有常”启示我们要遵循事物发展的客观规律，①③正确。材料并未涉及抓住时机促成质变和事物发展道路曲折的内容，②④不符合题意。故选 A。
- 22.C【解析】本题考查实践和认识的辩证关系、辩证法的革命批判精神。“智者从不固守自己的偏见，常常修正自己的不足”，这是在实践中检验和发展认识的体现，同时告诉我们要有革命批判精神和创新意识，②④正确。我们既可以通过亲身实践获得直接经验，也可以通过读书学习等途径获得间接经验，①错误。我们应该破除旧的成规陈说，而非传统观念，③错误。故选 C。
- 23.D【解析】本题考查人民群众是历史的创造者。上海浦东始终践行人民城市为人民的理念、提升群众获得感和幸福感，是因为人民群众是社会历史的主体，创造了社会物质财富和精神财富，D 正确。人生的

第五次联考历史参考答案

题号	24	25	26	27	28	29	30	31
答案	B	C	D	C	A	C	A	C
题号	32	33	34	35				
答案	B	C	A	A				

24.B【解析】本题考查先秦政治。表内共三则材料，其中出自《伐崇令》的内容是保护生态的法令；出自《地官》的内容是对山林的看护与巡查的要求；出自《聚篇》的内容是对砍伐和捕捞的要求，据此可知，西周注重保护生态，故B项正确。A项的“完整体系”无法得出；C项属于法令实施的结果，材料中没有信息依据；D项中的“最早”因材料中没有比较，无法得出。

25.C【解析】本题考查古代中国书画艺术。据所学知识可知，东晋画家顾恺之的《女史箴图》是著名的人物画，艺术高超，而内容以描绘女范为主题，从两幅图画内容可以看出其绘画体现出一定的教化作用，据此可知C项符合题意。仅从材料信息无法得出A项中女性地位提高的结论，排除A项；B项错在以偏概全，过于绝对化，可排除；D项的“文人画”与题干材料的时间不符。

26.D【解析】本题考查古代中国商业。材料包含两层信息，一是禁止各类违禁物品出口，二是明确外来物品严格区分官营与民营的货物种类，据此可知D项正确。A项中的“高度繁荣”基本符合史实，但不是材料的主旨；B项中的“官场腐败”无法从材料信息中得出；C项中的“官府垄断”与材料信息不符。

27.C【解析】本题考查明朝政治。解读材料可知，在明朝，窃取君主权威而专横的阁臣最终取祸，而完全秉承圣意办事的叶向高却长期得到信任，据此可知，阁臣权力源自皇权，故C项正确。A项理解片面；B项与材料信息和史实均不符；D项在材料中没有信息支撑。

28.A【解析】本题考查近代中国思想。解读材料可知，近代中国思想领域不断革新，洋务思想很快被维新思想取代，维新思想又很快被革命思想取代，很多人的思想因跟不上时代变化而被淘汰，据此可知A项符合题意。B项与题意不符；C项中的“西学传播深入人心”在材料中没有体现；D项是近代中国思想快速变迁的时代背景，不是梁启超的本意和材料信息的主旨，故排除。

29.C【解析】本题考查近代中国民族经济的发展。材料中奖励的对象是工艺品，不属于重工业，排除A项；B项的监管与章程内容不符；D项与材料信息有联系，但外贸产品的范围广，不仅仅是工艺品这一类，故D项表述以偏概全，可排除。从给予奖励，发给执照五年专卖等信息可知，工艺品奖励章程的主旨应是鼓励工艺品的技术创新，故C项正确。

30.A【解析】本题考查抗战时期的经济。从表中的数据可看出：官僚资本从1935年的3000多万元增加到1942年的13亿元，为1935年的45倍。同时期的民族工业从1935年的占总额88%，到1942年占总额30%。由此可见，以四大家族为首的官僚资本，在抗战时期的工业中已取得统治和垄断地位，并利用其垄断地位挤压民族工业，为他们自身膨胀谋取巨大财富，使民族工业陷入艰难困境，故A项正确。B项属于政治范畴，可排除；C项对材料理解错误；D项与材料信息不符。

31.C【解析】本题考查新中国的民主政治建设。A项中的“控制社会舆论”与材料信息不符；B项把宣传工作理解为文化课程教育，错误；D项指向不明，可排除。材料信息反映出我党把宣传工作与基层部门联系在一起，建立宣传网，经过试点后推广，说明这是推动宣传工作走向社会化的新举措，故选C项。

32.B【解析】据此材料信息可知，在古罗马的“诚信诉讼”程序中，“原告如有诈欺、胁迫等情况，被告如有可原宥的错误”，法官可凭证据和自己的良知对案件作出公正的判决，从而有助于社会道德的正向发展，故B项正确。A项与材料信息不符，“诚信诉讼”并不损害法律的客观公正；C项对材料信息理解错误；D项与罗马法内容不符。

33.C【解析】本题考查英国工业革命。从时间1837年可知是英国工业革命即将完成之时，图片内容是工业城市曼彻斯特与农业郡拉特兰人口平均寿命的对比，从图示内容可知，农业郡的各阶层人口平均寿命远高于工业城市，而导致工业城市人口寿命低的原因可推知是生态环境的恶化，据此得出C项正确。A项与图示内容无关；B项说法绝对化，因为乡村的生态环境恶化与材料信息不符；D项对图片内容理解错误。

34.A【解析】本题考查美苏“冷战”。据材料信息可知，西方流行音乐对苏联的影响从苏联领导人头疼，到青年人群中十分流行，再到占领苏联青年的精神文化生活，这背后的推手是美国对苏联的文化渗透，而文化渗透又是美国实施“冷战”的重要手段之一，据此得出A项正确。B项对材料理解错误，材料没有涉及苏联



文化对美国的影响；C项促进苏联文化发展，从材料中无法得出。D项与美苏“冷战”的史实不符。

35.A【解析】本题考查全球化与文化多样性。据材料信息可知，该呼吁内容为“抵制对文化产业实行自由化政策”“坚持文化产品例外原则”，其目的是在全球化趋势下保护各国文化的民族性，也就是维护世界文化的多样性，故A项符合题意。B项对材料的理解错误；D项把文化与经济全球化混同，故排除D项。

41. (25分)

(1) 背景：明朝初年漕运海运十分艰难；大运河长年失修，影响南北交流；明成祖迁都北京后，修复大运河更为紧迫。(6分)

原因：最高统治者的支持；中央集权制度的优势；宋礼等官员治理有方。(6分)

(2) 特点：从重点治理到全面治理；中央统一规划，地方积极参与；治理与开发水利功能相结合。(6分)

意义：解决了大运河水患，提高了大运河的各项水利功能；有利于大运河沿线的经济发展；加快了沿线地区城市化进程；有利于大运河文化的保护与开发等。(7分，答出1点2分，2点4分，3点6分，4点7分，其它言之成理可相应赋分)

42. (12分)

【答案示例1】

观点：赞同材料中世界各地联系和交流不断增多和扩大的观点。(2分)

阐述：人类历史的早期阶段文明交流虽已开始，但非常有限，新航路的开辟打破了世界各地相对孤立的状态，各地文明走向会合交融。伴随着人口增多，特别是科技进步、社会经济发展，人类的传播和交往日益密切。近代以来，随着工业革命的拓展，人类征服自然和改造自然的能力进一步增强，人类活动范围不断扩大，不同区域的文明交流加强，使世界日益联结成一个整体。(8分)

结论：所以，科技的发展，交通运输和贸易网络的支撑，促使人们之间的交流更加频繁、密集和系统化。(2分)

【答案示例2】

观点：近代中国中西文化的融合是被动反应与主动选择的结果。(2分)

阐述：鸦片战争以来，在列强坚船利炮的冲击下，中国传统文化受到巨大冲击，在千年大变局面前，一批先进的中国人开始注目世界，接受西学，探索救国救民的道路。林则徐、魏源主张“师夷长技以制夷”，洋务派提出“中体西用”的主张，将西学与中学相结合，促进了传统文化内涵的更新。资产阶级维新派、革命派开始寻求新的政治制度，新文化运动通过对传统文化的猛烈批判和西方文化的大力推崇，使“西学东渐”的广度和深度都达到了新高度，中西文化融合的程度进一步加深，而马克思主义的传入，则体现出先进知识分子对革命理论的主动选择。(8分)

结论：因此，近代中国西学的传入与传播，既有被动接受的一面，更有主动选择的一面。(2分)

45. (15分)

(1) 主要因素：西学的传播；近代经济发展对实用人才的客观需求；清政府部分官员的奏请；清政府对科举内容的革新；“开通民智”等教育目标的设定。(6分，任答3点即可)

(2) 意义：从根本上动摇了封建官僚制度的基础；极大地冲击了“学而优则仕”的儒学思想；开启了中国现代教育，促进了教育的新发展；有力推进新文化的传播；有利于实用人才的培养。(9分，任答3点即可，其它言之有理亦可)

46. (15分)

(1) 本质区别：《和平法令》体现了社会主义国家对外政策的基本原则，反对并主张退出正在进行的帝国主义战争，号召各国人民掌握自己的命运，维护新生的苏维埃政权；“十四点原则”是美国争霸世界的宣言书，旨在削弱英法两国实力，孤立新生的苏俄，重新瓜分世界。(8分)

(2) 积极影响：反对战争，主张和平，客观上具有进步意义；实行民族自决有利于民族解放运动的发展；新的外交原则冲击了旧的欧洲列强主宰的世界体系，有利于新的世界秩序的建立。(7分，答出1点3分，2点6分，3点以上7分，其它言之成理可相应赋分)

47. (15分)

(1) 原因：朝廷的大力支持；学者官员同心协力；编撰计划明确，方案恰当。(6分，其它言之有理亦可)

(2) 精神：主动上书的担当精神；群策群力的合作精神；实事求是的科学精神；重视调查研究的务实精神。(9分，任答3点即可，其它言之有理亦可)

真正价值在于对社会的责任和贡献, A 错误。材料做法并不涉及社会发展的客观规律,也未涉及价值观对人生的导向作用, B、C 不符合题意。故选 D。

38. (14 分)

- (1) 2020 年上半年,受新冠肺炎疫情和复杂多变的国内外环境影响,湖北省和上海市生产总值下降,出现了负增长;(2 分)但在党中央、国务院的领导和部署下,科学统筹疫情常态化防控和经济社会发展,长江经济带其他省区均实现了生产总值正增长。(2 分)
- (2) ①推动长江经济带高质量发展,坚定不移贯彻新发展理念,有利于转变经济发展方式,优化发展思路,实现生态效益和社会经济效益相统一;同时也有利于实现区域协调发展、创新发展,进而促进全国经济高质量发展。(4 分)
- ②推动长江经济带高质量发展,构筑高水平对外开放新高地有利于提高我国开放型经济发展水平,畅通国内国际双循环发展途径。(3 分)
- ③推动长江经济带高质量发展,对实现“两个一百年”奋斗目标、实现中华民族伟大复兴的中国梦具有重要意义。(3 分)

39. (12 分)

措施:

- ①党的领导是推进全面依法治国的根本保证,全面推进依法治国要坚持党对全面依法治国的领导,健全党领导全面依法治国的制度和工作机制。(2 分)
- ②全面依法治国最广泛、最深厚的基础是人民,因此要坚持以人民为中心。(2 分)
- ③中国特色社会主义法治道路本质上是中国特色社会主义道路在法治领域的具体体现,全面推进依法治国要坚持中国特色社会主义法治道路。(2 分)

意义:

- ①全面推进依法治国,有利于通过法治保障党的路线方针政策有效实施。(2 分)
- ②有利于积极回应人民群众新要求新期待,更好地反映人民愿望、维护人民权益、增进人民福祉,用法治保障人民安居乐业。(2 分)
- ③能够为全面建设社会主义现代化国家、实现中华民族伟大复兴夯实法治基础,推进国家治理体系和治理能力现代化。(2 分)

40. (26 分)

- (1) ①物质决定意识,意识是物质的反映。诗中带着时代的跌宕起伏,是对作者所处时代的社会现实或所见景色的反映。(4 分)
- ②意识是客观存在的主观映像,具有主动创造性。诗人将诗和城市联系起来,通过诗词反映诗人的内心世界,体现了意识活动的主动创造性。(4 分)
- ③人能够能动地认识世界,意识活动具有自觉选择性。古诗词对古都的反映角度不同体现了意识的自觉选择性,同时,教材选取哪些古诗词也体现了意识活动自觉选择性。(4 分)
- (2) ①文化对人具有潜移默化和深远持久的影响。最新部编版中小学语文教材收入古诗词,有利于让学生在潜移默化中收到优秀文化的影响,形成正确的世界观、人生观和价值观,从对学生产生深远持久的影响。(3 分)
- ②文化塑造人生,优秀文化能够丰富人的精神世界、增强人的精神力量、促进人的全面发展。中小学语文教材收入古诗词,有利于学生接受优秀文化的熏陶,提高素质,发挥优秀文化对人的发展的促进作用。(3 分)
- ③教育是人类特有的传承文化的能动性活动,具有选择、传递、创造文化的特定功能。最新部编版中小学语文教材收入古诗词,有利于传承优秀传统文化,实现优秀传统文化的创造性转化和创新性发展。(4 分)(若考生从中华文化的角度作答,也可酌情给分)
- (3) 与古都洛阳有关的诗句:洛阳亲友如相问,一片冰心在玉壶;洛阳地脉花最宜,牡丹尤为天下奇;香车倾一顾,惊动洛阳尘;乡书何处达?归雁洛阳边;洛阳城里见秋风,欲作家书意万重。
- 与古都南京有关的诗句:曾作金陵烂漫游,北归尘土变衣裘;君看六幅南朝事,老木寒云满故城;江雨霏霏江草齐,六朝如梦鸟空啼;南朝四百八十寺,多少楼台烟雨中;金陵空壮观,天堑净波涵。
- (注意只能选择洛阳或南京中的一个古都来列举,每句 2 分,任意答出 2 句即可)



2021 届第五次联考高三地理参考答案

1. C 麦克默多干谷既无降雪也无冰层的可能原因是该山谷狭管效应显著，风力强劲，既不利于降雪，也不利于积雪的形成且逐渐演化为冰川。选项 C 正确。
2. B 根据“位于南极洲罗斯海附近的麦克默多海峡山脉西部的维多利亚陆地”“这段谷地周围是被冰雪覆盖的山岭”的材料判断，麦克默多干谷先为构造运动形成的断裂下陷谷地，而后受冰川侵蚀形成冰川谷，随着谷地变得长且深时，狭管效应增强，风力强劲，形成风蚀谷，并且也缺少了降雪条件。选项 B 正确。
3. D 麦克默多干谷和火星都不可能整日风沙弥漫；位于南极的麦克默多干谷气温日较差较小；火星周围也笼罩着大气层，但与麦克默多干谷相比，大气稀薄；麦克默多干谷与火星的相似之处主要是空气干燥，无生命存在。选项 D 正确。
4. C 从麦地那到麦加要穿越沙漠和山岭，工程造价高，投资大，缺少充足的资金支撑，是难以修建的。沙特阿拉伯是石油大国，石油给沙特阿拉伯带来滚滚财富。选项 C 正确。
5. B 麦麦高铁修建过程中想要攻克的难题是因穿越沙漠，地基松散，再则风沙多，影响工程进度。选项 B 正确。
6. D 由“……，每年来自世界各地的 600 多万穆斯林来到麦加朝觐，朝觐者的大量涌入使狭窄的道路更加紧张，现有的交通系统已经过时。”可知，麦麦高铁首先考虑的是穆斯林朝圣路上的交通问题，故其主导因素是社会因素。选项 D 正确。
7. D 瑞典人口老龄化趋趋于严重的状况表现为 65 岁及以上人口占总人口比重连年上升，其直接原因是人口出生率下降，人口寿命延长。选项 D 正确。
8. C 斯德哥尔摩的松德比贝里市位于经济核心地带，厄兰岛的博里霍尔姆市位于经济核心地带之外，松德比贝里市经济活力强于博里霍尔姆市，人口拉力大，青壮年人口比重大。两城市人口老龄化的差异是经济活力、就业机会的地域差异的表现。选项 C 正确。
9. D 根据“培土技术”的作用可知，章丘大葱品质优良的土壤条件是土壤具有深厚、肥沃的特点。选项 D 正确。
10. D 为了减少章丘区劳动力短缺对大葱产业可持续发展的影响，应采取的措施一是实现机械化，以节省劳动力；二是规模化连片种植，发挥机械化的效能。选项 D 正确。
11. C “两年种葱”可节省劳动力，减少劳动力短缺带来的影响；“一年养鸡”既可以给土壤带来肥料，也可以获得经济收益。选项 C 正确。

36. (24 分)

(1) 阳泉市煤炭工业基础雄厚，以煤生产纤维原料的技术经验丰富；国家宏观产业布局调整给予诸多优惠政策；位于三晋门户，晋冀要道，交通通达；处于东部发达地区与中西部的结合地带，市场广阔。（每点 2 分，共 6 分。言之有理，酌情给分）

(2) 阳泉煤化工工业发达，但纺织服装产业基础薄弱，（2 分）阳泉煤化工企业与纺织龙头企业开展合作，能够使阳泉煤化工产业链向下游延伸，（2 分）与纤维材料、纺织服装的工艺、技术紧密结合起来建设“煤炭—纤维—纺织—服装—时尚”的全产业链。（2 分）

(3) 形成产业集群和产业规模，带来规模效益；以市场需求为导向，推进技术进步，利于产业链整体提升；降低中间产品运输，进而降低生产成本；能够发挥区域优势，保障上、下游产业的协同创新，打造品牌，提升影响力。（每点2分，共6分。言之有理，酌情给分）

(4) 促进城市基础设施和城市功能的完善；促进土地资源的合理和功能区的合理布局；由污染型工业向清洁生产的转变，可以改善城市居民的生活环境。（每点2分，共6分。言之有理，酌情给分）

37. (22分)

(1) 冬季。（2分）高压脊由较高纬度伸入到 30°N 以南地区。（2分）整个大陆基本在冷高压控制下，这一现象一般出现在冬季。（2分）

(2) 图示地区的大部分在冷高压和高压脊控制下，气流以下沉与辐散为主，（3分）天气晴朗少云，空气干燥，气温较低。（3分）

(3) 甲地纬度与海拔较高，气温低，冷空气下沉聚集，形成高压中心；（2分）南下的冷空气在乙地受山脉阻挡，聚集形成高压中心。（2分）

(4) 五大湖水域广阔，频频南下的冷空气经过五大湖时，能够获得五大湖的水汽与热量；（3分）获得一定水汽和热量的冷空气到达湖泊对岸时，会遇到干冷的气流抬升，形成降雪天气。（3分）

43. (10分)

自然和人文旅游资源丰富，具有较高的美学和历史文化价值，为旅游业发展提供优质的旅游资源；（3分）冬季温和，夏季凉爽，气候宜人，一年四季游客不断，旅游业的营业时间长，收入稳定；（3分）近距经济发达的欧洲，客源市场广阔；（2分）国家实施旅游发展战略，为旅游业提供诸多优惠政策。（2分）

44. (10分)

钻井与石油平台建设中，带有原油的泥浆会进入海域，泥浆排放量大时，会导致种群数量较少，生长缓慢的底栖动物死亡；（2分）海上石油开采过程中，油气泄露是频繁发生的，油气一旦泄露，就会漂浮在海面，将空气和海水隔绝，被石油覆盖的海域会有大量海洋生物因缺氧死亡，（2分）并使海水温度升高，破坏北极海域脆弱的生态平衡，影响耐寒的海洋生物的繁殖与生存；（2分）石油平台在开采过程中，向海洋中排入大量的废弃物和含油污水；（2分）废置的平台在海水、风力的风化、侵蚀下，有害物质排入海洋，同样造成污染和危害海洋生物。（2分）

关于我们

自主选拔在线是致力于提供新高考生涯规划、强基计划、综合评价、三位一体、学科竞赛等政策资讯的升学服务平台。总部坐落于北京，旗下拥有网站（<http://www.zizzs.com/>）和微信公众平台等媒体矩阵，用户群体涵盖全国90%以上的重点中学师生及家长，在全国新高考、自主选拔领域首屈一指。

如需第一时间获取相关资讯及备考指南，请关注**自主选拔在线**官方微信号：**zizzsw**。



微信搜一搜



自主选拔在线

关注后获取更多资料：

回复“答题模板”，即可获取《高中九科试卷的解题技巧和答题模版》

回复“必背知识点”，即可获取《高考考前必背知识点》