

绵阳南山中学 2023 年春绵阳三诊热身考试

文科综合试题

出题人：曾祥勇 石林 杨骥 审题人：任中义 李小建 宋熹曦 组题人：唐丽玲
本卷分第 I 卷（选择题）和第 II 卷（非选择题）两个部分，满分 300 分，考试时间 150 分钟。

注意事项：

1. 答题前，务必将自己的姓名、考号填写在答题卡上规定的位置上。
2. 答选择题时，必须使用 2B 铅笔将答题卡上对应题目的答案标号涂黑，如需改动，用橡皮擦擦干净后，再选涂其他答案标号。
3. 答非选择题时，必须使用 0.5 毫米黑色签字笔，将答案书写在答题卡规定的位置上。
4. 所有题目必须在答题卡上作答，在试卷上答题无效。
5. 考试结束后，只将答题卡交回。

第 I 卷（选择题）

一. 选择题：本题共 35 小题，每小题 4 分，共 140 分。

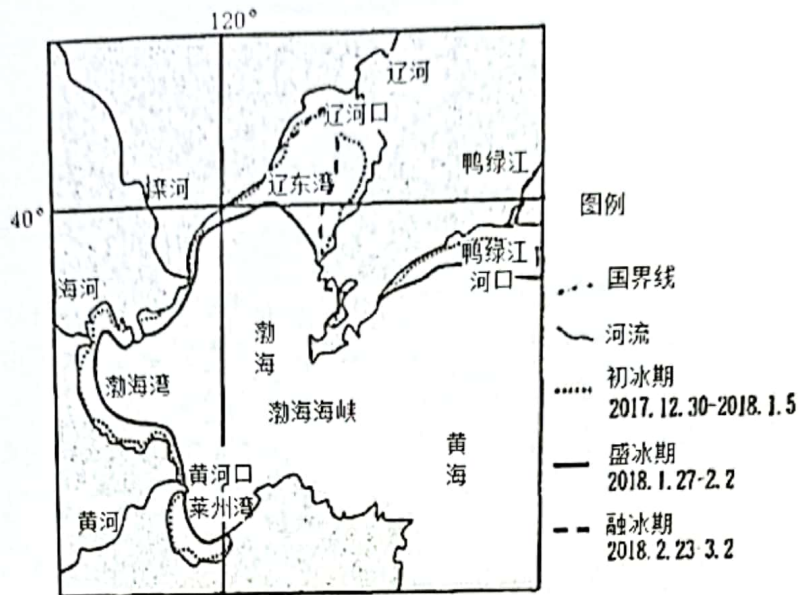
“水果玉米”是适合生吃的一种超甜玉米，是欧美、日本等发达国家的主要蔬菜之一，其生长条件和普通玉米没有差别。目前，我国“水果玉米”主要是鲜穗直接上市消费，保质期短，加工产品很少。某高端水果玉米公司在国内建设多处生产基地。据此完成 1~3 题。

1. 该公司在我国多地选址建设水果玉米生产基地，主要考虑的因素是
A. 地形 B. 气候 C. 交通 D. 市场
2. 该公司在海南选址建设水果玉米生产基地，其主要目的是
A. 旅游业发达，作为旅游商品代销 B. 气候条件优越，能实现一年多熟
C. 利用交通优势，占领东南亚市场 D. 劳动力资源丰富，降低生产成本
3. 目前，该公司计划在吉林省某地建设水果玉米生产基地，主要是利用当地
A. 气温较低，保存条件好 B. 区域中心，运输便利
C. 地广人稀，土地成本低 D. 技术先进，加工水平高

德国为世界传统汽车生产大国，汽车产业逐渐向电动化方向发展，动力电池是电动汽车的重要部件。我国某动力电池制造龙头企业于 2019 年到德国埃尔福特市投资建设动力电池生产基地，随后国内众多动力电池产业链的上游企业也相继到该生产基地附近投资建厂。据此完成 4~5 题。

4. 德国吸引我国动力电池龙头企业投资建设生产基地的突出优势是
A. 技术水平 B. 市场潜力
C. 基础设施 D. 管理经验
5. 国内众多动力电池产业链的上游企业到埃尔福特生产基地附近建厂，可以节省
A. 劳动力成本 B. 原料运输成本
C. 产品营销成本 D. 生产设备成本

海冰的发展大体分为初冰期、盛冰期、融冰期三个阶段。渤海和黄海北部海城每年 11 月末到次年 3 月初，都会出现不同程度的结冰现象。下图为 2017-2018 年渤海及黄海北部海冰面积变化示意图。据此完成 6~8 题。

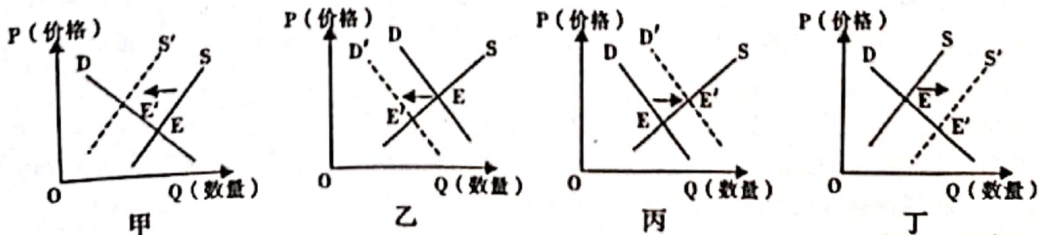


6. 2017-2018 年间, 海冰面积最大的是
 A. 辽东湾 B. 渤海湾 C. 莱州湾 D. 渤海海峡
7. 莱州湾的初冰期最可能是
 A. 2017 年 12 月 30 日 B. 2018 年 1 月 1 日
 C. 2018 年 1 月 3 日 D. 2018 年 1 月 5 日
8. 受渤海海冰灾害影响最大的是
 A. 沿海工业 B. 海峡通航 C. 近海养殖 D. 居民生活

四川贡嘎山最高峰海拔 7556 米, 该地区分布着豹和雪豹两种猫科动物。豹是典型的森林型封闭生境动物; 而雪豹是一种常在雪线附近和雪地间活动的动物, 夏季可在 4000-6000 米的高山上见到, 冬季多随着食物而迁徙下降至 2000-3500 米。据此完成 9~11 题。

9. 夏季, 贡嘎山雪豹主要栖息地所属的自然带可能是
 A. 山地针叶林带和常绿阔叶林带 B. 山地针混交林带和高山灌丛草甸带
 C. 永久冰雪带和常绿阔叶林带 D. 高寒荒漠带和高山灌丛草甸带
10. 据科学家观测, 贡嘎山地区豹偶尔会进入雪豹的活动区域, 其主要目的是
 A. 捕食猎物 B. 获取水源 C. 躲避天敌 D. 扩大领地
11. 随着全球变暖, 在一定时期内贡嘎山地区
 A. 豹的活动上界可能升高, 雪豹的活动范围可能下移
 B. 豹的活动范围可能缩小, 雪豹的活动范围可能扩大
 C. 豹的活动范围可能扩大, 雪豹的活动范围可能缩小
 D. 豹完全占据雪豹的生存空间, 雪豹面临灭绝的危险

12. 假设不考虑其他因素, 下列图示 (S 为供给曲线, D 为需求曲线, P 代表价格, E 为商品的均衡价格) 和市场情况描述完全符合的是 ()



- ①新消费业态和场景的出现导致对传统消费的需求变化符合丁
 ②市场对奥密克戎快速传播的担忧引发的口罩需求变化符合丙

- ③贯彻落实《扩大内需战略规划纲要》引起的市场变化符合乙
④俄乌冲突等地缘紧张局势对世界原油供应带来的影响符合甲
- A. ①② B. ①③ C. ②④ D. ③④
13. 数字技术正以新理念、新业态、新模式全面融入人类经济、政治、文化、社会、生态文明建设各领域和全过程，给人类生产生活带来广泛而深刻的影响。当前阶段，我国正加快数字化发展，建设数字中国。发展数字技术可以（ ）
- ①推动供给侧结构性改革，助力实体经济发展 ②赋能传统企业转型升级，催生新业态新模式
③厚植发展动力，推动我国经济高速发展 ④促进经济协调发展，增强发展的整体性
- A. ①② B. ①③ C. ②④ D. ③④
14. 2023年，我国将继续实施积极的财政政策和稳健的货币政策。积极的财政政策要加力提效，保持必要的财政支出强度。稳健的货币政策要精准有力，保持流动性合理充裕，引导金融机构加大对小微企业、科技创新、绿色发展等领域支持力度。若不考虑其他因素，以上两项政策发挥作用的传导路径是（ ）
- ①实施新的减税降费政策→减轻企业负担→化解市场主体的生产经营风险
②适度超前开展基础设施建设投资→扩大社会总需求→推动经济稳步发展
③定向下调存款准备金率→降低科创企业融资成本→提高盈利水平和效益
④降低环保领域信贷利率→环保行业资金流动性增强→助力绿色产业发展
- A. ②④ B. ①③ C. ②③ D. ①④
15. 2022年8月31日，中国国际服务贸易交易会（服贸会）在北京开幕。本届服贸会从线上到线下，71个国家和国际组织以国家或总部名义设展办会，446家世界500强及行业龙头企业线下参展，新服务、新产品、新技术、新应用场景集中亮相。成功举办服贸会对我国的意义是（ ）
- ①引入市场竞争机制，全面提升企业经济效益 ②丰富国内市场供给，更好满足服务市场需求
③深化国际经贸合作，为世界经济注入新动能 ④激发服务市场活力，提升我国对外开放水平
- A. ①② B. ①③ C. ②④ D. ③④
16. 2022年10月以来，某省以“互动交流+专题讨论”形式，开展“向榜样学习·建岗位新功”主题党日活动，结合学习党员先进典型事迹，围绕“荣誉成绩怎么看、先进模范怎么学、促进工作怎么干”，谈体会、明方向，号召党员干部以学习宣传先进模范为契机扎实工作，争创一流。学习党员先进典型事迹有利于（ ）
- ①在情感共鸣中锻造共产党员的自身人格力量 ②在加强党内政治文化建设中扩大党的群众基础
③在全党形成见贤思齐、争做先锋的良好氛围 ④共产党员在检视自身中不断强化执政意识
- A. ①③ B. ①④ C. ②③ D. ②④
17. 2023年1月12日，在联合国安理会关于加强国际法治问题的公开辩论会上，针对美国提出所谓“基于规则的国际秩序”并对规则的具体内容闪烁其辞这一做法，中方表示质疑并指出，“基于规则的国际秩序”真实意图是要在现有国际法体系之外另搞一套，以自身的狭隘利益为中心，把自己的标准和意志强加于人。中方强调，世界上只有一种秩序，就是以国际法为基础的国际秩序。只有一套规则，就是以联合国宪章宗旨和原则为基础的国际关系基本准则。对此认识正确的是（ ）
- ①美国在国际法治问题上实施双重标准和例外主义 ②中国是《联合国宪章》宗旨和原则的坚定维护者
③在国际交往中，遵守国际法符合各国的根本利益 ④安理会在人类和平与发展事业中发挥着重要作用
- A. ①② B. ①③ C. ②④ D. ③④
18. 党的十八大以来，新疆维吾尔自治区深入贯彻党中央新时代治疆方略，经济社会快速发展。2022年上半年，新疆地区生产总值8279.04亿元，同比增长4.9%，位居全国前列，居民人均可支配收入10748元，比上年增长6.3%。新疆各族人民的幸福感、获得感越来越高。这得益于（ ）
- ①实行民族区域自治制度，爱国爱疆人士行使自治权
②坚持新时代党的统战政策，把握大团结大发展主题
③坚持民族团结工作方针，铸牢中华民族共同体意识

④发挥新疆“一带一路”枢纽的作用，改善民生凝聚民心

B. ①③

C. ②③

D. ③④

A. ①②

19. 揭示文明之源，照亮前进之路。中华文明探源等重大工程的研究成果，实证了我国百万年的人类史、一万年的文化史、五千多年的文明史，激发我们不断叩问“从哪里来、到哪里去”的深刻命题，探寻“何以中国”的时代答案。这说明（ ）

①传统文化在世代相传中保留着具体内涵，其基本特征又能够因时而变

②传统文化是文化创新的源泉，在继承基础上发展，在发展过程中继承

③中华文化源远流长生生不息，为建设中华民族现代文明提供丰厚滋养

④文化自信来自于对自身文化价值的充分肯定和文化生命力的坚定信念

A. ①②

B. ②③

C. ①④

D. ③④

20. 习近平总书记指出：“革命文物承载着党和人民英勇奋斗的光荣历史，记载中国革命的伟大历程和感人事迹，是弘扬革命传统和革命文化、加强社会主义精神文明建设、激发爱国热情、振奋民族精神的生动教材。”这要求我们把革命文物保护好利用好，让革命文物“亮”起来、“活”起来、“热”起来。这一做法旨在（ ）

A. 丰富革命文化的内涵，把握先进文化前进方向

B. 继承中华优秀传统文化，延续民族文化的血脉

C. 弘扬中华民族精神，为我国文化建设培根铸魂

D. 发挥文化引领作用，提升全民族科学文化素养

21. 下列各项选项中，体现围绕哲学基本问题而产生的哲学基本派别对立的是（ ）

①“心病终须心药治，解铃还需系铃人”与“天不变，道亦不变”

②“人病则忧惧，忧惧则鬼出”与“心外无物，天下无一物非吾度内者”

③“认清中国的国情，乃是认清一切革命问题的基本的根据”与“理在事先，理生万物”

④“生死由命，富贵在天”与“黄金无足色，白壁有微瑕”

A. ①②

B. ②③

C. ①④

D. ③④

22. 针对太湖流域水污染严重的问题，水利部根据水量调度工作机制方案开展2022年夏季“引江济太”工程，以丰补枯，增加流域水资源供给；以动治静，抑制太湖蓝藻大规模暴发，改善流域水环境，取得了显著的综合效益。“引江济太”工程能取得成功，是因为（ ）

①遵循世界物质性原理，从太湖流域实际问题出发推进治理建设

②在事物固有联系的基础上优化自在事物的联系，完善水域治理

③运用矛盾分析的方法，在对立中把握统一推进太湖流域水治理

④从太湖水污染治理方案出发，统筹太湖流域经济社会发展大局

A. ①②

B. ①③

C. ②④

D. ③④

23. “东数西算”中的“数”，指的是数据，“算”指的是算力，即对数据的处理能力。“东数西算”是通过构建数据中心、云计算、大数据一体化的新型算力网络体系，将东部算力需求有序引导到西部，优化数据中心建设布局，促进东西部协同联动，打通“数”动脉，织就全国算力一张网。由“东数西算”工程折射出的哲学之思是（ ）

①部分的功能及其变化影响整体的功能

②立足关键部分，实现整体功能的最大化

③运用综合的思维方式来促进系统的优化

④把握联系的多样性是正确认识事物的基础

A. ①②

B. ①③

C. ②④

D. ③④

24. 孔子曾说，“鸟兽不可与同群，吾非斯人之徒与而谁与”；孟子也说，“士穷不失义，达不离道”；明清之际顾炎武提出，“保国者，其君其臣，肉食者谋之；保天下者，匹夫之贱与有责焉耳矣。”以上儒家学者的言论

- A. 强调个人对社会的责任意识
B. 意在要求统治阶级实行“仁政”
C. 是对程朱理学的继承和发展
D. 反映了社会转型期的民众诉求
25. 魏晋南北朝至隋唐时期，书法艺术异彩纷呈。作者的自由个性与思想活跃反映在书法创作中，书法内容多为抄经之作，从王羲之的小楷作品《佛遗教经》到颜真卿《多宝塔碑》、柳公权《金刚经》碑展示的“颜筋柳骨”，楷书书体皆各领风骚、自成一派、极具个性。这一书法现象
- A. 体现南朝秀美和北朝雄健艺术创作风格的融合
B. 反映书法创作与佛教传播相互影响的文化特征
C. 促成雕版印刷术的兴起、佛教传播渐趋本土化
D. 有助于统治者实行儒、释、道三教并行的政策
26. 到了隋唐时期，尽管士族依靠科举制度继续延续其家门地位，但这并非是缘于阀阅，而是因为面对同一选拔机制时，士族子弟享有更多的教育资源，有更多机会获得社会声誉，故而更容易在科场较技中取胜。这反映出这一时期
- A. 士族权力来源方式的变化
B. 选官制度走向成熟
C. 门第血缘关系的日益淡化
D. 官僚群体日渐儒化
27. 有学者研究了16—18世纪的中西方贸易后发现，约一半的美洲白银最终流入中国，数额见表1，据此可知

表1 明清间美洲白银每年经菲律宾输华数额

年代	数额(单位:西元)
1586年以前	300000
1598年及以前	800000~1000000
1602年及以前	2000000
1604年	2500000
1633年及以前	2000000
1729年及以前	3000000~4000000

- A. 输华的白银数量逐年增加
B. 欧洲工业革命进展缓慢
C. 中国传统手工业十分发达
D. 中国对外政策积极进取
28. 1875年，左宗棠上奏：“窃维泰西诸国之所以谋我也，其志专在通商取利……缘其国用取给于征商，故所历各国一以占埠头、争海口为事……自通商定议，埠头、口岸已成，各国久以为利，知败约必妨国用也；商贾计日求赢，知败约必碍生计也”。可见，当时左宗棠
- A. 致力发展官商合办的民用企业
B. 尚未认清西方列强侵略的本质
C. 认为列强已经改变了侵华方式
D. 受到近代实业救国思潮的影响
29. 1905年，粤商简氏兄弟在香港创办了南洋烟草公司。英美烟草公司施展种种卑劣手段打击，造谣说南洋公司产品系“日本货”改装，面对英美商人掀起的阵阵恶浪，简氏兄弟从宣传振兴国货入手，推出“爱国”牌卷烟，烟盒上“振兴国货”四字感召亿万同胞心。几经萧条、倒闭之危，南洋公司不仅没有被挤垮，反而声誉日隆。据此可知



- A. 是否爱国成为商业竞争焦点
B. 民族资本主义在夹缝中生存
C. 民众民族情绪决定企业命运
D. 民国初年民族意识不断觉醒
30. 1940—1941年中国共产党相继成立国际宣传委员会、海外工作委员会，主动向海外宣传八路军、新四军英勇事迹。与此同时，中共领导人与埃德加·斯诺、美军观察组成员等交流谈话，并邀请他们参与延安当地的活动。这表明
- A. 中国得到了世界各国的大力支持
B. 国际社会消除了对中共的偏见
C. 中国共产党重视提升国际影响力
D. 中国共产党赢得了国际话语权
31. 1978年，新增就业人口中的99%由国有经济单位和集体经济单位吸纳，此后国有经济单位和集体经济单位吸纳新增就业人员的比重在波动中下降；1992年以后则是持续下降；1997年，国有经济单位和集体经济单位吸纳的新增就业人员仅占49.86%。据此可推知，新时期中国
- A. 所有制结构的主体改变
B. 农村人口向城市大量涌入
C. 非公有制经济发展迅速
D. 第三产业缓解了就业压力
32. 古希腊人从最早的伊奥尼亚学派开始，就特别注意观察天象、气象和生物世界，并发展起了气象学、动物学等实证科学。与此同时，希腊人也进行热和空气的实验，以及关于斜面、杠杆、滑轮的力学实验等最初的科学实验活动。据此可知，希腊早期科学
- A. 推动了理性思维的发展
B. 形成了完整的科学体系
C. 揭示了世界的普遍规律
D. 突破了宗教神学的桎梏
33. 在欧洲，19世纪初的城市街道普遍使用鹅卵石铺路，到19世纪中期，已改用花岗石及方木块铺路，至19世纪末发明用砖、混凝土和沥青铺路法后，欧洲各国的城市街道状况大为改观；新式自来水系统于1850年以后开始在伦敦、巴黎、柏林等城市建成，路灯制度从19世纪开始也日渐完善。上述变化主要反映了欧洲当时
- A. 街道铺砌技术的进步
B. 工业化进程持续推进
C. 各国市政立法的完善
D. 公共卫生事业的发展
34. 美国小说《愤怒的葡萄》发表于1939年，以破产佃农乔德一家的大迁移为中心，描述了经济恐慌爆发之时美国的景象：银行的冷血、农民的悲惨、警察的蛮横、资产者的无情。小说1940年被改编为电影，被重印和翻译成多种文字，成为经典作品。据此可知，公众号：网课来了
- A. 大危机根源于资金链的断裂
B. 大危机激化了当时的社会矛盾
C. 农民大迁移加剧了经济恐慌
D. 经济恐慌使社会结构得以改变
35. 20世纪50年代末，美国新闻署在91个国家设有208个新闻处，其中50个在欧洲、34个在中东和南亚、40个在拉美、34个在亚洲。这些新闻处经常以非官方面貌宣传“邪恶的共产主义敌人”“人民资本主义”“民主”“自由”等。这表明
- A. 国际政治交流密切
B. 美国建成全球化传播机制
C. 两极格局正式形成
D. 冷战注重意识形态的渗透

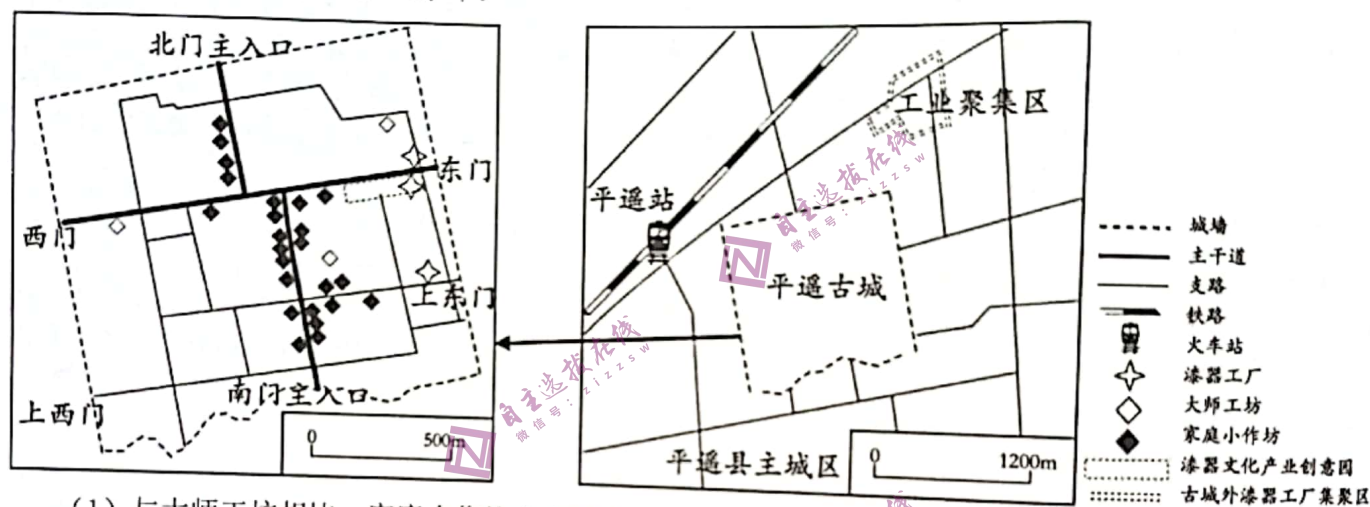
第Ⅱ卷（非选择题）

二、非选择题：共 160 分。第 36--42 题为必考题，每个试题考生都必须作答。第 43-47 题为选考题，考生根据要求作答。

（一）必考题：共 135 分

36. 阅读图文材料，完成下列要求。（24 分）

山西平遥古城的推光漆器手工技艺是第一批国家级非物质文化遗产。推光漆器制作工艺繁杂，用取自漆树的天然漆料，在器物上用手掌推磨出精美的光泽。早期，漆器生产和销售多在古城内部以“前店后坊”形式进行。2000 年前后，部分漆器生产厂自发搬迁到古城外。2007 年起，在平遥古城内定期举办平遥漆文化艺术节。2011 年，在古城东北角兴建推光漆器文化产业创意园，开办推光漆器博物馆。目前，古城内有针对大批量订单生产的漆器工厂、对标高价精品的大师工坊和采用“前店后坊”形式的家庭小作坊。下图示意平遥古城内外漆器产业空间分布。



(1) 与大师工坊相比，家庭小作坊在古城内空间分布的特点及其形成原因。（6 分）

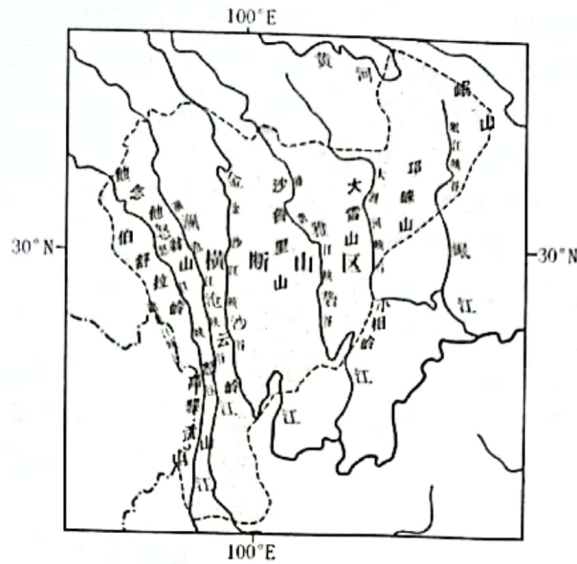
(2) 分析促使部分漆器生产厂自发迁出内城的原因。（8 分）

(3) 简析部分漆器生产厂集聚古城外工业聚集区的好处。（6 分）

(4) 简述在古城内建设漆器文化产业创意园的意义。（4 分）

37. 阅读图文材料，完成下列要求。（22 分）

距今 80Ma（百万年）的地质时期，青藏地区和横断山区还是一片海洋。随着板块运动，距今 23.7Ma，南亚及我国西南地区已成为平缓的陆地。距今 2.48Ma，青藏地区隆起成高原，现今横断山区形成了“山高谷深、河谷并列、紧密相邻”的地貌景观，澜沧江与怒江的最短直线距离仅 18.6 公里。横断山区受西南季风的影响明显。



- (1) 推测地质时期横断山区“陆地形成”阶段的西南季风强弱变化及其成因。(6分)
- (2) 解释横断山区“山高谷深，河谷并列，紧密相邻”的形成过程。(8分)
- (3) 指出青藏高原隆起对长江源区的河流补给类型变化及流量变化的影响。(8分)

38. 阅读材料，完成下列要求。

在中国，有一些产业领域已经迈入了辉煌发展的新阶段，新能源汽车就是其中之一。2022年中国新能源汽车产销分别完成705.8万辆和688.7万辆，同比增长96.9%和93.4%。出口67.9万辆，同比增长1.2倍，约占全球新能源汽车销售总量的63%，稳居世界第一。中国新能源汽车产业无疑已经是中国现代化产业体系中一张亮丽的名片。

我国新能源汽车产业已形成了从原材料供应、动力电池和驱动电机等关键零部件研发生产，到整车设计开发及充电基础设施配套建设的完整的产业链，形成了京津冀、长三角、珠三角、中三角、成渝西部及东北部六个集研发、产业化及推广应用三位一体的新能源汽车产业聚集群。在国家科技研发和财税政策的大力支持下，我国新能源汽车产业攻克了一系列关键技术，比亚迪已经拥有了全流程的IGBT芯片制造能力，是目前全球唯一一家掌握IGBT核心技术的汽车企业。广汽集团拥有超级快充电池技术、基于微晶技术的新一代超能铁锂电池技术等行业先进电池技术。我国的新能源汽车不仅技术安全性能有保障更是持续提驾乘体验，外观更加时尚动感，加之购车税费支持政策，得到市场青睐。同时，我国注重扩大对外市场，以集群区域性的国际化开放合作新模式，赢得国际市场，推动开放型经济蓬勃发展。

结合材料及所学经济生活知识，简析新能源汽车产业成为“我国现代化产业体系中一张亮丽的名片”的原因。(12分)

39. 阅读材料，完成下列要求。

近日，党的二十届二中全会通过了《党和国家机构改革方案》（以下简称方案），深化国务院机构改革是其中的一项重要任务。

方案指出：要组建国家数据局，协调推动公共服务和社会治理信息化、协调促进智慧城市建设和、协调国家重要信息资源开发利用与共享，推动信息资源跨行业跨部门互联互通等职责；将国家信访局调整为国务院直属机构，加强和改进人民信访工作，贯彻落实新时代党的群众路线；优化农业农村部职责，统筹抓好以乡村振兴为重心的“三农”各项工作，加快建设农业强国，开展防止返贫监测和帮扶，推动乡村帮扶产业发展，推动农村社会事业和公共服务发展。在全面建设社会主义现代化国家、全面推进中华民族伟大复兴的重要历史节点上，这一轮党和国家机构改革是对2018年党和国家机构改革的继续和完善，是推进国家治理体系和治理能力现代化的又一次集中行动，将为全面建设社会主义现代化国家、全面推进中华民族伟大复兴提供有力保障。

结合材料并运用政治生活的相关知识，说明深化国务院机构改革如何为“全面建设社会主义现代化国家、全面推进中华民族伟大复兴提供有力保障”。（12分）

40. 阅读材料，完成下列要求。

材料一 被誉为“杂交水稻之父”的袁隆平毕生的梦想，就是让所有人远离饥饿，让农民摆脱贫困。他一生致力于水稻技术的研究应用与推广，打破了经典遗传学观点的束缚，具有颠覆世界权威的胆识与气魄。一路走来，他的科研之路不乏质疑、失败、挫折，但他始终不畏艰苦地坚持着。他那句：“哪有搞科学研究不失败的呢？”一直鼓舞着无数科学家，他那句：“做科研不要怕冷嘲热讽，不要怕别人说你标新立异。”一直激励着年轻学子勇闯科学创新的殿堂。

在全国农业科技工作者的共同努力下，1976年至1999年累计推广种植杂交水稻35亿多亩，增产稻谷3500亿公斤。近年来，全国杂交水稻年种植面积2.3亿亩左右，约占水稻总面积的50%，产量占稻谷总产量的近60%，年增稻谷可养活6000万人口，社会和经济效益十分显著。他的身上始终流淌着家国天下的热血，为我国粮食安全、农业科学发展和世界粮食供给做出巨大贡献，更为世界和平与进步树立了丰碑。

材料二 2021年4月25日，习近平总书记来到广西桂林全州县的毛竹山村，考察当地的葡萄产业，同乡亲们聊家常、话发展、谈振兴。总书记强调，让人民生活幸福是“国之大者”。“全面推进乡村振兴，要立足特色资源，坚持科技兴农，因地制宜发展乡村旅游、休闲农业等新产业新业态，贯通产加销，融合农文旅，推动乡村产业发展壮大，让农民更多分享产业增值收益”。

毛竹山村，过去一度非常贫困，民间还流传着“有女不嫁毛竹郎”的说法。为改变落后面貌，在村党小组的领导下，毛竹山村党员干部密切联系群众，深入调查研究，村民们发扬红军血战湘江的精神，在反复尝试后选定葡萄种植作为特色产业之路。全村成立葡萄种植协会，党员群众形成合力，大力推行“党小组+理事会+协会+基地+农户”模式，统一品种、技术、售，平均年总产量100万斤以上，总收入350万元以上，并辐射带动周边农户种植葡萄近3000亩。毛竹山村，因毛竹而得名，因葡萄而闻名。如今，毛竹山

村被认定为自治区葡萄种植现代特色农业示范区，从穷山村变成了富裕村。

(1) 袁隆平是践行社会主义核心价值观的典型代表，学习他的事迹对新时代中国特色社会主义建设具有重要意义。结合材料一并运用文化生活知识，对此加以说明。(10分)

(2) 结合材料二，并运用唯物史观知识，说明毛竹山村在从穷山村变成富裕村的实践中是如何贯彻群众路线的。(12分)

(3) 请你就新时代青年如何助力“乡村振兴”提出两条建议。(4分)

41. 阅读材料，完成下列要求。(25分)

材料一

宋代乡村启蒙教育、家庭教育、社会教化不仅受到理学家重视，而且也成为乡村稳定的基本。乡村社会出现的阶层多元化、利益多元化、价值多元化趋势，不同利益主体在资源占有、话语权方面的差异使得政府的同一政策不可能对所有群体形成相同效应。在宋代，县衙作为国家权力的末梢，在乡村治理中发挥着重要作用。保甲制度实施后，都保成为宋代乡村官方治理中重要一环。宋代宗族组织的行政化和组织化使其在乡村拥有一定影响力，乡村精英架构在专制国家和普通民众之间，扮演着上下沟通的连接枢纽作用和社会控制作用的社会角色。他们在宗族复兴、乡约治理、慈善救济、兴学教化方面均发挥着重要作用。

材料二

乡镇是美国最基本的地方自治单位，承担着除司法之外的所有公共服务功能。随着美国经济发展，州或县没有办法提供完全的公共服务，因此就只有把这些权力下放给镇，镇在发展的过程中就逐渐拥有更大的权力。县作为区域内范围较大的地方政府单位，对县域内其他政府单位有协调作用，但乡镇在职权范围内不受县的直接干预。美国乡镇设有自己的行政机构，行政委员每年由该镇居民选举产生。凡涉及该地区公共利益的一切议案都须经过全体公民的投票表决来确定和实施，包括建设道路、学校、商场、济贫院、公共卫生等，每一个公民都有权以平等的身份参加乡镇会议以决定与自己利益相关政策的讨论和决策。

——摘编自王文兵《多元主体参与下的宋代乡村治理问题研究》

(1) 根据材料一并结合所学知识，概括宋代乡治模式形成的背景，并说明其特点。(14分)

(2) 根据材料一、二并结合所学知识，指出中国宋代乡治模式与近代美国基层治理模式的不同之处，并分析中美乡村治理的共同价值。(11分)

42. 【近现代中国外交】阅读材料，完成下列要求。(12分)

图片是触摸历史脉搏、感受生命温度的媒介，阅读下列图片。



图1 《辛丑条约》签订现场



图2 参加巴黎和会的顾维钧



图3 在第26届联合国大会上，乔冠华仰天大笑



图4 二十国集团领导人杭州峰会合影

围绕“近现代中国外交”，提取以上两幅或多幅图片信息，自拟论题，展开论述。（要求：主题明确，史论结合，表述清晰）

（二）选考题：共25分。请考生从2道地理题、3道历史题中每科任选一题作答，如有多做，则按所做第一题计分。并用2B铅笔在答题卡上把所选题目题号后的方框涂黑。

43.【选修3：旅游地理】（10分）

2022年2月27日，长征八号运二运载火箭在海南文昌航天发射场发射成功。文昌航天发射场自2016年建成并投入使用至2022年4月底，已经成功进行了16次发射，每次发射都会吸引大量的航天爱好者前来观看。曾经，海南岛作为避寒胜地，最多的游客当属“候鸟老人”，如今，除避寒游客外，当你乘坐飞机抵达海口、三亚机场后，处处可见“来海南、看火箭”的广告标语，游客中有航天爱好者、摄影师，还有组队而来的小学生。

分析海南岛旅游活动的变化以及对当地产生的影响。

45.【选修1：历史上重大改革回眸】（15分）

材料

作为一种重要的军需物资和生产资料，牛革（皮）被广泛运用于军器制造、手工业生产和日常生活等方面，受到历代封建王朝的重视。五代时期，对牛革的需求更为急切，各政权对牛革采取的基本措施都是“悉令输官”“革尽纳官”，对普通百姓违犯牛革禁令者采取严厉处罚措施。952年，后周政府规定只征收以前牛革总额的三分之一，且根据民户拥有田亩的多寡进行摊派，且没有明确规定送纳的时间。此外，还允许民间合理合法的使用和贸易。宋初基本上沿袭了后周的政策，同时又规定牛革可以折变缴纳，也通过“纳价钱”代替缴纳实物。同时，政府将民户手中剩余的牛革购买入官。

——摘编自游彪、周云《论五代及宋初的牛革政策》

（1）根据材料，概括后周和宋初牛革政策与此前政策的变化。（8分）

（2）根据材料并结合所学知识，分析后周和宋初牛革政策改革的影响。（7分）

46.【历史——选修4：中外历史人物评说】阅读材料，完成下列要求。（15分）

材料

王震(1908—1993年),湖南浏阳人,伟大的无产阶级革命家,新中国成立后积极在边疆地区推行屯垦。边疆屯垦以兵养兵的先例古已有之且颇有成效,战争年代的南泥湾经验也让王震认识到这样的方式行得通。他在1950年《新疆军队生产建设工作的方针与任务》中特别指出:“在中国人民解放战争胜利结束后,军队还不能马上减少……随时警惕帝国主义侵略者的侵袭。同时,须将人民解放军化为带武器的工作队和劳动队,来消灭封建势力及官僚资本主义的残余势力。”1955年8月,在《王震同志关于开发北大荒问题向中央的报告》中阐明:以兵开荒,组建农牧企业,每年至少用三个月的时间来进行军事、政治训练,以培养有素养的有经验的后备军官和技术士兵。1958年,王震在总结国营农场问题时再次明确指出:“实践证明,在广东海南岛、沿海各省、东北、西北各省,大规模地发展国营、军垦农场垦荒,是将经济建设和国防建设相结合起来的正确方针。”

——摘编自李全玲《论王震屯垦思想的形成》

- (1) 根据材料并结合所学知识,概述王震边疆屯垦思想形成的历史背景。(8分)
- (2) 根据材料并结合所学知识,简析王震边疆屯垦思想产生的积极作用。(7分)



绵阳三诊热身考试政治参考答案

12. C ①: 新的消费业态和场景的出现会导致对传统消费需求的减少, 影响的应该是需求虚线的左移, 而不是供给曲线向右移。①错误。②: 市场对奥密克戎快速传播的担忧会引起口罩的需求量增多, 需求曲线会向右移动, 供给不变, ②正确。③: 贯彻落实《扩大内需战略规划纲要》会使得市场上的需求量增多, 需求曲线向右移, 而乙图中需求曲线向左移动, ③错误。④: 俄乌冲突等地缘紧张局势会使得原油供应减少, 供给曲线向左移动, 需求不变, ④正确。
13. A ①②: 数字技术正以新理念、新业态、新模式全面融入人类各领域和全过程, 对人类生产生活产生重大影响, 这表明发展数字技术有利于推动供给侧结构性改革, 助力实体经济发展, 赋能传统企业转型升级, 催生新业态新模式, ①②符合题意。
- ③: 当前我国经济实现高质量发展, 并不是高速发展, ③错误。
- ④: 材料主要讲述数字技术对实体经济和传统企业积极影响, 并未涉及经济协调发展, ④不符合题意。
14. A ②④: 材料强调积极的财政政策要加力提效, 稳健的货币政策要精准有力, 适度超前开展基础设施建设投资能扩大社会总需求, 从而推动经济稳步发展, 降低环保领域信贷利率可以让环保行业资金流动性增强, 从而助力绿色产业发展, ②④传导正确。①: 减税降费政策能减轻企业负担, 但并不能化解市场主体的生产经营风险, ①错误。③: 下调存款准备金率不能直接降低企业融资成本, ③错误。
15. C ①: 我国社会主义市场经济, 本身就存在竞争机制, 因此“引入市场竞争机制”说法错误, ①错误。
- ②④: 中国国际服务贸易交易会(服贸会)从线上到线下, 吸引了446家世界500强及行业龙头企业线下参展, 这有利于丰富国内市场供给, 更好满足服务市场需求, 激发服务市场活力, 提升我国对外开放水平, ②④符合题意。③: 题干要求的是成功举办服贸会对中国经济发展的积极影响, 而不是对世界经济的影响, ③不符合题意。
16. A ①③: 学习党员先进典型事迹有利于在情感共鸣中锻造共产党员的自身人格力量, 在全党形成见贤思齐、争做先锋的良好氛围, 推动经济社会的发展, ①③入选。②: 材料主要体现的是党内的文化建设, 号召党员干部争创一流, 没有体现扩大群众基础, ②不选。④: 学习党员先进典型事迹, 有利于广大党员发挥先锋模范作用, 共产党员不能强化执政意识, ④不选。故本题选A。
17. A ①②: 中方强调, 世界上只有一种秩序, 就是以国际法为基础的国际秩序; 只有一套规则, 就是以联合国宪章宗旨和原则为基础的国际关系基本准则, 说明美国在国际法治问题上实施双重标准和例外主义, 中国是《联合国宪章》宗旨和原则的坚定维护者, ①②正确。
- ③: 在国际交往中, 遵守国际法符合各国的共同利益, 各国的根本利益不同, ③排除。
- ④: 材料不体现安理会的作用, ④与题意无关, 排除。
18. C ①: 自治机关行使自治权, 而不是“爱国爱疆人士”, ①说法错误。②③: 坚持新时代党的统战政策, 把握大团结大发展主题, 坚持民族团结工作方针, 铸牢中华民族共同体意识, 都是新疆地区人民获得感、幸福感不断提高的原因, ②③符合题意。④: 该选项表述正确但材料未体现, ④排除。
19. 【答案】D ①: 传统文化具有相对稳定性, 传统文化在世代相传中保留着基本特征, 其具体内涵又能够因时而变, ①错误。②: 社会实践是文化创新的源泉, ②错误。③④: 中华文明探源等重大工程, 实证我国百万年的人类史、一万年的文化史、五千多年的文明史, “从哪里来、到哪里去”, 探寻“何以中国”的时代答案, 这说明中华文化源远流长生生不息, 为建设中华民族现代文明提供丰厚滋养, 也表明文化自信来自于对自身文化价值的充分肯定和文化生命力的坚定信念, ③④符合题意。
20. C A: 材料主要强调的是要把革命文物保护好利用好, 弘扬革命精神, 未提到革命文化内涵的丰富, 故A不选。B: 材料中指出革命文物记载着中国革命的伟大历程和感人事迹, 革命文物“是弘扬革命传统和革命文化、加强社会主义精神文明建设、激发爱国热情、振奋民族精神的生动教材”, 强调的是革命文物的重要性, 未提到中华优秀传统文化, 故B不选。
- C: 材料中指出革命文物记载着中国革命的伟大历程和感人事迹, 革命文物“是弘扬革命传统和革命文化、加强社会主义精神文明建设、激发爱国热情、振奋民族精神的生动教材”, 这一做法旨在弘扬中华民族精神,

为我国文化建设培根筑魂，故C正确。D：材料主要强调的是革命文物的重要性，这与全民族科学文化素养无关，故D不选。

21. B 围绕哲学基本问题而产生的哲学基本派别是唯物主义和唯心主义。

①：心病终须心药治，解铃还需系铃人体现具体问题具体分析，属于辩证法观点；天不变，道亦不变体现了静止的观点，属于形而上学，①不符合题意。②：人病则忧惧，忧惧则鬼出，指人生病了会感到害怕，害怕了可能会感觉世界有鬼，感觉世界有鬼是因为生病了，属于古代朴素唯物主义观点；心外无物，天下无一物非吾度内者属于主观唯心主义，②符合题意。

③：认清中国的国情，乃是认清一切革命问题的根据体现唯物主义观点；理在事先，理生万物属于客观唯心主义观点，③符合题意。④：生死由命，富贵在天属于客观唯心主义观点；黄金无足色，白璧有微瑕体现矛盾观点，属于辩证法观点，④不符合题意。

22. B ①③：材料中指出针对太湖流域水污染严重的问题，水利部颁布方案开展“引江济太”工程，通过以丰补枯和以动治静来改善流域水环境，取得了显著的综合效益，“引江济太”工程能取得成功，是因为水利部从太湖流域实际问题出发推进治理建设，并运用矛盾分析的方法，在对立中把握统一推进太湖流域水治理，故①③正确。

②：联系是客观的，不以人的意识为转移，且自在事物的联系是自然界本来就有的，“优化自在事物的联系”说法错误，故②不选。

④：物质决定意识，应从客观存在的实际出发，而不是太湖水污染治理方案，故④不选。

23. B 根据题干，“东数西算”工程将东部算力需求有序引导到西部，促进东西部协同联动，织就全国算力一张网，这体现了东西部的变化会影响到全国这个整体，而我们最终要通过协调东西部之间的关系来推动全国的发展，①③符合题意。②错误，在整体与部分的关系中，应立足整体，实现整体功能的最大化。④错误，正确认识事物的基础是具体问题具体分析。

38. (14分) ①加快建设现代化产业体系，强化科技创新对产业发展的支撑，促进制造业提质增效，提升创新能力和竞争力；②推动新能源产业链式集群发展，集中优质资源合力推进关键核心技术攻关，充分激发创新活力，实现产业发展高水平现代化；③立足市场，加强税费政策支持，催生更多消费需求，推动产业转型升级；④深化国际合作，扩大对外市场，以合作促发展，以发展促升级。

39. (12分) ①组建国家数据局，统筹数据资源整合共享和开发利用，优化社会服务供给、创新社会治理方式，提高政府治理效能，推进数字中国建设，促进国家治理体系和治理能力现代化；②调整国家信访局为国务院直属机构，提高信访工作效率和质量，提升政府权威度和专业度，畅通信访渠道，进一步保障人民合法权益；③优化农业农村部职责，统筹农业农村资源，推进农业现代化和乡村振兴，缩小城乡差距，促进公共服务均等化，增强人民获得感幸福感，实现共同富裕；④优化政府机构和职能，把机构改革形成的制度势能转变为治理效能，建设中国特色社会主义行政管理体制，助力中国式现代化。

40. (10分) (1) 社会主义核心价值观凝结着全体人民的共同价值追求，是当代中国精神的集中体现。袁隆平的先进事迹，集中体现了爱国、敬业，诚信，友善的价值追求。学习他的事迹，有利于引导人们坚定理想信念，将个人的发展和国家前途结合起来，开拓进取，积极奉献，将社会主义核心价值观内化于心，外化于行，为新时代中国特色社会主义建设凝聚磅礴力量。

(2) (12分) ①群众路线是无产阶级政党的根本领导方法和工作方法，是我们党的生命线和根本的工作路线，一切为了群众，一切依靠群众，从群众中来，到群众中去。

②为改变落后面貌、提高村民生活水平，毛竹山村委主动担当，密切联系群众，深入群众调查研究，找到特色产业发展之路。带领群众团结奋斗，因地制宜，带领群众走向致富道路。

(3) (4分) 发挥所学专业特长，致力乡村建设；返乡创业，为乡村注入新活力；探索新思路新方法，把数字和信息化生产方式与农业发展相结合

绵阳三诊热身考试历史参考答案

一、选择题

24. 【答案】A【解析】材料“鸟兽不可与同群”强调人不能与飞禽走兽合群共处，材料“故士穷不失义，达不离道”强调士人穷的时候不丧失道德的标准，而发达的时候也不可以背弃自己做人的原则，材料“保国者，其君其臣，肉食者谋之；保天下者，匹夫之贱与有责焉耳矣”强调保国家是那些为君为臣的、那些当官的、有肉吃的人的事情；保天下才是每一个老百姓要努力的，可知这些儒家都强调人的社会性，要树立对社会的责任意识，故选A项；“仁政”是孟子的主张，且材料并未提及，排除B项；孔子和孟子的思想早于程朱理学，排除C项；孔子和孟子代表的是统治阶级的利益，并未表达民众的诉求，排除D项。
25. 【答案】B【解析】由材料“书法内容多为抄经之作，从王羲之的小楷作品《佛遗教经》到颜真卿《多宝塔碑》、柳公权《金刚经》碑”可知魏晋南北朝时期的书法创作与佛教传播关系紧密，反映出书法创作与佛教传播相互影响的文化特征，故选B项；材料涉及时间不仅有魏晋南北朝还有隋唐时期，材料也不能体现出这一时期书法具有南朝秀美和北朝雄健艺术创作风格的融合的特点，逻辑推理错误，排除A项；雕版印刷术确实是在隋唐之交出现，但是材料体现不出魏晋南北朝时期书法发展推动雕版印刷术的出现，排除C项；材料只涉及书法与佛教之间关系，未涉及道教、儒学，无法推知儒、释、道三教并行，排除D项。
26. 【答案】A【解析】根据材料信息可知，魏晋到隋唐时权力由依靠“阀阅”也就是血缘到“在科场较技中取胜”也就是依靠适应选拔人才的标准获得，这反映了士族权力来源方式的变化，故选A项；科举制打破了门阀士族对选官的垄断，促进了社会阶层的流动，有利于扩大封建统治的基础，标志着古代选官制度的成熟，排除B项；材料的主旨是权力来源方式的变化，排除C项；材料并未具体说明科举考试的内容与儒家思想的关系，无法体现“儒化”的趋势，排除D项。
27. 【答案】C【解析】中国传统手工业十分发达，使得中国的商品在世界上竞争力强，在对外贸易中长期处于顺差状态，白银大量流入中国，故C项正确。1604年后白银流入比之前减少，排除A。工业革命开始于18世纪60年代，排除B。1618世纪中国实行闭关锁国政策，排除D。
28. 【答案】B【解析】由材料“窃维泰西诸国之所以谋我也，其志专在通商取利”可知左宗棠认为西方列强入侵中国的目的在于谋取经济利益，说明其没有认清列强侵略中国的本质，故选B项；材料是左宗棠对西方侵略者的认识，没有发展民用工业的态度，排除A项；由材料“故所历各国一以占埠头、争海口为事”可知列强通过开放通商口岸对中国进行经济侵略，优华方式并未变化，排除C项；实业救国思潮兴起于19世纪末，与材料时间信息不符，排除D项。
29. 【答案】D【解析】根据材料“简氏兄弟从宣传振兴国货入手，推出‘爱国’牌卷烟，烟盒上‘振兴国货’四字感召亿万同胞心”并结合所学知识可知，南洋公司宣扬爱国精神，促进了公司的发展，这说明民族工业具有爱国情怀，民族意识得到觉醒，故选D项；材料中宣扬爱国是南洋公司的做法，并没有扩大到所有公司，成为商业竞争焦点，排除A项；民族资本主义在夹缝中生存指的是民族资本主义受到帝国主义、封建主义和官僚资本主义的压迫，而材料讲的是南洋公司宣扬爱国，使公司发展起来，排除B项；结合所学知识可知，民众民族情绪并不能决定企业命运，排除C项。
30. 【答案】C【解析】据题干信息可知，抗战时期，中共成立国际宣传委员会、海外工作委员会，或与埃德加·斯诺、美军观察组成员等交流谈话，向国际社会宣传中共在抗战中的贡献，故选C项；“世界各国”过于夸大，题干只提及了美国人士且美国人士未表明对中共的态度，排除A项；“消除了”不合史实，英美等国对共产主义仍抱有戒心，排除B项；“赢得了国际话语权”过于夸大，国际话语权在美、苏、英等大国手中，排除D项。
31. 【答案】C【解析】据材料“国有经济单位和集体经济单位吸纳的新增就业人员仅占49.86%”可知，改革开放后，国有经济吸收就业人员比重逐渐下降，说明就业途径增多，体现了非公有制经济发展迅速，故选C项；据所学，新时期中国所有制结构的主体依然是公有制，排除A项；材料主旨是新时期国有经济单位和集体经济单位吸纳就业人员比重减少，没有涉及农村人口的迁移，排除B项；材料主旨是国有经济单位和集体经济单位吸纳就业人员比重减少，不能说明第三产业在就业中的作用，排除D项。
32. 【答案】A【解析】由材料“特别注意观察天象、气象和生物世界，并发展起了气象学、动物学等实证科学”、“进行热和空气的实验，以及关于斜面、杠杆、滑轮的力学实验等最初的科学实验活动”可知古希腊的科学研究活动注重实证，有利于理性思维的发展，故选A项；“完整的科学体系”表述过于绝对，排除B项；古希腊早期科学处于科学发展的萌芽时期，排除C项；早期科学并未突破宗教神学的桎梏，排除D项。
33. 【答案】B【解析】由材料“19世纪末发明用砖、混凝土和沥青铺路法后，欧洲各国的城市街道状况大为改观”、“新式自来水系统于1850年以后开始在伦敦、巴黎、柏林等城市建成，路灯制度从19世纪开始也日渐完善”可知随着工业革命的进行，欧洲的城市街道和城市设施随着工业化的发展不断完善，故选B项；街道铺砌技术只是城市建设的一部分，不能以偏概全，排除A项；材料并未提及市政立法

情况，且“各国”表述过于绝对，排除C项；材料强调城市建设，不能偷换概念为公共卫生事业，排除D项。

34. 【答案】B 【解析】根据材料关键信息“银行的冷血、农民的悲惨、警察的蛮横、资产者的无情”等并结合所学知识可知，大危机激化了当时的社会矛盾，故B项正确。A项表述不符合史实，排除；C、D两项表述材料无从体现，排除。

35. 【答案】D 【解析】由材料宣传“邪恶的共产主义敌人”“人民资本主义”“民主”“自由”等可知，美国注重在冷战中进行意识形态渗透，D项正确；材料无法支撑A项；B项非材料主旨；1955年，苏联与东欧七国建立华沙条约组织，标志着两大政治军事集团对峙局面形成，也标志着两极格局正式形成，C项排除。

二、非选择题

41. 【答案】(25分)

(1) 背景：专制主义中央集权加强；商品经济发展和土地兼并冲击了传统治理模式；教育及科举制的发展；理学思想产生并传播；原有单一的乡里制存在弊端。(8分，任答四点即可)

特点：治理主体多样化；治理方式多元化；官治与自治相结合；道德教化为主导；统合基层诸事务。(6分，任答三点即可)

(2) 不同之处：宋代是人治、专制；美国是民主、法治；宋代是半自治，美国是分层治理，以乡镇为基层单位，高度自治；二者时代不同，前者属古代，后者属近代。(6分，任答三点即可)

共同价值：有利于基层社会秩序的稳定；促进了基层社会治理的多元化；有利于调动民众参与基层治理的热情。(5分)

【解析】

(1) 第一小问背景，由材料一“县衙作为国家权力的末梢”、“保甲制度实施后”得出专制主义中央集权加强；由材料一“阶层多元化、利益多元化、价值多元化趋势，不同利益主体在资源占有、话语权方面的差异使得政府的同一政策不可能对所有群体形成相同效应”得出商品经济发展和土地兼并冲击了传统治理模式；由材料一“宋代乡村启蒙教育、家庭教育、社会教化”得出教育及科举制的发展；由材料一“受到理学家重视”得出理学思想产生并传播；由材料一“政府的同一政策不可能对所有群体形成相同效应”得出原有单一的乡里制存在弊端。第二小问特点，由材料一“乡村社会出现的阶层多元化”、“乡村精英架构在专制国家和普通民众之间”得出治理主体多样化；由材料一“他们在宗族复兴、乡约治理、慈善救济、兴学教化方面均发挥着重要作用”得出治理方式多元化；由材料一“宗族组织的行政化和组织化使其在乡村拥有一定影响力”得出官治与自治相结合；由材料一“启蒙教育、家庭教育、社会教化”得出道德教化为主导；由材料一“宗族复兴、乡约治理、慈善救济、兴学教化”得出统合基层诸事务。

(2) 第一小问不同之处，由材料一“乡村精英架构在专制国家和普通民众之间”、材料二“行政委员每年由该镇居民选举产生”得出宋代是人治、专制，美国是民主、法治；由材料一“宗族组织的行政化和组织化使其在乡村拥有一定影响力”、材料二“州或县没有办法提供完全的公共服务，因此就只有把这些权力下放给镇，镇在发展的过程中就逐渐拥有更多更大的权力”、“每一个公民都有权以平等的身份参加乡镇会议以决定与自己利益相关政策的讨论和决策”得出宋代是半自治，美国是分层治理，以乡镇为基层单位，高度自治；由材料一“宋代”、材料二“建设道路、学校、商场、济贫院、公共卫生”得出二者时代不同，前者属古代，后者属近代。第二小问共同价值，由材料一“扮演着上下沟通的连接枢纽作用和社会控制作用的社会角色”、材料二“承担着除司法之外的所有公共服务功能”得出有利于基层社会秩序的稳定；由材料一“宗族组织的行政化和组织化使其在乡村拥有一定影响力”、材料二“美国乡镇设有自己的行政机构，行政委员每年由该镇居民选举产生”得出促进了基层社会治理的多元化；由材料一“他们在宗族复兴、乡约治理、慈善救济、兴学教化方面均发挥着重要作用”、材料二“每一个公民都有权以平等的身份参加乡镇会议以决定与自己利益相关政策的讨论和决策”得出有利于调动民众参与基层治理的热情。

42. 【答案】(12分)

示例参考：

论题：国家综合实力决定国家外交

阐述：照片，在一定程度上能够反映历史，前人的“生活”，是后人眼中的“历史”。

1900年，八国联军发动侵华战争。1901年签订了《辛丑条约》(图1)，中国完全沦为半殖民地半封建社会。这一耻辱的外交反映了当时中国的国力弱小。图2所展示的顾维钧，代表中国北洋军阀政府参加巴黎和会，为了国家利益据理力争，由于中国是弱国，西方列强无视中国主权，把德国在中国的权益转让给日本。

图3是1971年第26届联合国大会上，中国的外交部长乔冠华的仰天大笑。20世纪六七十年代，由于中国综合国力的提高以及第三世界国家的支持，新中国重返联合国，国际地位大大提高。图4是二十国集团领导人杭州峰会合影，G20杭州峰会在2016年举行，体现了习近平新时代中国特色大国外交的新局面，体现了中国综合国力增强，国际影响力增强。

总之，照片一定程度上能够反映历史，综合国力决定国家外交。
其它参考论题：经济是外交的后盾；弱国无外交；半殖民地半封建社会的外交；新中国的外交；外交是内政的延伸等。

【解析】
首先，拟定论题，据材料“图1《辛丑条约》签订”“图4二十国集团领导人杭州峰会合影”结合所学得出国家综合实力决定国家外交。其次，展开阐述，据材料“图片是触摸历史脉搏、感受生命温度的媒介”得出照片，在一定程度上能够反映历史，前人的“生活”，是后人眼中的“历史”；据图1信息并结合所学得出1900年，八国联军发动侵华战争。1901年签订了《辛丑条约》图1），中国完全沦为半殖民地半封建社会，这一耻辱的外交反映了当时中国的国力弱小。据图2信息并结合所学得出图2所展列强无视中国主权，把德国在中国的权益转让给日本。据图3信息并结合所学得出图3是1971年第26届联合国大会上，中国的外交部长乔冠华的仰天大笑。20世纪六七十年代，由于中国综合国力的提高以及第三世界国家的支持，新中国重返联合国，国际地位大大提高。据图4信息并结合所学得出图4是二十国集团领导人杭州峰会合影，G20杭州峰会在2016年举行，体现了习近平新时代中国特色大国外交的新局面，体现了中国综合国力增强，国际影响力增强。最后总结，照片一定程度上能够反映历史，综合国力决定国家外交。

5. **【答案】** (15分)

- (1) 降低征收总额且不规定时间；根据民户田亩数量摊派；允许民间使用和贸易；可以缴纳货币或其他物品；政府收购牛革。(8分)
- (2) 适应了封建赋税制度的变化趋势；政府放松了对民间的限制，减轻了百姓负担；推动了手工业的发展，便利了百姓生活；缓解了社会矛盾，促进了商品经济的发展。(7分)

【解析】

- (1) 据材料“后周政府规定只征收以前牛革总额的三分之一……且没有明确规定送纳的时间”可知，降低征收总额且不规定时间；从材料“根据民户拥有田亩的多寡进行摊派”可知，根据民户田亩数量摊派；由材料“允许民间合理合法的使用和贸易”可知，允许民间使用和贸易；据材料“也通过‘纳价钱’代替缴纳实物”可知，可以缴纳货币或其他物品；从材料“政府将民户手中剩余的牛革购买入官”可知，政府收购牛革。
- (2) 据材料“也通过‘纳价钱’代替缴纳实物”结合所学可知，适应了封建赋税制度的变化趋势；政府放松了对民间的限制，减轻了百姓负担；从材料“政府将民户手中剩余的牛革购买入官”可知，推动了手工业的发展，便利了百姓生活；综合来看，缓解了社会矛盾，促进了商品经济的发展。

6. **【答案】** (15分)

- (1) 背景：自古以来屯垦养兵的成功经验；建国初期面临的严峻国内局势；帝国主义的封锁包围；国家经济政策的调整；稳定边疆的需要。(答出4点即可，其他答案言之有理亦可)
- (2) 作用：指导了边疆地区的屯垦实践；有利于边疆稳定和国家统一；促进了边疆开发和经济发展；丰富了屯垦戍边思想；对今天的兵团建设依然有重大意义。(答出4点即可，其他答案言之有理亦可)

【解析】

- (1) 由材料“边疆屯垦以兵养兵的先例古已有之且颇有成效”得出自古以来屯垦养兵的成功经验；由材料“新中国成立后积极在边疆地区推行屯垦”得出建国初期面临的严峻国内局势；由材料“随时警惕帝国主义侵略者的侵袭”得出帝国主义的封锁包围；由材料“将经济建设和国防建设相结合起来的正确方针”得出国家经济政策的调整；由材料“战争年代的南泥湾经验也让王震认识到这样的方式行得通”得出稳定边疆的需要。
- (2) 由材料“新中国成立后积极在边疆地区推行屯垦”得出指导了边疆地区的屯垦实践；由材料“以兵开荒，组建农牧企业，每年至少用三个月的时间来进行军事、政治训练”得出有利于边疆稳定和国家统一；由材料“在广东海南岛、沿海各省、东北、西北各省，大规模地发展国营、军垦农场垦荒，是将经济建设和国防建设相结合起来的正确方针”得出促进了边疆开发和经济发展；由材料“边疆屯垦以兵养兵的先例古已有之且颇有成效”得出丰富了屯垦戍边思想；由材料“以兵开荒，组建农牧企业，每年至少用三个月的时间来进行军事、政治训练，以培养有素养的有经验的后备军官和技术士兵”得出对今天的兵团建设依然有重大意义。

绵阳三诊热身考试地理参考答案

1-11, DBC, BC ADC, DAC

36. (1) 家庭小作坊多 (2分) 且沿主干道布局 (2分)。

因为主干道客流量大, 前店后坊可以直接面向游客, 便于扩大销售量 (2分)。

(2) (随着古城旅游的兴盛,) 古城内地租上升 (2分); 古城内用地空间较小, 限制生产规模 (2分); 古城内对外交通不便 (2分); 古城内环保要求提高 (2分)。

(3) 加强企业间的信息交流和技术协作 (2分); 提高生产效率和利润, 取得规模效益 (2分); 共用良好的基础设施, 节约生产建设投资 (2分)。

(4) 利于漆器非物质文化遗产的传承与创新 (2分); 提高古城知名度, 增加对游客的吸引力, 提高社会经济效益 (2分); 通过文创活动打造特色旅游资源 (2分)。

37. (1) 变化: 西南季风增强 (2分)。

成因: (受板块运动影响,) 横断山区由海洋抬升为陆地, 陆地面积增大 (2分), 海陆热力差异增大 (2分)。

(2) 印度洋板块与亚欧板块碰撞挤压, 形成一系列 (南北走向) 高山谷地 (2分); 随着地层抬升, 河流不断下切 (向下侵蚀), 形成深谷 (2分); 由于板块继续碰撞挤压, 空间距离缩小, 使并列的河谷相距较近 (2分)。

(3) 以雨水补给为主变为冰雪融水补给为主 (2分); 河流流量变小 (2分); 流量年际变化减小 (2分); 流量季节变化增大 (2分)。

43.

旅游者: 游客由原来避寒的“候鸟老人”到现在的航天爱好者、摄影师、小学生 (2分)。

旅游目的: 旅游由避寒为主到现在避寒和看火箭发射 (2分)。

促进当地经济的发展, 增加当地政府财政收入 (2分); 提供大量就业机会 (2分); 促进当地基础设施和服务设施的建设 (2分); 海南岛的知名度进一步提升, 吸引更多游客, 游客群体多元化, 拓宽了市场 (2分)。

44. 大面积海域遭污染, 污染海水, 水质下降 (2分); 放射物会融入海底泥土, 污染海底环境 (2分); 浮游生物死亡, 影响生物多样性 (2分); 海洋环境质量下降, 影响海洋渔业发展 (2分); 污染物质在海洋生物体内富集, 通过食物链危害人体健康 (2分); 生态环境恶化, 不利于太平洋沿岸国家经济发展 (2分)。