

绝密★启用前

2022 届山东省高三第一次学业质量联合检测

历史

本试卷 8 页。总分 100 分。考试时间 90 分钟。

注意事项:

1. 答卷前,考生务必将自己的姓名、准考证号填写在答题卡上。
2. 回答选择题时,选出每小题答案后,用铅笔把答题卡上对应题目的答案标号涂黑。如需改动,用橡皮擦干净后,再选涂其他答案标号。回答非选择题时,将答案写在答题卡上。写在本试卷上无效。
3. 考试结束后,将本试卷和答题卡一并交回。

一、选择题:本题共 15 小题,每小题 3 分,共 45 分。在每小题给出的四个选项中,只有一项是符合题目要求的。

1. 周朝封建诸侯,尊奉正朔,大都采用周历。然而,夏历、殷历、颛顼历等在当时仍有人使用。这说明
A. 分封制有利于推动上层文化同质化
B. 平民文化制约着中国文化的同质化
C. 先秦时期中国文化多元并存的特征
D. 文化的区域性特色在社会下层凸显
2. 《隋书》载:“古先哲王之驭天下也,明四目,达四聪,悬敢谏之鼓,立书谤之木,以开言者之路,犹恐忠言之不至。由是泽敷四海,庆流子孙。”这说明谏议制度
A. 是国家兴盛之本
B. 是促使君主圣明的关键
C. 有利于维护统治
D. 是官吏效忠君主的途径
3. 明朝中叶以后,南方数省人口占全国一半以上,北方诸省人口只有南方三分之一。而明朝新引入的粮食与蔬果,都是先在华南发展,然后蔓延全国。材料意在强调
A. 人口分布与食物资源的分布有相应的关系
B. 新物种的引进是南方人口多于北方的根源
C. 历代新物种的引进和推广都始于华南地区
D. 明朝人口分布呈现出地域分布的严重失衡
4. 清朝政府文件不但用满文、汉文,而且也常用卡尔梅克文(即西蒙古文,古称瓦刺语)、阿拉伯文、藏文等书写。官府还出版了一些多语词典,并继承了明初用四夷馆编纂《华夷译语》的传统。上述举措
A. 实现了各民族的平等
B. 放松了对文化的管制
C. 普及了多民族的语言
D. 维护了统一多民族国家

山东卷·历史试题 第 1 页(共 8 页)

5. 孙中山指出:“革命的这种风潮,是欧美近来传进中国来的。中国人感受这种风潮,都是爱国志士,有悲天悯人的心理,不忍国亡种灭,所以感受欧美的革命思想,要在中国来革命。”这说明中国
- A. 革命风潮沉重打击了帝国主义 B. 学习西方是为挽救民族危亡
C. 革命思想传播呈现大众化趋势 D. 革命运动得到欧美国家支持
6. “这一时期,一是正式设置考试院,作为政府的最高考试机关,将它列为中央政府的‘五院’之一,考试院是公务员制度的主要执行者和监督者;二是颁布了一系列法律,使文官制度法律化。”“这一时期”是
- A. 南京临时政府时期 B. 北洋政府时期
C. 南京国民政府时期 D. 新中国成立初期
7. 图1为中国近代某一历史时期的形势示意图。该图所承载的历史信息是

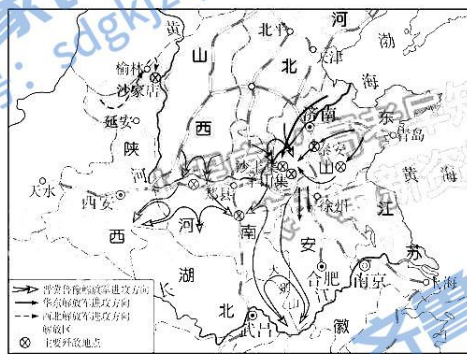


图1

- A. 局部抗战转向全民族抗战
B. 坚持人民游击战争,保存和发展自己
C. 举行全国性的反攻,以主力打到外线去
D. 星星之火,可以燎原
8. 《建国初期中国共产党社会救济的理论与实践》中写道:新中国建立了人民当家作主的政权。新政权将满足社会成员社会福利需求、促进社会公平作为救济工作的目标,把恢复和发展生产作为社会救济的必备前提。由此可知,新中国成立初期的社会救济
- A. 服务于国家进行工业化建设的主流
B. 有力促进了农业经济的恢复和发展
C. 践行了马克思主义的社会保障思想
D. 受国内国际形势影响不断完善政策

9. 高频词汇能反映社会现象和时代特征。下列哪一组是集中体现 1992 年的高频词汇
- A. 下海 学习雷锋 各民族共同繁荣 现代化建设
B. 民主选举 计划生育 样板戏 建立海南经济特区
C. 南方谈话 市场经济 五个一工程 新亚欧大陆桥
D. 希望工程 时间就是金钱 世贸组织 股份制
10. 图 2、图 3 所反映的共同目的是



图 2 新中国成立初期妇女扫盲班

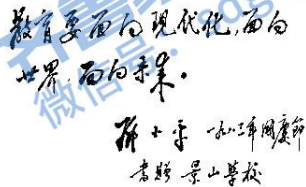


图 3 邓小平 1983 年景山学校题词

- A. 促进农村剩余劳动力大量转移
B. 探索适合中国国情的社会主义建设道路
C. 掀起农村社会主义改造的高潮
D. 促进社会主义教育发展和提高民众素质
11. 古代雅典城市形态的主要特征是城市形状不规则，没有宫殿，卫城和广场是雅典的两大中心，各大公共建筑宏大、华美，依环境而建，私人建筑密集、简陋，贫富混住，无中轴线但有一条主干道，道路狭窄，布局略显凌乱。这反映出雅典
- A. 缺乏城市发展的规划
B. 城市的经济水平较低
C. 尊重思想自由的传统
D. 城邦民主政治的特点
12. 格兰维尔于 1176 年至 1179 年间任王室巡回法官，1180 年起任英国司法长官。他编著了《论英格兰王国的法律和习惯》一书，在阐明国王法庭的管辖权时，将诉讼分为公诉与私诉两种，并明确了各自的管辖权。这体现出英国法律
- A. 受到罗马法的影响
B. 是法官制定出来的
C. 由国王来创立颁行
D. 缺少立法指导原则
13. 图 4 为创作于第二次世界大战前的漫画《希特勒、墨索里尼与狗》。它从本质上反映出




图 4

希特勒：“没有问题的，你知道有些狗是只会吠而不会咬人的吗？”
墨索里尼：“我知道，你知道，但那只狗知不知道？”

- A. 英美对德实施绥靖政策
B. 德国模式受到西方国家青睐
C. 英法对德实施绥靖政策
D. 德国军事扩张具有一定风险

14. 在两极格局下,美国通过各种援助法案,对第三世界国家提供经济、军事援助,推行美国的价值观念及现代化模式。从20世纪50年代中期起,苏联也开始这样做,并希望一些新独立的国家通过苏联的支持和采用苏联的现代化模式,和平过渡到社会主义。美苏的这种做法
- A. 直接促成了世界新的国际格局形成
B. 推动了国际政治经济新秩序的建立
C. 影响了第三世界现代化模式的选择
D. 缓和了冷战过程中的世界紧张局势
15. 18世纪后半期到19世纪中期,在欧洲革命和改革的洪流中,浪漫主义文学出现高峰;在工业革命发展和资本主义制度普遍确立的过程中,欧洲的批判现实主义文学获得重大发展;20世纪,人类经历了两次世界大战、经济大危机与核战争的威胁,现代主义文学创作成为欧美主流。这表明文学风格
- A. 是欧美革命的产物
B. 是社会现实的反映
C. 不受主观意志影响
D. 具有良好的稳定性

二、非选择题:本题共4题,共55分。

16. (12分)图5、图6分别为西汉、宋朝经济分布图。阅读材料,回答问题。

材料

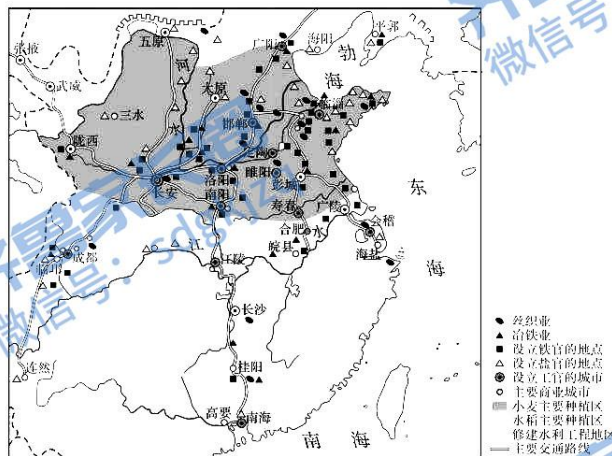


图5 西汉经济分布图

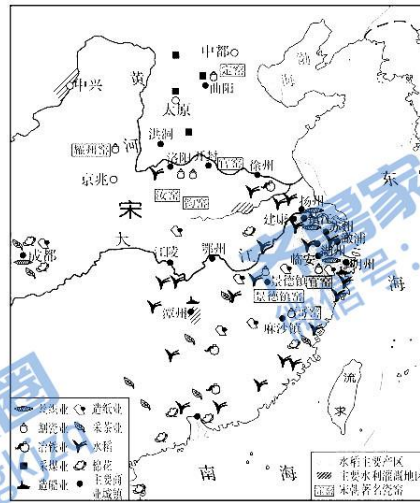


图6 宋朝经济分布图

根据材料,指出与西汉经济分布相比,宋朝经济分布的变化,结合所学知识对此进行解释。(12分)

17. (13分)阅读材料,回答问题。

材料

“新闻”与“古事”

《点石斋画报》在《申报》上刊载的广告说道,“其事信而有征,其文浅而易晓,故士夫可读也;下而贩夫牧竖,亦可助科头跣足之倾谈”。

“百工图”或《诗经》意境画,“时事”是主角,如今改出画册,“古衣冠”因而登堂入室,扮演主人的角色。此类故事日后不断重演,只是不见得如此戏剧性而已。至于古代中国的场景及人物,更多的是借助伦理、历史、掌故等栏目来实现。正是因为以新闻为主体的画报中不时涌现古人、古事、古诗、古画,让古今之间充满了张力。在晚清画报中,“新闻”与“古事”互相渗透,相安无事。



图7 百工图




图8 点石斋画报时事精选

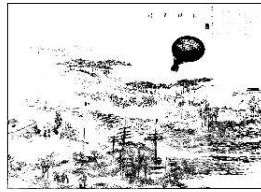


图9 新样气球

——据陈平原《左图右史与西学东渐:晚清画报研究》整理
提取材料信息,对晚清画报中“新闻”与“古事”的关联进行合理的历史解释。(13分)

18. (13分) 阅读材料, 回答问题。

材料

在 20 世纪上半叶的中国, 总的任务是反帝反封建, 后面还加上反官僚资本主义。革命队伍从领导层到基础革命力量也经历了三个层次, 有由资产阶级革命派发动的会党和新军力量, 再由国共合作特别是共产党人动员和组织的工农群众, 最后由共产党领导的以工农为主体的和其他阶级阶层的全民力量。革命的领导力量一次比一次深入。为什么是这样而不是那样? 只有从半殖民地半封建社会的经济基础和这种经济基础的由来, 以及革命面临的国内外形势的变化中找到答案。

——摘编自陈旭麓《近代史思辨录》

根据材料并结合所学知识, 对作者关于中国革命的观点进行阐释。(13分)(要求: 观点正确, 持论有据, 逻辑清晰。)

19. (17分)阅读材料,回答问题。

材料

世界科技中心转移概况	
第一次	1540—1620年间以意大利为中心的一些国家出现了一大批杰出的科学家,其中有意大利科学家达·芬奇、波兰天文学家哥白尼、意大利物理学家伽利略、天文学家布鲁诺等,他们都是近代科学的奠基人。意大利成了欧洲乃至整个世界的科技文化中心
第二次	从1660年至1730年,英国科学技术一直保持领先水平。据不完全统计,这时英国拥有的杰出科学家人数占世界杰出科学家总数的36%以上,取得重大科技成果占世界的40%以上
第三次	第三次世界科技中心的大转移发生在1760年至1840年之间。从18世纪末到19世纪初,法国科学家做出的重大科学发明占全世界发明总数的40%以上。这一切足以说明,法国已完全取代英国而成为世界科技中心
第四次	第四次世界科技中心的大转移发生在1840—1910年之间。据统计,从1851年至1900年,美、法、英、德四国所取得重大科技成果的数目分别是:美国33项、法国75项、英国106项、德国209项。科学技术的飞跃发展,加速了德国产业革命的进程。19世纪70年代末80年代初,德国完成了工业革命,成为工业化强国。这些标志着德国在科学尖端领域已全面地超过了英法
第五次	第五次世界科技中心的转移发生在1910年之后。1915年美国试验成功第一颗原子弹,1946年研制成功世界上第一台电子计算机,1958年美国人造卫星也上了天,使美国科学技术处于遥遥领先的水平

——摘编自张文彦等主编《自然科学大事典》

- (1)根据材料并结合所学知识,概括世界科技中心转移的轨迹。(4分)
- (2)根据材料并结合所学知识,举例说明世界科技中心转移的原因及影响。(7分)
- (3)围绕世界科技中心转移这一问题,谈谈你的看法。(6分)



参考答案及解析

2022 届山东省高三第一次学业质量联合检测 · 历史

一、选择题

1. C 【解析】据材料“周朝封建诸侯，尊奉正朔，大都采用周历。然而，夏历、殷历、颛顼历等在当时仍有人使用”可知，周朝历法具有多样性，这说明了先秦时期中国文化多元并存的特征，故选 C 项。A 项只体现了材料的局部内容，不能解释其他历法的存在；B 项材料未提及二者的关系；D 项材料并未明确表明文化的地方性特色与社会下层的联系。
2. C 【解析】材料“古先哲王之驭天下……以开言者之路，犹患忠言之不至。由是泽敷四海，庆流子孙”强调了开言路的重要性，说明谏议制度的推行有利于维护统治，故 C 项正确。A、B、D 三项说法过于绝对。
3. A 【解析】据材料可知，明朝中叶以后，南方人口多，且新引入的粮食与蔬果也先在华南区域发展，其后蔓延全国，由此推知，人口的分布与食物资源的分布有一定的关系，故 A 项正确。材料未提及新物种的引进是南方人口多于北方的根源，排除 B 项；C 项说法绝对且材料中未提及；D 项材料未涉及，排除。
4. D 【解析】清政府出版多语词典、组织编纂民族史书等均有利于维护统一多民族国家，巩固统治，故选 D 项。材料未提及清政府的民族平等关系，排除 A 项；B、C 两项不符合史实，均排。
5. B 【解析】根据材料“中国人感受这种风潮，都是爱国志士，有悲天悯人的心理，不忍国亡种灭，所以感受欧美的革命思想，要在中国来革命”可知，近代国人学习西方是为挽救民族危亡，故选 B 项。材料未提及革命风潮传播的结果、传播趋势及欧美国家支持，故排除 A、C、D 三项。
6. C 【解析】根据材料信息“正式设置考试院……‘五院’之一，考试院是公务员制度的主要执行者和监督者……使文官制度法律化”可知，这一时期是南京国民政府时期，C 项正确。
7. C 【解析】根据图例中“晋冀鲁豫解放军进攻方向”并结合其在地图中的位置可知，该时期是解放战争时期，故 C 项正确。
8. C 【解析】根据材料“新中国建立了人民当家作主的政权。新政权将满足社会成员社会福利需求、促进社会公平作为救济工作的目标”可知，新中国成立初期的救济工作是为人民服务、维护社会公平的，这是将马克

- 思主义社会保障思想运用于实践的体现，故选 C 项。国家工业化建设自 1953 年国民经济恢复后开始，且材料提及社会救济的必要前提是经济的恢复和生产的发展，排除 A、B 两项；D 项材料没有体现，排除。
9. C 【解析】据时间节点 1992 年，结合所学知识可知，此时期改革开放进一步扩大，1992 年邓小平到南方视察，发表一系列讲话，进一步解放了人们的思想；1992 年中共十四大第一次明确提出建立社会主义市场经济体制的目标；五个一工程是由中共中央宣传部组织的精神文明建设评选活动，自 1992 年起每年进行一次；新亚欧大陆桥又名“第二亚欧大陆桥”，是从中国的江苏连云港市到荷兰鹿特丹港的国际化铁路交通干线，1992 年开始国际陆桥营运，故选 C 项。学习雷锋是 20 世纪 60 年代的高频词汇；样板戏是 20 世纪 70 年代的高频词汇；计划生育、希望工程及时间就是金钱是 20 世纪 80 年代的高频词汇；世贸组织成立于 1995 年，故排除 A、B、D 三项。
10. D 【解析】根据图中信息可知，中华人民共和国成立后的教育发展注重现实，提高民众素质符合社会发展需要，有利于促进社会主义教育发展，故选 D 项。A 项非图片反映的共同目的，且成立扫盲班的主要目的是适应经济建设需要；B、C 两项与材料无关，排除。
11. D 【解析】从材料信息和所学知识看，“没有宫殿”“各大公共建筑宏大、华美……私人建筑密集、简陋……”这些特点是雅典民主政治在其城市建设中的体现，故选 D 项。从材料看，“卫城和广场是雅典的两大中心”说明雅典是有城市规划的，A 项不正确；从“公共建筑宏大、华美”等，看不出雅典城市经济发展水平低，排除 B 项；材料未体现尊重思想自由的传统，C 项排除。
12. A 【解析】格兰维尔在“阐明国王法庭的管辖权时，将诉讼分为公诉与私诉两种，并明确了各自的管辖权”，反映出英国法律继承了罗马法的核心——私法，由此反映出英国法律受罗马法影响，故选 A 项。
13. C 【解析】根据材料信息“有些狗是只会吠而不会咬人的”，并结合“第二次世界大战前”这一背景及设问“它从本质上反映出”，可得出答案为 C 项。
14. C 【解析】通过材料可知，美苏在相对第三世界国家提供经济、军事援助并推行各自的现代化模式，这种

· 历史 ·

参考答案及解析

做法直接影响了第三世界国家对现代化模式的选择,美苏的争夺加剧了两极格局下世界的动荡,故选C项,排除D项。美苏的做法没有改变两极格局,也没有推动国际政治经济新秩序的建立,排除A、B两项。

15. B 【解析】从题干的信息看,每个历史时期都有反映本时期社会发展的主流文学风格,说明文学风格是社会现实的反映,故选B项。

二、非选择题

16. 变化:西汉商业城市、冶铁业和丝织业等手工业行业多集中于北方黄河中下游地区;粮食作物种植以小麦和水稻为主,种植区域分区明显;北方经济发展状况优于南方地区。

宋朝手工业行业增多,丝织业、制瓷业、冶铁业等传统行业得到发展,出现了著名的瓷窑,造船业也得到进一步发展,而这些行业多集中于黄河及长江流域,尤其是长江中下游地区;粮食种植以水稻为主,且产区集中,宋朝引进占城稻;经济作物种植区域增多,尤其是棉花、茶叶;出现了诸多商业城镇;宋朝经济繁盛,南方经济发展优于北方地区。(6分)

解释:

原因:从西汉及宋朝两个朝代的政治(政局)、经济政策、(南北方)自然环境等因素分析经济分布变化状况。(3分)

结果:经济重心南移,南方经济发展优于北方,并对以后的经济发展格局产生了深远影响。(3分)

17. 解释:晚清出现“新闻”与“古事”互相渗透。近代列强侵略中国,民族危机加深;西学东渐,晚清和近代画报体现了这一时代特征。(5分)

画报主要面向普通民众,“新闻”与“古事”相互渗透,有助于民众更好地掌握信息。这种关联起到了启发民众、传播西方先进知识、开阔国人视野等进步作用。画报中“新闻”与“古事”的关联体现了形式的创新,对后代的画报发展起到了积极影响。(6分)

层次要求(2分):

层次1:不能根据试题要求从材料中提取有效信息,没

有对历史信息进行解释说明;

层次2:提取信息不够完整,能在历史信息和相关历史现象之间建立起简单联系;

层次3:全面提取材料信息,在历史信息和相关历史现象之间建立起逻辑关系,并在概括归纳的基础上,进行多角度的阐释说明。

18. 示例:

观点:20世纪上半叶的中国,革命领导力量逐步深入。(3分)

阐释:鸦片战争后,中国民族危机加深,中国逐步沦为半殖民地半封建社会。1911年,资产阶级领导辛亥革命,结束了封建君主专制,建立了中华民国。

国共两党合作,以打倒列强、除军阀为目标,国民革命运动兴起,打击了帝国主义的侵略势力,基本推翻了北洋军阀的统治。

日本侵华,中日矛盾上升为主要矛盾,国共二次合作,建立抗日民族统一战线,抗日战争中中国共产党发挥了中流砥柱的作用。

抗战胜利后,国民党蒋介石发动内战,中国共产党领导人民取得了解放战争的胜利,建立了新中国。(8分)

结论:由于社会性质和社会主要矛盾的变化,中国革命领导力量逐步深入。(2分)

19. (1)轨迹:从地中海沿岸到大西洋沿岸,从老牌资本主义国家英法到新兴资本主义国家美德;第二次世界大战后,美国确立了科技领先地位。(任答2点即可得4分)

(2)原因:世界商路和贸易中心的转移;政治经济制度的变革,社会发生转型;科技政策的推动;等等。(4分)

影响:可从综合国力对比的角度、国际格局演变的角度、社会文明进步的角度回答。(3分,言之有理即可)

(3)顺应世界近代化发展潮流;积极进取;敢为人先;追求创新;创造公平公正开放的社会环境。(任答3点即可得6分)