

2023 年普通高等学校招生全国统一考试模拟演练

文科综合(一)

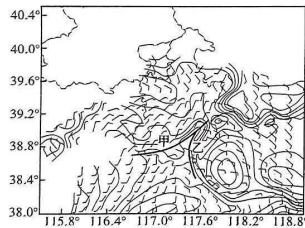
本试卷总分 300 分,考试时间 150 分钟。

注意事项:

- 答卷前,考生务必将自己的姓名、准考证号填写在答题卡上。
- 回答选择题时,选出每小题答案后,用铅笔把答题卡上对应题目的答案标号涂黑。如需改动,用橡皮擦干净后,再选涂其他答案标号。回答非选择题时,将答案写在答题卡上。写在本试卷上无效。
- 考试结束后,将本试卷和答题卡一并交回。

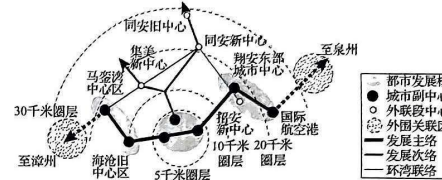
一、选择题:本题共 35 小题,每小题 4 分,共 140 分。在每小题给出的四个选项中,只有一项是符合题目要求的。

常见的锋面系统有冷锋、暖锋、准静止锋和干线(两个温度相近的干、湿气团相遇形成的锋面)。锋面系统的叠加是发生异常天气的重要原因。某研究团队对渤海沿岸某次天气活动进行了跟踪研究,发现在图中甲锋面向东推进的过程中,乙锋面随着海陆温差的增大向西推进,并随着海陆温差的减小而消散。如图示意两锋面相遇时的风场分布。据此完成 1~3 题。



- 根据成因,乙锋面的性质属于
A. 暖锋 B. 冷锋 C. 准静止锋 D. 干线
- 图示时刻渤海北部沿岸最可能出现的异常天气是
A. 晴朗 B. 小雨 C. 小雪 D. 雷暴
- 此次异常天气出现的时间段可能是
A. 5—6 时 B. 9—11 时 C. 13—15 时 D. 17—19 时

福建省厦门市陆地面积 1 700.61 平方千米(2020 年),由厦门岛、鼓浪屿、海沧半岛、集美半岛、翔安半岛、大嶝岛、小嶝岛、内陆同安及九龙江等组成,历经了从海岛向海湾扩展的发展阶段,形成了“多中心、组团式”的形态布局。厦门市交通压力大,本地居民居住通勤是交通压力的主要来源。如图示意厦门市以厦门岛为中心的空间结构规划。据此完成 4~6 题。



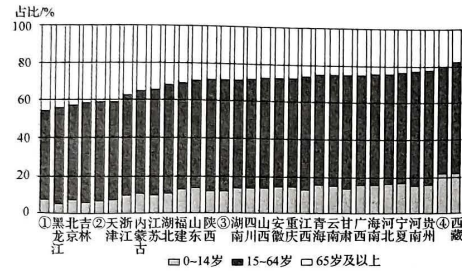
- 厦门市“多中心、组团式”形态形成的主要原因是
A. 政策引导 B. 经济发展 C. 山水阻隔 D. 环境问题
- 厦门市各组团之间
A. 均衡发展 B. 功能分工明确
C. 孤立发展 D. 向心联系明显
- 为促进厦门市职住平衡,其城市规划应
A. 在岛湾之间增建跨海通道 B. 在半岛之间填海造陆
C. 促进各组团城市功能专门化 D. 促进各组团服务业健全发展

由亚热带红层母质形成的土壤在我国被称为紫色土,土壤中含有较多矿物质,其中钾元素含量丰富,且通透性好,多不经熟化培肥过程就可耕种。紫色土性状受地形影响大,山坡坡顶土壤剖面分化不明显,缺失淋溶层、淀积层。如表为浙江某丘陵不同坡位和土地利用方式下的紫色土性状。据此完成 7~9 题。

坡位	土地利用类型	土层厚度/厘米	表土层厚度/厘米	砾石/%	表层黏粒/(克·千克 ⁻¹)	有机质/(克·千克 ⁻¹)	速效钾/(毫克·千克 ⁻¹)
坡顶	林地	24.52	13.54	18.84	214	12.14	151.24
	旱地	17.44	10.28	25.45	178	9.78	146.58
中坡	果园	46.72	24.24	12.58	234	14.24	122.74
	旱地	44.57	16.52	16.42	221	12.87	129.64
坡麓	水田	73.64	18.74	8.76	258	27.65	95.42
	旱地	74.57	17.28	11.43	247	22.41	103.24

- 该丘陵自坡顶到坡麓
A. 土层厚度变化较小 B. 矿物质逐渐增多
C. 土壤颗粒由小到大 D. 有机质逐渐增多
- 推测该丘陵坡顶土壤剖面分层不明显的原因是
A. 岩浆活动晚,成土时间短 B. 降水少,淋溶作用弱
C. 侵蚀作用强,表土更新快 D. 岩性脆弱,成土速度快
- 提高该丘陵坡地生产力的最重要措施是
A. 开垦荒地 B. 植树造林 C. 引水灌溉 D. 增施化肥

2022 年末数据显示,我国人口总数首次出现负增长,未来“少子老龄化”将成为常态,但是省级行政区间的人口变动存在明显差异。某研究团队基于现阶段我国人口发展规律,对 2050 年我国各省级行政区(不含港澳台)的人口年龄结构进行了模拟预测,结果如图所示。据此完成 10~11 题。



10. 图中①②③④依次代表的省级行政区域是
A. 上海、辽宁、广东、新疆
B. 辽宁、广东、新疆、上海
C. 广东、新疆、上海、辽宁
D. 新疆、上海、辽宁、广东
11. 与北京相比,2050年西藏老龄化程度较低,推测其主要原因可能是
A. 人口迁出比重高 B. 育龄妇女数量多 C. 人口自然增长快 D. 经济发展速度快
12. 2023年,农业农村部将大力扶持发展农产品精深加工,引导龙头企业建设农产品加工技术集成基地和精深加工示范基地,增加精深加工产品种类和产品附加值,推动加工企业由小变大、加工程度由初变深、加工产品由粗变精。对此,下列认识正确的是
①通过精深加工延长产业链能够促进农民增收
②只有对农产品精深加工才能更好实现其价值
③精深加工能实现农产品使用价值与价值的分离
④促进农产品精深加工更好地满足人们高品质消费的需求
A. ①② B. ①④ C. ②③ D. ③④
13. 中央经济工作会议确定,2023年我国将“把恢复和扩大消费摆在优先位置”。重点围绕改善消费条件、创新消费场景、营造消费氛围、提振消费信心,进一步发挥消费对经济发展的基础性作用。下列传导路径正确的是
A. 调整投资结构→增加商品有效需求→助力服务业发展→营造消费氛围
B. 优化竞争环境→激发社会创新活力→培植新业态新模式→增强消费动能
C. 畅通经济循环→吸引全球资源要素→推动服务贸易发展→释放消费潜力
D. 消除投资障碍→放开市场准入→深化供给侧结构性改革→优化消费结构
14. 技能是强国之基、立业之本。目前,我国技能人才尤其是高技能人才在总量、结构、培养、使用等方面,与实际需要相比仍存在一定差距,高技能人才的求人倍率(岗位空缺与求职人数的比率)长期保持在2以上。相关资料显示,日本整个产业工人队伍中,高级技工占比40%,德国则达50%。为此,我国需要
①完善人才激励机制,加强高技能人才培养 ②推动资源优化配置,缓解就业结构性矛盾
③加快产业转型升级,大力发展战略性新兴产业 ④推动实体经济发展,培育国际竞争新优势
A. ①② B. ①④ C. ②③ D. ③④

全国卷

文科综合试题(一) 第3页(共16页)

15. 地缘冲突和大国博弈等因素对2022年的全球通胀起了推波助澜的作用。为治理通胀,美联储持续加息产生“溢出效应”,导致一些新兴经济体出现资本外流、进口成本上升、本国货币贬值等破坏性影响,并推升了高负债新兴经济体出现大规模债务违约的可能性。对此,下列分析正确的是
①经济全球化是导致全球通胀、资本外流的主要推手
②经济全球化进程下世界经济发展面临的风险上升
③通过持续加息可以刺激消费增长,激发经济活力
④经济发展需要各国进一步合作完善全球治理体系
A. ①② B. ①③ C. ②④ D. ③④
16. 2022年10月1日,《浙江省民生实事项目人大代表票决制规定》正式施行。其中规定:“设区的市、县(市、区)、乡镇人民政府一般应当在每年第三季度启动下一年度民生实事候选项目征集工作,征求政府有关部门和机构、街道、其他国家机关、群团组织、基层群众性自治组织、人大代表等方面的意见和建议。”这一规定
①能够提升民生实事项目实施的精准性
②创新了基层群众性自治组织的形式和工作方式
③是践行全过程人民民主的创新探索
④为人大代表更好履职尽责提供了平台
A. ①③ B. ①④ C. ②③ D. ②④
17. 下列对漫画中反映的现象认识正确的是
①彰显了平等的官民关系,坚持以人民为中心
②有助于各级政府坚持法治思维和求真务实的工作作风
③可以有效地杜绝执法不公,实现执法效果最大化
④实现审判过程中程序公正和结果公正,有效化解社会矛盾
A. ①② B. ①③ C. ②④ D. ③④



18. 新时代十年,我国建交国数量从172个增加到181个,伙伴关系从41对增加到113对,我国成为140多个国家和地区的主要贸易伙伴,外交布局覆盖面和含金量实质性提升。共建“一带一路”成为深受国际公共产品和务实合作平台,中国疫苗在全球抗疫合作中发挥了“第一梯队”作用。这表明
①中国坚持平等互利原则,符合国家间的共同利益
②新时代中国国际影响力、塑造力、感召力显著提升
③中国坚守承诺,展现维护世界和平的大国担当
④中国积极促进大国协调,构筑大国关系新格局
A. ①② B. ①④ C. ②③ D. ③④

文科综合试题(一) 第4页(共16页)

19. 唱响山歌、“村晚”活动热闹迎新春，静享阅读，城市书房拓展文化空间；“云”端看展，城乡群众共享精神产品……基层公共文化服务关系着老百姓实实在在的幸福。伴随着社会的进步，人们的文化需求日益强烈，文化生活精彩纷呈。由此可见
- ①文化活动和载体承载、表达和展现着文化的内容
②社会主义核心价值观决定和支配着人们的文化实践
③文化是人类社会特有的现象，是人类社会实践的产物
④文化是一种精神力量，为现代化建设提供了智力支持
- A. ①② B. ①③ C. ②④ D. ③④
20. 随着国潮兴起，下午茶经济进入消费升级 2.0 时代。某餐饮公司“掌柜”师承宫廷御膳传人，通过将传统文化、传统技艺在中式烘焙中的渗透，改变人们对中式糕点口味不丰富的刻板印象，让中式糕点找到“自信”。中式糕点依托国潮文化出圈，中式烘焙也成为近年来餐饮食品投资的大赛道。这启示我们
- ①在创造性转化和创新性发展中赋予中华优秀传统文化新的活力
②深入挖掘中华优秀传统文化的经济价值，实现文化与经济相互交融
③中外文化的相互交流融合就能推动中华优秀传统文化不断发展
④中华优秀传统文化的真正价值和生命力在于其促进经济的发展
- A. ①② B. ①④ C. ②③ D. ③④
21. 马克思、恩格斯指出：“一切划时代的体系的真正的内容都是由于产生这些体系的那个时期的需要而形成起来的。”时代风云、实践发展多么波澜壮阔，理论创新、思想创造就多么博大精深。这体现了真正的哲学
- ①为改造世界提供世界观和方法论指导 ②反映了时代的任务和要求
③为无产阶级提供科学的世界观与方法论 ④要根据时代、实践的发展而发展
- A. ①② B. ①③ C. ②④ D. ③④
22. 我国综合性太阳探测专用卫星“夸父一号”于 2022 年 10 月 9 日成功发射。卫星以“一磁两暴”为科学目标，即同时观测太阳磁场和太阳上两类最剧烈的爆发现象——耀斑和日冕物质抛射，研究它们的形成、演化、相互作用和彼此关联，同时为空间天气预报提供支持。在轨 2 个月期间，“夸父一号”开展了大量对太阳的在轨测试和观测，其中多幅图像质量达到国际领先水平。这表明
- ①人类实践活动具有目的性 ②真理适用于特定的条件和范围
③实践推动认识的深化发展 ④人类最终能穷尽对事物的认识
- A. ①② B. ①③ C. ②④ D. ③④
23. 2023 年 2 月 9 日，神舟十五号航天员乘组，迎来了首次出舱活动。根据任务安排，费俊龙首先出舱，张陆随后顺利出舱，邓清明留在舱内协助配合。天地一心，经过约 7 小时的出舱活动，于 2023 年 2 月 10 日圆满完成出舱活动全部既定任务。这表明
- ①正确把握事物间的联系是取得成功的重要条件
②优化事物的内部结构可以发挥整体的最大功能
③人为事物的联系往往优越于自在事物的联系
④着眼于关键部分可以使整体功能得到最大限度发挥
- A. ①② B. ①③ C. ②④ D. ③④

24. 孟子强调通过思维的明辨来克制物欲以存善性，用理智来达到养心寡欲的目的，防止感官“蔽于物”而夺走善性，并且认为只有“大人”或“先知先觉”的人才懂得“心官能思”，而“小人”只求感官的物欲，所以难存善性。据此可知，孟子主张
- A. 存善以养成浩然之气 B. 践行克己复礼的思想
C. 回归理性以发扬善性 D. 天理与人欲对立统一
25. 有官员称颂光武帝的功德，建议举行“封禅泰山”的盛典。光武帝对此下诏：“即位三十年，百姓怨气满腹，吾谁欺，欺天乎？……若郡县远遣吏上寿，盛称虚美，必髡（一种刑罚），兼令屯田。”这反映出光武帝注重
- A. 劝诫地方官员以民为本 B. 反思自身政策失误
C. 践行“以法治国”的理念 D. 官员的德行和操守
26. 下面是贞观和武周时期宰相来源及人数、占比变化统计表。这一变化

时期	宰相总人数(人)	宰相来源、人数、占比					
		关陇士族集团		山东庶族者		江南地区	
		人数	占比	人数	占比	人数	占比
贞观时期	23	7	30	11	48	5	22
武周时期	75	19	25	42	56	10	13

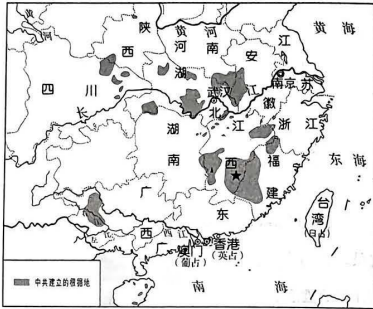
- A. 弱化了中央集权统治 B. 体现中枢体制异变
C. 反映了江南经济发展 D. 有助于皇权的稳固
27. 如图是明清时期江南的早期工业化中生产、流通、金融领域之间关系示意图。这表明
-
- ```

 graph TD
 A[金融领域：高利率] --> B[生产领域：低收入]
 A --> C[流通领域：高利润]
 A --> D[资金流入借贷领域]
 D --> B
 D --> E[商业领域：高积累]
 B --> C
 C --> B
 C --> E
 E --> B

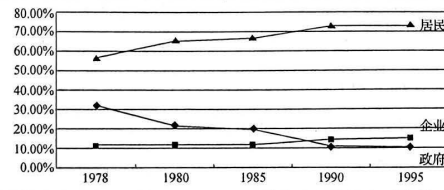
```
- A. 商业资本投资的分散化 B. 产业的升级受到了制约  
C. 重农抑商政策出现松动 D. 手工工场规模不断扩大
28. 1877 年，郭嵩焘针对中国“通商之利一无经营，其民人经商各国，或逾数世，或历数年，与中国声息全隔，派员经理，其势尤格而不入”的现状，强调“西洋各国以通商为制国之本，广开口岸，设立领事，保护商民，与国政相为经纬，官商之意常亲”。郭嵩焘阐发了
- A. 实业救国的经济思想 B. 中体西用的改良方案  
C. 维护主权的外交观念 D. 民富国强的改革主张



29. 如图为近代某一历史时期中国共产党创建的根据地分布图。由此判断该时期中国共产党



- A. 建立了革命统一战线  
B. 践行了土地革命的路线  
C. 进行了敌后战场抗战  
D. 完成了民主革命的任务
30. 1948年8月,中共中央的指示指出:“在国民党统治的城市,单独进行工人、市民的武装起义……一般是不可可能的。……就是说要提出或接近于提出打倒蒋介石、推翻国民党反动政权的口号,采取或准备采取武装斗争的直接行动……都有使少数先锋队脱离广大群众、遭受严重摧残与招致一时失败的危险。”该指示意在强调
- A. 实现党的工作中心转移  
B. 城市敌人力异常强大  
C. 重视巩固革命统一战线  
D. 避免犯冒险主义的错误
31. 如图是《中国统计年鉴》统计的“中国的收入分配结构变化”。这一变化反映出此时期



- A. 经济体制改革惠及民生  
B. 脱贫攻坚取得全面胜利  
C. 企业经济效益明显降低  
D. 市场经济体制基本确立
32. 苏格拉底在判决结束后说了一段话:我所缺的不是辞令,缺的是厚颜无耻和不肯说你们最爱听的话。你们或许喜欢我哭哭啼啼,说许多可怜话,做许多可怜状,我所认为不值得我说我做,而在他人却是你们所惯闻、习见的。这说明古代雅典
- A. 保障个人言论自由  
B. 民主范围较为狭窄  
C. 法律运用灵活多变  
D. 司法判决缺乏理性
33. 卢梭指出:“主权者和人民只能有一个共同的利益,以便国家机关的一切活动都永远以共同的福祉为宗旨,而要做到这一点,就必须人民和主权者彼此视为一体。”这表明卢梭
- A. 主张社会阶级的平等  
B. 倡导代议制民主制  
C. 强调分权制衡的原则  
D. 宣扬遵从社会契约

34. 列宁在1918年宣布:“在所有的艺术中,电影对于我们是最重要的。”1919年,苏俄宣布电影企业国有化,隶属于教育人民委员会,并为训练干部和培养研究人员成立了国立电影大学。这反映出当时的苏俄
- A. 注重发挥新经济政策的效能  
B. 强调电影不能脱离广大群众  
C. 重视艺术为苏维埃政权服务  
D. 利用电影业推动工业化建设
35. 美国的马歇尔计划规定:受援国进口物资后,须在对等基金账户中存入人与美元总花费等额的本国货币资金,而受援国对于对等基金账户中资金的使用,必须征得美国方面的同意。美国此举意在
- A. 扩大冷战的范围  
B. 扭转美国贸易赤字  
C. 构建美元的霸权  
D. 恢复西欧社会经济

二、非选择题:共160分。第36~42题为必考题,每个试题考生都必须作答。第43~47题为选考题,考生根据要求作答。

(一)必考题:共135分。

36. 阅读图文材料,完成下列要求。(22分)

品牌便利店指统一形象标识、统一门店管控、统一商品采购、统一物流配送等,以经营即时性商品或服务为主的小型零售店,其第一宗旨是满足便利性需求,主要分布于居住社区和公司办公区等周边地区。近年来,安徽省合肥市中心城区品牌便利店增长迅速,随着社会发展,其消费群体占比发生较大变化。图1示意合肥市中心城区品牌便利店分布,图2示意品牌便利店不同密度区周边居住社区与公司办公区占比。



图1

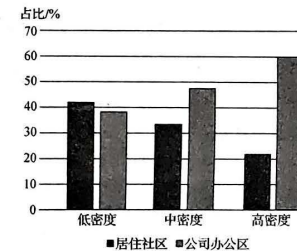


图2

- (1) 据图1描述合肥市中心城区品牌便利店空间分布特征。(6分)
- (2) 指出品牌便利店密度变化与居住社区、公司办公区占比的关系并说明原因。(6分)
- (3) 推测近年来合肥市中心城区品牌便利店增长迅速的原因。(6分)
- (4) 推测中心城区品牌便利店老年消费群体的变化趋势,并说明原因。(4分)

37. 阅读图文材料,完成下列要求。(24分)

塔尔煤田位于巴基斯坦东南部塔尔沙漠附近,是巴基斯坦迄今发现的最大煤区。由我国企业承建的巴基斯坦塔尔煤田煤电一体化项目是共建“一带一路”的重要组成部分——中巴经济走廊优先实施的能源领域重点项目,包括露天煤矿和燃煤电站两部分。在建设过程中,我国企业始终坚定不移践行绿色可持续发展的战略要求,真正实现了“建一个工程、树一座丰碑、造福一方百姓”。2023年2月,塔尔煤田一区块煤电一体化项目正式进入商业运营。如图示意巴基斯坦塔尔煤田地理位置。



- (1) 简述有利于塔尔煤田煤电一体化项目开发的社会经济条件。(6分)
- (2) 指出该项目建设过程中可能遇到的自然障碍。(6分)
- (3) 分析该项目建设及运营过程中可能出现的环境问题。(6分)
- (4) 说明塔尔煤田煤电一体化项目可以“造福一方百姓”的原因。(6分)

38. 阅读材料,完成下列要求。(14分)

中国坚持以高水平开放促进高质量发展,为世界经济复苏发展注入动力。2022年全年我国服务进出口总额59801.9亿元,同比增长12.9%。其中服务出口28522.4亿元,同比增长12.1%。

服贸会是中国扩大开放、深化合作、引领创新的重要平台。2022年服贸会新设面积达1.67万平方米的环境服务专题展,全面展示生态环保、绿色节能技术和应用;共达成各类成果1339个,多个成果涉及数字服务贸易,有效推动了全球服务贸易复苏和跨境电子商务快速发展;展示的个人电子等消费新趋向,将引领中国服务消费趋势,为各国企业积极融入中国服务大市场提供全方位机遇。中国愿同世界各国一道,坚持普惠包容、合作共赢,不断放宽服务领域市场准入,提高服务贸易开放水平,努力构建高标准服务业开放制度体系,携手促进开放共享的服务业高水平发展。

结合材料,运用经济生活知识,分析我国是如何以服务业高水平开放促进高质量发展的。

39. 阅读材料,完成下列要求。(12分)

近年来,浙江省积极落实中央有关促进共同富裕的战略部署,坚持以高质量发展建设共同富裕示范区为总牵引,用好“金字招牌”,扛起政治责任,通过共同奋斗把“蛋糕”做大做好,通过制度安排把“蛋糕”切好分好。

浙江省人大制定了《高质量发展建设共同富裕示范区促进条例》,各级政府加强部署落实,以推进共同富裕为总抓手撬动各领域改革;省政协把共同富裕纳入重点履职课题,深入全省多地开展专题调研,面向社会开展“我为高质量发展建设共同富裕示范区建一言”活动,组织全省各级政协委员开展网络主题议政,共有2.1万多名委员和界别群众参与,提出意见建议3万余条;社区作为参与的基层组织者,省各地社区将治安综合治理、社会矛盾的化解以及优秀传统文化融入基层社区治理。

浙江省推进共同富裕示范区建设彰显了社会主义民主政治的优势。结合材料,运用政治生活知识加以说明。

40. 阅读材料,完成下列要求。(26分)

没有社会主义文化繁荣发展,就没有社会主义现代化。在多元化的社会,人们的精神文化需求呈现出多样化、多层次、多方面的特点,影视剧、综艺类节目也更加丰富多彩。

“十四五”时期是开启全面建设社会主义现代化国家新征程的第一个五年,也是推进社会主义文化强国建设的关键时期。党中央、国务院把文化建设放在全局工作的突出位置。为在新的历史起点上进一步推动社会主义文化繁荣兴盛,建设社会主义文化强国,2022年8月,中共中央办公厅、国务院办公厅印发了《“十四五”文化发展规划》,提出了“十四五”时期文化发展的目标任务。

2023年春节期间,一大批电视剧和网剧上映播出,某反黑刑侦剧以不可阻挡之势成功成为“开年剧王”。该剧以近年来扫黑除恶常态化、政法队伍教育整顿为政策背景,围绕一系列刑事案件,对敏感话题进行了大胆深入的探讨。剧情环环相扣,步步惊心,涉及关键问题不含糊、不躲避。如同一面镜子,映照出那个时代曾经真实存在过的社会痛点、管理难点、舆论热点,激发起观众的共鸣。

(1)结合材料,运用整体与部分的知识,说明在现代化建设中重视文化建设的原因。(12分)

(2)有人认为,只要反映现实生活的文创作品就能激起观众的共鸣和认同。运用文化生活知识对此进行评析。(10分)

(3)请就政府如何更好地满足人民群众的精神文化需求提两点建议。(4分)

41. 阅读材料,完成下列要求。(25分)

材料一

文艺复兴和宗教改革之后,劳动对市民阶层的形成、壮大和社会财富创造发挥着越来越大的作用。劳动越来越引起哲学家和思想家们的关注和重视。英国教育思想家洛克在其《贫穷儿童劳动学校计划》一书中第一次提到“劳动学校”这一机构。洛克认为,“劳动人民的孩子是教区的一种经常性负担”,劳动学校是为了救济贫穷儿童而设置的机构。“劳动学校”中3-14岁的儿童实行强迫劳动,并且允许附近的匠人从中招收学徒。与洛克同一时期的英国经济学家贝勒斯在1695年发表了《关于创办一所一切有用的手工业和农业的劳动学院的建议》,提出创办适合贫困儿童的学校,贫困儿童在手工业和农业活动的过程中接受教育,在创造社会价值的同时实现人生的成长。

——摘编自方亮《劳动教育的历史变迁与时代内涵》

材料二

1939年毛泽东提出了“发展生产,自力更生”的口号,呼吁边区各群体广泛开展劳动。同年,边区教育的工作方针与计划对加强学生生产劳动做出规定:“每个小学必须种地;种地来源主要是开荒或与附近群众协商办理;所有收获一部分作公用;生产劳动中注意方法和工具的研究”“还在初小和高小学段都设有‘劳作’课程”。学校的劳动不仅仅面向学生,还要求教员积极参加,发挥好模范带头作用。边区政府积极鼓励先进生产者,1939年4月1日发布的《陕甘宁边区人民生产奖励条例》规定,对于“生产运动具有特殊成绩者”,可授予“劳动英雄奖章或奖状”这一荣誉。经过了这一阶段的劳动教育,边区人民群众在政治上、经济上和思想觉悟上取得了很大成绩。

——摘编自韦统义、史钰《陕甘宁边区开展劳动教育的历史逻辑及其发展脉络》

(1)根据材料一,概括近代西方社会的儿童劳动教育思想,并结合所学知识分析上述思想提出的历史背景。(12分)

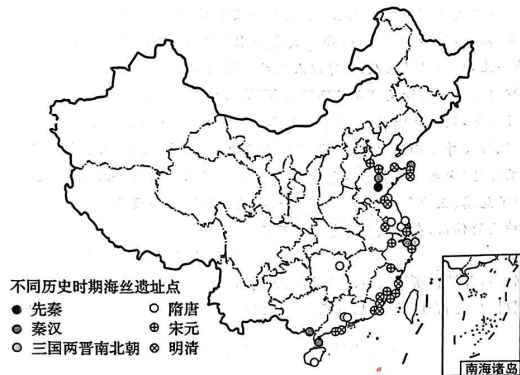
(2)根据材料二并结合所学知识,概括抗战时期我党提出的劳动教育的特点及影响。(13分)



42. 阅读图文材料,完成下列要求。(12分)

材料

随着国家“一带一路”倡议的提出,海上丝绸之路保护和申遗成为重大文化举措。如图为选取我国 85 处申遗点为样本绘制的海上丝绸之路申遗点的空间分布图。

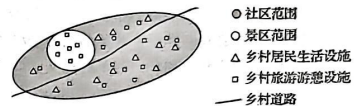


提取材料信息并结合所学知识,围绕“中国海上丝绸之路主要遗址点(申遗点)的时空分布”这一主题,自行拟定一个论题,并进行简要阐述。(要求:论题明确,持论有据,表述清晰。)

(二)选考题:共 25 分。请考生从 2 道地理题、3 道历史题中每科任选一题作答。如果多做,则每科按所做的第一题计分。

43. [地理——选修 3:旅游地理](10 分)

乡村旅游社区化指依托乡村丰富的景区旅游资源,将乡村旅游产业和活动融入当地社区社会 and 经济发展,两者相互嵌入,呈现村落或社区旅游化、旅游在地化的开放式一体化特征。白沙村位于浙江省杭州市临安区太湖源镇最北部,白沙村旅游业起步于 20 世纪 90 年代,是临安区重点打造的“村落景区”,以农家乐、民宿、生态度假为主导,是乡村旅游社区化发展的典型。如图示意乡村旅游社区化模式。



简述白沙村乡村旅游社区化发展的有利条件及其对乡村振兴的意义。

44. [地理——选修 6:环境保护](10 分)

内蒙古自治区巴彦淖尔市乌拉特前旗位于贺兰山与阴山之间的季风通道,是国家生态安全战略格局中“北方防沙带”的重要组成部分,该地气候干旱,矿产资源丰富。2022 年 3 月,中央生态环境保护督察组发现,乌拉特前旗矿山开采长期无序发展,大面积露天开采,生态破坏严重,越界开采等违法违规问题突出,近 3 万亩(1 公顷=15 亩)荒漠草原被违法侵占,生态修复难度极大。

说明乌拉特前旗生态修复难度极大的原因,并提出合理的治理措施。

45. [历史——选修1:历史上重大改革回眸](15分)

材料

春秋时期礼崩乐坏,针对郑国“国小而逼,族大无多”,子产全力整顿国家的政治秩序。《左传·昭公六年》云:“三月,郑人铸刑书。”按照周制,“野人”是征服者的战利品,作为“无禄于国者”,没有和国人同等的社会权利。作战军赋由国人来筹措,野人无需纳赋。子产冲破阻力,明确国人与野人都有纳赋的义务,“丘”是野人的居民区域规划单位,以丘为单位,国家向野人征集赋税和兵源。子产“作封疆”使得新耕土地“并入了郑国的日常行政体系,在他们的土地上征收赋税”。子产强调“学”的必要性,强调能力和才干的重要性。

——摘编自姚晓盈《子产的治国理政思想及其践行》

- (1)根据材料并结合所学知识,概括春秋时期子产改革的内容。(7分)
- (2)根据材料并结合所学知识,简评春秋时期子产改革的意义。(8分)

46. [历史——选修3:20世纪的战争与和平](15分)

材料

1965年,日美两国政府首脑会见,双方进一步强调要加强日美在亚洲问题上的密切合作。同年,日本秘密派遣28艘大型登陆舰,为侵越美军送弹药。1966年,日本外相向苏联外长传达了美国“对和平的积极态度”。紧接着,佐藤首相委派横山正幸访问了法国、波兰等23个国家,探索实现越南和平的条件。美国利用日本作为侵越军事基地的行为得到了日本政府的默许。顺应美国的要求,日本在积极地承担着援助国义务。1968年,日本自民党政府决定自动延长《日美安保条约》。而民社党虽然支持《日美安保条约》,但要求“把美军在日本的长期驻扎改为一旦有事的驻扎,并提出修改安保条约”的内容。佐藤首相曾向尼克松提出“太平洋新时代”,意图寻找当前与日本经济大国相对应的外交战略。

——摘编自冯圆《论越南战争对日美同盟的影响》

- (1)根据材料并结合所学知识,概括越南战争期间日本对美国的帮助。(7分)
- (2)根据材料并结合所学知识,分析越南战争对日本的影响。(8分)

47. [历史——选修4:中外历史人物评说](15分)

材料

姚思廉(557—637),字简之,唐初著名的史学家。其父姚察,字伯审,励精学业,闻见该博,为当时儒者所称。思廉之叔父姚最,字士会,博通经史,尤好著述。思廉少受汉书于其父,能尽传家业。后为代王侗侍读。入唐,为秦王府文学馆学士,不久迁太子洗马。据《贞观政要》卷二《纳谏》记载:“贞观七年(633年),太宗将幸九成宫,散骑常侍姚思廉进谏曰:‘陛下高居紫极,宁济苍生,应须以欲从人,不可以人从欲。然则高宫游幸,此秦皇、汉武之事,故非尧、舜、禹、汤之所为之。’言甚切至。”在姚思廉撰成《梁书》《陈书》之前,有关梁、陈两朝的史著,各种门类已相当齐备,姚思廉撰写的《梁书》《陈书》较为全面系统地记录了梁、陈两代的政治、经济、军事、文化、外交等方面的史实,保留了大量的诏敕、奏章、文告、书信等珍贵的文献资料。梁、陈二书,尤其是《梁书》,作者远追史(《史记》)、汉(《汉书》)遗风,采用散文体写史。姚思廉的史著,赞颂了范缜、王神念无神论者的思想和行为,保存了《神灭论》,使之免遭焚毁,客观上起到传播无神论的作用,在古代思想史上功不可没。

——摘编自陈表义《姚思廉及其〈梁书〉〈陈书〉浅论》

- (1)根据材料并结合所学知识,概括姚思廉成功修撰《梁书》《陈书》的原因。(9分)
- (2)根据材料并结合所学知识,分析姚思廉修撰《梁书》《陈书》的特点。(6分)



## 关于我们

自主选拔在线是致力于提供新高考生涯规划、强基计划、综合评价、三位一体、学科竞赛等政策资讯的升学服务平台。总部坐落于北京，旗下拥有网站（[网址：  
www.zizzs.com](http://www.zizzs.com)）和微信公众平台等媒体矩阵，用户群体涵盖全国 90% 以上的重点中学师生及家长，在全国新高考、自主选拔领域首屈一指。

如需第一时间获取相关资讯及备考指南，请关注**自主选拔在线**官方微信号：[zizzsw](https://www.zizzs.com)。



 微信搜一搜

 自主选拔在线