

# 贵州省 2023 年普通高等学校招生适应性测试

## 文科综合

### 注意事项：

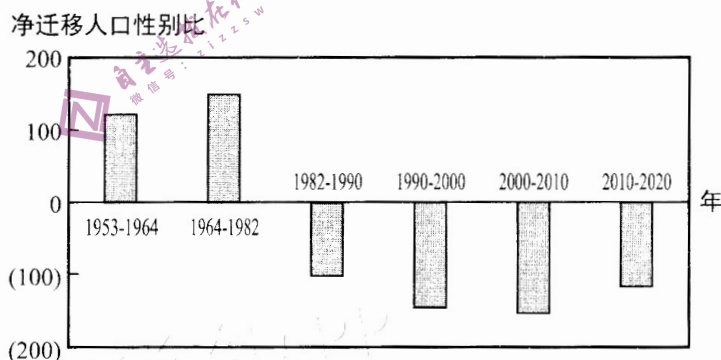
1. 答卷前，考生务必将自己的姓名、准考证号填写在答题卡上。
2. 回答选择题时，选出每小题答案后，用铅笔把答题卡上对应题目的答案标号涂黑。如需改动，用橡皮擦干净后，再选涂其它答案标号。回答非选择题时，将答案写在答题卡上。写在本试卷上无效。
3. 考试结束后，将本试卷和答题卡一并交回。

一、选择题：本题共 35 小题，每小题 4 分，共 140 分。在每小题给出的四个选项中，只有一项是符合题目要求的。

海外仓是跨境电商为提升订单交付能力在国外建立的仓储物流节点，通常具有货物储存、本地配送及售后服务等功能。我国某大型跨境电商 J 企业在中东地区的首个海外仓，于 2020 年在迪拜的杰贝阿里港建成。据此完成 1~2 题。

1. 除市场外，影响 J 企业在中东地区首个海外仓选址的主要因素是  
A. 土地租金      B. 交通条件      C. 物流技术      D. 售后服务
2. 与国内直接发货相比，迪拜海外仓可以  
A. 预测市场需求      B. 减少仓储费用  
C. 加快产业转型      D. 降低配送成本

净迁移人口指某地区一定时期内迁入人口数与迁出人口数之差。净迁移人口性别比 = 净迁移男性人口数 / 净迁移女性人口数 × 100。图 1 为 1953—2020 年东北三省净迁移人口性别比的变动情况。据此完成 3~5 题。



注：横轴以上表示净迁入，横轴以下表示净迁出

图 1

3. 据图可以推断出，东北三省  
A. 1953—1964 年女性人口大量迁出      B. 1990—2000 年几乎没有人口迁入  
C. 2000—2010 年迁出人口男性居多      D. 2010—2020 年人口迁出数量减少

4. 东北三省 1953—1982 年净迁移人口性别比较高主要原因是
- A. 传统重工业发展速度较快      B. 棉纺工业在全国占比大  
C. 随迁儿童性别比相对较高      D. 女性人口平均寿命较长
5. 近年来, 东北三省迁往京津冀地区的人口比长三角地区多。主要是因为
- ①与长三角地区空间距离较远      ②长三角地区就业机会减少  
③与京津冀地区地域文化相似      ④京津冀地区经济更为发达
- A. ①③      B. ①④      C. ②③      D. ②④

石冰川是由岩石碎块和冰体组成并沿谷地或山坡缓慢移动的混合物, 常见形态有舌状和叶状等。石冰川是高寒山地环境下的产物, 对研究全球气候变化具有重要意义。图 2 示意石冰川结构。据此完成 6~8 题。

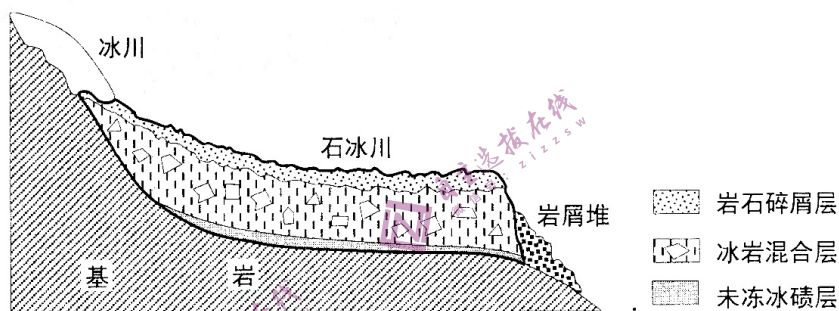


图 2

6. 影响石冰川形态的主要因素是
- A. 纬度位置      B. 海陆位置      C. 冰岩比重      D. 地形地势
7. 岩屑堆的形成过程是
- ①冰川运动      ②冰体融化      ③碎屑堆积      ④吸纳碎屑
- A. ②①③④      B. ④②①③      C. ①④②③      D. ③④①②
8. 石冰川受气温变化的影响弱于冰川, 是因为石冰川
- A. 分布地区太阳辐射弱      B. 内部冰体的储量较少  
C. 表层岩石碎屑隔热好      D. 前端植被调节气温强

纵向岭谷区以其南北向发育的巨大山系和深切河谷, 构成了世界范围内独特的高山峡谷景观, 具有独特的生物多样性分布格局。图 3 示意部分纵向岭谷区。据此完成 9~11 题。

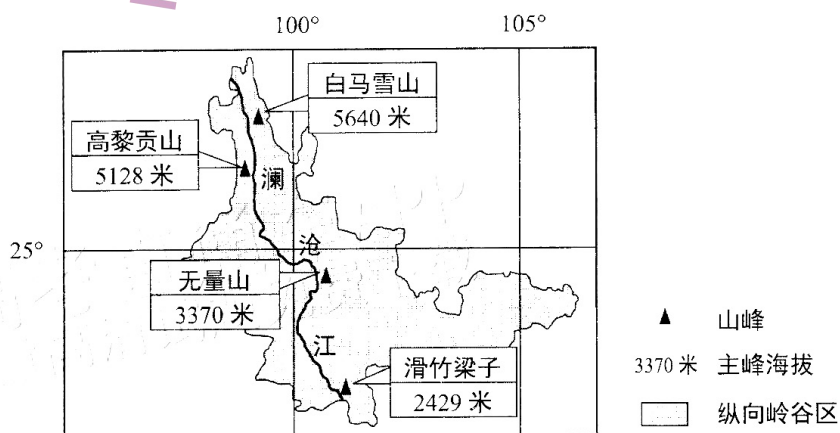
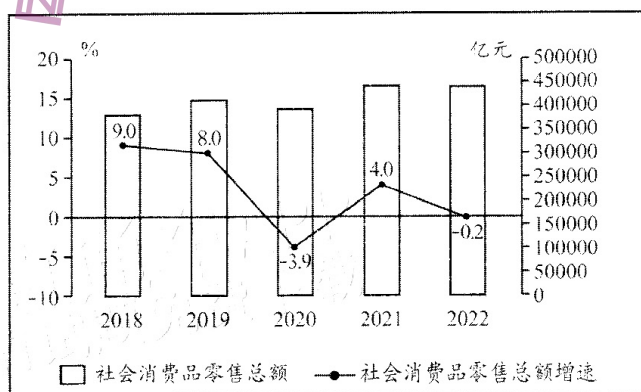


图 3

9. 白马雪山低海拔和高海拔地区物种丰富程度较低，主要影响因素分别是  
A. 纬度、坡向  
B. 水分、热量  
C. 光照、坡度  
D. 河流、土壤
10. 与无量山相比，高黎贡山  
A. 纬度较高，物种丰富程度低  
B. 相对高度大，物种丰富程度高  
C. 距海较远，物种丰富程度低  
D. 山地坡度小，物种丰富程度高
11. 下列山地的主峰中，年昼长总时数最少的是  
A. 滑竹梁子  
B. 无量山  
C. 高黎贡山  
D. 白马雪山
12. 2022年2月至2023年2月，人民币对美元的汇率中间价（人民币元/100美元）由635.69振荡走高至679.05，这对我国对外经济造成重要影响。若不考虑其他因素，下列推导正确的是  
A. 人民币升值→中国企业在美国投资成本下降→有利于中国企业在美国投资  
B. 人民币贬值→中国企业在美国投资成本上升→不利于中国企业在美国投资  
C. 美元升值→中国商品在美国市场的价格下降→不利于中国商品出口美国  
D. 美元贬值→美国商品在中国市场价格上升→有利于中国进口美国商品
13. 2022年，央企改革重点围绕“突出实业、聚焦主业、做精一业”的目标，深入开展企业间同一业务或同质业务整合，推动资源不断向主业企业、优势企业、“链长”企业集中，加快国有资本在粮食供应、人工智能、新能源等重点领域和新兴产业上布局，培育出具有全球竞争力的世界一流企业。央企专业化整合有利于
- ①补齐短板弱项，加快国有资本规模扩张
  - ②优化关键布局，推动国有资本协同整合
  - ③做强做精主业实业，增强国有经济整体功能
  - ④推进混合所有制改革，提升企业核心竞争力
- A. ①②  
B. ①④  
C. ②③  
D. ③④
14. 图4是我国2018—2022年社会消费品零售总额及其增速变化走势。



数据来源：国家统计局

图 4

针对图中反映的问题，积极的应对办法是

- ①降低个税起征点，提振消费信心
- ②大力促进就业，稳定居民收入预期
- ③加大信贷扶持力度，鼓励超前消费
- ④创新消费场景，满足多样化消费需求

A. ①③                      B. ①④                      C. ②③                      D. ②④

15. 养老问题关乎民生，连着民心。2022年11月，个人养老金制度正式启动，该制度作为基本养老保险、企业年金和职业年金的补充，是政府政策支持、个人自愿参加、市场化运营的养老保险制度。实施个人养老金制度的主要目的在于

- ①完善养老保险体系，提升人民群众的幸福感
- ②应对老龄化现状，满足多层次养老保障需求
- ③加快资金周转速度，充实养老保障资金
- ④发挥政府决定作用，合理配置养老资源

A. ①②                      B. ①③                      C. ②④                      D. ③④

16. 上海是全过程人民民主重大理念的首提地，在地方立法实践中积极践行全过程人民民主。

- ❖ 某90后外卖小哥针对跑单赶时间引发交通事故的现象，提出交通安全的建议。建议内容在《上海市非机动车安全管理条例》中得以体现。
- ❖ 某初中生针对身边同学沉迷网络游戏、盲目追星的现象，提出了“对网络产品和服务提供者的责任要求”的有关建议，被写进了《上海市未成年人保护条例》修订案中。
- ❖ ……

普通人的“声音”入法

- ①体现了中国特色社会主义民主的广泛性、真实性
- ②旨在提高立法质量和水平，完善法律实施机制
- ③提高了公民的公共参与素养，增强其社会责任感
- ④说明了立法机关必须按照公民的建议安排工作

A. ①③                      B. ①④                      C. ②③                      D. ②④

17. 每个时代都有自己时代的标志性事件。党的二十大报告总结了新时代十年经历的“三件大事”：迎来中国共产党成立一百周年；中国特色社会主义进入新时代；完成脱贫攻坚、全面建成小康社会的历史任务，实现第一个百年奋斗目标。“三件大事”的历史性胜利告诉我们

- ①中国特色社会主义道路是人类社会发展的一般进程
- ②要坚持人民立场，依靠团结奋斗实现中华民族伟大复兴
- ③我国取得一切进步的原因在于破解了发展不平衡的难题
- ④中国共产党的领导是中国特色社会主义制度的最大优势

A. ①③                      B. ①④                      C. ②③                      D. ②④

18. 截至 2022 年底, 新疆伊犁哈萨克自治州巩留县已建成石榴籽书屋 102 个, 做到一个村(社区)一间书屋, 实现县、乡、村全覆盖。石榴籽书屋组织一系列经典诵读会、读书分享会, 并举办民族团结、乡村振兴等主题宣讲活动, 成为社区居民、乡村农牧民积极交流互动的重要平台。石榴籽书屋的建设
- ①为民族地区文化建设提供制度保障
  - ②凸显了民族区域自治制度的优越性
  - ③是铸牢中华民族共同体意识的生动实践
  - ④有利于促进民族平等、团结、共同繁荣
- A. ①②                      B. ①③                      C. ②④                      D. ③④
19. 中柬两国都拥有悠久历史和灿烂文化, 多年来, 中国积极参与吴哥古迹的保护和修复工作。2022 年, 中国援柬吴哥古迹茶胶寺修复项目实体移交, 两国表示将继续深化修复文物的工艺技术、古迹保护措施等方面的交流与合作。中柬携手开展文化遗产保护与修复
- ①有利于促进中柬文化的交流互鉴
  - ②旨在扩大中柬文化的影响力
  - ③赋予中柬传统文化新的时代内涵
  - ④有助于展现世界文化的多样性
- A. ①②                      B. ①④                      C. ②③                      D. ③④
20. 今年是毛泽东等老一辈革命家为雷锋同志题词 60 周年。雷锋精神的核心是信念的力量、大爱的胸怀、忘我的精神、进取的锐气。新时代, 在“向雷锋同志学习”的大潮中, 全国各地涌现出一大批先进人物, 有人笃定“做一颗永不生锈的螺丝钉”, 有人把有限的生命投入到无限的为人民服务中去……他们的行动
- ①是对社会主义核心价值观的生动诠释
  - ②是衡量中华优秀传统文化的价值尺度
  - ③说明雷锋精神是中华民族共同的精神标识
  - ④表明雷锋精神“活”在当代中国人的血脉中
- A. ①②                      B. ①④                      C. ②③                      D. ③④
21. 天体物理教科书中的“经典假设”——“恒星初始质量分布规律在宇宙各处及各个演化阶段是普适不变的”自 1955 年提出, 一直存在争议。2023 年 1 月, 中国科学院国家天文台研究员刘超团队借助郭守敬望远镜(LAMOST)等设施, 首次观测到恒星初始质量分布规律随着恒星金属元素含量和年龄发生了显著变化, 这一观测结果推翻了“经典假设”, 对天体物理学领域的多个研究产生了影响。由此可见
- ①认识的发展是一个不断用新认识否定已有认识的过程
  - ②认识是一个包含曲折性的前进上升过程
  - ③只有通过实践才能验证认识的真理性的
  - ④从认识到实践、从实践到认识的循环永无止境
- A. ①②                      B. ①④                      C. ②③                      D. ③④

22. 图 5 漫画《造谣的背后》启示我们在生活和工作中要

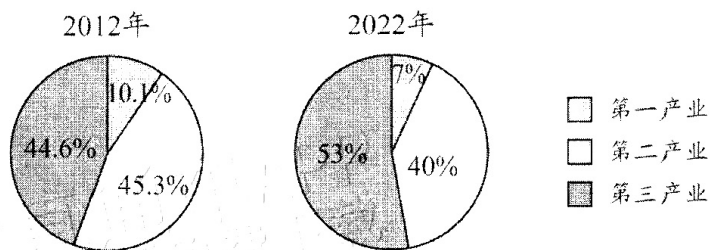


《造谣的背后》  
新华社发 徐俊 作

图 5

- ①发挥主观能动性，促进量变向质变转化  
 ②坚持矛盾观点，实现共性与个性的统一  
 ③把握联系多样性，厘清现象和本质的关系  
 ④深入调查研究，坚持一切从实际出发
- A. ①②                      B. ①④                      C. ②③                      D. ③④
23. 人民是胜利之本、力量之源。习近平总书记在多个场合反复强调，无论在什么时候、任何情况下，与人民同呼吸共命运的立场不能变，全心全意为人民服务的宗旨不能忘，群众是真正英雄的历史唯物主义观点不能丢。这是基于
- ①人民群众是推动社会历史发展的决定力量  
 ②人民群众是生产方式中最革命、最活跃的因素  
 ③人民群众能根据自己的意愿自由地创造社会历史  
 ④人民群众的根本利益与社会发展的客观规律是一致的
- A. ①③                      B. ①④                      C. ②③                      D. ②④
24. 目前国内发现最早的青铜剑，出土于内蒙古，大约属于商代早期。到商代晚期，长城一线及以北地区，青铜剑分布范围更广泛，且都呈现出北方草原民族的文化属性。中原地区直到商代晚期的殷墟遗址中，才出现少量青铜剑，形制非常接近北方地区的青铜短剑。材料可用来说明
- A. 商代冶铜技术源于北方草原文明                      B. 商代深受北方游牧民族军事压迫  
 C. 各地区社会经济发展水平的差异                      D. 中原与北方草原文化的交流状况
25. 《汉书·食货志》载：“在野曰庐，在邑曰里。五家为邻，五邻为里，四里为族，五族为党，五党为州，五州为乡……出入相友，守望相助，疾病相救，民是以和睦，而教化齐同，力役生产可得而平也。”材料说明乡里制度
- A. 是地方治理的自治制度                      B. 为基层百姓的利益服务  
 C. 有助于加强基层的治理                      D. 确保了汉代的长治久安

26. 北宋程颐说：“周公没，圣人之道不行；孟轲死，圣人之学不传……先生（指程颢）生千四百年之后，得不传之学于遗经，志将以斯道觉斯民。”他意在
- A. 指出改造儒学理论的方式                      B. 强调重建儒学信仰的使命  
C. 论证维护儒学正统的意义                      D. 说明启蒙民众的社会责任
27. 雍正设立军机处，找到了“最便于独揽乾纲的权力配置格局”。他也曾在朱批中明确指出，他的很多批示“不过据一时之见”，教诲性质居多，因此要求各地督抚“奉到朱批之后，若欲见诸施行，自应另行具本，或咨部定夺”。雍正上述做法的主要目的是
- A. 强化皇权并保障行政合理性                      B. 缓和满汉之间矛盾以巩固统治  
C. 完善权力配置提高行政效率                      D. 减少决策失误加强对地方控制
28. 为了筹备新政款项，清末许多省份将兴办巡警和学堂等经费摊派到田赋中，还加价征收旧捐税，开征名目繁多的新税，这使得清政府岁入从1901年的不到1亿两，到1909年超过3亿两。但同时，也导致了“民生已极凋敝”“几同竭泽而渔”的结果。据此可知这些措施
- A. 实现富国强兵挽救统治危机                      B. 增加财政收入推动经济发展  
C. 推动权力下移促进政体变革                      D. 加剧社会危机加速清廷覆亡
29. 1902年，蔡元培等人在上海发起成立中国教育会，激烈反对封建教育和奴化教育，以“教育中国男女青年，开发智识而增进其国家观念，以为他日恢复国权之基础”为目的，从事造就“共和的国民”工作。这反映出当时
- A. 以民主共和挽救民族危机成为国人共识  
B. 通过教育发动民众的理念已经深入人心  
C. 部分知识分子认识到启迪民智的重要性  
D. 改造传统文化以适应政体变革迫在眉睫
30. 全国抗战时期，太行根据地频遭自然灾害侵袭，晋冀鲁豫边区政府领导军民开展社会救济和生产自救，统一管理贸易和税收，发行地方本位币稳定金融，最终顺利渡过了最艰难的时期，提高了党的威望。晋冀鲁豫边区政府领导的抗灾救灾运动
- A. 仿行苏联的经济发展模式                      B. 为党领导经济建设积累了经验  
C. 增加了边区政府财政收入                      D. 代表了根据地社会全体的意志
31. 图6为我国2012年和2022年各产业增加值占国内生产总值的比重图。图中各产业增加值占比的变化反映出



——数据来源：国家统计公报

图6

- A. 经济体制改革深入推进                      B. 民众就业观念根本转变  
C. 市场调节取代计划调控                      D. 经济结构调整任务完成

32. 公元前 5 世纪，若有雅典公民被公民大会认为可能危害雅典，则会由公民大会投票，当票数达到规定数，此人将被流放出雅典十年。但在这十年中，若雅典需要，也可以随时由公民大会将此人召回。这反映雅典
- A. 力图根除氏族贵族势力                      B. 重视调节公民内部矛盾  
C. 民主制度的随意性较强                      D. 重视对城邦利益的维护
33. 有学者认为：率先开辟新航路的西班牙在享受掠夺美洲成果的同时，也在自食这个恶果，因而在与荷、英的殖民竞争中落败，短暂辉煌过后随即落幕。该学者意在强调
- A. 海军建设不足是西班牙失败的主因  
B. 荷、英两国较西班牙更有地理优势  
C. 镇压美洲的反抗使西班牙逐渐衰落  
D. 财富未能转化为西班牙变革的动力
34. 自由主义作为一种思潮，在 17、18 世纪早期资产阶级革命时代，重在强调公民的天赋人权，成为摧毁封建专制的锐利思想武器。工业革命后的自由主义更多是适应工业资本主义发展需要，要求国家实行自由放任的经济政策，反对国家干预经济活动。自由主义思潮内涵的变化说明
- A. 思想可以体现时代变迁                      B. 资本主义世界体系形成  
C. 资产阶级自由的虚伪性                      D. 工业资本主义发展壮大
35. 下表是苏联 1961~1982 年的经济增长统计表（年平均，%）。据表格可推知，该时期苏联

年份	1961~1965	1966~1970	1971~1975	1976~1980	1982
社会总产值	6.5	7.4	6.3	4.2	3.3
国民收入	6.5	7.8	3.2	1.0	2.6
工业总产值	8.6	8.5	7.4	4.4	2.8
农业总产值	2.2	3.9	2.5	1.7	4.0
基建投资	5.4	7.3	6.7	3.7	2.0

——摘自叶书宗《勃列日涅夫的十八年》

- A. 国民经济增速持续下滑                      B. 滞胀危机阻碍经济增长  
C. 传统经济体制趋于僵化                      D. 国民经济结构渐趋合理



二、非选择题：共 160 分。第 36~42 题为必考题，每个试题考生都必须作答。第 43~47 题为选考题，考生根据要求作答。

(一) 必考题：共 135 分。

36. 阅读图文资料，完成下列要求。(24 分)

伊真高原(图 7)地处印度尼西亚爪哇岛东部，遍布咖啡种植园，规模最大的四个咖啡种植园为政府拥有，主要雇佣当地农民进行生产。伊真火山口腹地有丰富的优质天然硫磺，吸引周围农民冒着生命危险深入采集(硫磺及酸性气体对人体危害极大)。近年来，随着伊真火山知名度不断提高，旅游业逐渐兴起，但游客数量仍然不多。

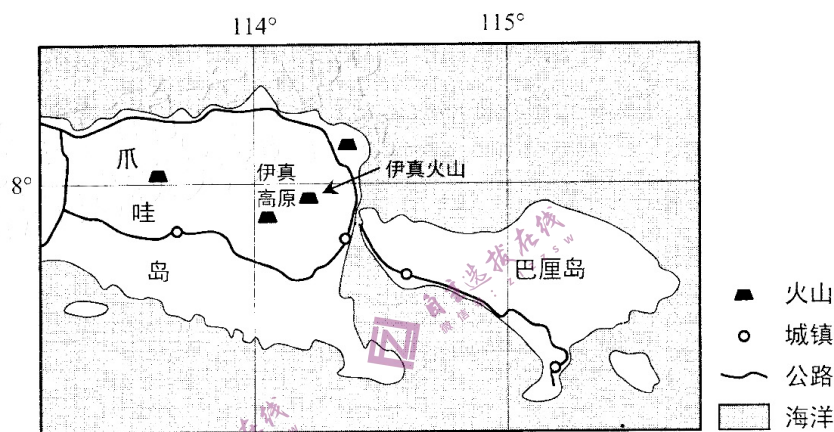


图 7

- (1) 分析政府拥有四大咖啡种植园对当地咖啡种植的影响。(8 分)
- (2) 说明周围农民深入伊真火山口采集硫磺的原因。(6 分)
- (3) 随着伊真火山知名度不断提高，指出周围农民可以改行从事的工作。(4 分)
- (4) 分析伊真火山当前游客仍然不多的原因。(6 分)

37. 阅读图文资料，完成下列要求。(22 分)

纳木错位于青藏高原中南部，以大气降水和冰雪融水补给为主，湖区蒸发量年内差异大，2 月份最小。近年来，受气候变化影响，纳木错水域面积变化明显，且存在较大的湖岸差异；流域内土壤侵蚀强度呈上升趋势，其中南部最为显著。图 8 示意纳木错流域。

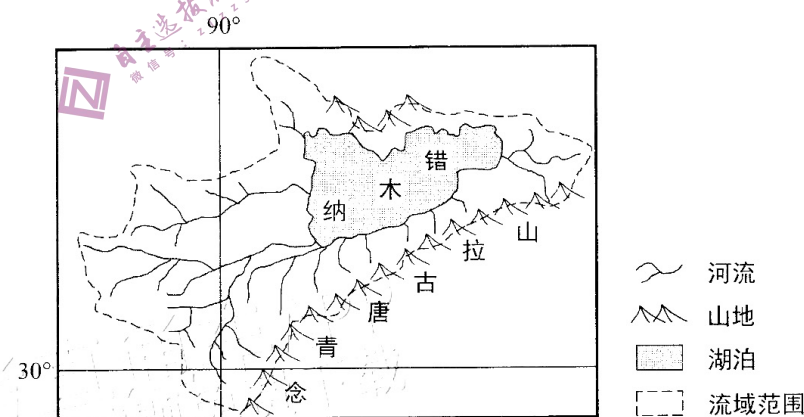
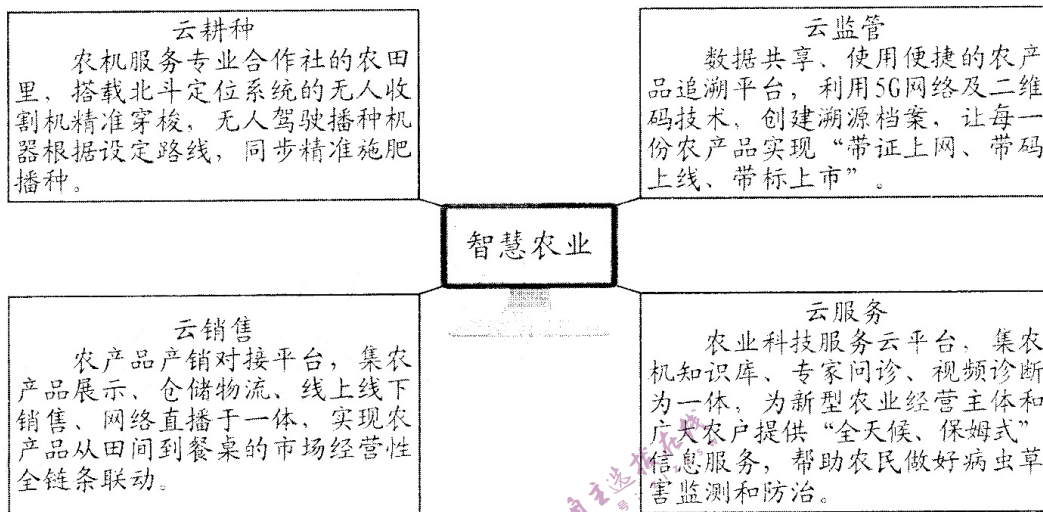


图 8

- (1) 分析纳木错湖区 2 月份蒸发量最小的原因。(8 分)
- (2) 指出近年来纳木错水域面积变化最明显的湖岸，并说明理由。(6 分)
- (3) 分析纳木错流域南部土壤侵蚀显著的原因。(8 分)

38. 阅读材料，完成下列要求。（14分）

智慧农业是农业信息化发展的高级阶段，是推进农业现代化，实现农业强国的重要抓手。



结合材料，运用经济生活知识，说明智慧农业对助力我国农业强国的积极意义。

39. 阅读材料，完成下列要求。（12分）

2023年是共建“一带一路”倡议提出十周年。

共建“一带一路”是习近平主席提出的一项重大国际合作倡议，是推动构建人类命运共同体的重要实践平台。共建“一带一路”从夯基垒台、立柱架梁到落地生根、持久发展，建设成绩斐然，硕果累累。

十年来，我国与151个国家、32个国际组织签署了200余份共建“一带一路”合作文件，涵盖投资、贸易、金融、科技、社会、人文、民生等领域，助力解决人类面临的绿色低碳发展、健康卫生合作、国际减贫等共同问题。中国与“一带一路”沿线国家共同努力，构建以新亚欧大陆桥等经济走廊为引领，以中欧班列、陆海新通道等大通道和信息高速路为骨架，以铁路、港口、管网等为依托的互联互通网络，完善陆海天网“四位一体”布局，帮助沿线国家和地区发展基础设施，广泛开展扶贫合作，增进沿线国家人民福祉。高质量共建“一带一路”，给世界提供了新的国际合作范式，真正成为造福世界的“发展带”、惠及人类的“幸福路”。

共建“一带一路”日益成为造福世界的“发展带”、惠及人类的“幸福路”。请结合材料，运用政治生活的相关知识加以分析。

40. 阅读材料，完成下列要求。（26分）

人因自然而生，人与自然是生命共同体。

中国自古以来就形成了丰富的生态智慧和传统文化，倡导“天人合一”、“道法自然”等思想。以习近平同志为核心的党中央着眼于不断满足人民日益增长的优美生态环境的需要，从新时代我国发展实际出发，站在人与自然和谐共生、人类社会长远发展的高度，对中华优秀传统文化思想进行了创造性转化、创新性发展，深刻阐明了人与自然是生命共同体，绿水青山就是金山银山，揭示了保护生态环境就是保护生产力、改善生态环境就是发展生产力的道理，形成了习近平生态文明思想，为发展和保护协同共进提供了新路径。

2016年财政部、自然资源部、生态环境部共同发起的山水林田湖草沙一体化保护和修复工程（简称“山水工程”），是贯彻落实习近平生态文明思想的重大举措。该工程倡导从生态系统整体性和流域系统性出发，追根溯源、系统治疗，尊重和增强生态系统的自我循环能力；在国土空间规划体系引领下开展生态保护修复，构建多主体、多学科、跨部门的协同机制，推动生态产品价值实现。目前，已完成土地综合整治面积约18万公顷，矿山生态修复面积约5万公顷，流域水环境治理面积约11万公顷，森林、草原植被恢复面积约22万公顷，防沙治沙188万公顷。2022年12月13日，“中国山水工程”入选联合国首批十大“世界生态恢复旗舰项目”。

党的二十大报告指出，人与自然和谐共生是中国式现代化的重要特征之一，要坚定不移持续实施重要生态系统保护和修复重大工程，实现中华民族永续发展。

- （1）结合材料并运用系统优化的方法，分析“山水工程”能交出优异答卷的原因。（12分）
- （2）结合材料并运用文化生活知识，说明贯彻习近平生态文明思想对于坚定文化自信的作用。（10分）
- （3）就“青年学生如何助力生态环境治理”提出两条思路。（4分）

41. 阅读材料，完成下列要求。（25分）

材料一

中国城市由传统城市的形态走向近代是从19世纪40年代开始的，一批有别于传统封建市镇的近代城市首先在通商口岸崛起。这使得中国城市在近代化过程中具有其自身的一系列特点：开埠成为中国城市近代化的起始点，为中国资本主义的发展和城市近代化拉开了帷幕；“因商而兴”是中国城市向近代化发展的基础，由开埠通商而产生的巨大商业力量，成为中国城市近代化发展中的新动力，商业功能日益成为近代城市的主要功能；由于兴办近代企业，使城市发展有了独立的经济保障和经济依托，从而加快了城市近代化的发展步伐。

——摘编自侯蕊玲《论中国近代城市产生发展中的几个特点》

## 材料二

巴黎……也配套建设了放射状的新道路，把火车站与商业中心连接起来，给人以一种处于新的秩序、清洁、高效和美观标准控制之下的印象。超过 165 公里的新街道——宽敞、笔直，并配有人行道、排水系统、照明设备和新种植的树木，街旁点缀着纪念性的新教堂、市场和行政办公楼。私人建筑、公寓住宅增加了六倍，其精致优雅前所未见，既具有外貌的端庄，也具有内部的舒适。一个世纪以前的改革者所梦寐以求的城市，现在如此完整地沐浴在一种进步的神采当中，甚至城市的下水道，也在特殊设计的观光车中，向游人开放。

——摘编自（美）巴里·伯格多尔著，周玉鹏译《1750~1890 年的欧洲建筑》

## 材料三

本次规划重点在于描绘面向未来 30 年的上海大都市圈发展的共同蓝图，以及各城市携手共进的路径举措。规划提出以下举措：共同塑造全球领先的创新共同体，打造全球领先的知识集群和高端制造集群，让都市圈成为全球最具创新影响力和经济活力的地区；……共同传承与彰显江南文化，共享高品质的服务，让人们拥有诗意的栖居环境。

——摘编自 2022 年《上海大都市圈空间协同规划》

- (1) 根据材料一并结合所学知识，分析中国近代城市发展的原因。（8 分）
- (2) 根据材料二并结合所学知识，概括巴黎城市特点并分析巴黎城市建设的影响。（10 分）
- (3) 根据上述材料并结合所学知识，谈谈你对城市发展的认识。（7 分）

42. 阅读材料，完成下列要求。（12 分）

### 材料

下表是联合国和世界银行对 1950~2100 年人口的估计与预测。

人口的估计与预测：1950~2100 年（单位：百万）

	1950 年 <sup>a</sup>	1980 年 <sup>a</sup>	2000 年 <sup>b</sup>	2025 年 <sup>b</sup>	2050 年 <sup>b</sup>	2100 年 <sup>b</sup>
不发达国家	1670	3284	4922	7061	8548	9741
发达国家	834	1140	1284	1393	1425	1454
全世界	2504	4424	6206	8454	9973	11195

注：a 估计，b 预测

——摘自（美）斯塔夫里阿诺斯《全球通史》

从表中提取至少两个历史信息，结合所学知识，分别加以说明（要求：明确提出信息，论证充分，史实准确，表述清晰。）

(二) 选考题：共 25 分。请考生从 2 道地理题、3 道历史题中每科任选一题作答。如果多做，则按每科所做的第一题计分。

43. [地理——选修 3：旅游地理] (10 分)

西安大唐不夜城是我国唯一以盛唐文化为背景、唐风元素为主线的步行街。自 2002 年以来，当地规划建设了多个广场、文化场馆、文化雕塑等，集游览、消费、观赏和休闲于一体，吸引了大量中外游客。2020 年大唐不夜城入选首批全国示范步行街。图 9 示意大唐不夜城的地理位置。

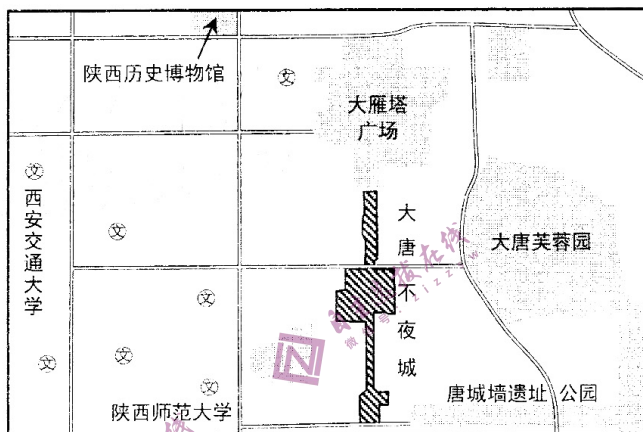


图 9

分析大唐不夜城入选首批全国示范步行街的优势条件。

44. [地理——选修 6：环境保护] (10 分)

墨西哥独有的蝾螈物种——钝口螈，由于水污染等问题，在野外已难觅踪迹。人们希望在未来的日子里，实验室的钝口螈能重回野生栖息地。为此，科学家们联手当地居民发起把墨西哥钝口螈带回栖息地的返土活动。

提出把墨西哥钝口螈带回栖息地的具体措施。

45. [历史——选修 1：历史上重大改革回眸] (15 分)

材料

1949 年 12 月 23 日至 31 日，全国第一次教育工作会议在北京举行。这次会议所作的决定要点如下：……发展教育要普及与提高相结合，大量举办业余补习教育，开展全国规模的识字运动。对原有老解放区的教育，以巩固与提高为主，关键是解决师资和教材问题，改进师范教育，加强教师轮训和在职学习，培养称职的教师。对新解放区的教育，坚持团结、教育、改造知识分子的政策，使他们逐步建立革命的人生观。逐步改革旧的教育制度、教育内容和教学方法。课程改革的重点是加强革命的政治学习。教学方法改革的重点在于反对书本与实际分离的教条主义，坚持理论与实际一致。必须改进考试制度。学校的管理，必须贯彻与实行民主集中制。应设法改善教育工作者的物质和政治待遇。

——整理自《中华人民共和国第一次全国教育工作会议的决定》

(1) 根据材料并结合所学知识，概括建国初期教育改革的的主要内容。(6 分)

(2) 根据材料并结合所学知识，分析建国初期教育改革的背景及意义。(9 分)

46. [历史——选修3：20世纪的战争与和平]（15分）

材料

1982年4月，阿根廷加尔铁里军政府出兵占领马尔维纳斯群岛，英阿马岛战争爆发。与英阿两方关系密切的美国最初采取中立调停的姿态。当美国要求阿军政府协助在西半球打击苏、古势力，受到阿根廷拒绝后，美国立即宣布放弃“中立”，声称全力支持英国。美国的支持对英国的最后胜利起到了重要的作用。

英美在政治经济和思想文化方面有一定相似性，更重要的是美国需要英国这一坚定盟友为其摇旗呐喊，英国也需要借助美国的庇护支撑大国门户。他是美国的重要支持者，一个忠实的盟国，一个不可或缺的军事基地和极为重要情报活动中的一个亲密伙伴。

——摘编自彭俊《从马岛战争看英美特殊关系的特质》

- (1) 根据材料并结合所学知识，概述马岛战争中美国支持英国的原因和实质。（9分）
- (2) 根据材料并结合所学知识，简析美国支持英国所产生的影响。（6分）

47. [历史——选修4：中外历史人物评说]（15分）

材料

石玉书（1893~1973年），贵州省金沙县平坝乡人。自幼聪敏好学，成绩优良。少时见亲属因病早逝，立志学医。研读《黄帝内经》《伤寒论》《神农本草经》等中医经典及明清中医诸家著作，深得其精要。18岁时，打鼓新场瘟疫流行，死者不计其数，他竭力救治，设大锅煎药分发，疫情得以控制。他曾求教当地名医丁敬业，医术日益精湛。石玉书在贵阳开设群康药房，1939年药房被毁后，又筹资开设天生元药房，为民诊治疾病，直至贵阳解放。1956年，贵阳中医院成立任首任院长。贵阳中医学院成立后，转任附属医院院长。他在执教期间，治学严谨，善于启发学生独立思考。在理论上也有所创新，制方遣药有独到之处，在贵州中医界独树一帜。1963年，被贵州省卫生厅授予“贵州省著名中医师”称号。

——摘编自侯清泉《贵州历史人物》

- (1) 根据材料并结合所学知识，简析石玉书取得成就的原因。（9分）
- (2) 根据材料并结合所学知识，概括石玉书对贵州医学发展所作出的贡献。（6分）