

## 江西省赣抚吉十一校联盟体 2023 届高三联合考试(四月)文科综合试题 (本试卷满分 300 分,考试时间 150 分钟)

### 注意事项:

1. 答卷前,考生务必将自己的姓名、准考证号填写在答题纸上。
2. 回答选择题时,选出每小题答案后,用铅笔把答题纸上对应题目的答案标号涂黑。如需改动,用橡皮擦干净后,再选涂其他答案标号。回答非选择题时,将答案写在答题纸上。写在本试卷上无效。
3. 考试结束后,将本试卷和答题纸一并交回。

### 一、选择题:本题共 35 小题,每小题 4 分,共 140 分。在每小题给出的四个选项中,只有一项是符合题目要求的。

表 1 为 2010 年、2020 年西藏自治区各市(地区)人口数量及 2020 年人口密度(单位:人/ $\text{km}^2$ ),图 1 示意西藏自治区各地市位置。据此完成 1~3 题。

表 1

	2010 年人口数(万人)	2020 年人口数(万人)	2020 年人口密度(人/平方千米)
拉萨市	55.94	86.79	29.4
日喀则市	70.33	79.82	4.4
山南市	32.9	35.4	4.4
昌都市	65.75	76.10	6.9
那曲市	46.24	50.48	1.4
阿里地区	9.55	12.33	0.4
林芝市	19.51	23.89	2.0
西藏全区	300.22	364.81	3.0




图 1

1. 2010—2020 年西藏自治区各地市中人口密度增速最快的是  
A. 拉萨市      B. 日喀则市      C. 阿里地区      D. 那曲市
2. 影响 2010—2020 年拉萨人口数量变化的直接原因是  
A. 人口迁入数量大      B. 城镇化进程快  
C. 人口自然增长率高      D. 工业发展快

3. 阿里地区人口密度最低的直接原因是

- A. 地理位置偏远      B. 交通运输不便      C. 自然条件恶劣      D. 矿产资源匮乏

亚欧大陆对大气环流和气候的影响随季节而变化,基本可以划分为冬季型、夏季型及转换期。表2表示东亚—西北太平洋之间海平面气压场季节转换时间的经度差异(“正→负”表示海平面气压场由冬季型转变为夏季型,“负→正”表示夏季型转换为冬季型;“—”表示海平面气压场无明显的季节转换)。据此完成4~6题。

表2

经度	20°N 季节转换时间(候)		30°N 季节转换时间(候)		40°N 季节转换时间(候)		50°N 季节转换时间(候)	
	正→负	负→正	正→负	负→正	正→负	负→正	正→负	负→正
120°E	15	53	—	—	25	44	—	—
130°E	10	53	19	49	23	47	—	—
140°E	14	54	19	51	23	48	31	46
150°E	14	57	19	54	23	50	27	49

注:从1月1日开始,每5天1候,直至年终。图中的数值是指发生的时间,如15是指一年中第15候。

4. 东亚—西北太平洋海平面气压场由冬季型转夏季型的时间差异表现为

- A. 20°N 上转换时间各地差异小      B. 30°N 上转换时间各地差异大  
C. 40°N 上转换时间东晚西早      D. 50°N 上转换时间东早西晚

5. 东亚—西北太平洋海平面气压场

- A. 由冬季型转换为夏季型的时间随经度的变化较显著  
B. 由夏季型转换为冬季型的时间随经度的变化不显著  
C. 同一经线上纬度越高由夏季型转换为冬季型的时间越早  
D. 同一经线上纬度越高由冬季型转换为夏季型的时间越早

6. 推测东亚—西北太平洋的温压场

- A. 夏季气压场西高东低      B. 冬季气压场东高西低  
C. 冬季温度场西冷东暖      D. 夏季温度场西冷东暖

边石坝是在水池内水沿着固定边界形成的碳酸钙石坝,其生长发育程度可反映洞内古水文迁移状况。贵州省丹寨县金瓜洞是该区域规模较大的溶洞,洞内边石坝发育典型。图2从左到右示意金瓜洞边石坝发育过程。据此完成7~8题。




图2


7. 推测金瓜洞边石坝形成的过程是

- ①由水池内向外生长      ②由水池外向内生长  
③自上往下生长      ④自下往上生长  
A. ①③      B. ②④      C. ①④      D. ②③

8. 边石坝形成过程中,古水文环境

- A. 补给水源单一      B. 水流速度缓慢  
C. 水量由少变多      D. 水位保持稳定

印第安土坯房位于美国西南部海拔 4 000 米的落基山地区,彝族的土掌房位于云南省南部哀牢山区,两者均以宗族血缘关系为单位聚居,以土、木、石为材料,采用厚墙、小窗、密集式布局的高山平顶民居。据此完成 9~11 题。



印第安土坯房



彝族土掌房

图 3

9. 土坯房分布区的共同环境特征是
- A. 地形平坦      B. 降水丰富      C. 气候温和      D. 昼夜温差大
10. 两地民居采用密集式布局可以
- ① 防雨防潮      ② 保温隔热      ③ 抵御外侵      ④ 通风散热
- A. ①②      B. ③④      C. ②③      D. ①④
11. 两种民居屋顶采用平顶的方式, 主要作用有
- ① 绿化美化      ② 临时过道      ③ 贮存晾晒      ④ 防火防渗
- A. ①②      B. ③④      C. ②③      D. ①④
12. 2022 年 12 月 26 日, 根据环球银行金融电信协会(SWIFT)发布的人民币月度报告和数据统计, 11 月, 在基于金额统计的全球支付货币排名中, 人民币保持全球第五大最活跃货币的位置, 占比 2.37%。与 10 月相比, 人民币支付金额总体增加了 15.64%, 同期所有货币支付金额总体增加了 3.86%。这得益于
- ① 人民币地位不断提高, 能够在国际市场自由兑换    
 ② 国际社会用人民币作为结算工具的意愿增强   
 ③ 我国的开放政策以及跨境投资方式的多样化   
 ④ 我国企业经济效益提高, 能够规避投资风险
- A. ①③      B. ①④      C. ②③      D. ②④
13. 国内某知名手机企业, 在全力打造品牌手机的同时, 产品线扩展到了空调、电视、平衡车、电饭煲、净化器、净水器等十几个领域。某空调企业产品涉及空调、热水器、取暖电器、净化器、干衣机、除湿机等一系列生活电器。产品多元化发展战略有利于
- ① 拓宽市场需求, 培育利润新增长点      ② 分散市场风险, 降低产品投入成本   
 ③ 优化资源配置, 提高企业营利水平      ④ 延伸企业产业链, 增加商品价值量
- A. ①②      B. ①③      C. ②④      D. ③④
14. 随着“双减”工作的持续深入推进, 合规的教育培训类机构普遍能够依法依规运营, 但仍有个别机构和个人罔顾中央决策和法律法规, 牟求私利, 违规开展线上培训。为此, 教育部于 2022 年 9 月 24 日至 10 月 12 日对线上培训机构和网站平台组织开展了第 20 次巡查。由此可见
- ① 教育属于民生问题, 不能够完全让市场来调节   
 ② 政府要不断完善法规, 规范各类市场主体行为   
 ③ 市场经济具有自发性, 需要政府加强市场监管   
 ④ 市场经济的弱点, 决定各种违法乱纪无法解决
- A. ①②      B. ①③      C. ②④      D. ③④

15. 读图 4, 要想改变这一现状, 我国可采取的措施有




图 4

- ① 转变对外投资方式, 实施品牌化发展  
② 推进国内特色服务出口基地提质升级  
③ 推进供给侧改革, 大力发展实体经济  
④ 加大传统服务贸易领域数字化改造力度
- A. ①③      B. ①④      C. ②③      D. ②④
16. 自 2016 年起, 每年全国两会期间, 国务院办公厅都派出工作人员, 现场旁听代表委员团组审议讨论情况, 认真记录并及时回应代表委员的意见建议。2023 年全国两会期间, 国办主动适应新形势、落实新要求, 广泛吸纳反映代表委员意见建议, 加大转办回应力度, 进一步推动旁听工作拓面、提质、增效。这一做法
- ① 有利于提高政府决策科学化和民主化水平  
② 是政府坚持求真务实工作方法的生动体现  
③ 充分尊重了广大代表委员的决策权和表达权  
④ 说明人民民主是过程民主与成果民主的统一
- A. ①②      B. ①④      C. ②③      D. ③④
17. 巡视制度是党内监督的一项重要制度, 指中央和省(自治区、直辖市)党委, 按照有关规定, 通过建立专门机构、开展巡行视察, 对下级党组织和领导干部进行监督的制度。党的二十大报告提出, 健全党统一领导、全面覆盖、权威高效的监督体系, 发挥政治巡视利剑作用。我国的巡视制度
- ① 是加强对权力监督和制约的最有效手段  
② 有利于发现问题、发挥监督的震慑力  
③ 表明党具有刀刃向内、勇于自我革命的勇气  
④ 为加强党的建设提供了基本政治制度保证
- A. ①③      B. ①④      C. ②③      D. ②④
18. 2022 年 11 月 22 日, 国家主席习近平出席中国—东盟建立对话关系 30 周年纪念峰会并发表题为《命运与共 共建家园》的重要讲话。

表 3

我们摆脱冷战阴霾, 共同维护地区稳定;  
我们引领东亚经济一体化, 促进共同发展繁荣, 让 20 多亿民众过上了更好生活;  
我们走出一条睦邻友好、合作共赢的光明大道, 迈向日益紧密的命运共同体, 为推动人类进步事业作出了重要贡献……

中国和东盟共同走过的 30 年告诉我们

- ① 国际关系实现由竞争和冲突向合作转变      ② 国家交往应以双方共同利益为合作基础  
③ 中国积极践行独立自主的和平外交政策      ④ 中国和东盟推动国际秩序向多极化发展
- A. ①②      B. ①④      C. ②③      D. ③④

弥  
弥  
封  
封  
线  
线  
内  
内  
装  
装  
不  
不  
要  
要  
订  
订  
答  
答  
题  
题  
线

线  
◇  
答  
订  
要  
不  
装  
内  
线  
封  
封  
弥  
弥

19. 2022年12月7日,哥本哈根中国文化中心举办“哥本哈根雅集·大雪——茶艺与养生”主题活动,邀请40余位丹麦各界人士共同体验中国茶文化。当日,正值农历节气大雪,哥本哈根大雪纷飞,为本次雅集活动渲染出了雪中烹茶的美好意境。这一活动的举办可以
- ①增强对中华优秀传统文化的认同  
②促进对人类文明演进研究  
③促进世界文化发展和繁荣  
④增强中华文化国际影响力
- A. ①② ✓ B. ①③ C. ②④ D. ③④
20. 近年来,北京市东城区广大文艺工作者聚焦“主任务”、唱响“主旋律”、织密“服务网”,积极进取、开拓创新,在服务大局中展现东城风采,引导全区文艺工作者开展主题文艺演出、展览展示、交流培训、采风创作活动,用独特的文艺表现形式弘扬正能量、传递好声音,用精品力作讲好“东城故事”。可见,作为文艺工作者需要
- ①树立创新意识,打造优秀文艺作品孵化地  
②筑牢思想阵地,紧跟时代步伐创作精品力作  
③坚持“双百”方针,为繁荣文化市场做贡献  
④尊重市场经济运行规律,提升经济效益
- A. ①② B. ①④ C. ②③ D. ③④
21. 2022年11月2日,为科学开展乡村绿化美化,促进农村人居环境整治提升,国家林草局等研究制定并印发《“十四五”乡村绿化美化行动方案》,提出到2025年,全国平均村庄绿化覆盖率达到32%,建设一批具有地方特色的森林乡村、绿美乡村。从唯物论角度看,实现上述目标需要
- ①尊重自然界客观性,坚持一切从实际出发  
②解放思想、与时俱进,发挥意识能动作用  
③把对乡村人居环境的美好设想直接转化为现实存在  
④坚持共性与个性、普遍性与特殊性具体的历史的统一
- A. ①② B. ①④ C. ②④ D. ③④
22. 2022年12月15日,南京农业大学植物保护学院陶小荣教授团队最新成果,首次揭示病毒攻击植物激素受体有利自身侵染,植物则进化出了一种免疫受体模拟受攻击的激素受体,从而识别病毒、并激活免疫反应,研究揭示了植物免疫受体监控病毒靶向激素受体的全新机制。上述材料表明
- ①人们对事物的真理性认识只有通过实践才能获得  
②实践是认识发展的动力,推动人们的认识不断深化  
③日益完备的认识工具促进人类认识的发展  
④认识具有无限性,追求真理是一个永无止境的过程
- A. ①③ B. ①④ C. ②③ D. ②④
23. 2023年3月,十四届全国人大一次会议在北京召开。会议审议通过了国务院机构改革方案,以加强科学技术、金融监管、数据管理、乡村振兴、知识产权、老龄工作等重点领域的机构职责优化和调整,转变政府职能,加快建设法治政府。推进国务院机构改革
- ①旨在通过调整上层建筑巩固和发展经济基础  
②有利于更好发挥政府在经济社会发展中的主体作用  
③可以通过完善生产关系进一步解放和发展生产力  
④是党和国家自觉遵循社会发展规律做出的正确抉择
- A. ①② B. ①④ C. ②③ D. ③④
24. 西周时期,整个社会形成了一个基于血缘宗亲的伦理秩序。在该秩序下,宗族成员、宗族百姓将“亲亲”“尊尊”视为最基本的行为准则,履行符合自己身份的义务,以“孝”“友”“礼”“义”这些价值观来约束自己的行为。该伦理秩序

- A. 扩大了儒家伦理观念的影响  
B. 蕴含着“天下一家”的观念  
C. 有助于提升民众的文化素质  
D. 突出了“天人合一”的思想
25. 张家山汉简《二年律令》记载：汉初县令“辟除属吏”多从本县选择，长安、栎阳、洛阳等地县令，“辟除吏官在所郡及旁郡”。这一规定
- A. 有利于地方治理  
B. 导致了郡国割据  
C. 体现出汉承秦制  
D. 加强了中央集权
26. 中国古代石窟寺院盛行于 5—8 世纪的北魏至隋唐时期，寺院多依山崖开凿，窟前建造木构或仿木构的建筑，窟内雕刻或泥塑造像(如图 5 敦煌莫高窟泥塑造像)，形成了独具特色的石窟艺术。当时石窟寺院盛行主要由于



图 5

- A. 雕塑技术的突破  
B. 外来文化占主流  
C. 艺术审美力提高  
D. 佛教兴盛和传播
27. 唐代士人科举及第后，入仕还须经过吏部复试，即“释褐(换穿官服)试”，复试合格，也只授以九品小官。宋代免除唐代的吏部复试，唱名日即“释褐”，且初授官职从优，升迁快。特别是进士高科出身的，不几年位极通显者不乏其人。由此可见，宋代
- A. 文官政治得到进一步发展  
B. 放宽了高级官员的任用标准  
C. 士人入仕的愿望得以实现  
D. 克服了官吏升迁体制的弊端
28. 鸦片战争后，清政府以“施恩”心态对待条约关系，挪威等小国也与其签约，通过“一体均沾”轻易地获得英、法、美所获条约特权。同治八年(1869 年)签订的中英《新定条约》，以“中国允”“英国允”的方式首次确认了中英双方各自的利益和诉求。这一变化说明
- A. 天朝上国观念的消亡  
B. 民族意识的普遍觉醒  
C. 救亡图存思潮的盛行  
D. 近代外交意识的增强
29. 图 6 为民族资本家张謇从甲午战后到 20 世纪 20 年代左右创办的主要工业企业及其布局行为。据此推知，张謇的做法

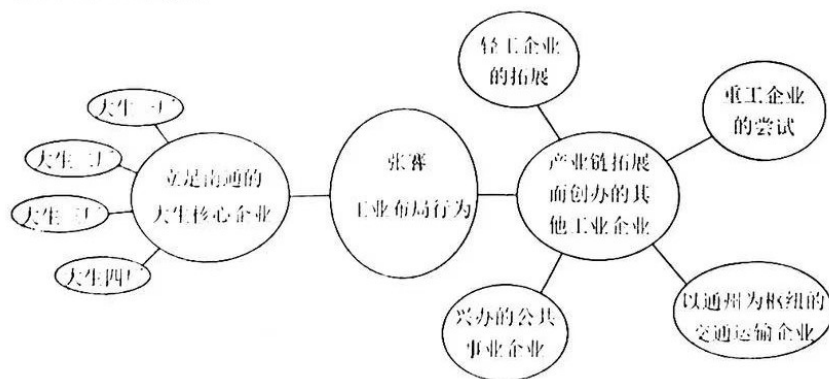


图 6

- A. 延续了洋务运动的企业经营理念  
B. 全面实现了实业救国的抱负  
C. 推动中国工业布局发生重大变化  
D. 致力于构建完整的经济体系

37. 阅读图文资料,完成下列要求。(24分)

青龙峡景区位于南太行山区向林州盆地的过渡地带,属高山峡谷地貌,断层岩壁直立,景区内上覆岩层以变质石英砂岩、灰岩等硬岩为主,下部以泥岩、页岩为主,近水平状的岩层被断层、节理切割。景区内冬末春初和夏季崩塌多发。图8景区内崩塌地貌形成过程,图中的“卸荷裂隙”是指由于地质作用和人工开挖使放和调整而形成的裂隙。

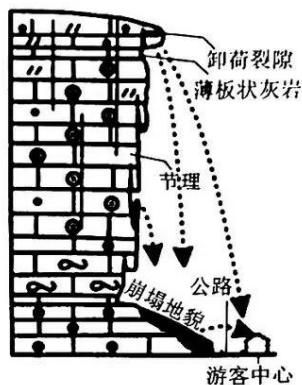


图8

- (1) 简述青龙峡景区高山峡谷地貌的形成过程。(6分)
- (2) 分析青龙峡景区的地貌、地质环境对崩塌地貌发育的影响。(6分)
- (3) 阐释该景区冬末春初和夏季崩塌多发的原因。(8分)
- (4) 说明崩塌地貌的发育对峡谷地貌的影响。(4分)

38. 阅读材料,完成下列要求。(14分)

2021年以来,在内外多重压力叠加冲击下,从宏观面上看,国内消费市场短期承压明显,其中商品零售和餐饮收入变化更大(见图9)。2022年12月召开的中央经济工作会议将“着力扩大国内需求”作为2023年经济工作首要任务,并敲定了具体路线,包括“支持住房改善、新能源汽车、养老服务等消费”。针对这几年受疫情影响,老百姓收入增长放缓、预期下降,不敢消费、不便消费,存钱避险倾向上升的情况,要把恢复和扩大消费摆在优先位置,采取强有力措施,增强消费能力,改善消费条件,增加消费场景,使消费潜力充分释放出来。

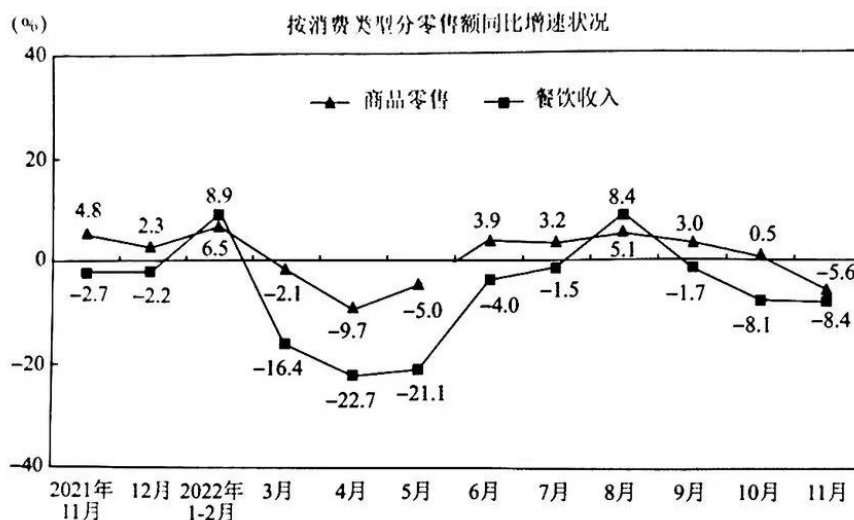


图9

结合材料,运用经济知识,分析我国国内消费变化状况及重视消费的原因;并针对当前我国消费现状说明国家可采取的措施。



39. 阅读材料,完成下列要求。(12分)

陝西榆林,一家日收入不超过50元的蔬菜粮油店因部分蔬菜被检验“不合格(规)”,当地监督管理部门根据有关规定,理直气壮地没收其违法收入20元,并对店主开出了6万6千元的“天价罚单”。成都温江区新开业的某建材经营部老板由于平时生意太忙,对财务办税了解甚少因此错过了申报期,导致逾期未申报。由于纳税人属于首次违反并在限期内进行了改正,且危害后果轻微,符合《税务行政处罚“首违不罚”事项清单》的规定,税务部门对该纳税人作出了不予处罚的决定。

行政执法设置了罚款,本意在于教育惩戒违法违纪的当事人,起警示威慑作用,“粗暴处罚”不应成为发展法治经济的借口,“温情执法”才是解决之道。国务院督查组对榆林“天价罚单”调查后指出,在当前经济形势下,市场监管部门在维护市场秩序的同时,更应该承担起保护市场主体的职责,不能过度惩罚,而应实行包容审慎监管。

结合材料,运用政治生活知识,说明为什么行政执法需要以“温情执法”来取代“粗暴处罚”。

40. 阅读材料,完成下列要求。(26分)

伟大事业孕育伟大精神,伟大精神引领伟大事业。革命精神是党和国家的宝贵财富。

革命精神包括老区精神、遵义会议精神、西柏坡精神、沂蒙精神、长征精神、抗战精神、红船精神、延安精神和井冈山精神等。这是无产阶级世界观和人民军队本质的一种表现,是人民军队克敌制胜的重要精神因素,也是人民群众战胜一切敌人、克服一切困难的强大精神力量。百年来,中国共产党始终秉持革命精神,在磨难挫折中成长,在风险挑战中壮大。为了推翻三座大山,无数英雄儿女前赴后继,在伟大斗争中用生命和鲜血印证了坚定理想信念、百折不挠的奋斗精神,践行了共产党人的革命理想和红船初心。当前,站在“两个一百年”的历史交汇点,开启全面建设社会主义现代化国家新征程中,我们更要牢记初心,传承革命精神,接续奋斗。

青年兴则国家兴,青年强则国家强。追求进步,是青年最宝贵的特质,也是党和人民最殷切的希望。新时代的广大青年,要做理想远大、信念坚定的模范,大力弘扬革命精神;要做刻苦学习、锐意创新的模范,带头立足岗位、苦练本领、创先争优;要做敢于斗争、善于斗争的模范,带头迎难而上、攻坚克难;要做艰苦奋斗、无私奉献的模范,带头站稳人民立场,脚踏实地、求真务实,吃苦在前、享受在后。

(1)结合材料,运用文化生活的知识,说明践行革命精神的时代价值。(10分)

(2)有人认为:新时代青年只要弘扬革命精神,就能实现人生的价值。结合材料,运用人生价

高三文科综合

值的知识对此进行评析。(12分)

- (3)日前,某班召开以“青年永远跟党走”的主题班会,请你为班会活动写一段发言提纲。要求在150字以内。(4分)

阅读材料,完成下列要求。(25分)

#### 材料一

15至18世纪,西方国家逐渐完成了在亚洲国际市场的贸易垄断布局,以欧洲为中心的国际分工体系初步形成。此时,明清的对外贸易政策总的趋势是内向保守的,以禁为主。实际上,随着政策的时宽时严,官方贸易甚至民间走私贸易从未间断,个别时期还出现了重大发展。几乎所有亚洲、欧洲、美洲的主要国家都与中国发生了直接贸易关系。中国输出品主要以丝锦织品、陶瓷、冶金制品等手工业品以及茶叶为主,而输入品的种类非常少。大量的贸易出超部分以海外白银流入的方式得到平衡。

——摘编自骆昭东《从全球经济发展的视角看明清对外贸易政策的成败》

#### 材料二

19世纪60年代至20世纪初,美国仍坚持从内战起实行的保护关税政策。随着海外扩张活动的加剧,美国商品的国际市场迅速扩大起来。除欧洲传统市场外,美洲一些国家成为美国商品的新市场。1900年,美国的出口比1860年增加了3倍,美国在世界对外贸易中所占的比重,也由1860年的第三位上升到第二位。1866年美国制成品和半制成品的出口仅占全部出口的16%,而原料则占72%的比例;到1914年,制成品和半制成品出口比例上升到48%,原料出口下降到40%。

——摘编自孙天竺《美国对外贸易政策变迁轨迹研究(1776—1940)》

- (1)根据材料,分别概括15至18世纪的中国与19世纪末20世纪初美国对外贸易的特点。(8分)
- (2)根据材料并结合所学知识,分析中美对外贸易呈现不同特点的背景。(12分)
- (3)根据材料并结合所学知识,简析19世纪60年代至20世纪初美国发展对外贸易的历史经验。(5分)

弥  
封  
线  
内  
装  
不  
要  
订  
答  
题  
线

12. 阅读材料,完成下列要求。(12分)

1. 京师同文馆庚午年岁考题  
2. 京师同文馆教师美国人 丁勉良  
3. 算学题  
4. 弧三角三边甲乙甲丙乙丙求甲角  
5. 用矢较法若何用开平方法得半角正弦  
6. 法若何二法熟繁熟简  
.....

京师同文馆庚午年岁考题  
京师同文馆教师美国人 丁勉良  
算学题  
弧三角三边甲乙甲丙乙丙求甲角  
用矢较法若何用开平方法得半角正弦  
法若何二法熟繁熟简  
.....

京师同文馆庚午年岁考题(1870年)

欽定大學堂章程

第一節 中國聖經垂訓以倫常道德為先外國學堂於知育體育之外尤重德育中外立教本有相同之理今無論京外大小學堂于修身倫理一門視他學科更益注意為培養人才之始基

京師大學堂章程  
第一章 全學綱領  
第一節 京師大學堂之設所以激發忠愛  
開通智慧振興實業謹遵此次諭旨端正  
趨向造就通才為全學之綱領  
第二節 中國聖經垂訓以倫常道德為先  
外國學堂于知育體育之外尤重德育中  
外立教本有相同之理今無論京外大小  
學堂于修身倫理一門視他學科更益注  
意為培養人才之始基

《京師大學堂章程》(節選)

圖 10

根據材料並結合所學知識,圍繞“晚清教育”自行擬定一個具體論題,並進行闡釋。(3分)  
求:論題明確,持論有據,邏輯清晰。

(二)选考题:共 25 分。请考生从 2 道地理题、3 道历史题中每科任选一题作答。如果多做,则每科按所做的第一题计分。

36. [地理——选修 3:旅游地理](10 分)

“皖南川藏线”指安徽南部地区可媲美美国内著名旅游线路川藏线的一条自驾游路线,东起宁国市的青龙乡,西至泾县的蔡村镇,全长 120 千米。沿途既有皖南山水的精华,又有类似 318 川藏线的艰险,被热爱自驾游和摄影的玩家们发现后,将此条路线喻为“江南天路”“皖南 318”。图 11 示意“皖南川藏线”路线。



图 11

说明影响皖南川藏线吸引大量游客自驾游的主要原因。

44. [地理——选修6:环境保护](10分)

河北省邢台市城区地处太行山脉南段东麓和华北平原交汇处,年平均降水量为485 mm,平均风速为1 m/s。邢台市以金属冶炼、煤电、非金属矿物制品等为主导产业,大气污染物中PM<sub>2.5</sub>、PM<sub>10</sub>、SO<sub>2</sub>、氮氧化物、二氧化硫等污染物的含量占有所有污染物的80%以上。近年,机动车数量、建筑和道路的施工量明显增加。

分析邢台市大气污染严重的原因。

45. [历史——选修1:历史上重大改革回眸](15分)

材料

曾国藩创立的湘军,在清朝的军队体制中是属于“勇营”一类。勇营是清朝中后期在国家正规军队不敷使用的时候,临时招募、在绿营之外独自成军、一旦完成预定任务即行裁撤、属于临时性质的军队。曾国藩目睹绿营在与太平军作战中屡战屡败、腐败无能、不堪重用,因此,其军事改革主要是效法明朝抗倭名将戚继光练兵之道,意在革除八旗、绿营的积弊,以图造就一支能征善战的军队。曾国藩的军事改革,主要是改变了绿营兵权直接隶属于兵部、掌控于清王朝政府的军事指挥体制、编制以及供给制度。与绿营相反,湘军兵必自招、将必亲选、饷由帅筹、兵随将转、兵为将所有,从根本上改变了军队对国家的依附、隶属关系。后湘军虽被遣散,但李鸿章的淮军、后来的新军等,则基本沿袭了湘军的体制。

——摘编自丁朕义《曾国藩军事改革的主要内容和历史意义》

- (1)根据材料并结合所学知识,概括曾国藩军事改革的历史背景。(8分)
- (2)根据材料并结合所学知识,归纳曾国藩军事改革的特点。(7分)

弥 弥 封 封 线 内 装 不 要 订 答 题 线

46. [历史——选修3:20世纪的战争与和平](15分)

材料

南北对话是指发展中国家为改革不合理的国际经济秩序,同发达国家进行的地区性和全球性谈判。20世纪60年代,不结盟运动组织和发动改革国际经济旧秩序和建立国际经济新秩序的斗争,揭开了倡导和推动南北对话的序幕。20世纪70年代,随着国际经济形势的发展,不结盟运动适时把工作的重点从政治领域转向经济领域,它通过召开各种会议,提出了一系列全面改革国际经济关系的纲领和行动原则,从贸易、援助方面的具体要求,深入到国际经济结构和体制的改革,促使南北对话进入新发展阶段。20世纪80年代中期以后,面对发展变化的国际经济形势,不结盟运动调整了南北对话的策略,把更多注意力转移到加强集体自力更生上,以增强发展中国家与发达国家讨价还价能力。

——摘编自高志平《浅论冷战时期不结盟运动倡导和推动南北对话的历程》

- (1)根据材料并结合所学知识,指出冷战时期南北对话的特点。(8分)
- (2)根据材料并结合所学知识,简要评价冷战时期的南北对话。(7分)

47. [历史——选修4:中外历史人物评说](15分)

材料

沈其韩(1922—2022),地质学家、中国科学院院士、中国地质科学院地质研究所研究员。1952年,湖北省黄石市铁山区大型地质勘探队——大冶资源勘探队成立,沈其韩作为业务骨干参与铁矿的详细勘探。他们白天到山野测量,夜晚在室内整理资料,很快完成了整个矿区详细的地形图。在两年多的时间里,沈其韩没有回过家,日夜都待在山上。之后,他又参与了山西中条山铜矿勘探。1956年,沈其韩进入地质矿产研究所(后改为地质研究所),开始进行早前寒武纪基础地质、同位素年代学和变质岩区工作方法的研究。此后,他相继完成多篇代表作,并获得多项国家奖励。在精心从事研究工作的同时,他也十分注重人才培养。他指导的学生,多已成为我国变质岩和前寒武纪地质研究领域中的中坚力量。

——摘编自刘如楠《沈其韩院士:个人兴趣应和国家需要结合》

- (1)根据材料并结合所学知识,评述沈其韩对现代中国地质事业作出的历史贡献。(8分)
- (2)根据材料并结合所学知识,简析沈其韩对现代中国地质事业作出贡献的主要因素。(7分)

## 关于我们

自主选拔在线是致力于提供新高考生涯规划、强基计划、综合评价、三位一体、学科竞赛等政策资讯的升学服务平台。总部坐落于北京，旗下拥有网站（[网址: www.zizzs.com](http://www.zizzs.com)）和微信公众平台等媒体矩阵，用户群体涵盖全国90%以上的重点中学师生及家长，在全国新高考、自主选拔领域首屈一指。

如需第一时间获取相关资讯及备考指南，请关注**自主选拔在线**官方微信号：**zizzsw**。



 微信搜一搜

 自主选拔在线