

秘密★启用前

九江市 2023 年第三次高考模拟统一考试 文科综合能力测试

本试卷分选择题和非选择题两部分。满分共 300 分，考试时间为 150 分钟。

注意事项：

1. 答卷前，考生务必将自己的姓名、准考证号填写在答题卡上。
2. 回答选择题时，选出每小题答案后，用铅笔把答题卡上对应题目的答案标号涂黑。如需改动，用橡皮擦干净后，再选涂其他答案标号。回答非选择题时，将答案写在答题卡上。写在本试卷上无效。
3. 考试结束后，将本试卷和答题卡一并交回。

一、选择题：本题共 35 小题，每小题 4 分，共 140 分。在每小题给出的四个选项中，只有一项是符合题目要求的。

为响应国家深化区域合作的号召，2016 年 9 月，四川省广安市与深圳市正式签署《合作共建广安（深圳）产业园协议》，以打造“深圳产业延伸示范基地”。广安（深圳）产业园位于广安中心城区，建园以来，比亚迪、保利和华为等龙头企业相继入驻。图 1 示意广安——深圳产业合作模式。据此完成 1~3 题。

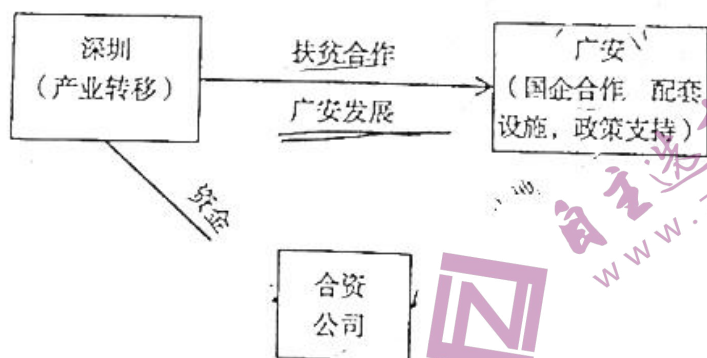



图 1

1. 吸引多家龙头企业入驻该产业园的主要因素是
 - A. 市场
 - B. 资源
 - C. 政策
 - D. 地价
2. 多家龙头企业相继入驻该产业园的根本目的是
 - A. 开拓产品市场
 - B. 提高科研水平
 - C. 加强企业交流
 - D. 降低生产成本
3. 该产业园的建设有利于推动四川省
 - A. 自然资源配置优化
 - B. 区域协调发展
 - C. 区域生态环境优化
 - D. 产业趋同发展

高考三模 文科综合试卷 第 1 页 (共 14 页)

区域经济高质量发展是以“创新、协调、绿色、共享、开放”五大理念为基础的新时代经济发展。图2示意广东省广州都市圈(含广州、佛山、肇庆、韶关、清远、云浮6市)与深圳都市圈(含深圳、惠州、东莞、汕尾、河源5市)的经济高质量发展指数。据此完成4~6题。



4. 据图可知,广东省
- A. 各市经济发展差异小
 - B. 成果共享发展指数高
 - C. 总体节能减排力度大
 - D. 创新驱动发展能力强
5. 造成两大都市圈创新驱动发展指数差异的主要原因,可能是深圳都市圈
- A. 高校在校人数更多
 - B. 工业发展起步更早
 - C. 政府科研投入更大
 - D. 环境保护力度更大
6. 为提高都市圈综合竞争力,广州市应
- ①吸纳都市圈内部人才
 - ②推动都市圈内部产业向广州聚集
 - ③加大对都市圈内部其它城市的经济支援
 - ④鼓励本市高校毕业生投身都市圈内部其它城市
- A. ①② B. ①③ C. ②③ D. ③④

每一年积累下来的冰层,在冰川学上叫做年层,可据此推断冰川年龄。冬季积雪经夏季消融后,形成一个消融面,消融面上污化物较多,又称为污化面,它是划分年层的天然标志。图3示意冰川年层景观。据此完成7~8题。




图3

高考三模 文科综合试卷

经济
地理

7. 推测消融面上污化物形成的主要外力作用

- A. 流水堆积
C. 风力堆积

- B. 风化作用
D. 冰川侵蚀

8. 根据冰川年层, 可以直接反映当地地质历史时期的

- ① 气候变化
③ 水文状况

- ② 大气状况
④ 太阳活动强度

A. ①②

B. ①④

C. ②③

D. ②④

高寒草甸是在湿润、半湿润环境条件下形成的植被类型。近年来受气候变暖的影响, 青藏高原三江源区高寒草甸生长范围变化明显。早期因过度放牧, 三江源高寒草甸退化严重。后来, 随着封育及控制放牧等措施的实施, 草甸植被显著恢复, 且长期禁牧封育区草甸的生产能力低于适度放牧区。据此完成9~11题。

9. 青藏高原高寒草甸分布上限的主导因素是

- A. 热量
B. 水分
C. 光照
D. 蒸发

10. 近年来受气候变暖的影响, 三江源区高寒草甸生长

- A. 上限升高, 下限降低
B. 面积扩大
C. 上限降低, 下限升高
D. 面积缩小

11. 相对周边适度放牧区, 长期禁牧区草甸生产能力弱, 是因为禁牧区

- A. 地温较低
B. 气温较低
C. 气候较干
D. 光照较弱

12. 某村集体流转土地 300 多亩, 发展果蔬种植和水产养殖。土地流转后催生了许多规模化的农业生产经营主体, 让村民实现了家门口就业与增收。由此可见, 农村土地经营权流转有利于

- ① 增加农民转移支付收入, 实现共同富裕
② 盘活农村土地存量, 释放经济潜能
③ 加快一二三产业的融合, 优化产业结构
④ 拓宽农民收入渠道, 增加农民收益

A. ①②

B. ①③

C. ②④

13. 具备专业化、精细化、特色化、新颖化特征的专精特新企业是推动创新和实现经济高质量发展的重要力量。推动其健康发展亟待多方面的接续支持, 近年来, 国家优化发展环境, 加大培育力度, 多措并举助力专精特新企业发展, 其作用传导过程合理的是

- ① 强化专精特新相关产业政策支持 → 稳定产业链、供应链 → 促进其健康发展
② 提高出口质量 → 健全支持专精特新企业发展服务体系 → 赢得国际市场份额
③ 优化专精特新企业股权结构 → 提升企业经营管理水平 → 降低其市场竞争力
④ 完善资本市场 → 助力解决融资难问题 → 加强技术创新 → 增强其市场竞争力

A. ①③

B. ①④

C. ②③

文科综合试卷 3 页 (共 14 页)

14. 周期波动是经济发展过程中常见的现象，它表现为经济周而复始地由扩张到紧缩的不断循环运动。为有效应对经济周期波动带来的影响，下表中表现和措施对应正确的是

选项	经济扩张期		经济紧缩期	
	表现	措施	表现	措施
A	失业率下降	降低利率	财政收入减少	增加税收
B	物价上涨	提高利率	失业率上升	减少税收
C	财政收入增加	减少税收	企业投资减少	降低利率
D	企业投资增加	增加税收	物价上涨	提高利率

15. 2022 年末，个人养老金制度在 36 个城市或地区先行实施。个人养老金制度是政府政策支持、个人自愿参加、市场化运营的补充养老保险制度。参加人可向资金账户缴费并购买符合规定的理财产品、储蓄存款、商业养老保险等，其投资收益暂不征税。该制度的实施

- ①因其投资收益暂不征税，会吸引大量资金脱离社保
- ②实现了养老金的保值增值，推动经济高质量发展
- ③是有效充实人民群众养老“钱袋子”的积极探索
- ④完善了我国社会保障体系，体现了共享发展理念

A. ①② B. ①④ C. ②③ D. ③④

16. 某地将大包大揽式“为民作主”改由街道搭台，人大代表牵线，引导群众选出在居民中有威信、受尊重的代表，通过协商谈判解决群众间的纠纷，有效推动了矛盾的化解。上述做法

- ①旨在建立健全基层政府的组织体系
- ②有利于推进基层治理能力的现代化
- ③调动了群众共建美好家园的积极性
- ④把群众对人大代表的监督落到实处

A. ①② B. ①④ C. ②③ D. ③④

17. 习近平总书记指出：勇于自我革命是党最鲜明的品格，党找到了自我革命这一跳出治乱兴衰历史周期率的第二个答案。勇于自我革命

- ①是中国共产党区别于其他政党的显著标志
- ②是积极应对新形势下各种考验的重要举措
- ③是创新中国特色社会主义理论体系的要求
- ④要求以党的思想建设为统领推进党的建设

A. ①② B. ①④ C. ②③ D. ③④

18. 党的二十大报告中指出：“我国不走通过战争、殖民、掠夺等方式实现的现代化”。中国式现代化高举和平、发展、合作、共赢旗帜，在坚定维护世界和平与发展中谋求自身发展，又以自身发展更好维护世界和平与发展。由此可见，中国式现代化的世界意义有

- ①为中华民族伟大复兴营造有利的外部环境
- ②在解答时代课题中创造了人类文明新形态
- ③为发展中国家实现现代化提供了中国方案
- ④在多极化背景下破解了全球发展的各种难题

A. ①② B. ①④ C. ②③ D. ③④



19. 4月7日,中法两国联合声明:将支持两国重要文化机构合作举办文化、艺术、数字等交流项目,重启因疫情而暂停的其他项目,共同计划和支持2024年中法建交60周年和中法文化旅游年活动。中法两国加强文化合作
- ①有助于加深中法两国文明间的交融互鉴 ②有利于进一步巩固和深化中法政治互信
③能够丰富中华优秀传统文化的基本内涵 ④是增进中法文化国际影响力的主要途径
- A. ①② B. ①③ C. ②④ D. ③④
20. 今年的政府工作报告指出:“将继续丰富人民群众的精神文化生活,实施文化惠民工程。城乡区域内的公共图书馆、博物馆、美术馆、文化馆站继续向社会公众免费开放,深入推进全民阅读,提高全民素质”。推进全民阅读
- ①旨在丰富人民群众的文化生活,提高全民素质
②能加强社会主义精神文明建设,促进社会进步
③表明发展文化产业必须完善文化基础设施建设
④会普及电子读物并减少群众对纸质书籍的需求
- A. ①② B. ①③ C. ②④ D. ③④
21. 毛泽东说:“任何英雄豪杰的思想、意见、计划,其原料只能来自人民群众的实践,头脑只能作为一个加工厂。人脑制成的这种完成品,究竟正不正确,还得交由人民群众去检验。”这说明
- ①实践能够将思想变为现实的存在 ②实践是检验思想正确与否的标准
③头脑中的完成品来源于社会实践 ④经过群众检验的思想具有真理性
- A. ①② B. ①④ C. ②③ D. ③④
22. 十四届全国人大一次会议表决通过了关于修改立法法的决定。过去设区市的立法权仅有“城乡建设与管理、环境保护、历史文化保护”三项,难以满足地方发展需求。扩大地方立法权限修改后可满足地方不断增长的法治需求。这说明
- ①法律修改是人们根据自身发展需要创造联系的过程
②法律修改要善于将社会中偶然联系转化为必然联系
③把握联系的多样性有利于我国立法工作的与时俱进
④法律内容变更和修改是对之前法律的辩证否定过程
- A. ①② B. ①③ C. ②④ D. ③④
23. 近期 ChatGPT 软件异常火爆,它能够通过学习 and 理解人类的语言来进行对话,还能根据聊天的上下文进行互动,甚至能完成写论文等任务。有人认为它能提升人类生活品质和工作效率,应多使用,也有人认为会因其滥用而产生一些负面效果,不应使用。这表明
- ①价值判断和价值选择具有社会历史性 ②任何真理都有自己适用的条件和范围
③价值选择是在价值判断基础上作出的 ④价值判断和价值选择具有主体差异性
- A. ①② B. ①③ C. ②④ D. ③④

24. 西周诸国与中央之关系，大略分为甸、侯、卫、荒四种：甸为王畿内之采邑，侯即诸侯，卫盖旧部落之为附庸者，荒则封建所不及之边地也。中央则以朝覲、巡狩等制度以保主属关系。这表明西周

- A. 中央集权制度逐步建立
B. 分封制度强调血缘关系
C. 地方控制方式的多样化
D. 天子直接管理卫荒区域

25. 西汉时期，萧何任丞相，“因民之疾秦法”，“治事省约宽缓”，曾请求刘邦准许长安民众耕种上林苑空余田地。据此可知萧何

- A. 倡导儒家民本思想
B. 主张与民休息政策
C. 力求缓解人地矛盾
D. 反对大兴皇家林苑

26. 熙宁六年（1073年），北宋政府在熙河地区（今属甘肃）设置蕃学，让吐蕃上层子弟入学；在河州（今甘肃临夏）也设置蕃学，教育吐蕃酋长子弟。蕃学的课程设计和教授内容以儒家经典为主，同时也兼顾吐蕃的族群文化特点。此举

- A. 旨在建立完善的地方教育体系
B. 有效缓解了西北的军事危机
C. 有利于加强对中原的文化认同
D. 拓宽了政府的人才选拔渠道

27. 右图是2010年在湖北省钟祥市梁庄王墓中出土的郑和船队“海外代购”金锭，其正面篆刻有“永乐十七年四月口日西洋等处买到八成色金壹锭伍拾两重”的铭文。这枚金锭是


- A. 东西方跨大洋贸易的证据
B. 明朝废除海禁政策的见证
C. 海上丝绸之路兴起的表现
D. 明代区域文明交流的产物



28. 20世纪初，爱国学社把《天演论》做课本，讲猴子进化为人；章炳麟以“某某人本纪”命题，柳亚子竟然以“柳人权本纪”作答；爱国女校历史课讲授法国革命史和俄国虚无党（民粹派）故事。这反映了当时中国思想界

- A. 民主启蒙思想的传播
B. 民主与科学成为主流
C. 马克思主义得以宣传
D. 封建正统观念的终结

29. 下图是1913年和1920年我国近代民族资本企业数量、资本总额和工人总数的变化图。据图可知，此时民族资本的发展



- A. 源于美日等列强暂时放松对中国的侵略
B. 得益于中国政府开始认同民间资本
C. 为新民主主义革命的到来提供阶级基础
D. 反映了中国近代企业制度日趋完善

高三一模 文科综合试卷 第6页 (共14页)

30. 根据下列某碑刻变迁的信息表可知

碑名变迁	时间	建立或改名原因
克林德碑	1903年	在八国联军侵华期间因德国公使克林德被击毙，清政府谢罪修建。
公理战胜碑	1918年	一战德国战败，协约国要求德国把北京人拆毁的克林德碑，移至社稷坛并予以更名。
保卫和平碑	1952年	亚太区域和平会议为表彰中国人民保卫世界和平所作出的贡献而改名。

- A. 国家利益是外交出发点
B. 国际环境决定外交走向
C. 民众力量左右外交政策
D. 国家实力关乎外交荣辱
31. 1978年9月安徽省委针对特大旱灾，决定采取“借地度荒”，规定凡集体无法耕种的土地，可以借给农民种麦种菜，鼓励多开荒和利用“四旁”（村旁、宅旁、路旁、水旁）空闲地，谁种谁收。这一举措
- A. 抑制基层政府生产自救的积极性
B. 为包产到户和包干到户提供契机
C. 改变了当地农村地区的产业结构
D. 打破农村集体所有制的主体地位
32. 查士丁尼时期的法律家们把正在衰亡的罗马帝国的法律变成完整的系统，把商品生产者的一切本质的法律关系作为基础，这至少对自由民来说产生了私人的平等，于是罗马法体系就形成了。这说明此时的罗马法
- A. 使臣民与公民差异逐步消失
B. 因维护财产私有更具适应性
C. 代表了新兴地主阶级的利益
D. 是西欧城市经济发展的产物
33. 英国思想家约翰·洛克认为，货币是一个可靠的朋友，它虽然会由这个人转给那个人，但若能使它不流出国外，就很不容易浪费消耗掉，增加金银应当是该国政治经济的大目标。据此可知，洛克主张
- A. 推行重商主义
B. 发展手工工场
C. 抑制通货膨胀
D. 实行自由贸易
34. 1922年列宁在俄共（布）十一大中指出：“在党同苏维埃机构之间形成了一种不正常的关系，有些具体的小事都要弄到政治局去解决”，苏维埃是党联系群众实现无产阶级专政的“传动装置”，需要发挥人民委员会和政治局这两个轮子的作用。这表明列宁意识到
- A. 政企不分的危害性
B. 新经济政策的优越性
C. 党群关系的重要性
D. 党政的协调至关重要
35. 右图是19世纪初艺术家戈雅晚年的作品——“农神吞噬其子”，绘在马德里一农舍墙上，被称为“黑色绘画”，运用夸张手法描绘作者内心的恐惧和阴暗。这一作品流派属于
- A. 浪漫主义
B. 印象主义
C. 现实主义
D. 现代主义



高考三模 文科综合试卷 第7页 (共14页)

二、非选择题：共 160 分。第 36~42 题为必考题，每个试题考生都必须作答。第 43~47 题为选考题，考生根据要求作答。

(一) 必考题：共 135 分。

36. 阅读图文材料，完成下列要求。(22 分)

在低碳减排的背景下，全球能源结构正在向以清洁能源为主体的方向转变。相比于太阳能和风能等清洁能源的开发利用，氢能生产受时空限制小，储运方便，利用方式灵活。电解制氢是主要的制氢方式之一，能够将富余的电能转化为氢能储存利用，是未来储能的主要发展方向。2009 年，佛山市积极推动氢能产业发展，是我国氢能发展较早的地区，目前已建立了我国最全的氢能产业链。佛山市南海区仙湖氢谷被称为中国氢能行业的“硅谷”，截至 2022 年，这里吸引了佛山仙湖实验室、氢能学院和广顺新能源等几十家企业及科研机构入驻。图 4 示意佛山市五大氢能产业基地分布情况。



图 4

(1) 依据氢能开发利用的优势，分析发展氢能对清洁能源产业的推动作用。(8 分)

(2) 说明佛山市发展氢能产业的珠三角因素。(8 分)

(3) 指出佛山市南海区吸引氢能研究机构入驻的区位优势。(6 分)

37. 阅读图文材料，完成下列要求。(24 分)

黄河是世界含沙量最大的河流，具有“水少沙多、水沙并源”的特点。黄河上游地区径流量占黄河的 62%，而输沙量仅占 14.9%。受自然条件及人为因素的影响，近年来黄河下游径流量和含沙量出现显著变化。花园口（如图 5）位于黄河中游和下游的分界点附近，其以上流域占黄河流域总面积的 97%。图 6 示意花园口水沙监测站 1964~2014 年黄河年径流量与输沙量关系。

高三模 文科综合试卷 第 8 页 (共 14 页)

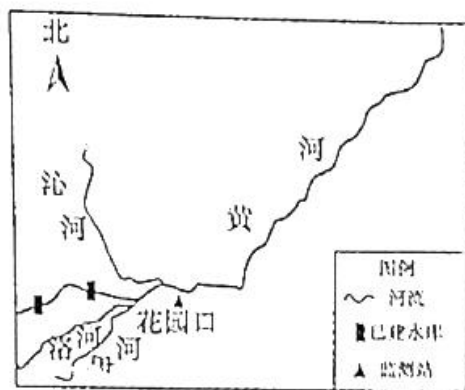


图5

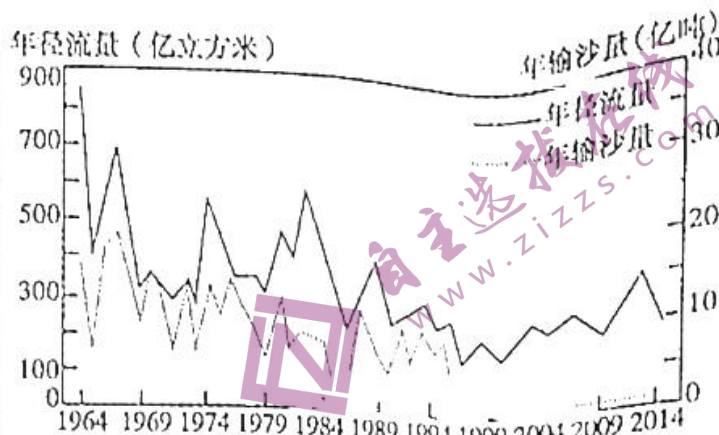


图6

- (1) 简析黄河“水少沙多、水沙异源”的主要原因。(8分)
- (2) 说明在花园口设立黄河水沙监测站的合理性。(6分)
- (3) 简述1964~2014年期间黄河年径流量与输沙量总体变化趋势。(4分)
- (4) 分析上世纪90年代以来人类活动对黄河输沙量变化的影响。(6分)

8. 阅读材料，完成下列要求。(14分)

2022年我国粮食生产相关数据情况

	总产量	播种总面积	谷物单产
数量	13730.6 亿斤	1051.9 万亩	425 公斤/亩
同比增长率%	0.5	0.6	1

注：国际公认的粮食安全线为人均400公斤。目前，我国人均粮食占有量达到483公斤。

党的十八大以来，各地区各部门牢牢守住18亿亩耕地红线，高质量推进高标准农田建设；健全种粮收益保障机制，扩大农村科技特派员服务领域和范围，加快农业科研成果的转化，夯实收益基础；坚持把农业农村作为一般公共预算优先保障领域，压实地方政府投入责任；以市场为导向、以质量效益和竞争力为目标的家庭农场、农民合作社、龙头企业等新型经营主体迅速成长。

结合材料运用经济生活知识，概括图表所反映的经济信息并分析其原因。(14分)

39. 阅读材料，完成下列要求。(12分)

党的二十大报告中首次提出“坚持党的领导、统一战线、协商民主有机结合”的重大论断。江苏省政协围绕党的二十大战略部署，聚焦党和国家的中心任务，牢牢把握政协组织的鲜明政治属性，加强政协党组建设，充分发挥政协党组把方向、管大局、保落实的重要作用；组织开展专题走访、专题调研、开展协商议政等举措助力化解信访突出问题，把各界人士团结在一起发扬民主凝聚共识，汇聚起发展的强大动力；大力推进数字政协建设，网络议政覆盖所有重点协商议题，形成多渠道、广覆盖的协商议政格局；制定落实协商工作规则、协商办法等100余项制度文件，构建系统完备、科学规范、运行有效的协商制度体系，通过政协制度的有效运行和民主程序，把党的主张转化为社会各界的共识和行动。

结合材料并运用政治生活知识，说明人民政协是如何把党的主张转化为社会各界的共识和行动。(12分)

40. 阅读材料，完成下列要求。(26分)

习近平总书记指出：“历史文化遗承载中华民族的基因和血脉，不仅属于我们这一代人，也属于子孙万代。要筑牢文物安全底线，守护好前人留给我们的宝贵财富。”

石窟寺是我国重要的历史文化遗产，更是“人类文明的瑰宝”。2014年麦积山石窟被列入《世界遗产名录》。近年来，麦积山石窟艺术研究所充分利用融媒体平台、云展览、数字化等现代科技手段，持续加强对石窟历史内涵、文化价值、现实意义的阐释，有效发挥麦积山石窟在铸牢中华民族共同体意识、坚定文化自信等方面的作用，进一步提高了人们对历史文化遗产保护的意识。

在加强石窟文物保护中，文物保护者充分发挥科学技术在石窟保护中的支撑作用，提高了石窟寺保护修复的科学化水平；与中央美术学院、清华美术学院等院校开展合作，利用数字化采集每一寸最逼真的数字影像，让石窟在另一种介质中得到永生，促进了文化遗产的转化和发展。

(1) 结合材料，运用文化生活知识说明科技在历史文化遗产保护和发展中的作用。(10分)

(2) 结合材料并运用意识能动性原理，分析应如何保护我国的历史文化遗产。(12分)

(3) 在开展优秀传统文化进校园活动中，学校将举办以保护历史文化遗产为主题的研讨会，请你就该主题撰写两条发言主旨，每条字数控制在20字以内。(4分)

41. 阅读材料，完成下列要求。(25分)

材料一 1832年英国议会改革扩大了政治代表的基础，国会议席得到重新分配，在市镇中凡拥有土地或屋宇、每年收益达十磅者即拥有选举权，但工人阶级却不得参与政权。当时英国的人口约两千五百万，有选举权者还不到百万。英国宪章运动的爆发是由于人民对1832年议会改革的不满，要求重新调整选区，使国会更具有代表全民的性质，使更多的无产阶级人士得以参加下院。1867年英国通过第二次革新方案后，民主政治才获得重大的进展。这一次的改革几乎使选民的人数增加了一倍，城市的产业工人得到最大部分的政治权利。城市中选举的资格虽已放宽，但是各州乡村中农人所受的限制依然照旧，结果1884年又通过第三次革新方案，取消此种不合理的现状。这两次革新方案都是在重新分配议席，结果则近乎建立于平等的选举区制。以上重大的改革逐渐使英国走上真正的民主的途径。到了20世纪初年，英国的上层与中层阶级就不得不将他们对于政府的控制交与新起的劳工代表。

——摘编自余英时《民主制度与近代文明》

(1) 根据材料并结合所学知识，概述19世纪的英国民主政治发展的特点，并分析其原因。(12分)

材料二 早在延安时期，毛泽东在同黄炎培谈话时，就指出走出王朝兴亡周期率的关键是民主，“只有让人民起来监督政府，政府才不敢松懈。只有人人起来负责，才不会人亡政息”。1949年，毛泽东在《论人民民主专政》中指出：即将成立的中华人民共和国的人民民主专政的国家性质，即在共产党的领导下，对人民内部实行人民民主，对地主阶级和资产阶级实行专政。1954年通过的宪法，确立了我国人民代表大会制度、政治协商制度、民族区域自治制度等基本政治制度和民主制度。1956年中共八大指出：我们必须进一步加强人民民主的法制，巩固社会主义建设的秩序。1957年，毛泽东在《关于正确处理人民内部矛盾的问题》中，指出要正确区分敌我矛盾和人民内部矛盾两类不同性质的矛盾，并分别用专政和民主的方法解决。此外，刘少奇也指出：“我们必须更加发扬人民的民主，扩大我们国家民主制度的规模”。这些都为我国民主法治建设指明了方向，提出了方法。

——摘编自杨士泰《新中国民主法治的历程与经验探讨》

(2) 根据材料一、二并结合所学知识，概括与英国民主政治相比，新中国初期我国民主政治的不同之处，并分析新中国初期我国民主政治的影响。(13分)

42. 阅读材料，完成下列要求。(12分)

材料 希腊文艺到了公元前五世纪前后在雅典达到了它的黄金时代。但是也就在这个时代，希腊文化由传统思想统治转变到自由批判，由文艺时代转变到哲学时代。从此哲学就日渐上风，一系列的卓越的哲学家，例如毕达哥拉斯、赫拉克利特、德谟克里特、苏格拉底、拉图里亚和亚理斯多德就陆续出现了。

——摘编自朱光潜《西方美学史》

从1500年到1800年，欧洲优异的精神成就——以米开朗琪罗、拉斐尔、达·芬奇、莎士比亚、伦勃朗、歌德、斯宾诺莎、康德、巴赫、莫扎特等为代表——使科学技术相形见绌，与2500年前的轴心期平分秋色。在这较晚的世纪里，我们是否将看到又一个轴心期？

——摘编自雅斯贝尔斯《历史的起源与目标》

结合所学知识，从上述两个时期的欧洲文化名人中各选一位进行评价。(12分，要求：写出人名，评价客观，逻辑清晰，表述成文。)

(二) 选考题：共25分。请考生从2道地理题、3道历史题中每科任选一题作答。如果多做，则每科按所做的第一题计分。

43. 【地理——选修3：旅游地理】(10分)

近年来，“体育+旅游”模式在全国各地受到不少体育和旅游爱好者的追捧。2020年，国家体育总局扶贫工作组和山西省繁峙县人民政府在伯强村主办环五台山徒步大会暨越野挑战赛(如图7)，来自全国的近千名选手和观众来到伯强村，为当地带来了一片繁荣。借助这一优势，伯强村发展为山西省3A级乡村旅游示范村，建起了农家乐，开发了漂流项目，走出了一条颇具特色的体旅融合之路。




图7

简述“体育+旅游”模式对伯强村旅游业发展的促进作用。(10分)

44. 【地理——选修6：环境保护】（10分）

珊瑚虫适宜生长在热带及亚热带地区的浅海中，对水质要求高。珊瑚虫死亡后，骨骼堆积形成珊瑚礁，为许多动植物提供生活环境。近几十年来，近岸珊瑚礁大量减少，状况十分危急。

请分析近海珊瑚大幅度减少的人为原因，并从可持续发展角度说明保护珊瑚礁的意义。（10分）

45. 【历史——选修1：历史上重大改革回眸】（15分）

材料 大观元年（1107）正月，蔡京“复拜左仆射”开始着手整顿崇宁五年（1106）以来泛滥的各项货币政策，“复广、惠、康、贺州旧铸夹锡钱监”，恢复夹锡钱的铸造和通行，国内货币市场内流通的夹锡钱数量再度迎来铸币高峰。同时蔡京也对小钞的定位做了调整，“勘会外路当十钱诏不行使路分，民间私有当十、当五、当三钱并限今来指挥颁到日，限一月纳换，除官铸钱以小钞给还外，其私铸钱计小平钱三文足，或愿依中卖铜价者听，并以小钞给之；给限满不纳入官，或限内私相交易者，依私铸钱法施行。”即以一当三，若超过兑换时间仍持有私铸当十钱，就以罪论。这是蔡京逐步淡化小钞吸放当十钱的重要举措。在短短几天的时间里，民间流通的当十钱必然不可能尽数交纳，但是实际上宋廷给予百姓的补贴也是比较适配大钱实际价值的，也能够吸引百姓前往兑换。所以这条诏令的实际意义就在于否定民间对当十钱的私铸，同时肯定了官方当十钱的再次流通，这对打击民间私铸行为也有一定的积极作用。

——摘编自齐德舜《蔡京货币改革与陕西路金融体系的崩溃》

(1) 根据材料和所学知识，概括蔡京货币改革内容。（7分）

(2) 根据材料和所学知识，分析蔡京货币改革的影响。（8分）

46. 【历史——选修3：20世纪的战争与和平】（15分）

材料

美国对外政策

时期	阶段	政策口号	典型实例
1775 - 1897	美洲扩张时期	孤立主义	美国内战、西部开发、门罗宣言
1898 - 1945	海外扩张时期	门户开放政策	美西战争、1899 提出、1922 确认
1946 - 1991	全球称霸时期	遏制政策	朝鲜战争、越南战争、苏东巨变

——摘编自杨生茂《美国外交政策史三论》

高考三模 文科综合试卷 第 13 页（共 14 页）

(1) 根据材料和所学知识,分析20世纪美国推行扩张主义的原因。(8分)

(2) 根据材料和所学知识,选取海外扩张时期或全球称霸时期,说明美国扩张主义的活动。(7分)

47.【历史——选修4:中外历史人物评说】(15分)

材料 从1928年7月领导发动平江起义,到1934年10月率领红三军团参加二万五千里长征,在长达7年的时间里,彭德怀指挥千军万马,在毛泽东、朱德的直接领导下,在创建湘、鄂、赣、闽根据地的革命实践中,以艰苦卓绝的斗争,粉碎了蒋介石一次又一次的“进剿”、“会剿”和“围剿”,积累了丰富的革命斗争经验,造就了卓越的组织领导能力与军事指挥才能,为湘鄂赣革命根据地的开创,为坚守井冈山、推动湘赣革命根据地创建和保卫扩大赣南、闽西革命根据地,尤其是为中央革命根据地的开创与巩固发挥了重要作用。在湘、鄂、赣、闽艰难困苦的七年革命斗争实践中,彭德怀从加入中国共产党、领导发动平江起义、创建红五军任军长开始,逐步成长为红三军团总指挥、第一方面军副司令员兼三军团军团长、中央军委副主席,胜利地组织指挥过众多重大的战役、战斗。1934年1月彭德怀被补选为中共中央第六届候补中央委员,成为中央苏区主要领导成员。

——摘编自魏济源《略论彭德怀在湘、鄂、赣、闽根据地创建中的重要作用》

(1) 根据材料和所学知识概述彭德怀在土地革命时期的贡献。(9分)

(2) 根据材料和所学知识,概括彭德怀在土地革命时期的实践中所体现的精神。(6分)

地理命题人:熊四华 审题人:陈俊 杨振霆 兰主进 崔志斌 黄赵华 吴建东 程红
政治命题人:宋健伟 审题人:王熙 李芳芳 查东 柯燕红 熊蛟华 付磊 王东明
历史命题人:于德沐 审题人:晁国 黄长胜 周会文 刘颖臣 刘正娥 曹学军 张娇之

九江市 2023 年第三次高考模拟统一考试

地理参考答案

一、选择题（每小题 4 分，共 44 分）

题号	1	2	3	4	5	6	7	8	9	10	11
答案	C	D	B	D	C	D	C	A	A	B	A

解析：

【答案】1.C 2.D 3.B

第 1 题，由材料可知，广安（深圳）产业园是在响应国家深化区域合作的背景下建立的，而深圳的产业转移到广安，有扶贫合作的政策背景，可推知多家龙头企业入驻该产业园的主要因素为政策，故 C 选项正确；广安经济欠发达，相比于东部发达地区，广安对于汽车和电子信息等产品的市场需求有限，排除 A 选项；资源和地价优势在材料中并没有体现，对龙头企业入驻影响相对较小，排除 B 和 D 选项。

第 2 题，由材料可知，多家龙头企业入驻产业园，可在此共用基础设施，从而降低生产成本，提高企业利润，故 D 选项正确；产品市场并非以广安市为主，排除 A 选项；该产业园建设时间不长，且广安市不具备很强的科研和人才等优势，排除 B 选项；迁入的企业之间并无生产工序等方面的联系，企业之间的交流有限，排除 C 选项。

第 3 题，该产业园的建设能够推动广安市的产业结构优化和经济发展，进而推动四川省的区域协调发展，故 B 选项正确；产业园的建设对四川省的自然资源配置和区域生态环境优化等影响有限，排除 A 和 C 选项；产业园的建设不会促使四川省产业趋同发展，排除 D 选项。

【答案】4.D 5.C 6.D

第 4 题，从图中可以看出，深圳和广州都市圈的创新驱动发展指数相比于其他指数均更高，且两个都市圈包括了广东省的大部分地市，说明广东省整体的创新驱动发展能力强，故 D 选项正确；图中显示两都市圈的经济协调发展指数均较低，排除 A 选项；广州都市圈的成果共享指数较低，排除 B 选项；两都市圈的绿色可持续发展指数相对较低，排除 C 选项。

第 5 题，相比于广州都市圈，深圳都市圈的创新驱动发展指数更高，推测深圳都市圈的科研力度投入更大，故 C 选项正确；创新驱动发展指数与高校在校人数、工业发展起步时间及环保力度等关联较小，故 A、B、D 选项错误。

第 6 题，广州是广东省的省会城市，相比于广州都市圈的其他城市，广州经济实力更强，加大对都市圈内其他城市的经济支援、鼓励广州市高校毕业生投身圈内其他城市，均可以提升广州都市圈的综合竞争力，而吸纳都市圈内人才、都市圈内产业向广州集聚，可能会加大都市圈内的经济差距，不利于提升综合竞争力，故③和④正确，①和②错误，D 选项正确。

【答案】7.C 8.A

第 7 题，根据图文材料推测，风把其它地区的尘埃等污化物搬运到此沉积，然后被封存在冰川中，其形成的主要外力作用为风力堆积，故 C 选项正确；在冰川分布区，气温较低，流水作用带来污化物的可能性不大，故 A 选项错误；风化作用主要引起岩石的崩解破碎，其风化产物要么在原地，要么被外力搬运，不会直接形成污化物的层状分布，故 B 选项错误；冰川侵蚀主要形成冰斗、角峰等地貌，与题意不符，故 D 选项错误。

第 8 题，由于冰川在形成时封存了一些空气和尘埃，且冰川年层的厚度与当年的气温、风力等要素关系密切，故可以反映当地地质历史时期的气候变化与大气状况，而与水文状况及太阳活动强度等关系不大，故①和②正确，③和④错误，故 A 选项正确，B、C、D 选项错误。

【答案】9.A 10.B 11.A

第9题,由材料可知,高寒草甸适宜生长在湿润和半湿润环境条件下,而青藏高原的高寒草甸区环境湿润,由于海拔高,热量相对不足,限制了高寒草甸的分布上限,故热量条件是限制因素,也是主导因素,故A选项正确;水分、光照和蒸发等因素影响较小,B、C、D选项错误。

第10题,热量条件是影响三江源高寒草甸生长的主导因素。受气候变暖影响,三江源地区热量条件改善,高寒草甸区的生长上限提高,而下限变化不大(三江源区低海拔处水热条件较好,原本就是草甸区),高寒草甸区生长的整体范围增大,面积扩大,故B选项正确,A、C、D选项错误。

第11题,相比于适度放牧区,长期禁牧区的枯草积累较多,对地面遮荫明显,地温较低,草甸生长速度较慢,生产能力较弱,故A选项正确;在小尺度范围比较,长期禁牧区和适度放牧区的气温、降水、光照等条件差异较小,故B、C和D选项错误。

二、非选择题(共56分)

36.(22分)

(1)利于实现清洁能源的互联互通;(2分)突破时空限制,增强清洁能源利用的稳定性;(3分)利用方式灵活,拓宽清洁能源的利用领域。(3分)

(2)珠三角常规能源匮乏;能源需求量大;科研能力强;资金雄厚;创新环境好。(任答4点得8分)

(3)氢能产业起步早,基础较好;(2分)方便与企业的信息交流与协作;(2分)政策支持(科研投入大)。(2分)

37.(24分)

(1)水少沙多:流域降水较少,且取水过度,黄河径流量小;(2分)黄河中游水土流失严重,产沙量大。(2分)

水沙异源:水量主要来自黄河上游地区;(2分)泥沙主要来自黄河中游(黄土高原)地区。(2分)

(2)黄河中游为黄河主要沙源地;(2分)下游以地上悬河为主,径流补充少(或花园口上游来水占黄河径流量绝大部分);(2分)花园口地处中下游分界点附近,能较准确测出黄河总体流量及输沙量。(2分)

(3)均呈波动下降(趋势);(2分)年输沙量较年径流量下降幅度更大。(2分)

(4)修筑梯田、减少放牧和坡地开垦等,减少了中游的产沙量;植树种草,利于水土保持;修建水利工程,拦蓄泥沙;生产生活用水增加,径流量减少,输沙能力减弱。(任答3点得6分,其他答案言之有理,酌情给分)

43.【选修3—旅游地理】(10分)

通过体育赛事举办,吸引大量游客(选手);提升景区知名度;丰富户外旅游项目,增加新的旅游资源;促进基础设施建设,提升景区接待能力;推动当地旅游资源开发;带动相关产业发展,增加旅游收入。(任答5点得10分,其他答案言之有理,酌情给分)

44.【选修6—环境保护】(10分)

人为原因:沿海地区过度开发,使珊瑚礁石遭受破坏;(2分)海水污染严重,影响珊瑚生存环境。(2分)

保护意义:珊瑚礁石为海洋生物提供生存空间;(2分)维护生物多样性,利于改善海岛的生态环境;(2分)削弱海浪,减缓海水侵蚀,有效保护海岸。(2分)

地理命题人:熊四华 审题人:陈俊 杨振霆 兰主进 崔志斌 黄赵华 吴建东 程红

2023 九江三模历史参考答案

24. 答案 C。地方与中央的关系为甸、侯、卫、荒四种，因其关系的差异性，西周对分封诸国控制方式也呈现多样化，故 C 项正确。西周此时尚未形成中央集权制，故 A 项错误；B 项本身没问题，但不是材料强调要点，材料主旨为西周通过朝觐、巡狩等制度来处理中央与分封诸国之关系。天子直接管理的区域为王畿之地，即甸，故排除 D 项。

25. 答案 B。由“民疾秦法”“省约宽缓”“为民请地”等信息可推知是汉初的与民休息政策，B 项正确。汉初主流思想是道家黄老无为，并非儒家思想，“倡导”表述不妥，排除 A；据材料可知，汉初贵在去秦之暴政，与民休息，主要矛盾并非人地矛盾，C 项错误。主张利用上林苑“空余田地”，并非指责皇家林苑劳民伤财，故 D 项错误。

26. 答案 C。北宋政府在甘肃等地设置蕃学，为吐蕃子弟传授儒家文化，促进其认同中原文化，有利于统一多民族国家的发展，C 项正确。在甘肃设置蕃学，是针对特定的吐蕃人，并非强调完善发展宋代地方教育体系，A 项错误。材料未涉及西北军事危机，吐蕃也不属于西北，B 项错误。材料表面谈吐蕃教育问题，实为民族融合问题，并不是宋朝的选官问题，排除 D。

27. 答案 D。郑和船队“海外代购”金锭，来源于西洋，这印证了明代中国与周边地区间的经济文化交流，故 D 项正确。近代历史学中的东、西方概念具有特定的政治内涵，不完全等同于地理方位上的东、西方概念。西洋并非指欧美西方，大体指文莱以西的中国南海及北印度洋等部分区域，郑和船队没有到达欧美所在的大西洋，不存在东、西之间的跨洋贸易，故 A 项错误。郑和下西洋并不意谓明朝废除了海禁，此后依然反反复复，B 项错误；郑和下西洋并不是海上丝绸之路的兴起，最早在汉武帝时期已开辟了海上丝绸之路，排除 C 项。

28. 答案 A。20 世纪初，中国先进的知识分子倡导进化论、宣扬民主自由平等思想，推动了西方启蒙思想在中国的传播，A 项正确。当时民主科学思想正在滋长，但并不是思想界主流，B 项错误；材料未体现马克思主义的传播，C 项错误；当时封建正统思想受到冲击，但并没有终结，排除 D。

29. 答案 C。一战期间，欧洲列强忙于战争，暂时放松对中国的经济侵略，中国民族资本主义出现短暂的“春天”，企业数量、资本总额和工人数量激增，这为即将到来的新民主主义革命以及中共的诞生奠定了物质基础和阶级基础，故 C 项正确。一战时美、日借机加紧对中国侵略，A 项错误；甲午战争后，清政府准许民间设厂，民间资本已事实上得到认可，故 B 项错误；近代中国是半殖民半封建社会，民族资本主义“先天不足，后天畸形”，排除 D 项。

30. 答案 D。从 1903 年到 1952 年，这一碑刻名称的变迁，反映了外交荣辱与国家实力息息相关，故 D 项正确。从材料看，国家利益虽然是外交的出发点，但不是材料主旨，A 项错误；国际环境与民众力量影响国家外交，但不是决定性因素，决定外交的是国家力量和国家利益，故 B 项和 C 项都错误。

31. 答案 B。1978 年 9 月安徽省委允许“借地度荒”，利用集体的荒地和“四

旁”闲地进行生产自救，并声明“谁种谁收”，这是在不改变土地集体所有的前提下给予农民土地使用权，为包产到户和包干到组等承包责任制的出现提供了契机，1978年冬的“小岗村事件”正是在此背景下出现的，故B项正确。省委“借地度荒”的指示，调动了基层政府和农民生产自救的积极性，A项错误；“借地度荒”无关农村的产业结构，C项错误。在土地集体所有的前提下，各类形式的承包责任制不可能打破农村集体所有制的主体地位，排除D。

32. 答案B。所谓“商品生产者的一切本质的法律关系”即是“私有商品间的自由交换”，材料认为查士丁尼时期罗马法日趋系统化，且法律认可商品的私有属性，即承认财产私有制，从而使罗马法更适应时代的变迁，故B项正确。材料没有凸显臣民与公民的关系，A项错误；查士丁尼时期罗马法依然代表奴隶主贵族的利益，C项错误；查士丁尼是6世纪东罗马（拜占庭）帝国皇帝，不是西欧，材料也没有特指城市经济，故D项错误。

33. 答案A。洛克认可金属货币的作用，而且主张金银尽量不流出国外，实际上是主张多出口、少进口以增加金银等贵金属拥有量，由此可知洛克主张重商主义。B、C均非材料主旨。重商主义主张多出口、少进口，以确保“出超”，这有违自由贸易，排除D。

34. 答案D。针对党和政府之间存在的“党政不分”的问题，列宁提出要协调人民委员会（政府）和政治局（党）这两个轮子的作用，故D项正确。材料反映的是党政不分的危害性，而不是政企不分，故A项错误。材料并没有体现新经济政策内容，B项错误。党群关系是对材料的误读，C项错误。

35. 答案A。《农神吞噬其子》是歌雅1820年前后的作品，采取夸张手法描绘作者内心的恐惧和阴影。农神象征西班牙当时的独裁者费尔南多七世，而画中被吞噬的孩子则是西班牙新生的脆弱民主。此画中，戈雅的笔触非常浓重，甚至粗犷，背景是黑色，给人一种强烈的压抑感。浪漫主义兴起于18世纪末，持续发展到了19世纪早期。浪漫主义侧重描绘人的主观世界，集中表现人的精神面貌，极富激情，所以常采用夸张、象征等手法。

41. (25分)

(1) 特点：(6分，任意回答三点可得满分)

- ① 选区和议席的分配日趋公正合理；
- ② 选民资格逐步放宽，选民范围日益扩大；
- ③ 通过政治改革的方式逐步推进，体现渐进性、妥协性；
- ④ 逐步扩大基层劳工民主，但本质上仍是资产阶级民主。

原因：(6分，任意回答三点可得满分)

- ① 受身份、财产、性别等因素限制，早期选民的比例过小；
- ② 两次工业革命使工业资产阶级和无产阶级日益壮大；
- ③ 英国资产阶级顺应历史，不断进行政策调整和制度探索；
- ④ 资产阶级启蒙思想的日益深入；

⑤ 工人无产阶级受马克思主义影响而持续抗争。

(2) 不同：(7分，每点2分，答到三点给满分)

- ① 阶级基础不同，我国是中共领导的工农联盟为基础的人民民主专政的国家；
- ② 民主性质不同，我国是新民主主义和社会主义国家，人民当家作主；
- ③ 组织原则不同，人民行使权力的机关为各级人大，普遍实行民主集中制。
- ④ 制度较为全面，包括人民代表大会、政治协商、民族区域自治等多种形式的民主制度；
- ⑤ 主体范围广泛，对广大人民实行民主，对极少数敌人实行专政。

影响：(6分，每点2分，答到三点给满分)

- ① 创造性地建立了新型社会主义民主政治制度，为中国民主法治建设奠定了基础；
- ② 赋予人民最广泛、最真实、最管用的民主权利，调动广大人民建设新国家的热情；
- ③ 通过民主建国、民主治国，找到破解王朝周期兴亡的办法；
- ④ 为巩固新民主主义政权，推进社会主义改造和建设创造了良好的政治环境；
- ⑤ 中国式民主探索是借鉴国外、传承历史、结合现实的产物，为世界政治文明提供了中国方案。

42. (12分)

(1) 苏格拉底——西方哲学的奠基者之一。(2分)

公元前5世纪，雅典奴隶制民主政治高度发展。受智者学派影响，雅典城邦世风日下、道德沦丧。苏格拉底倡导“有思想力的人是万物的尺度”，提倡“美德即知识”、“认识你自己”等，致力于探讨人生哲理和社会伦理，使哲学成为一门真正研究“人”的学问。他热爱城邦，尊重法律，重视教育和道德，其捍卫真理、视死如归的精神令人敬仰。(4分)

(2) 莎士比亚——英国文艺复兴运动的杰出代表。(2分)

16、17世纪的欧洲，随着资本主义发展及资产阶级的壮大，以人文主义为核心文艺复兴运动进入高潮。莎士比亚是该时期英国伟大的戏剧家。他的作品《哈姆雷特》、《李尔王》等，热情讴歌人的伟大，称人是“宇宙的精华，万物的灵长”，充分体现了人文主义的政治理想和道德观念，使人们更多地关注人类本身与现实世界，推动了文艺复兴运动的发展和欧洲文化的进步。(4分)

45. (15分)

(1) 内容：(7分，答出三点给满分)

- ① 整顿被荒废的各项货币改革政策；
- ② 恢复铸造和通行夹锡钱，并加强监督；

- ③ 重新定位小钞，强令流通官家大额当十钱等钱币；
- ④ 禁止民间盗铸，凡私铸的钱币限期兑换；

(2) 影响：(8分，答出四点给满分)

- ① 一定程度上稳定了国内金融秩序，促进经济发展。
- ② 铸币权收归中央，有利于加强中央集权。
- ③ 短期内增加财政收入，缓解北宋军国之需。
- ④ 发行大额当十钱等货币，导致通货膨胀，影响民生。
- ⑤ 大额货币的流通，刺激民间盗铸歪风，冲击了改革效果。

【解析】史上有关蔡京币制改革虽褒贬不一，但以负面评价居多。他几度为相，力推官版当十钱（折十钱，即以一当十，折合十文小平钱）等大额货币，引发民间盗铸、通货膨胀，以致钱法大乱，危及国本。本题着重考查学生阅读分析材料、归纳材料的能力，了解中央集权、铸币权和通货膨胀等基本概念，进而理解国家金融政策相对稳定、适度改革的重要意义。

46. (15分)

(1) 原因：(8分，任意回答四点可得满分)

- ① 根源于资本主义的扩张本性；
- ② 美国早期扩张的历史传统影响；
- ③ 美国经济霸主地位的确立刺激其扩张野心；
- ④ 西方“优胜劣汰”的社会达尔文主义的影响；
- ⑤ 美、苏国家利益的冲突和价值观斗争的需要。

(2) 说明：(7分，任意回答四点可得满分)

(以海外扩张时期 1898—1945 为例)

- ① 第二次工业革命后，美国经济实力迅速增长，垄断资产阶级积极对外寻求原料产地、商品市场和投资场所。
- ② 1898 年发动美西战争，从西班牙手中夺取古巴、菲律宾。
- ③ 1899 年，提出门户开放政策，为渗透中国积极布局。
- ④ 1917 年主动参加一战，战后布局巴黎和会，倡导建立国际联盟，介入欧洲事务。
- ⑤ 1921—1922 年，主导华盛顿会议，构建华盛顿体系，扩张其亚太势力。
- ⑥ 1944 年，利用其在二战中的影响力以及强大的经济实力，构建由美国主导的战后世界经济秩序——布雷顿森林体系。

47. (15分)

(1) 贡献：(9分，任意回答三点可得满分)

- ① 领导平江起义，创建红五军；
- ② 参与创建湘鄂赣及巩固中央等革命根据地斗争，多次粉碎国民党的“围剿”；
- ③ 开展土地革命及根据地建设，践行农村包围城市、武装夺取政权的革命道

路；

- ④担任红三军团及中央军委副主席等要职，成为中央苏区主要领导成员；
- ⑤参与和领导二万五千里长征，推进中共的战略转移。

(2) 精神：(6分，任意回答三点可得满分，言之有理即可)

- ①实事求是、敢闯新路；
- ②坚定信念、矢志不渝；
- ③依靠群众，艰苦奋斗；
- ④与时俱进，把握大局。

2023 年九江市三模考试政治答案

12	13	14	15	16	17	18	19	20	21	22	23
C	B	B	D	C	A	C	A	A	C	D	D

12.C 解析：①中转移支付收入未体现，③一二三产业融合和产业结构优化与题意无关；故选 C 项②④。

13.B 解析：②中健全支持专精特新企业服务体系才有利于提高出口质量；③中优化专精特新企业股权结构非国家可做的措施，故不选；故选 B 项①④

14.B 解析：A 中经济扩张期中降低利率说法错误、经济紧缩期中增加税收的措施错误；C 中经济扩张期减少税收说法错误；D 中经济紧缩期中物价上涨和提高利率说法错误。故选 B 项。

15.D 解析：①中大量资本脱离社保说法错误，②中实现了说法错误，个人养老金制度市场化运营有风险。故选 D 项③④。

16.C 解析：①中创新和完善组织体系与题意无关且不是目的，④中群众对人大代表的监督与题意无关。故选 C 项②③。

17.A 解析：③中创新中国特色社会主义理论体系与题意无关；④中要求以党的政治建设为统领推进党的建设而非思想建设。故选 A 项①②。

18.C 解析：①中强调是对我国的影响而不是对世界的影响，④中各种难题说法错误，正确表述为多种难题。故选 B 项②③。

19.A 解析：③中丰富中华优秀传统文化的内涵说法错误，④中的主要途径说法错误。故选 A 项①②。

20.A 解析：③中文化产业在材料中未涉及；④中会普及电子读物并减少群众对纸质书籍的需求无法从题干中得出。故选 A 项①②。

21.C 解析：①中的表述与题意无关，题干并未有实践直接现实性的表述；④中经过人民群众的实践的检验是正确的才有是真理。故选 C 项②③。

22.D 解析：①中的根据自身需要创造联系说法错误；②中说法错误，排除。故选 D 项③④

23.D 解析：①中的社会历史性表述与题意无关；题干中的差异性的认识不是真理②排除。故选 D 项③④。

38. 经济信息：2022 年我国粮食总产量、播种总面积和谷物单产同比均有所增长；

(2 分) 我国粮食产量稳步提高，粮食安全有保障。(2 分)

原因：①严守耕地红线，推进高标准农田建设，保障了粮食安全，提高了粮食产量；(2 分) ②完善收益保障机制，保护农民种粮积极性；(2 分) ③加强农业科技创新，推进农业供给侧改革，完善农业服务体系；(2 分) ④健全农业投入机制，发挥财政促进农业资源的合理配置；(2 分) ⑤充分发挥市场对农业资源配置的决定性作用，调整农业生产关系，提高农业生产水平。(2 分)

39. ①人民政协是中国共产党领导的多党合作和政治协商的重要机构，人民政协在把党的主张转化为社会各界的共识和行动中坚持了党的领导；(3 分)

②围绕团结和民主两大主题，形成了汇集各界人士的爱国统一战线，凝聚了共识，汇集了共建现代化行动的强大力量；(3 分)

③利用现代技术手段，创新了政协履职方式，拓宽了党与社会各界协商民主的渠道，在更大范围内形成了同心同向的团结整体；(3 分)

④推进协商民主广泛多层制度化、规范化发展，将制度优势和发扬民主相结合，有效地把党的主张转化为社会各界的共识和行动。(3 分)

40. (1) ①现代化的科技手段更新了文化传播的手段，扩大了宣传范围，增进了人们保护历史文化遗产的意识；(3 分)

②科技为文化遗产修复提供了物质技术手段，延续了历史文化遗产的“生命”，有利于铸牢中华民族共同体意识、坚定文化自信；(3 分)

③科技是推动文化发展的重要因素，数字化采集影像可跨越时空界限，促进优秀传统文化的创造性转化和创新性发展；(4 分)

(2) ①人能够能动的认识世界，意识活动具有目的性，对石窟寺历史文化遗产的保护需要科学的规划，有针对性的保护；(3 分)

②意识活动具有自觉选择性，在保护历史文化遗产的过程中充分发挥科技这一重

要的手段对文化遗产的修复和保护功能；（3分）

③意识活动具有主动创造性，在保护历史文化遗产中充分发挥主观能动性，尊重文物保护规律，找到了历史文化遗产“永生”的方法；

④人能够能动的改造世界，在充分认识历史文化遗产积极作用的指导下，通过与高校的合作和利用现代化科技手段实现了对历史文化遗产的保护和对优秀传统文化的创造性转化和创新性发展。（3分）

(3)保护历史文化遗产，延续我们的精神血脉；用好历史文化遗产，坚定文化自信。（每条2分，总分4分）

关于我们

自主选拔在线是致力于提供新高考生涯规划、强基计划、综合评价、三位一体、学科竞赛等政策资讯的升学服务平台。总部坐落于北京，旗下拥有网站（[网址: www.zizzs.com](http://www.zizzs.com)）和微信公众平台等媒体矩阵，用户群体涵盖全国90%以上的重点中学师生及家长，在全国新高考、自主选拔领域首屈一指。

如需第一时间获取相关资讯及备考指南，请关注**自主选拔在线**官方微信号：[zizzsw](https://www.zizzs.com)。



微信搜一搜

 自主选拔在线