

海淀区高三年级第一学期期中练习

4.

政 治

2018.11

第一部分（选择题，共40分）

本部分共 20 小题，每小题 2 分，共 40 分。在每小题列出的四个选项中，选出最符合题目要求的一项。

1. 网络时代，你“种草”了吗？“种草”指消费者把某种产品或服务推荐给他人，使其喜爱并购买。促使消费者为其产品积极“种草”，企业应当

5.

- ①加大科技投入，创新营销手段
 - ②鼓励顾客的攀比心理，激发消费欲望
 - ③提升商品品质，满足个性化需求
 - ④完善信用体系，构建良好市场环境
- A. ①③ B. ①④ C. ②③ D. ②④

2. 开学初，小源到建设银行营业网点兑换了此前在网上预约的中国高铁纪念币。这枚纪念币由中国人民银行发行，面额 10 元，每人限兑 20 枚，且需要提前预约。小源打算与班上同学分享自己的喜悦。他可以向大家这样介绍

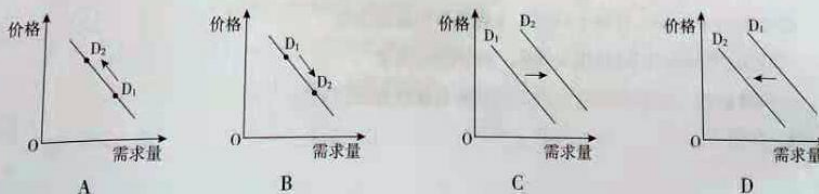


图 1

- ①纪念币面额和实际购买力都是由中国人民银行规定的
- ②纪念币可以直接购买商品，也具有支付手段等货币职能
- ③纪念币发行量有限，具有一定的收藏价值和升值空间
- ④纪念币不能与同面额人民币等值流通，必须在规定时间地点使用

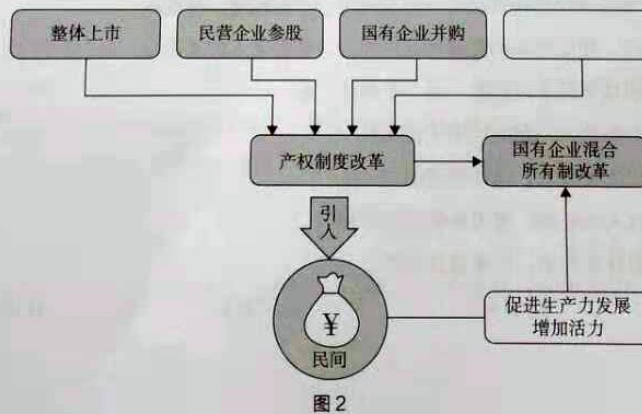
- A. ①③ B. ①④ C. ②③ D. ②④

3. 2018 年，随着国际原油价格变动，我国国内汽柴油价格也有所上升。若用 D1、D2 分别表示油价调整前后国内燃油汽车的需求量。不考虑其他因素，下列图形中能正确反映国内燃油汽车需求量变化的是



2018年9月23日是农历秋分节气，也是首个“中国农民丰收节”。回答第4、5题。

4. “中国农民丰收节”的设立，可以提升亿万农民的荣誉感、幸福感、获得感，有助于实施乡村振兴战略，解决好“三农”问题。必须始终把解决好“三农”问题作为全党工作重中之重，原因在于
- ①农业农村农民问题是关系国计民生的根本性问题
 - ②改变农业农村落后面貌，有助于全面建成小康社会
 - ③加快推进农村现代化就是筑牢现代化经济体系的坚实基础
 - ④城乡发展不平衡不协调是现阶段我国亟待解决的结构性矛盾
- A. ①②③ B. ①②④ C. ①③④ D. ②③④
5. “一骑红尘妃子笑，可能荔枝已焉了”，这是2018年我国荔枝60亿斤大丰收后面临的窘境。丰收年里，销售成为农业增产不增收的瓶颈。如何尽量避免出现类似问题呢？政治课上，同学们提出了建议，其中合理的有
- 甲：推动农业机械化，提高劳动生产率
乙：研发推广农产品保鲜技术和深加工技术
丙：扩大种植面积，以规模优势降低种植成本
丁：挖掘交通运输潜力，助力农产品远程销售
- A. 甲丙 B. 甲丁 C. 乙丙 D. 乙丁
6. 国有资本、集体资本、非公有资本等交叉持股、相互融合的混合所有制经济是基本经济制度的重要实现形式，可以使公司治理机制、决策机制、激励约束机制发生质变。最适合填入图2空白处的措施是



- A. 员工持股 B. 财政补贴 C. 银行借贷 D. 发行债券

高三年级（政治）第2页（共10页）

7. 沪深交易所数据显示,今年上半年A股上市公司整体实现营收和净利润双增长。其中,实体经济领域的企业表现好于金融行业,转型升级和科技创新型企业增长较快。由此可以推断出
- A. 上市公司是有限责任公司的组成部分,在国民经济中起主导作用
 - B. 实体经济是财富创造的根本源泉,金融行业的作用将会逐渐减少
 - C. 实体经济与金融行业在经济发展中相互促进,未来将形成产业融合
 - D. 我国经济发展坚持新发展理念,深化供给侧结构性改革效果显著
8. 作为两种重要的经济指标,居民消费价格指数(CPI)反映消费环节,即居民家庭购买的消费品和服务价格水平的变动情况;而工业生产者出厂价格指数(PPI)反映生产环节,即企业购买的燃料、建材等物品和劳务价格水平的变动情况。对CPI和PPI理解不正确的是
- A. 当价格的变化出现在生产领域时,可能会通过产业链向下游扩散
 - B. 需求旺盛推动消费领域价格上涨,可能会向生产领域传递
 - C. 理论上,PPI与CPI的变动呈负相关,可以借助PPI预测CPI的变化
 - D. 政府对某些商品价格的调控政策可能造成PPI与CPI传导路径受阻
9. 对癌症病人来说,时间就是生命。电影《我不是药神》讲述患病群体用药难题,引发舆论热议。国务院要求有关部门加快落实抗癌药“降价保供”。下列措施合理的有
- ①尽量降低抗癌药生产和进口环节的税收负担
 - ②规范流通环节,大幅降低跨境电商企业的利润
 - ③支持抗癌药研发,政府部门深度参与企业经营
 - ④集中采购,将相关抗癌药纳入社会保险报销目录
- A. ①③ B. ①④ C. ②③ D. ②④
10. 个人所得税法迎来了又一次大修。新“个税法”将起征点由每月3500元提高至5000元;工资薪金等四项劳动性所得首次实行综合征税;子女教育、继续教育、大病医疗、住房贷款利息或者住房租金、赡养老人的支出也将作为专项附加项目予以扣除。新“个税法”将
- ①显著减少财政收入,影响经济平稳运行
 - ②增加居民可支配收入,增强消费能力
 - ③降低中低收入者税负,着力保护劳动所得
 - ④有利于实现社会公平,消除贫富差距
- A. ①③ B. ①④ C. ②③ D. ②④




图3

科技的发展给我们的经济生活带来许多变化。回答第 11、12 题。

11. 你听过“零工经济”吗? 通过网站或 APP, 分享你的知识、技能、经验, 帮别人解决问题从而获取报酬。在全职工作之外, 利用碎片化时间打“零工”; 若是处在求职空档期, 也可以尝试时间短、形式灵活的小项目。以下对“零工经济”的认识不正确的是
- A. 劳动者通过“零工经济”取得的收入属于按资本要素分配
 - B. “零工经济”可以降低就业成本, 增强劳动者就业灵活性
 - C. “零工经济”可能会给劳动者维护自身权益带来困难
 - D. “零工经济”将对我国社会保障体系建设带来挑战
12. 火车票“无纸化”时代来了! 多条高铁线路已实现乘客刷身份证直接进站乘车, 而无需特意换取纸质车票。中铁总公司宣布这一方式将于明年在全国推广, 未来还将研发“刷脸”“刷手机”进站乘车的技术。火车票“无纸化”将有利于
- ①改善乘客的出行体验, 提高消费质量
 - ②节省铁路行业研发成本, 提高经济效益
 - ③充分发挥财政作用, 有效配置公共物品
 - ④减少排队取票的客流压力, 保障公共安全
- A. ①③ B. ①④ C. ②③ D. ②④
13. 特别提款权是国际货币基金组织创设的一种国际储备资产。2016 年 10 月 1 日, 人民币被纳入特别提款权货币篮子, 占比为 10.92%, 与美元、欧元、英镑和日元一起跻身全球储备货币之列。“入篮”两年来, 有超过 60 个国家和地区将人民币纳入外汇储备, 28 个国家宣布使用人民币进行贸易结算, 超过 1900 家金融机构使用人民币作为支付货币。对此分析正确的有
- ①特别提款权货币篮子更加多元化, 代表性更强
 - ②人民币国际化程度增强, 成为最主要的世界货币
 - ③人民币汇率稳定性增强, 中国外汇储备安全性提高
 - ④中国经济更深融入国际经济, 经济地位日益提高
- A. ①③ B. ①④ C. ②③ D. ②④
14. 2018 年 9 月 24 日, 国务院发布了《关于中美经贸摩擦的事实与中方立场》白皮书, 澄清中美经贸关系事实, 阐明中国对中美经贸摩擦的政策立场, 推动问题合理解决。以下对中美经贸摩擦认识正确的有
- ①国家间的经贸摩擦是你输我赢的零和游戏
 - ②加强自主创新, 有助于我国在贸易竞争中赢得主动
 - ③我国应积极利用世贸组织规则, 合理表达诉求
 - ④只要理性、平等地沟通, 中美之间所有摩擦都可以消除
- A. ①③ B. ①④ C. ②③ D. ②④

15. 黑格尔说：“密涅瓦的猫头鹰要等到黄昏到来，才会起飞。”马克思则把自己创立的新哲学形象地比作为人类解放报晓的“高卢雄鸡”。对以上两个比喻理解正确的有 19
- ① “在黄昏中起飞的猫头鹰”揭示了哲学对时代的塑造和引导功能
 ② “在黄昏中起飞的猫头鹰”意在说明哲学是一种理性的沉思
 ③ “高卢雄鸡”指出真正的哲学可以直接推动社会的进步
 ④真正的哲学既是“在黄昏中起飞的猫头鹰”，也是“高卢雄鸡”
- A. ①③ B. ①④ C. ②③ D. ②④
16. 天地间有杆秤，称斤两，量人心。古人以十六两为一斤，秤上刻有十六颗秤星，分别代表北斗七星、南斗六星以及福禄寿三星，告诫商人做生意不能缺斤短两，称重短一两少福，少一两减禄，缺三两折寿。以下对传统杆秤的文化内涵理解正确的是 20
- A. 星宿与秤星之间的对应关系是客观的、固有的
 B. 福禄寿与商品重量相互联系是价值规律的表现形式
 C. 人们的美好愿望构建了商业活动与道德行为之间的联系
 D. 心中秤影响手中秤，人们能够建立新的联系为生活服务
17. 小源在参加学校戏剧节的活动时发现了中西方戏剧艺术表现方式的差异：西方戏剧舞台布景往往像缺面墙的房间，要求演戏像实际生活一样真实；而中国戏曲往往不需要真实布景，通过虚拟动作来展现空间的变化。对这种差异理解正确的有
- ①西方戏剧以写实为主，是对生活的主观映象
 ②中国戏曲以写意为主，并不依赖于现实世界
 ③审美观念受主客观因素影响而具有主体差异性
 ④只有亲身实践才能获得对事物的正确认识
- A. ①③ B. ①④ C. ②③ D. ②④
18. 热带沙漠出现人造绿洲，而且还长出了中国水稻！袁隆平带领科研团队，克服重重困难，装配智能喷灌灌溉系统，根据水稻不同时期需肥特点、土壤环境和养分含量状况，精确控制喷头和喷枪定时定量喷洒水分和养分，最终取得实验成功。这说明
- ①科研团队创新意识是实验取得成功的首要前提
 ②成功的实践基于对事物客观规律的正确把握
 ③水稻与种植环境间联系的变化使规律发生了转变
 ④把握联系的多样性对建立新联系具有重要意义
- A. ①③ B. ①④ C. ②③ D. ②④

19. 近 20 年来，科学家对于生命制造的技术能力不再局限于基因修饰，而是希望创造出新的生物分子。我国科研团队历经四年攻关成功创建了首例人造单染色体真核细胞，这一研究成果为人类对生命本质的研究开辟了新方向。这项研究的成功体现了
- A. 生命制造技术的水平依赖于人们对生命本质的认识水平
 - B. 科研创新可以完善生命科学规律，创造新的生命形态
 - C. 人们对生命制造的研究在不断超越已有成果中实现发展
 - D. 领先现有研究水平的新观念是取得科研成功的根本条件

20. 神马、有木有、赞……当网络流行语遇见甲骨文，就会擦出奇妙的火花。近来，甲骨文表情包走红网络。网友表示：汉字发端于甲骨文，是由象形表义发展而来的图形符号文字，造字伊始即极具表情包



魅力，一经动画激活，更活灵活现，真是帅呆了！对这一现象认识正确的有

- ①设计者发挥主观能动性创造出甲骨文与表情包结合的新形式
 - ②从甲骨文到表情包文字是一个从低级到高级的发展过程
 - ③甲骨文与表情包碰撞出火花体现了当代文字设计领域的发展
 - ④甲骨文历经千年文化积累在现代网络技术催化下完成质变
- A. ①③ B. ①④ C. ②③ D. ②④

第二部分（非选择题，共60分）

- 21.（5分）2018年夏天，北大哲学系毕业生制作的MV《哲学有点甜》刷爆了朋友圈。
海风吹拂过，爱琴海群星闪烁，世界本原是水是数是火。未经反思生活，值不值得一过……
谢谢哲学教我如何生活。

——《哲学有点甜》歌词

哲学不是宗教，为什么却能给人以信仰？哲学不是科学，为什么也给人以真理？哲学不是艺术，为什么也能给人以美感？哲学不是道德，为什么也劝导人向善？那么难道说，哲学什么都是，又什么都不是吗？

——孙正聿：《哲学通论》

“哲学什么都是，又什么都不是吗？”选择你生活中的一个案例，并结合所学，谈谈你对这个问题的理解。

22. (14分) 北京市启动了废弃电器电子产品新型回收利用体系建设, 多家企业参与其中。

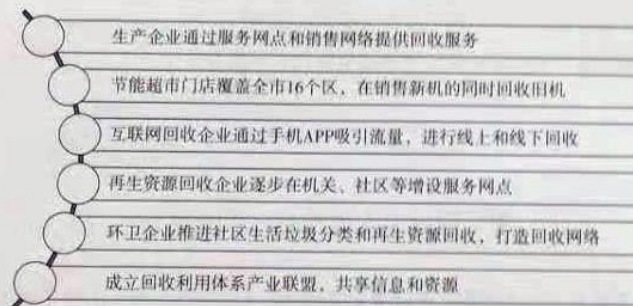
材料一 6月的一天, 西城区冰窖口胡同8号院的小广场上, 多家试点企业早早摆好摊位, 准备迎客上门。

格力电器提供了一系列“以旧换新”的机型, 市民的家用空调、电视机、台式电脑、笔记本电脑等旧家电, 在购买新家电时可用来自抵100元至900元不等的金额。再生资源回收利用企业华新绿源建立起回收、运输、拆解的全流程体系。设在国美电器门店的节能超市, 可在居民换新机时同步回收旧机。爱博绿等企业则提供在线估价、上门回收、专业数据清除等服务。

“回收手机前为您清除数据, 保障信息安全; 旧家电直接帮忙搬下楼, 现场折价给钱。”正规的废弃电器电子产品回收企业进社区, 不少居民都趁这个机会, 清理了家里的电子垃圾。

(1) 回收企业在为回收产品定价时需要考虑哪些因素? 简要说明理由。(6分)

材料二 北京市正在建设的新型回收体系创新了回收模式, 通过系统打包的方式整体推进回收工作。北京市对这一体系的规划如下:



(2) 结合所学知识, 分析上述规划的制定是如何运用联系观的?(8分)

23. (8分) 为乘客出行构建“安全防火墙”。

滴滴以新兴技术和创新模式给出行领域带来变革, 但这样的独角兽带着天然的缺陷: 以高额的补贴, 低门槛的进入, 大规模地吸纳司机, 意图迅速抢占市场, 而缺乏相应的安全体系和预警系统建设。

近两年随着网约车新政逐步落地, 网约车司机资质、牌照等要求逐渐收紧, 但仍然有多位用户反映, 曾多次在乘坐网约车时遇到系统显示车牌与实际车辆不符, 甚至显示为本地号牌、司机实际驾驶车辆为外



图5

地车牌的情况。

没有便捷和安全的双提升，就没有人民群众的获得感。真正保障用户出行安全，不仅需要“技术加持”，更要求网约车平台从机制和发展战略上给“安全加码”。网约车作为公共交通服务的一部分，必须将公共安全放到首位，然后才谈得上体验感与便捷性。

结合材料，运用所学经济学知识，为乘客出行构建“安全防火墙”出谋划策。

24. (11分) “明者因时而变，知者随事而制”，经济政策需要因时而变。

减税降费是贯彻新发展理念、培育发展新动能的重要政策。几年前我国经济遇到很大下行压力、财政收入十分困难，但我们不是通过强征管多收税，而是下决心大力度推进营改增改革，通过减税降费更大程度激发市场活力，为经济稳中向好提供了有力支撑。当前国际形势错综复杂，我们要继续实施减税降费这一普惠性政策，引导和稳定市场预期。5月1日起实施的增值税改革，将原适用17%税率的制造业等行业和11%税率的建筑业、交通运输业等行业的税率分别下调1个百分点，预计全年可减税2400亿元。

(1) 运用唯物论的知识说明我国为什么要实施减税降费?(6分)

时间	时任总统	理论依据	政策主张	效果
50年代	杜鲁门	①	充分就业	经济繁荣
60年代	肯尼迪		赤字财政	
70年代	尼克松		交替使用紧缩财政和赤字财政	②
80年代	里根	新自由主义	③	缓解危机又导致了新危机
90年代	克林顿	综合①和新自由主义	“宏观调控，微观自主”的经济政策	进入“新经济时代”

(2) 上表是二战后美国经济政策的变化情况。根据所学知识，将上表补充完整。(5分)

25. (22分) 40年, 大国铿锵的足音。

第一支股票的诞生

在20世纪80年代初, 国企到底应该怎样改革, 怎样走上一条有别于计划经济的路, 是许多人都正在思考的问题。

企业要发展, 资金是关键。1984年, 时任上海飞乐电声总厂厂长的秦其斌提出了股份制的构想, 企业拿出一些钱, 再向企业内部职工集资一些钱, 这样既解决资金问题, 又能把职工的利益和企业的命运联系在一起, 可谓一举两得。

在《新民晚报》的推动下, 飞乐开始向社会公开发行股票, 每股50元, 共1万股。这是我国改革开放新时期的第一支股票, 人们亲切地称其为“小飞乐”。一张“小飞乐”还被邓小平作为国礼赠送给外宾, 如今陈列在纽约证券交易所的橱窗内。通过多年的送配, 当年的一股“小飞乐”如今已变成3183股, 市值由50元变成最高时的10.76万元, 回报率高达2152倍。

秦其斌回忆说, “那时还没有严格意义上的发行承销商, 也没有明确详细的法律法规, 我们就这么摸着石头过河。”“小飞乐”承担起了我国股票市场从无到有的零的突破, 开创了中国企业由国营一统到与股份制并举的先河, 向有别于计划经济的社会主义市场经济又迈进了一步。

(1) 结合所学知识, 分析从第一支股票的诞生到股票市场的逐步完善, 为我国经济发展带来哪些影响?(6分)



图6

摸着石头过河

我们现在所干的事业是一项新事业, 马克思没有讲过, 我们前人没有做过, 其他社会主义国家也没有干过。所以, 没有现成的经验可学, 我们只能在干中学, 在实践中摸索。

一个13亿多人口的大国实现现代化, 在人类历史上没有先例可循。中国的发展注定要走一条属于自己的道路。我们“摸着石头过河”, 不断深化改革开放, 不断探索前进, 开创和发展了中国特色社会主义。

(2) “摸着石头过河”这一富有民间智慧的俗语常被用来表示一种科学的工作方法。结合《生活与哲学》相关知识, 分析在改革开放的进程中“摸着石头过河”的合理性。(6分)

1小时能干什么？

1小时能干什么？过去40年，不同的答案差距如此悬殊。

53岁的谢明生是一位地道的农民。1978年，他1小时只能割完一小垄麦子。这种状况持续了十多年，一直到1992年村里有了拖拉机，而这之后，收割所需的时间越来越短。今年夏天，谢明生站在自家田埂上指挥两台收割机，1小时就收完了20亩小麦。

44岁的个体户韩永会在北京工作，“以前火车时速只有100多公里，现在高铁最快能跑300多公里，两个孩子每年都来和我团聚。”我国第一条高铁——京津城际高铁开通至今不过十年。这期间，我国实现了高铁列车从依赖进口到全球领先的“华丽转身”。截至2017年底，全国已建成2.5万公里高铁。高铁成为亮丽的中国名片。

52岁的郭晓宏是一名邮政速递职工。他参加工作是在改革开放后的第3年，那时他每天穿着一双黄胶鞋，背着15斤重的邮包穿行在30公里山路上，1小时走5公里，一天送不了几件邮件。“而现在我们公司1小时能发送2500件快递。”过去5年，中国每年的快递业务量从57亿件增长到401亿件，连续4年稳居世界第一。

1978年我国国内生产总值只有3645亿元，1小时仅创造4100多万元产值；2017年国内生产总值约82.7万亿元，每小时能创造约94亿元产值。2017年我国平均1小时有超过211万旅客出行，移动支付近230亿元，收发快递近460万件，进出口大约32亿元货物……

这就是改革开放40年所创造的中国奇迹，1小时就能让你看清楚。

(3) 在下列关键词中选择一个或几个作为主题，结合所学经济知识，谈谈你对“中国奇迹”的感悟。(10分)

关键词：对外开放，社会主义市场经济，结构调整，科技创新，新发展理念，现代化经济体系

海淀区高三年级第一学期期中练习

政治 参考答案

2018 . 11

第一部分 (选择题 , 共 40 分)

题号	1	2	3	4	5	6	7	8	9	10
答案	A	C	D	B	D	A	D	C	B	C
题号	11	12	13	14	15	16	17	18	19	20
答案	A	B	B	C	D	D	A	D	C	A

第二部分 (非选择题 , 共 60 分)

21 . (5 分)

评分标准 :

等级水平	等级描述
水平 4 (5 分)	知识运用准确 , 阐述问题条理清楚 , 逻辑严密 , 事例恰当 , 显示出较高的学科素养。
水平 3 (3-4 分)	知识运用比较准确 , 阐述问题有条理 , 能用事例说明问题 , 显示出基本的学科素养。
水平 2 (1-2 分)	知识和事例存在明显欠缺。
水平 1 (0 分)	应答与试题无关 ; 或重复试题内容 ; 或没有应答。

22 . (14 分)

(1) 答案要点 :

①从商品本身看 , 考虑二手商品的折旧率 , 是否具有较好的实用性 (如外观、性能、配件供应等) 。理由略。

②从市场角度看 , 参考市场对本品牌产品的认知度和市场保有量 , 相关商品的价格 (如同品牌或者同款商品的全新产品价格 , 友商同类商品的价格等) 。理由略。

③从运营成本看，如上门取货费用、验货费用、运输成本、门店铺设费用等。理由略。

(其他答案言之有理，可酌情给分)(6分)

(2)联系是普遍的。北京市做到了用联系的观点看问题，在推进电子产品回收时坚持各个部门联动，通过试点企业之间的相互合作，搭建回收体系。

事物的联系是多种多样的。北京市坚持了一切以时间、地点和条件为转移，参与回收试点的企业根据自身条件，借助APP、进行线上线下回收等方式，提供各具特色的回收服务。

系统的基本特征是整体性、有序性和内部结构的优化趋向。北京市注意运用综合思维的方式推进回收工作，坚持从整体出发，通过系统打包，整合优化各种资源。(其他答案言之有理，可酌情给分)(8分)

23.(8分)

平台企业要改进技术手段，通过真实身份识别验证等机制，加强管控，保障乘客安全；加强培训宣传，引导司机等服务人员提高服务意识，保证服务品质。

政府部门加强社会诚信建设，完善以道德为支撑、法律为保障的社会信用制度，建立网上征信系统，允许平台企业进行相关记录查询；完善法规制度，创新监管方式，加强对平台企业的监管，促使其改进技术、加强管理，切实保障乘客安全。(其他答案言之有理，可酌情给分)

24.(11分)

(1)物质决定意识，我国政府坚持从客观实际出发，在综合考虑国内经济发展状况以及国际形势等实际情况的基础上制定了营改增等一系列减税降费政策。意识具有能动作用，意识活动具有目的性、主动创造性，我国政府根据宏观经济态势，拟定普惠性政策，发挥正

确意识对改造客观世界的指导作用，有利于激发市场活力，引导经济运行稳中向好。（其他答案言之有理，可酌情给分）（6分）

（2）①凯恩斯主义。②滞胀。③新自由主义一般都坚持经济人假设、完全市场信息假设和完全竞争市场假设；都反对政府对经济的过多干预，主张政府作用最小化、市场自由化；都认为私有制是最有效率、最符合人性的永恒制度，是市场经济的唯一基础；都反对社会主义和公有制，主张私有化。（5分）

25.（22分）

（1）股票市场的建立和发展，为个人提供了投资理财的新途径，有利于增加财产性收入；为企业发展筹集了资金，有利于推动企业改革和发展；完善了现代市场体系，促进资金融通，提高资金使用效率，有利于社会主义市场经济的发展。（6分）

（2）答案要点：摸着石头过河实际上就是摸规律。实行改革开放，我们前人没有做过，其他社会主义国家也没有干过。只能通过实践、认识、再实践、再认识的反复过程，在实践中认识和发现真理，在实践中检验和发展真理。实践发展永无止境，认识真理、进行理论创新也永无止境。摸着石头过河，符合人们对客观规律的认识过程。（其他答案言之有理，可酌情给分）（6分）

（3）评分标准：

等级水平	等级描述
水平 4 (9-10分)	观点鲜明，能明确表达自己的见解；紧扣问题，全面展开论述，或就某点深入分析；知识运用准确、贴切；逻辑严密，条理清晰。
水平 3 (6-8分)	观点比较明确，能表达自己的见解；能扣住问题展开论述，或能就某点分析；知识运用比较准确、贴切；逻辑性较强，有条理。

水平 2 (3-5 分)	观点不明确；论述不能集中指向问题，罗列知识；知识运用不准确； 论述缺乏逻辑，条理性差。
水平 1 (0-2 分)	应答与试题无关；或重复试题内容；或没有应答。

自主招生在线创始于 2014 年，是专注于自主招生、学科竞赛、全国高考的升学服务平台，旗下拥有网站和微信两大媒体矩阵，关注用户超百万，用户群体涵盖全国 90% 以上的重点中学老师、家长和考生，引起众多重点高校的关注。

如需第一时间获取相关资讯及备考指南，请关注**自主招生在线**官方微信号：**zizzsw**。



微信扫一扫，快速关注