

# 文科综合能力测试

## 注意事项:

1. 答卷前, 考生务必用黑色碳素笔将自己的学校、姓名、准考证号、考场号、座位号填写在答题卡上, 并认真核准条形码上的学校、准考证号、姓名、考场号、座位号。在规定的位罝贴好条形码及填涂准考证号。
2. 回答选择题时, 选出每小题答案后, 用铅笔把答题卡上对应题目的答案标号涂黑。如需改动, 用橡皮擦擦干净后, 再选涂其它答案标号。回答非选择题时, 将答案写在答题卡上。写在本试卷上无效。
3. 考试结束后, 将本试卷和答题卡一并交回。

一、选择题: 本题共 35 小题。每小题 4 分, 共 140 分。在每小题给出的四个选项中, 只有一项是符合题目要求的。

“青豫直流”工程是世界首个以服务光伏发电为主、全清洁能源打捆外送的特高压输电工程, 起于青海省共和县, 止于河南省驻马店市。工程投入运营后, 每年可向河南省输送清洁电能 400 亿千瓦时, 超过该省用电量的八分之一。据此完成 1~2 题。

1. 除光伏发电外, “青豫直流”工程输送的电力还来源于
  - A. 风能、水能
  - B. 水能、天然气
  - C. 天然气、生物能
  - D. 风能、生物能
2. 为保障该工程外送电能的稳定, 需要发展
  - A. 光伏发电技术
  - B. 节能降耗技术
  - C. 集热导热技术
  - D. 电能储存技术

人口老龄化城乡倒置是指一个国家或地区农村人口老龄化程度高于城镇的现象, 一般用人口老龄化城乡倒置度(农村与城镇 65 岁及以上老年人口所占比重之差)来衡量。图 1 示意 1995~2018 年我国城镇老年人口比重及人口老龄化城乡倒置度。据此完成 3~5 题。

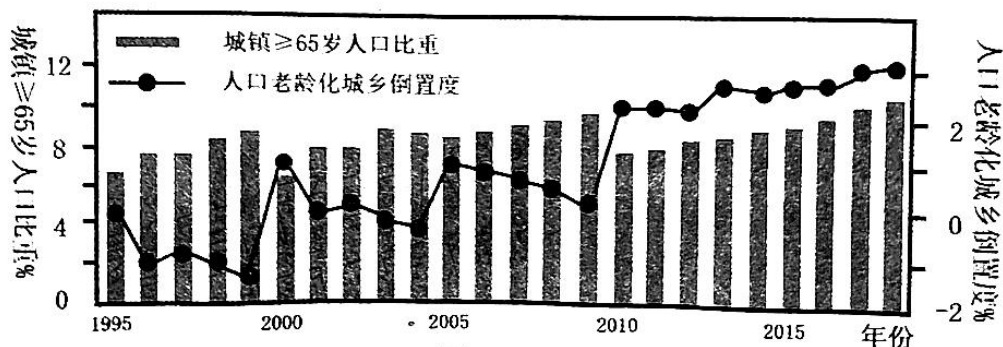


图 1

3. 1995~2018 年, 我国
- A. 人口老龄化城乡倒置度持续增长
  - B. 乡村人口老龄化增幅高于城市
  - C. 城市人口老龄化程度不断降低
  - D. 乡村人口老龄化程度总体升高
4. 导致我国人口老龄化城乡倒置现象加剧的主要原因是
- A. 城乡间交通条件改善
  - B. 城乡间经济水平差异
  - C. 乡村环境优美, 适宜养老
  - D. 乡村医疗水平提高, 平均寿命延长
5. 降低人口老龄化城乡倒置度的最有效措施是
- A. 放宽乡村生育政策
  - B. 完善乡村养老体系
  - C. 城乡统筹融合发展
  - D. 限制城乡人口迁移

强烈的火山喷发会向大气中排放大量的火山灰、水蒸汽和  $\text{SO}_2$  等物质, 并在全球范围扩散, 且会在平流层滞留, 对全球气候产生 1~3 年的影响。1991 年 6 月, 皮纳图博火山多次强烈喷发, 是 19 世纪以来全球最大的火山喷发。图 2 示意皮纳图博火山位置。据此完成 6~8 题。

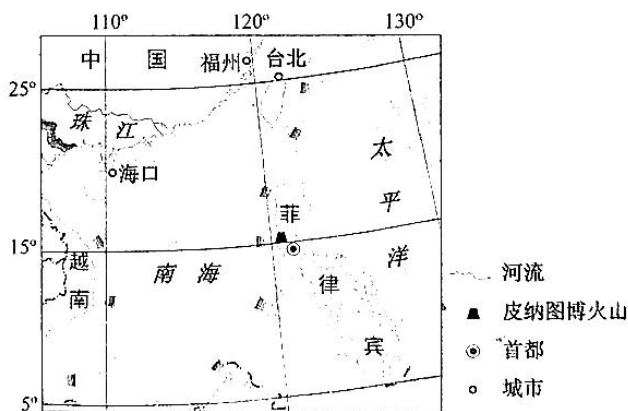


图 2

6. 火山强烈喷发后 1~3 年, 全球平均气温可能
- A. 偏低
  - B. 偏高
  - C. 先升后降
  - D. 忽高忽低
7. 火山强烈喷发影响全球气温的主要原因是
- A. 大量水分蒸发吸收热量
  - B. 岩浆喷发冷却释放热量
  - C. 大气中的喷发物吸收地面辐射
  - D. 大气中的喷发物削弱太阳辐射

8. 皮纳图博火山喷发对我国东部地区降水的影响, 叙述正确的是

- A. 凝结核增多, 降水增加
- B. 水蒸汽增多, 降水增加
- C. 夏季风减弱, 降水减少
- D. 对流运动增强, 降水减少

由于不合理的耕作及长期秸秆离田, 导致我国东北黑土区土壤侵蚀与退化严重。我国技术人员经多年研究, 总结了玉米秸秆覆盖还田保护性耕作技术, 即玉米收获时将秸秆粉碎覆盖在地表, 春耕前把窄行的秸秆归集到宽行, 露出待播种带, 次年轮换(图3)。目前该技术在东北地区多地示范推广, 取得了较好的效益。据此完成9~11题。

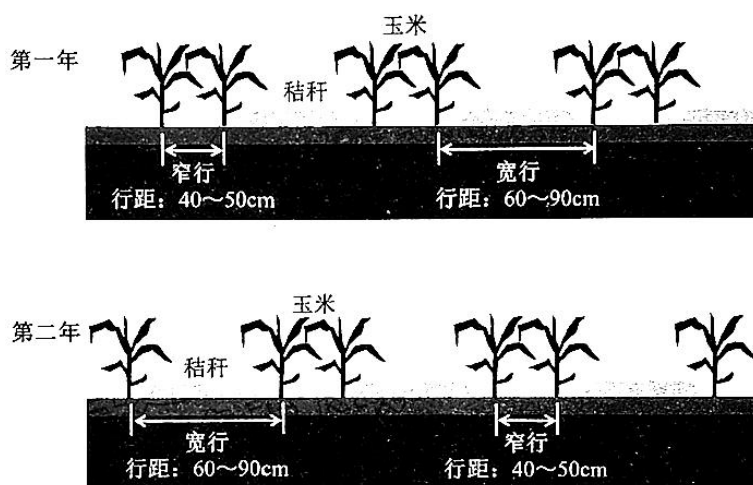


图3

9. 东北地区黑土遭受侵蚀较严重的季节是

- A. 秋冬
- B. 冬春
- C. 春夏
- D. 夏秋

10. 东北地区推广该技术的主要目的是

- ①宽行覆盖秸秆, 增加土壤有机质
- ②宽窄行相间, 增强通风和透光性
- ③窄行种植作物, 减少土壤侵蚀面积
- ④宽窄行轮换耕作, 增强市场灵活性

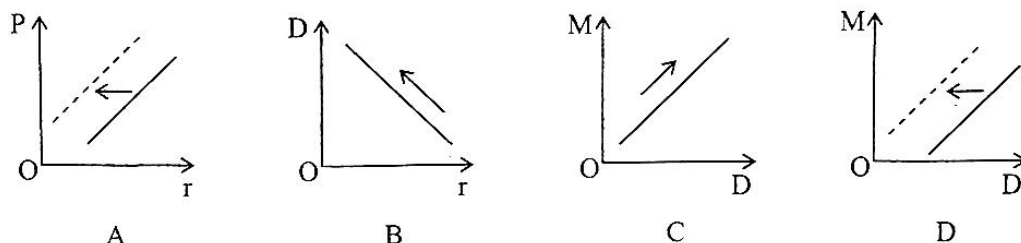
- A. ①②
- B. ①③
- C. ②④
- D. ③④

11. 春耕前, 窄行不覆盖秸秆是为了

- A. 增大水分下渗
- B. 提高土壤温度
- C. 改善土壤结构
- D. 避免杂草生长



12. 2021年12月15日, 中国人民银行下调金融机构存款准备金率0.5个百分点。在其他因素不变的条件下, 下列选项与图示相一致的是



附: P表示物价; M表示货币供应量; D表示需求; r表示存款准备金率(中国人民银行要求的存款准备金占金融机构存款总额的比例)。

- A. 央行下调存款准备金率, 抑制物价上涨  
 B. 央行下调存款准备金率, 实现供求平衡  
 C. 增加货币供应量, 刺激社会总需求  
 D. 减少货币供应量, 抑制社会总需求
13. 2021年11月15日, 北京证券交易所开市交易。在沪深交易所、新三板的基础上, 北交所坚守服务创新型中小企业定位, 突出服务“更早、更小、更新”, 在上市、发行、定价、交易、监管等制度上坚持自身特色, 体现错位发展。设立北京证券交易所对创新型中小企业发展的传导效应正确的是
- ①激发企业创新创造活力, 提升竞争力      ②完善服务不同企业的多层次资本市场  
 ③促进我国经济结构调整、产业升级换代      ④拓宽融资渠道, 缓解企业融资难问题
- A. ②→④→①      B. ②→①→③      C. ④→①→②      D. ④→②→①
14. 慈善事业是一种有益于社会与人群的社会公益事业, 其发展水平是衡量一个国家, 一个民族文明程度的重要标志。发展慈善事业
- ①彰显了效率与公平的统一, 优化财政支出结构  
 ②是对我国社会保障体系的有力补充  
 ③贯彻了协调发展理念, 兜底基本民生底线  
 ④有利于营造社会互助氛围, 促进社会公平
- A. ①③      B. ①④      C. ②③      D. ②④
15. 2021年是中国加入世界贸易组织20周年。入世以来, 中国不断扩大开放, 激活了中国发展的澎湃春潮, 也激活了世界经济的一池春水。下列主要体现中国“激活了世界经济的一池春水”的是
- ①推动建立社会主义市场经济体制, 引领和主导世界经济发展  
 ②维护以世贸组织为核心的多边贸易体制, 推动建设开放型世界经济  
 ③营造公平竞争市场环境, 建设国内统一大市场, 降低对外依存度  
 ④深化多双边和区域经贸合作, 推动全球价值链供应链更加完善
- A. ①②      B. ①③      C. ②④      D. ③④






16. 十三届全国人大常委会第三十一次会议审议通过了关于修改审计法的决定,首次明确领导干部自然资源资产离任审计的法律地位。开展领导干部自然资源资产离任审计是我国加快生态文明体制改革、建设美丽中国的重点举措。材料表明
- ①我国生态文明建设要坚持依法治国,以良法促发展
  - ②权力机关积极行使监督权,对政府部门进行有效监督
  - ③政府依法履行经济建设和生态文明建设的职能
  - ④领导干部要牢固树立生态文明建设观念
- A. ①②      B. ①④      C. ②③      D. ③④
17. 习近平总书记在中央人大工作会议上指出:“要充分发挥人大代表作用,做到民有所呼、我有所应。要丰富人大代表联系人民群众的内容和形式,更好接地气、察民情、聚民智、惠民生。”这要求人大代表
- ①坚持民主决策,依法行使参与权、决定权
  - ②提高履职能力,切实维护人民群众的根本利益
  - ③创新工作方法,发挥在民主管理中的主体作用
  - ④密切联系群众,努力为人民服务,对人民负责
- A. ①②      B. ①③      C. ②④      D. ③④
18. 1971年10月25日,中华人民共和国恢复了在联合国的一切合法权利。50多年来,中国持续为联合国事业贡献力量,“中国名片”闪耀世界,为构建新型国际关系贡献中国智慧和方案。这表明我国
- ①遵循《联合国宪章》宗旨和原则
  - ②在处理对外关系中坚持国家利益至上原则
  - ③把坚持合作共赢作为对外关系的出发点和落脚点
  - ④为推动构建人类命运共同体发挥着建设性作用
- A. ①②      B. ①④      C. ②③      D. ③④
19. 2021年12月9日,“天宫课堂”第一课正式开讲。航天员通过视频通话形式向广大青少年生动展示了空间站工作生活场景,演示了微重力环境下细胞学实验、人体运动、液体表面张力等神奇现象,讲解了实验背后的科学原理,并与地面课堂师生进行了实时互动交流。天宫课堂的开设
- ①推动了人类社会经济、政治与文化的发展
  - ②旨在发挥教育的选择、传递、创造文化的功能
  - ③激发了青少年的爱国热情,厚植了爱国情怀
  - ④有利于传播科学文化知识,点燃青少年的科学梦想
- A. ①②      B. ①④      C. ②③      D. ③④

20. 云南象群北迁,吸引着中国乃至世界的目光。对云南象群北迁的系列报道,通过抓取行动细节,讲述负责任、有担当的中国政府,牵动了世界的目光,收获了全球正向反馈,是“中国故事”的一次生动、成功讲述。这启示我们讲好“中国故事”应
- ①弘扬和培育中华民族精神,反对历史虚无主义  
②立足时代,贴近生活,彰显中国建设成就  
③坚守中华优秀传统文化,增强文化自信与文化自觉  
④加强国际传播能力建设,展示真实、立体、全面的中国
- A. ①②      B. ①③      C. ②④      D. ③④
21. 高黎贡山拥有完整的生态系统垂直结构,生物多样性极其丰富。地方政府、科研人员、当地居民等付出多年努力,建立生物走廊带、加强科学研究、开展定期巡护……共同守护着这里的生物多样性。保护生物多样性是基于
- ①生物多样性是人类社会历史发展的总趋势  
②生物多样性决定人类社会的生存与发展  
③人与自然是相互影响、相互联系的有机体  
④生物多样性的保护关系着人类福祉和未来
- A. ①②      B. ①④      C. ②③      D. ③④
22. 北京 2022 年冬奥会会徽(冬梦),图形主体形似汉字“冬”的书法形态,上半部分展现滑冰运动员的造型,下半部分表现滑雪运动员的英姿,体现中国举办的冰雪两大运动的理念。中间舞动的线条流畅且充满韵律,代表举办地起伏的山峦、赛场、冰雪滑道和节日飘舞的丝带,为会徽增添了节日欢庆的视觉感受。材料表明
- ①会徽的设计是对客观存在的能动反映  
②会徽的设计源于创作主体的主观想象  
③艺术创作过程要把握事物之间的联系  
④不同主体对同一事物的认识可能不同
- A. ①③      B. ②③      C. ②④      D. ①④
23. “天下之势不盛则衰,天下之治不进则退。”纵观历史,人类正是在战胜一次次考验中成长、在克服一场场危机中发展。我们要在历史前进的逻辑中前进、在时代发展的潮流中发展。材料蕴含的哲理是
- ①矛盾的同性和斗争性是相辅相成的      ②事物的发展是前进性和曲折性的统一  
③矛盾是事物发展的源泉和动力      ④量变是质变的前提,要坚持适度原则
- A. ①③      B. ②③      C. ②④      D. ①④





24. 一些象形文字本身包含着历史实际内容。下表中的信息反映出商代

甲骨文	今字	今人释义
	耜	当是“耜”的初文，象画（耒）之形
	田	表明在广平的原野上有整齐规则的大片相连的方块熟田
	疆	表明方整的田块经过弓尺丈量，标划出明确的疆界
	畴	像田间按行垄犁耕往返转折
	沟	田间的水沟

- A. 农业生产已有的真实水平  
B. 生产关系发生的根本变化  
C. 牛耕的生产方式比较普遍  
D. 土地经营管理有明确分工
25. 西汉《春秋繁露》说，雁就像“长者”，在民之上，先后有序，有行列之治；羊有角而不用，就像仁者，杀它也不啼，就像死士义者，羔羊跪食于其母，就像知礼的人。作者对动物自然习性的诠释意在
- A. 倡导天人合一  
B. 塑造社会道统  
C. 宣扬君权神授  
D. 重构宗法秩序
26. 唐前期的宫廷乐，既有融合吴楚之音、周齐旧乐，斟酌南北而形成的《大唐雅乐》，又有“播大鼓，杂以龟兹之乐，声震百里，动荡山岳”的《秦王破阵乐》。这反映出
- A. 音乐风格趋于统一  
B. 内宫奢靡歌舞升平  
C. 文武并举宣威天下  
D. 地域文化交汇融合
27. 北宋时期经常出现“朝议”与“廷争”。仁宗时宰相吕夷简曾对摄政的刘太后说：“臣位宰相，朝廷大事，理当廷争。”张方平也在奏疏中指出：“中书奏事，争辩御前，连日纷哗，中外喧骇。其于事理，必有曲直。”这说明北宋的中央决策方式
- A. 重视发挥防错纠错机制作用  
B. 因循旧例鼓励官员各抒己见  
C. 改变了传统的朝廷决策模式  
D. 不断激化内廷与外朝的矛盾
28. 晚清，时人记述道：“自泰西互市后，凡洋钱、洋烟、洋布等货，无不以洋为贵，甚有非洋而冒为洋者。如髹器本出扬州，故曰扬漆，今则改为洋漆矣……磁器出豫章，今则以粗者为洋碗矣……以至洋松、洋菊、洋鸡、洋犬之类，无不以洋得名。世俗好异如此。”这表明当时
- A. 社会风尚出现变化  
B. 洋货价格相对低廉  
C. 自然经济逐渐解体  
D. 西方商品垄断市场
29. 1926年，奉系军阀张作霖计划组建标榜国权、民权、人权“三权主义”的政党。《大公报》对此评论道：“盖奉方鉴于从来之武力万能主义，究难博最后之成功，且为南方军队精神训练之效果所刺激，故有确立主义，注重精神训练之倾向。”材料反映出
- A. 建立革命统一战线的条件成熟  
B. 民主共和成为统治阶层的共识  
C. 国民革命扩大了新思想的影响  
D. 社会各界正逐步接受三民主义

30. 1951年在中共中央指示下, 人民群众订立爱国公约运动在全国普遍开展。全国工业企业的爱国增产竞赛运动和农村的爱国丰产竞赛运动搞得热火朝天, 有的劳模提出“车间就是战场, 工人就是战斗员”。这一运动
- A. 奠定了社会主义工业化的基础  
B. 响应了国家根本利益的需要  
C. 彻底打破了美国孤立封锁政策  
D. 加快了社会主义改造的进程
31. 1978—1999年, 我国农村种植业产值占农业经济的比重从80%逐步下降至57%, 并且非农经济成分超过农业经济。这反映了
- A. 大量农村劳动力转移至城市  
B. 乡镇企业促进了农业发展  
C. 农民生产粮食的积极性高涨  
D. 农村经济呈现多元化发展
32. 古希腊演说术盛行, 伊索克拉底和德摩斯梯尼是当时著名的演说家。下表是他们存世的演说辞作品分类情况, 据此可知

单位: 篇

	政治演说辞	典礼演说辞	诉讼演说辞	劝告演说辞	教育演说辞	共计
伊索克拉底	7	3	6	3	2	21
德摩斯梯尼	13	1	20	0	0	34

- A. 城邦事务掌握在演说家手中  
B. 民主政治有利于演说术发展  
C. 民主制促进了思想文化发展  
D. 公民权利由此得到充分保障
33. 17世纪, 亚洲瓷器涌入欧洲。1604—1656年, 荷兰就进口瓷器三百万件, 法国国王路易十四为偿付宫廷进口瓷器的费用, 甚至将宫内的金银器熔化掉。这说明新航路
- A. 加速了欧洲贵金属外流  
B. 导致欧洲经济中心转移  
C. 促进了欧洲经济的发展  
D. 削弱了欧洲王室的权力
34. 1784年1月法国里昂的一次气球飞行试验时, 有人写诗感慨道: “无穷的空间将我们与天空相隔。可是, 感谢蒙戈尔菲耶兄弟的天才灵感。朱庇特(众神之王)之鹰失去了他的王国, 柔弱的凡人亦可接近神祇。”对材料理解准确的是
- A. 人文主义已经被民众普遍接受  
B. 欧洲天主教会的势力逐渐衰落  
C. 科技进步与思想解放相互作用  
D. 法国第一次工业革命成果显著
35. 右图是20世纪80年代的一幅美国漫画, 图中美国总统里根以自由女神姿态, 右手抓着一个美国纳税人而非自由火炬。该漫画创作的背景是, 美国
- A. 面临严重经济滞胀  
B. 在争霸中处于劣势  
C. 实行福利国家政策  
D. 军费开支居高不下





二、非选择题：共 160 分。第 36~42 题为必考题，每个试题考生都必须作答。第 43~47 题为选考题，考生根据要求作答。

(一) 必考题：共 135 分。

36. 阅读图文材料，完成下列要求。(24 分)

须德海原来是一个深入内陆的海湾。1932 年，荷兰筑起长 32.5 千米、顶部宽近 90 米、高出海平面 7 米的拦海大堤，并通过庞大的排水系统排咸纳淡，使原先与北海相通的须德海成为荷兰最大的淡水湖——艾瑟尔湖，其平均水深约 5~6 米，边界平均水深 1~2 米。荷兰在湖泊周边继续排水新造陆地(图 4)，其上建有垦区和城镇。20 世纪六七十年代，艾瑟尔湖水质一度变差。

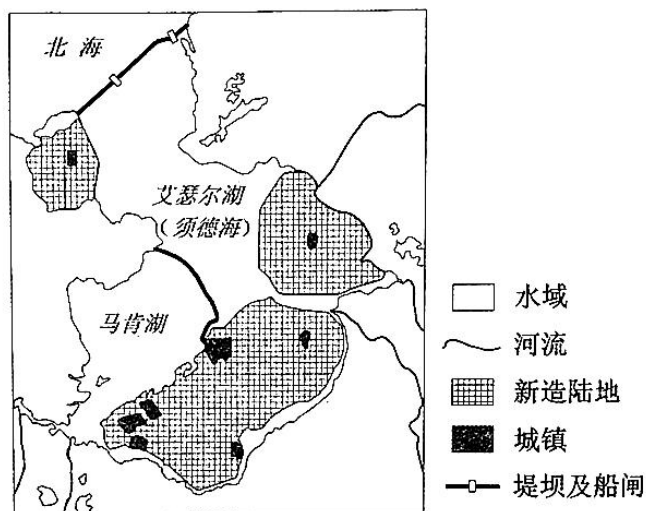


图 4

(1) 简述须德海演变成淡水湖的过程。(8 分)

(2) 目前，艾瑟尔湖湖水仍需排咸纳淡，试推测其盐分来源。(6 分)

(3) 说出在艾瑟尔湖周边新造陆地的有利自然条件。(4 分)

(4) 分析艾瑟尔湖水质一度变差的原因。(6 分)

37. 阅读图文材料，完成下列要求。(22分)

苧麻为喜温喜湿、短日照、怕涝渍的植物，在弱酸性肥沃土壤上植株生长健壮。两千多年前，浏阳先民以苧麻为原料，经漂洗、晾晒、上浆等 20 多道繁琐工序织造出“轻薄细软，凉爽透气”的浏阳夏布，明代被列为贡品，清代远销日本、朝鲜、东南亚等地，浏阳也被誉为“中国夏布之乡”。历史上，浏阳曾“家家可闻机杼声”，为保障夏布的品质，每家每户都在丘陵间的小河两侧种植植株较高、易倒伏、纤维量多且质地优良的苧麻品种(图 5)。近年来，为改变家庭作坊生产为主的状况，当地政府在市场调研的基础上，引进现代纺织技术和机械，引导夏布生产走向工厂化之路。

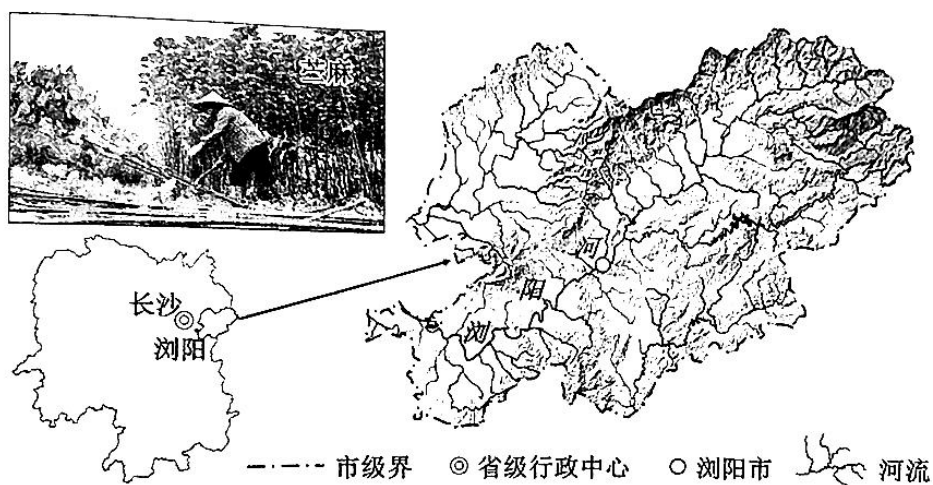


图 5

- (1) 分析苧麻种植于河流两侧的自然原因。(8分)
- (2) 说明历史上浏阳“家家可闻机杼声”的原因。(8分)
- (3) 说出引入现代工艺技术对夏布产业带来的影响。(6分)

38. 阅读材料，完成下列要求。(14分)

数据已成为重要的生产要素，是国家基础性战略资源。大数据产业是以数据生成、采集、存储、加工、分析、服务为主的战略性新兴产业，是加快经济社会发展质量变革、效率变革、动力变革的重要引擎。

“十三五”时期，我国大数据产业快速起步，产业规模年均复合增长率超过30%，2020年超过1万亿元，逐渐成为支撑我国经济社会发展的优势产业。但产业发展存在一些制约因素：市场体系不健全，数据资源产权、交易流通等基础制度和标准规范有待完善，多源数据尚未打通，数据壁垒突出，碎片化问题严重；技术支撑不够强，基础软硬件、开源框架等关键领域与国际先进水平存在一定差距；数字“新基建”、工业互联网平台建设等不够，大数据技术人才不足，复合型人才稀缺；安全机制不完善，数据安全产业支撑能力不足，敏感数据泄露、违法跨境数据流动等隐患依然存在。

工业和信息化部发布《“十四五”大数据产业发展规划》明确提出，“十四五”时期是我国工业经济向数字经济迈进的关键时期，对大数据产业发展提出了新要求，产业将步入集成创新、快速发展、深度应用、结构优化的新阶段。

结合材料，运用经济生活知识说明“十四五”时期我国应如何推动大数据产业高质量发展。

39. 阅读材料，完成下列要求。(12分)

民主是全人类的共同价值。我国全过程人民民主是全链条、全方位、全覆盖的民主。

1999年，上海黄浦区五里桥街道孕育出了“三会”制度：在基层党组织领导下，由居委会主持召集的听证会、协调会、评议会聚焦群众关切问题，提升民生服务水平，做到“事前听证、事中协调、事后评议”，实现“居民的事情，居民说了算”。近年来，黄浦区持续深化发展“三会”制度，逐步形成了“议题征询—听证—公示结果、民主恳谈—协调—落实责任、监督合议—评议—作出承诺”的民主协商机制，实现了基层协商的“全过程民主”。适用领域从政府项目延伸到公共事务治理，凡涉及居民群众切身利益的事项，都必须通过“三会”开展民主协商，实现了基层协商的“全领域”应用。2017年，“三会”制度被写入《上海市居民委员会工作条例》。2022年上海“三会”研学基地成立，采取定制方式，由社区点单、研学基地研发，让“三会”制度在解决实际问题中迭代更新、落到实处。

“三会”制度是回答时代问题，回应时代需求的社会治理实践样本。现如今，“三会”制度已从社区到街区，走出黄埔、走向全国。

“三会”制度推动了基层民主协商，体现了全过程人民民主理念。结合材料，运用政治生活知识对此加以说明。



40. 阅读材料，完成下列要求。(26分)

共同富裕是社会主义的本质要求，是中国式现代化的重要特征。

党的十八大以来，党中央把握发展阶段新变化，推动区域协调发展，打赢脱贫攻坚战，全面建成小康社会，为促进共同富裕创造了良好条件。习近平总书记强调，共同富裕是全体人民共同富裕，是人民群众物质生活和精神生活都富裕。

促进人民精神生活共同富裕要强化社会主义核心价值观引领，加强爱国主义、集体主义、社会主义教育，发展公共文化事业，完善公共文化服务体系，不断满足人民群众多样化、多层次、多方面的精神文化需求。要加强促进共同富裕舆论引导，澄清各种模糊认识，防止急于求成和畏难情绪，为促进共同富裕提供良好舆论环境。

党的十九届六中全会指出，到本世纪中叶我国建成社会主义现代化强国之时，全体人民共同富裕基本实现，我国人民将享有更加幸福安康的生活。

(1) 运用对立统一关系原理，结合材料简要分析物质生活富裕和精神生活富裕的关系。

(12分)

(2) 结合材料并运用文化生活知识，分析实现精神生活富裕对人民享有幸福生活的意义。

(10分)

(3) 某校团委开展“实现共同富裕，青年担当责任”主题宣传活动，请你拟定两条宣传标语。(4分)

41. 阅读材料，完成下列要求。(25分)

材料

1903年美国第一家汽车公司福特汽车公司宣告成立，1908年通用汽车公司成立。1913年，美国汽车年产量已达485000辆，超过法国占世界第一位，同年，福特公司开始推行用机械化装置取代手工操作的初期流水线生产，一战后又推行了机械化大量流水线生产。20世纪20年代，为适应汽车产量激增，需要大量的零部件供应的形势，通用汽车公司下属的一批专业生产公司应运而生。1929年美国汽车总产量533万辆，比十年前增长了近五倍，在世界上处于遥遥领先的地位。

新中国成立后，发展本国的汽车工业成为举国上下备受瞩目的迫切任务。1950年，重工业部出台了《汽车工业建设计划草案》，国家计划四年建成长春汽车制造厂（一汽），1952年9月国家汽车工业管理局成立。在建设过程中，遇到了许多难以预料的困难，第二年，第一机械工业部向党中央汇报称“按我部现有力量，四年完成犹有困难，三年完成更无把握”，“但能提前一年建成意义重大。”1953年6月，毛泽东亲自签发《中共中央关于力争三年建成长春汽车厂的指示》，“中央认为有必要通报全国，责成各有关部门对长春汽车厂的建设予以最大的支持，力争三年内完成。”一汽建设速度加快，1956年建成投产。

——摘编自《美国汽车工业的发展》《中国汽车工业的早期发展（1920—1978）》

(1) 根据材料并结合所学知识，说明20世纪初美国汽车工业发展的原因。(8分)

(2) 根据材料并结合所学知识，简析中国一汽建成投产的意义，并指出中美两国汽车工业发展中的不同之处。(17分)

42. 阅读材料，完成下列要求。(12分)

材料

据文献记载，明朝时两个朝鲜人在中国相约去买书，甲：“我们到书市买文书去。”乙：“买什么书？”甲：“买《赵太祖飞龙记》《唐三藏西游记》。”乙：“买《四书》《五经》也好。既读孔圣之书，必达周公之理，买那些通俗读物干嘛？”甲：“《西游记》热闹，好看解闷。”学者朱舜水侨居安南时问安南某官员：“尊府古书多否？”答曰：“少少足备观览。”他又问：“《通鉴纲目》《前后汉》《廿一史》《史记》《文献通考》《纪事本末》《潜确类书》《焚书》《藏书》（李贽著）及《古文奇赏》《鸿藻》等书。”答云：“俱有，唯《鸿藻》无有。”

——摘编自[朝鲜]崔世珍《朴通事谚解》、[明]朱舜水《安南供役记事》

从材料中提取有价值的历史信息，拟定一个论题并结合所学知识加以论述。（要求：观点明确，史论结合，史实准确。）(12分)

(二) 选考题：共 25 分。请考生从 2 道地理题、3 道历史题中每科任选一题作答。如果多做，则每科按所做的第一题计分。

43. [地理——选修 3：旅游地理] (10 分)

2021 年中国人舍得花钱的六个消费项目中，露营旅游排名第二。露营旅游是旅游者采用自驾、徒步等方式，自带或利用特定露营地的设备，开展野外住宿、休闲、娱乐、训练、探险、考察等活动的一种新型旅游休闲方式。2020 年后，我国的露营地如雨后春笋般涌出，散布在城郊、山野等地。

分析我国露营旅游兴起的原因。

44. [地理——选修 6：环境保护] (10 分)

内蒙古杭锦旗为减轻凌汛压力，大力推进“引凌入沙”工程，修建了与黄河南岸总干渠相接的分凌引水闸、引水渠、生态围堤等设施，将凌汛期洪水(简称凌水)引入库布齐沙漠腹地蓄洪区后，再适时将水退回黄河(图 6)。2014~2022 年 1 月，该工程累计分凌引水 2 亿多立方米，在沙漠中新增湿地近 100 平方千米，有 10 多种水鸟在这里栖息，20 多种植物自然恢复生长；在沙漠北部边缘形成一条宽约 5 公里的“绿色屏障”。

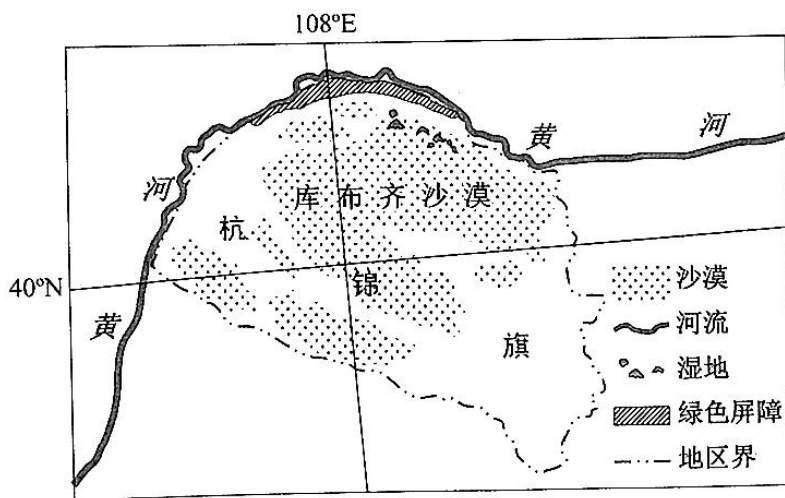


图 6

说明“引凌入沙”工程对当地自然环境的有利影响。



45. [历史——选修1：历史上重大改革回眸]（15分）

材料

唐德宗登基后，力图有所作为，颁布两税法，着手武力解决藩镇割据问题，结果引发泾原兵变。唐德宗采纳了陆贄将天子私库财物全部赏给将士的主张，改善了天子形象，赢得朝臣和藩镇支持，加快了平叛进程。兵变平息后，针对艰难的局势陆贄设计了许多细致的改革方案，但大多数改革主张未能实施。例如，在中枢体制的改革上，反对以翰林学士分割宰相权力、参与中枢事务；认为最理想的税制要以“丁夫为本”，交纳“布帛缗钱与百谷”，所以提出恢复租庸调制；主张由政府出面限制地主的地租额，以缓解日益紧张的阶级矛盾等。

——摘编自齐勇锋等《中国改革通史·隋唐五代卷》

- (1) 根据材料并结合所学知识，简析陆贄改革主张大多未能实施的原因。（7分）
- (2) 根据材料并结合所学知识，以陆贄改革为例，谈谈对封建王朝改革成败的认识。（8分）

46. [历史——选修3：20世纪的战争与和平]（15分）

材料

1897年，德国以曹州教案中两名德国罗马天主教传教士的死为借口，趁机发兵，侵占了胶州湾（山东省内），并“租借”了胶州湾周边552平方公里的土地，为德国远东海军中队找到了一个极佳的天然港湾。1914年夏天，日本看到了一个机会。8月15日，日本正式对德国宣战的一周前，向德国驻东京大使阿瑟·格拉夫·冯·雷克斯（曾试图说服日本与德国统一战线，共同迎接胜利）发出了最后通牒：要求德国将在东亚水域的军舰全面撤出，并将胶州湾的德租界移交给日本，以便“最终”交还中国。由于没有接到德方回应，日本于8月23日对德宣战。同年9月2日，23000名日本军士在中国（其时为中立国）青岛以北约100英里处正式登陆，长驱直入，进军中国内陆。

——摘编自[英]吴芳思等《盟友背信：一战中的中国》

- (1) 根据材料并结合所学知识，阐释所谓“日本看到了一个机会”所指的含义。（6分）
- (2) 根据材料并结合所学知识，简析日军侵占山东对中国及国际关系产生的影响。（9分）

47. [历史——选修4：中外历史人物评说] (15分)

材料

王守仁，浙江余姚人，二十岁中乡试，“好言兵，且善射”。四十五岁时，兵部尚书王琼爱其才，擢拔其为右金都御史，到南州、赣州一带做巡抚。当时，南州盗贼蜂起，守仁到后，佯装退兵，出其不意，直捣敌巢，俘斩七千余人。此后，守仁又张灯奏乐，赐予礼物，引诱盗贼入城拜谢，后趁机擒杀，并派士兵假扮强盗混入贼巢，里应外合，尽皆捉拿斩首。守仁铲平盗贼，却把功劳归于王琼。当时，朝中有人构陷忠良，中伤守仁。明世宗深知此事，召守仁入朝受封，任南京兵部尚书，“守仁不赴，请归省”。他屡次辞爵，请求表彰其他大臣的功劳，并以病重为由，祈求还乡，最终死于南安，时年五十七岁。守仁天资聪明，十七岁拜谒名儒，与谈朱熹格物致知之学。游九华山归，筑室阳明洞中，数年无所得。贬谪到龙场，“忽悟格物致知，当自求诸心，不当求诸事物”。信服其思想者众，世遂有“阳明学”。

——据《明史·王守仁传》

(1) 根据材料并结合所学知识，简析《明史》是如何从“立德”“立功”与“立言”的角度对王守仁进行评价的。(9分)

(2) 根据材料并结合所学知识，简评《王守仁传》作者的价值立场。(6分)



## 2022年云南省第一次高中毕业生复习统一检测

# 文科综合能力测试参考答案及评分标准

### 一、选择题

题号	1	2	3	4	5	6	7	8	9	10
答案	A	D	D	B	C	A	D	C	C	B
题号	11	12	13	14	15	16	17	18	19	20
答案	B	C	A	D	C	B	C	B	D	C
题号	21	22	23	24	25	26	27	28	29	30
答案	D	A	B	A	B	D	A	A	C	B
题号	31	32	33	34	35					
答案	D	B	A	C	D					

### 二、非选择题

#### (一) 必考题

#### 36. (24分)

##### (1) (8分)

修建大坝使海湾与海洋分离形成湖泊；大坝阻挡和减少了进入海湾的海水；通过排水系统排出湖中盐度较高的海水；温带海洋性气候降水较多，陆地淡水大量汇入湖区，降低湖泊盐度。(每点2分)

##### (2) (6分)

海水通过拦海大坝上的船闸侵入湖区；艾瑟尔湖原是海湾，土层中含盐量较高；距海近，地下水含盐量高；入湖河水将陆地盐分带入湖泊。(每点2分，任答三点即可)

##### (3) (4分)

湖泊周边水体较浅，利于排水造陆；河流携带泥沙入湖，沉积量较大；湖泊面积较大，可供造陆面积广。(每点2分，任答两点即可)

##### (4) (6分)

造陆后人类活动增多，向湖泊排放污水量增大；入湖河流带来上游地区的污染物，加剧水体污染；大面积造陆使湖泊面积缩小，水体自净能力降低。(每点2分)

#### 37. (22分)

##### (1) (8分)

与坡地地区相比，地势较低，热量较充足，日照较短；风力较小，植株不易倒伏；谷地土壤深厚且肥沃；河流提供灌溉条件；地势有起伏，利于排水。(每点2分，任答四点即可)



(2) (8分)

有优越的苎麻种植条件，原料充足且优质；濒临河流，水源丰富，便于苎麻加工；织造历史悠久，工艺精良；夏布品质高，市场需求量大；人口较多，劳动力丰富。（每点2分，任答四点即可）

(3) (6分)

有利影响：提高夏布整体质量；扩大生产规模，增加夏布产量；降低生产成本，扩大消费市场；产品多元化，满足现代市场需求。（每点2分，任答两点即可）

不利影响：不利于传统技艺的传承与保护。（2分）

38. (14分)

加快培育数据要素市场，健全数据要素市场规则，提升数据要素配置作用；（4分）推动数据资源高质量、技术创新高水平的运用开发，构建稳定高效产业链，夯实产业发展基础；

（4分）加大财政支持，加快数字基础设施建设和大数据技术人才培养；（3分）统筹发展和安全，加强数据管理，培育自主可控和开放合作的产业生态。（3分）

39. (12分)

“三会”制度提升了人民群众的基层民主意识和参与能力，彰显了人民的主体地位；（3分）

“三会”制度是在党的领导下，人民群众依法参与民主协商的生动体现，丰富了人民民主的实践；（3分）“三会”制度为基层民主协商提供经验和借鉴，在解决实际问题中不断规范化、系统化，为全过程人民民主提供保障；（3分）“三会”制度实现了基层协商的“全过程民主”和“全领域”应用，提升了基层民主协商的水平，解决群众关切问题，提升了人民群众的获得感和幸福感。（3分）

40. (26分)

(1) (12分)

物质生活富裕和精神生活富裕具有斗争性，二者相互区别，具有不同的作用；（4分）物质生活富裕和精神生活富裕具有同一性，二者相互依赖、相互贯通、相互促进，物质生活富裕为精神生活富裕的发展提供物质条件和实践经验，精神生活富裕又为物质生活富裕的发展提供精神动力和智力支持；（4分）矛盾双方既对立又统一，由此推动事物的运动、变化和发展。物质生活和精神生活都富裕，有利于推动全体人民共同富裕。（4分）

(2) (10分)

促进人民切实感受到社会主义核心价值观的生命力、凝聚力、感召力，坚定人民群众理想信念和文化自信，用社会主义先进文化为人民生活提供精神指引；（4分）满足人民群众精神文化需求，保障人民群众基本文化权益，促进人的全面发展，增强人民群众文化获得感、满足感；（3分）有利于促进共同富裕舆论引导，为人民群众幸福生活营造良好的社会氛围。（3分）

(3) (4分)

答案示例：坚定共同富裕理想，矢志不渝团结奋斗；  
共同富裕齐践行，同心共筑幸福梦。

41. (25分)

- (1) 迅速推广应用第二次工业革命的成果；生产方式和管理模式的创新；一战后经济的快速发展；柯立芝繁荣等。(8分)
- (2) 意义：为新中国的工业化建设积累了经验，培养了人才；初步奠定了汽车工业发展的基础，有利于中国建立独立的工业体系；增强了民族自豪感和自信心；有利于国防和经济建设；是中国特色工业化模式的成功探索等。(9分)
- 不同：中美两国发展汽车工业的历史时期不同；中国工业基础薄弱，美国经济技术基础雄厚；中国是后发型，美国是自发型或先发型；中国政府主导，发挥计划经济优势，美国主要是私人资本主导，市场经济发挥了主要作用；中国汽车工业处于早期发展阶段，美国已发展出较完整的汽车产业体系等。(8分)

42. (12分) 评分标准：

拟定论题	能从材料中提取信息拟定论题，观点明确，表述规范。(2分)
运用史料	能运用试题提供的史料分析、说明、论证观点。(2分)
运用史实	能运用相关背景知识进行论述，且引用史实准确，选取恰当。(4分)
论述逻辑	能围绕论点展开论述；能建立史料、史实、观点之间的关联；史实选取典型，分析准确；逻辑结构完整。(4分)

示例一

论题：明朝时期中华文化广泛传播至周边国家

论述：明代农业和工商业经济高度发展，文化繁荣，阳明心学和明末进步思潮兴起。政治上与周边国家存在朝贡关系，对周边国家的文化传播力加强。朝鲜人在中国购买儒学及文学书籍，安南官员藏有大量中国书籍，说明中华文化在周边国家的传播。郑和下西洋，也将中华文化传播到今天的泰国、马来西亚等东南亚国家。综上，明代通过商品贸易、官方往来等途径将中华文化广泛传播至周边，扩大了中华文化影响力。

示例二

论题：明代文化在多方面出现新的发展

论述：明代商品经济繁荣，工商业市镇兴起，市民阶层壮大，促进了平话、小说、戏曲等世俗文化的发展；思想上出现了要求解放人性的进步思潮。朝鲜人购买《赵太祖飞龙记》《西游记》等平话、小说作品，安南官员藏书中有李贽的著作等史料，佐证了明代文化的新发展。



(二) 选考题

43. (10分)

露营旅游能满足游客的个性化和多元化需求;与传统旅游相比,露营旅游地选择范围更广;游客可以更加亲近自然;受疫情影响,更多的人喜欢到空旷人少的地方旅游;国内私家车的普及和基础设施的完善,为露营旅游提供了条件;随着经济收入增加,国人休闲意识增强。(每点2分,任答五点即可)

44. (10分)

减轻防凌防汛压力,降低凌汛对周边环境造成的威胁;缓解沙漠地区水资源短缺问题,利于植物生长;新增湿地和植被,有效调节局地气候;形成“绿色屏障”,减轻风沙危害,抑制荒漠化发展;改善区域生态环境,增加生物多样性。(每点2分)

45. (15分)

(1) 部分措施不利于强化皇权,无法得到皇帝支持;部分主张过于理想化,不符合客观实际;触动统治阶级利益;危局不在,改革动力不足等。(7分)

(2) 最高统治者的支持是改革成败的关键;处理好阶级矛盾是成败的重要因素;改革方案是否切合实际是成败的重要条件;封建王朝体制的弊端是改革难以实施的重要原因等。(8分)

46. (15分)

(1) 第一次世界大战爆发,列强无暇东顾;借助英日同盟对德宣战;半封建半殖民地中国国力孱弱;占领德国在山东的租借地,并以此为跳板扩大对中国的侵略,实现独占中国的野心。(6分)

(2) 对中国:进一步破坏了中国的主权,加剧了中国的民族危机;直接威胁中国首都,加强对北洋政府的控制;战后山东问题成为五四运动的导火线等。(4分) 对国际关系:扩大了一战的范围;日本企图独占中国,美日矛盾加剧;山东问题成为华盛顿会议的核心议题等。(5分)

47. (15分)

(1) “立德”方面:多次请辞并将功劳归于他人,不贪恋权位;“立功”方面:带兵“平乱”,维护了明王朝的统治,为明王朝立下累累战功。“立言”方面:创立了阳明心学,著书立说,垂范后世。(9分)

(2) 侧重叙述王阳明镇压“盗贼”方面的贡献,对王阳明的思想贡献介绍简略。反映了作者基于理学正统轻视心学,忠君事主的价值立场。(6分)



## 关于我们

自主选拔在线是致力于提供新高考生涯规划、强基计划、综合评价、三位一体、学科竞赛等政策资讯的升学服务平台。总部坐落于北京，旗下拥有网站（[网址: www.zizzs.com](http://www.zizzs.com)）和微信公众平台等媒体矩阵，用户群体涵盖全国90%以上的重点中学师生及家长，在全国新高考、自主选拔领域首屈一指。

如需第一时间获取相关资讯及备考指南，请关注**自主选拔在线**官方微信号：**zizzsw**。



 微信搜一搜

 自主选拔在线