

一、选择题(本大题共 16 小题,每小题 3 分,共 48 分)

1. 考古学界在考察姜寨遗址墓地时,发现其早期的墓地多为单人葬,男女有别,长幼有序,只有成年男女才能葬在氏族墓地。后期的墓地积累成上下两层,下层仍保持单人葬传统,但已不如早期整齐,上层则为男女老幼合葬。据此推断,姜寨后期

A. 社会结构逐渐发生动摇

B. 母系氏族规则根深蒂固

C. 私有制度取代公社公有

D. 贫富分化带来墓葬差异

2. 汉文帝二年,下诏要求地方“举贤良方正能直言极谏者”;汉文帝十五年,亲自以经义政事为题,书之于策,使臣下对答。自此以后,举贤良需策问成为定规。这能体现

A. 西汉君主专制得到加强

B. 考试制度早有历史渊源

C. 儒家思想确立正统地位

D. 汉文帝重视人才的选拔

3. 唐代文学家元稹曾对唐初政治总结道:“房、杜、王、魏之徒,议可否于前;天下四方之人,言得失于外。不三四年而天下大理,岂文皇独运聪明于上哉?盖亦群下各尽其言,以宣扬发畅于天下也。”与元稹评论相关的政策是

A. 劝课农桑,轻徭薄赋

B. 大兴文治,改革兵制

C. 勤俭节约,戒奢从简

D. 各取所长,导之使谏

4. 唐以前,社会上流行分食制,人们在饮食过程中席地跪坐,单桌单人进食;唐宋时期,伴随着高桌大椅的普及,众人围坐在一起进餐的会食、合食逐渐成为主流。这一现象

A. 反映了长期的民族交融

B. 表明儒学遭遇信仰危机

C. 促使坊市制度走向瓦解

D. 体现宋朝阶级矛盾缓和

历史试题 第 1 页(共 8 页)

5. 清朝中期,军机大臣曹振鏞历经乾、嘉、道三朝,官运亨通,谥号文正。清人笔记中记载:“曹文正公晚年,恩遇益隆,身名俱泰。门生某请其故,曹曰:‘无他,但多磕头,少说话耳。’”该现象出现主要是因为 **B**
- A. 官僚队伍的腐化
B. 皇权专制的强化
C. 社会风气的败坏
D. 文字狱的常态化

6. 有学者考证了清代 3181 名女作家的籍贯,得出下表。这一现象 **B**

地区	城市人口所 占总人口比例	女作家人数	在清代女作家总 数中所占比例
长江中下游	7.9%	2629	82.6%
华北	4.2%	213	6.7%
岭南	7%	206	6.5%
长江上游	4.2%	55	1.7%
西北	4.9%	46	1.5%
云贵	4.1%	29	0.9%
东北	—	3	0.1%

- ~~A.~~ 反映了妇女地位的显著提升
B. 得益于科学技术的不断进步
C. 折射出新兴阶级的时代诉求
D. 体现经济发展冲击传统秩序
7. 武昌起义爆发后不久,一向仇视革命的广西巡抚在全副武装的革命志士及新军将领的“说服”下,一跃成为新政府的领导人;同盟会广西支部部长未能在新政府获得一官半职,甚至连在广西都督府成立大会上发言的资格也没有。这最能说明 **B**
- A. 民族资产阶级具有妥协性
B. 辛亥革命潜伏失败隐患
C. 民主与共和观念深入人心
D. 清朝的领土已四分五裂
8. 新文化运动早期,改革者们对儒学与中国传统的批判,几乎没有遇到真正有力的对手。但是到了“五四”末期以及以后,一些学者以对东西文化及西方哲学理论的研究为基础,形成了一个真正的反对西方文化派。这一转变源于 **C**
- A. 一战引发了对西方文明的反思
B. 马克思主义的广泛传播
C. 学者对儒学思想的近代化改造
D. 平民文化的进一步发展
9. 抗战期间,湖南城乡各抗日团体掀起了高唱抗日救亡歌曲的高潮。有一首歌中唱道:“亲爱的同胞,快起来,拿起你的铁锤、锄头、笔砚、算盘和刀枪,我们要万众一心,同仇敌忾,变抗战的后方为杀敌的前方!”这说明 **C**
- A. 根据地贯彻了三三制原则
B. 湖南成为敌后抗战的主战场
C. 抗日战争是一场人民战争
D. 国共合作促成抗日战争胜利

10. 下图为宣传画《为了农业合作化,为了社会主义建设,努力学习文化》,这一作品 **B**



为了农业合作化,为了社会主义建设
努力学习文化。

- A. 意在鼓舞人民保卫新生政权
B. 反映全面建设时期时代要求
C. 有利于“双百”方针实施
D. 立足于新中国的国家性质
11. 2019 年以来,教育部批准 22 所学校开展本科层次职业教育试点,打破了职业教育止步于专科层次的“天花板”。2021 年,国务院提出在“十四五”时期,要以高等职业教育改革为主要任务,大力培养重点领域专业人才。由此可见,职业教育改革 **C**
- A. 标志着我国已全面建成小康社会
B. 更能培养高素质的技术技能劳动者
C. 适应新时代经济社会发展的要求
D. 为奋进的中国提供强大的精神力量
12. 追本溯源,埃及象形文字是创造腓尼基字母的必要前提。应该说,字母表原理的发明,是古埃及人的一大贡献,是他们最早看出用单独符号表示人类语言单音的价值,发明了 24 个单辅音符号。这能体现 **B**
- A. 埃及文字是世界最早的文字
B. 古代世界各地文明有交流
C. 世界文明起源具有多元特征
D. 象形文字比字母文字更先进
13. 下表是古罗马时期三种主要契约形式的出现阶段和特点。据此可知,古罗马契约形式的变化 **D**

出现阶段	契约形式	特点
《十二铜表法》 古罗马法	“耐克逊”交易 立书契约	双方到场,有公证人,对神宣誓固定术语 双方到场,举行特定仪式,签署文书

- A. 意在缓和公民与自由民的矛盾
B. 表明古罗马建成法治国家
C. 奠定了近代西欧各国法律基础
D. 顺应了经济发展的内在需求
14. 13 世纪的庄园法庭记录中曾出现过以下案件：村民特纳斯及村里其他人在约克福德庄园领主所属的刚收割完的牧场上放牧，违反了法律，但开庭三次争执不下，最终以庄园主人到来并原谅了这些村民而结束。这一案件 **C**
- A. 说明中世纪欧洲阶级矛盾弱化
B. 是庄园封闭性的体现
C. 反映庄园法庭维护领主的利益
D. 彰显了法律至上原则
15. 一位美国历史学家总结道：“在欧洲的海外扩张中最重要的人物不是哥伦布、达·伽马和麦哲伦，而是那些拥有资本的企业家们。”该历史学家 **A**
- A. 揭示了资本主义扩张的源动力
B. 对航海家的作用认识不足
C. 准确分析了新航路开辟的动因
D. 忽视了客观条件的重要性
16. 启蒙运动在经济领域中的主要口号是自由放任——让人民做他们愿意做的事，让自然界自然地发展；在宗教方面，主要口号是“砸烂可耻的东西”；在政治方面，哲人们也有一个关键性的用语——社会契约。这些口号 **A**
- A. 意在广泛的传播理性主义
B. 促进了民族国家意识的兴起
C. 破坏了传统的制度和习俗
D. 是西欧生产方式变革的产物

二、非选择题(第 17 题 15 分,第 18 题 15 分,第 19 题 12 分,第 20 题 10 分,共 52 分)

17. (15 分)党的十一届三中全会以来,湖南省长沙市岳麓区观沙岭在改革开放的大潮中,以它艰苦创造的业绩扬名海内外,引起了各方面的注目。阅读下列材料,回答问题。

材料一 观沙岭村有各类企业 234 家,其中集体企业 7 家、私营企业 20 家、个体独资企业 207 家。234 家企业中有工业制造业 65 家,年产值 1.99 亿元,利润 679 万元,实交税金 399 万元,固定资产净值 1.41 亿元。该村岳麓制鞋厂于 1986 年开始生产出口产品,外向型经济迅速发展,出口创汇企业日益增加,且越办越兴旺。全村在岳麓制鞋厂不断扩大生产规模的同时,先后创办铸件厂、服装厂等 10 个出口创汇企业。1989 年,与省华湘公司、香港进益制鞋机械公司创办深圳湘益制鞋有限公司,这是湖南省第一家村级企业在深圳特区举办的合资企业。

——摘编自《长沙岳麓区志(1988—2002)》

材料二 (观沙岭)先后建起了村办小学、幼儿园和集图书阅览、歌舞游乐于一体的文化活动中心,使村上文化教育和农民文化生活的物质条件得到很大改善。从 1984 年起,全村实行免费教育,从幼儿园到大学,学费由村上全包,对成绩优异者,另给奖学金。村上无辍学现象,学龄儿童入学率达 100%。自 1986 年开始,村上公费为全村各户订报 3 份,为村民了解时事政策和学习生产科技知识,提供有利条件。对村里丧失劳动能力的老弱病残孤寡,村上每月分别给予生活补贴或养老金 40~60 元,对职工和全体村民,医药费报销 70%,村民集体福利有了一定保障。

——陈国政、曹固强《观沙岭改革开放兴工致富情况调查》

(1) 两则材料分别反映了十一届三中全会后出现的哪些历史现象? (10 分)

(2)指出材料一的史料类型并说明这类史料的史学研究价值。(5分)

8. (15分)阅读材料,完成下列要求。

材料一 周朝已开始出现“小行人、象胥、掌客、怀方氏”等具有周边民族事务管理性质的官职,秦朝正式在中央设置管理民族事务的“典客”。汉承秦制,汉武帝时期设置属国都尉,具体管辖归附及内属的边疆民族。唐朝边疆民族的首领可管理府州的具体事务,但需向唐王朝缴纳贡赋,统于唐王朝的中央政府。此外唐王朝还在边陲地区发展屯田、开辟互市贸易、妥善安排边疆民族子弟学习。元朝在吐蕃采取“政教合一”政策,在中央设置管理吐蕃事务的帝师和宣政院机构;在元朝兴起之地漠北,设岭北行省,基本行政单位仍是蒙古传统建制,并部署军队,戍守的同时进行屯田,明朝靠近内地的少数民族统治区减少,明政府直接控制,委派流官的地区增加,清朝在边疆全面推行郡县制和修订相关法规,强化边陲管理。

——摘编自谷家荣、罗明军《中国古代边疆治理历谱识认》

材料二 中华民族作为一个自觉的民族实体,是近百年来中国和西方列强对抗中出现的,但作为一个自在的民族实体则是几千年的历史过程所形成的……它的主流是由许许多多分散孤立存在的民族单位,经过接触、混杂、联结和融合,同时也有分裂和消亡,形成一个你来我去、我来你去、我中有你、你中有我,而又各具个性的多元统一体。

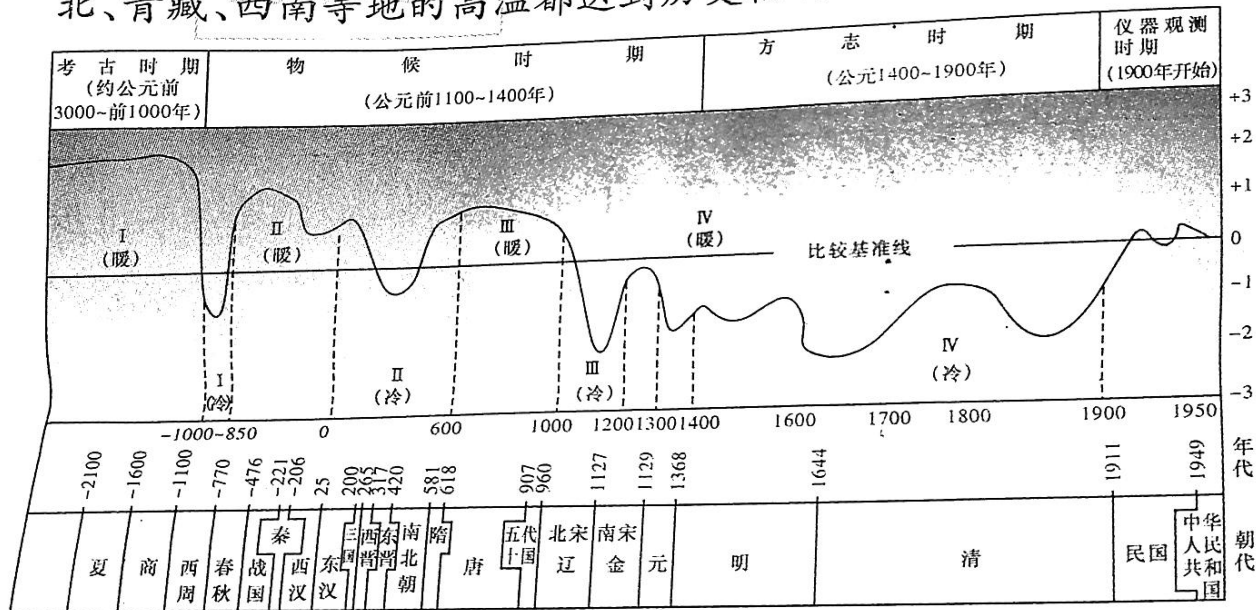
——费孝通《中华民族的多元一体格局》

1)根据材料一,归纳中国古代治理边疆少数民族的主要措施,并结合所学知识,分析其意义。(10分)

(2) 依据材料二并结合所学知识, 概括“中华民族”观念出现的背景。(5分)

19. (12分) 阅读材料, 完成下列要求。

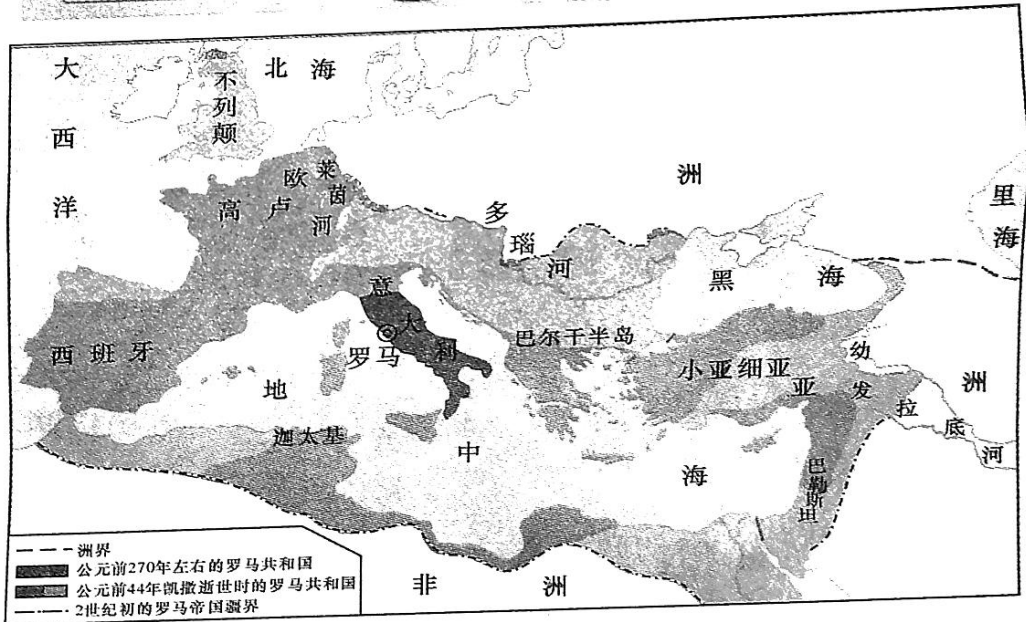
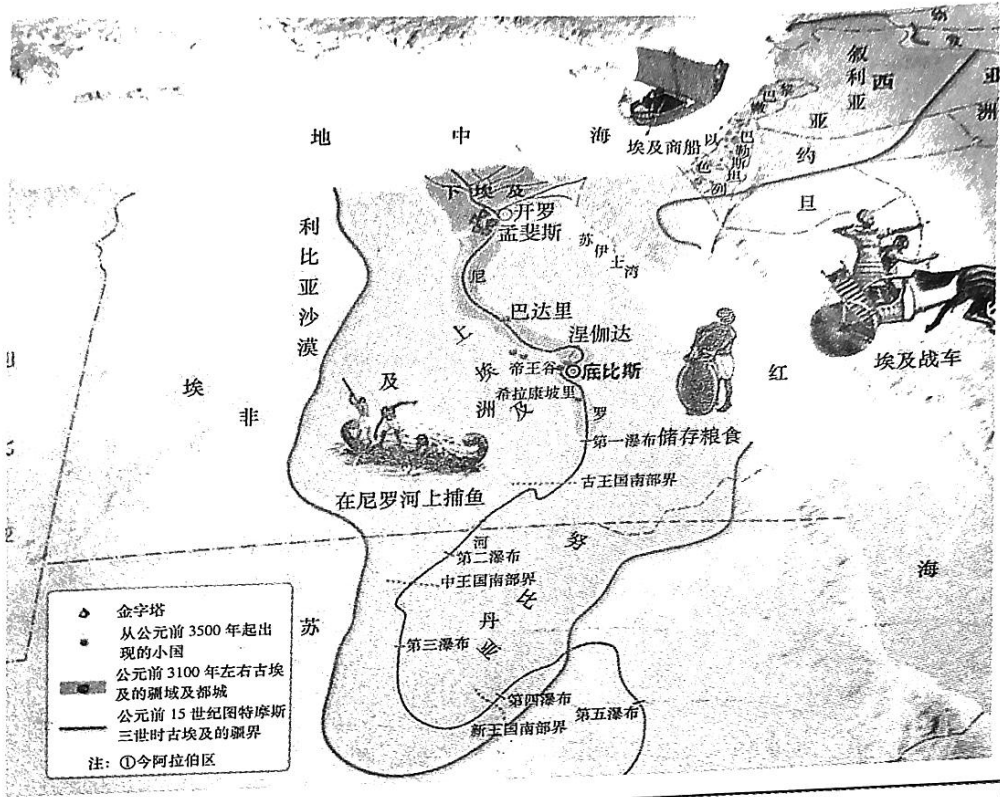
材料 人类从原始形态到文明的演进, 一直在被动与自觉地应对因自然所带来的巨大挑战。2022年, 我们亲历了气象观测史上最热的夏天。截至8月19日, 这场旷日持久的高温在我国已持续了68天, 北、青藏、西南等地的高温都达到历史极端水平, 堪称史无前例。



根据材料并结合中国史相关知识, 围绕“中国气候变迁和历史发展”主题, 进行简要阐释。(要求: 论题明确, 持论有据, 表述清晰)

20. (10分)文明的交流有多种方式。阅读材料,完成下列要求。

材料



(1) 请为以上两幅地图分别命制一个合适的名称。(4分)

(2) 指出两幅地图反映的共同主题, 并进行阐释。(6分)

关于我们

自主选拔在线是致力于提供新高考生涯规划、强基计划、综合评价、三位一体、学科竞赛等政策资讯的升学服务平台。总部坐落于北京，旗下拥有网站（网址：www.zizzs.com）和微信公众平台等媒体矩阵，用户群体涵盖全国 90% 以上的重点中学师生及家长，在全国新高考、自主选拔领域首屈一指。

如需第一时间获取相关资讯及备考指南，请关注**自主选拔在线**官方微信号：**zizzsw**。



微信搜一搜

自主选拔在线