

上饶市2023届第二次高考模拟考试

文科综合试题卷

座位号

考试时间: 150 分钟 分 值: 300 分

命 题 人: 韩劲松 何堂远 徐芳玉 周国华

刘俊锋 吴 妮 郑成根 熊 芸

周占波 吴 鹏 吴芬芬 刘金龙

注意事项:

1. 本套试卷分第I卷(选择题)和第II卷(非选择题)两部分。答卷前, 考生务必将自己的姓名、准考证号填写在本试卷和答题卡相应位置上。

2. 回答第I卷时, 选出每小题答案后, 用2B铅笔把答题卡上对应题目的答案标号涂黑, 如需改动, 用橡皮擦干净后, 再选涂其他答案标号。写在本试卷上无效。

3. 回答第II卷时, 用0.5mm黑色字迹签字笔将答案写在答题卡上, 写在本试卷上无效。

4. 考试结束后, 将本试卷和答题卡一并收回。

第I卷(选择题 共140分)

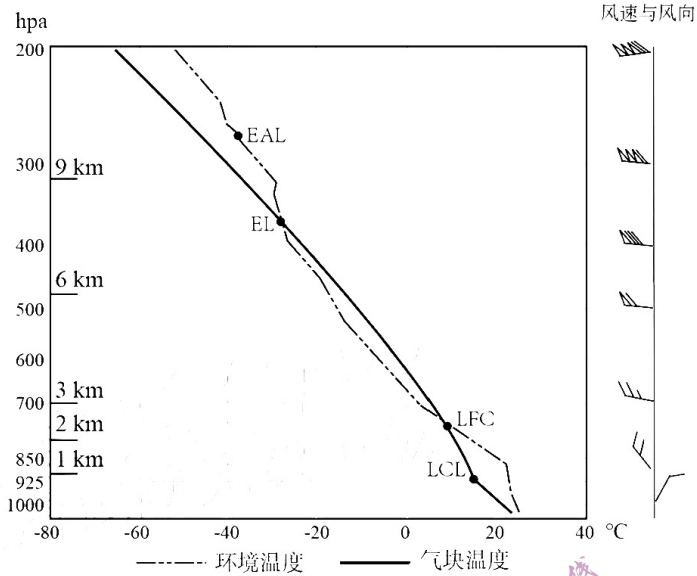
本卷共35个小题, 每小题4分, 共计140分。在每小题给出的四个选项中, 只有一项是符合题目要求的。

碇步桥又名堤梁桥, 是最原始的桥梁。泰顺县位于浙江南部, 境内溪流交错, 过溪涉水, 多靠碇步, 遂成碇步桥。仕阳溪现存的仕水碇步桥(如图)为全国重点文物保护单位, 始建于1795年, 全长144米, 共233条碇步, 每步由并列的一高一低二级石碇组成, 是世界上最长的石碇步桥。据此完成1~3题。



1. 历史时期该河段未建跨河廊桥或石拱桥而采用碇步桥的主要自然原因是
A. 缺乏成熟的技术 B. 洪水持续时间短 C. 两岸地质条件差 D. 跨度大且水流急
2. 碇步桥中高石碇最适宜使用的石材及安放位置为
A. 石灰岩, 置于来水方向 B. 石灰岩, 置于去水方向
C. 花岗岩, 置于来水方向 D. 花岗岩, 置于去水方向
3. 现存的仕水碇步桥明显弱化的功能是
A. 交通功能 B. 防洪功能 C. 经济功能 D. 文化功能

气块是为研究方便而假设的一团相对于周围空气在热力上完全隔离的空气, 气块抬升到一定高度应具有的理论温度通常称为气块温度。若气块温度高于环境温度则气块获得浮力增大, 出现对流现象。下图为济南章丘气象观测站某时刻测得的气温及风向垂直分布图。据此完成4~6题。




4. 该时刻最可能是
 A. 5月31日8点 B. 5月31日14点 C. 12月31日8点 D. 12月31日14点
5. 图中气块对流上升最大高度的气压值约为
 A. 220百帕 B. 350百帕 C. 700百帕 D. 925百帕
6. 此时章丘低空天气为
 A. 风轻云淡 B. 狂风暴雨 C. 和风细雨 D. 大雪纷飞

2008年，江西省吉安市和深圳市合建吉安深圳产业园，将电子信息产业打造为支柱产业，形成通信设备、触控显示、半导体照明灯等产业集群。电子信息产业的重要分支印刷电路板（PCB）是电子信息产品中不可或缺的电子元器件，近年来，多家印刷电路板企业入驻该产业园据此完成7~8题。

7. 该产业园利于印刷电路板企业布局的优势是
 A. 地理位置 B. 能源供应 C. 技术力量 D. 市场需求
8. 吉安市积极引进该企业带来的直接社会影响是
 A. 改善当地的营商环境 B. 促使产业转型升级
 C. 提供了大量就业机会 D. 降低能源供应压力

江西信江盆地中的红色砂砾岩层的形成开始于距今9千5百万年的晚白垩纪。经过漫长的地质演化，该地区逐渐发育出一系列群峰突起、陡崖林立的红层丹霞地貌景观，并且信江盆地边缘的丹霞地貌发育明显强于盆地中部。下图为该地区一处丹霞地貌景观。据此完成9~11题。



9. 图中丹霞山顶植被稀少的主要原因是
 A. 气温低 B. 降水少 C. 风力大 D. 地形陡

10. 距今 9 千 5 百万年以来, 信江盆地丹霞山峰形成的主要过程为

- A. 流水侵蚀、岩层断裂、地壳下降、流水堆积
- B. 流水侵蚀、地壳下降、岩层断裂、流水堆积
- C. 流水堆积、地壳抬升、岩层断裂、流水侵蚀
- D. 流水堆积、岩层断裂、地壳抬升、流水侵蚀

11. 推测与盆地中部相比, 信江盆地边缘

- ①红色岩层更厚 ②断裂作用强 ③沉积物颗粒小 ④岩性较软
- A. ①③ B. ①② C. ②③ D. ②④

12. 下列图 1 和图 2 分别反映 2022 年我国存款余额和居民人均消费支出增长情况。

据此可以推断:

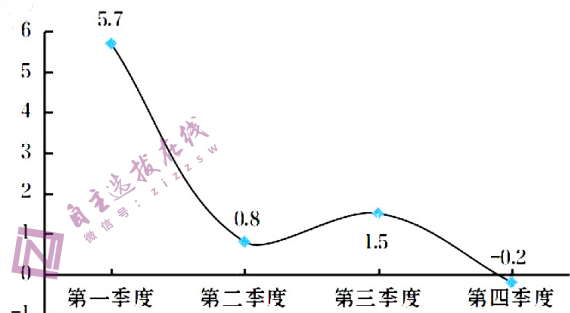
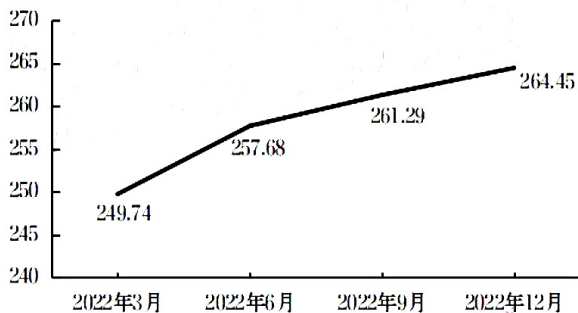


图1 2022年我国本外币存款余额 (单位: 万亿元)

图2 2022年我国居民人均消费支出累计增长率

- ①股票、基金等其他理财方式收益率上升
- ②受疫情影响, 我国居民整体消费信心不足
- ③商品房销售额有较大幅增加, 市场活力恢复
- ④扩大消费摆在我国 2023 年经济发展的重要位置

- A. ①② B. ①③ C. ②④ D. ③④

13. 全域经营是企业以消费者为中心, 构建一个品牌自有、线上线下一体化、全渠道公域私域联通、数字化可控的全域数字化经营模式。其利用公域进行引流, 将流量引流到私域, 商家利用私域多次触达用户, 由此达到用户交易体验最优化, 品牌经营效率最大化的效果。全域经营模式的优势在于

- ①实现精准化运营, 为企业发展提供新思路 ②提高企业的运营效率, 增加商品的价值量
- ③调整了企业组织结构, 增强持续发展动力 ④优化用户消费体验, 更好满足消费者需求

- A. ①③ B. ①④ C. ②③ D. ②④

14. 2023 年 1 月 2 日, 21 世纪以来指导“三农”工作的第 20 个中央一号文件发布。文件指出, 要拓宽农民增收致富渠道, 促进农民就业增收, 促进农业经营增效, 赋予农民更加充分的财产权益。下列举措有助于促进农民增收致富的有

- ①增加科技投入→提高农产品质量→打造农产品特色品牌→增加农民收益
- ②完善基本经营制度→对农民承包地确权→土地所有权流转→增加农民财产性收入
- ③健全农民创业扶持机制→农民创业积极性增加→创业带动就业→促进农民增收
- ④加强政策引导→工业和服务业向农村聚集→推动农业向第三产业转变→农民增收

- A. ①② B. ①③ C. ②④ D. ③④

15. 2023 年 4 月初, “海南将全面启动全岛封关运作准备”的消息持续受到关注。“封关”是一个海关术语, 即海南全岛成为一个“境内关外”区域, 国际货物可以在海南自由进出口, 但是我国内地货物发到海南属于出口, 海南的货物发到内地属于进口; 海南岛内大部分货物可以享受零关税政策, 个税和企业所得税税率也有所下降。由此可以推断海南封关后

- ①国外商品进入海南更为自由便利 ②内地销往海南的货物计入我国出口总额
③从海南大批量采购商品到内地手续会更简便 ④岛内企业和居民生产生活成本将呈下降趋势
- A. ①② B. ①③ C. ②④ D. ③④

16. 以党建为引领，推动形成社区治理合力：以网格为单元，党员干部主动作为，让党群干群关系更紧密；以民生为导向，着力办好群众身边“微小事”……2022年以来，某市创新推行“党建+网格+微小事”工作机制，不断提升群众幸福感、获得感、安全感。这一工作机制的成功是基于
- ①坚持党建引领，确保基层治理正确方向
②坚持简政放权，强化社区社会建设职能
③创新基层治理的实践方式，提升基层治理水平
④坚持以人民为中心，充分调动人民参与积极性
- A. ①② B. ①③ C. ②④ D. ③④

17. 2023年2月，《M省市场监管领域不予行政处罚、不予实施行政强制措施适用规则》（简称“双不新规”）正式施行。“双不新规”将执法实践中常见的、亟需解决处罚随意、过罚不当的事项进行规范，以“可罚可不罚的一律不罚”的理念为市场主体减轻负担、营造宽松的营商环境，在市场监管上的行政执法由“严罚式”向“容错式”转变，更好地服务于经济社会发展。“双不新规”
- ①是简政放权，创新、完善监管体系的有效方法
②是规范执法行为，对“不作为”现象的制度制约
③是转变政府职能，建设服务型政府的重要体现
④是保护市场主体权益，着力助企纾困的有效措施
- A. ①② B. ①③ C. ②④ D. ③④

18. 教育是国之大计、党之大计。2023年3月4日，全国政协十四届一次会议在北京召开。多名全国政协委员围绕“教育发展”主题建言献策、凝聚共识，建议开展清理功利化教育行为专项行动，将学生心理咨询和治疗纳入医保，探索“学生举手，家校社应答”机制等。这体现人民政协
- ①聚焦党和国家中心任务，切实履行了国家职能
②发挥民主党派优势，助力国家教育高质量发展
③坚持协商民主，切实提升政协履职的民生温度
④积极参政议政，为推动教育高质量发展贡献智慧
- A. ①② B. ①④ C. ②③ D. ③④

19. 2023年是共建“一带一路”倡议提出十周年。从哈萨克斯坦歌曲《我的草原》、巴基斯坦歌曲《克丽娜》到中国歌曲《茉莉花》……央视春晚节目《一带繁花一路歌》以国际化的元素，展现文明交流互鉴带给各国人民的喜悦与欢欣。这表明
- ①文化既是民族的，又是世界的 ②文明因交流而多彩，文明因互鉴而丰富
③中华优秀传统文化推动世界文化发展 ④文化多样性是促进不同文化融合发展的根源
- A. ①② B. ①③ C. ②④ D. ③④

20. 2023年3月5日，在第60个“学雷锋纪念日”到来之际，某市教育系统积极组织干部教师和青少年学生开展内容丰富、形式多样的学雷锋活动，推进教育系统学雷锋常态化、长效化。开展学雷锋志愿活动
- ①是建设中国特色社会主义文化强国的必由之路
②是培育和践行社会主义核心价值观的有效途径
③有利于汲取向上向善力量，提升公民道德品质
④有利于弘扬中华传统道德，不断促进个人的发展
- A. ①② B. ①④ C. ②③ D. ③④

21. 2023 年两会期间，ChatGPT 聊天机器人成为代表们热议话题。ChatGPT 是人工智能技术驱动的自然语言处理工具，在搜索、提炼方面效率极高，它能够通过学习和理解人类的语言来进行对话，真正像人类一样来聊天交流，甚至能完成撰写邮件、文案、代码、写论文等。对此，下列说法正确的有

- ①ChatGPT 是人脑的延续和扩展，某些功能上可以替代人类
 - ②ChatGPT 延伸了人类认识器官，其能动性不断提高
 - ③ChatGPT 虽能进行创作，但其情感意识不够丰富细腻
 - ④ChatGPT 能模拟人类智能，是人类某些智能的再现和放大
- A. ①② B. ②③ C. ①④ D. ③④

22. 右图漫画《工作重在表现》（作者：赵汀阳）讽刺了

- ①追求形式、忽视工作实际效果的形式主义
- ②违背规律、脱离实际、盲目蛮干的做法
- ③否认了具体问题具体分析的“一刀切”思想
- ④未能在矛盾主次方面中抓住重点的“均衡论”



- A. ①② B. ①③ C. ②④ D. ③④

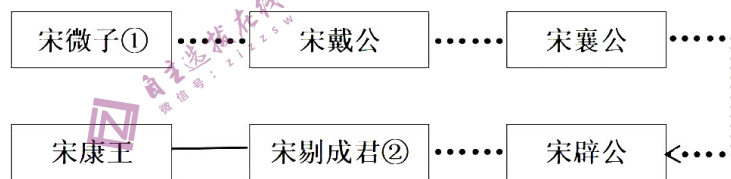
23. 沈忠芳，中国第三代防空武器系统总指挥，是 2022 年度感动中国十大人物之一。他曾目睹日军轰炸家园，于是报考飞机设计专业，渴望保卫祖国；毕业后，他投身导弹研制，从此隐姓埋名 60 余载。他说：“人生最大的幸福，莫过于为人民的幸福奋斗。”他的事迹启示我们

- ①社会提供的客观条件是实现人生价值的前提
- ②把献身人民的事业作为自己最高的价值追求
- ③人生的价值就在于社会对个人的尊重和满足
- ④投身为人民服务的实践是实现人生价值的必由之路

- A. ①② B. ①③ C. ②④ D. ③④

24. 据下表可知，周朝

宋国国君世系表（部分）



（注：①宋微子，商王帝乙之子；②前 369 年—前 329 年，小宗戴氏成为国君）

- A. 分封实现了地方长治久安
- B. 传统政治的失序
- C. 分封异性王巩固贵族政治
- D. 沿袭嫡长子继承

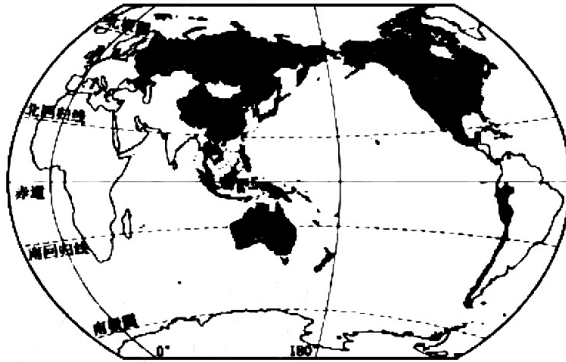
25. 下表是东汉史学家班固《汉书·古今人表》中的部分人物及相应等级，班固评定人物等级的主要依据是

上上 (圣人)	上中 (仁人)	上下 (智人)	中上	中中	中下	下上	下中	下下 (愚人)
尧、舜 周文王 孔子	孟子 屈原 荀子	子贡 范蠡 廉颇	老子 商鞅 韩非	齐桓公 吕不韦 荆轲	秦始皇 李斯 陈胜	宋襄公	夏桀	商纣

- A. 伦理道德和品行
- B. 思想主张和成就
- C. 爱国情怀和壮举
- D. 聪明才智和影响

26. 婚姻不问阀阅，直求资财，是宋代比较普遍的现象。庆历年间，身任馆阁之职的凌景阳，与酒店富户孙氏女结婚；吏部侍郎孙祖德，娶富人妻，以规有其财。哲宗年间，许州豪民盖渐，家资巨万计，女三人，“有朝士之无耻者，利其财，纳其仲为子妇”。这反映了
- A. 市民兴起瓦解传统伦理
B. 传统观念因追求财富而质变
C. 理学的影响力逐步衰微
D. 商品经济发展冲击婚姻观念
27. 有学者认为，明朝内阁在一定时间内发挥过作用，但更多情况下却助长了皇帝的惰性。由此可以推知，明朝
- A. 内阁利于正确决策
B. 皇帝权力日趋衰落
C. 内阁发挥辅政功能
D. 权力结构混乱无序
28. 1861年冯桂芬提出“以中国之伦理纲常为原本，辅以中国富强之术。”1876年驻英公使郭嵩焘感叹：“（英国）政教风俗，欧洲独擅其胜。其视中国，亦犹三代盛时之视夷狄也。中国士大夫知此义者尚无其人。”两人的观点
- A. 都停留在“中体西用”的层次
B. 都否定了中国的传统文化
C. 都认识到西方政治制度的优越
D. 都认同向西方学习的主张
29. 1874年，清朝统治集团有过一次“塞防”与“海防”之争。清政府最终确立了“两防并重”的战略。1884年在新疆设立行省，1888年设立台湾省，并建立了中国历史上第一个海军领导机构——海军事务衙门。这一举措
- A. 体现了国防观念的转型
B. 强化传统华夷秩序观念
C. 推动军事工业迅速发展
D. 有效应对了列强的侵略
30. “它把分散的个体的小农经济……组织起来，积极从事生产，提高社会生产力；它解决了贫苦农民土地、农具等的困难，获得进一步翻身的机会；它把人与人在生产当中的关系，从自私的关系，逐渐转变为互惠的关系”。文中的“它”指
- A. 农业生产互助组
B. 人民公社
C. 家庭联产承包责任制
D. 土地改革
31. 1984年一名银行负责人认为，目前企业内部自有资金较少，企业的主要债权人是国家与银行。企业亏损了，有政府“输血”、“供奶”补贴，企业里每一个人并没有受多大损失。如果长期不能扭亏，厂长顶多被免职，职工也不会倾家荡产。这反映了当时我国
- A. 国有企业民主化程度有待提高
B. 确立社会主义市场经济体制目标
C. 国有企业改革应增强企业活力
D. 国有企业普遍经营不善亏损严重
32. 罗马共和国时期刑法的罪名，多有处死“以祭谷神”的规定。进入帝国时代，还出现了大量包括宗教犯罪在内的新罪名。对此正确的理解应该是，罗马法
- A. 重视保护小农经济
B. 侵犯罗马公民政治权利
C. 被宗教势力所控制
D. 受社会习俗与宗教影响
33. 1831年，英格兰南端的老萨鲁姆是位于一座小山顶上、方圆不过百米的一块地方，完全不是什么城镇，它却是一个选邑，可以每年选两名议员进议会。新兴工业城市伯明翰人口超过十万，却无选民和议员名额。这反映了当时英国
- A. 资产阶级与土地贵族的妥协
B. 封建势力牢固控制国家政权
C. 经济发展与政治革新的滞后
D. 阶级矛盾影响工业革命进展
34. 1973-1979年，苏联的农业投资占整个国民经济投资总额的30%，国家将农产品的价格提高了7次。还通过了《集体农庄成员优抚金和补助金法》，使集体农庄成员的收入有了明显提高。这些做法
- A. 使苏联迅速实现了工业化
B. 局部调整了斯大林模式
C. 用市场调节促进经济发展
D. 扩大企业生产的自主权

35. 下图所示国际组织（阴影部分）的突出特点是



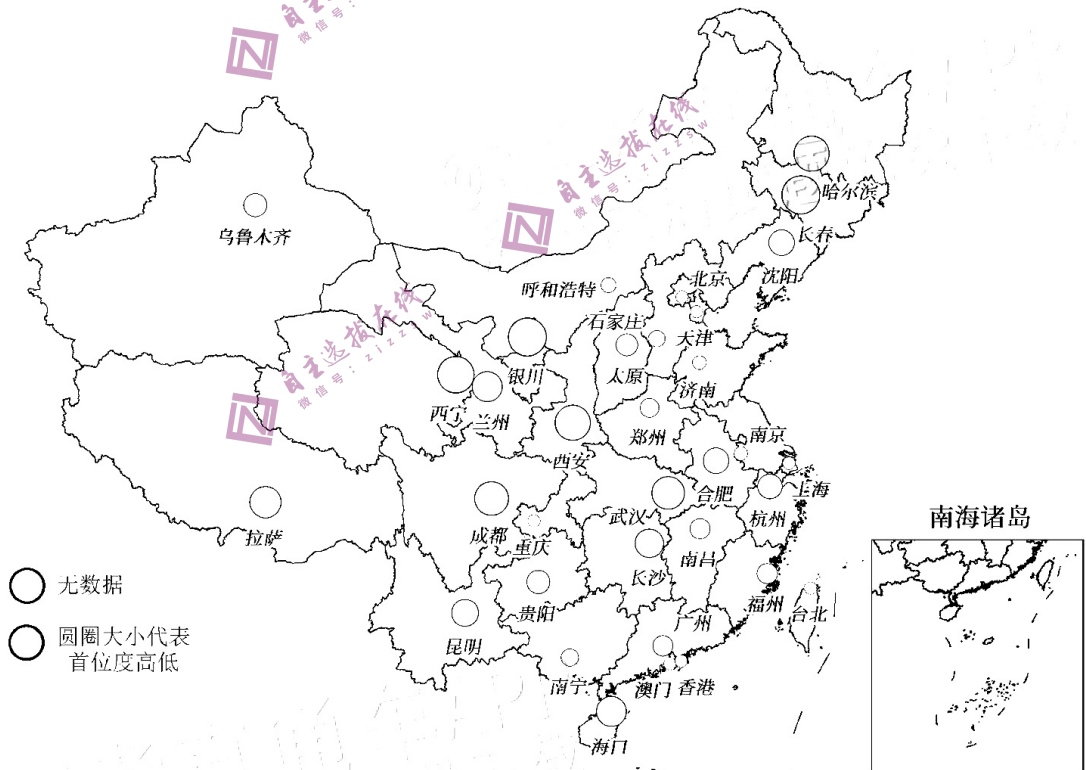
- A. 内部差异性巨大 B. 发展程度相近 C. 经济互补性明显 D. 一体化程度高

第II卷（非选择题 共160分）

本卷包括必考题和选考题两部分。第36题~第42题为必考题，每个试题考生都必须作答。第43题~第45题为选考题，考生根据要求作答。

36. 阅读图文资料，完成下列要求。（22分）

城市经济首位度是用于衡量城市群发展状况的重要指标，反映区域内经济的集聚程度，体现该城市在区域经济的 influence 和辐射能力。我国常以“省会 GDP/全省 GDP”来衡量省会城市的经济首位度，下图为十三五期间全国省会城市经济首位度的统计图。



(1) 概括图中西部地区省会城市经济首位度的特点，并分析其与区域内城市等级体系的关系。（6分）

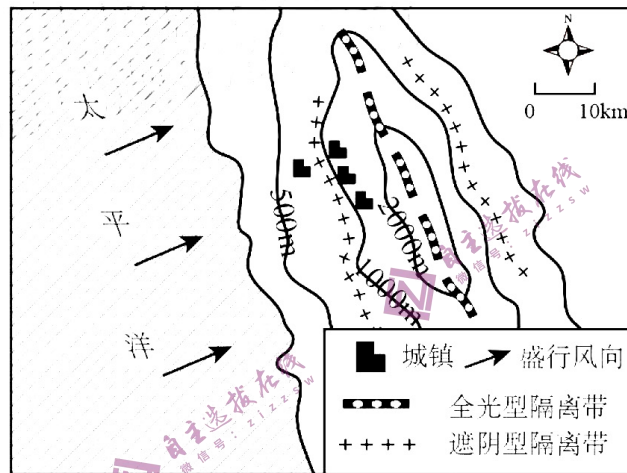
(2) 南京市经济首位度长期较低，请从南京地理位置的角度说明原因。（4分）

(3) 指出在产业转型过程中，南京为提高城市经济首位度可采取的措施。(6分)

(4) 评价省会城市首位度的提高对省内经济发展的影响。(6分)

37. 阅读图文资料，完成下列要求。(24分)

森林防火隔离带类型多样。全光型隔离带需要消除隔离区内全部植被，遮荫型防火隔离带只消减隔离区内的地表可燃物，保留不易燃烧的大胸径树木。下图示意北美西海岸中纬度某山地林区。当地人们在山脊附近修建了一条全光型隔离带，后又分别在东坡、西坡修建遮荫型防火隔离带。西坡隔离带的设计宽度为300~400米，东坡带宽为100~150米。



(1) 说明与山坡相比，全光型防火隔离带建在山脊附近的优势。(4分)

(2) 分析西坡的防火隔离带宽度大于东坡的原因。(6分)

(3) 与全光型隔离带相比，指出遮荫型防火隔离带具有的优点。(8分)

(4) 有人建议在遮荫型防火隔离带清除地表枝叶，种植可防火的果树品种，你是否赞成，说明理由。(6分)

38. 阅读材料，完成下列要求。(14分)

举国体制是一种特殊的资源配置与组织方式，由政府统筹调配全国资源力量，举全国之力攻克某一领域的难题，达成相应目标任务。新中国成立后，举国体制在“两弹一星”研发、体育人才培养等方面发挥了重要作用。

在新的历史条件和新时代背景下，“新型举国体制”多次出现在党和国家的文件中，引起广泛关注。新型举国体制是在社会主义市场经济条件下，坚持党的集中统一领导，在事关国家发展和安全重大事项中发挥社会主义集中力量办大事优势的制度安排。新型举国体制的关键在于充分发挥政府、市场、社会等多元治理力量优势，强化国家和社会治理的整体效能。相较于传统举国体制，新型举国体制在坚持党的集中统一领导和政府积极主动作为方面一以贯之，其显著优势在于更加凸显市场和社会力量参与国家和社会治理的优势，形成“国家—市场—社会”有机协作的强大合力。

2023年3月，根据国务院机构改革方案，我国将重新组建科学技术部，健全新型举国体制，推动关键核心技术的重大突破。

结合材料，运用经济生活的知识，分析我国可以怎样通过“新型举国体制”来推动关键核心技术的重大突破。（14分）

39. 阅读材料，完成下列要求。（12分）

近年来，一些西方国家频频利用各种借口对我国进行遏制，对我国企业进行封锁打压，粗暴干涉我国内政，严重违反国际法和国际关系基本准则。

2023年2月21日，中国外交部长秦刚出席蓝厅论坛，就中方提出的《全球安全倡议》发表演讲。他强调，当前中国的发展离不开安全的国际环境，而没有中国的安全就没有世界的安全。中国经济、科技、军事实力不断提升，面对外部对中国的打压遏制，中国将坚决维护自身主权、安全、发展利益和国际公平正义。秦刚也在演讲中重申，中国坚持走和平发展道路，始终坚持做世界和平的守护者。2023年3月10日，在中国的斡旋和努力下，中华人民共和国、沙特阿拉伯王国、伊朗伊斯兰共和国在北京发表三方联合声明，沙特和伊朗两国同意恢复双方自2016年来切断的外交关系。

“没有中国的安全就没有世界的安全”，请结合材料，从政治生活的角度阐述你对这一观点的看法。（12分）

40. 阅读材料，完成下列要求。（26分）

材料一

党的十八大以来已经开展的五次主题教育活动

时间	活动主题	对象	效果简述
2013年	党的群众路线教育实践活动	全体党员	党的理论观点更好地得到传承，党员干部的理论素养得到提高，党员思想普遍接受洗礼；突出问题导向，深化党的自我革命，推动了全面从严治党；加强党群互动，密切了党群关系；促进了全党思想上的统一、政治上的团结、行动上的一致，党的创造力凝聚力战斗力大大提升；培育了积极、健康、向上的党内政治文化。
2015年	“三严三实”专题教育	县处级以上领导干部	
2016年	“两学一做”学习教育	全体党员	
2019年	“不忘初心、牢记使命”主题教育	以县处级以上领导干部为重点	
2021年	党史学习教育	全体党员	

2023年3月，中共中央办公厅下发《关于在全党大兴调查研究的工作方案》，把大兴调查研究作为在全党开展的主题教育的重要内容。

材料二

调查研究是我们党的传家宝，是做好各项工作的基本功。习近平总书记强调，调查研究不仅是一种工作方法，而且是关系党和人民事业得失成败的大问题。

当前，我国发展面临新的战略机遇、新的战略任务、新的战略阶段、新的战略要求、新的战略环境。国内外各种风险挑战、困难问题比以往更加严峻复杂，迫切需要通过调查研究把握事物的本质和规律，找到破解难题的办法和路径。广大党员、干部特别是领导干部要带头深入调查研究，不断深化对党的创新理论的认识和把握，善于运用党的创新理论研究新情况、解决新问题、总结新经验、探索新规律。必须坚持党的群众路线，坚持实事求是，坚守党性原则，一切从实际出发；以问题为导向，真正把情况摸清、把问题找准、把对策提实，不断提出真正解决问题的新思路新办法。

(1) 结合材料一，运用教育的特定功能知识，从文化生活角度分析说明开展主题教育活动对党员队伍建设的意义。(10分)

(2) 结合材料二，运用创新意识的知识，分析说明我们该如何有效地开展调查研究。(12分)

(3) 请就如何开展调查研究撰写出主要步骤，不超过60个字。(4分)

41. 阅读材料，完成下列要求。(25分)

材料一 合作社在美国农业生产中占有举足轻重的地位，美国80%的加工农产品来源于合作社，70%的农产品出口来源于合作社。美国农业合作社服务功能完善，美国现在已经形成了涵盖了产前、产中及产后业务的综合的、一体化的合作社。美国农业合作社的类型多样，可按三类标准进行划分。美国农业合作社经营规模逐渐扩大，财务状况越来越好，而合作社财务管理中最重要的一个方面就是资金管理。1922年-1968年美国政府对合作社颁布了多条法律，法律主要涵盖合作社的收入、信贷、税收和营销等方面。此外，政府鼓励合作社参与到公共服务体系当中，通过合作社这个桥梁，把政府、涉农科研机构所提供的科研成果、农业技术传递给分散的农场主。

——摘编自李旭、李雪、宋宝辉《美国农村合作社发展的特点、经验及启示》

材料二 2014年12月底，全国依法登记的农民专业合作社128.88万户，超过全国农户总数的35%，但与发达国家90%以上的入社比例还相距甚远。而且农业合作社分布不均，多集中在山东、河南、吉林及黑龙江等农业较发达的省份，偏远的西部地区农业合作社数量非常少。从经营领域来看，主要分布在种植业和畜牧业，这两类合作社超过全国合作社总数的70%，而且其经营内容绝大多数侧重于农畜产品的生产和销售，缺少再加工产业，利润率较低。因此，我国应积极发展多种类型的农业合作社，为农民提供产前资料供应、产中生产指导及产后销售帮助，提升个体农户的生产经营能力和市场适应能力，同时应大力发展农产品物流，帮助农民解决农产品销售困难和信息不对称等问题。

——摘编自赵冉、苏群《美国、日本农业合作社发展特点及启示》

(1) 根据材料一，概括美国农业合作社的特点。(8分)

(2) 根据材料二并结合所学知识，概括指出我国农业合作社的特点，并分析形成这一特点的原因。(12分)

(3) 根据上述材料, 谈谈在当前经济形势下我国建立农村合作经济的启示。(5分)

42. 阅读材料, 完成下列要求。(12分)

材料 一部百年党史, 是一部理论创新, 民族复兴与文明重生、相互交织的历史, 是一曲马克思主义中国化的交响乐, 也是一曲“两个结合”的合奏。

时代	代表人物	事迹
新民主主义时期	毛泽东	中国共产党将马克思主义与中国实际相结合, 创立了毛泽东思想, 《实践论》《矛盾论》等著作, 将马列理论与传统哲学相融通, 用民族形式表达马克思主义观点, 奠定“马克思主义中国化”的方法论基础。孕育了新民主主义革命理论。
社会主义革命和建设时期		中国共产党将马克思主义与建设和实际“第二次结合”, 在初步探索社会主义建设道路上, 《论十大关系》《关于正确处理人民内部矛盾的问题》等理论进一步发展了毛泽东思想实现了马克思主义中国化的第一次飞跃。
改革开放和社会主义现代化建设时期	邓小平、江泽民、胡锦涛	中国共产党将马克思主义与改革开放的具体实际相结合, 形成了中国特色的社会主义理论体系, 实现了马克思主义中国化的第二次飞跃。
中国特色社会主义进入新时代	习近平	以习近平同志为代表的中国共产党人面对国内外形势新变化和新要求, 明确提出“两个结合”的重要论断, 极大丰富和升华了马克思主义中国化的理论内涵, 实现了马克思主义中国化的第三次飞跃。

——摘编自政协报《马克思主义中国化“两个结合”的历史脉络》

根据材料任选一个时期, 并结合中国近现代史, 围绕着马克思主义中国化“两个结合”, 自拟论题, 并予以阐述。(要求: 论题明确, 持论有据, 论证充分, 表达清晰。)

请考生在第 43、44 两道地理题中任选一题作答, 如果多做, 则按所做的第一题计分。作答时用 2B 铅笔在答题卡上把所选题目的题号涂黑。

43. 旅游地理(10分)

江西省上饶望仙谷景区位于上饶灵山, 景区内悬崖飞瀑, 云雾缭绕, 古建筑悬挂于深山绝壁之间, 宛如仙境。2021年12月18日至2022年1月3日, 该景区精心设计了一场神话故事主题游园会活动, 在真实的景区中打造唯美壮阔的神话世界景色, 为游客带来别样奇趣的沉浸式剧情体验。

指出此次游园活动选择神话故事主题的优点以及沉浸式旅游对景区发展的作用。

44. 环境保护（10分）

据2015年第四次大熊猫调查结果显示，我国野生大熊猫种群主要分布于四川、陕西、甘肃三省，33个种群相互孤立，其中18个小种群的大熊猫数量不超过10只，大熊猫栖息地呈现基因孤岛化趋势。2017年1月，大熊猫国家公园试点方案正式实施。下图为四川原大熊猫保护区（左）及现大熊猫保护区（右）示意图。



简述大熊猫保护区分布范围的变化及分析这种变化对大熊猫保护的作用。

45. 阅读材料，完成下列要求。（15分）

材料：19世纪上半期，大批俄国留学生前往德意志学习法律，因此德意志的法治国家理念开始在俄国传播。启蒙思想引入俄国后，法国思想家的学说在俄国社会精英中也有一定影响。1861年农奴制的废除，标志着俄国现代化真正启动。受法德两国思想的影响，1864年司法改革的设计者们试图在不触动沙皇专制权力的前提下，在俄国建立一套完善的司法体系，并确立了法治国家的基本原则。沙皇政府为解决旧司法体制中存在的低效、腐败、不公正等问题，为调和各阶层利益，于1864年开始推行司法改革。改革的创新之处在于权力分离、审判公开和辨诉体制的确立，以及陪审制和律师制的创建。从改革的实践来看，新司法体制在保护个人权利，推动法制完善等方面发挥了重要作用，俄国开始向法治国家的方向发展。不过，19世纪70—90年代沙皇政府采取的一系列反改革措施，部分地破坏了法治国家建设的基础和原则，沙皇专制制度仍是俄国法治国家建设不可逾越的障碍。因此专制体制下法治国家建设不仅仅是变革司法的问题，还涉及政治制度变革等一系列复杂问题。

——摘编自郭响宏《俄国1864司法改革与帝俄晚期法治国家建设》

（1）根据材料并结合所学知识，概括1864年俄国司法改革的背景。（7分）

（2）根据材料并结合所学知识，分析1864年俄国司法改革的影响。（8分）

上饶市 2023 届高三第二次模拟考试政治试题及参考答案

一、选择题参考答案：

题号	12	13	14	15	16	17	18	19	20	21	22	23
答案	C	B	B	A	B	B	D	A	C	B	A	C

12. 【答案】C

【详解】存款增加，消费增长率下降，反映出我国居民消费信心不足。2023 年我国政府工作报告中提出，要把恢复和扩大消费摆在优先位置。为降低题目难度，把“优先”改成了“重要”，本题选②④。

存款增加，消费增长率下降，推不出其他理财方式收益率上升，实际情况是其他理财收益率下降是这一时期我国存款增加的一个原因，①不选；存款增加，消费增长率下降同样推不出商品房销售额大幅增长。过去一年，房地产市场调整，商品房销售不景气是存款增加、消费增长率下降的原因之一，③不选。

13. 【答案】B

【详解】全域经营以消费者为中心，利用数字化模式与用户对接，既提高了企业运营的精准性，又有利于优化用户消费体验，①④入选。商品的价值量是由社会必要劳动时间决定，全域经营的优势是利用数字化对接消费者，提高经营效率的经营模式，并不涉及企业组织结构的调整，②③不选。

14. 【答案】B

【详解】三权分置指农村的土地集体所有权、农户的承包权、土地的经营权这“三权”分置并行，流转的是土地的经营权而不是所有权，②不选；工业和服务业向农村聚集，并不是推动农业向第三产业转变，农业还是农业，是国民经济的重要基础，不能转变成第三产业，④不选。

15. 【答案】A

【详解】根据情境材料可知，海南封关后国外商品进入海南更为自由便利，外地货物发到海南属于出口，计入我国出口总额，①②入选。因为海南的货物发到内地属于进口，大批量进口货物需要报关等一系列手续，不会比以前更简便，③不选；初稿中④的表述为“岛内企业和居民生产生活成本将会下降”，题目讲解的时候可以让学生思考封关和降低关税，会不会让岛内企业和居民生产生活成本下降。其实企业的生产成本和居民的生活成本受土地、能源、原材料、劳动力价格、房价等诸多因素影响，制度性成本部分降低，不一定就能降低企业的生产成本和居民的生活成本。把“将会”改成“必定”，考生应该能比较容易排除④。

16. 【答案】B

【详解】政府履行社会建设职能，②不选；材料中的机制主要强调党员干部为民服务，没体现人民积极参与，④不选。基层自治组织形式如果没有重大变革的话，不说创新，但实践方式可以创新。本题选①③。

17. 【答案】B

【详解】材料主要体现转变政府职能中“放”、“管”、“服”中的创新监管方式、提高服务水平，不属于简政放权；且材料中“处罚随意、过罚不当”属于“乱作为”，非“不作为”，②不选；“着力”为尽力、全力的意思，政府以为为人民服务为宗旨，“着力树立政府权威”错误，④不选。①③符合题意。

18. 【答案】D

【详解】政协不能履行国家职能，①不选；材料中政协为行为主体，且材料没有强调民主党派的作用，②不选。初稿④中的“关注社会热点”为“进行参政议政”，考查学生对政协职能掌握的情况，材料中政协就某具体事项进行讨论，主要还是属于参政议政。2013年

高考新课标 II 卷有一道类似的题目。老师讲评试卷时可以让学生思考初稿④的选项。

19. 【答案】A

【详解】①②比较容易入选；材料是节目中有多国曲目，并不体现中华优秀传统文化推动世界文化发展，③不选；文化多样性是人类文明进步的重要动力，也是文化创新的重要基础，但不能说文化多样性是文化发展的源泉，文化发展的实质在于文化创新，而文化创新的源泉是社会实践，④不选。

20. 【答案】C

【详解】走中国特色社会主义文化发展道路，是建设中国特色社会主义文化强国的必由之路，①不选；雷锋精神不是中华传统道德，且传统道德不等于传统美德，需要辩证地看待，④不选；②③比较明显地体现了学雷锋活动的作用，入选。

21. 【答案】B

【详解】人工智能可以模拟人类智能，是人类某些智能的再现和放大；对于人工智能的运用，已经带来了科技伦理等问题需要正确对待；①④入选；人工智能确实延伸了人类认识器官，但不具有主观能动性和情感意识，②③不选。

22. 【答案】A

【详解】漫画讽刺了工作重表现不重实效的形式主义；漫画中人锯树的影子而不锯树，反映了违背规律，脱离实际蛮干的做法，①②入选；漫画的内涵跟守旧或创新，是否把握事物特殊性或“一刀切”没有直接关系，③不选；漫画也未体现均衡论，且主要矛盾的地位作用要求我们抓住重点和中心；矛盾主次方面的地位作用要求我们把握主流和本质，一般不说“在矛盾主次方面中抓住重点”；④不选。

23. 【答案】C

【详解】材料未体现社会提供的客观条件，①不选；人生的真正价值在于对社会的责任和贡献，③不选。

主观题 38 题：

①坚持党的集中统一领导，发挥党总揽全局，协调各方的作用。党做好顶层设计，明确方向，统筹各方力量协同攻关；（3分，得分点：党的领导）

②发挥政府在关键核心技术攻关中的组织作用，发挥社会主义市场经济体制优势，科学调控，提供政策扶持，集中力量办大事；（3分，得分点：政府宏观调控，集中力量办大事）

③发挥市场在配置资源上的决定作用，突出企业作为科技创新的主体地位，通过市场机制引导国有企业、民营企业等市场主体参与技术创新；

（3分，得分点：市场的决定作用，企业科技创新的主体地位）

④鼓励社会多元主体参与，引导社会资本加大投入，发挥高校、科研院所、人民群众、慈善机构等方面的作用，实现人力、物力、财力充分涌流，助推新型举国体制攻坚克难；

（3分，得分点：只写多元主体参与2分，列出一两个主体可得3分）

⑤总之，要在党的领导下，将有效市场和有为政府相结合，动员社会力量，科学统筹，优化机制，推动关键核心技术重大突破。（最后总结，2分）

（如果没从上述主体作答，但答到有效市场和有为政府相结合，调动人民群众的积极性和创造性，推动企业成为科技创新主体等，每点2分，注意不重复给分）

主观题 39 题：

①这一观点是西方一些国家对中国进行打压遏制，中国对于主权和安全受到严重威胁后的正当反应。（3分）（评价该观点的正当性、合理性，得分点：正当反应，合理反应等）

②当今国际竞争的实质是综合国力的较量。中国综合国力不断增强，有实力维护我国的主权、安全和发展利益。（3分）（中国有维护自身安全的实力，得分点：国际竞争，综合国力）

③我国坚持国家利益至上。侵犯中国的核心利益将遭受中国的强烈反击，世界和平将受到冲击。（3分）（中国有维护自身安全的态度和决心，得分点：国家利益至上或坚定地维护我国国家利益）

④中国坚持独立自主的和平外交政策，推动构建人类命运共同体，是世界和平的建设者和守护者，一个安全的中国将为维护世界安全贡献中国智慧和力量。（3分）

（中国能为世界和平贡献力量，得分点：我国外交政策，建设者守护者，或中国智慧）

（只答到第四单元相应知识点，没有体现材料和观点逻辑的，一点2分，最高不超过8分）

（阐述分成两层：一是中国安全受到威胁，中国有实力、有决心维护自身安全，其过程会影响世界安全；二是一个安全的中国能给世界和平与安全贡献力量）

主观题 40 题：

第（1）问：

①教育是人类特有的传承文化的能动性活动，具有选择、传递、创造文化的特定功能。（4分）（第一句话1分，选择、传递、创造每个词1分，共4分）

②根据不同时期的实际情况，选择不同的教育主题和教育对象，提高了主题教育活动的针对性和实效，强化了党员干部的理论修养、理想信念和担当意识；（2分，选择功能及作用）

③主题教育活动传递了党中央加强党的建设的意志和决心，让党的理论观点得到传承，党员思想接受洗礼，宗旨意识得到增强，党群关系得以密切。（2分，传递功能及作用）

④通过主题教育活动，培育了积极、健康、向上的党内政治文化，使党员干部统一了思想，提高了凝聚力和战斗力。（2分，创造功能及作用）

（②③④每一点都是教育的功能+活动对党员队伍的意义两部分；只结合材料分析开展主题教育活动对党员队伍的意义，没有从选择、传递、创造文化的功能进行分析，该题给4分）

第（2）问：

①创新是对既有理论和实践的突破，要创新就要有批判和发展。（2分）

②创新意识要求我们密切关注变化发展着的实际，破除落后的思想观念。当前我国面临着新机遇，也存在各种困难和挑战，开展调查研究，应该关注变化发展着的实际，破除积弊，破解难题；（5分）

③注重研究新情况，善于提出新问题，敢于寻找新思路，确立新观念，开拓新境界。调查研究过程中，要运用党的创新理论研究新情况、解决新问题、总结新经验、探索新规律，找到解决问题的新思路、新办法。（5分）

（本题答案结构清晰，按参考答案给分即可。）

初稿的第(2)问设计为：“只有通过调查研究，才能掌握实际情况。请运用认识论知识评析这一观点。”（答案可以从：合理性，即有利于掌握——主客观条件制约，不一定就能完全掌握——还可以通过其他途径掌握等方面作答，要求学生要有一定的逐层辨析能力）

第（3）问答案示例：

①一切从实际出发——物质决定意识；

②坚持群众路线——人民群众是社会历史的主体；

③具体问题具体分析——矛盾具有特殊性；

④承认矛盾，分析矛盾，找到解决矛盾的方法——矛盾具有普遍性。

（每条方法论和对应的原理各1分，只要符合如何开展调查研究的原理方法论都可以得分）

初稿的第(3)问设计为：请就如何开展调查研究撰写出主要步骤，不超过60个字。这对学生来说有一定难度，可以引导学生从制定计划—实地调研—加强监督—总结经验等几个方面进行答题。