

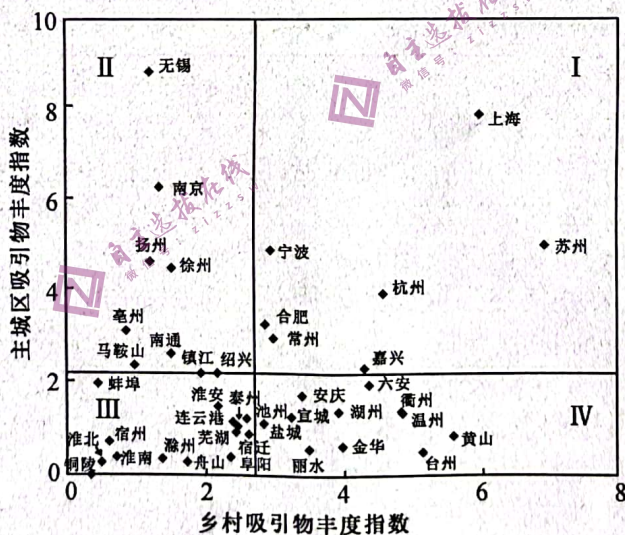
文科综合试卷

考生注意：

1. 本试卷分选择题和非选择题两部分。满分 300 分，考试时间 150 分钟。
2. 答题前，考生务必用直径 0.5 毫米黑色墨水签字笔将密封线内项目填写清楚。
3. 考生作答时，请将答案答在答题卡上。选择题每小题选出答案后，用 2B 铅笔把答题卡上对应题目的答案标号涂黑；非选择题请用直径 0.5 毫米黑色墨水签字笔在答题卡上各题的答题区域内作答，**超出答题区域书写的答案无效，在试题卷、草稿纸上作答无效。**
4. 本卷命题范围：高考范围。

一、选择题：本大题共 35 小题，每小题 4 分，共 140 分。在每小题给出的四个选项中，只有一项是符合题目要求的。

城乡融合发展是当前我国推进新型城镇化和乡村振兴工作的重点，作为关乎国计民生的幸福产业，城乡旅游业均衡发展的必要性日益凸显。下图示意 2022 年长三角旅游吸引物丰度指数城乡分异统计，I 为城乡双高型，II 为城区集聚型，III 为城乡双低型，IV 为乡村集聚型。据此完成 1~3 题。



1. 2022 年长三角旅游吸引物丰度指数的 4 个类型中

A. I 旅游要素联系紧密且融合程度高	B. II 乡村旅游丰度及吸引力强于城区
C. III 城区旅游要素融合度高且资源多	D. IV 旅游吸引物和要素多集聚于城区
2. 当前促进长三角城乡旅游业均衡发展的重要因素是

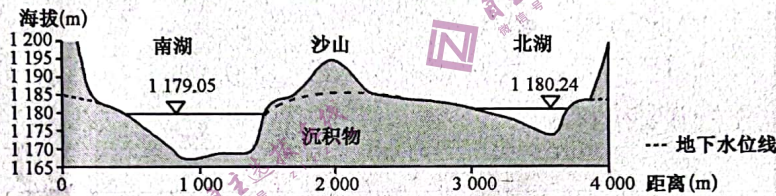
A. 地理位置	B. 资源分布	C. 社会政策	D. 市场需求
---------	---------	---------	---------
3. 构建城乡良性循环发展的基础举措是

A. 补齐城乡基础设施短板	B. 注重城乡生态环境的整治与建设
C. 打通城乡要素流动通道	D. 探索城乡产业链衔接融合新模式

第七次全国人口普查数据显示,我国流动人口达 3.76 亿,占全国总人口 26.6%。大量流动人口(分为两种形式:乡—城流动和城—城流动)进入城市,构成了快速城镇化过程的主体。2021 年我国常住人口城镇化率为 64.72%,户籍人口城镇化率为 46.7%,两者相差 18.02 个百分点,尽管城市户籍制度改革和城市落户门槛不断降低,但总体上流动人口落户积极性仍然不高。据此完成 4~6 题。

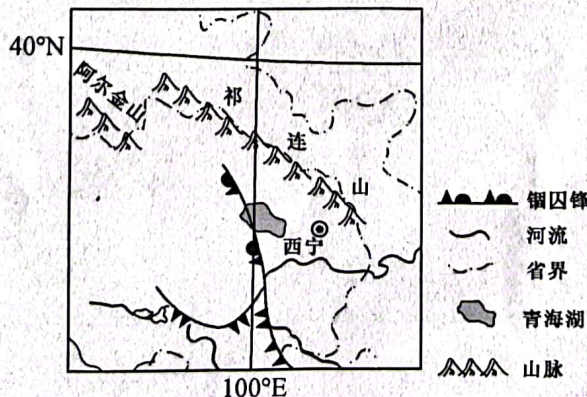
4. 相较于乡—城流动人口,促使城—城流动人口落户意愿更高的因素是
 A. 职业类别 B. 就业机会 C. 产业规模 D. 社会融入
5. 我国城市户籍制度改革和城市落户门槛不断降低,但总体上流动人口落户积极性不高,其根源是
 A. 区域差距日益缩小 B. 区域交通联系日益紧密
 C. 人们生活质量提升 D. 社会保障设施日益完善
6. 为增强流动人口的落户意愿,城市可采取的方法是
 A. 优化农村土地流转机制
 B. 完善健全对城—城流动人口的公共服务体系
 C. 提高城市最低工资标准
 D. 为乡—城流动人口提供职业教育及科研培训

巴丹吉林沙漠位于内蒙古自治区西部的银额盆地底部,有世界上独一无二的沙山—湖泊景观,该地多年平均降水量为 50~60 mm,水面蒸发量达 3 000~4 000 mm。下图示意巴丹吉林沙漠东南部湖泊群中南湖和北湖的纵剖面。据此完成 7~8 题。

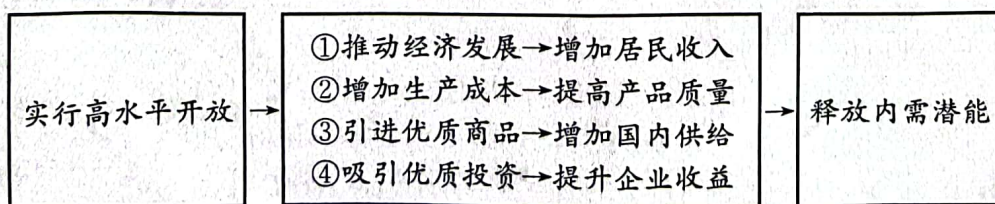


7. 据观测,南湖和北湖面积和水深基本保持稳定,主要是因为
 A. 雨水补给量与河流水补给量大致等于蒸发量
 B. 冰雪融水补给量与河流水补给量大致等于蒸发量
 C. 雨水补给量与地下水补给量大致等于蒸发量
 D. 冰雪融水补给量与地下水补给量大致等于蒸发量
8. 推测沙山—湖泊区域推动空气水分、土壤水分运动的主要驱动力是
 ①湿度梯度 ②温度梯度 ③海拔梯度 ④降水梯度
 A. ①② B. ①④ C. ②③ D. ③④

锢囚锋是由冷锋追上暖锋或由两支冷锋迎面相遇将锋前的暖气团抬离地面,禁锢在高空形成的一种特殊锋面。2023 年 1 月 11~20 日新疆北部一股强冷空气东进时分裂成两路,西路经阿尔金山山口进入青海,东路经河西走廊南下,在青藏高原东北部河谷掉头向西,在青海湖(未冰封)附近两路气团相遇,形成一次锢囚锋。下图示意 1 月 19 日 21 时此次锢囚锋的地理位置。据此完成 9~11 题。



9. 此次锢囚锋东、西两路气团
- A. 东路为暖气团,西路为冷气团
B. 东路冷气团的势力较西路强
C. 西路气团推动东路气团向东行
D. 东路气团水汽含量较西路少
10. 导致此次锢囚锋东、西两路气团势力不同的主要原因是
- A. 大湖效应
B. 昼夜温差
C. 峡谷效应
D. 距风源地远近
11. 此次锢囚锋
- A. 迅速移动,带来大范围雨雪
B. 保持静止,带来连续阴雨
C. 移动缓慢,带来小范围暴雪
D. 相持不下,大风降温暴雨
12. 无论哪一个社会形态,在它所能容纳的全部生产力发挥出来以前,是决不会灭亡的;而新的更高的生产关系,在它的物质存在条件在旧社会的胎胞里成熟以前,是决不会出现的。所以,人类始终只提出自己能够解决的任务,也只要仔细考察就可以发现,任务本身只有在解决它的物质条件已经存在或者至少是在生成过程中的时候,才会产生。由此可见
- A. 同一社会形态的不同发展阶段,其发展规律也是不同的
B. 社会主义最终取代资本主义是社会历史规律发展的必然
C. 人类社会的生产关系是由物质生产力的发展水平决定的
D. 人类社会的历史就是社会形态发展规律相互更替的历史
13. 中共十三届四中全会以后,江泽民在领导建设中国特色社会主义的实践中,团结带领全党全国各族人民,加深了对什么是社会主义、怎样建设社会主义和建设什么样的党、怎样建设党的认识,形成了“三个代表”重要的思想,丰富和发展了中国特色社会主义理论。下列对“三个代表”重要思想的成就认识正确的是
- ①提出了党在社会主义初级阶段的基本路线和基本纲领 ②确立了社会主义市场经济体制的改革目标和基本框架 ③确立了社会主义初级阶段的基本经济制度和分配制度 ④深刻揭示社会主义本质,制定了“三步走”发展战略
- A. ①②
B. ①④
C. ②③
D. ③④
4. 徐工集团工程机械股份有限公司是始于八路军鲁南第八兵工厂的重工企业。2022年3月5日,习近平总书记在参加江苏代表团审议时听取该集团代表汇报的新成绩单,“关键指标已达到全球第一,国产化率由原来的71%提升到100%,起重机里面的芯片全是国产。”在听完汇报后他感慨:“我国的制造业门类非常齐全,现在要努力的,就是全面提升,过去的中低端要向上走,布局高端。高质量发展就要体现在这里。任何时候中国都不能缺少制造业。”由此可见
- ①积极稳妥深化混合所有制改革,进一步提升国企经济竞争力 ②要把高质量发展作为首要任务,推动国有企业的高质量发展 ③国有企业攻克关键核心技术,助力实现高水平科技自立自强 ④我国制造业是筑牢现代化经济体系的根基,应布局高端市场
- A. ①②
B. ①④
C. ②③
D. ③④
5. 《扩大内需战略规划纲要(2022—2035年)》强调“深化改革开放,增强内需发展动力”。实行更高水平开放,能够为深挖国内需求潜力、拓展扩大最终需求提供强大动力。不考虑其他因素,下列传导路径正确的是



- A. ①②
B. ①③
C. ②④
D. ③④

①利用外资规模不断扩大,引资结构持续优化 ②优化外商投资环境,依法保护外商投资权益 ③深度融入经济全球化,对外依存度不断提高 ④外资区域布局优化,中西部成为外资首选地

- A. ①② B. ①④ C. ②③ D. ③④

21. 2023年3月10日,中国、沙特阿拉伯、伊朗在北京发表三方联合声明,宣布沙特、伊朗达成协议,同意恢复中断近7年的外交关系。沙特、伊朗积怨已久。如今,沙伊两国在中国斡旋下冰释前嫌,全世界都颇感意外。中国不仅推动沙伊签订复交协议,更促进双方开展合作。由此可见

①中国同时是沙伊两国的友好同盟和重要贸易伙伴 ②中国为地区国家解决争端提供中国智慧、中国方案 ③中国是爱好和平、支持和平、维护和平的负责任大国 ④沙伊复交促进中东地区民族矛盾和政治矛盾彻底解决

- A. ①② B. ①④ C. ②③ D. ③④

22. A运输公司通过网络货运平台下单,平台派单给孙某。A运输公司与孙某双方签订运输协议,约定运输费用为750元,在货物安全送达时支付。孙某在运输途中发生交通事故车辆倾覆,导致价值5.6万元所运输的货物全部毁损。A运输公司向实际承运人孙某索赔,孙某称是平台派单,应由平台承担赔偿责任,与己无关。对本案认识正确的是

①网络货运平台构成侵权,应承担货物损毁的连带责任 ②孙某与A运输公司签订合同有效,应将货物安全送达 ③A运输公司与孙某签订运输协议,故有权向孙某索赔 ④交通事故系不可抗力,孙某可以此为据主张免除责任

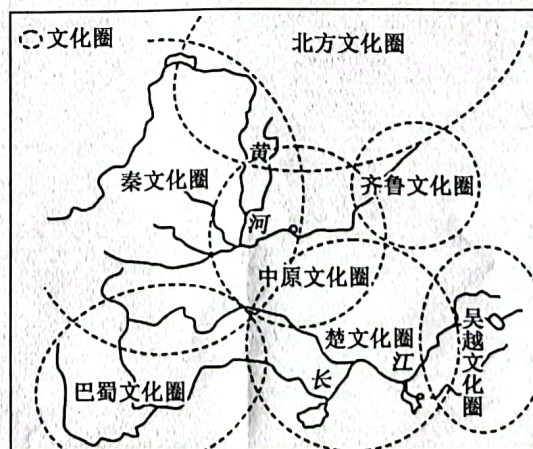
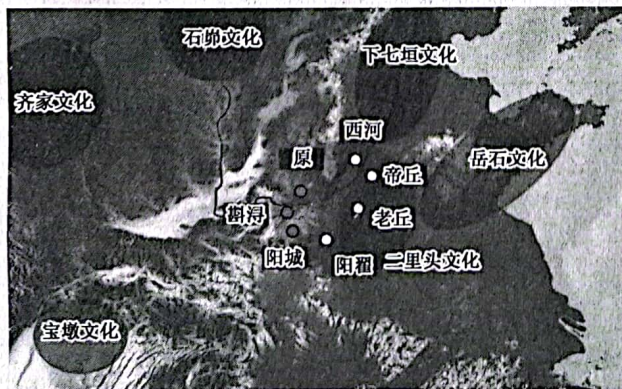
- A. ①② B. ①④ C. ②③ D. ③④

23. 对下列判断的类型分析正确的是

	判断	类型
①	为国不可以生事,亦不可以畏事	联言判断
②	若非一番寒彻骨,哪得梅花扑鼻香	充分条件假言判断
③	人固有一死,或重于泰山,或轻于鸿毛	相容选言判断
④	不登高山,不知天之高也;不临深渊,不知地之厚也	必要条件假言判断

- A. ①② B. ①④ C. ②③ D. ③④

24. 下列图片分别为西周以前和春秋战国时期中国文化圈示意图。这一变化可用于研究春秋战国时期



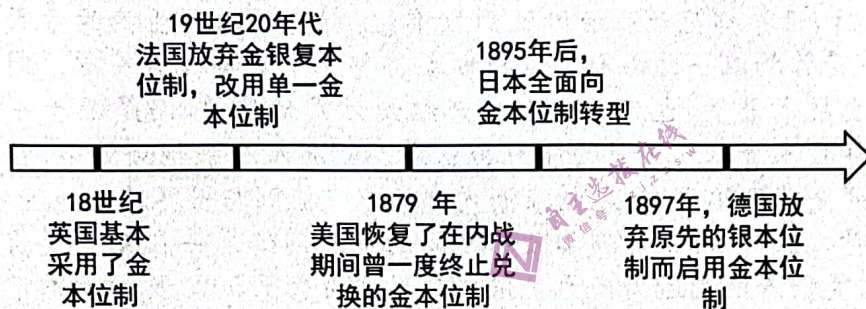
- A. 国家已实现统一 B. 文化的交融与认同
C. 商品经济的繁荣 D. 诸子思想同源异流

25. 北朝《齐律》列有重罪十条：一曰反逆，二曰大逆，三曰叛，四曰降，五曰恶逆，六曰不道，七曰不敬，八曰不孝，九曰不义，十曰内乱；隋代《开皇律》称之为“十恶”，并且规定绝不赦免；《唐律疏议》对之进一步修订，正式形成了“十恶不赦”的说法。这些规定反映的本质问题是
- A. 政治统治中封建法律的儒家化
B. 古代法律内容的完善与细密
C. 佛教传播影响当时法律的制定
D. 法律条文凸显人人平等特征
26. 两税法实质上就是以户税和地税来代替租庸调的新税制。两税法的主要原则是“户无主客，以见居为簿；人无丁中，以贫富为差”，是不再区分土户(本贯户)、客户(外来户)，只要在当地有资产、土地，就算当地人，上籍征税。据此可知，唐代两税法的实施折射出
- A. 政府严格控制户籍
B. 人民生活的富庶
C. 土地私有制的发展
D. 社会矛盾的缓和
27. 明清之际的张岱是私人修史的著名学者，在其《越中三不朽图赞》中选取人物最多的是关于理学、忠烈、忠杰、忠谏、孝烈、生孝等 12 目，以便“见道学诸公则自知有愧衾影，见忠节诸公则自惭有亏忠孝，见清介诸公则自恨纠缠名利，见文学诸公则自悔枉读诗书”。据此可知，张岱
- A. 主张重新建立儒家的伦理规范
B. 提倡修史须有近代的思维方式
C. 具有朴素的唯物主义史学意识
D. 注重修史内容以实现经世致用
28. 下表是《海宁州志稿》中记载的关于 1840 年前至 1858 年广州和上海生丝年出口量(单位：包)的变化情况。对此解读正确的是

年份	广州	上海
1840 年前	约 8 960	0
1845 年	6 787	6 433
1846 年	3 554	15 192
1851 年	2 409	20 631
1853 年	4 577	58 319
1858 年	*	85 970

- A. 传统观念阻碍了民族工业的发展
B. 鸦片战争推动了中国外贸中心的转移
C. 中国成为西方国家主要原料产地
D. 传统经济结构在西方冲击下发生变动
29. 1940 年 3 月，中共中央发出党内指示，强调敌后政权在性质上是抗日民族统一战线政权。指出在政权的人员分配上，“共产党员占三分之一，非党的左派进步分子占三分之一，不左不右的中间派占三分之一”。共产党在政权中的领导作用，是要靠党员的质量来保证的，而不必有更多的人数，不是要盛气凌人地要人家服从。据此推知，“三三制”的实行
- A. 容易导致中共丧失革命的领导权
B. 践行了革命统一战线的基本原则
C. 有利于提高党的执政能力和水平
D. 体现了党对无产阶级专政的探索
30. 古代玛雅人在公元 4 世纪时就开始运用数字“0”的概念。在当时玛雅人的计数体系中，“0”通常用一种类似贝壳形状的象形文字表示，它为玛雅人的计数方式奠定了重要的基础。由于“0”这个符号，玛雅的 20 进位制的数字写法就合乎科学要求，这无疑也具有了重要的世界首创意义。据此可知，玛雅文明
- A. 发展的程度较高
B. 长期领先于世界各国
C. 以发展科技为主
D. 善于吸收外来的文化
31. 15 世纪欧洲人关于印度的历史是模糊的；关于中亚、东亚和撒哈拉以南非洲的知识则更模糊，更不用说南极洲的存在了。到 1763 年，世界大部分地区的主要海岸线，包括南北美洲的大西洋沿岸等，欧洲人的知识已超出海岸线范围。这一变化说明
- A. 世界性的人口流动已开始
B. 新航路开辟客观上促进欧洲社会的转型
C. 西方现代化进程的掠夺性
D. 殖民扩张使欧洲人具备新的全球性视野

32. 自伊凡三世起,俄国还保存着分封的公国和有食邑的贵族,食邑贵族以大公名义执行行政、司法、财税和军事的职能。伊凡四世加冕后,建立起一批作为中央管理机构的衙门,从封地贵族、商人、手工业者和国有农民中选举的“地方司法税务官”取代波雅尔(仅次于沙皇的亲王王子)的总督和乡长。据此可知,伊凡四世的统治
- A. 摆脱了中世纪罗马教皇神权统治束缚
B. 促使地方获得了自治权利
C. 一定程度上保证了国家权力的统一性
D. 致使俄国社会出现了转型
33. 18世纪40年代的英国中低收入人群吃的主要是面包,肉类如牛羊肉和新鲜水果蔬菜等缺乏、营养不良,不及上层。19世纪中期以来,英国人普遍注重食物的营养,马铃薯的消费减少,一些经济状况较好的家庭蔬菜消费增加,香蕉在城市穷人家庭中得到普及,咖啡和茶叶的消费量也增加了。这一变化反映出英国
- A. 国内外市场得到不断扩大
B. 农业和工业结构得以有效调整
C. 社会贫富差距已不断缩小
D. 工业革命提升了社会消费能力
34. 阅读下图,该图可用于说明



- A. 国际性的统一货币体系渐趋成型
B. 资本主义世界逐渐实现货币一体化
C. 白银在世界上失去了流通的功能
D. 世界体系的中心由英国转移到美德
35. 下表为埃及收回苏伊士运河主权大事记。据此可推知

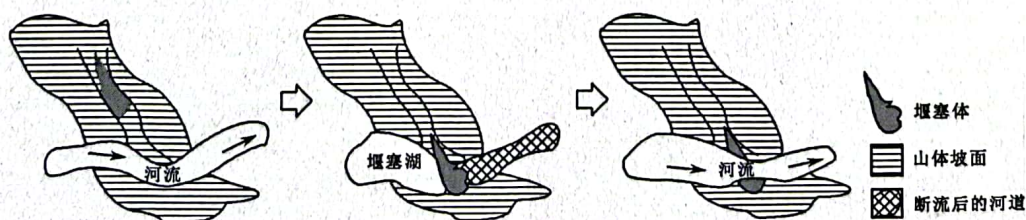
1955年12月	英国、美国及世界银行表示愿向埃及修建阿斯旺水坝提供贷款	
1956年	5月	埃及不顾美国劝告,与中国建交
	6月	苏联答应向埃及提供援助
	7月	美国借口尼罗河用水问题,撤回对埃及的援助,英国和世界银行也取消贷款
	9月	埃及决心收回苏伊士运河,以筹措修建阿斯旺水坝的资金

- A. 世界殖民体系处于崩溃边缘
B. 冷战影响发展中国家的发展
C. 政治独立是经济自主的基础
D. 资本主义阵营内部出现分化

二、非选择题:本大题包括10小题,共160分。

36. 阅读图文材料,完成下列要求。(26分)

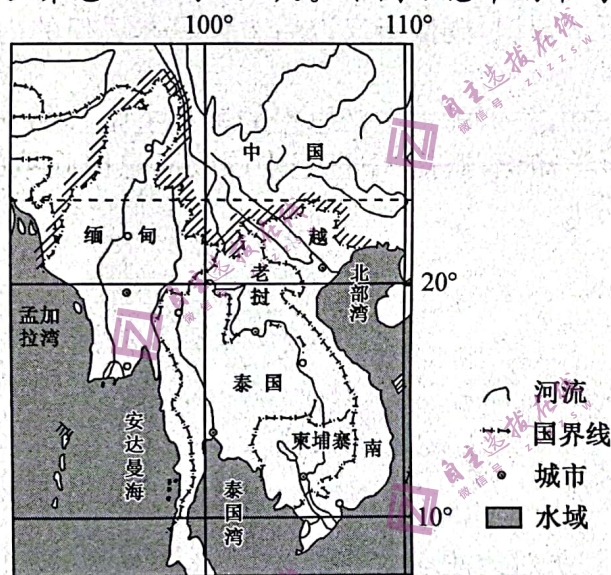
堰塞湖,是由火山熔岩流、冰碛物或由地震活动使山体岩石崩塌下来等原因引起山崩滑坡体等堵塞山谷、河谷或河床后贮水而形成的湖泊。堰塞湖的堰塞体不是固定永远不变的,一旦堰塞体被破坏,湖水便漫溢而出,倾泻而下,形成洪灾。下图示意我国某地区堰塞湖形成及自行消失的过程。



- (1)描述图中堰塞湖形成及自行消天的过程。(6分)
 (2)指出导致堰塞湖形成的主要自然条件。(6分)
 (3)指出我国堰塞湖分布较多的地区,并说明缘由。(6分)
 (4)为减少堰塞湖形成的洪灾,请你提出合理的应对措施。(8分)

37. 阅读图文材料,完成下列要求。(30分)

自“一带一路”倡议实施以来,我国与中南半岛国家间的经贸联系更加紧密,但也面临诸多风险和挑战。据统计,2012~2018年中南半岛五国的综合风险均较稳定,从风险维度来看,政治风险方面,缅甸呈下降趋势,柬埔寨呈缓慢上升趋势,老挝、越南和泰国呈缓慢下降趋势;经济风险方面,缅甸、老挝和柬埔寨均较为稳定,越南呈下降趋势,泰国呈现缓慢下降趋势;社会风险方面,缅甸和泰国呈波动下降趋势,老挝及越南呈现上升趋势,柬埔寨较为稳定。自然环境风险方面,五国均呈下降趋势。2018年中南半岛五国经济总量占全球经济总量的1.01%,总人口占世界总人口的3.1%。下图示意中南半岛五国地理位置。



- (1)分析中南半岛五国适合我国投资的优势条件。(8分)
 (2)结合中南半岛五国情况,简述政治风险、经济风险、社会风险及自然环境风险的相互影响。(6分)
 (3)推测我国在中南半岛五国的主要投资方向。(8分)
 (4)请你为降低我国在中南半岛五国的投资风险献计献策。(8分)

38. 阅读材料,完成下列要求。(10分)

二十大成功举行,为当前和今后一个时期中国发展指明了方向、规划了蓝图。党的二十大报告强调“发挥我国社会主义新型政党制度优势,坚持长期共存、互相监督、肝胆相照、荣辱与共,加强同民主党派和无党派人士的团结合作。”2023年3月4日,全国政协十四届一次会议召开,会议强调,要坚定地坚持中国共产党的领导,切实履行好中国共产党好参谋、好

帮手、好同事的神圣职责,为全面建设社会主义现代化国家、全面推进中华民族伟大复兴凝心聚力、再立新功。

结合材料,运用《政治与法治》知识,说明中国共产党加强同民主党派和无党派人士的团结合作的意义。

39. 阅读材料,完成下列要求。(12分)

2022年12月31日,国家主席习近平发表二〇二三年新年贺词。

习近平指出,今天的中国,是赓续民族精神的中国。这一年发生的地震、洪水、干旱、山火等自然灾害和一些安全事故,让人揪心,令人难过,但一幕幕舍生取义、守望相助的场景感人至深,英雄的事迹永远铭记在我们心中。每当辞旧迎新,总会念及中华民族千年传承的浩然之气,倍增前行信心。

习近平强调,明天的中国,奋斗创造奇迹。路虽远,行则将至;事虽难,做则必成。只要有愚公移山的志气、滴水穿石的毅力,脚踏实地,埋头苦干,积跬步以至千里,就一定能够把宏伟目标变为美好现实。

习近平指出,明天的中国,希望寄予青年。青年兴则国家兴,中国发展要靠广大青年挺膺担当。年轻充满朝气,青春孕育希望。广大青年要厚植家国情怀、涵养进取品格,以奋斗姿态激扬青春,不负时代,不负华年。

(1)结合材料,运用“弘扬中华民族精神”的知识,说明赓续民族精神对中华民族在困境中坚定前行的作用。(6分)

(2)结合材料,运用“价值创造与实现”的知识,说明新时代青年应如何担当作为。(6分)

40. 阅读材料,完成下列要求。(12分)

2022年11月18日,习近平主席出席在曼谷召开的亚太经合组织第二十九次领导人非正式会议。

习近平主席指出,亚太过去几十年经济快速增长,得益于和平稳定的环境。一个重要启示就是相互尊重、团结合作,遇到事情大家商量着办,寻求最大公约数。我们应该坚持共同、综合、合作、可持续的安全观,尊重各国主权、领土完整,不干涉别国内政,尊重各国人民自主选择的发展道路和社会制度,重视各国合理安全关切,通过对话协商以和平方式解决国家间的分歧和争端。我们要积极参与全球治理,为亚太和世界和平稳定提供保障。

结合材料,运用“世界多极化”知识,说明亚太各国应如何为亚太和世界和平稳定提供保障。

41. 阅读材料,完成下列要求。(8分)

【案情】某日,村民小李发现邻居小王在二楼的院墙外安装了两个摄像头,可以拍摄到自家院墙内日常生活情况,在交涉无果后,将小王诉至当地人民法院,要求拆除摄像头。

【经过】原来,小李与小王系一墙之隔的邻居,由于小王院子里经常出现不明石块,其认为是有人故意为之,遂在自家二楼安装摄像头,摄像范围涵盖了小李整个院子,给小李一家的生活带来极大困扰。经双方多次交涉无果后,邻里矛盾逐渐激化。

【结果】法院经过调查并对双方进行调解。经释法明理,小王理解这种行为不可取,与对方握手言和,同意拆除摄像头。

结合材料,运用“民事权利与义务”知识,请你对法院作出上诉调解进行释法明理。

42. 阅读材料,完成下列要求。(10分)

长江被称为中华民族的母亲河之一。然而近些年长江“生病”了,而且病得还不轻。这个“病”根就是整个长江流域生态系统受到了极大损害:过度捕捞危害长江流域生态系统的多样性;非法砍伐、过度开垦开采导致洪涝灾害频发;水资源污染造成流域生态环境严重破坏,危及人民群众生产生活;江岸盲目无序开发特别是工厂、城乡、船舶碳污大量排放加剧了生态恶化。针对这种情况,长江保护法贯彻习近平总书记关于“把修复长江生态环境摆在压倒性位置”的要求,突出了抓紧修复、重在修复这一治病除根的“药方”。

结合材料,运用“把握辩证分合”的知识,说明长江“生病”的启示。

43. 阅读材料,完成下列要求。(25分)

材料一

秦汉以后,历代政治家、思想家都主张帝王将“民惟邦本作为治国之要”。汉代民本思想在继承和总结以往思想的基础上,形成了一套新的思想体系,其显著特征就是关注民生。贾谊曾明确指出:“闻之于政也,民无不为本也。国以为本,君以为本,吏以为本”,且强调“王者取吏不妄,必使民唱,然后和之”,由此可以看出,汉代民本思想的着眼点并不仅仅在于“民”,而是将民作为评价政绩的标准。唐初的魏征和李世民明确地提出了民水君舟说,并采取一系列措施,如节力役;息边争;不违农时;大办农业,使耕者有田,兴修水利,劝课农桑;赈灾百姓;慎刑罚。明清时期的民本思想家,既不像先秦民本思想家那样强调民在邦国中的地位,劝诫统治者要得民心,亦不像汉唐以后强调人民载舟覆舟的历史作用,他们所强调的是人民作为人的权利,尤其批判了几千年的封建主义制度是违背人性、压抑民权的制度。

——摘编自赵树森《中国古代民本思想的历史演进及其现代转化》

材料二

孙中山始终把“天下为公”“世界大同”作为最高理想,毕生致力于此,可谓“鞠躬尽瘁,死而后已”。孙中山的“大同”思想主要表现在他的“民生主义”主张里。“凡为社会之人,无论贫贱,皆可入公共学校,不特不取学膳等费,即衣履书籍,公家任其费用;设公共养老院,收养老人,供给丰美,俾之愉快,而终其天年,则可补贫穷者家庭之缺憾;设公共病院,贫者不收医治之费,而待遇与富人纳资者等。”他指出:“国家必有四大主旨:一为国民谋吃饭,二为国民

谋穿衣,三为国民谋居屋,四为国民谋走路。”虽然孙中山所谓未来的“大同之世”在当时的社会条件不具备实现的可能。但是孙中山将“大同世界”当成社会主义社会的高级阶段、人类社会发展的终极目标,这在当时有助于人们去追求一个理想与幸福的社会,从而推动着中国社会向前发展。

——摘编自万建中《孙中山富国强民的国家建设思想》

材料三

随着中国经济的快速发展,中国民主进程和社会变革的加快,政府职能的转变和人民群众的利益被放在越来越突出和重要的地位。2004年3月,国家决定:“除烟叶外,取消农业特产税,每年可使农村减轻负担48亿元,平均每年降低一个百分点以上,五年内取消农业税”。众所周知,因为经济发展的不平衡,农村子女辍学是一个严重的社会问题,为了让所有孩子都能上得起学、上好学,2006年起,我国西部地区率先进行农村义务教育经费保障机制改革。“十一五”时期,中央计划要在全国初步建立覆盖城乡包括比较规范的公共卫生服务体系,比较规范的国家基本药物制度和公立医院管理制度。2006年,国务院又出台了《关于解决农民工问题的若干意见》,此后,各地提高农民工待遇、改善农民的工作和生活条件的措施也陆续出台。除此之外,城乡最低生活保障、解决低收入家庭的住房、劳动者的人身安全、对种粮农民的补贴等都得到了国家的关注和积极解决。

——摘编自赵秀玲《“以民为本”与政府治理——近几年中国政府的惠民政策分析》

- (1)根据材料一并结合所学知识,概括秦汉以后古代民本思想的内容,并分析其发展的原因。(10分)
- (2)根据材料二,概括孙中山关于民生主义思想的基本主张。(6分)
- (3)根据材料三并结合所学知识,概括21世纪中国政府惠民政策的特点,并谈谈你对以民为本思想的认识。(9分)

44. 阅读材料,完成下列要求。(12分)

材料

图1、图2、图3、图4分别为中共领导下的人民军队在不同历史时期的旗帜、臂章和胸章。



图1



图2



图3



图4

结合中国近现代史的相关知识,紧扣图 1 至图 4 中所示的一个或多个逻辑线索,自行拟定一个论题,并予以阐述。(要求:论题正确,史论结合,逻辑严密,阐述清晰。)

45. 阅读材料,完成下列要求。(15 分)

材料一

1500 年以后,世界棉花产业经历了剧烈重组:棉花种植和生产的方式与地点发生了重大改变,同时棉花作物以一种令人震惊的方式将整个世界整合在一起。对棉花产业的重组最初并不是来自技术进步,也不是来自生产组织方式的优势,而是源于一个更为简单的原因——跨越大洋投入资本和力量的能力和意愿。欧洲人越来越频繁地,往往以暴力的方式挤入棉花贸易的全球网络之中,包括亚洲内部的以及亚洲与世界其他地区的贸易网络,然后利用同样的力量建立起非洲、美洲和欧洲之间的全新网络。一代又一代的欧洲资本家和政治家吸取教训,凭借着他们运用武力扩张自身利益的意愿和能力,建立起了比较优势。

——摘编自斯文·贝كت《棉花帝国》

材料二

马尼拉大帆船贸易确立了太平洋与拉丁美洲跨洋贸易的东部航线,并将之与马尼拉与中国贸易航路以及葡萄牙人开辟的太平洋西部跨洋贸易航线——里斯本至澳门和澳门至长崎联结起来。此外,马尼拉大帆船贸易还推动了欧洲、拉美、中国/东南亚之间移民的流动和文化的交流。马尼拉大帆船贸易编织出“以西班牙为主角的近代太平洋贸易网”,“一个常规性而持久的跨洋联系才在亚、非、欧、美四个大陆之间真正建立起来”,大帆船贸易的开始“是世界全球化的真正起点”。

——摘编自王华《海洋贸易与北太平洋的早期全球化》

- (1) 根据材料一并结合所学知识,概括新航路开辟后棉花在世界经济中地位的变化,并说明推动其变化的历史因素。(8 分)
- (2) 根据材料二并结合所学知识,指出“大帆船贸易的开始‘是世界全球化的真正起点’”这一观点的历史依据。(7 分)