

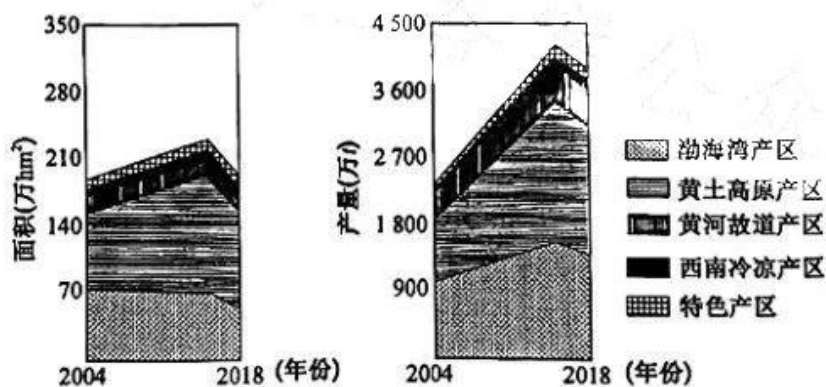
文科综合

考生注意：

1. 本试卷分选择题和非选择题两部分。满分 300 分，考试时间 150 分钟。
2. 答题前，考生务必用直径 0.5 毫米黑色墨水签字笔将密封线内项目填写清楚。
3. 考生作答时，请将答案答在答题卡上。选择题每小题选出答案后，用 2B 铅笔把答题卡上对应题目的答案标号涂黑；非选择题请用直径 0.5 毫米黑色墨水签字笔在答题卡上各题的答题区域内作答，超出答题区域书写的答案无效，在试题卷、草稿纸上作答无效。
4. 本卷命题范围：高考范围。

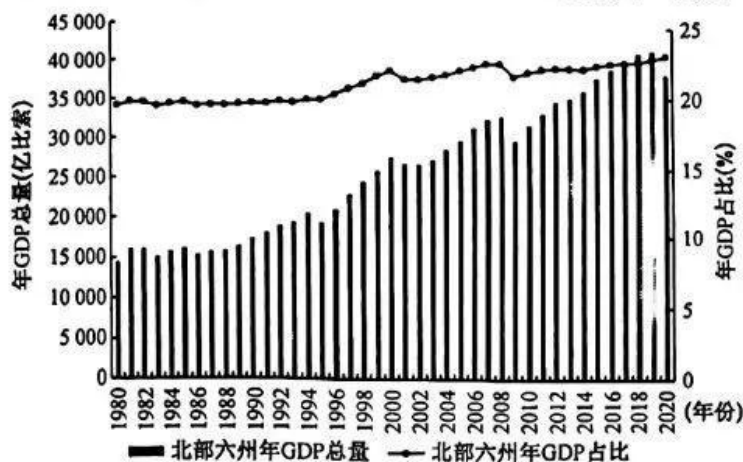
一、选择题：本题共 35 小题，每小题 4 分，共 140 分。在每小题给出的四个选项中，只有一项是符合题目要求的。

苹果主产于暖温带，喜温凉，我国是世界苹果生产和消费第一大国。下图示意 2004~2018 年我国主要苹果产区种植面积和产量情况。目前，新疆天山南麓、塔里木盆地北缘的阿克苏地区已成为我国苹果特色产区中重要的生产基地。据此完成 1~3 题。



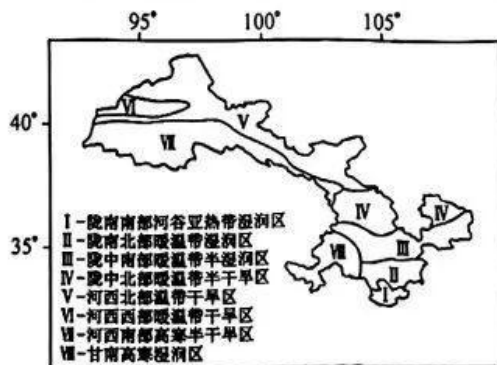
1. 推测可知，2004~2018 年我国主要苹果产区
 - A. 销售市场萎缩
 - B. 弃种弃管严重
 - C. 生产投入减少
 - D. 经济效益增加
2. 与渤海湾产区相比，西南冷凉产区
 - A. 出口条件优越
 - B. 早熟品种上市早
 - C. 生产水平较高
 - D. 劳动力较为丰富
3. 阿克苏地区能成为我国苹果特色产区中重要的生产基地，主要得益于当地
 - ①地形复杂
 - ②光照充足
 - ③苹果深加工能力强
 - ④土地资源丰富
 - A. ①②
 - B. ①③
 - C. ②④
 - D. ③④

在全球跨国移民分布中,美国是世界上最大的移民接收国,墨西哥是其最大的移民来源国。移民跨国流动路径的形成和沿线跨国移民据点的出现产生边界效应,为美墨边境地区的发展带来了机遇。下图示意 1980~2020 年墨西哥北部六州年 GDP 总量及占比情况。据此完成 4~6 题。来源:高三答案公众号



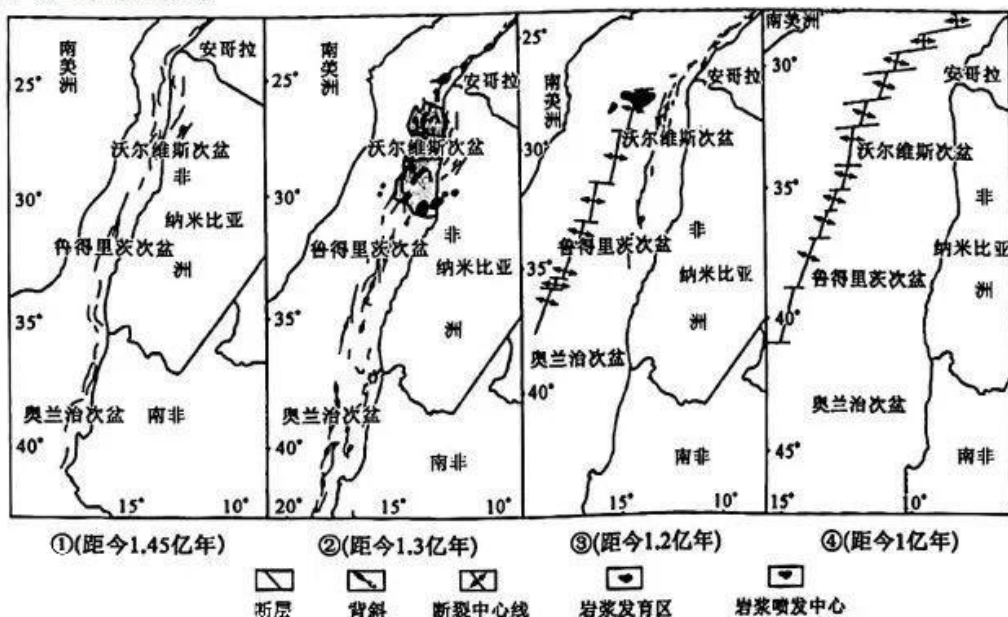
4. 墨西哥成为美国最大的移民来源国,主要是因为两国
- A. 地域文化相似
B. 人口数量差距大
C. 产业雷同度高
D. 经济发展差距大
5. 1980~2020 年墨西哥北部六州年 GDP 总量及占比均有较快增长,主要得益于
- A. 制造业发展速度快
B. 中心城市辐射带动强
C. 科技与创新能力强
D. 现代服务业迅速发展
6. 跨境人口迁移的美墨边界效应对美国的影响主要体现在
- A. 加快全国经济重心向北移动
B. 边境地区人口管理难度降低
C. 为西南边境州开发提供支持
D. 全国教育费用支出大幅减少

甘肃省位于我国西北部,地处三大自然区交界地带,按照自然气候特征可划分为多个气候分区(如下图所示)。研究显示,近半个世纪以来甘肃省气候整体呈现暖湿化变化趋势。据此完成 7~8 题。




7. 甘肃省可划分为多个气候分区的根本原因是
- A. 地形复杂,地理位置特殊
B. 纬度较低,热量较充足
C. 受冬、夏季风的交替控制
D. 河流较多,调节作用强
8. 近半个世纪以来甘肃省气候变化对生态环境的主要影响最可能是
- A. 湖泊的水位下降
B. 冰川退缩趋势加强
C. 植被覆盖率降低
D. 沙尘暴的频次增多

西南非海岸盆地位于非洲西南部的南非、纳米比亚的大西洋沿岸地区,具有“南低北高”的构造格局。西南非海岸盆地由多个小型的次盆组成,自北向南依次为沃尔维斯次盆、鲁得里茨次盆及奥兰治次盆。下图示意西南非海岸盆地中生代(距今 2.52 亿年~6 600 万年)断裂各时期分布特征。据此完成 9~11 题。来源:高三答案公众号



9. 西南非海岸盆地“南低北高”构造格局形成的关键是
- A. 大洋板块张裂 B. 板块碰撞挤压
C. 断裂活动不均一 D. 大量海水北移
10. 西南非海岸盆地中生代断裂各时期中
- A. ①时期断裂数量最多 B. ②时期的岩浆活动达到峰值
C. ③时期洋壳向南扩张 D. ④时期沉积中心位于北部次盆
11. ②时期背斜的主要成因是
- A. 裂谷内沉积物堆积,形成海底山脉 B. 岩浆大规模喷发,形成海底火山
C. 大陆板块发生张裂,洋壳逐渐隆升 D. 新洋壳不断挤压,岩层发生变形
12. 当今世界正经历百年未有之大变局,我国正处于实现中华民族伟大复兴的关键时期。面对快速变化的世界和中国,如果墨守成规、思想僵化,没有理论创新的勇气,不能科学回答中国之问、世界之问、人民之问、时代之问,不仅党和国家事业无法继续前进,马克思主义也会失去生命力、说服力。这主要启示我们,实现中华民族伟大复兴需要
- ①坚持解放思想和实事求是相统一 ②从历史中汲取前进的智慧和力量 ③以全球视野关注人类的前途命运 ④把人民期待作为各项工作的依据
- A. ①③ B. ①④ C. ②③ D. ②④
13. 习近平总书记在党的二十大报告中指出:“十年来,我们经历了对党和人民事业具有重大现实意义和深远历史意义的三件大事:一是迎来中国共产党成立一百周年,二是中国特色社会主义进入新时代,三是完成脱贫攻坚、全面建成小康社会的历史任务,实现第一个百年奋斗目标。”据此可推出,这几件大事
- ①见证了近代中国人探索民族独立的艰辛历程 ②展示了科学社会主义在中国焕发出蓬勃生机
③加快推进中华民族伟大复兴事业的历史进程 ④为新中国迎来从站起来到富起来的伟大飞跃
- A. ①② B. ①④ C. ②③ D. ③④

14. 下列对右图漫画中“组合拳”解读正确的是
- ①彰显出国有企业对促进就业的责任和担当
②完善社会保障,拓宽毕业生权益救济途径
③适时为求职者提供服务,以促进社会稳定
④企业的高质量发展是稳定就业的前提条件
- A. ①②
B. ①③
C. ②④
D. ③④



打出护航“组合拳” 新华社发 徐骏 作

15. 2023年1月,人力资源和社会保障部披露,2022年,19个省份在中央提高城乡居民全国基础养老金最低标准的基础上,提高省级基础养老金标准;2022年全年共跨省调剂养老基金2440亿元,有效均衡了地区间基金当期收支压力,支持了基金困难省份养老金发放。可见,我国
- ①运用转移支付调节机制促进社会公平 ②养老保险制度的可持续性得到了增强 ③在完善社保体系中兼顾了效率与公平 ④居民的财产性收入增加,幸福感增强
- A. ①②
B. ①③
C. ②④
D. ③④
16. 干电池工作环境固定,只会埋头输出,慢慢地就被耗尽“掏空”,没有了增值的价值。工作中最怕的就是成为可能被报废的干电池,干部特别是年轻干部,如果已经进入干电池状态,需要尽快调整,为自己充电加油,自行补能再生,实现超航蓄电,在路上永远不停电。要避免成为“干电池”干部,应
- ①扎根人民,从为民服务的实践中汲取营养 ②筑牢信仰之基,坚守共产主义的共同理想 ③增强学习意识,用党的创新理论武装头脑 ④勇于自我革新,提高业务能力和执政能力
- A. ①②
B. ①③
C. ②④
D. ③④
17. 某村通过网络平台开展民主互动,村民可以与党总支互动、观看党员大会直播、在评论区发表村务看法意见,可以通过“实时传送”栏目了解近期村里主要工作事项,可以通过“居民议事板”反馈物业维修、治安、村子发展等方面的意见建议,并及时得到解决。该村的民主互动
- ①在共建共治中扩大了村民政治权利范围 ②是基层党组织密切联系群众的生动实践 ③通过改进治理方式提高了基层治理效能 ④实现了村民与基层政府之间的良性互动
- A. ①③
B. ①④
C. ②③
D. ②④
18. 2023年3月5日,李克强总理在作政府工作报告时指出,2023年工作要坚持稳字当头、稳中求进,保持政策连续性针对性,加强各类政策协调配合,形成共促高质量发展合力;积极的财政政策要加力提效;赤字率拟按3%安排,完善税费优惠政策,对现行减税降费、退税缓税等措施,该延续的延续,该优化的优化。可见,做好2023年工作应
- ①立足于区域发展,以部分发展带动整体发展 ②把握联系的普遍性,推动形成社会发展合力 ③重视矛盾的特殊性,增强政策措施的针对性 ④抓住发展的主要矛盾,确定经济发展的方向
- A. ①②
B. ①④
C. ②③
D. ③④
19. 2022年12月13日,海南省营商环境建设厅挂牌成立,主要负责统筹推进营商环境、政务服务、数据共享、社会信用等工作。作为体制机制改革的重大创新性举措,海南省营商环境建设厅,将为解决当前营商环境建设领域存在的突出问题提供“海南方案”。据此,下列推测正确的是
- ①体制和机制创新是社会发展的先导 ②社会意识与社会存在总能相向而行 ③上层建筑决定于并服务于经济基础 ④海南经济运行的矛盾是非对抗性的
- A. ①②
B. ①③
C. ②④
D. ③④
20. 近年来,内蒙古“红色文艺轻骑兵”乌兰牧骑队伍组建“送欢乐、送文明”基层服务小分队,积极开展文艺演出、理论宣讲、电影放映、法律咨询等活动,为农牧民提供实用的综合志愿服务。同时,还依托各类新媒体平台,打造出24小时不间断服务的“数字乌兰牧骑”队伍,丰富着当地群众的精神文化生活。乌兰牧骑的做法

①坚持了文化发展为人民服务的方向 ②借科技力量提升了文化传播的效能 ③在文化继承基础上推动了文化创新 ④实现了文艺社会性和商业性的统一

- A. ①② B. ①③ C. ②④ D. ③④

21. 2023年1月9日,由中日韩合作秘书处发起的“中日韩精神——2023年度汉字”评选结果在韩国首尔揭晓,“和合”以最高票当选。“和合”寓意“和平、和谐、和睦”,承载了在国际形势深刻变化的大背景下三国人民希望地区和平、三国和谐相处、促进繁荣发展的共同期盼。据此,可推测出中日韩三国

- A. 坚持和平共处的外交原则 B. 经济实力和科技实力相当
C. 将以合作取代竞争与冲突 D. 有着共同的国家利益诉求

22. 2022年6月7日,执法人员根据举报线索,发现某药业有限公司在“药京采”平台注册的店铺上,将部分不属于注册商标“白内停”权利人生产的吡诺克辛钠滴眼液产品,标注为“白内停”商标进行销售,省市场监管局责令该公司停止违法行为、并罚款2万元。该药业有限公司

①实施混淆行为,侵犯了其他经营者的荣誉权 ②实施假冒行为,违背了市场交易的诚信原则 ③侵害注册商标专用权,应依法承担刑事责任 ④售卖假冒产品,有欺诈故意,属不正当竞争

- A. ①③ B. ①④ C. ②③ D. ②④

23. 在成长之时、劳作之余,他们期待置身舒适便捷的文化空间,或捧书阅读,或翩翩起舞,或观影看戏,或传承传统文化……这一语句中包含着

- A. 关系判断,表达了劳动者与文化空间的对称性关系
B. 假言判断,假定了劳动者接受传统文化熏陶的条件
C. 选言判断,明确了劳动者参与文化活动的可能形式
D. 联言判断,肯定了劳动者可以同时参与的文化活动

24. 学者吕思勉将中国古代社会划分为部落——封建——郡县三个时代,并指出其特定的历史原因;学者周谷城认为,古封建作为一种制度,是与奴隶制时代的历史发展相始终的;学者葛志毅提出周天子分封诸侯是国家形成的基本方式。据此可知

- A. 后期学者研究比传统观点可信 B. 不同视角的研究有利于史学的发展
C. 史学研究不必拘泥于传统观点 D. 综合多种史料即可得出合理的结论

25. 下表为西汉中期至东汉末期刺史、州牧的罢置情况。据此可知,这一时期

时 期	罢置情况	改制内容
西汉成帝绥和元年	罢刺史置州牧	刺史官秩提升、固定治所、监察范围扩大
西汉哀帝建平二年	罢州牧置刺史	
西汉平帝元始五年	正十二州名分界	刺史掌握临时军事权力、获得一定地方行政权
新莽天凤元年	置州牧、部监	
东汉光武帝建武元年	复置州牧	
东汉光武帝建武十八年	罢州牧置刺史	
东汉灵帝中平五年	改刺史为州牧	完全掌握军政大权


- A. 选官方式具有一定多样性 B. 中央与地方的矛盾进一步加剧
C. 皇权衰弱导致刺史行政化 D. 制度变迁受经济重心南移影响

26. 下表为学者统计的有关唐代敦煌地区不同时期家庭结构情况。这说明当时

时期	类型 比例(%)	核心家庭 (2~3人)	主干家庭 (6~8人)	联合家庭 10人以上	其他家庭	总计
		701~769年	户数(户)	47	13	9
	百分比	56.6	15.7	10.4	17.3	100
820~876年	户数(户)	3	6	12	2	23
	百分比	13	26	51.2	9.8	100

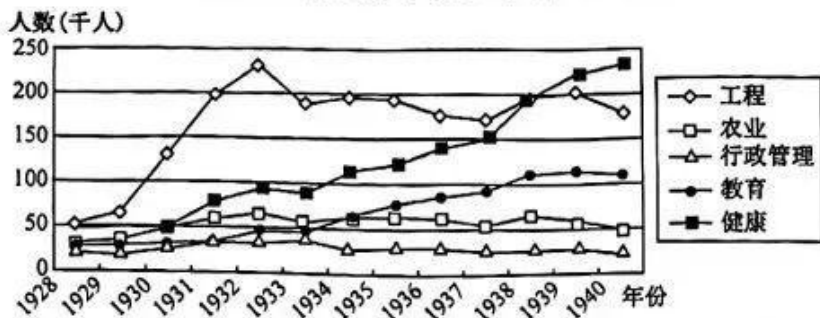


- A. 战争导致了个体小农经济衰退
B. 税制变化推动了家庭结构的变迁
C. 农本观念在中原地区影响深远
D. 精耕细作农业生产模式不断完善
27. 明清之际的思想家方以智认为“泰西质测(自然科学)颇精”,可以为我所用。其与传教士汤若望交往频繁,多次探讨天文学,并提出“质测即藏通几(哲学)”的哲学观。同时期黄宗羲撰写的《授时历故》等多部科学著作,也大量地吸收了西方科学知识。这反映出明清之际
来源:高三答案公众号
- A. 中学未能突破传统窠臼
B. 西方科技受到士大夫普遍认可
C. 中西方文化的全面融合
D. 经世致用与西学东渐相互影响
28. 有学者认为:“洋务运动是在清政府的主导下开展的,但着手操办者则是以曾国藩、李鸿章、左宗棠为代表的地方督抚;1901年,清廷颁布变法上谕,张之洞、刘坤一的《江楚会奏变法三折》成为清末新政的实施大纲;1906年,清廷下诏仿行立宪,也是在袁世凯、张之洞等奏请下促成的。”这表明晚清时期
- A. 权力格局变动助推了早期近代化
B. 结束专制政体的必要性
C. 政府态度左右了各派的政治立场
D. 改革是重振国威的关键
29. 1902年,章太炎在《订孔》中称,孔子“虚誉夺实”,“仰望过情”,又称“孔氏,古良史也”,主张将孔子还原为先秦之孔子。1906年,他又说:“孔子最是胆小,虽要与贵族竞争,却不敢去联合平民,推翻贵族政体”。据此可知,章太炎
- A. 完全主观臆断,缺乏科学精神
B. 否定传统文化,主张全盘西化
C. 反对孔子权威,宣传民主共和
D. 有绝对化倾向,不利文化传承
30. 据《中国人民解放军全史》统计,在解放战争期间,国民党部队起义、投诚以及改编的部队总数近178万人,约占国民党作战军队总数的22%,被人民解放军俘虏的国民党军队总数为458万人。这说明
- A. 中国反帝反封建斗争取得了胜利
B. 国共之间力量对比得到根本扭转
C. 中国革命统一战线不断发展壮大
D. 正确斗争策略加速战争胜利进程
31. 1987年,深圳市政府颁布《关于鼓励科技人员兴办民间科技企业的暂行规定》,吸引了一批科技人才在深圳创办民间科技企业。同年,深圳市政府公开拍卖了一块国有土地使用权。1993年,深圳产权交易所成立,2000年改制为产权交易中心,面向国内外和各种经济成分进行产权交易。深圳的发展历程表明
- A. 我国已经放弃计划经济体制
B. 国家干预经济管理模式强化
C. 市场经济体制改革成为共识
D. 城市经济体制改革稳步推进
32. 亚里士多德认为,雅典国家机构的活动本质上是一种教育活动,教育其公民拥有共同的精神本质。社会是一个完整的教育体系,每个人都因身居其中而让自己的潜能得到最充分的发挥;国家是一个巨大的教育机构,它高度集中了一切有益于人之教育。据此可知,雅典的教育
- A. 有利于人文精神的弘扬
B. 克服了民主政治的弊端
C. 提高了公民的社会地位
D. 强调权利和义务的统一
33. 下图是1800年发表于美国的漫画《我国现状》。画面中,左边的人物代表联邦党,他说道:“这个柱子不应该立着,我决定发起一场必要的、代表正义的战争”。右边的人物代表民主共和党,他说道:“这根柱子必须倒下,我是和平主义者”。中间柱子上写着“共和主义”,支柱上方横柱上写着“联合则生,分裂则亡”。华盛顿则提出忠告:“一旦移动其中一根,你们就毁掉了所有。”这一作品意在说明美国



- A. 资产阶级的代议制名不副实
B. 制宪过程中各州存在激烈的斗争
C. 民主进程伴随着退让和妥协
D. 政党分歧导致社会矛盾不断升级

34. 下图是苏联 1928~1940 年高等院校各专业学生人数分布情况。由此可知,当时的苏联

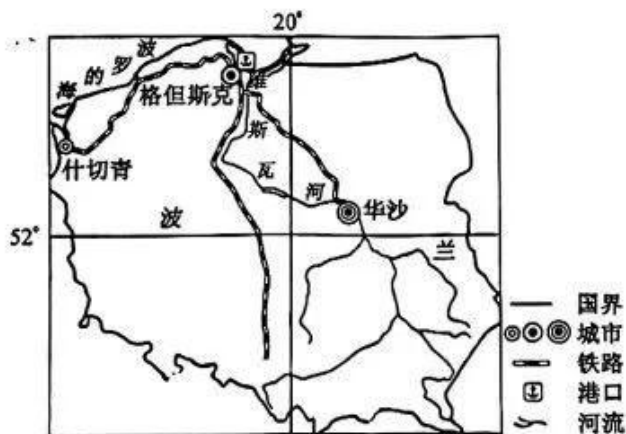


- A. 计划经济体制在逐步确立
B. 努力顺应科技革命的潮流
C. 高等教育服务于经济建设
D. 已经建立完备的教育体系
35. 与 2000 年相比,2009 年底,新兴经济体九国与西方七国的 GDP 比值从 14% 增长为 36%;“金砖四国”的 GDP 占美国 GDP 的比重,分别从 12.2%、2.6%、6.8%、4.7% 上升到 36.3%、12.3%、11.6%、8.6%。据此可知
- A. 世界多极化趋势在逐渐加强
B. 新兴国家成为拉动经济发展的主力
C. 世界各国经济实力趋于平衡
D. 国际政治经济新秩序已经初步形成

二、非选择题:本大题包括 10 小题,共 160 分。

36. 阅读图文材料,完成下列要求。(26 分)

波兰位于欧洲大陆中部,西邻德国,面积约 32.26 万 km^2 ,人口超过 3 800 万,经济较发达,是自 2005 年来致力于营商环境改善速度最快的欧盟经济体,也是中东欧地区吸收外国直接投资最多的国家。波兰是中东欧工业比较发达的国家之一,该国化学工业企业数量多、产品范围广,但多数化工产品仍需进口。华沙是波兰的政治、经济、文化中心和最大城市,格但斯克是波兰北部最大的城市。下图示意波兰地理位置。



- (1) 波兰是中东欧地区吸收外国直接投资最多的国家,对此做出合理解释。(8 分)
- (2) 说明大量外国直接投资对波兰经济发展的积极影响。(6 分)
- (3) 波兰化学工业企业数量多、产品范围广,但多数化工产品仍需进口,推测主要原因。(6 分)
- (4) 简析格但斯克成为波兰北部最大城市的原因。(6 分)

37. 阅读图文材料,完成下列要求。(30分)

岷江上游(如图1所示)地处横断山区与四川盆地的过渡地带,平均海拔3440m,流域干流全长337km。该流域主要为高山峡谷地貌,地形起伏大,为聚落提供发展空间的平坦用地较少。从岷江上游干支流向两侧,以500m为单位,依次划分出1~10个缓冲区间,各缓冲区聚落数量如图2所示。

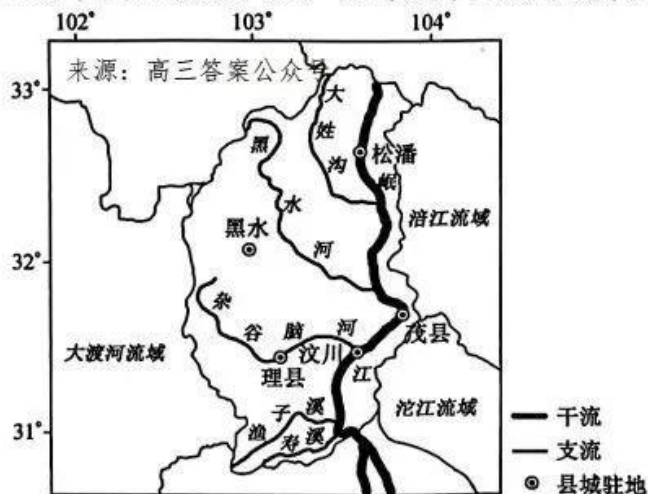


图1

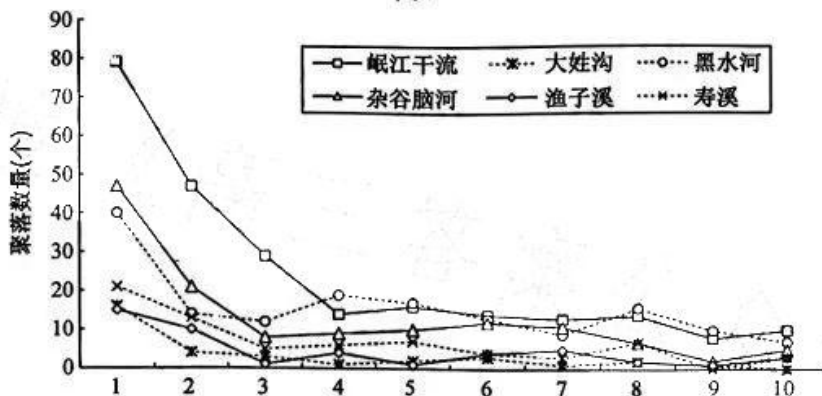


图2

- (1)分析岷江上游多峡谷地貌的原因。(6分)
- (2)说出岷江上游的地势特点及判断依据。(8分)
- (3)指出岷江上游主干河道不同缓冲区聚落数量的分布特点,并阐述理由。(10分)
- (4)与其他主干河道相比,寿溪聚落数量较少,推测可能原因。(6分)

38. 阅读材料,完成下列要求。(6分)

查干湖是我国知名淡水湖之一。这里渔产资源丰富,迄今保留着北方少数民族最原始的捕鱼方式,近年来,当地不断在探索新经济模式上作文章。

为了实现保护生态和发展旅游相得益彰,当地部署吉林西部“冬捕经济带”战略,加快推进在建项目,积极谋划重大项目,形成以重点项目引领、以工程项目支撑的发展新局面,用白雪换白银,把冷资源变成热经济。一方面打造冰雪文化牌,开展具有民族特色和地域特色的冰雪演艺项目,深入培育打造查干湖冰雪渔猎文化旅游节活动品牌,推广一批“观冬捕、品鱼宴、享民俗”冰雪旅游主题产品。另一方面推进具有地域特色、冰雪特色文化创意产品和旅游商品的研发生产推广,创“冰雪礼物”体系,打造以圣湖冰娃、雪娃为代表的30余项吉林冰雪吉祥物文旅产品。

39. 阅读材料,完成下列要求。(16分)

《中华人民共和国妇女权益保障法》是我国第一部以妇女为主题的基本法。实施30年来,有力促进了妇女各方面权益保障水平的提高。

材料一 2021年12月,妇女权益保障法修订草案提请十三届全国人大常委会初审,一审后广泛征求意见期间,共收到42万多条公众意见,其中不乏来自各个全国基层立法联系点收集的民意建议;2022年4月,修订草案提请十三届全国人大常委会二次审议,二审后修订草案在网上公开征求意见,共有8万多位公众提出30多万条意见。2022年10月,修订草案三审稿提请十三届全国人大常委会审议并通过,草案规定国家采取必要措施,消除对妇女一切形式的歧视,禁止排斥、限制妇女依法享有和行使各项权益;2023年1月1日起,新修订的《中华人民共和国妇女权益保障法》正式开始实施。

材料二 2021年2月,朱女士应聘为某科技公司人力资源部经理。劳动合同期限自2021年3月12日起2年,基本工资1.4万元/月。朱女士入职后不久怀孕,因孕检多次请假。2022年1月,因羊水过少、妊娠合并贫血等原因住院治疗,朱女士便通过钉钉发起了1周的病假申请并上传了医疗证明书,但未获批准。几日后,公司便将其岗位调整为行政助理,月薪降至4千元。一周后,公司又以朱女士无故旷工,严重失职,给公司造成重大损害为由,决定与朱女士解除劳动关系。因为怀孕遭受的一系列不公平待遇,让朱女士十分气愤,在生下孩子后向劳动仲裁委员会申请了仲裁。经调查取证,仲裁裁决该科技公司给付朱女士产假期间工资及被停发的工资损失、餐补、未休年休假工资报酬等共计19.6万余元,并为朱女士缴纳停发工资期间的社会保险等。

(1)新妇女权益保障法的出台是全过程人民民主的生动写照。请运用政治与法治知识对此加以说明。

(10分)

(2)本案中,朱女士的哪些权利遭到了侵害?并运用法律与生活知识说明本案给用人单位的启示。(6分)

40. 阅读材料,完成下列要求。(10分)

习总书记指出:今天的中国“是梦想接连实现的中国”,“我们要一往无前、顽强拼搏,让明天的中国更美好”。

在一次次挫败中许下梦想。中华民族从来没有在磨难中被压垮,而是在磨难中成长、奋起。我们在一次次战争中,承载着无数牺牲先辈的意志,站起来;我们在一次次的剥削中,忍耐着无数不平等的压迫,自主探索,富起来;我们在一次次前进的步伐追赶中,在世界发展潮流中劈波斩浪,强起来。我们一步步向前,有的就是顽强不屈的斗志,从哪里跌倒就从哪里爬起来,总结经验,树立目标,让梦想支撑前进的步伐。

结合材料,运用物质和意识的辩证关系知识,说明我们许下梦想的必要性。



41. 阅读材料,完成下列要求。(10分)

2023年2月21日,菲律宾正式批准加入《区域全面经济伙伴关系协定》(简称RCEP),至此RCEP“全员”生效。菲律宾批准RCEP将扩大市场准入、降低关税,将为外国投资者提供规则更明确、更稳定的营商环境。

RCEP是亚太地区规模最大、最重要的自由贸易协定谈判,成为成员构成最多元、发展最具活力的自由贸易区。现有15个成员国,包括中国、日本、韩国、澳大利亚、新西兰5国以及东盟10国,人口数量、经济体量、贸易总额等三个方面均占全球总量约30%。RCEP生效实施以来,政策红利不断释放,成为世界经济增长的最大亮点。

结合材料,运用当代国际政治与经济知识,分析RCEP获全员批准并生效的现实意义。

42. 阅读材料,完成下列要求。(10分)

“国潮”是中国品牌、中华文化与新时代潮流的结合,也是原创国货品牌深研中华文化,创意特色风格,打造多样化文创产品所带来的一种消费潮流和风尚。

某国产品牌设计的丹霞系列鞋子,灵感溯源是诗句“丹霞夹明月,华星出云间”,设计者把祖国壮丽河山呈现于鞋子上,新颖的设计风格加上深刻的蕴意,让消费者“爱不释脚”。中式古典风打造新中式茶饮、中国地貌缩影融入彩妆产品,莫高窟元素作为印花出现在T恤上……这些曾几何时与现代时尚难以搭边的元素,如今正逐渐出现在各类消费场景,加入跨界融合的国货新潮流之中。

新时代下,抖音、小红书等App的发展,让消费者便利度和场景丰富度都有了提升的基础,国货品牌树立长远思维、把握未来发展机遇,以低价高质的产品重塑了消费者的认知,市场认可度逐渐攀升。重原创、挖文化……对于新一代年轻人,“国潮”不仅是消费热潮,也是专属于他们的生活方式与文化潮流。

结合材料,运用逻辑与思维中创新思维的知识,说明“国潮”是如何成为新一代年轻人的生活方式与文化潮流的。

43. 阅读材料,完成下列要求。(25分)

材料一

汉唐的外事体制,乃是一套以贯彻大一统秩序为基本目标,以羁縻式控驭为主要手段,以礼法规范为具体框架的体制。因而对集中代表了中外经济交往的互市,在以严密控制下的市坊制度对之约束的同时,朝廷看重的是其赐恩报义的政治意义而非互通有无的经济价值。故或大施恩惠,或加设禁条,并不把互市当作目的而只视之为维护四夷宾服局面的手段。对中外各种交通出入,除按既定关津制度加以控制外,边境防范尤严,往往必须以因公的名义在官方往来的外衣下方许出入。而外人在境内的居留、婚姻等,除非降附归化,入籍为民,一般也总是处于重重限制之下。中外之间的文化交流同样受到大一统原则的影响和制约。对外来文化中的枝梢末叶,朝廷乐于采取大而化之的包容态度,但对系统的意识形态,如宗教,则以防范、限制和彻底的控制为基本方针。

——摘编自楼劲《汉唐对丝路上一般中外交往的管理》

材料二

鸦片战争后的中西关系史可以划分为三个阶段：第一阶段是两次鸦片战争期间。这一阶段晚清政府虽不得不按照西方的原则签订了一系列不平等条约，但仍坚守“华夷秩序”观念，并基本按照“华夷秩序”观念处理对外关系。第二阶段为19世纪60—80年代的洋务运动时期，这一时期清政府的外交呈现既试图保有旧的对外观念和 policy，又试图利用西方体系中一些原则的过渡性特征，清政府正式设立了专司对外事务的机构——总理各国事务衙门。第三阶段是19世纪末20世纪初，中国在甲午中日战争中失败，帝国主义掀起瓜分中国的狂潮，中国在物质和观念上被全面裹挟进近代西方民族国家体系的全球扩展之中。《马关条约》的签订标志着中国的东亚首强地位被日本取代，日本迫使清廷承认朝鲜“独立”，中朝藩属关系宣告结束，朝贡体系中的最后一名成员被划出。随着八国联军侵华战争与《辛丑条约》的签订，中华帝国完全沦为列强的半殖民地。

——摘编自王卓《两个体系的碰撞——“洋务外交”评析》

- (1) 根据材料一并结合所学知识，概括汉唐时期外交的特点，并分析其成因。(13分)
- (2) 根据材料一、二并结合所学知识，指出与汉唐时期相比，近代中国外交的变化，并简析其影响。(12分)

4. 阅读材料，完成下列要求。(12分)

材料

1500年前后的英国还是一个没有强大海军和以农村人口为主的“落后”国家。然而，到19世纪中后期，英国成为“世界工厂”“世界贸易垄断者”“世界金融中心”“海上霸王”和“世界最大殖民帝国”。政治制度的变革促进了经济制度的变革，经济制度的变革又促进了技术变革和经济增长。只有一定质量和规模的变革才能转变生产模式并且启动一个自我持续的经济增长过程，“这些新的安排产生了一个强国。它足以在一种前所未有程度上以有效的方式获取资源。并且促进了英格兰在国际关系中的强势地位、一个世界性大帝国的产生以及最终形成无人匹敌的格局”。因此，近代英国崛起的动力之一毋庸置疑是其各领域的制度变革。

——摘编自张旭东《从制度变革角度看近代英国的崛起》

材料蕴含了近代英国崛起的诸多启示，从材料中提炼一个启示，并结合所学世界史知识予以说明。(要求：观点明确，史论结合，言之成理。)



45. 阅读材料,完成下列要求。(15分)

材料一

1938年,翦伯赞在《历史哲学教程》中指出:“我们研究历史,不是为了宣扬我们的祖先,而是为了进一步增强民族凝聚力。马克思主义史学家在这一时期的主要研究方向都放在了对日本帝国主义种种侵略史观的批判、对中国历史上反侵略战争和民族英雄的讴歌,以及对那些卑躬屈膝、卖国求荣的民族败类的谴责”。抗战时期马克思主义史学研究严格遵循马克思主义阶级分析方法和唯物史观,同时紧密结合中国自身历史特点,把中国历史演变当作有规律的过程来把握,以翔实的史料系统阐述了中国社会发展历程,并深刻地揭示了其中内在的规律性。郭沫若在谈到这时期自己评价历史人物的原则时公开宣称:“我的好恶的标准是什么呢?一句话,归宗:人民本位!”马克思主义史学研究队伍和社会影响迅速扩大,以至有人惊呼:“今日研究社会科学家,已多趋于唯物派一途”。当然,这一时期马克思主义史学研究中也出现了一种以古喻今、以古人古事说今人今事、把历史和现实简单类比、一概否定统治阶级的活动等实用主义的倾向。到抗战后期,史学研究者开始自觉加以纠正,使自己的史学研究更加实事求是。

——摘编自陈前《论抗日战争时期马克思主义史学的迅速发展》

材料二

戴逸指出:“以马克思主义为指导,是要掌握马克思主义的精神实质,尊重历史事实,不符合客观实际的具体论断是可以修改、可以补充的,但唯物论、辩证法的基本原则是长青的。”2005年,在《经济—社会史评论》座谈会上,齐世荣、侯建新、马克垚等学者谈到“对包括中国在内的任何一个社会,任何一个国家的历史的考察,如果在世界历史的大的坐标系内进行的话,就有可能看得更加清楚”。新时期以来马克思主义史学研究的发展,是中国特色社会主义建设的需要,是丰富和发展中国特色社会主义理论体系的需要。

——摘编自侯云灏等《改革开放以来中国特色马克思主义史学理论成就综述》

- (1) 根据材料一并结合所学知识,概括中国抗战时期马克思主义史学研究的特点及其影响。(11分)
- (2) 根据材料二并结合所学知识,指出改革开放以来中国史学研究发展的主要表现。(4分)

关于我们

自主选拔在线是致力于提供新高考生涯规划、强基计划、综合评价、三位一体、学科竞赛等政策资讯的升学服务平台。总部坐落于北京，旗下拥有网站（[网址: www.zizzs.com](http://www.zizzs.com)）和微信公众平台等媒体矩阵，用户群体涵盖全国90%以上的重点中学师生及家长，在全国新高考、自主选拔领域首屈一指。

如需第一时间获取相关资讯及备考指南，请关注**自主选拔在线**官方微信号：**zizzsw**。



 微信搜一搜

 自主选拔在线



自主选拔在线
微信号: zizzsw



自主选拔在线
微信号: zizzsw



自主选拔在线
微信号: zizzsw