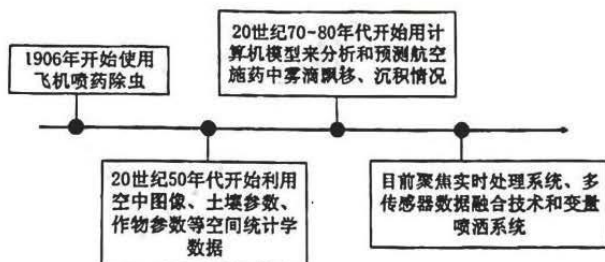


2022~2023 学年高三年级 5 月质量检测

文科综合

一、选择题：本题共 35 小题，每小题 4 分，共 140 分。在每小题给出的四个选项中，只有一项是符合题目要求的。

美国是目前农业航空装备技术最先进、应用最广泛的国家。下图示意美国农业航空服务度发展历程。读图，完成 1~3 题。



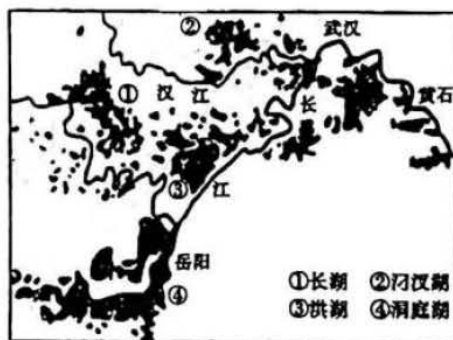
1. 农业航空作业更适合在
①作物生长前期②作物生长后期③小型农场④大型农场
A. ①③ B. ①④ C. ②③ D. ②④
2. 对雾滴漂移与沉积状况影响较小的因素是
A. 蒸发能力 B. 土壤性质 C. 冠层穿透性 D. 风力、风向
3. 美国农业航空服务始终致力于
A. 拓展应用场景 B. 降低推广成本 C. 提高精准程度 D. 推动产业融合

塔里木河下游是典型的弯曲河道，自 2000 年起实施生态输水后，原本断流的河道开始间歇性过水，造成弯道迁移。下图示意塔里木河下游弯道迁移的四种模式，下表为不同类型迁移数量。读图和表，完成 4~6 题。



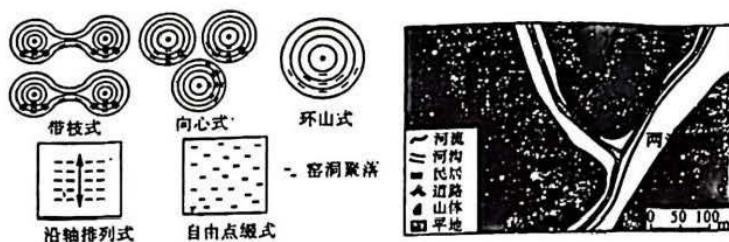
4. 有利于塔里木河下游弯道发生迁移的条件是
A. 河床质地松散 B. 沿程坡降较大
C. 河岸胡杨发育 D. 年输沙量较小
5. 塔里木河下游弯道最易出现延伸迁移，其
①顺应地转偏向力②顺应水流惯性
③常发生在枯水期④常发生在输水期
A. ①③ B. ①④ C. ②③ D. ②④
6. 研究表明，塔里木河下游收缩迁移和缩窄迁移常与河床中沙坝的形成有关，其沙源主要来自
A. 上游河沙 B. 河底悬沙 C. 沙丘风沙 D. 河岸崩沙

水龄是指颗粒物从入口传输到指定点的时间，可体现水体的更新速度，与水体的流动性呈负相关，深层水域水龄一般大于表层。若水龄较大，则对水质会造成一定影响。三峡工程建成蓄水后，对下游河床的冲淤产生影响，洞庭湖的水面比降、湖口水龄发生变化。下图为 1950 年部分流域湖泊分布示意图。读图，完成 7~8 题。



7. 图示湖泊，水龄相对较小的有
A. ①② B. ③④ C. ②③ D. ①④
8. 三峡工程蓄水后洞庭湖可能会
① 水体质量下降 ② 泥沙淤积减弱
③ 水域面积减小 ④ 调蓄功能增强
A. ①③ B. ①④ C. ②③ D. ②④

窑洞聚落是黄土高原最典型的传统乡村聚落形态，它具有悠久的历史、深厚的精神文化内涵以及独特的文化景观特征，是中国农耕文明的重要文化基因宝库，在陕西关中的渭北地区和陕北黄土高原丘陵沟壑区分布广泛。窑洞聚落主要分为五种排列模式：带枝式、向心式、环山式、沿轴排列式、自由点级式。下图为窑洞五种排列模式及米脂县岳家岔村窑洞民居建筑布局示意图。读图，完成 9~11 题。



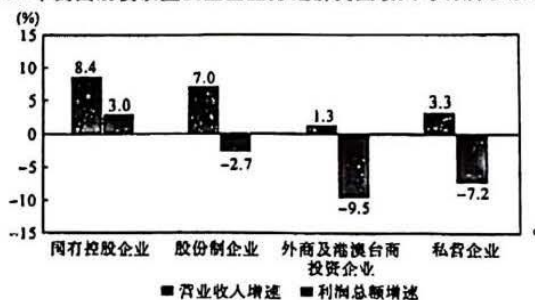
9. 米脂县岳家岔村窑洞民居建筑布局最符合的模式是
A. 带枝式 B. 向心式 C. 环山式 D. 自由点级式
10. 影响环山式窑洞民居布局的主导因素是
A. 地形平坦 B. 取水方便 C. 距离近，便于邻里交流 D. 采光好，视野开阔
11. 窑洞聚落五种民居排列模式的共同影响因素主要是。
A. 地形地貌 B. 气候 C. 地下水丰富度 D. 水系分布
12. 1949 年 10 月 1 日下午 2 时，中国人民政治协商会议第一届全体会议选举产生的中央人民政府委员会在勤政殿举行第一次会议。会议一致决议，宣布中华人民共和国中央人民政府成立。下午 3 时，毛泽东主席在天安门城楼上向全世界庄严宣告：“中华人民共和国中央人民政府今天成立了！”从此之后
① 中国人民掌握了自己的前途和命运
② 社会主义制度在中国大地得到确立
③ 中国人民解决了中国社会主要矛盾
④ 中国结束了被侵略被奴役的屈辱历史
A. ①② B. ①④ C. ②③ D. ③④
13. 自 15 世纪末开始，西方殖民者在 300 多年间，仅从中南美洲就抢走了 250 万公斤黄金、1 亿公斤白银。英国的“圈地运动”、美国的“西进运动”以及罪恶的奴隶贸易等，都标注了西方资本主义现代化的“原罪”。中国共产党领导的中国式现代化不走一些国家通过战争、殖民、掠夺等方式实现现代化的老路，始终坚持在和平发展道路上推进现代化，取得了举世瞩目的发展成就。由此可见

- ①中国式现代化与资本主义国家现代化没有任何共性可言
②中国式现代化克服了资本主义社会所固有的先天性弊端
③西方资本主义现代化是建立在掠夺和剥削人民基础上的
④中国式现代化为广大发展中国家迈向现代化提供了全新选择

A. ①② B. ①④ C. ②③ D. ③④

14. 解读 2022 年我国规模以上工业企业分经济类型收入与利润总额增速，从图中我们能够得到的信息有

2022 年我国规模以上工业企业分经济类型收入与利润总额增速



注：规模以上工业企业，即年主营业务收入为 2000 万元及以上的工业法人单位

- ①国有控股企业的市场竞争力相对较强
②国有企业在经济生活中处于支配地位
③各类型工业企业的发展质量都在提高
④国家需要进一步支持非公有制经济的发展

A. ①② B. ①④ C. ②③ D. ③④

15. 党的二十大报告指出，“促进区域协调发展”“推动成渝地区双城经济圈建设”。在党的二十大精神指引下，重庆市、四川省两地正合作共建西部科学城，瞄准基础科研和区域创新突出短板，联合对重大技术难点展开科研攻关，推动成渝经济圈的进一步发展。依据材料可知，要推动成渝经济圈的进一步发展，需要

- ①践行协调理念，积极推进城乡共同发展
②发挥市场作用，实现资源最优化的配置
③加强区域合作，协力展开核心技术攻关
④加强科技创新，增强川渝两地发展动力

A. ①② B. ①④ C. ②③ D. ③④

16. 2023 年 3 月 13 日，第十四届全国人民代表大会第一次会议在北京人民大会堂胜利闭幕。来自各地区、各民族、各方面的 2900 余名代表出席此次大会，大会圆满完成了表决通过关于国务院机构改革的方案，选举产生新一届国家主席和副主席、中央军委主席、全国人大常委会委员长等议程。材料表明

- ①社会主义民主是最广泛的民主
②全国人大行使了决定权和任免权
③人大代表代替人民行使国家权力
④人大代表和人大共同行使表决权

A. ①② B. ①④ C. ②③ D. ③④

17. 2023 年，江苏省安排对口支援西藏资金 5.12 亿元，实施援藏项目 55 个，覆盖援藏“五大领域”，聚焦群众“急难愁盼”，承载两地人民期盼，重点向基层和民生倾斜，涵盖智力支援、产业支援、促进就业、保障和改善民生、文化教育支援等方面；持续助力西藏经济社会高质量发展。这些举措有利于

- ①夯实民族团结的政治基础，增强中华民族共同体意识
②增进民族之间的交流和理解，消除民族间的隔阂
③提升民族地区人民文化水平，促进各民族共同繁荣
④保障民族自治地方的自治权，彰显我国制度优势

A. ①② B. ①④ C. ②③ D. ③④

18.2023年4月6日,国家主席习近平在北京同法国总统马克龙、欧盟委员会主席冯德莱恩举行中法欧三方会晤。习近平指出,中方愿同欧方一道,把握好中欧关系发展大方向和主基调,妥善解决分歧,全面重启各层级交往,激活各领域互利合作,为中欧关系发展和世界和平、稳定、繁荣注入新动力。从哲学角度看,这主要说明

- A.要根据中欧之间的固有联系,建立新的联系,促进双方的合作
- B.要把握中欧关系的主要方面,明确中欧合作发展的方向和重点
- C.要坚持用发展观点看问题,坚信道路光明,促进世界和平稳定
- D.应坚持矛盾普遍性和特殊性的统一,正确处理中欧之间的矛盾

19.2023年2月20日,国家主席习近平复信雅典大学维尔维达基斯教授等希腊学者,祝贺中希文明互鉴中心成立。习主席在信中指出,两国建立中希文明互鉴中心,致力于推动中希文明交流互鉴、促进各国文明发展,具有十分重要的历史和时代意义。中希文明互鉴中心的成立

- ①有利于增强希腊人民对中华文化的认同感和归属感
- ②有利于促进中希文化在平等的基础上实现互鉴趋同
- ③能够通过中希文化交流互鉴推动两国文化发展繁荣
- ④有利于引领多元文明共生,推动构建人类命运共同体

A.①②B.①④C.②③D.③④

20.数据显示,2022年我国货物进出口总额420678亿元,其中,出口239654亿元,增长10.5%,进口181024亿元,增长4.3%;机电产品进出口增长2.5%,占进出口总额的比重为49.1%。此外,2022年1—11月份,我国实际使用外资11561亿元,按可比口径同比增长9.9%。据此可以推断出我国

- ①外贸展现出较强发展韧性,能助力经济恢复发展
- ②利用外资的质量不断提升,对外发展方式在转变
- ③机电产品出口效益最好,贸易结构在不断优化
- ④货物进出口处于顺差状态,可适当扩大进口规模

A.①②B.①④C.②③D.③④

21.2023年3月4日,历经近20年的马拉松式谈判,联合国近两百个成员国在联合国总部纽约就保护公海海洋生物多样性法律框架的最终文本达成一致,预计到2030年,将30%的海洋划入保护区,旨在保护和恢复海洋生态。各国就保护公海海洋生物多样性达成一致

- ①顺应了和平与发展的时代主题,有利于维护世界和平
- ②是基于各国在保护海洋生物多样性领域存在共同利益
- ③符合联合国的宗旨和原则,有利于促进国际合作与发展
- ④顺应了经济全球化潮流,有利于形成世界多极化格局

A.①③B.①④C.②③D.②④

22.柯某(男)与方某(女)于2007年11月登记结婚。婚后因感情不和,二人于2022年10月向婚姻登记机关提出离婚登记申请,一个月离婚冷静期届满,双方签署离婚协议书,约定一套自建楼房归女方所有,男方自愿放弃,婚姻存续期间无债权债务。2023年4月,柯某向人民法院提起诉讼,主张案涉楼房系婚前所建,属于婚前个人财产,是其在离婚时赠与方某的,请求撤销财产分割协议,将楼房确定归其所有。下列关于本案的说法正确的是

- ①案涉楼房为婚前所建,不因约定而改变房子的归属
- ②离婚协议中的约定具有约束力,柯某违背了诚信原则
- ③柯某的要求若得到方某同意,柯某可以获取房屋所有权
- ④双方已经协议离婚,法院不应该再受理柯某的起诉

A.①③B.①④C.②③D.②④

23.小王请小薛和小刘在某饭店吃饭。三人落座后,小王对着小刘说:“我和小薛是老乡,我和你是同学……”从小王的话中可以看出

- ①“老乡”“同学”表示的是传递性关系
- ②“老乡”“同学”表示的是对称性关系
- ③若小王和小刘是老乡,则小刘和小薛肯定也是老乡

④小王和小刘是同学，则小刘和小薛肯定也是同学

A.①③B.①④C.②③D.②④

24.殷周以来的仪礼，是从家庭的祭祀祖先、和睦亲族的仪式发展起来的，后来逐渐扩大，有了祭天、祭山川等祭祀活动。春秋时期，孔子提出“非礼勿视，非礼勿听，非礼勿言，非礼勿动”。孔子此举旨在

A.整顿社会的秩序 B.把仪礼上升到国家制度的层面
C.培养循礼的习惯 D.使伦理纲常成为社会主流观念

25.据《汉书·西域传》记载，征和三年(公元前90年)，汉武帝下诏曰“当今务在禁苛暴，止擅赋，力本农，修马复令，以补缺，毋乏武备而已”。次年封丞相田千秋为富民侯，“以明休息，思富养民也”，又以赵过为搜粟都尉，推广代田法。这些做法出现的历史背景是

A.黄老无为思想的影响扩大 B.工商业发展影响了农业生产
C.长期战争激化了社会矛盾 D.丞相权力过大威胁专制皇权

26.在金朝兴盛时期，我们能看到宋徽宗年间的画院风格与技艺为主的画作，还能看到在北宋中后期覆烧法与煤烧法基础之上达到最大生产规模与数量的金代定窑。金朝在众多门类的文物风格上，呈现出北宋后期的艺术风格与发展趋势。这

A.表明南方文化的社会影响力上升 B.说明经济的发展带动了文化进步
C.保证了各民族间持久稳定的和平 D.与金朝统治者的儒家化密不可分

27.《大明律·刑律》“诈伪”中的“私铸铜钱”条规定：凡私铸铜钱者，绞……若将时用铜钱剪错薄小，取铜以求利者，杖一百。“伪造宝钞”条规定：若将宝钞挑剔补、捺描改以真作伪者，杖一百，流三千里。据此可知当时

A.货币供求矛盾严重制约经济发展 B.政府重视对经济关系的法律调整
C.流通的货币以贵金属和纸币为主 D.拜金主义导致社会欺诈行为泛滥

28.从1863年起，俄商在汉口先后开设了顺丰、新泰等砖茶厂，最初“招人包办，监制砖茶”，“其后改用蒸汽压力机。……初时，制造俄销砖茶之原料为零碎之茶末，后因贸易日渐发展、乃将品质良好之茶叶，用机器磨成粉末以制砖茶。”俄商从与英商并立到最后垄断了汉口茶叶外销。这说明，当时

A.俄国的工业发展水平高于英国 B.新商业经营形式开始引入中国
C.商业需要推动生产工艺的改良 D.中国茶和茶文化的影响力扩大

29.下表是1915年5-6月陆征祥收电簿中各方反对巴黎和会签约来电(节选),这反映了

拍发者	发电日期	收电日期	内容要点
留日学生总会	5月4日	5月7日	青岛直接收回,坚持到底
上海南北议和代表	5月6日	5月8日	勿予签字,以伸公道,而保存国际之地位
江苏省议会	5月10日	5月13日	联合友邦,坚持到底,不达目的,誓不签字
顺直省议会	5月9日	5月14日	要求青岛直接交还
北京报界全体人员	5月7日	5月18日	青岛若不能直接交还,万勿签字

A.学生活动影响了政府外交决策 B.现代化传播工具扩大了五四运动的影响力
C.马克思主义已在中国广泛传播 D.巴黎和会是帝国主义瓜分世界的分赃会议

30.1946年6月，美国国会决定延长对中国的租借法案期限。根据租借法案，美国移让给国民党政府的物资总值达七亿八千一百万美元。7月，美国国会授权总统将总数不超过二百七十一艘的舰艇及船坞器材等“赠送”给国民政府。这些举措反映了

A.美国计划推进亚洲版“马歇尔计划” B.反法西斯战争提高了中国国际地位
C.美成为对中国经济侵略的主要国家 D.美国扶蒋反共干涉中国内政的意图

31.新中国成立初期，政务院的政务会议每星期召开一次，担任职务的民主党派和无党派人士都参加有关文件的审查，一切指示、法令也要听取他们的意见后才颁布实施。这体现了

A.新中国的施政具有民主性 B.民主党派在新中国政权中处于主要地位
C.政务院会议流程的公正性 D.人民当家作主的权利得到了法律的保障

32.1500年之后的100年间，西班牙每年从新大陆向本国运送的白银高达200吨。同时，美洲出产的白银约有1/3都横跨太平洋流入了亚洲，当时每周运往马尼拉的白银价格还不到亚洲银价的1/3。这些白银的流动

- A.推动了流入地工商业迅速发展 B.导致美洲货币严重短缺经济停滞
C.助力中国成为国际贸易的中心 D.加剧了世界经济发展的不平衡性

33.19 世纪 30 年代,英国控制议会的土地精英们受到制造业利益团体的支持,屈服于中产阶级的要求,进行改革。尽管许多托利党人相信选举改革将开启一个危险的先例,但是由于害怕民众的抗议甚至是革命的爆发,他们最终作出了妥协。这场英国的改革

- A.提升了全国选民的人口占比 B.扩大了议会权力限制了王权
C.使多数工人阶级获得选举权 D.奠定了英国文官制度的基础

34.在 20 世纪头十年,欧洲人大量移民美国。意大利人和爱尔兰人前往纽约、波士顿和费城;葡萄牙人去普罗维登斯和新贝德福德;德国人和波希米亚人去芝加哥、密尔沃基和费城;波兰人去芝加哥和底特律。这些移民

- A.故变了全球劳动力布局 B.均衡的分布在各地的各地
C.助力了美国经济的发展 D.使美国文化形成多元格局

35.1965 年,法国总统戴高乐指出,美国享受着美元所创造的超级特权和不流眼泪的赤字。它用一文不值的废纸去掠夺其他民族的资源和工厂。1967 年,他责令法国央行,将法国所持的美元全部兑换成黄金。这表明

- A.国际关税贸易体系弊端暴露 B.法国意图实现战略自主
C.欧洲一体化程度进一步加深 D.去美元化成为世界潮流

二、非选择题:共 160 分。

36.阅读图文材料,完成下列要求。(28 分)

强烈的人类活动引起了全球大河河流系统的快速调整,尤其是流域内水库大坝数量的爆炸式增长,拦截了全球 40% 的河流淡水和 25% 的河流泥沙。1999 年 10 月小浪底水库建成,自 2002 年实施以来,调水调沙已经成为控制黄河物质向海输送的最重要工程措施之一,显著改变了黄河河流系统的自然属性。受流域内降水波动和小浪底库容的影响,2015~2017 年调水调沙中断。2015 年虽然尝试进行调水调沙试验,但并未实现排沙出库。2016、2017 年小浪底水库未进行水沙调控。下面图 1 为 1950~2017 年黄河利津水文站实测水沙通量示意图,图 2 为 2002~2017 年小浪底至下游利津河段主河道年际和累积冲刷量示意图,图 3 为黄河现行河口陆上三角洲面积变化示意图。

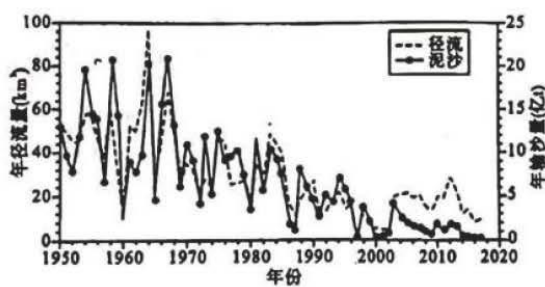


图 1

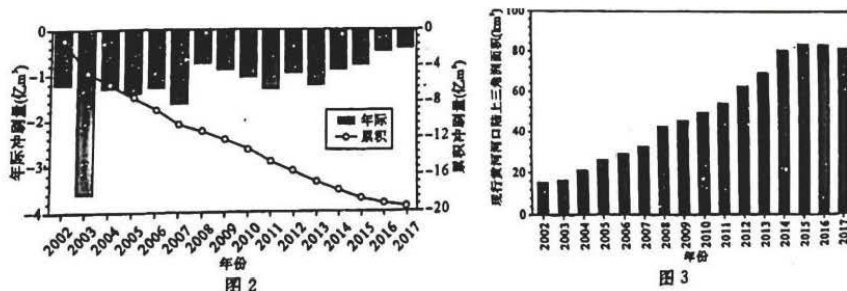


图 2

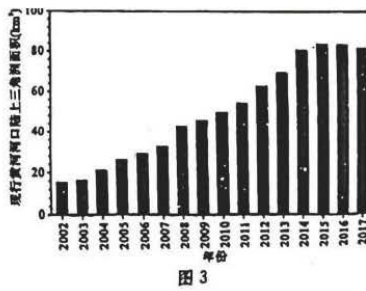
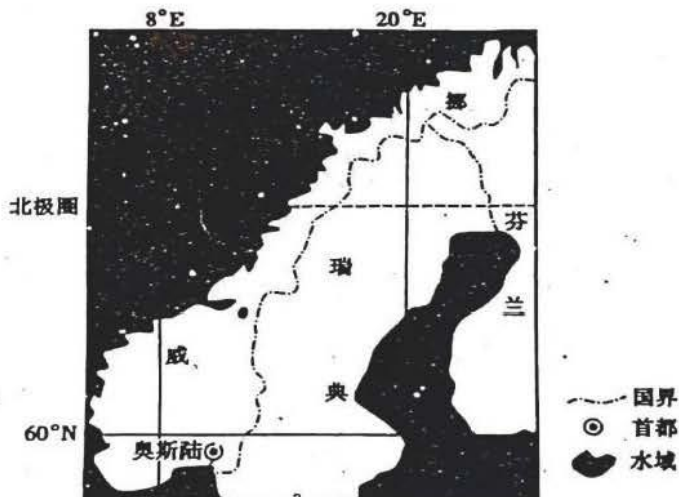


图 3

- 说出 20 世纪 50 年代以来,造成黄河泥沙量减少的人类活动。(6 分)
- 分析 2002 年以来,小浪底水库调水调沙的目的。(6 分)
- 据材料推测 2016~2017 年小浪底至下游利津河段主河道冲刷量较小的原因。(6 分)
- 说出 2002~2017 年黄河三角洲面积变化的特点,并分析原因。(10 分)

37.阅读图文材料,完成下列要求。(28 分)

地处北欧的挪威大力发展清洁能源，其中水电的发电量约占总发电量的95%。挪威政府提出到2025年实现二氧化碳的零排放，在交通领域大力推动渡轮和港口电气化。2015年，世界第一艘全电力渡轮在挪威运营；2017年，挪威有203艘渡轮，平均运营年限已达26年，以燃烧柴油为主，占挪威二氧化碳排放量的1.4%，也是港口当地空气污染的一个重要来源；2020年起，挪威港口和轮渡电气化进程加快。专家表示，优化港口和渡轮联动管理，能在电池技术一定的条件下提高电动渡轮的海上续航里程。下图示意挪威的位置。



- (1) 简述挪威海上轮渡数量较多的原因。(9分)
- (2) 分析挪威港口和轮渡电气化推行速度较快的条件。(9分)
- (3) 指出挪威减少碳排放的有利条件。(6分)
- (4) 从港—船联动的角度，为提高挪威渡轮海上续航里程提出合理建议。(4分)

38. 阅读材料，完成下列要求。(10分)

在新民主主义革命时期，毛泽东同志从1927年1月起对湘潭、湘乡等农村进行深入考察，写成《湖南农民运动考察报告》经典之作，成为我们党领导农民运动的纲领性文献。在社会主义建设初期，周恩来同志到河北农村实地调查，这次调研的成果对修改《农村人民公社工作条例草案》起到了重要作用。

党的十八大以来，以习近平同志为核心的党中央高度重视调查研究工作，将深入调查研究作为开展工作、出台政策、制定战略的“先手棋”。中央八项规定的第一条，便是改进调查研究。习近平总书记深入深山小院询问农家账本，进工厂车间寻计问策，到科研院所集思广益，在湖南十八洞村调研，创造性提出“精准扶贫”理念；赴浙江调研后，首次正式提出“新发展格局”……

2023年3月19日，中共中央办公厅印发了《关于在全党大兴调查研究的工作方案》。该方案强调，世界百年未有之大变局加速演进，不确定、难预料因素增多，国内改革发展稳定面临不少深层次矛盾躲不开、绕不过，各种风险挑战、困难问题比以往更加严峻复杂，迫切需要通过调查研究把握事物的本质和规律，找到破解难题的办法和路径。

历史和实践都昭示：调查研究这个传家宝不能丢。结合材料，运用政治与法治的知识，分析中国共产党不能丢掉调查研究这个传家宝的原因。

39. 阅读材料，完成下列要求。(10分)

实施乡村振兴战略，物质文明和精神文明要一起抓，特别要注重提升农民精神风貌。今年中央一号文件不仅专门拿出一节内容部署“加强农村精神文明建设”，还特别提出“支持乡村自办群众性文化活动”。从深入开展社会主义核心价值观宣传教育到注重家庭家教家风建设，从加强重要农业文化遗产保护利用到推动各地因地制宜制定移风易俗规范，从开展乡村阅读推广活动到打造农民体育品牌活动，这些重要举措将为丰富农村文体活动、加强乡村精神文明建设提供有力抓手。

从“有没有”到“好不好”，新时代的农民群众对美好生活的需求正在发生深刻转变，迫切要求教育文化

体育事业扩大优质产品供给渠道,满足农民群众多样化、多层次的文体活动需求。在宁夏吴忠红寺堡区,全国人大代表马慧娟发起成立“泥土书香”读书社,用书香凝聚乡村振兴的精神力量;在湖北黄石,当地推进15分钟体育健身圈城乡一体化建设,派出社会体育指导员到村镇和农村学校送教…各地优化乡村文体资源布局,积极开展丰富多彩的群众文体活动,让农民群众在“腰包”鼓起来的同时,享受到丰富的精神食粮和高品质的健康生活。

全面建设社会主义现代化国家,最广泛最深厚的基础在农村,最大的潜力和后劲也在农村。乡村文体活动多起来,乡风民风美起来,农民口袋鼓起来,广大农民的日子一定能够越过越红火。

结合材料,运用“发展中国特色社会主义文化”的知识,总结乡村建设中精神文明建设的经验。

40. 阅读材料,完成下列要求。(10分)

党的二十大报告提出,要加快建设农业强国,全方位夯实粮食安全根基,确保中国人的饭碗牢牢端在自己手中,再次强调了粮食安全的重要性。种子是粮食的“芯片”,保障国家粮食安全,种业必须先行。

在种业发达国家,企业自主研发和产学研联合创新紧密结合,这种企业化主导的商业育种体系日渐成熟。我国是种质资源大国,但不是种业强国,生物育种的原创基础研究、前沿育种技术、重大新品种创制能力仍然存在短板。

我国种业振兴行动实施以来,各方加快推进创新攻关,培育出多个突破性新品种。近年来农业农村部、最高人民法院出台指导文件,部署推进种业知识产权保护专项整治。农业农村部持续开展种业监管执法年活动,推出了品种DNA指纹公共平台和首批打假护权种子检验机构,撤销了国审品种233个和登记品种829个。最高人民法院2021年出台最新司法解释,2022年印发涉种刑事审判指导意见,连续三年发布种业知识产权司法保护典型案例,向业界传递了强烈信号。

结合材料,运用当代国际政治与经济的知识,说明我国“保障国家粮食安全,种业必须先行”的意义

41. 阅读材料,完成下列要求。(12分)

2023年5月8日,王某在某便利店购买了两袋某品牌肉松早餐面包,共计花费15元。王某在打开面包时发现,该品类面包的保质期为一个月,其中一袋面包的生产日期为2023年3月27日,截至他购买时已超过保质期多日。王某在与该便利店协商赔偿的过程中,发现仍有部分过期肉松早餐面包在继续销售,且店家并无停止销售意愿。王某后与该便利店协调未果,遂诉至法院。

运用“诚信经营,保护消费者”的知识,简要评析材料中便利店的行为。

42. 阅读材料,完成下列要求。(10分)

31岁的史女士下公交车后,未走人行横道,径直横穿马路,致正常骑行电动自行车的42岁的张女士躲避不及,发生交通事故。经交管部门认定,史女士负全责。此次事故造成张女士骨折,经鉴定构成十级伤残。张女士将史女士诉至朝阳区法院,要求赔偿医疗费、康复费、残疾赔偿金等损失共计29万余元。庭审中,史女士表示对交通事故认定书认定的结果不认可,并称,事发时恰逢下公交车过路口,她被公交车挡住视线,而张女士骑电动自行车速度过快,故其认为张女士应承担事故的次要责任。

法院经审理认为,从史女士和张女士两人行为来看,史女士下车未走人行横道,且径直横穿马路;而张女士在自行车道内,且正常骑行;再综合交管部门的认定,判定史女士作为事故的全责方,应对张女士因本次事故产生的合理损失承担赔偿责任。

结合材料,运用逻辑与思维的知识,分析法院审理该案时是如何运用分析与综合方法的。

43. 阅读材料,完成下列要求。(25分)

材料一 王安石教育改革先从学校开始,首先由政府设立从中央到地方的完整学校体系;选拔有实际工作经验且品学兼优的人到学校担任教师,开设于治理国家有利的特别是“朝廷礼乐刑政之事”的课程。王安石还设置了“武学”“律学”“医学”,以培养军事、管理和医学的专门人才,弥补了当时官方教育的不足。同时,面对“太学有教导之官而未尝严其选”“夫课试之文章,非博诵强学穷日之力则不能。及其能工也,大则不足以用天下国家,小则不足以用天下国家之用”等状,王安石创立了太学“三舍法”,可能是世界上最早使用考试考核方法进行年级升等的教育制度。王安石把《尚书》中“貌、言、视、听、思”解释为很现一个人道德修

养的相互关联的五个不同境界，加强了伦理道德的建设。

——摘编自张守慧《王安石教育改革对当代高校人才培养的启示》等

材料二 在拿破仑执政的15年间，颁布了一系列重要的教育法令，建立了中央集权的教育制度。1806年颁布的法律，第一条明确指出：“教育培训将在下列机构实施：一、市镇政府建立的初等学校；二、市镇政府或私人资助建立的中等学校；三、公立中学和国库资金扶植的特殊学校。”拿破仑时期教师的职业在于推动社会进步。“皇帝会关照这些具有杰出才能的成员，接受最优质的培训。”拿破仑当政后，希望通过高等专科学校培养更多社会需要的各行各业的技术精英，扩大符合资产阶级利益的社会基础，以此发展经济，巩固政权。法国在巴黎及其他地区创办了十几所高等专科学校，如师范学校、武器学校、军事学校、音乐学校、医学学校等。学校相生通过严格的入学考试选拔优秀人才。这些高等专科学校成为法国重视精英教育的产物，也为现代法国教育体系的形成奠定了基础。

——摘编自王明利《拿破仑与法国的国民教育》等

- (1)根据材料一并结合所学知识，概括王安石实行教育改革的历史背景。(6分)
- (2)根据材料一、二并结合所学知识，概括指出王安石教育改革与拿破仑教育改革的相同之处。(9分)
- (3)根据材料一、二并结合所学知识，分别指出王安石教育改革与拿破仑教育改革的影响。(10分)

44.阅读材料，完成下列要求。(12分)

材料 近代中国历史发展的路径或者方向不是一成不变的 在一定历史条件下，历史可能循着某种路径发展，历史条件改变了，发展的路径也可能改变，这就是历史发展的转折。近代中国历史在多数情况下是暴风骤雨式的，是急剧变化着的，我们可以从中观察到多次历史转折。研究近代中国历史发展的转折，对于我们认识中国近代历史发展的曲折性、艰巨性、历史发展道路的可选择性以及历史发展的规律性，是有帮助的。

——摘编自张海鹏《中国近代通史·第一卷》

根据材料中的观点(整体或一点),围绕“近代中国历史发展的路径与方向”这一主题,自拟论题,并结合所学知识进行简要阐述。(要求:论题明确、史论结合、逻辑清晰)

45.阅读材料，完成下列要求。(15分)

材料 因为《马可·波罗游记》的出版使马可·波罗也成为世界第一号游侠。书中记述的国家，城市的地名达100多个，而这些地方的情况，综合起来，有山川地形、物产、气候、商贾贸易、居民、宗教信仰、风俗习惯等，乃至国家的琐闻佚事、朝章国故，也时时夹见其中。关于中国，《马可·波罗游记》有不少不靠谱的记载，如元代北京城墙是被涂成白色的，他甚至说宫廷的窗户中使用了玻璃，更是有些匪夷所思。马可·波罗自称在中国生活了17年，还“管理”了扬州3年，但在他的游记中，关于中国的地名多是突厥语音译。另一方面，书中所记载的大量的蒙元时代的历史大都可以在历史文献中找到对应。如元代的政治制度是行省制，驿站制和漕运制是元代政治制度的主要内容，马可·波罗在游记中对这三种制度都做了详细的介绍。它是第一部全面、深入介绍中国的游记。马可·波罗的时代正是欧洲文艺复兴的前夜，意大利所倡导的文艺复兴在本质上是对世界的发现和对人的发现，对世俗生活的渴望，对财富的迷恋，对爱情的追求……而《马可·波罗游记》满足了意大利人所有这些冲动。《马可·波罗游记》的传播和接受……它的影响史正是欧洲文艺复兴时期的“社会集体想象物”。

——摘编自张西平《〈马可·波罗游记〉与中国文化的西传》等

- (1)根据材料并结合所学知识，指出《马可·波罗游记》对欧洲人的影响。(8分)
- (2)根据材料并结合所学知识，指出《马可·波罗游记》的史料价值。(7分)

关于我们

自主选拔在线是致力于提供新高考生涯规划、强基计划、综合评价、三位一体、学科竞赛等政策资讯的升学服务平台。总部坐落于北京，旗下拥有网站（网址：www.zizzs.com）和微信公众平台等媒体矩阵，用户群体涵盖全国 90% 以上的重点中学师生及家长，在全国新高考、自主选拔领域首屈一指。如需第一时间获取相关资讯及备考指南，请关注**自主选拔在线**官方微信号：**zizzsw**。

