

绝密★启用前

2023 年河南省普通高中毕业班高考适应性测试

文科综合能力测试

注意事项:

1. 答卷前,考生务必将自己的姓名、准考证号等填写在答题卡和试卷指定位置上。
2. 回答选择题时,选出每小题答案后,用铅笔把答题卡上对应题目的答案标号涂黑。如需改动,用橡皮擦干净后,再选涂其他答案标号。回答非选择题时,将答案写在答题卡相应位置上。写在本试卷上无效。来源:高三答案公众号
3. 考试结束后,将本试卷和答题卡一并交回。

一、选择题:本题共 35 小题,每小题 4 分,共 140 分。在每小题给出的四个选项中,只有一项是符合题目要求的

在城市群中,通过借用邻近城市的人口,达到支持特定功能或经济绩效的临界人口规模,被称为城市的“借用规模”。在城市群发展初期,大城市从周边小城市吸纳资源,可能抑制小城市发展,产生集聚阴影;在发展后期,扩散机制起主要作用,小城市常因大城市的带动作用而获得更强的增长动力。图 1 示意山东半岛和珠三角城市群城市“借用规模”(数值越大借用规模越显著)。据此完成 1~3 题。




图 1

1. 下列城市中“借用规模”最显著的是
A. 菏泽 B. 烟台 C. 珠海 D. 东莞
2. 与珠三角城市群相比,山东半岛城市群
A. 大城市辐射力强 B. 处于发展后期 C. 集聚阴影显著 D. 扩散机制显著
3. 为了更好地发挥“借用规模”,与大城市相比,中小城市应
①积极完善产业基础 ②保持产业结构趋同
③差异化定位城市功能 ④控制城区人口规模
A. ①② B. ①③ C. ②③ D. ②④

文综适应性测试 第 1 页 (共 14 页)

巨菌草根系发达、生长迅速、耐旱、耐盐碱,是一种良好的饲料作物,相比于玉米等传统饲料作物,种植巨菌草对土壤、水分和养分的要求更低。近年来,宁夏同心县在沙漠戈壁推广巨菌草种植,促进草畜产业一体化发展。图2为巨菌草和玉米植株对比图。据此完成4~6题。



图2

4. 与传统饲料作物相比,同心县推广巨菌草种植是因为
 - A. 单位面积产草多
 - B. 可提高耕地质量
 - C. 种植经验更丰富
 - D. 便于机械化耕作
5. 该地在沙漠戈壁推广巨菌草种植的主要环境效益是
 - A. 增大蒸腾量,增强区域降水
 - B. 减少水耗,增加河川径流
 - C. 增加生物多样性,减弱竞争
 - D. 根系固沙,减弱风沙活动
6. 推广巨菌草种植,促进草畜产业一体化对当地农业发展的影响是
 - A. 减少耕地面积
 - B. 保障草料供应稳定
 - C. 推高牧业成本
 - D. 扩大饲料用粮需求

所罗门群岛海域地处太平洋西南部,盛产金枪鱼,该区域金枪鱼总渔获量占世界的38%,是所罗门群岛重要的经济来源。近年来,金枪鱼数量呈下降态势。我国某研究团队在该海域设置调查站,研究长鳍金枪鱼与环境因子的关系。图3为调查海域及调查站位置示意图,图4示意长鳍金枪鱼不同深度段、盐度段、温度段的渔获量。据此完成7~9题。



图3

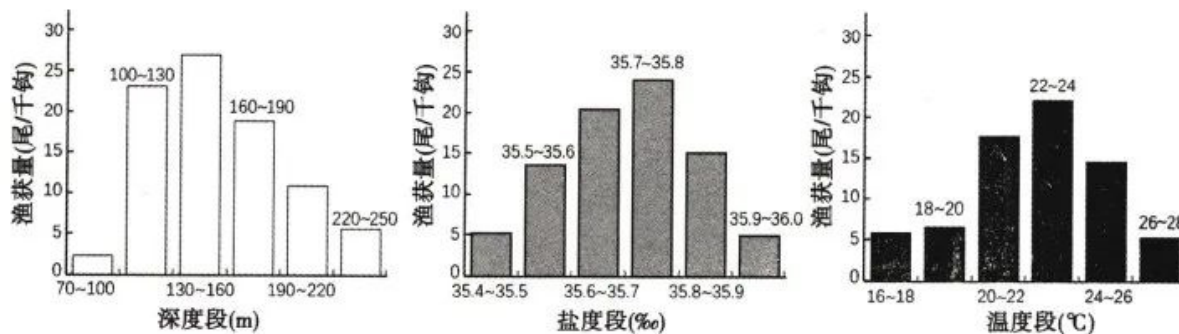


图4

7. 调查站位置的设置主要依据所罗门群岛的
- A. 气温差异 B. 降水分异 C. 地形特点 D. 岛礁分布
8. 图示所罗门群岛海域长鳍金枪鱼
- A. 喜深海水域 B. 最大渔获量深度位于 130~160m
C. 喜河口水域 D. 最适宜栖息水域的温度为 20~22℃
9. 为保持金枪鱼产业的稳定发展,所罗门地区应
- A. 保护渔业资源,禁止捕捞金枪鱼 B. 大规模育肥,提高金枪鱼产量
C. 加强立法保护,提高水域监管力 D. 改进捕捞技术,增加渔获量

大青山位于阴山山脉中部,全新世(距今约 1 万年)以来,山前形成逐层叠覆的三期洪积扇,洪积扇发育主要受气候变化和构造活动影响。图 5 为大青山山前洪积扇示意图。表 1 为三期洪积扇气候特征统计表。据此完成 10~11 题。

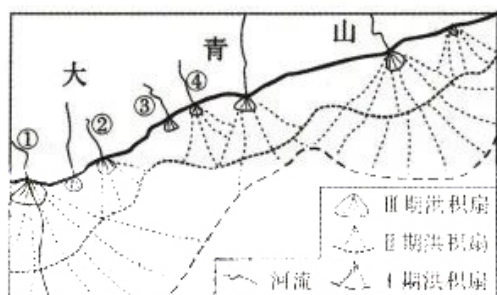


图 5

表 1

	年代	气候
I 期洪积扇	距今 11000~8000 年	暖干
II 期洪积扇	距今 8000~5000 年	暖湿
III 期洪积扇	距今 3000 年以来	冷干

10. 三期洪积扇发育过程中,河流出山口位置最稳定的是
- A. ① B. ② C. ③ D. ④
11. 推测 I 期洪积扇发育时,该地区
- A. 河流水量最大 B. 山区抬升强烈 C. 岩体坚硬稳固 D. 河流流速最慢
12. 山羊养大后定销公司上门牵羊,经过专业屠宰变为生鲜肉类食材,随后进入食品车间进行加工,变成“红烧羊蹄”“羊杂汤”等一道道预制菜走入大众餐桌。预制菜一头连着田间地头,一头连着大众餐桌,在“宅经济”的带动下,预制菜成为更多年轻群体首选。发展预制菜产业
- ①增加农民收入,降低了恩格尔系数
②增加产品的附加值,提升消费安全
③满足人们对“美味+便捷”的需求
④延长了农业产业链,助推乡村振兴
- A. ①② B. ①④ C. ②③ D. ③④
13. 收入分配是民生之源。党的二十大报告提出,要“规范收入分配秩序,规范财富积累机制”。下列有利于落实这一要求的初次分配措施是
- ①鼓励诚实勤劳致富,增加劳动性收入
②降低个税起征点,减轻居民税收负担
③规范资本市场,拓宽财产性收入渠道

④发展慈善事业,通过志愿者服务扶贫

- A. ①③ B. ①④ C. ②③ D. ②④

14. 2022年,中国人民银行两次降低存款准备金率,释放长期资金超万亿元,落实普惠小微贷款支持工具、碳减排支持工具和支持煤炭清洁高效利用、科技创新、交通物流、设备更新改造专项再贷款,强化对重点领域、薄弱环节和受疫情影响严重的行业、市场主体的支持。这一系列举措对我国经济发展作用的过程是

- ①提高金融机构信贷能力→释放流动性→应对疫情影响→稳定经济发展的预期
②增加银行盈利→防范金融风险→推动经济脱虚向实→筑牢现代化经济体系基础
③科学发挥政府作用→合理配置信贷资金→扩大政府投资→促进中小企业发展
④更好发挥政府作用→货币政策精准有效→优化产业结构→促进经济健康发展

- A. ①② B. ①④ C. ②③ D. ③④

15. 图6反映的是2022年1—12月我国居民消费价格指数(CPI)变动情况(数据来源:国家统计局),对此理解正确的是

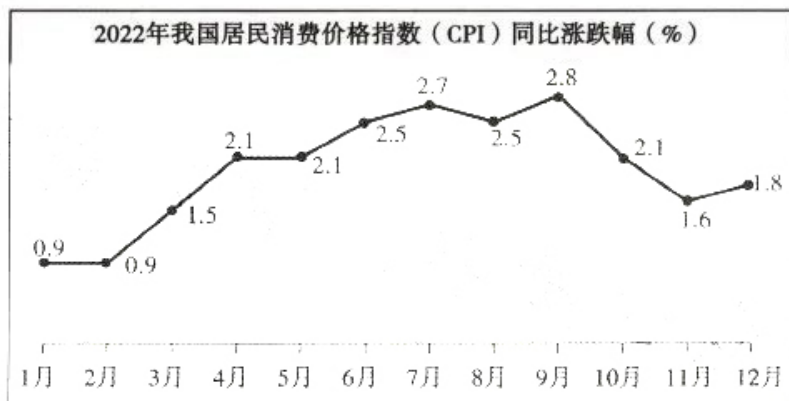


图6

- ①我国经济较快复苏,促使居民消费强劲增长
②我国应继续统筹疫情防控和经济社会发展的关系
③我国要继续实施积极的财政政策和稳健的货币政策
④我国政府应积极采取多种措施防止物价大幅上涨

- A. ①③ B. ①④ C. ②③ D. ②④

16. 某地积极发挥党建引领作用,构建“县(市、区)—乡镇(街道)—村(社区)—村组(楼院)”四级网格管理体系,将77个市直单位和12个县(市、区)、154个乡镇(街道)、3795个村(社区)的有关数据全部录入信息管理平台,并在县(市、区)层面制定包括安全隐患排查、矛盾纠纷化解等11项便民服务事项的管理清单。这一做法

- A. 促进信息共享,提升基层社会治理效能
B. 创新群众自治组织形式,激发群众参与热情
C. 优化基层治理体系,保障公民基本民主权利
D. 提升政务管理信息化水平,实现政务公开

文综适应性测试 第4页 (共14页)

17. 党的十八大以来,党中央多次召开政党协商会议,听取意见。各民主党派中央、无党派人士围绕“一带一路”建设、京津冀协同发展、创新驱动引领高质量发展、推动实现共同富裕等关系国计民生的重大问题,深入考察调研,提出意见建议 1000 余份。这表明
- ①中国共产党通过政治协商会议实现对民主党派的领导
 - ②中国共产党和各民主党派是执政与参政的友党关系
 - ③各民主党派在组织上接受中国共产党的领导和监督
 - ④党际民主协商有利于推动决策的科学化、民主化
- A. ①③ B. ①④ C. ②③ D. ②④
18. 内蒙古自治区第十三届人大常委会第三十八次会议通过了《内蒙古自治区革命文物保护利用条例》。条例聚焦全面加强革命文物保护利用这条主线,深入贯彻党的二十大精神,坚持新时代文物工作方针,从调查认定、保护管理、传承利用等方面,为保护好、管理好、运用好革命文物提供了法律保障。这
- ①体现了我国自治地方人大行使立法自治权
 - ②说明人民代表大会是我国人民行使权力的自治机关
 - ③表明民族区域自治制度是我国的一项基本政治制度
 - ④依法推动了革命文物保护利用的高质量发展
- A. ①③ B. ①④ C. ②③ D. ②④
19. 第 44 届世界遗产大会于 2021 年 7 月 16 日至 31 日在福建省福州市举行。我国申报的项目“泉州:宋元中国的世界海洋商贸中心”顺利通过大会评审,成为我国第 56 处世界遗产。据统计,我国世界自然遗产、自然与文化双遗产数量均居世界第一。这说明
- ①我国古代劳动人民的生产生活实践最为丰富多彩
 - ②我们推进中华文化自信自强有着丰富厚实的底蕴
 - ③中华民族的灿烂文化是世界文化的重要组成部分
 - ④中华民族文化不逊于甚至优越于其他民族的文化
- A. ①② B. ①④ C. ②③ D. ③④
20. 2022 年 10 月 28 日,习近平总书记在河南安阳考察时指出,红旗渠就是纪念碑,记载了林县人不认命、不服输、敢于战天斗地的英雄气概。社会主义是拼出来、干出来、拿命换来的,没有老一辈人拼命地干,没有他们付出的鲜血乃至生命,就没有今天的幸福生活。新时代的青年要把红旗渠精神化作奋进的动力,努力做出无愧于党、无愧于时代、无愧于人民的新业绩!红旗渠精神是
- ①中华民族精神和时代精神相结合的宝贵财富
 - ②对新时代青年学生理想信念教育的鲜活教材
 - ③当代人对前人艰苦奋斗实践过程总结的产物
 - ④中国共产党人伟大精神源泉的重要组成部分
- A. ①② B. ①③ C. ②④ D. ③④

21. 现实生活中有些人像图 7 漫画中的小鸟一样

- ①不懂得辩证的否定是事物发展的环节
- ②容易犯历史虚无主义的错误
- ③否认了事物的发展是质变的结果
- ④没有坚持用联系的观点看问题

A. ①②

B. ①③

C. ②④

D. ③④



图 7

22. 根据病毒变异特征和疫情发展形势,2022 年 12 月 7 日,国务院联防联控机制综合组发布《关于进一步优化落实新冠肺炎疫情防控措施的通知》,提出了十条新措施。一些人认为“新十条”的发布标志着我国抗疫的失败,但这些人却没有看到,三年来的严防死守使人们躲过了毒性最大的原始毒株和德尔塔的肆虐,减少了我国至少 600 万人的死亡。这说明

- ①要坚持矛盾分析法这一唯物辩证法的精髓
- ②只有坚持两点论看问题才能确定事物性质
- ③看待抗疫得失必须坚持具体问题具体分析
- ④只有坚持辩证法才能真正地坚持实事求是

A. ①②

B. ①③

C. ②④

D. ③④

23. 2022 年 8 月,在重庆市森林火灾救援过程中,一群年轻人骑着摩托车在陡峭的山路上一趟趟运送救援物资,为这次救灾做出了不可替代的贡献,被广大网友称赞为“真正的中国青年”,某大学美术学院为此专门创作一尊雕塑。这群年轻人

- ①在实践中实现了社会价值与自我价值的统一
- ②是现实生活中当代中国青年完美人格的典范
- ③勇于担当、堪当大任,是当代中国青年的缩影
- ④成为社会主义核心价值观的创新者和引领者

A. ①②

B. ①③

C. ②④

D. ③④

24. 周灭商之后,从一个地方性族群发展为一个拥有广土众民的国家,这就需要建立一套立足于地域关系的公共管理系统。但是,周仍沿袭原有的血缘氏族组织机制进行地域治理,也未能建立由税收支撑的公共管理机构来行使直接的土地所有权。这表明西周

- A. 对地方实行了直接有效的统治
- B. 将血缘关系与地域关系联结了起来
- C. 诸侯贵族拥有受封土地所有权
- D. 实现了由血缘政治向地域政治转变

25. 董仲舒一方面宣扬君权神授,指出君主只有奉行天道,才能获得在人间的合法统治权;另一方面也强调,天道就现实政治而言,就是仁、义、礼、智、信,即“五常之道”,君主要使自己的言行和施政符合“五常之道”。董仲舒的这一观点

- A. 试图实现儒家道德伦理的天道化
- B. 有效制约了君主的专制权力
- C. 成为汉武帝时大一统的理论基础
- D. 标志着儒学理论体系的成熟

26. 唐玄宗开元二年始设市舶使。表 2 是唐玄宗开元二年至宣宗大中四年可考的市舶使任职情况统计表。据此可知

表 2

时间	开元二年	开元十年	天宝初	广德元年	德宗初	开成元年	大中四年
姓名	周庆立	韦某	无	吕太一	王虔休	无	李敬实
身份	朝官	宦官	宦官	宦官	朝官	宦官	宦官

- A. 统治者对海外贸易重视不够
B. 宦官专权严重阻碍对外贸易发展
C. 市舶使与藩镇割据相伴始终
D. 海外贸易发展促进政府职能完善
27. 明中后期,大众的文化需求提高,工匠制作的文玩愈为世人所看重。之前多由匠人担任的造印者,现则多为文人担任,一些文人还成为了职业印人。这一变化反映出
- A. 经济发展冲击了传统观念
B. 市民文化主导了社会思潮的方向
C. 文化知识得到进一步普及
D. 思想解放推动士人逐利之风盛行
28. 严复在《天演论》自序中写道:“赫胥黎此书之旨,本以救斯宾塞任天为治之末流……且于自强保种之事,反复三致意焉……我们要断然理解,社会的伦理进展并不依靠模仿宇宙过程,更不在于逃避它,而是在于同它作斗争。”这实质上反映了
- A. 该理论完全适用于人类社会
B. 资产阶级的民权与平等理论
C. 甲午战争后民族危机的加深
D. “天朝上国”观念发生了嬗变
29. 20 世纪 30 年代,通过对乡村苏维埃政权的调查发现,江西兴国县永丰第一乡的 10 名委员中有贫农 6 人、中农 2 人,以及手工业者、富农各 1 人;江西吉水县水南第八乡木口村 7 名委员中,贫农、中农各 3 人。据此可知,这些地区乡村苏维埃的政权建设
- A. 表明党的工作中心以夺取城市为目标
B. 为抗日救亡运动强化基层政权的建设
C. 充分反映了工农民主专政的政权性质
D. 有利于团结各阶层反抗国民党的统治
30. 有学者指出:由于(辛亥)革命的失败,许多人遂以为革新不致摇动社会的基础,从戊戌到此后的 50 年中,就没有忘记这一条道路。但假使革新是保持传统政治的手段,则戊戌维新的结果说明了历史的出路。由此可知,该学者认为
- A. 社会革新运动有着广泛的群众基础
B. 戊戌维新运动寻找到了正确的历史出路
C. 革命与改良是历史发展的主要动力
D. 提倡改良实际上是维护反动统治的手段

31. 表 3 1957 年我国部分产品计划产量增长表

产品名称	1952 年产量	1957 年计划产量	计划增长率
棉布	11163.4 万匹	16372.1 万匹	47%
食用植物油	72.4 万吨	155.2 万吨	114%
面粉	299.0 万吨	467.0 万吨	56%
盐	346.0 万吨	593.2 万吨	71%

文综适应性测试 第 7 页 (共 14 页)

这表明,中华人民共和国成立初期

- A. “一五”计划的顺利实施
- B. 轻工业得到了迅速发展
- C. 政府重视社会民生问题
- D. 我国优先发展了重工业

32. 克里斯提尼改革之后,雅典对泛雅典人节上的部落比赛项目更加重视。在准备和进行部落比赛的过程中,不论富人还是穷人,他们都能够找到适合自己的位置,为争取自己部落的胜利共同努力,并在胜利之后共同分享胜利果实。这主要是为了

- A. 巩固雅典的民主政治基础
- B. 提高雅典城邦的地位与声望
- C. 保障部落公民的民主权利
- D. 不断扩大泛雅典人节的规模

33. 图 8 选自笛卡尔(1596—1650 年)《论人》,展现了感觉和手的运动的关系。由此可知

- A. 文艺复兴推动自然科学的发展
- B. 上帝的视角决定着人类的认知
- C. 人对外部刺激的感知是盲动的
- D. 理性是认识和通向真理的途径

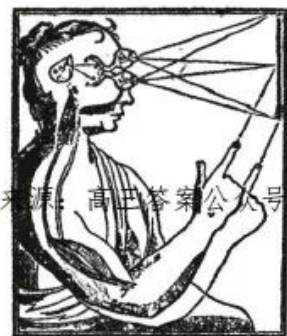


图 8

34. 英国学者 S. D. 查普曼做过一个计算:纺制 45 千克棉花,使用印度纺纱车为代表的“旧式”纺车,需要 5 万小时;到 18 世纪最后 10 年,使用阿克莱特纺纱机和“骡机”,需要 300 小时,而使用自动“骡机”则为 135 小时。这旨在说明

- A. 印度棉纺织业面临困境
- B. 英国纺织技术领先世界
- C. 技术革新推动产业变革
- D. 市场需求刺激技术革新

35. 瓦西里·列昂季耶夫在《世界经济的未来》中估计,第三世界或欠发达国家必须积累起国民收入的 30%~40%才能实现自力更生的发展。要达到这种水平的积累,必须采取“意义重大的社会和制度方面的变革”,其中包括“更平等的收入分配”。这强调了第三世界

- A. 依附于国际经济旧秩序的必然性
- B. 各国推行社会改革的必要性
- C. 发展的途径是进行彻底制度变革
- D. 独立自主才能实现国家发展

二、非选择题:共 160 分。第 36~42 题为必考题,每个试题考生都必须作答。第 43~47 题为选考题,考生根据要求作答。

(一)必考题:共 135 分。

36. 阅读图文材料,完成下列问题。(24 分)

莱索托是非洲南部经济落后的多山国家。在东部山区,居民主要分布于山间谷地,从事传统农业生产活动,保留有独特的文化习俗。莱索托国内电力供应短缺。南非面临水资

文综适应性测试 第 8 页 (共 14 页)

源不足问题,两国合作开启了莱索托高地水利项目。项目通过多座大坝拦蓄森古河40%的水量,库区存水由隧道向北输送,流经莱索托境内发电站后,进入南非供周边城市和工业区使用。在项目运行过程中,莱索托倾向于持续输水,南非则希望更多水量能存储在莱索托境内水库中。部分莱索托山区居民、政府官员和地质学家对该项目持反对意见。图9为莱索托高地水利项目示意图和莱索托高地气候资料图。



- (1)从地形、气候角度,评价莱索托高地水利项目的建设条件。(8分)
- (2)说明该项目对莱索托经济发展的有利影响。(6分)
- (3)分析莱索托和南非在项目运行中产生分歧的原因。(4分)
- (4)从莱索托山区居民、政府官员和地质学家等角度,说明反对该项目的理由。(6分)

37. 阅读图文材料,完成下列问题。(22分)

门多萨位于安第斯山东侧,其周边地区是世界典型的焚风多发区。门多萨拥有阿根廷最大的葡萄酒产区,也是安第斯山区重要的交通枢纽。图10为2012年12月24日当地时间12:00南美洲局部海平面等压线分布图,图11为当日门多萨气温和露点温度(空气冷却至水汽饱和状态时所需的温度)变化统计图。

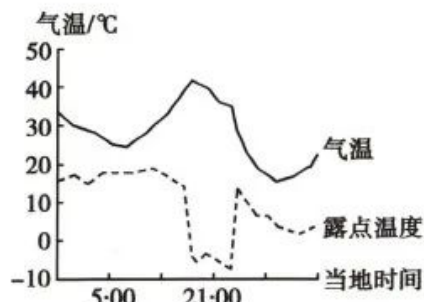
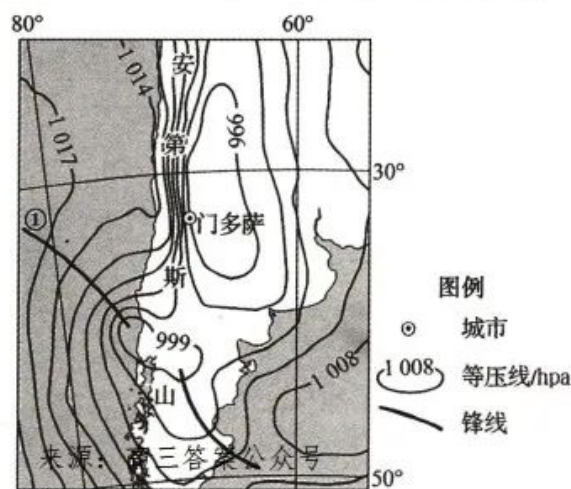


图10

图11

- (1)判断锋线①的类型,并说明依据。(6分)
- (2)读等压线分布图,说明当日门多萨焚风显著的原因。(4分)
- (3)分析门多萨在经历焚风期间露点温度变化的原因。(6分)
- (4)评价焚风对门多萨地区生产生活的影响。(6分)

38. 阅读材料,完成下列要求。(14分)

材料一

图12是2017年以来我国经济发展的相关数据(数据来源:国家统计局)

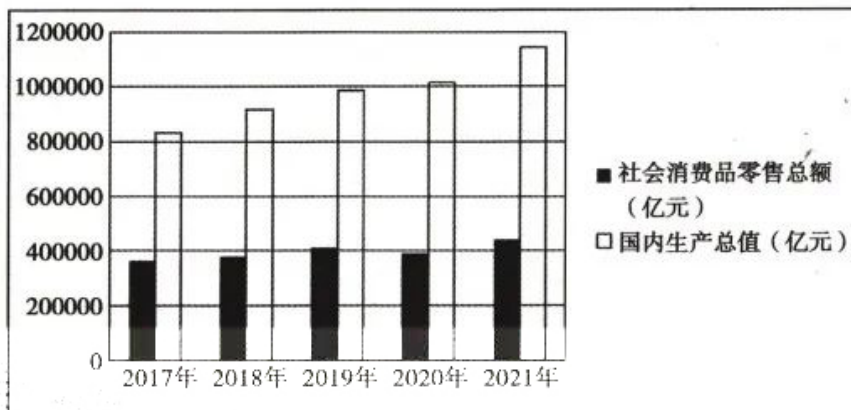


图12

材料二

2022年中央经济工作会议强调,要更好地统筹供给侧结构性改革和扩大内需,通过高质量供给创造有效需求,支持以多种方式和渠道扩大内需。坚持问题导向,瞄准有效供给能力不足、分配差距较大、流通体系现代化程度不高、消费体制机制不健全等堵点难点,才能更好地把握扩大内需的重点任务和主攻方向。

(1)概括材料一中的经济信息。(6分)

(2)结合材料并运用经济生活知识,说明我国应如何在促进经济高质量发展中扩大内需。(8分)

39. 阅读材料,完成下列要求。(12分)

2022年,F省省委、省政府出台文件支持J市围绕优势产业打造全国一流的先进制造业中心,从动能转换、创新发展、数字赋能等方面扶持实体经济。J市是经济重镇,企业数量众多。20年来,J市始终致力于当好企业的“引路人、推车手、服务员”。着力引导企业聚焦科技赋能、数字化转型,让企业插上“科技翅膀”;在企业发展遇到瓶颈时,及时帮一把、扶一把、推一把;建立专班,靠前服务,简化审批手续。J市党委、政府始终坚持依法履职,“亲”而有度、“清”而有力,为企业发展保驾护航。20年来,J市经济年均增速11.4%,2021年实现地区生产总值近3000亿元,县域经济基本竞争力连续21年保持全国前十。

结合材料并运用政治生活知识,分析J市是如何做大做强实体经济的。



40. 阅读材料,完成下列要求。(26分)

2022年8月10日,国务院台湾事务办公室、国务院新闻办公室发表了《台湾问题与新时代中国统一事业》白皮书,全面系统阐述党和政府在新时代推进实现祖国统一的立场、方针、政策。

白皮书指出,解决台湾问题、实现祖国完全统一,是全体中华儿女的共同愿望,是实现中华民族伟大复兴的必然要求。按照“一国两制”实现两岸和平统一,将给中国发展进步和中华民族伟大复兴奠定新的基础,将给台湾经济社会发展创造巨大机遇,将给广大台湾同胞带来实实在在的好处。统一后,台湾同胞将同大陆同胞一道,共享一个伟大国家的尊严和荣耀,以做堂堂正正的中国人而骄傲和自豪。

白皮书指出,在中国共产党的坚强领导下,中华民族迎来了从站起来、富起来到强起来的伟大飞跃,实现中华民族伟大复兴进入了不可逆转的历史进程。我们更有条件、更有信心、更有能力完成祖国统一大业……希望广大台湾同胞坚定站在历史正确的一边,做堂堂正正的中国人,认真思考台湾在民族复兴中的地位 and 作用,深明大义、奉义而行,坚决反对“台独”分裂和外部势力干涉,积极参与到推进祖国和平统一的正义事业中来。

(1)结合材料并运用整体与部分辩证关系原理,说明解决台湾问题、实现祖国完全统一的意义。(12分)

(2)结合材料并运用文化生活的有关知识,分析白皮书的发表对促进两岸统一的作用。(10分)

(3)假如你班举行以“《台湾问题与新时代中国统一事业》白皮书与两岸统一”为主题的班会,请你围绕主题拟两个发言题目。(要求:体现主题主旨,每个不超过15个字)(4分)

41. 阅读材料,完成下列要求。(25分)

材料一

19世纪30年代初的英国,霍乱等流行病肆虐,一些统计学家、医生和其他民间有识之士,开始用他们的专业技术、理性思维和人道主义精神,领导了30—40年代的公共卫生改革运动,推进了公共卫生改革进程。他们较早利用调查和数据方式对社会卫生状况进行研究,向民众普及公共卫生知识,也号召民众以向议会提交请愿书的方式,来推动公共卫生的立法进程。一些志愿团体,关注工人的住房、清洁等状况,将公共卫生及改革的理念传递给工人。1848年的霍乱爆发,推动英国中央政府通过了《1848年公共卫生法》,成立了中央及地方相关卫生部门,标志着英国近代公共卫生迈入了制度化轨道。

——摘编自张晶晶《19世纪30—40年代英国公共卫生运动中的医学争论研究》

材料二

为抵御美国细菌战,1952年,中央人民政府政务院决定成立中央防疫委员会(后改称“中央爱国卫生运动委员会”),领导和组织反细菌战,加强防疫宣传工作。接着,全国各地成立了防疫委员会。全国人民迅速掀起了以反对美国细菌战为中心的人民防疫运动。当时主要任务是消灭传播鼠疫、霍乱等传染病的病媒害虫,被人民群众称为“爱国卫生运

文综适应性测试 第11页 (共14页)

动”。截至 1952 年底,全国清除垃圾、粪便等 1.6 亿多吨,许多地方的卫生面貌焕然一新。1956 年,中共中央把爱国卫生运动写进农业发展纲要,标志着爱国卫生运动开始从突击性的运动向经常性运动转变,从粉碎细菌战向消灭疾病转变,从保家卫国向移风易俗、改造国家转变。

——摘编自肖爱树《被 WHO 誉为“中国的国宝”:新中国的爱国卫生运动》

(1) 根据上述材料并结合所学知识,分别简述中、英两国公共卫生运动产生的背景。(12 分)

(2) 根据上述材料并结合所学知识,概括中、英两国公共卫生运动的异同。(13 分)

42. 阅读材料,完成下列要求。(12 分)

材料

针对有一种“唐宋变革”理论把唐、宋两代分割为二,唐为贵族政治,宋一变而为君主独裁,同时其政治、经济、文化上都“近代化”了的情况,当代学者阎步克认为,唐宋两朝的政治体制的相似性大于变异性。期间虽有变化,但其变化幅度未必就比秦汉 400 多年的变化幅度更大,更达不到所谓“变革”的程度。此期经济、文化、社会方面的若干新现象,总体上仍然从属于中国史的内在演化规律,不具备西欧的那种“近代化”的意义

——摘编自阎步克《波峰与波谷:秦汉魏晋南北朝的政治文明》

根据材料并结合所学知识,针对材料中的观点,自拟论题,并结合所学知识予以阐述。(要求:写明论题,史论结合)

(二) 选考题:共 25 分。请考生从 2 道地理题、3 道历史题中每科任选一题作答。如果多做,则每科按所做的第一题计分

43. [地理——选修 3:旅游地理](10 分)

“逆向旅游”日渐成为旅游业中的新潮流,越来越多的游客倾向于在非著名旅游小城寻求独特、轻松的度假体验,而不是蜂拥前往知名但普遍拥挤的旅游目的地。表 4 为网络平台上关于“逆向旅游”的部分留言。

表 4

	留言
游客	“从长沙走高速 3 个小时就能入住江西武宁县的湖畔帆船酒店,付出远低于大城市的成本享受不失水准的服务,小城的美有一种特别的治愈力”
旅游研究院教授	“旅游业过去是观光,现在是体验”来源:高三答案公众号
旅游服务平台经理	“2022 年国庆假期,‘冷门’旅游城市酒店预订量同比增加 30%,甘肃临夏、青海海北等地区高端酒店预订量增长 10 倍以上”

分析“逆向旅游”近年来日渐兴起的原因,并说明其对旅游业的积极影响。(10 分)

44. [地理——选修 6:环境保护](10 分)

2022 年卡塔尔世界杯球场均位于距首都多哈市中心 50km 范围以内,布局紧凑,建筑材料多采购于当地。球场采用模块化集装箱设计,制造了可拆卸看台,赛后拆卸的看台等

文综适应性测试 第 12 页 (共 14 页)



设施将捐给需要体育设施的国家。球场广泛使用高效隔热材料和可开合屋顶,并通过控制装置单独给需要冷气的区域实施分区制冷。

说明卡塔尔世界杯球场建设所采取措施的环境效益。(10分)

45. [历史——选修1:历史上重大改革回眸](15分)

材料

康熙朝后期,地方官吏为应付各项必需的支出或者为了满足自己的贪欲,各种加派、陋规普遍盛行。雍正即位后,面临的一个亟待解决的问题就是财政严重亏空。山西巡抚诺岷首先实行以耗羡抵补亏空,给弥补亏空所需要的银两提供了一个可靠的来源。火耗私征,沿自明朝,雍正把它加以改变,实行火耗归公的制度,并与养廉银制度相辅相成,加上摊丁入亩政策的执行,雍正时期的这些财政改革取得了巨大的成果,保证了清政府的赋税收入,国库充盈。嘉庆时,火耗大部分需上缴中央,已根本无法满足各省和地方政府的需求。一些地方的亏空日益严重,甚至于全省每个官员都要摊扣养廉银,以归还前任官员的积欠。清朝对于钱粮征收的积弊,防范手段可谓严密,但是都无法禁止种种贪污腐败现象。

——摘编自杨俊霞《雍正时期地方财政改革的成就与局限》

(1)根据材料并结合所学知识,概括雍正时期财政改革的历史背景,并指出雍正时期解决财政危机的主要措施。(9分)

(2)根据材料并结合所学知识,简要评价雍正时期财政改革。(6分)

46. [历史——选修3:20世纪的战争与和平](15分)

材料

1990年,海湾危机爆发不久,布什总统首次公开了美国政府建立“世界新秩序”的构想,并在海湾战争中予以实践和展现。随着全球性对抗威胁减弱,伊拉克这样的地区性强国崛起是对美国在世界重点地区利益的挑战。于是,美国通过外交努力,在联合国安理会中,首次实现了美、苏、中等主要大国的意见一致,即要求伊拉克立即、无条件的撤军。战争中,美军在海湾地区作战费用由沙特等国提供60%,日本等提供20%,而美国只负担20%。参加多国部队的国家虽有39个,但主要行动基本都是由西方盟国部队完成的,具体指挥权仍属美国。针对伊拉克向沙特和以色列发射了许多的飞毛腿导弹,布什总统指出:“没有任何事情比停止核、化学和生物武器,以及携掷这些武器的导弹的全球性扩散更加紧迫了。”经过海湾战争的实践,促使这一构想在以后美国国家战略中占有十分重要的地位。

——摘编自徐萍、张建辉《海湾战争与美国世界新秩序构想的实践》

(1)根据材料并结合所学知识,分析美国提出“世界新秩序”构想的背景。(7分)

(2)根据材料并结合所学知识,概括美国“世界新秩序”的主要构想,并指出其实质。(8分)

47. [历史——选修4:中外历史人物评说](15分)

材料

1918年12月底—1920年3月,梁启超到欧洲进行考察,发表了《欧游心影录》,里面记录了他的震惊:战后惨状使“我们素来认为天经地义、尽美尽善的代议政治,今日竟会从墙

文综适应性测试 第13页 (共14页)

角上筑筑摇动起来,他的寿命,竟没有人敢替他保险”。欧洲“科学万能论的梦”的破灭:因为它使“我们人类不惟没有得着幸福,倒反带来许多灾难”,欧洲人“到如今却叫起科学破产来”。他看出:“科学愈昌,工厂愈多,社会偏枯亦愈甚,富者益富,贫者益贫”,“社会革命,恐怕是 20 世纪史唯一的特色”。他发现他所崇拜的泰西思想界,“正在那里横冲直撞寻觅曙光,许多先觉之士,正想把中国、印度文明输入,图个东西调和”。而“这种大业,只怕要靠我们才得完成哩”!最终“图个心物调和”。

摘编自《陈旭麓文集(第三卷)》

- (1) 根据材料并结合所学知识,概括梁启超对欧洲文明反思的时代背景。(9分)
- (2) 根据材料并结合所学知识,评价梁启超对欧洲文明的态度。(6分)



2023 年河南省普通高中毕业班高考适应性测试

文科综合能力测试参考答案

一、选择题

1. D 2. C 3. B 4. A 5. D 6. B 7. D 8. B 9. C 10. A 11. B 12. D
13. A 14. B 15. C 16. A 17. D 18. B 19. C 20. A 21. C 22. D 23. B 24. B
25. A 26. D 27. A 28. C 29. C 30. D 31. C 32. A 33. D 34. C 35. B

二、非选择题

(一)必考题

36. (1)地形:多峡谷,便于大坝选址;(2分)山地广布,不利于工程设备和建筑材料运输。(2分) 气候:降水总量大,水源充足(或海拔高,气温低,蒸发弱,库区水量损失少);(2分)降水季节变化大,供水不稳定。(2分)来源:高三答案公众号

(2)促使当地由传统农业向工业和第三产业转变;提供生产生活所需的水源和能源;增加就业;增加外汇收入;促进交通基础设施建设;带动旅游业等相关产业发展。(任答3点得6分)

(3)持续输水才能保证水电站稳定发电,莱索托为增加发电量,保持电力供应稳定,倾向于持续输水;(2分)南非为保障旱季有充足的水源供应,希望输水源头能有更大的水量保障,倾向于库区多储水。(2分)

(4)山区居民:水库建设容易导致谷地被淹没,人口和农业被迫转移到更陡峭的山坡;旅游业的发展将改变原住民的文化和生活方式。政府官员:莱索托被南非环绕,随着项目的推进,经济可能将更依赖于南非。地质学家:库区储水,增加地层压力,可能引起地震等地质灾害。(任答3点得6分)

37. (1)冷锋。(2分)依据:锋线位于低压槽,冷暖气团汇聚;(2分)受地转偏向力影响,南半球气旋顺时针辐合,冷气团主动向暖气团移动,形成冷锋。(2分)

(2)冷锋向东北方移动,推动海上暖湿气流向安第斯山区流动;在安第斯山西侧,从海洋到内陆气压由高到低变化,形成西风;安第斯山区等压线密集,气压梯度大,风速强,加大翻越安第斯山的气流强度,焚风效应增强。(任答两点得4分)

(3)暖湿气流在安第斯山迎风坡形成地形雨,水汽被大量拦截;(2分)在背风坡,气流下沉增温,形成干热气团;(2分)为使空气的水汽饱和,需冷却至更低温度,因此露点温度显著下降。(2分)

(4)有利影响:改善山区热量条件,增加光照,利于葡萄种植;增大融雪量,增加河流水量;加快山区地表积雪消融,利于高山牧草返青。不利影响:加剧干旱,不利于葡萄生长;干热天气威胁居民的身体健康;大风对公路、航空等交通运输产生干扰;干热风易引发火灾风险。(任答一点得2分,只答有利影响或不利影响不能得满分)

38. (1)(6分)2017年以来,我国国内生产总值和社会消费品零售总额均保持增长态势。这说明生产决定消费,消费对经济发展起基础性作用。

(2)(8分)改善供给结构,提升供给体系对国内需求的适配性;理顺分配关系,缩小收入差距,提升消费能力;依托现代信息技术,加快流通体系建设,畅通国民经济循环;完善消费政策,优化消费环境,引导刺激消费。

39. (12分)坚持党对经济工作的领导,发挥党总揽全局、协调各方的领导核心作用;政府积极转变职

文综适应性测试参考答案 第1页 (共3页)

能,打造有为政府,助力有效市场;坚持依法行政,构建亲清政商关系;建设新型服务型政府,为实体经济发展营造良好的营商环境。

40. (1) (12分) 在整体与部分的关系中,整体居于主导地位,具有部分所不具备的功能,部分服从和服务于整体,整体的功能、状态及其变化会影响部分;部分组成整体,关键部分的功能及其变化甚至对整体的功能起决定作用。台湾自古以来是中国不可分割的组成部分。解决台湾问题、实现祖国完全统一,既有利于维护中华民族的根本利益,实现中华民族伟大复兴,也有利于台湾地区经济社会的发展,增进台湾人民的福祉。

(2) (10分) 文化是一种精神力量,能够在人的实践中转化为物质力量,对社会发展产生深刻影响,先进的文化促进社会发展。白皮书提出的实现祖国统一的立场、方针、政策顺应历史发展的潮流,符合海峡两岸同胞的根本利益。白皮书的发表有利于提振中华儿女矢志追求国家统一的精气神,增强岛内和海外反“独”促统力量的信心和勇气,凝聚支持和促进祖国统一的磅礴伟力。

(3) (4分) 答案示例:两岸统一事关中华民族的伟大复兴;祖国统一的历史大势不可阻挡。

41. (25分)

(1) 背景:英国工业革命带来环境污染;社会贫富差距大;政府坚持自由主义思想;医疗卫生体系不完善。(6分,任答3点) 中国当时受抗美援朝战争的影响;群众卫生意识淡薄;国家经济得到恢复和发展;政府重视民生。(6分,任答3点)

(2) 相同点:都关注传染病的防治;都属于全国性运动;都成立了专门的机构;都注重对民众的宣传。(5分)

不同点:在英国,运动兴起主要受传染病流行影响;在中国,运动兴起与抗美援朝战争相关。在英国,运动的主要推动者是知识分子,民间运动促进政府重视;在中国,由政府主导,群众积极参与,形成全民参与局面。(8分)

42. (12分)

评分说明:

一等:(12~9分)

- ①观点、结论明确,理由充分。
- ②能够准确、充分运用中国古代史的史实予以论述,逻辑严密。

二等:(8~5分)

- ①观点、结论明确,理由充分。
- ②能够运用中国古代史的史实予以论述,逻辑关系较清楚。

三等:(4~0分)

- ①有观点、结论,运用中国古代史的史实不够准确,逻辑关系不清。
- ②观点不明确,缺少论证。

(二) 选考题

43. [地理——选修3:旅游地理]

原因:游客的旅游动机日渐多元化,对旅游目的地的选择倾向不同;小众旅游目的地物价较低,可节省旅游开支;小众旅游目的地开发水平和旅游商业化成熟度较低,可获得多元化旅游体验;小城市的旅游基础设施和交通设施日趋完善。(任答3点得6分)

影响:增加小城市旅游客源,推动县域旅游业发展;促使知名旅游目的地提高旅游管理水平,优化旅游产品,改善旅游体验;利于平衡旅游供需,提高旅游资源利用率。(任答2点得4分)

44. [地理——选修6:环境保护]

球场布局紧凑,从当地采购建筑材料,有利于缩短交通运输距离、减少碳排放;(2分)模块化建造,缩短建设时间,减少建造过程中产生的废弃物;(2分)赛后拆卸的看台等设施捐给其它国家,实现资源的重复利用;(2分)使用高效隔热材料和可开合屋顶,可减少冷却过程中的能源消耗;(2分)分区冷却,实现精细调控,可降低球场对空调冷气的需求。(2分)来源:高三答案公众号

45. [历史——选修1:历史上重大改革回眸](15分)

(1)历史背景:专制主义中央集权加强,地方财政基础薄弱;地方官吏随意加派,贪腐盛行;各级政府财政严重亏空。(6分)

主要措施:火耗归公;摊丁入亩。(3分)

(2)评价:火耗归公增加了政府的财政收入;一定程度上抑制了官员贪腐;摊丁入亩减弱了政府对人民的控制;地方的财政亏空和贪腐问题无法从根本上解决。(6分,每点2分,须辩证评价)

46. [历史——选修3:20世纪的战争与和平](15分)

(1)背景:东欧剧变,苏联战略收缩和冷战局面逐渐消退;世界多级化趋势的加强;美国试图独霸全球,不断插手别国事务;地区矛盾激化。(7分,任答3点)

(2)构想:确立美国在世界新秩序中的领导地位;维护美国在世界关键地区的国家利益;借助联合国、盟国和友邦的作用,共同分担责任;进行武器控制,防止大规模杀伤性武器的扩散。(6分,任答3点)

实质:美国推行霸权主义。(2分)

47. [历史——选修4:中外历史人物评说](15分)

(1)背景:第一次世界大战造成巨大灾难;资本主义文明面临危机;资本主义国家内部矛盾加剧;西方思想界反思和探索的影响;新文化运动存在过分推崇西方文化的倾向。(9分,任答3点)

(2)评价:有利于中国人破除对资本主义文明的迷信和盲从;有利于增强国人对东方文明的信心和民族自信心;有利于中国人探索正确的救国道路;低估了西方先进科学文化的价值,不利于新思想的传入。(6分,每点2分,须辩证评价)

关于我们

自主选拔在线是致力于提供新高考生涯规划、强基计划、综合评价、三位一体、学科竞赛等政策资讯的升学服务平台。总部坐落于北京,旗下拥有网站(网址:www.zizzs.com)和微信公众平台等媒体矩阵,用户群体涵盖全国90%以上的重点中学师生及家长,在全国新高考、自主选拔领域首屈一指。

如需第一时间获取相关资讯及备考指南,请关注**自主选拔在线**官方微信号:**zizzsw**。

