

曲靖市 2022—2023 学年高三年级第二次教学质量监测

文科综合试题卷

(满分 300 分, 考试时间 150 分钟)

注意事项:

1. 答题前, 考生务必将自己的姓名、准考证号、考场号、座位号填写在答题卡上。
2. 回答选择题时, 选出每小题答案后, 用 2B 铅笔把答题卡上对应题目的答案标号涂黑。如需改动用橡皮擦干净后, 再选涂其它答案标号。回答非选择题时, 将答案写在答题卡上。写在本试卷上无效。
3. 考试结束后, 将本试卷和答题卡一并交回。

第一部分

曲靖市是云南省第二大城市和第二大经济体, 近年来聚焦先进制造基地、高端食品基地、城乡融合发展示范区建设发展目标, 加快推进麒麟区、沾益区、马龙区同城化发展, 高标准打造云南副中心城市。读“曲靖市城乡总体规划(2017—2035年)”图, 完成1—3题。

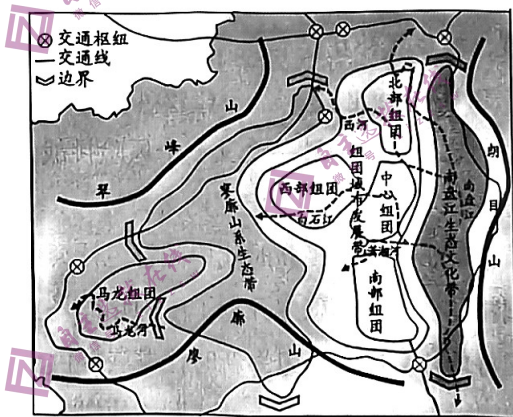


图 1

1. 据图推测, 曲靖市城区客流中心、物流中心可能规划在
A. 马龙组团 B. 西部组团
C. 北部组团 D. 中心组
2. 城区边缘的南盘江沿岸主要为乡村, 近几年出现闲置土地、空心房增多的现象, 对此解释合理的是
A. 产业调整, 重点开发文旅产业 B. 缺乏管理, 内部空间结构混乱
C. 农业落后, 农产品市场需求少 D. 人口不足, 自然增长数量不多

3. 曲靖市城区空间规划布局的优点是

- ①集中布局，地域完整
 - ②山水相连，环境优美
 - ③交通便利，杜绝拥堵
 - ④统筹城乡，边界清晰
- A. ①② B. ①③ C. ③④ D. ②④

我国的粮食生产一直维持紧平衡的状态，随着社会经济发展和不可抗因素冲击，我国的粮食供应呈现不稳定趋势。2020年，国务院办公厅印发《关于坚决制止耕地“非粮化”行为的通知》，指出：“禁止占用永久基本农田种植苗木、草皮等用于绿化装饰以及其它破坏耕作层的植物”，这就是所谓的“退林还耕”政策。据此回答4-6题。

4. 推测我国实施“退林还耕”政策的原因

- ①人口数量增加
 - ②粮食出口供不应求
 - ③新冠疫情冲击
 - ④粮食消费结构多元化
 - ⑤国际形势不稳定
 - ⑥生态环境问题得以解决
- A. ①②③④ B. ①③④⑤ C. ②③④⑤ D. ③④⑤⑥

5. 以下最适宜实施“退林还耕”政策的是

- A. 水土流失、沙漠化严重的生态脆弱区
- B. 粮食主产区的中低产田
- C. 坡度大于25°的坡耕地
- D. 基本农田保护区的经济林、绿化苗木

6. 我国“退林还耕”政策实施后，会带来

- A. 粮食进口量减少
- B. 农业用地面积增加
- C. 粮食出口量增加
- D. 农业人口数量增加

2023年3月，中国南方和北方均出现极端反常天气。读“3月23日14点亚洲部分地区海平面等压线分布图（单位：百帕）”，完成7-9题。

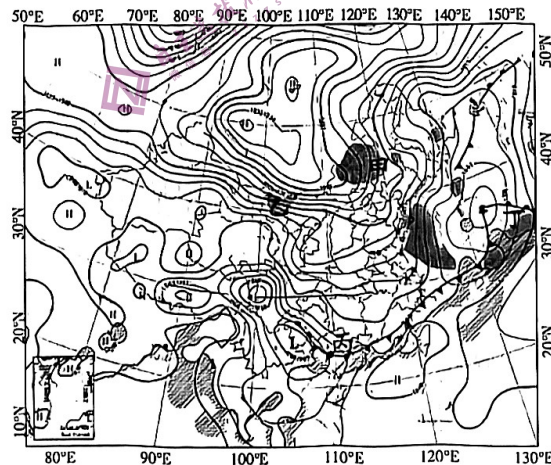


图2（阴影填充区为六级以上大风区；斜线为湿度大的区域）

7. 图示时刻，对各地天气现象描述正确的是

- A. 甲可能发生沙尘暴，沙源为新疆
- B. 乙可能发生强降水，诱发泥石流
- C. 丙可能出现冰雹，威胁农业安全
- D. 丁可能正在降雪，出现冰雪樱花

8. 3月23日, 云南东北部最可能出现的天气现象是
- A. 晴朗
B. 冻雨
C. 降雪
D. 浓雾
9. 对我国今年3月极端反常天气多发原因的推测, 不正确的是
- A. 南北温差大是天气复杂多变的主要原因
B. 全球气候变暖是天气反常的直接原因
C. 大陆气团与海洋气团势力强度发生转换
D. 农业等部门要防范倒春寒和强对流天气

海南岛是我国南海西北部岛屿, 新加坡位于马来半岛南部。同为海岛, 海南岛淡水丰富, 新加坡淡水资源较为贫乏。图3为海南岛等高线及某月等温线示意图(虚线为等温线, 实线为等高线), 图4为新加坡地理位置示意图。据此完成10~11题。

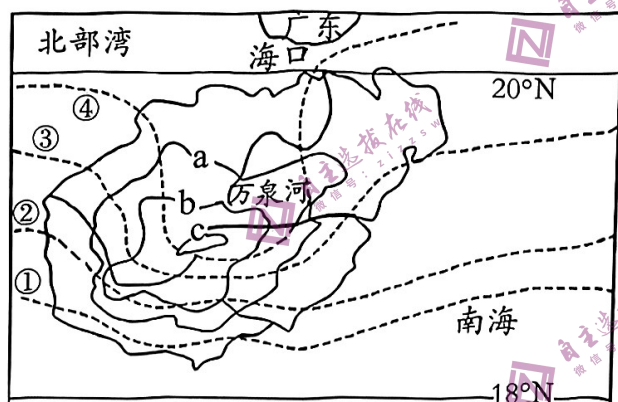


图3

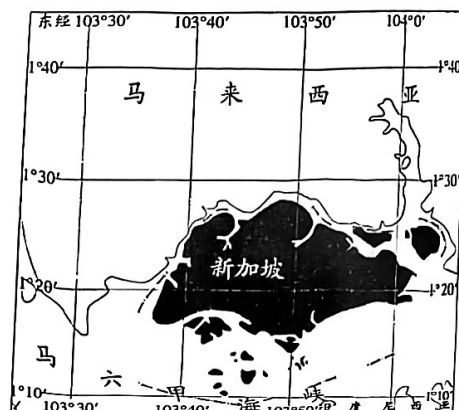


图4

10. 图3所示季节, 下列现象描述正确的是
- A. 万泉河河口海域盐度较低
B. 万泉河河水靠积雪融水补给
C. 万泉河处于一年的枯水期
D. 万泉河河水含沙量较大
11. 与新加坡相比, 海南岛淡水资源丰富的自然原因是
- A. 雨季来得早走得晚
B. 对水资源的需求量少
C. 年降水量大于新加坡
D. 有较多的河流和湖泊
12. 习近平新时代中国特色社会主义思想以一系列原创性治国理政新理念新思想新战略, 科学回答了中国之问、世界之问、人民之问、时代之问, 实现了马克思主义中国化时代化新的飞跃。可见, 马克思主义
- ①是开放的理论, 实践的理论
②反映了新时代, 回答时代之问
③坚持人民立场, 是人民的理论
④是科学之科学, 解决时代问题
- A. ①③
B. ①④
C. ②③
D. ②④

13. 二十大报告指出：从现在起，中国共产党的中心任务就是团结带领全国各族人民全面建成社会主义现代化强国、实现第二个百年奋斗目标。全面建成社会主义现代化强国应该
- ①以中国式现代化推进中华民族伟大复兴
②始终坚定不移开创中国特色社会主义道路
③牢记改革开放是新时代我国发展壮大的基本国策
④牢记团结奋斗是中国人民创造历史伟业的必由之路
- A. ①③ B. ①④ C. ②③ D. ②④
14. 日前，教育部办公厅、工业和信息化部办公厅、国家知识产权局办公室联合印发《关于开展“千校万企”协同创新伙伴行动的通知》，将有组织地推动 1000 所以上高校支撑服务 10000 家以上企业高质量发展，推进实施一批高校专利开放许可项目、培育孵化一批专精特新中小企业。“千校万企”协同创新伙伴行动
- ①要发挥有效市场和有为政府的作用 ②旨在确保专精特新中小企业的效益
③是落实创新引领发展的具体行动 ④说明我国以企业高质量发展为中心
- A. ①② B. ①③ C. ②④ D. ③④
15. 全体人民共同富裕是中国式现代化的重要特征，也是本质要求之一。推进新型城镇化必须坚持和体现这个重要特征和本质要求，推进新型城镇化就要
- ①发展实体经济，建设现代化经济体系 ②重视初次分配，提高最低工资标准
③坚持城乡融合发展，城乡互补互促 ④提高城市治理水平，增进民生福祉
- A. ①② B. ①③ C. ②④ D. ③④
16. 党的十八大以来，我们之所以能战胜一个又一个风险挑战，推动经济发展质量和效益全面提升，续写经济快速发展和社会长期稳定“两大奇迹”，最根本的原因是有以习近平总书记为核心的党中央领航掌舵，有习近平新时代中国特色社会主义思想科学指引。这表明
- ①习近平新时代中国特色社会主义思想开创了中国的马克思主义
②习近平新时代中国特色社会主义思想为新时代发展提供了根本遵循
③坚持党的领导是中国特色社会主义事业兴旺发达的根本政治保证
④党中央以满足人民日益增长的美好生活需要为出发点和落脚点
- A. ①③ B. ①④ C. ②③ D. ②④
17. 目前全国人大常委会法工委在全国 31 个省（自治区、直辖市）设立了 31 个基层立法联系点，辐射带动全国各地设立了 5500 多个基层立法联系点，形成了国家级、省级、市级联系点三级联动的工作格局。这些联系点已经成为让基层声音原汁原味抵达国家立法机关的“直通车”。设立基层立法联系点
- ①顺应了立法机关民主立法、科学立法、高质量立法的需求
②体现了基层民众的立法参与权、是全过程人民民主的实践

③在立法中增加了基层人大代表，更能广泛地反映群众意愿

④是发展社会主义民主政治的要求，人民直接行使国家权力

A. ①②

B. ①③

C. ②④

D. ③④

18. 2023年2月13日，中央一号文件《中共中央 国务院关于全面推进乡村振兴重点工作的意见》由新华社授权发布。文件强调，必须坚持不懈把解决好“三农”问题作为全党工作重中之重，举全党全社会之力全面推进乡村振兴，加快农业农村现代化。要立足国情农情，体现中国特色，建设供给保障强、科技装备强、经营体系强、产业韧性强、竞争能力强的综合性农业强国。材料说明

①“三农”问题的解决须遵循社会发展的基本规律

②加快农业农村现代化要抓住主要矛盾的主要方面

③使发挥主观能动性成为实现乡村振兴的重要基础

④解决好“三农”问题对推进乡村振兴有关键作用

A. ①③

B. ①④

C. ②③

D. ②④

19. 伟大的事业，孕育了伟大的延安精神。2022年10月27日，习近平总书记带领中共中央政治局常委瞻仰延安革命纪念地时强调，要弘扬延安精神，坚定历史自信，增强历史主动。弘扬延安精神

①要坚定马克思主义的理想信念，引领中华民族继续前进

②丰富了民族精神的时代内涵，为强国建设提供精神动力

③说明延安精神集中体现了中华民族的整体风貌和精神特征

④有利于鼓舞中国人民团结奋斗，是中华民族精神的核心

A. ①②

B. ①④

C. ②③

D. ③④

20. 2023年是“一带一路”倡议提出十周年。自共建“一带一路”倡议提出以来，非洲国家踊跃参与。目前，53个同中国建交的非洲国家中，有52国以及非盟委员会已经同中国签署共建“一带一路”的合作文件。“一带一路”合作项目在对接非洲自身发展需要和规划的同时，不仅帮助非洲增强自身“造血”功能，也为相关国家产业升级和发展奠定了坚实基础。这表明

①“一带一路”建设体现了我国以维护沿线各国共同利益为出发点

②“一带一路”建设是推动构建人类命运共同体的重要实践平台

③“一带一路”是中国主动参与和推动经济全球化进程的有力举措

④“一带一路”目的在于发展中国家更好利用国内国际资源和市场

A. ①③

B. ①④

C. ②③

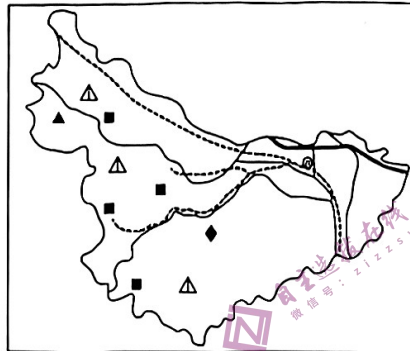
D. ②④

21. 2023年3月30日，上海合作组织睦邻友好合作委员会会员大会暨理事会会议在钓鱼台国宾馆芳菲苑召开。十年来，睦委会始终坚持党的全面领导，坚持以习近平新时代中国特色社会主义思想为指导，深入贯彻落实习近平外交思想，围绕外交大局，服务元首外交，发挥民间外交优势，促进民心相通，为推动上合组织发展作出了积极贡献、发挥了独特作用。下列对此分析正确的是
- ①上海合作组织是一体化程度最高的政府间的区域性国际组织
 - ②中国展现负责任大国形象，为世界和平发展贡献智慧和力量
 - ③上海合作组织的宗旨是促进建设良好和可持续的商业环境
 - ④发挥睦委会的作用，有利于实现上海合作组织的宗旨
- A. ①③ B. ①④ C. ②③ D. ②④
22. 以“葛优躺”为关键词在中国裁判文书网检索发现，截至2023年3月22日，与之相关的民事案件判决文书共600份，案由均是葛优起诉企业使用“葛优躺”照片侵犯其肖像权，葛优胜诉率达99.6%。下列说法正确的是
- ①涉事企业侵犯了葛优的人格权，应立即停止侵害
 - ②涉事企业侵犯了葛优的肖像权，应承担违约责任
 - ③涉事企业若不服法院一审判决，有权行使上诉权
 - ④涉事企业作为民事案件的被告，有权委托辩护人
- A. ①② B. ①③ C. ②③ D. ③④
23. 正确的推理要合乎逻辑规则。下列推理合乎逻辑规则的是
- ①如果今天不下雨，我们就跑操。我们跑操了，所以今天一定没下雨。
 - ②课间休息时，我们或者聊天，或者听音乐。我们聊天了，所以我们没有听音乐。
 - ③虽然今天下雨了，但是我还得去上学。所以，今天我得去上学。
 - ④只有努力学习，高考才能金榜题名。你高考金榜题名，所以你肯定努力学习了。
- A. ①② B. ①④ C. ②③ D. ③④
24. “收族”是西周到春秋时期宗法制中的重要现象，即大宗宗子如果没有亲生儿子，就需要从同族同宗中收养族人的“支子”作为自己的继承人，这种现象被称为“收族”。由此可知，周代的“收族”现象
- A. 背离了嫡长子继承制原则
 - B. 维护了宗族集团的稳定
 - C. 实践“家国同构”的特点
 - D. 加快了宗法制走向瓦解
25. 胡饼（类似今天的烧饼）是由西域传入中原地区的烤制面食，味道香美且易于携带。魏晋时期，无论是在大都市还是在边远乡村，胡饼都深受民众青睐。据《晋书》记载，王羲之被权臣选为女婿时，就正躺在胡床上大嚼胡饼。据此推断，魏晋时期
- A. 各民族之间发展较均衡
 - B. 汉族文化辐射西域各族
 - C. 民族交融趋势不断加强
 - D. 少数民族习俗渐趋开放

第二部分

36. 阅读材料，完成下列要求。（28分）

孝义市位于山西省西部，20世纪90年代矿产资源开采及初级加工曾是全市的经济支柱。2009年被列入全国第二批资源枯竭型城市名单后，孝义市开始推动全面转型。基础设施的改建、传统工业的改造、风力发电的实施、特色农业及旅游业的发展促进了产业和能源结构的优化。现在，孝义市正朝着十四五规划“经济发展取得新成效、生态文明建设实现新进步”的目标前进。



图例◎孝义市政府所在地 - - - 铁路 - 国道 — 高速公路
△铝土矿 ◆石膏 ▲铁矿 ■煤矿

图5 孝义市矿产资源分布图

(1) 简述20世纪90年代孝义市矿产资源开发及加工迅速发展的原因。（6分）

(2) 从区域发展角度，简述孝义市第二产业改进的措施。（8分）


(3) 分析风能产业对孝义市能源结构优化的作用。（6分）

(4) 孝义市要实现“经济发展取得新成效、生态文明建设实现新进步”的目标，你有什么建议，请谈谈你的看法。（8分）

37. (28分) 阅读图文材料, 完成下列要求。

材料一:

夷平面是指原本高低起伏的地表, 被外力侵蚀夷平后, 形成的相对平缓的地面。夷平面概念来源于美国地貌学家提出的地貌侵蚀循环理论, 理论认为: 陆地地形的演化是抬升—侵蚀—夷平的周而复始的运动; 地壳抬升使陆地海拔升高, 但也导致侵蚀加剧, 侵蚀又使陆地变低, 二者力量的博弈塑造了各种地貌形态; 在每一次理想的循环中, 地貌发育都有四个阶段(如图所示); 一个新夷平面的形成, 需要经过地壳快速抬升阶段和地壳长期稳定阶段。



材料二:

青藏高原面积广大(约270万 km^2), 由古老的夷平面整体快速抬升到目前高度仅数百万年。高原腹地保留了大面积的平缓高原面—夷平面, 仅在高原向周边低地过渡的喜马拉雅山脉、横断山脉、昆仑山脉等地, 广泛出现被深切的地貌。

- (1) 描述地貌侵蚀循环各阶段的地貌特点。(8分)
- (2) 说明“地壳快速抬升”和“地壳长期稳定”在夷平面形成中的作用。(8分)
- (3) 简析青藏高原腹地大面积分布古夷平面的原因。(6分)
- (4) 简析青藏高原边缘广泛出现深切地貌的原因。(6分)

38. 阅读材料，回答下列问题。（10分）

自2020年12月26日全国人大常委会通过长江保护法以后，我国便拉开了流域保护立法的大幕。长江保护法颁布后不到两年时间，2022年10月30日，黄河保护法也得以通过和公布。流域保护立法为江河流域综合治理和协同治理提供了保障，是贯彻落实习近平总书记亲自谋划、亲自部署的长江经济带发展、黄河流域生态保护和高质量发展等区域重大战略的关键举措。

我国原有的环境与资源保护法律，只能解决在一定行政管辖区域内的生态环境保护、资源开发利用和保护问题，无法解决在整个流域内跨行政区的生态环境系统性、整体性、协同性保护问题。过去没有制定和难以出台流域保护立法的一个重要原因是流域保护立法涉及范围广、协调难度大。流域保护立法作用的发挥，关键在于法律的执行和遵守，需要相关企业、个人等多个主体的共同努力。

结合材料，运用《政治与法治》的知识，说明怎样才能使流域保护立法发挥应有的作用？

39. 阅读材料，回答下列问题。（10分）

习近平总书记强调，“要坚持到群众中去、到实践中去，倾听基层干部群众所想所急所盼，了解和掌握真实情况”。近日，中共中央办公厅印发了《关于在全党大兴调查研究的工作方案》强调指出“调查研究是我们党的传家宝”，要求“大力弘扬党的光荣传统和优良作风”“继承和发扬老一辈革命家深入基层调查研究的优良作风”。

在强国建设、民族复兴的新征程中，党员干部把调查研究作为走好群众路线的必修课，就要识民情、接地气，真正把群众面临的问题发现出来，把群众的意见反映上来，把群众创造的经验总结出来，为党和国家事业发展凝心聚力。使调查研究工作同中心工作和决策需要紧密结合起来，提高决策科学化水平。不断研究新情况、解决新问题、总结新经验、探索新规律。衡量调查研究开展得好不好，最终要看成效。

结合材料，运用实践是认识的基础的知识阐述在全党大兴调查研究的原因。

40. 阅读材料，回答下列问题。（10分）

2023年3月15日，中共中央总书记习近平在北京出席中国共产党与世界政党高层对话并发表主旨讲话，习总书记指出：任何国家追求现代化，都应秉持团结合作、共同发展的理念，走共建共享共赢之路。走在前面的国家，应该真心帮助其他国家的发展。吹灭别人的灯，并不会让自己更加光明。阻挡别人的路，也不会让自己行的更远。中国式现代化，不走殖民掠夺的老路，也不走国强必霸的歪路，走的是和平发展的人间正道。

结合材料，运用《当代国际政治与经济》的知识说明上述观点。

41. 阅读材料。回答下列问题。（12分）

习近平总书记强调：“家风是一个家庭的精神内核，也是一个社会的价值缩影。”

曾某彬（男）与曾某泉、曾某军、曾某民三人系父子关系，孙某（女）与李某系母子关系。2008年，李某30岁时，曾某彬与孙某登记结婚。2019年，曾某彬去世，留有一处夫妻二人在2010年购置的房产。李某要求继承。曾某彬生前十余年一直与孙某、李某共同在李某所有的房屋中居住生活。曾某彬患有尘肺病，孙某患有（直肠）腺癌，李某对曾某彬履行了赡养义务。曾某泉三兄弟主张李某在曾某彬与孙某结婚时已经成年，双方未形成扶养关系，故李某不具有上述房产的继承权。

（1）如果你是法官，是否支持曾某泉三兄弟的主张？结合材料，运用《法律与生活》的知识说明理由（7分）。

(2) 结合材料, 运用《法律与生活》的知识, 说明该房产应如何继承。(5分)

42. (10分)

拿破仑·希尔的成功学提出: 设定一个合适的目标就等于达到了目标的一半。毫无疑问, 你的目标一旦设定, 成功就会容易多了。很多人经常会为自己制定目标, 但能够坚持下来的却很少。一个重要的原因是我们在规划目标时陷入了思维陷阱。

设定目标时必须牢记, 有时候我们可能会面临无法控制的情况而很难前进。因此, 制定计划时多准备一套预案非常重要。目标是处于未来时空的, 而未来瞬息万变、不可预测。因此, 设定的目标也不可太死板, 要有一定的弹性, 来顺应未来的变化。目标是你想要的东西, 至于方式和过程是怎么样的都是次要的, 可以根据情况的不同而进行调整和改变。你的眼光不要过于局限, 那样只会扼杀掉其他机遇和可能性。

结合材料, 运用创新思维知识, 说明如何跳出思维陷阱, 到达成功彼岸。(10分)

43. 阅读材料，回答问题。（25分）

材料

政党政治是现代政治的标志，政党制度在国家权力配置和运行中居于主导地位。一个国家的政党制度，是在特定的政治、经济和社会文化环境下自然“长成的”。西方自文艺复兴和宗教改革后，社会思想得到了极大解放，涌现出一大波资产阶级思想学说，孕育了一批又一批政治家和革命家，在自由化、民主化、平等化的浪潮中，形成了现代资产阶级意识体系，为西方国家政党制度的形成奠定了文化基础……中国特色政党制度是历史发展的产物，钱穆先生曾说：“中国文化的伟大在于求同存异，在于调和，在于兼容并蓄。”中国特色政党政治制度历经70年风雨洗礼，劈波斩浪，依然永葆活力与生命力。

——摘编自王越签《中西比较视域下中国政党政治制度优势的原因分析》

(1) 根据材料并结合所学知识，分析中西政党政治制度产生的历史背景。（12分）

(2) 根据材料并结合所学知识，简要评价中国特色政党制度。（9分）

(3) 根据上述材料并结合所学知识，从中我们得到的启示。（4分）

44. 阅读材料，回答问题。（12分）

材料

什么是“中世纪”？这个概念直到启蒙运动时才使用，指的是在西方文明的发展中，有一个光辉灿烂的古代，又有一个光芒四射的现代：一个如朝日初升，喷薄耀眼；一个如骄阳中天，辉煌万丈。真是好极了！但是在光辉灿烂的古代和光芒四射的现代之间，却有一个没有光明、没有阳光，一切都停滞、糟糕落后的时代，这个时代延续了一千年之久。一千年的黑暗是可耻的，为伏尔泰这样的启蒙思想家所不耻，他们把这个时候叫做“中”世纪，也就是处在“光芒”和“光辉”中间的那一段时间。这个时期被西方人视为奇耻大辱，为启蒙运动以后所嗤之以鼻，被称为“黑暗的中世纪”。不过我们今天已经意识到，其实中世纪也有许多变化和“进步”。

——摘编自钱乘旦《西方那一块土》

阅读材料并结合所学知识，请任选一个角度，阐述你对欧洲中世纪的看法。（要求：角度明确，论证充分，史论结合，条理清晰。）

45. 阅读材料，回答问题。（15分）

材料

宋政府主导构建了有利于满足不同医药需求的药业运行体系，推进古代药业发展迈入兴盛时期。宋代的药物利用不再被局限在少数人范围内，而是将官方与民间的生产生活广泛联系起来。在构建药业运行体系的过程中，宋朝统治者以富国惠民为初衷，不断革新中央与地方药业相关机构的职能设置，给予了民间药市更加广泛的发展空间。此外，宋代地方药局以私募力量为主，具有较大自主性，有利于政府主导下的药业体系具有深入的社会影响。宋政府注重医药事业，不仅大力进行各类本草、方药著述的校勘及传播，也搜集了许多药物利用实践经验。医家还逐步打破对药物类别的传统认知。宋代药业的兴盛，从深层次上讲有赖于越来越多儒释道群体的共同关注。宋代士人是推动药业持续发展的重要力量，他们由儒入医，不仅关注医药理论，更潜移默化地影响着医药市场的发展面貌。另一方面，随着儒释道思想的互鉴与融合，宋代诗人对道家、寺僧医药活动的记载，有力地推动了道家神祇和佛家寺院真正融入了民间社会的医药信仰之中。

——摘编自杨小敏《宋代药业研究》

（1）根据材料并结合所学知识，归纳宋代药业兴盛的主要特征。（6分）

（2）根据材料并结合所学知识，分析宋代药业兴盛的主要原因。（9分）