

绝密★启用前

2022 届全国高三第一次学业质量联合检测

历史

本试卷 8 页。总分 100 分。考试时间 90 分钟。

注意事项：

- 答卷前，考生务必将自己的姓名、准考证号填写在答题卡上。
- 回答选择题时，选出每小题答案后，用铅笔把答题卡上对应题目的答案标号涂黑。如需改动，用橡皮擦干净后，再选涂其他答案标号。回答非选择题时，将答案写在答题卡上。写在本试卷上无效。
- 考试结束后，将本试卷和答题卡一并交回。

一、选择题：本题共 20 小题，每小题 2 分，共 40 分。在每小题给出的四个选项中，只有一项是符合题目要求的。

- 春秋时期，贵族卿大夫对“礼”进行改造，“威仪”和“礼”逐渐分立，各自承担着不同的功能，他们并不看重“礼”的威仪方面的内容，更注重“礼”所具有的社会规范作用。这反映了春秋时期
 - 礼崩乐坏的社会现实
 - 贵族群体的内部分化
 - 诸侯争霸的政治局面
 - 礼制政治效用的强化
- 秦国统一六国以前，主要采用军功入仕制，并辅以客卿入仕和由吏入仕（客卿：外来人才；吏：官府里面的底层办事人员）。秦统一后，由吏入仕成为秦人入仕的主要通道。此变化
 - 体现了统治者治国思想的改变
 - 反映了经济社会发展的需要
 - 顺应了巩固政权对人才的需求
 - 说明了人才选拔制度的成熟
- 晋元帝司马睿重用刘隗、刁协抑制王氏兄弟之举引发了王敦的叛乱，叛乱以“清君侧”为名得到士族的普遍支持，晋元帝组织军队平叛大败。但此后王敦再叛，欲取代司马氏而独吞江左，又因士族的共同反对而告失败。这说明
 - 皇权与士族矛盾是当时主要矛盾
 - 门阀士族势力僭越了皇权体制
 - 一定条件下皇权政治结构的平衡
 - 士族集团内部矛盾的反复激化
- 表 1 为唐朝前期人口增长数量与后人考证情况对比表。以下推断正确的是

表 1

唐朝纪年	公元纪年	跨越年度	史书记载户口数		考证人口数	年均增长率(%)
			户数	口数		
高祖武德七年	624 年		2 000 000	—	15 375 920	—
太宗贞观十三年	639 年	15	3 080 000	13 280 000	17 789 583	9.70
高宗永徽三年	652 年	13	3 800 000	—	20 900 000	12.37
中宗神龙元年	705 年	53	6 156 141	37 140 000	40 850 000	12.19

天舟高考

续表

唐朝纪年	公元纪年	跨越年度	史书记载户口数		考证人口数	年均增长率(%)
			户数	口数		
玄宗开元二十八年	740年	35	8 412 871	48 443 609	64 000 000	12.62
玄宗天宝十四年	755年	15	8 914 709	52 919 309	74 250 000	9.89

- A. 唐朝前、中期农业经济持续发展
B. 史料记载数据比后期考证更准确
C. 经济重心南移促使人口持续增长
D. 安史之乱导致人口数量增长放缓
5. 《东京梦华录》里有这样的记载：“及有素分茶，如寺院斋食也。”宋朝时，素茶成为独立的菜系流行于市肆上，而且还出现了专门的素食餐馆。这一现象
- A. 改变了宋朝民众的饮食结构
B. 导致了宋朝农业的迅速发展
C. 强化了佛教文化传播的影响
D. 反映了宋朝商品经济的繁荣
6. 王守仁弟子王畿将“良知”解释为“信得良知过时，独往独来，如珠之走盘，不待拘管，而自不过其则也”。其观点
- A. 具有强烈的主观感性色彩
B. 与王守仁的观点背道而驰
C. 说明当时各种思想的活跃
D. 体现当时市民阶层的兴起
7. 图1是据当时记载绘制的福州船政学堂附属电报学堂中，洋教习给中国学生讲课的场景。这表明洋务运动



图1

- A. 是中国迈向近代化的起点
B. 将引进技术与培养人才结合
C. 建设海军的努力确有实效
D. 以“中体西用”为其指导思想
8. “自□□以后，才引起普遍的革命运动，因为有了青年运动的力量，才能够普遍而深入到社会的各阶级，汇成为国民革命的运动。”文中“□□”处恰当内容应为
- A. 辛亥革命
B. 新文化运动
C. 五四运动
D. 国民革命
9. 中国近代某货币上绘制了镰刀、锤子、五角星等图案，纸币上还有列宁头像。这反映出该时期
- A. 全国已经实现统一
B. 中共探索革命道路
C. 国共开始战略决战
D. 金融货币制度成熟
10. 长篇小说《太阳照在桑乾河上》于1948年出版，书中描写了1946年华北解放区土地改革运动初期的情况。小说通过描写暖水屯一个普通村庄的土地改革运动，生动地反映了农村尖锐复杂的阶级斗争，揭示出不同阶级的精神状态。这表明
- A. 作者现实主义的写作风格
B. 作者致力于农村题材创作
C. 文学创作常常具有超前性
D. 优秀作品体现真实的生活

11. 图 2 是我国社会主义革命和建设时期(1953—1978 年)GDP 及其增长率变化示意图。这表明

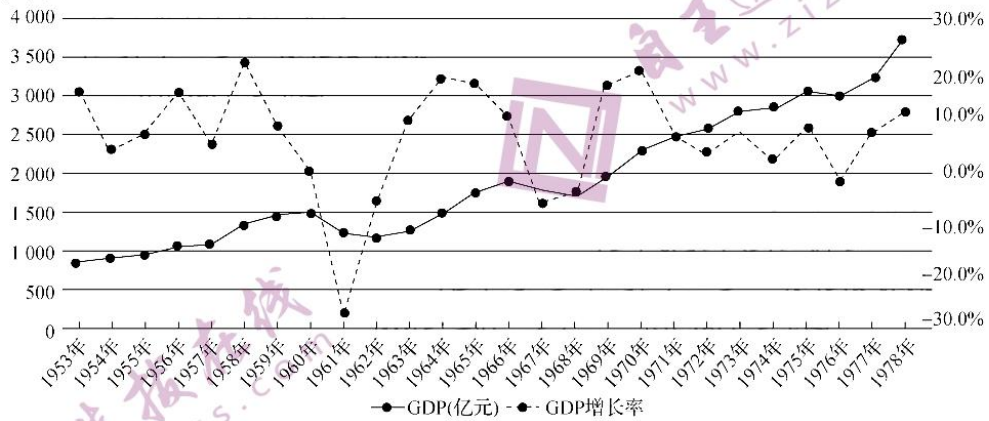


图 2

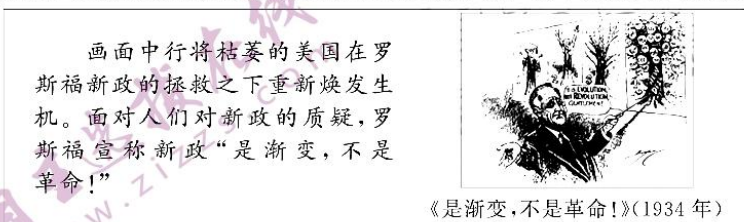
- A. 经济指标一直持续向好
B. 经济发展深受国内外形势影响
C. 经济政策调整作用明显
D. 人民群众的经济建设热情高涨
12. 图 3 为 1979 年元旦《人民日报》的头版内容。这体现出新的一年党和国家工作的中心是



图 3

- A. 经济建设
B. 政策调整
C. 和平发展
D. 改善外交
13. 2008 年, 中国政府第一次提出了“人文外交”的概念, 指出“要大力开展人文外交, 积极扩大对外文化、体育、旅游等领域合作和民间交流”。这折射出中国
- A. 外交方针发生了变化
B. 全方位外交的理念
C. 外交向务实方向转变
D. 重视传播中华文化
14. 凡是优秀的公民, 首先要有强健的身体, 这是古希腊一直普遍认可的观点。这主要是因为古希腊
- A. 有崇尚体育运动的传统
B. 公民承担保卫城邦责任
C. 医疗卫生条件得到改善
D. 艺术体育教育比较发达
15. 1214 年, 法国在与神圣罗马帝国的布汶战役中以少胜多, 获得大捷。整个 13 世纪, 这一事件在法兰西的历史和记忆中不断被重塑, 尤其是战役领导者法国国王腓力二世的形象不断被神化。布汶战役演化为传奇体现了
- A. 法国资本主义经济发展的需要
B. 中世纪欧洲国际关系格局变化
C. 法兰西的历史客观真实性存疑
D. 王权强化与民族国家初露端倪

16. 启蒙运动第一次把人的利益放到了最前面,让人类可以享有自由、平等权利,“天赋人权”的主张就是其直接体现。这
- A. 提供了资产阶级革命的理论来源 B. 指明了资产阶级政权的建立方式
C. 体现了人民利益至上的思想主张 D. 继承了文艺复兴关于人性的主张
17. 狄更斯小说《穷人的专利权》中,老工人约翰为了给自己的一个发明申请专利,总共经历了三十六道手续,与各色人等打交道,用时近两个月,花费近百英镑(相当于当时一个高级技术工人三年的所有收入)。文中约翰的朋友点评道:“申请专利的过程就是使一个人成为宪章派的捷径。”这种状况主要反映了当时英国
- A. 工人工资收入极低 B. 社会制度依然落后
C. 社会等级观念分明 D. 政府体制运行弊端
18. 图4漫画是以美国罗斯福总统拯救经济危机为主题创作的。图中解说词体现出罗斯福新政



- 图4
- A. 使美国消除了经济危机 B. 开创了经济新模式
C. 改变了美国的社会性质 D. 措施得到人民支持
19. 联合国五大常任理事国有“一票否决权”。1946年至1991年苏联共使用110次,多数是为报复美国,拒绝接受美国提议的新成员。由于过度使用,当时苏联的外交部长也被称为“摇头先生”。这体现了
- A. 美苏的关系持续紧张 B. “冷战”的特点
C. 苏强美弱的国际格局 D. 美苏外交均势
20. 20世纪90年代以来,当跨国公司把一种全新产品打入一个国家时,它面临的挑战是如何在这个国家中创造一个新的市场。这需要适应或改变消费者的偏好或口味,使他们接受这种产品,这也是一种“跨文化交流”。这表明
- A. 跨国公司推动世界市场形成 B. 经济全球化促进文化交流
C. 国际贸易经营规模不断扩大 D. 经济全球化要求文化创新

二、非选择题:共60分。第21~23题为必考题,每个试题考生都必须作答。第24~26题为选考题,考生根据要求作答。

(一)必考题:共45分。

21. 阅读材料,完成下列要求。(14分)

材料

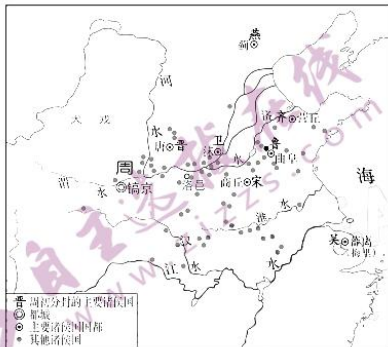


图5 西周形势图

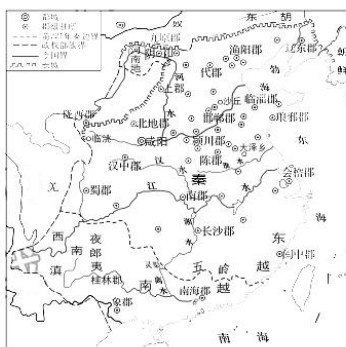


图6 秦朝形势图

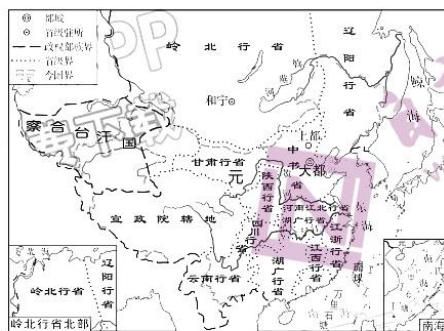


图7 元朝形势图(1330年)

以上三幅图片体现了中国古代不同时期的地方管理制度。任选两幅图，简析其代表的两个时期地方管理制度的变化。(要求:史论结合,论证充分,表述清晰。)

22. 阅读材料,完成下列要求。(15分)

材料

1952年《小学暂行规程(草案)》指出:“劳作在各科教学的实验、实习中和课外另定时间教学,不列于教学科目内。”1950年至1955年教育部颁发的五个课程计划都只在高中阶段设置了“制图”课,制图内容主要是与工农业建设有关的各种图样。这一阶段的“劳作”和“制图”课没有单独的学科和教学内容。

1981年教育部颁发的《关于制订全日制六年制重点中学教学计划试行草案的几点说明》首次提出:“中学阶段开设劳动技术课,进行劳动技术教育,使学生既能动脑,又能动手,手脑并用,全面发展。”1988年我国开设德育,取代过去的思想政治教育,劳动教育也被列入德育内容。

1992年8月教育部颁发《九年义务教育全日制小学、初级中学课程计划》,在小学阶段设置“劳动”课,在中学阶段设置“劳动技术”课,使学生“通过自我服务劳动、家务劳动、公益劳动和简单的生产劳动,初步掌握一些基本的劳动知识和技能,培养正确的劳动观念、良好的劳动习惯、热爱劳动和劳动人民的感情”。

2001年5月国务院颁布《关于基础教育改革与发展的决定》,提出“教育必须与生产劳动和社会实践相结合”。6月教育部颁发的《基础教育课程改革纲要(试行)》规定:“小学至高中设置综合实践活动课并作为必修课,综合实践活动课包括信息技术教育、研究性学习、社区服务与社会实践以及劳动与技术教育。”

——摘编自艾兴、李佳《新中国中小学劳动教育课程设置:演变、特征与趋势》

- (1)根据材料并结合所学知识,归纳我国中小学劳动教育课程设置演变的特征。(8分)
- (2)根据材料并结合所学知识,分析中小学劳动教育课程设置的作用。(7分)

23. 阅读材料,完成下列要求。(16分)

材料一

当杰弗逊出任第三任美国总统期间,他的政府首次组织了大规模的科学考察计划,为科学活动拨专款,承认科学研究的自主性,尊重科学家。美国在科技发展的过程中逐渐形成了“工厂中心实验室”体制,在这种体制下,科学家跳出了纯科学的圈子,从大学实验室走出来到企业工作,寻找科学应用于技术的道路。在1860—1914年间,美国的科学活动已向组织起来的集体形式发展。1915年美国国会批准建立了国家航空咨询委员会,这是政府建立的第一个军事研究机构。1940年,罗斯福总统在参战前夕大力动员国家的科学技术资源,为此采取一系列集中化的组织措施,先后组建了国家国防委员会和科学研究与发展局,战后美国的工业和大学系统的科学技术研究工作都有突飞猛进的发展,它们成了美国两支巨大的科学技术研究系统。

——据夏源《国外科技体制的历史演变》整理

材料二

1970年4月,勃列日涅夫第一次提出了经济发展战略。苏联通过组建科学生产联合公司的形式,对科技进步实行统一计划领导,消除了研究和采用新技术各阶段的裂痕,缩短“科研—生产”周期。1979年7月通过的新决议规定,所有工业部门都要在部一级建立科技发展统一基金,基金的来源由企业和联合公司生产经营活动的利润提成建立。戈尔巴乔夫执政后,苏联进一步提出了改革科研体制,加速科技进步的措施。为了迅速发展信息业和计算机生产,苏联设立国家计算技术和信息学委员会,综合、协调地加速发展计算机生产和信息业;调整科研机构的位置,建立跨部门科学技术综合体,下放某些科研和设计机构的领导权,精简科研机构。

——据宁健强《苏联科技体制的发展及其改革》整理

- (1)根据材料一并结合所学知识,概括美国发展科技事业的特点。(6分)
- (2)根据材料二并结合所学知识,归纳苏联科技体制改革的原因。(6分)
- (3)综合材料一、二,谈谈你从美国、苏联推进科技事业发展中得到的启示。(4分)

(二)选考题:共15分。请考生从第24~26题中任选一题作答。如果多做,则按所做的第一题计分。

24. [历史——选修1:历史上重大改革回眸](15分)

材料

《史记·货殖列传》说:“汉兴,海内为一,开关梁,弛山泽之禁。是以富商大贾周流天下,交易之物莫不通,得其所欲。”“弛山泽之禁”的具体内容就是“纵民得铸钱、冶铁、煮盐”。到汉武帝时期,商品经济已较为繁荣,商人资本的显赫财力与国家财政的困窘形成鲜明对比。汉武帝发动战争、大兴土木,造成国家财政收入不敷出。元狩三年(公元前120年),御史大夫张汤“承上旨”,请求“筦天下盐铁”。汉武帝于是起用盐铁大商出身的桑弘羊、孔仅、东郭咸阳等人,于元狩四年对盐铁实行专卖,建立起了一套完整的官产—官运—官销的专卖制体系。

在封建社会,由于统治阶级过度奢侈消费,财政压力较大,同时专制权力又没有必要的约束,所以,通过专卖聚财敛财的特性就表现得更为明显和充分,以致常常淹没了国家对社会经济发展实行干预和调控这一重要目的。……在商品经济发展已达到相当水平时,国家的专卖制度必然破坏市场规则和商品经济发展的环境。

——据林文勋《中国古代专卖制度的源起与历史作用——立足于盐专卖制的考察》整理

- (1)根据材料并结合所学知识,概括汉武帝实行盐铁专卖制度的背景。(7分)
- (2)根据材料并结合所学知识,简析封建社会盐铁专卖制度的作用。(8分)

25. [历史——选修3:20世纪的战争与和平](15分)

材料

奥地利记者克劳斯认为:“欧洲的各次战争都是由一些外交官引起的,他们先是对记者们撒谎,然后他们又相信了在报纸上看到的一切。”

20世纪90年代以来,以美国为首的北约先后打响了四场现代局部战争。在这四场战争中,舆论战作为信息化战争时期的一种作战模式,是达成国家战略目的不可或缺的重要手段之一。海湾战争中布什亲自签署过三项密令:授权全国舆论工具、情报机构、科研机构、某种心理战专家和东方学家拟订“特殊计划”,编造忽东忽西的“可靠消息”使伊军摸不透多国部队的具体计划与意图。2003年伊拉克战争,人们第一次可以收看战争的电视直播。交战双方也越来越注重发挥媒体的作用,战争越来越具有公开性和透明性。

——摘编自沈绿《美国舆论战在现代局部战争中的特点及策略》

全国卷·历史试题 第7页(共8页)

- (1)根据材料并结合所学知识,指出舆论战在战争中的作用。(7分)
(2)根据材料并结合所学知识,概括20世纪90年代以来现代局部战争的特点。(8分)

26. [历史——选修4:中外历史人物评说](15分)

材料一

凡有诏旨,则命廷玉入内,口授大意,或于御前伏地以书,或隔帘授几,稿就即呈御览。每日不下十数次,皆称旨。蒙恩谕曰:“……曩者奉皇考命,会同大学士办理公事。汝以学士趋蹶(进谒)其间,朕见汝气度端凝,应对明晰,心甚器重之。询之旁人,知为吾张师傅之子。朕心喜曰:‘吾师有子矣!’后闻汝官刑部、吏部皆有令名,更为喜慰。今见汝居心忠赤,办事敬诚,益知为天祖所笃生、皇考所教养,成兹伟器,以辅翊朕躬者也。汝其勉之。”

——据《张廷玉年谱》整理

材料二

大学士张廷玉器量纯全,抒诚供职,其纂修《圣祖仁皇帝实录》宣力独多。每年遵旨缮写上谕,悉能详达朕意,训示臣民,其功甚钜。大学士鄂尔泰……为不世出之名臣。此二人者,朕可保其始终不渝。将来二臣,着配享太庙,以昭恩礼。

——摘编自《清实录》

材料三

上(乾隆帝)以廷玉不亲至,遂发怒,命降旨诘责……廷臣请夺廷玉官爵,罢配享。上命削伯爵,以大学士原衔休致,仍许配享。……廷玉即请南还,上愈怒……上用大学士九卿议,罢廷玉配享,仍免治罪……二十年三月,(廷玉)卒,命仍遵世宗遗诏,配享太庙,赐祭葬,谥文和。

——摘编自《清史稿·列传七十五》

- (1)根据材料一、二,概括张廷玉受皇帝重用的原因。(8分)
(2)综合三则材料,谈谈你如何看待张廷玉“配享太庙”的地位。(7分)

关于我们

自主选拔在线（原自主招生在线）创办于 2014 年，历史可追溯至 2008 年，隶属北京太星网络科技有限公司，是专注于中国拔尖人才培养的升学咨询在线服务平台。主营业务涵盖：新高考、学科竞赛、强基计划、综合评价、三位一体、高中生涯规划、志愿填报等。

自主选拔在线旗下拥有网站门户（官方网址：www.zizzs.com）、微信公众平台等全媒体矩阵生态平台。平台活跃用户达百万量级，网站年度流量超 1 亿量级。用户群体涵盖全国 31 省市，全国超 95% 以上的重点中学老师、家长及考生，更有许多重点高校招办老师关注，行业影响力首屈一指。

自主选拔在线平台一直秉承“专业、专注、有态度”的创办公念，不断探索“K12 教育+互联网+ 大数据”的运营模式，尝试基于大数据理论为广大中学和家长提供中学拔尖人才培养咨询服务，为广大高校、中学和教科研单位提供“衔接和桥梁纽带”作用。

平台自创办以来，为众多重点大学发现和推荐优秀生源，和全国数百所重点中学达成深度合作，累计举办线上线下升学公益讲座千余场，直接或间接帮助数百万考生顺利通过强基计划（自主招生）、综合评价和高考，进入理想大学，在家长、考生、中学和社会各界具有广泛的口碑影响力，2019 年荣获央广网“年度口碑影响力在线教育品牌”。

未来，自主选拔在线将立足于全国新高考改革，全面整合高校、中学及教育机构等资源，依托在线教育模式，致力于打造更加全面、专业的新高考拔尖人才培养服务平台。



微信搜一搜



自主选拔在线