

江苏省 2021 年新高考适应性考试

化 学

注 意 事 项

考生在答题前请认真阅读本注意事项及各题答题要求

1. 本试卷共 6 页, 满分为 100 分, 考试时间为 75 分钟。考试结束后, 请将本试卷和答题卡一并交回。
2. 答题前, 请务必将自己的姓名、准考证号用 0.5 毫米黑色墨水的签字笔填写在试卷及答题卡的规定位置。
3. 请认真核对监考员在答题卡上所粘贴的条形码上的姓名、准考证号与本人是否相符。
4. 作答选择题, 必须用 2B 铅笔将答题卡上对应选项的方框涂满、涂黑; 如需改动, 请用橡皮擦干净后, 再选涂其他答案。作答非选择题, 必须用 0.5 毫米黑色墨水的签字笔在答题卡上的指定位置作答, 在其他位置作答一律无效。
5. 如需作图, 必须用 2B 铅笔绘、写清楚, 线条、符号等须加黑、加粗。

可能用到的相对原子质量: H 1 C 12 N 14 O 16 Na 23 Al 27 S 32 Cl 35.5 K 39
Ca 40 Cr 52 Fe 56 Cu 64 I 127

一、单项选择题: 共 13 题, 每题 3 分, 共 39 分。每题只有一个选项最符合题意。

1. 防治大气污染、打赢蓝天保卫战, 下列做法不应该提倡的是
A. 开发使用清洁能源
B. 田间焚烧秸秆
C. 积极鼓励植树造林
D. 养成低碳生活习惯
2. “中国芯”的主要原材料是高纯单晶硅, 反应 $\text{SiCl}_4(\text{g}) + 2\text{H}_2(\text{g}) \xrightarrow{\text{高温}} \text{Si}(\text{s}) + 4\text{HCl}(\text{g})$ 可用于纯硅的制备。下列有关说法正确的是
A. SiCl_4 为极性分子
B. HCl 的电子式为 $\text{H}:\ddot{\text{C}}\text{l}:$
C. 单晶硅为分子晶体
D. Si 原子的结构示意图为 $\left(+14 \right) \begin{array}{c} 2 \\ 8 \end{array}$
3. 盐在生产、生活中有广泛应用。下列盐的性质与用途具有对应关系的是
A. NaClO 有氧化性, 可用于消毒杀菌
B. NaHSO_3 有还原性, 可用于漂白纸浆
C. NaCl 易溶于水, 可用于工业电解制备钠
D. NaHCO_3 受热易分解, 可用于制抗酸药物

化学试卷 第 1 页 (共 6 页)



阅读下列资料,完成4~6题:氨是一种重要的化工原料,主要用于化肥工业,也广泛用于硝酸、纯碱、制药等工业;合成氨反应为 $N_2(g) + 3H_2(g) = 2NH_3(g)$ $\Delta H = -92.4 \text{ kJ} \cdot \text{mol}^{-1}$ 。实验室用加热 NH_4Cl 和 $Ca(OH)_2$ 固体混合物的方法制取少量氨气。

4. 下列有关氨的说法正确的是

- A. NH_3 的空间构型为平面三角形
 B. NH_3 与 H_2O 能形成分子间氢键
 C. NH_3 的水溶液不能导电
 D. 氨催化氧化制硝酸是利用了 NH_3 的氧化性

5. 下列有关合成氨反应的说法正确的是

- A. 反应的 $\Delta S > 0$
 B. 反应的 $\Delta H = E(N-N) + 3E(H-H) - 6E(N-H)$ (E 表示键能)
 C. 反应中每消耗 1 mol H_2 转移电子的数目约等于 $2 \times 6.02 \times 10^{23}$
 D. 反应在高温、高压和催化剂条件下进行可提高 H_2 的平衡转化率

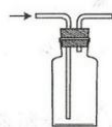
6. 实验室制取 NH_3 时,下列装置能达到相应实验目的的是



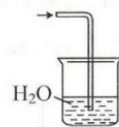
A. 生成 NH_3



B. 干燥 NH_3



C. 收集 NH_3

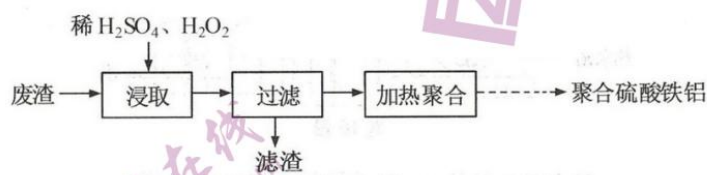


D. 吸收 NH_3 尾气

7. $_{13}Al$ 、 $_{15}P$ 、 $_{16}S$ 、 $_{17}Cl$ 是周期表中的短周期主族元素。下列有关说法正确的是

- A. 元素 Al 在周期表中位于第 4 周期 IIIA 族
 B. 元素 P 的简单气态氢化物的化学式为 PH_4
 C. 第一电离能: $I_1(Al) < I_1(P) < I_1(S)$
 D. 最高价氧化物的水化物的酸性: $H_3PO_4 < H_2SO_4 < HClO_4$

8. 由制铝工业废渣(主要含 Fe、Ca、Si、Al 等的氧化物)制取聚合硫酸铁铝净水剂的流程如下。



下列有关说法不正确的是

- A. 控制适当反应温度并不断搅拌,有利于提高铁、铝浸取率
 B. Al_2O_3 与稀硫酸反应的离子方程式: $Al_2O_3 + 6H^+ = 2Al^{3+} + 3H_2O$
 C. 滤液中主要存在的阳离子有: H^+ 、 Fe^{2+} 、 Ca^{2+} 、 Al^{3+}
 D. 聚合硫酸铁铝水解形成的胶体具有吸附作用

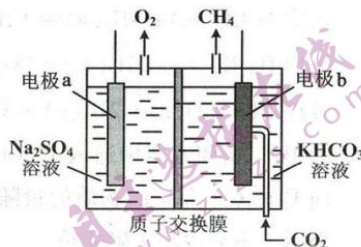
化学试卷 第 2 页 (共 6 页)

9. 利用电解法将 CO_2 转化为 CH_4 的原理如题 9 图所示。下列说法正确的是

- A. 电解过程中, H^+ 由 a 极区向 b 极区迁移
 B. 电极 b 上反应为:

$$\text{CO}_2 + 8\text{HCO}_3^- - 8\text{e}^- = \text{CH}_4 + 8\text{CO}_3^{2-} + 2\text{H}_2\text{O}$$

 C. 电解过程中化学能转化为电能
 D. 电解时 Na_2SO_4 溶液浓度保持不变



题 9 图

10. 葡萄糖的银镜反应实验如下:

步骤 1: 向试管中加入 1 mL 2% AgNO_3 溶液, 边振荡边

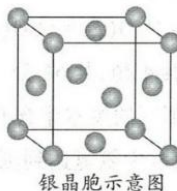
滴加 2% 氨水, 观察到有白色沉淀产生并迅速转化为灰褐色。

步骤 2: 向试管中继续滴加 2% 氨水, 观察到沉淀完全溶解。

步骤 3: 再向试管中加入 1 mL 10% 葡萄糖溶液, 振荡, 在 $60 \sim 70^\circ\text{C}$ 水浴中加热, 观察到试管内壁形成了光亮银镜。

下列说法不正确的是

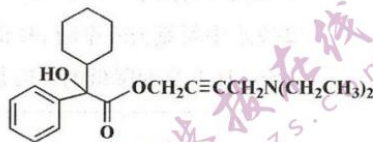
- A. 步骤 1 中观察到的白色沉淀为 AgOH
 B. 步骤 2 中沉淀溶解是因为生成了银氨配合物
 C. 步骤 3 中产生银镜说明葡萄糖具有还原性
 D. 右图所示银的晶胞中有 14 个银原子



银晶胞示意图

11. 奥昔布宁具有解痉和抗胆碱作用, 其结构简式如题 11 图所示。下列关于奥昔布宁的说法正确的是

- A. 分子中的含氧官能团为羟基和羧基
 B. 分子中碳原子轨道杂化类型有 2 种
 C. 奥昔布宁不能使溴的 CCl_4 溶液褪色
 D. 奥昔布宁能发生消去反应



题 11 图

12. 室温下, 通过下列实验探究 Na_2CO_3 溶液的性质。

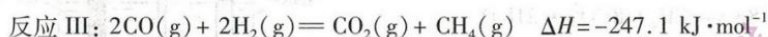
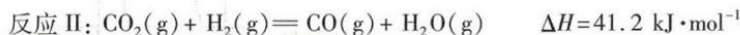
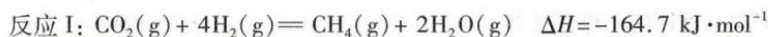
实验	实验操作和现象
1	用 pH 试纸测定 $0.1 \text{ mol}\cdot\text{L}^{-1} \text{Na}_2\text{CO}_3$ 溶液的 pH, 测得 pH 约为 12
2	向 $0.1 \text{ mol}\cdot\text{L}^{-1} \text{Na}_2\text{CO}_3$ 溶液中加入过量 $0.2 \text{ mol}\cdot\text{L}^{-1} \text{CaCl}_2$ 溶液, 产生白色沉淀
3	向 $0.1 \text{ mol}\cdot\text{L}^{-1} \text{Na}_2\text{CO}_3$ 溶液中通入过量 CO_2 , 测得溶液 pH 约为 8
4	向 $0.1 \text{ mol}\cdot\text{L}^{-1} \text{Na}_2\text{CO}_3$ 溶液中滴加几滴 $0.05 \text{ mol}\cdot\text{L}^{-1} \text{HCl}$, 观察不到实验现象

下列有关说法正确的是

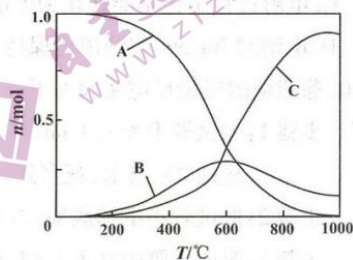
- A. $0.1 \text{ mol}\cdot\text{L}^{-1} \text{Na}_2\text{CO}_3$ 溶液中存在 $c(\text{OH}^-) = c(\text{H}^+) + 2c(\text{H}_2\text{CO}_3) + c(\text{HCO}_3^-)$
 B. 实验 2 反应静置后的上层清液中有 $c(\text{Ca}^{2+}) \cdot c(\text{CO}_3^{2-}) < K_{\text{sp}}(\text{CaCO}_3)$
 C. 实验 3 得到的溶液中有 $c(\text{HCO}_3^-) < c(\text{CO}_3^{2-})$
 D. 实验 4 中反应的化学方程式为 $\text{H}^+ + \text{OH}^- = \text{H}_2\text{O}$



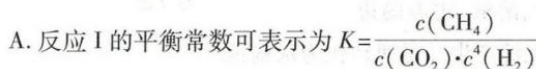
13. 在二氧化碳加氢制甲烷的反应体系中,主要发生反应的热化学方程式为



向恒压、密闭容器中通入 1 mol CO_2 和 4 mol H_2 , 平衡时 CH_4 、 CO 、 CO_2 的物质的量随温度的变化如题 13 图所示。下列说法正确的是

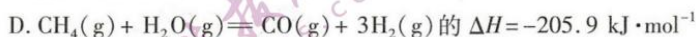


题 13 图



B. 图中曲线 B 表示 CO 的物质的量随温度的变化

C. 提高 CO_2 转化为 CH_4 的转化率, 需要研发在低温区高效的催化剂



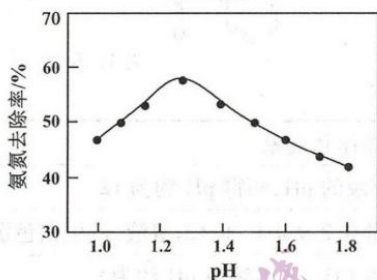
二、非选择题: 共 4 题, 共 61 分。

14. (15 分) 皮革厂的废水中含有一定量的氨氮(以 NH_3 、 NH_4^+ 形式存在), 通过沉淀和氧化两步处理后可使水中氨氮达到国家规定的排放标准。

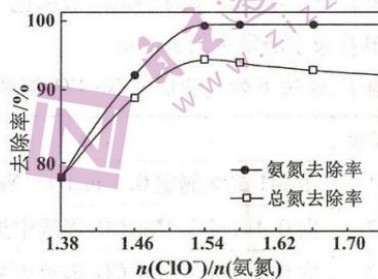
(1) 沉淀: 向酸性废水中加入适量 $\text{Fe}_2(\text{SO}_4)_3$ 溶液, 废水中的氨氮转化为 $\text{NH}_4\text{Fe}_3(\text{SO}_4)_2(\text{OH})_6$ 沉淀。

①该反应的离子方程式为_____。

②废水中氨氮去除率随 pH 的变化如题 14 图-1 所示, 当 $1.3 < \text{pH} < 1.8$ 时, 氨氮去除率随 pH 升高而降低的原因是_____。



题 14 图-1



题 14 图-2

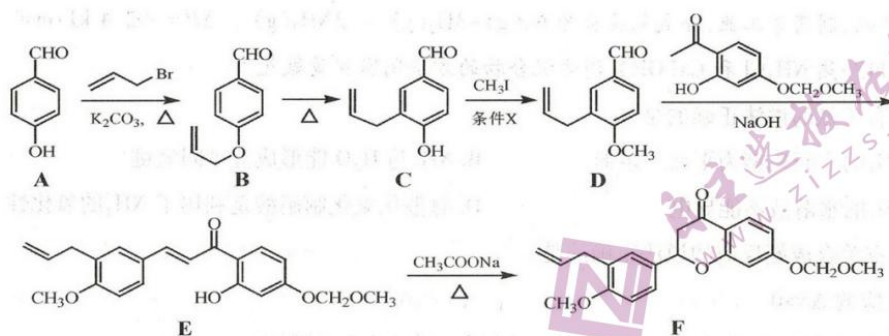
(2) 氧化: 调节经沉淀处理后的废水 pH 约为 6, 加入 NaClO 溶液进一步氧化处理。

① NaClO 将废水中的氨氮转化为 N_2 , 该反应的离子方程式为_____。

②研究发现, 废水中氨氮去除率随温度升高呈先升后降趋势。当温度大于 30°C 时, 废水中氨氮去除率随着温度升高而降低, 其原因是_____。

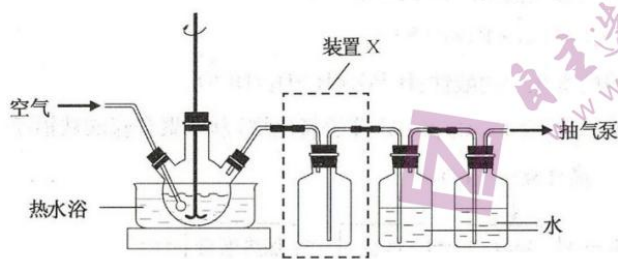
③ $n(\text{ClO}^-)/n(\text{氨氮})$ 对废水中氨氮去除率和总氮去除率的影响如题 14 图-2 所示。当 $n(\text{ClO}^-)/n(\text{氨氮}) > 1.54$ 后, 总氮去除率下降的原因是_____。

15. (14分) 化合物 F 是一种天然产物合成中的重要中间体, 其合成路线如下:



- (1) A→B 的反应类型为_____。
- (2) C 的一种同分异构体同时满足下列条件, 写出该同分异构体的结构简式:_____。
- ①分子中含有苯环, 碱性条件下能与新制 $\text{Cu}(\text{OH})_2$ 悬浊液反应, 生成砖红色沉淀;
 - ②分子中不同化学环境的氢原子数目比为 2 : 2 : 1。
- (3) C→D 反应的条件 X 是_____。
- (4) F 含有手性碳原子的数目为_____。
- (5) 设计以 和 为原料制备 的合成路线(无机试剂和有机溶剂任用, 合成路线示例见本题题干)。

16. (16分) 以印刷线路板的碱性蚀刻废液(主要成分为 $[\text{Cu}(\text{NH}_3)_4]\text{Cl}_2$) 或焙烧过的铜精炼炉渣(主要成分为 CuO 、 SiO_2 和少量 Fe_2O_3) 为原料均能制备 $\text{CuSO}_4 \cdot 5\text{H}_2\text{O}$ 晶体。



题 16 图

- (1) 取一定量蚀刻废液和稍过量的 NaOH 溶液加入到如题 16 图所示实验装置的三颈瓶中, 在搅拌下加热反应并通入空气, 待产生大量的黑色沉淀时停止反应, 趁热过滤、洗涤, 得到 CuO 固体; 所得固体经酸溶、结晶、过滤等操作, 得到 $\text{CuSO}_4 \cdot 5\text{H}_2\text{O}$ 晶体。
- ①写出用蚀刻废液制备 CuO 反应的化学方程式:_____。
 - ②检验 CuO 固体是否洗净的实验操作是_____。
 - ③装置图中装置 X 的作用是_____。

化学试卷 第 5 页(共 6 页)



(2)以焙烧过的铜精炼炉渣为原料制备 $\text{CuSO}_4 \cdot 5\text{H}_2\text{O}$ 晶体时,请补充完整相应的实验方案:

取一定量焙烧过的铜精炼炉渣, _____, 加热浓缩、冷却结晶、过滤、晾干, 得到 $\text{CuSO}_4 \cdot 5\text{H}_2\text{O}$ 晶体。

已知该实验中 $\text{pH}=3.2$ 时, Fe^{3+} 完全沉淀; $\text{pH}=4.7$ 时, Cu^{2+} 开始沉淀。

实验中可选用的试剂: $1.0 \text{ mol} \cdot \text{L}^{-1} \text{H}_2\text{SO}_4$ 、 $1.0 \text{ mol} \cdot \text{L}^{-1} \text{HCl}$ 、 $1.0 \text{ mol} \cdot \text{L}^{-1} \text{NaOH}$ 。

(3)通过下列方法测定产品纯度:准确称取 0.5000 g $\text{CuSO}_4 \cdot 5\text{H}_2\text{O}$ 样品,加适量水溶解,转移至碘量瓶中,加过量 KI 溶液并用稀 H_2SO_4 酸化,以淀粉溶液为指示剂,用 $0.1000 \text{ mol} \cdot \text{L}^{-1} \text{Na}_2\text{S}_2\text{O}_3$ 标准溶液滴定至终点,消耗 $\text{Na}_2\text{S}_2\text{O}_3$ 的溶液 19.80 mL 。

测定过程中发生下列反应: $2\text{Cu}^{2+} + 4\text{I}^- = 2\text{CuI} \downarrow + \text{I}_2$ $2\text{S}_2\text{O}_3^{2-} + \text{I}_2 = \text{S}_4\text{O}_6^{2-} + 2\text{I}^-$

计算 $\text{CuSO}_4 \cdot 5\text{H}_2\text{O}$ 样品的纯度(写出计算过程): _____。

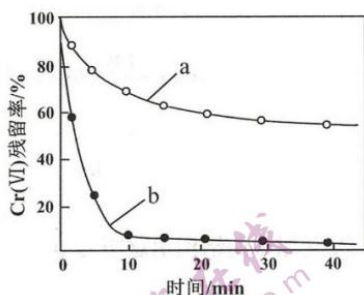
17. (16分)水体中的 $\text{Cr}_2\text{O}_7^{2-}$ 、 HCrO_4^- 和 CrO_4^{2-} 是高毒性的重金属离子,可用 $\text{Cr}(\text{VI})$ 表示。常用的处理方法是将 $\text{Cr}(\text{VI})$ 还原为低毒性的 Cr^{3+} 或 $\text{Cr}(\text{OH})_3$ 。

(1)在一定 pH 的水溶液中, HS^- 、 S^{2-} 可与 CrO_4^{2-} 反应生成 $\text{Cr}(\text{OH})_3$ 和单质硫。水溶液中 S^{2-} 能与单质硫反应生成 S_n^{2-} , S_n^{2-} 能还原 $\text{Cr}(\text{VI})$ 。

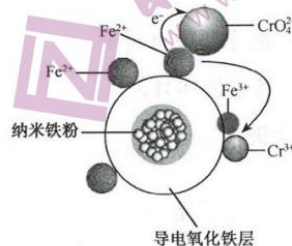
①在 $\text{pH}=9$ 的水溶液中 CrO_4^{2-} 与 HS^- 反应的离子方程式为 _____。

② 25°C 时用过量 S^{2-} 还原 $\text{Cr}(\text{VI})$, 发现反应后期 $\text{Cr}(\text{VI})$ 被还原的速率反而加快。产生该现象的原因可能是 _____; 验证的实验方法是 _____。

(2)金属也可用于还原废水中的 $\text{Cr}(\text{VI})$ 。其他条件相同时,用相同物质的量的 Zn 粉、 Zn-Cu 粉分别处理 $\text{pH}=2.5$ 的含 $\text{Cr}(\text{VI})$ 废水,废水中 $\text{Cr}(\text{VI})$ 残留率随时间的变化如题 17 图-1 所示。图中 b 对应的实验方法处理含 $\text{Cr}(\text{VI})$ 废水的效果更好,其原因是 _____。



题 17 图-1



题 17 图-2

(3)用氧化铁包裹的纳米铁粉(用 $\text{Fe}@\text{Fe}_2\text{O}_3$ 表示)能有效还原水溶液中的 $\text{Cr}(\text{VI})$ 。

$\text{Fe}@\text{Fe}_2\text{O}_3$ 还原近中性废水中 $\text{Cr}(\text{VI})$ 的可能反应机理如题 17 图-2 所示。 $\text{Fe}@\text{Fe}_2\text{O}_3$ 中 Fe 还原 CrO_4^{2-} 的过程可描述为 _____。

关于我们

自主选拔在线是致力于提供新高考生涯规划、强基计划、综合评价、三位一体、学科竞赛等政策资讯的升学服务平台。总部坐落于北京，旗下拥有网站（<http://www.zizzs.com/>）和微信公众平台等媒体矩阵，用户群体涵盖全国90%以上的重点中学师生及家长，在全国新高考、自主选拔领域首屈一指。

如需第一时间获取相关资讯及备考指南，请关注**自主选拔在线**官方微信号：**zizzsw**。



关注后获取更多资料：

回复“答题模板”，即可获取《高中九科试卷的解题技巧和答题模版》

回复“必背知识点”，即可获取《高考考前必背知识点》

