

# 河南省信阳高级中学 2022-2023 学年高三下期 04 月测试(一)

## 文科综合

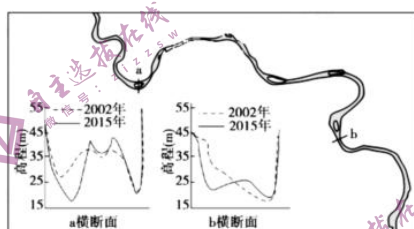
### 注意事项:

- 1.答题前, 务必将自己的姓名、考号填写在答题卡规定的位置上。
- 2.答选择题时, 必须使用 2B 铅笔将答题卡上对应题目的答案标号涂黑, 如需改动, 用橡皮擦擦干净后, 再选涂其他答案标号。
- 3.答非选择题时, 必须使用 0.5 毫米黑色签字笔, 将答案书写在答题卡规定的位置上。
- 4.所有题目必须在答题卡上作答, 在试题卷上答题无效。
- 5.考试结束后, 只将答题卡交回。

### 第 I 卷(选择题, 共 140 分)

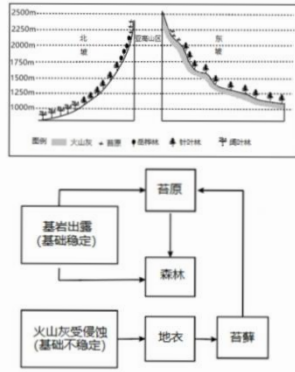
一、选择题: 本大题共 35 小题, 每小题 4 分, 共 140 分。在每小题给出的四个选项中, 只有一项是符合题目要求的。

长江流域某河段受上游水库运行、“清水”下泄影响, 2015 年枯水期最低水位呈下降趋势。下图示意该河段及河段内 2 个水文站的横断面(河床剖面)。完成下面小题。



- 1.造成该河段枯水期最低水位下降的主要原因是  
A.上游水库蓄水      B.河段蒸发加剧      C.河流下切侵蚀      D.流域降水减少
- 2.上游水库建成后, 该河段枯水期沉积物颗粒数量变化及成因分析, 正确的是  
A.增多、水流速度加快, 侵蚀作用增强      B.减少、河床变深, 与下游高差减小  
C.减少、水量增加, 侵蚀作用增强      D.增多、水量减少, 沉积作用增强

植被演替是指裸地上植被的形成和发展过程。长白山大约在 800 年前发生了大规模的喷发, 北坡火山灰堆积量最少, 东坡最多。火山喷发后长白山植被重新演替。据研究表明, 火山喷发是长白山植被演替滞后的主要原因, 北坡植被演替已经进入中后期, 东坡植被演替还处于初期阶段。下左图、右图分别为长白山东坡、北坡植被分布和长白山亚高山区(海拔约 2000 米-2200 米)的植被演替示意图。据此完成下面小题。

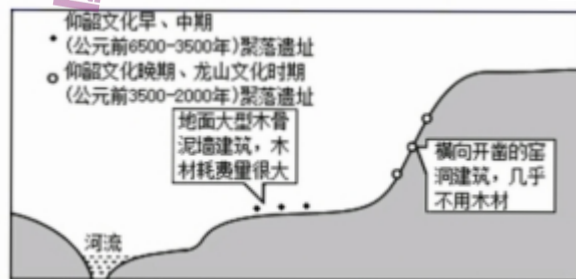


- 3.影响长白山植被演替滞后的主要因素是  
 A.土壤侵蚀            B.山体高度            C.地势起伏            D.土壤肥力
- 4.导致长白山东坡和北坡植被差异的主要因素是  
 A.热量状况            B.降水多少            C.光照强度            D.演替速度
- 5.如果演替不受干扰，未来几年长白山北坡岳桦林分布上界将  
 A.向上移动            B.向下移动            C.保持不变            D.波动变化

自 2020 年中国邮政在厦门大学附近的邮局开设第一家咖啡店以来，中国邮政已在泉州、珠海、上海等地利用邮局经营咖啡。2022 年，中国邮政在北京四环外的某新区开设北京首家邮政咖啡。据此完成下面小题。

- 6.中国邮政跨界经营咖啡店的主要目的是  
 A.调整主营业务            B.改善生活品质  
 C.拓展收入渠道            D.保障失业人员就业
- 7.邮政咖啡北京首店未选址在老城区，而选在四环外的某新区，主要考虑的是  
 A.工资水平            B.人口年龄结构            C.原料供应            D.交通条件
- 8.以上城市的邮政咖啡店数量较少，可能受制于  
 A.邮局数量            B.饮食习惯            C.经营成本            D.品牌认知

下图示意黄土高原某地区考古挖掘出的古聚落遗址,遗址中有许多黄土烧制的陶器。仰韶文化晚期,我国亚热带-暖温带界线南移。在人类活动和环境变化的双重影响下,该地区聚落向高处迁移。为避免坍塌,窑洞宽度须小于窑顶黄土厚度。全科试题免费下载公众号《高中僧课堂》据此完下面小题。

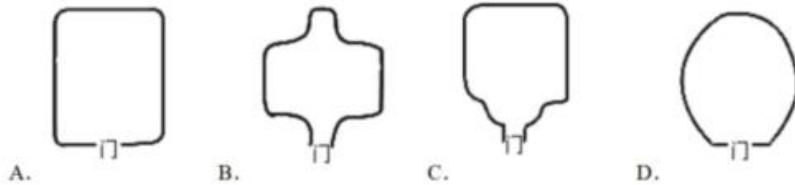


- 9.仰韶文化晚期,该地区气候趋向  
 A.冷湿            B.冷干            C.暖干            D.暖湿

10.仰韶文化晚期,该地区聚落向高处迁移是由于

- A.水土流失加剧,河床抬升  
B.人口增长迅速,耕地不足  
C.蓄水技术提高,供水充足  
D.土壤肥力下降,作物减产

11.山文化时期,该地区坡地的窑洞平面形态最可能是上图中的



12.汽车产业市场和技术的变化传导至消费领域会对外品油加工销售企业产生冲击,这是因为随着新能源汽车的快速发展和燃油车的减量,成品油的消费空间受到大幅压缩。此外,得益于节能技术的进步,传统的燃油车单车油耗也是现出逐年降低的趋势。由此可见

- ①社会劳动生产率提高会导致成品油的价值下降  
②消费市场变化对企业的生产经营具有导向作用  
③商品的销售状况受互补商品市场需求变化影响  
④生产技术的进步能够促进社会资源的节约利用
- A.①②  
B.①③  
C.②④  
D.③④

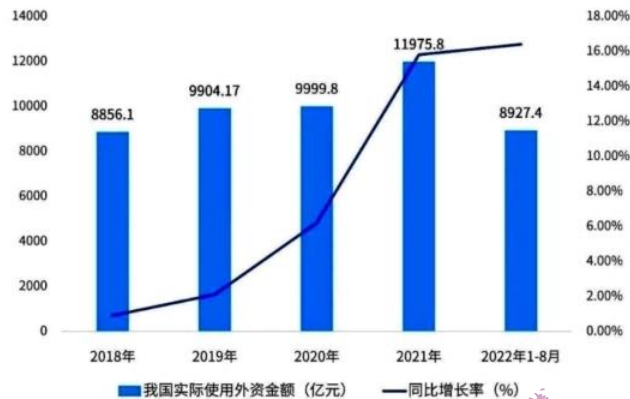
13.根据国家的部署,从2022年开始,我国将采取措施在农村完善监测帮扶机制,精准监测到每一个对象,不管是低收入人群还是已经脱贫的人口,都在监测范围内,只要监测对象存在返贫致贫的风险,或者家里突发严重困难的情况都会被国家纳入监测范围。所有的信息都会第一时间被录入新的监测平台,该怎么帮扶,怎么解决家庭困难的问题都有针对性措施。在农村完善监测帮扶机制

- ①可以增加贫困群众收入,进一步巩固拓展脱贫攻坚成果  
②坚持了共享的发展理念,有利于提升脱贫群众的幸福感  
③说明脱贫攻坚成果的巩固取决于国家扶贫政策的持续发力  
④有利于实现共同富裕,体现了社会主义的本质
- A.①②  
B.①③  
C.②④  
D.③④

14.2023年,全国多个城市对房贷利率、贷款额度、限贷限购、契税补贴等房地产调控政策进行调整,促进楼市健康发展,不考虑其他因素,下列房地产调控政策产生影响的传导路径正确的是

- ①下调首套房贷款利率下限→降低购房成本→支持刚性购房需求→提振市场发展信心  
②降低首套房首付比例→增强市场流动性→提升上下游企业盈利能力→带动经济复苏  
③给予多孩家庭适当契税补贴→减轻购房压力→降低房地产行业风险→刺激市场需求  
④放宽住房限购政策→释放改善性住房需求→消化房产库存→助力房地产市场的回暖
- A.①②  
B.①④  
C.②③  
D.③④

15.近十年我国引资规模一直稳居全球前三位。2021 年我国引资规模创历史新高，实际使用外资达到 1.15 万亿元人民币，位居世界第二，同比增长 14.9%，2022 年前 8 个月，我国实际使用外资规模总计达到 8927.4 亿元，与去年同期同比实现了两位数的增长。（如图），材料表明



- ①为适应经济全球化新形势，我国加快培育出口竞争新优势
  - ②我国扩大对外开放的坚定决心，坚持平等对待内外资企业
  - ③我国坚持敞开开放大门，为各国企业来华投资兴业提供便利
  - ④中国经济快速增长，为世界各国提供了更广阔的市场和充足的资本
- A. ①③      B. ②③      C. ②④      D. ③④

16.作为新时代楷模的北京榜样优秀群体，是新时代奋斗者的杰出代表，他们胸怀大局、无私奉献，积极向上、助人为乐，在平凡的工作岗位上、普通的日常生活里，默默无闻地引领着新时代社会文明风尚，谱写了伟大的时代赞歌。从北京榜样优秀群体身上，我们可以感受到

- ①我国公民意识不断增强，把爱国主义融入实际行动
  - ②公民履职能力提高，坚持个人利益与国家利益结合
  - ③人民民主是最管用的民主，公民权利有切实的保障
  - ④人民民主激发了人民群众自觉投身社会主义建设的热情
- A. ①②      B. ①④      C. ②③      D. ③④

17.2022 年 11 月开始实施的《促进个体工商户发展条例》规定，国家发展改革委、财政部、人力资源社会保障部等有关部门在各自职责范围内研究制定税费支持、创业扶持、职业技能培训、社会保障等方面的政策措施，做好促进个体工商户发展工作。国家出台这一政策是因为

- ①实施产业政策，促进产业结构优化升级是政府的经济职能
  - ②推进简政放权，优化公共服务才能促进经济转型升级
  - ③个体工商户具有繁荣经济、增加就业、方便群众生活等作用
  - ④政府坚持以人民为中心的发展理念，优化营商环境能推动自主创业
- A. ①②      B. ①③      C. ②④      D. ③④

18.2022 年 3 月 22 日，德国总理朔尔茨表示，德国依然坚持拒绝对俄罗斯实行能源禁运的立场。他重申，许多欧盟国家对俄罗斯能源的依赖度很高，这不应该被忽视。俄乌冲突爆发以来，美国及其盟友不断加大对俄罗斯的制裁，但对俄罗斯

能源的态度问题，一直是最大的分歧所在。美国希望欧洲国家能够紧跟自己，在石油和天然气进口上彻底切断俄罗斯的命脉，但欧洲国家在这一问题上始终犹豫不决。这表明

- ①世界多极化是一个漫长而曲折过程
- ②国际关系的决定性因素是国家利益
- ③共同利益是国家对外活动的出发点
- ④主权国家有自主决定外交事务权利

A. ①②                      B. ①③                      C. ②④                      D. ③④

19.人们对一个村落的印象，往往始于传统建筑和自然风貌。宗祠、戏台等古建筑包含着开放的精神空间，民居建筑具有居住、商贸等多重功能。在大力推进乡村振兴的背景下，传统村落保护意义突出。之所以要保护传统村落，是因为

- ①文化是一个国家、一个民族传承和发展的根本
- ②文化载体承载、表达和展现着文化的内容
- ③文化为实现乡村振兴提供精神动力和智力支持
- ④文化具有服务社会、推动发展等功能

A. ①②                      B. ①③                      C. ③④                      D. ②④

20.将中华经典古诗词翻译成外文，要注意古诗的绵长韵味，不能因为语种的转换而折损，要能够把诗词字里行间流淌着的中国人的情感、意志与品性，真正传递给西支读者方。这从一个侧面启示我们，要更好地传播中华古诗词、讲好中国故事，就应

- ①积极推动不同民族文化的交流，推动人类文化的发展
- ②既要注重文化的共性，更要注重中华文化的特殊性
- ③既克服又保留，充分发挥中华优秀传统文化的现代价值
- ④传递中华古诗词的精神实质，展现中华民族的精神向往

A. ①③                      B. ②④                      C. ③④                      D. ②③

21.2023年2月19日迎来兔年二十四节气的雨水。每一场雨，都有自己的名字。雨似竹竿，名为“银竹”，是李白的“白雨映寒山，森森似银竹”，雨花四溅，名为“跳珠”，是苏轼的“黑云翻墨未遮山，白雨跳珠乱入船”，微微细雨，名为“廉纤”，是韩愈的“廉纤晚雨不能晴，池岸草间蚯蚓鸣。”诗意的雨名，是中国人独有的浪漫，这体现了

- ①雨的具象和古人心灵意向的辩证统一
- ②不同主体对同一事物的认识总不相同
- ③事物的复杂性决定了认识具有反复性
- ④意识具有自觉选择性以及主动创造性

A. ①②                      B. ②③                      C. ①④                      D. ③④

22.春晚创意节目《满庭芳·国色》从自然万物、天地四时中展现银珠、群青、玄天等中国色，搭配水袖、折扇、油伞、翎子与剑，从节目内容到舞美设计，在虚拟与现实交织、科技与文化融合中展现人民生活的多彩和传统文化内涵。创意节目《满庭芳·国色》

- ①运用意识的能动创造性和自觉选择性，彰显了色彩文化

- ②抓住了自在事物之间的联系，展现了中华文化的特点  
 ③运用文化自身发展规律，促进现代与传统相适应、相协调  
 ④创新视觉呈现方式与节目外化表现形式，突出中国传统美学

A. ①③                      B. ①④                      C. ②③                      D. ③④

23. 欧洲进入封建社会，要比中国晚得多，方式也不一样。新中国成立前，四川等地的彝族地区大约有 100 万人口保留着奴隶制度，西藏、云南等地区大约有 400 万人口保留着封建农奴制度。这表明

- ①人类社会发展的总趋势是前进的，但道路是曲折的  
 ②没有任何国家或地区的历史发展进程是一模一样的  
 ③各国各地区的客观条件决定了发展道路不具有普遍性  
 ④人类社会发展的一个进程是通过发展的多样性表现出来的

A. ①②                      B. ③④                      C. ①③                      D. ②④

24. 分封制大封同姓子弟、功臣及古帝王之后，让他们在自己的诸侯国内享有一定的特权，能够按照自己的想法进行政治、经济以及文化方面的建设。这样做

- A. 说明中央难以控制地方                      B. 缓和了奴隶社会的主要矛盾  
 C. 起到了稳定政局的作用                      D. 体现“封建亲戚、以藩屏周”

25. 汉末名士的清议之风，评论时政、臧否人物，在很大程度上影响了乡间舆论和仕途进退。“取士不由于乡党，考行不本于阀阅；多助者为贤才，寡助者为不肖；序爵听无证之论，班禄采方国之谣”。据此可知汉末

- A. 清议之风改善了政治环境                      B. 仕途进退取决于门第族望  
 C. 舆论扩张引发了察举危机                      D. 评论时政体现了民主色彩

26. 人物品藻指对人物的品鉴和评论。魏晋时期人物品藻逐渐脱离了儒教礼法虚名的束缚，由之前的政治学为主转向美学为主，重在对人物品采、风姿和风韵的审美评价。这一转变折射出魏晋时期

- A. 门阀士族的衰落    B. 人文精神的活跃    C. 民族交融的加强    D. 三教合一的加速

27. 18 世纪，荷兰的银行给商户贷款利率为 3%，英国为 4%~5%，而同期中国钱庄、票号的利率平均为 9.2%。据此可知

- A. 中国金融业更为发达                      B. 传统伦理影响中国商业  
 C. 西欧国内市场较狭窄                      D. 西欧银行经营效益低下

28. 近代上海，万国商团担负着武力防御租界的任务。1900 年，万国商团总共花费 3 万两白银，这是其自成立以来的最高支出数字，其中有 1.4 万两用于各种制服和装备。其增加开支的背景是

- A. 义和团运动不断向南方扩展                      B. 中国人民反帝情绪高涨  
 C. 南方督抚大力扶植反帝力量                      D. 清政府与列强彻底决裂

29. 陈旭麓曾说：五四时期，各式各样的“主义”蜂拥而入中国。在短短的几年之内，……从资产阶级启蒙时代的民主主义、自由主义、个人主义、人文主义到旨在救治资本主义社会弊端的社会主义学说……都曾化为众多中国人的言谈和文章。这种现象

- A. 源于中国的近代化不断发展                      B. 反映出政治自由的社会状态  
 C. 有利于马克思主义的中国化                      D. 自卑的民族心理的表现

30. 导致下表黄埔军校第五期毕业率与其余各期存在较大差异的主要原因是

黄埔军校期别	时间	入学人数	毕业人数
第三期	1924.10—1926.1	1300	1233
第四期	1926.3—1926.10	2680	2654
第五期	1926.11—1927.8	3300	2418
第六期	1927.10—1929.5	4400	3970

A. 国民革命的兴起 B. 外来势力的干涉 C. 国共两党的分裂 D. 学员质量的下降

31. 《陈云文选》中载，建国后，北京市东来顺羊肉店公私合营后的状况：“原来只里三十五斤左右的小尾巴羊，现在我们（政府）山羊、老绵羊、冻羊肉都给，涮羊肉怎么好吃？……东来顺的羊肉原来一斤一块二角八，现在要和其他铺子一样，一块零八分。……原来一个人一天切三十斤羊肉，现在规定每天切五十斤……。”这种经营状况

A. 说明公私合营办利于经济发展 B. 高度集中经济体制建立的弊端  
C. 需要国家调整教条的经济策略 D. 国家不善于经营民生类的企业

32. 古罗马皇帝为公民之首，称“第一公民”，街头有几乎所有皇帝的雕像，甚至市民都可以和皇帝在公共澡堂一起洗澡。而中国秦汉的皇帝则是真命天子，皇帝出巡要清街道，平民百姓不能随便看皇帝面目。造成这一差异的主要原因是

A. 皇帝权力的来源不同 B. 皇帝权力的大小不同  
C. 治国理政的措施不同 D. 经济发展的程度不同

33. 1500 年欧洲仅有 8000 万人口，到 1600 年欧洲人口增长到 4 亿，1700 年欧洲人口达到 1.2 亿。导致这一变化的主要原因是

A. 工业革命的升展 B. 生育观念的转变 C. 高产作物的传播 D. 近代科学的兴起

34. 19 世纪中叶，两位年轻德国家撰写了国际工人运动的第一个战斗纲领，文中写到：“至今一切社会的历史都是阶级斗争的历史……随着大工业的发展，资产阶级赖以生产和占有产品的基础本身也就从它的脚下被挖掉了。它首先生产的是它自身的掘墓人。资产阶级的灭亡和无产阶级的胜利是同样不可避免的。”该纲领

A. 揭露了资产阶级剥削无产阶级的秘密  
B. 阐释了科学社会主义的基本原理  
C. 揭示了生产力与生产关系的辩证关系  
D. 洞悉了帝国主义时代社会新特征

35. 有学者指出：“资本主义发动了全球化，却不能真正完成全球化，反而因其负面性和发展局限性阻碍了全球似进一步向前发展。资本主义招致的全球性问题的根本解决无法依靠资本主义本身。”该观点

A. 论证了全球化与资本主义的依存关系  
B. 否定了资本主义对全球化的推动作用  
C. 指出了全球化进程所面临的现实困境  
D. 揭示了全球化发展所带来的负面影响

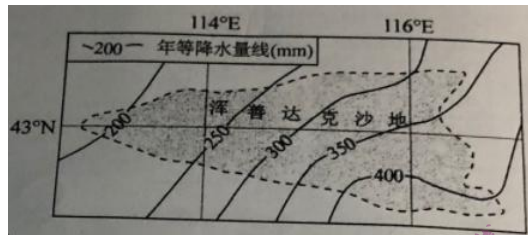
## 第 II 卷（非选择题，共 160 分）

二、非选择题：共 160 分。第 36~42 题为必考题，每个试题考生都必须作答。第 43~46 题为选考题，考生根据要求作答。

(一) 必考题：共 135 分

36. 阅读图文材料，完成下列要求。(22 分)

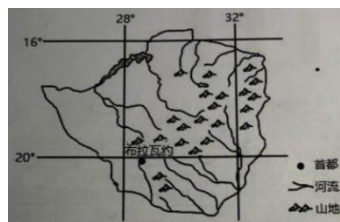
浑善达克沙地(如下图)榆树疏林区较周边草原区植被更加茂密，千百年来一直是内蒙古优质的冬季牧场。近半个世纪以来，榆树疏林破坏严重，固定或半固定沙丘活化。随着国家草畜平衡政策的推广，适度放牧措施的落实，该区域草原生态系统逐渐恢复。



- (1) 推测榆树疏林区在浑善达克沙地的位置并说明理由。(4 分)
- (2) 简述牧民把浑善达克沙地榆树疏林区作为冬季牧场的原因。(6 分)
- (3) 分析榆树疏林区植被破坏导致固定或半固定沙丘活化的原因。(6 分)
- (4) 说明适度放牧有利于草原生态系统恢复的原因。(6 分)

37. 阅读图文材料，完成下列要求。

津巴布韦位于非洲东南部，东部边境为山地，其他分属三级阶梯状高原，海拔 800~1500 米。耕地广阔，面积约占国土面积的 4/5，适宜玉米、高粱、棉花、烟草、花生等作物生长，曾有“南部非洲粮仓”之称。但是由于种种原因，津巴布韦农业没有得到很好的开发，另外津巴布韦早前实施较为激进的“土地国有化”政策之后，遗留了大量闲置农场，又经历了长达十年的经济衰退。多种原因导致了津巴布韦近年来粮食产量下降，出现了严重的粮食危机。中国安徽省农垦集团是大型现代农业企业，具有先进的农业技术和优秀的现代企业管理团队，2010 年与津巴布韦合资建立(津一中)皖津农垦集团，8 年时间，皖津农垦集团在当地开发 8 个农场，总面积 7200 公顷，为津巴布韦生产粮食 10 余万吨，其烟草为当地创汇 500 余万美元。下图为津巴布韦山地和水系分布图。




- (1) 分析津巴布韦成为“南部非洲粮仓”的优越自然条件。(6 分)



- (2) 说明津巴布韦陷入粮食短缺困境的主要原因。(6分)
- (3) 推测皖津农垦集团在经营农场前期采取的措施。(6分)
- (4) 简述皖津农垦集团的农场经营对津巴布韦社会发展的重要性。(6分)

38. 阅读材料，完成下列要求。(14分)

材料一 2015—2020年中国民营企业500强入围门槛(单位:亿元)



注: 2020年, 民营企业500强营业收入总额30.17万亿元, 较上年增长5.85%。资产总额36.96万亿元, 较上年增长6.78%。税后净利润1.39万亿元, 较上年增长8.08%。从产业结构来看, 第二产业入围企业共331家, 其中, 制造业企业288家, 继续占据民营企业500强的主导地位。第三产业比重持续提高, 共有164家企业入围, 比上年增加7家。

材料二 近年来, 某传统变电企业与数字技术“联姻”, 持续推进“机器换人”、注入“高新基因”, 让工业互联网、大数据等新技术新模式在企业研发设计、生产制造、售后服务等环节实现全过程应用, 推动“企业变电+大数据变电+互联网”“变电+物联网”“变电+北斗产业升级”等发展, 实现变电产品“智能化”。在此背景下, 该企业一次性产品交验合格率达到100%, 一线工人减少50%以上。面对2020年新冠肺炎疫情对传统制造业的巨大冲击, 该企业在2020年上半年实现销售额3亿多元, 比2019年同期增长了近30%。

概括材料一包含的经济信息, 并结合材料二, 运用经济生活知识, 说明传统变电企业与数字技术“联姻”对自身发展的意义。(14分)

39. 阅读材料，完成下列要求。(12分)

党的十八大以来, 全国人大及其常委会新制定法律69件, 修改法律237件, 通过有关法律问题和重大问题的决定99件, 作出法律解释9件, 迄今现行有效

法律共 292 件。十年来，一共有 217 件次的法律草案向社会公开征求意见，收到 120 多万人次提出的 380 多万条意见建议。全国人大常委会法工委已经设立了 2 个基层联系点，覆盖全国 2/3 的省份，带动省一级、设区的市一级人大建立 5500 多个基层联系点。十年来，全国人大常委会共听取审议有关监督工作情况的报告 150 多件，检查 50 多部法律的实施情况；共开展专题询问 25 次，专题调研 45 项。聚焦坐态环保领域的突出问题，本届全国人大常委会连续五年开展执法检查，先后检查了大气污染防治法、水污染防治法、土壤污染防治法、固体废物污染环境防治法、环境保护法等五部法律的实施情况；出台关于加强和改进全国人大代表工作的 35 条具体措施，推进代表工作制度化、规范化、常态化，按照内容高质量、办理高质量的要求，认真办理代表提出的 4648 件议案，84028 件建议，做到了件件有回音、有落实。

结合材料，运用政治生活知识，说明全国人大是如何保证人民当家作主的。（12 分）

40. 阅读材料，完成下列要求。（26 分）

2022 年 10 月，党的二十大在北京胜利召开。

材料一 党的二十大审议通过《中国共产党章程（修正案）》，“发扬斗争精神、增强斗争本领”经大会同意写入党章。斗争精神贯穿党的百年奋斗历程。建立中国共产党、成立中华人民共和国、实行改革开放、推进新时代中国特色社会主义事业，都是在斗争中诞生，在斗争中发展、在斗争中壮大的。新时代 10 年，我国各种风险挑战接踵而至，其复杂性、严峻性前所未有，在此背景下，我国全面推进经济体制、政治体制、文化体制、社会体制、生态文明体制改革等，实现一系列突破性进展，脱贫攻坚战取得全面胜利，统筹经济发展和疫情防控取得世界上最好的成果，生态环境保护发生历史性、转折性、全局性变化……这些成就的取得，都是敢于斗争的结果。

材料二 党的二十大号召，从现在起，中国共产党的中心任务就是团结带领全国各族人民全面建成社会主义现代化强国、实现第二个百年奋斗目标，以中国式现代化全面推进中华民族伟大复兴。

中国式现代化主张以文明交流超越文明隔阂，以文明互鉴超越文明冲突，以文明共存超越文明优越，探索创立具有包容性的人类文明新形态，推动人类创造的各种文明交相辉映、相互尊重、和谐共处。中国式现代化打破了西方“文明冲突论”对人类文明的桎梏，坚持弘扬平等、互鉴、对话、包容的文明观，尊重文明多样性，推动不同文明交流对话、和平共处、和谐共生，努力让文明交流互鉴成为增进各国人民友谊的桥梁、推动人类社会进步的动力、维护世界和平的纽带。

（1）坚持敢于斗争是党百年奋斗的重要历史经验。结合材料一并运用社会发展的基本规律的知识对此加以说明。（12 分）

（2）中国式现代化创造了人类文明新形态。结合材料二并运用文化生活知识对此加以说明。（10 分）

（3）习近平总书记指出，新时代的青年要做敢于斗争、善于斗争的模范。请就青年如何敢于斗争、善于斗争提出两条建议。（4 分）

41. 阅读材料，回答下列问题。（25分）

材料一 1895年，法国摄影师卢米埃尔兄弟拍摄世界第一部电影《火车进站》，将铁路交通与电影内在的相似性，置于城市的场景中，将工业化、现代化的真实城市与速度、电影、城市融为一炉。1896年上海放映了“西洋影戏”，这是中国第一次放映电影。1908年西班牙商人雷玛斯在上海虹口搭建了第一座电影院——虹口大戏院。此后北京及内地，电影放映日益增多。“默片”时代，由卓别林担任主角的美国电影在中国颇受欢迎，《摩登时代》中，卓别林以滑稽、幽默的艺术形象，塑造工人成为大机器生产中的一颗螺丝钉，带给人们无尽的欢笑和泪水，更留下对社会弊端的无情戏谑和讽刺。由于外国影片输入中国，多具文化侵略的性质，引起我国一部分知识分子摄制“中国影片”的愿望。从1896年到1932年，中国本土电影从无到有，获得了长足进展。20世纪30年代以来，随着抗日救亡运动的深入发展，国产爱国影片的影响不断扩大，改变了以上海为中心的中国电影业传统分布状况，并对战后中国电影及其文化面貌带来较为深远的影响。

——摘编自刘艳《民国时期上海电影业》

材料二 新中国成立后，原本在中国占据主导地位的美国影片逐渐退出中国大陆市场，与此同时，引进的苏联影片风靡一时。苏联电影叙事大多贴近中国的时代发展诉求，为中国共产党的执政实践提供注解，激发民众投身工业化建设的爱国热情，借助电影寓教于乐的功能对广大民众进行思想政治教育。1956年苏共二十大后，中苏两国产生了思想分歧，最终演变成中苏关系恶化，苏联电影在中国逐渐走向衰落，到20世纪60年代初，中苏两国电影文化的交流几近停滞。

——摘编自揭祯琳《新中国成立初期美苏影片的历史交接》

材料三 十一届三中全会后，国家着手改革电影发行放映体制。1979年，国务院批转文化部、财政部《关于改革电影发行放映管理体制的请示报告》，恢复了早已被破坏的电影发行放映体制；1992年，中共十四大确立了社会主义市场经济体制目标后，电影发行体制进入全面改革的新时期；1995年，广电部发布《关于改革故事影片摄制管理工作的规定》，将中国的电影业从传统的计划经济体制推向市场经济体制；进入21世纪，中国电影业实施加快开放策略，有力地推动了中国电影的产业化和数字化。

——摘编自唐榕《新中国60年电影体制与电影市场之发展流变》

- (1) 根据材料一并结合所学知识，指出十九世纪末中、西电影业兴起的异同，并归纳近代中国电影业发展的特点（10分）
- (2) 根据材料二并结合所学知识，评述二十世纪50、60年代中国电影业的变化。（9分）
- (3) 根据材料三并结合所学知识，简析新时期以来推动中国电影业发展的主要因素。（6分）

42. 所有历史叙述在本质上都是对历史的解释。阅读材料，回答问题。（12分）

材料一 初命何铸鞠之，飞裂裳以背示铸，有“尽忠报国”四大字，深入肤理。既而阅实无左验，铸明其无辜。

——摘自《宋史·岳飞传》

材料二 咨尔宋忠臣岳飞，精忠贯日，大孝昭天，愤泄靖康之耻，誓清朔漠之师，原职宋忠文武穆岳鄂王，兹特封尔为三界靖魔大帝。

——摘自万历四十三年明神宗诏书

材料三 岳母道：“故我今日祝告天地祖宗，要在你背上刺下‘精忠报国’四字。但愿你做个忠臣……”

岳飞道：“圣人云‘身体发肤，受之父母，不敢毁伤。’母亲严训，孩儿自能领遵，免刺字罢！”

岳母道：“胡说！倘然你日后做些不肖事情出来，那时拿到官司，吃敲吃打，你也好对那官府说‘体发肤，受之父母，不敢毁伤’么？”岳飞道：“母亲说得有理，就与孩儿刺字罢。”

——摘编自清评书《说岳全传》

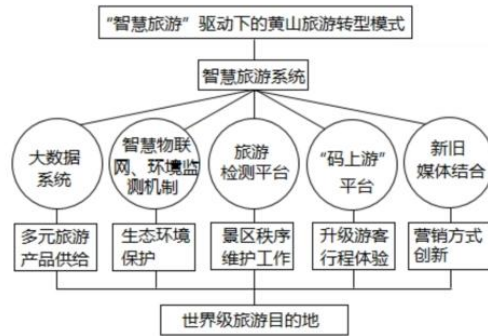
根据材料并结合所学知识，谈谈你对岳飞形象多重叙述的理解。

## (二) 选考题：共 25 分

请考生在第 43、44 两道地理题，第 45、46、47 三道历史题中各任选一题作答，如有多做，则按所做第一题计分。并用 2B 铅笔在答题卡上把所选题目题号后的方框涂黑。

### 43. 【地理一选修 3：旅游地理】

近年来，为了响应国家的号召与促进黄山旅游的可持续发展，黄山加快旅游转型升级步伐，深入实施“品质旅游革命”，积极推进“二次创业”“旅游+”“走下山、走出去”等战略，大力发展“智慧旅游”，充分借助外部科学技术力量与平台优势，提升黄山旅游发展质量，将黄山由一个传统的旅游目的地，打造成集聚现代化优势，赋予高科技、智慧化内涵的世界级旅游目的地。下图示意黄山旅游转型发展模式。



简述黄山发展“智慧旅游”对其他地区山地旅游转型发展的借鉴意义。

#### 44. 【环境保护】

高寒草甸因气候变暖、过度放牧、鼠害泛滥等原因严重退化，在风蚀等影响下形成黑褐色“秃斑”状裸露土地，称为“黑土滩”。四川若尔盖县的草原牧场，正经历着一场由政府主导、学术支持、牧民主动参与的“黑土滩”复绿行动。复绿过程中，牧民在已播撒草种的土壤上抛撒干草，牦牛群沿着牧草抛撒的轨迹进入播种区啃食草料（如图）。



说明牦牛在播种后的土壤上来回行走对提高草种成活率的作用。

#### 45.选修一：历史上重大改革回眸（15分）

材料（唐太宗）诏议安边之策，中书令温彦博议：“请于河南处之（突厥）。”

汉建武时，置降匈奴于五原塞下，全其部落，得为捍蔽，又不离其土俗，因而抚之，一则实空虚之地，二则示无猜之心，是含育之道也。”秘书监魏征曰：“匈奴人面兽心，非我族类，强必寇盗，弱则卑伏，不顾恩义，其天性也。秦、汉患之者若是，故时发猛将以击之，收其河南以为郡县。”温彦博曰：“天子之于万物也，天覆地载，有归我者则必养之。今突厥破除，余落归附，陛下不加怜愍，弃而不纳，非天地之道，阻四夷之意，臣愚甚谓不可，宜处之河南。”彦博又曰：“突厥余魂，以命归我，收居内地，教以礼法，选其首首，遣居宿卫，畏威怀德，何患之有？”太宗嘉其言，方务怀柔，未之从也（这在历史上是从来没有过的）。卒用彦博策，自幽州至灵州，置顺、祐、化、长四州都督府以处之，其人居长安者近且万家。

——摘编自【唐】吴兢《贞观政要·卷九·论安边》

(1) 根据材料，指出唐太宗诏议安边之策中两种不同的主张，并分析其提出主张的原因。(10分)

(2) 根据材料并结合所学知识，简评唐太宗的民族政策。(5分)

#### 46.选修三：20 世纪的战争与和平（15 分）

材料 1950 年冬，中美两支王牌部队为扭转朝鲜战局在长津湖地区展开“强强对决”，该战役被称为“中美两国都不愿提及的血战”。在这场“钢铁人”与“钢铁武装”的较量中，志愿军创造了全歼美军一个整团的纪录，收复了三八线以北的东部广大地区。对于此次战役，英国战略学家罗伯特·奥内尔博士评价道：中国从他们的胜利中一跃成为一个不能再被人轻视的世界大国。《新闻周刊》评论：“也许这是美国历史上自珍珠港事件以来在军事上遭受的最惨痛的失败。”总结长津湖血战时，有一个说法，叫做“气多”战胜了“钢多”，“气多”的“气”，就是中国军人的气概！“钢多”的“钢”，说的就是美军的钢制武器装备。

——摘编自孙文晔《美国军事史上最大的失败，抗美援朝的转折点——血战长津湖》

(1) 根据材料并结合所学知识，概括长津湖战役中国获胜的原因。(6分)

(2) 根据材料并结合所学知识，简析长津湖战役的历史影响。(9分)

47.选修 4：中外历史人物评说。（15 分）

冯如，中国第一位飞机设计师、制造师和飞行家，被誉为“中国航空之父”。冯如从小喜欢制作风筝等玩具，对神话飞天故事更是满心向往。12 岁随父漂洋过海到美国谋生，1901 年，他到纽约一家工厂半工半读，他目睹美国先进工业，认为国家富强必须依靠工业的发达，改变中国贫穷落后面貌非学习机械、发展工业不可。1903 年，当得知莱特兄弟发明飞机后，冯如决心要依靠中国人的力量来制造飞机，他得到了当地华侨的大力拳助，1907 年，在旧金山的奥克兰设立飞机制造厂。1908 年，冯如制造出中国第一架飞机。随后，冯如按照原计划将飞机制造公司由美国迁回广州。1911 年，辛亥革命爆发后，冯如被革命当局任命为陆军飞机长，冯如积极为革命军组织飞机侦查队，协助革命军攻打清军。1912 年，冯如在广州燕塘飞行表演中不幸失事牺牲。

——改编自刘诗中等《中国历代科技人物录》

- (1) 根据材料并结合所学知识，概括冯如成功制造飞机的条件。（6 分）
- (2) 根据材料并结合所学知识，分析冯如对中国近代化所做的贡献。（9 分）