

成都市 2020 级高中毕业班第一次诊断性检测 文科综合

本试卷分选择题和非选择题两部分。第 I 卷（选择题）1 至 8 页，第 II 卷（非选择题）9 至 14 页，共 14 页；满分 300 分，考试时间 150 分钟。

注意事项：

1. 答题前，务必将自己的姓名、考籍号填写在答题卡规定的位置上。
2. 答选择题时，必须使用 2B 铅笔将答题卡上对应题目的答案标号涂黑，如需改动，用橡皮擦擦干净后，再选涂其它答案标号。
3. 答非选择题时，必须使用 0.5 毫米黑色签字笔，将答案书写在答题卡规定的位置上。
4. 所有题目必须在答题卡上作答，在试题卷上答题无效。
5. 考试结束后，只将答题卡交回。

第 I 卷（选择题，共 140 分）

一、选择题：本大题共 35 小题，每小题 4 分，共 140 分。在每小题给出的四个选项中，只有一项是符合题目要求的。

盆栽蔬菜（图 1）是指在花盆或其他容器内种植的蔬菜。蔬菜公司销售培育好的盆栽蔬菜（幼苗或成株），供市民养护、观赏和采摘食用。据此完成 1~3 题。



图 1

1. 与传统蔬菜相比，盆栽蔬菜
A. 品种多 B. 品质优 C. 价格高 D. 产量大
2. 目前蔬菜公司的盆栽蔬菜规模较小，其主要制约因素是
A. 市场需求 B. 种植技术 C. 用工成本 D. 土地租金
3. 目前物流公司对盆栽蔬菜配送积极性不高，最可能的原因是
A. 物流配送价格低 B. 物流配送易损耗
C. 保鲜技术要求高 D. 蔬菜易变质腐烂

文科综合“一诊”考试题 第 1 页（共 14 页）

高铁站点往往是一个城市新的增长点。京沪高铁于2011年6月开始通车运营。图2示意京沪高铁南京南站2008—2018年周边土地利用变化情况。据此完成4~5题。

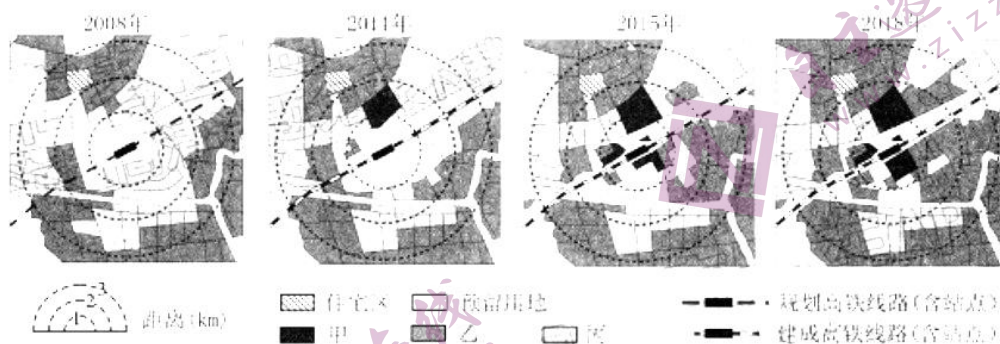


图2

4. 推测甲功能区主要土地利用类型是
A. 交通用地 B. 工业用地 C. 绿化用地 D. 商业用地
5. 导致2008—2018年丙土地利用类型面积变化的主导因素是
A. 土地租金 B. 人口密度 C. 交通通达度 D. 历史文化

雾凇由过冷水汽(温度低于 0°C)随微风在枝条等物体上不断冻结积聚而形成。西北内陆沙漠地区降雪后,在梭梭林等植株上容易出现雾凇现象(图3)。据此完成6~8题。

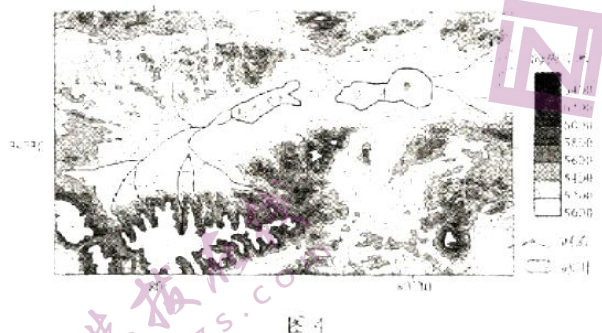


图3

6. 西北内陆沙漠地区雾凇多形成于雪后晴朗的夜晚,其直接原因是
①空气湿度大 ②地表湿度大 ③地面辐射强 ④大气逆辐射弱
A. ①③ B. ②③ C. ②④ D. ①④
7. 该地同一植株上雾凇易形成于
A. 迎风面 B. 背风面 C. 向阳面 D. 背阴面
8. 研究发现,西北内陆沙漠地区植株的枝条末端更易形成雾凇,其主要原因是
A. 距地面高,气温较低 B. 直径小,更易吸附水汽
C. 遮挡较少,光照较强 D. 蒸腾作用强,湿度较大

文科综合“一诊”考试题 第2页(共14页)

喀喇昆仑山北麓分布着龙木错（5002米）、松木希错（5045米）等多个因构造运动和气候演变形成的内陆湖泊（图4）。龙木错东侧分布着多达百条砂砾质古湖岸线，其中最高湖岸线海拔为5150—5180米。历史上龙木错和松木希错曾同属一个大湖，分离后龙木错湖面下降速度较松木希错快。据此完成9~11题。



9. 导致龙木错和松木希错湖泊分离的主要原因是
- A. 地壳抬升，气候趋于暖湿 B. 地壳抬升，气候趋于冷干
C. 地壳下降，气候趋于冷干 D. 地壳下降，气候趋于暖湿
10. 在龙木错东侧任一条砂砾质古湖岸线的形成过程中，湖泊面积
- A. 扩大 B. 缩小 C. 稳定 D. 反复变化
11. 与松木希错相比，龙木错湖面下降较快的主要原因是
- A. 流域面积大 B. 降水量少 C. 蒸发量大 D. 冰雪融水补给少
12. 2022年11月3日，美联储宣布加息75个基点，这是美联储本年度内的第六次加息，预计还将继续加息。在其他条件不变的情况下，这对世界经济的影响路径是
- ①美元贬值→美元计价的国际大宗商品价格上涨→进口国输入型通胀风险加大
②美元升值→美元资本回流美国→其他国家资产价格下跌，资本市场震荡加剧
③美元汇率上升→其他货币对美元贬值→其他国家清偿美元债务的压力加大
④美元汇率下跌→其他货币对美元升值→世界主要制造大国对美出口成本升高
- A. ①③ B. ①④ C. ②③ D. ②④
13. 盲盒，是指消费者不能提前得知具体产品款式的玩具盒子，具有随机属性。作为一种潮流玩具，盲盒精准切入年轻消费市场，考古盲盒、文具盲盒、零食盲盒等“盲盒+”商业模式也迅速产生，不少商家跟风而上。与此同时，盲盒也隐藏着虚假宣传、诱导消费、假冒伪劣等问题。对此认识正确的是
- ①盲盒兴起契合了年轻群体的求异消费心理
②盲盒模式实现了社会消费结构的转型升级
③经营者诚信经营才能使盲盒经济行稳致远
④健全市场规则是治理盲盒乱象的治本之策
- A. ①② B. ①③ C. ②④ D. ③④

文科综合“一诊”考试题 第3页（共14页）

14. 截至 2022 年 9 月底，全国登记在册的个体工商户达 1.11 亿户，其中大部分活跃在批发零售、住宿餐饮和居民服务等领域。2022 年 11 月 1 日，《促进个体工商户发展条例》正式施行。《条例》进一步明确了个体工商户的法律地位，开展分型分类帮扶，加强权益保护，将“放管服”改革成果制度化、规范化。这一举措

- ①致力于个体经济成为中国特色社会主义的重要支柱
- ②放开市场准入门槛，调动民间投资和创业的积极性
- ③支持实体经济发展，夯实国民经济发展的基础
- ④营造鼓励支持非公有制经济高质量发展的良好环境

A. ①② B. ①④ C. ②③ D. ③④

15. 2022 年 9 月 29 日，国产大飞机 C919 获中国民用航空局颁发的型号合格证。自 2007 年立项起，全国 24 个省市、1000 余家企事业单位、30 万人参与了大飞机的研制。我国成功探索出一条中国设计、系统集成、全球招标、逐步提升国产化的大飞机发展路子。这对我们的启示是

- ①核心技术是买不来的，必须走完全依靠自己的创新道路
- ②发挥新型举国体制优势，能增强我国科技自立自强能力
- ③积极参与国际分工与合作，能够推动中国制造创新发展
- ④坚持合作共赢，是提升我国科技创新能力的基本立足点

A. ①② B. ①④ C. ②③ D. ③④

16. 从 2012 至 2021 年，我国数字经济占 GDP 比重由 21.6% 提升到 39.8%。与 2015 年版相比，2022 年版《中华人民共和国职业分类大典》新增的 158 个新职业中，数字职业占了 97 个，包括“机器人工程技术人员”“数据库运行管理员”“数字孪生应用技术员”等。对此认识正确的是

- ①数字职业的出现反映了产业数字化、数字产业化的趋势
- ②数字职业增多，意味着就业门槛降低、就业方式多元化
- ③推动数字经济快速发展是缓解当前就业压力的根本途径
- ④发布新版职业分类大典有利于提升新职业的社会认同度

A. ①③ B. ①④ C. ②③ D. ②④

17. 表 1 为我国 2022 年前三季度累计 GDP 与税收收入情况

表 1

季 度	GDP		税收收入	
	总量 (亿元)	同比增长 (%)	总量 (亿元)	同比增长 (%)
2022 年第一季度	270177.8	4.8	52452	7.7
2022 年上半年	562641.6	2.5	85564	-14.8
2022 年前三季度	870269	3.9	124365	-11.6

注：从 2022 年 4 月 1 日起，我国实施大规模增值税留抵退税政策。

文科综合“一诊”考试题 第 4 页 (共 14 页)

对此解读正确的是

- ①受国际和国内形势的影响，我国经济总量持续下滑
- ②税收增速不断下降，严重削弱了政府宏观调控能力
- ③税收占 GDP 比重下降，推动国民收入分配格局变化
- ④为复苏经济，政府对企业的财政支持力度加大

A. ①② B. ①③ C. ②④ D. ③④

18. 我国养老保险体系第一支柱为基本养老保险，由政府主导；第二支柱为企业（职业）年金，由单位发起，定位是“补充养老”及“职工福利”；第三支柱包括个人储蓄型养老保险和商业养老保险，由个人主导，政府提供税收优惠。2022年11月，《个人养老金实施办法》正式发布，出台的个人养老金制度被看作是国家关于第三支柱的制度性安排。实施个人养老金制度

- ①拓宽了社会保险的覆盖范围，有利于实现我国居民老有所养
- ②坚持了个人自愿和政府激励的统一，能调动民众参与积极性
- ③发挥了第三次分配的积极作用，有利于推动全社会共同富裕
- ④完善了我国多层次养老保障体系，有利于提高居民养老质量

A. ①③ B. ①④ C. ②③ D. ②④

19. 2022年6月8日，国家安全部公布的《公民举报危害国家安全行为奖励办法》规定，公民发现危害国家安全的可疑行为或情况时，可以拨打电话12339或登录专门网络举报平台举报，国家依法对公民实施奖励，未经举报人同意，不得以任何方式泄露举报人身份相关信息。这一规定

- ①表明公民是权利的主体，也是义务的主体
- ②是基于公民利益和国家利益的完全一致性
- ③坚持了我国公民在法律面前一律平等原则
- ④有利于动员全社会力量共同维护国家安全

A. ①③ B. ①④ C. ②③ D. ②④

20. 公共服务外包，又称政府购买公共服务，采取“政府承担、定向委托、合同管理、评估兑现”的运作方式。某市政府服务热线前身是市长公开电话，因受话量越来越大，该市将其外包给某服务公司。营作一年，回复率达100%，回访满意率达到92%，群众热情不减反增。这一做法

- ①适应了现代社会“小政府、大社会”的要求
- ②减轻了政府责任，有利于降低行政管理成本
- ③实现了公共服务主体由政府向社会组织转变
- ④创新了公共服务方式，有利于改善服务供给

A. ①② B. ①④ C. ②③ D. ③④

文科综合“一诊”考试题 第5页（共14页）

21. 中共中央、国务院发布的《信访工作条例》自 2022 年 5 月 1 日起正式实施。本条例适用于各级党的机关、国家机关以及群团组织、国有企事业单位等开展信访工作。各级机关、单位应当畅通信访渠道，认真处理信访事项，牢记为民解难、为党分忧的政治责任。这表明
- ①信访工作是了解社情民意的重要窗口
 - ②信访是公民参与国家管理的基础和标志
 - ③信访工作是党的群众工作的重要组成部分
 - ④信访是公民依法参与民主决策的重要方式
- A. ①③ B. ①④ C. ②③ D. ②④
22. “直过民族”指新中国成立后，未经民主改革，直接由原始社会跨越到社会主义社会的民族。近年来，云南迪庆藏族自治州加强“直过民族”国家通用语言文字普及培训，通过送培上门、建立培训点、设立示范点等形式，累计集中培训超过 15 万人，成功创建 40 个普及普通话示范村。此举意在
- ①尊重和保障各民族使用本民族语言文字的权利
 - ②促进各民族干部群众语相通、心相连、情相融
 - ③保障少数民族自治权，彰显民族区域自治优势
 - ④增强中华文化认同，铸牢中华民族共同体意识
- A. ①③ B. ①④ C. ②③ D. ②④
23. 我国加入《湿地公约》30 年来，已初步建立起以国家公园、湿地自然保护区、湿地公园为主体的湿地保护体系。2022 年 11 月 5 日，国家主席习近平以视频方式出席《湿地公约》第十四届缔约方大会发表致辞，提出“凝聚珍爱湿地全球共识”“推进湿地保护全球进程”“增进湿地惠民全球福祉”的三点倡议。这些主张
- ①着眼人类共同利益，展现了中国的大国责任担当
 - ②顺应时代发展潮流，强化了世界多极化发展趋势
 - ③凝聚全球发展共识，谱写了全球湿地保护新篇章
 - ④增进全球民生福祉，构建了国际政治经济新秩序
- A. ①② B. ①③ C. ②④ D. ③④
24. 《诗经》中描绘的贵族和平民女子，多是“巧笑倩兮，美目盼兮”的端庄、娴雅淑女形象。“楚辞”中描绘的女子多含有“美人迟暮”“香草美人”的理想化政治意象。据此可知，《诗经》和“楚辞”的共同之处在于
- A. 植根于礼制传统
 - B. 蕴含着人文精神
 - C. 体现了平等意识
 - D. 彰显出士人风骨
25. 汉武帝在甘泉（今属陕西延安）、汾阴（今属山西运城）设立祠堂作为国家祭祀天地的最高场所；在长安营建明堂，并在此将新历颁赐给诸侯郡守；在全国各地广修祠庙以祭祀五岳四渎（指长江、济水、黄河、淮河）等山河。这些举措说明
- A. 分封制的社会影响仍然存在
 - B. 关中地区经济文化地位增强
 - C. 大一统治理得到统治者推崇
 - D. 儒学成为国家礼仪主要依据

26. 表 2 唐中后期京畿乡村普通农民家庭收支情况一览表

项目	粟	绢(绵)、布	钱
收入	粮食 52.2 石	绢(绵) 2.5 匹、布 5 端	/
支出	夏秋税 2.1 石	制衣绵 6 两	夏秋税钱、榷酒钱 2870 文
	口粮 39.5 石	制衣布 1 端 3 丈	耕牛 300 文
	其他 5.5 石		生产生活用品 1322 文
盈亏	5.1 石 (折合钱 4080 文)	绢(绵)1.5 匹、布 3 端 2 丈 (折合钱 1375 文)	-4492 文

据表 2 可知, 当时当地

- A. 农民生活相对稳定 B. 社会阶层分化加快
C. 赋税改革深得民心 D. 货币经济发展迅速

27. 宋代文人笔记中大量记载了当时“人家田产, 只五六年间, 便自不同”“贫富无定势, 田宅无定主”的现象。这表明宋代

- A. 贫富差距缩小 B. 崇富观念盛行 C. 世俗文学兴起 D. 社会流动加强

28. 平定准噶尔叛乱后, 乾隆皇帝命意大利籍宫廷画师郎世宁为阿玉锡、玛瑞两位勇士绘制功臣画像(如图 5、图 6), 并御笔题诗表彰其事迹, 悬于中南海紫光阁。乾隆此举意在




图 5 阿玉锡持矛荡寇图



图 6 玛瑞斫阵图

- A. 激扬勇武精神 B. 融汇中西画风 C. 宣扬帝王军功 D. 彰显强盛国力

29. 中国古代, 一些累世同居不分财的大家族被朝廷旌表为“义门”, 引为社会楷模。例如婺州浦江县(今属浙江)的“义门郑氏”, 先后被列入《宋史》《元史》《明史》的“孝友传”或“孝义传”; 元末农民起义军攻占浦江时, 相互告诫不得侵犯郑氏家族。这一现象说明了

- A. 朝野共同追求大同社会 B. 世家大族影响史书撰写
C. 儒学发展增进文化认同 D. 社会风气日益封闭保守

30. 1845—1854 年间, 英国领事阿礼国追踪福州出口土货的来源地和运销路线, 发现了福州与苏州、杭州、汉口等地的贸易网络; 梳理上海运销茶叶的路线, 发现了以鄱阳湖为中心的贸易网络。这些新发现

- A. 促使晚清政府加大开放力度 B. 便利了西方入侵中国的内陆市场
C. 表明英国开始窃取商业情报 D. 揭开了列强划分势力范围的序幕

文科综合“一诊”考试题 第 7 页(共 14 页)

31. 1903年,《湖北学生界》杂志刊登《痛黑暗世界》,指出“十九世纪之腥风血雨”,已“自大西洋移至太平洋,而演地球上空前绝后之悲惨剧”,中国人应当“奋身跳入二十世纪之新舞台,掷头颅,洒鲜血,以求子孙之立足地者也”。这反映出
- A. 反对君主专制成为时代呼声
B. 振兴中华的使命感与紧迫感
C. 湖北学生引领救亡图存浪潮
D. 揖美追欧思潮的反思与退却
32. 1941年,冀中抗日根据地开展“冀中一日”写作运动,收到来自干部、士兵和老百姓共5万多篇稿件(如图7所示)。这一写作运动

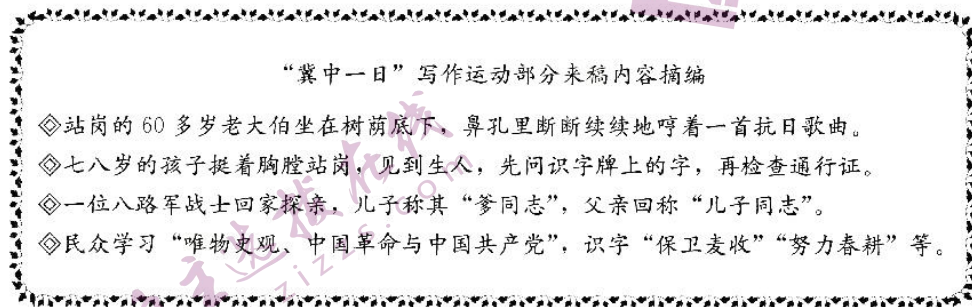


图7

- A. 抓住了抗日战争形势好转的时机
B. 广泛传播了土地革命的方针
C. 增强了根据地军民的政权认同感
D. 有效提高了根据地文化水准
33. 1953年,第一次全国普选正值农忙,农民最初积极性不足。但这种情况很快发生变化,很多农民把选民证称为“当家作主证”,和土地证一起放到箱子里保存;还有妇女主动向村干部索要选民证;还有行动不便的老人因未能参加选举而埋怨村干部。这一变化可以反映当时
- A. 社会动员取得成效
B. 基层民主自治的发展
C. 农民政治地位提高
D. 社会主义改造的推进
34. 1965—1966年,中共中央西南局总结出工厂与公社结合的新模式,主要内容为“厂社结合,工农并举,两种所有,分别核算,互相支援,等价交换,大庆大寨,共同发展”。当时,总结和推广这一新模式的意图是
- A. 克服计划经济体制的弊端
B. 消除城乡社会发展的鸿沟
C. 促进国民经济结构的调整
D. 探索工农协调发展的路径
35. 20世纪五六十年代,我国重点发展国防尖端技术。改革开放初期,党和政府将发展新技术以推动经济建设提到议事日程上来,1986年,以“军民结合,以民为主”为基本方针的863计划出台。导致这一转变的主要原因是
- A. 国际形势的缓和
B. 科教兴国的要求
C. 市场经济的发展
D. 国家战略的变化

第Ⅱ卷（非选择题，共160分）

二、非选择题：共160分。第36~42题为必考题，每个试题考生都必须作答。第43~46题为选考题，考生根据要求作答。

（一）必考题：共135分

36. 阅读图文材料，完成下列要求。（22分）

螺蛳粉是广西柳州著名小吃，2018年被评为国家地理标志产品，2020年入选国家级非物质文化遗产。螺蛳粉口味浓重独特，原料多产自本地，螺蛳汤不易长期储存。目前，柳州螺蛳粉已实现产业化、标准化、规模化，2021年柳州袋装螺蛳粉销售收入达151.97亿元，全国堂食门店营业额206.8亿元。图8示意柳州螺蛳粉的发展历程。

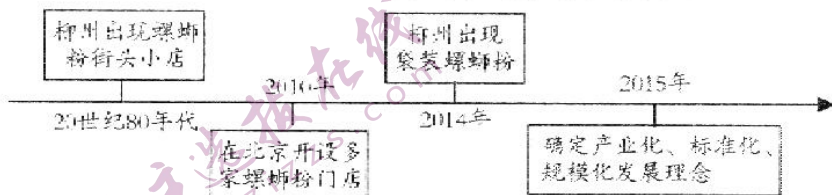


图8

- (1) 2010年在北京开设的螺蛳粉门店效益不佳，简述其原因。（8分）
- (2) 与“现煮堂食”相比，分析袋装化对扩大螺蛳粉市场的作用。（8分）
- (3) 有人认为，柳州螺蛳粉产业的发展会对螺蛳粉堂食门店造成冲击，你是否赞成，请表明观点并说明理由。（6分）

37. 阅读图文材料，完成下列要求。（24分）

冰川泥石流是由冰雪融水或冰湖溃决冲蚀形成的含有大量泥砂石块的特殊洪流，其形成的堆积体常对河道产生影响。藏东南帕隆藏布江流域是我国冰川泥石流的多发地区，随着气温升高，该流域冰川泥石流发生的频率增加。图9示意帕隆藏布江流域某沟谷冰川泥石流堆积体对河道的影响。




图9

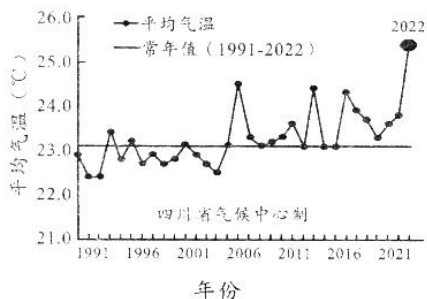
- (1) 从地形地质条件的角度说明帕隆藏布江流域冰川泥石流多发的原因。（6分）
- (2) 分析气温升高对帕隆藏布江流域冰川泥石流发生频率增加的影响。（6分）
- (3) 与入海口三角洲相比，指出图中冰川泥石流堆积体中沉积物的差异。（6分）
- (4) 说明图中冰川泥石流堆积体对虚线框内河岸形态变化的影响过程。（6分）

文科综合“一诊”考试题 第9页（共14页）

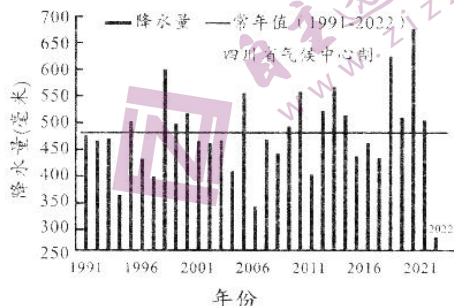
38. 阅读材料，完成下列要求。(14分)

材料一 四川省的发电量位居全国第六，水电发电量位居全国第一。2022年7月以来，四川省很多地方开始拉闸限电。

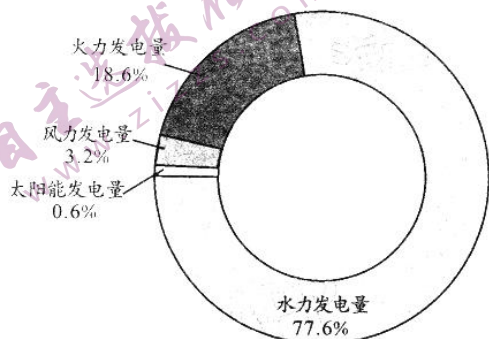
6月以来全省平均气温历史同期变化



6月以来全省平均降水量历史同期变化



2022年1-7月四川省发电结构占比图



材料二 2022年11月10日，四川省出台全国首份碳市场能力提升行动方案，提出要实施可再生能源电力消纳保障机制，促进重点排放行业可再生能源电力和绿电交易、替代、消纳。

绿电交易是在电力中长期交易框架下，为风电、光伏发电等绿色电源单独设计的交易品种。用电企业可以通过电力交易的方式购买风电、光伏发电等新能源电量，消费绿色电力，并获得相应的绿色认证，进而可以享受税收优惠等政策支持。以前电力市场中买卖的大部分都是火电等常规电源，如今绿电有了专属交易通道，意味着有更多主体加入其中。在电力市场交易和电网调度运行中，绿色电力优先组织、优先安排、优先执行、优先结算。

运用所学经济学知识，根据材料一分析四川此轮限电的主要原因，(6分)并结合材料二分析四川省推进绿电交易的重要作用。(8分)

39. 阅读材料，完成下列要求。(10分)

公民写一封信或动动鼠标，就能撬动最高国家权力机关的审查程序，推动一部法规的修改，进而让有违公民权利的规定得到纠正。近年来，备案审查制度的“威力”不断显现。2021年，通过全国人大备案审查信息意见建议平台提出的审查建议达5065件。

☆某省《物业管理条例》规定：小区业主参选业主委员会的前提条件之一是必须“按时缴纳物业费”。该省居民张先生给全国人大常委会法工委写信，指出这与民法典和国务院《物业管理条例》有关规定相抵触，建议对其进行审查。法工委立即启动备案审查并回应：

该规定缺乏上位法依据，不符合立法原意和法治精神，制定机关应对相关规定进行修改。

☆某市《机动车停车条例》规定：未按规定缴纳道路停车费，处200元罚款。这一规定让车主叫屈：“停车费只有几块钱，为啥就得罚两百？”某市民给法工委写信指出，条例规定有违“无过错、不处罚”的法治原则、比例原则，建议对其进行审查。经审查研究，法工委向该省人大常委会发函，指出条例存在的问题并提出修改建议。

结合材料和所学政治生活知识，分析备案审查制度对推动全面依法治国的作用。

40. 阅读材料，完成下列要求。(28分)

材料一 1945年，延安。毛泽东同志面对黄炎培“其兴也勃焉，其亡也忽焉”的“历史周期率之问”，给出了第一个答案，那就是“只有让人民来监督政府，政府才不敢松懈”。

2022年，北京。习近平总书记在党的二十大报告中强调：经过不懈努力，党找到了自我革命这一跳出治乱兴衰历史周期率的第二个答案，确保党永远不变质、不变色、不变味。

1949年，在中国共产党从西柏坡出发“进京赶考”开启建设新中国的历史征程之际，毛泽东同志在党的七届二中全会上提出“两个务必”：务必使同志们继续地保持谦虚谨慎、不骄不躁的作风，务必使同志们继续地保持艰苦奋斗的作风。

2022年，习近平总书记在党的二十大报告中强调，“全党同志务必不忘初心、牢记使命，务必谦虚谨慎、艰苦奋斗，务必敢于斗争、善于斗争”。“三个务必”是基于对党所处历史方位、面临形势任务进行深刻分析作出的重大论断，彰显了百年大党新时代赶考的清醒和坚定。

(1) 从“第一个答案”到“第二个答案”，从“两个务必”到“三个务必”，彰显了中国共产党的政治品格。结合材料一和政治生活相关知识对此加以说明。(12分)

材料二 党的二十大报告指出，完善农业支持保护制度，健全农村金融服务体系。

稻谷、小麦、玉米是老百姓饭碗里的主要粮食品种。为防范农业生产面临的自然灾害、市场波动双重风险，农业生产大省H省出台三大粮食作物完全成本保险和种植收入保险试点方案，促使农业保险逐渐由保农业生产部分成本向保总成本、向保收入转变。

《方案》要求，完全成本保险覆盖直接物化成本、土地成本和人工成本等农业生产总成本，以水稻为例，保险金额达到1405元/亩，是直接物化成本保险的2.99倍，保险责任涵盖H省主要的自然灾害、重大病虫害和意外事故等。玉米收入保险覆盖玉米种植收入，保险金额达到1074元/亩，是直接物化成本保险的3.36倍，保险责任涵盖玉米价格、产量波动导致的收入损失。保障对象不受限制，惠及各类型农户。相比于传统小农户，这一方案更契合家庭农场、农民合作社、农业社会化服务组织等新型农业经营主体的风险保障需求。新型经营主体规模较大，生产专业化、集约化程度高，所以面临更大的自然风险、市场风险。

《方案》同时要求承保机构按照“保本微利原则”厘定保险费率。所缴保费中，财政补贴80%，其中中央财政45%、省级财政25%、试点县级财政10%，投保农户自己承担20%。

(2) 结合材料和所学经济知识，说明H省开展上述保险试点的积极意义。(12分)

(3) 党的二十大报告强调，科技是第一生产力，人才是第一资源，创新是第一动力。千秋基业，人才为本。“两个一百年”奋斗目标的实现、中华民族伟大复兴中国梦的实现，归根到底靠人才。请你就推进新时代科技创新人才的培养提两点政策性建议。(4分)

文科综合“一诊”考试题 第11页(共14页)

41. 阅读材料，完成下列要求。(25分)

材料一 清朝时，北京有很多皇家园林，由内务府的特别机构奉宸苑管理和维持。紫禁城内有皇家花园；皇城内北海、中海和南海三大湖泊，亭台楼阁点缀其间；城郊有颐和园。此外，北京城还有众多皇室庙宇，如社稷坛、太庙、天坛、地坛、先农坛等。高官显贵往往拥有华丽的花园，老百姓只能偶尔逛逛民间庙会和城郊的西山，街道成为他们最主要的娱乐场所。

1914年，民国政府建立京都市政公所，让其担负改造旧的城市面貌从而改善人民生活。同年，社稷坛被市政公所改造为中央公园，向公众开放，成为北京第一个近代公园。其建设经费主要依靠北洋政府财政支出、城市居民捐赠以及门票收入。后来，北海、天坛、颐和园等纷纷向公众开放，近代公园逐渐发展成为集娱乐、商业、文化和政治活动于一体的多功能场所。

——据(美)史明正《从御花园到公园——20世纪初北京城市空间的变迁》

(1) 根据材料一并结合所学知识，指出20世纪初北京城近代公园与传统皇家园林、庙宇的差异。(6分)

材料二 清末民初，归国学人引入西方“都市森林化”城市规划理论。1931年，国民政府实业部第一次下令要求各省市筹建森林公园，以开发城市风景、增益民众健康，南京、北平等先后响应。1934年，经实业部再次敦促后，汉口、开封等着手试行；两年后，实业部又提醒其余省市筹设切勿懈怠。然而不久后该令几近中止，森林公园建设不了了之。许多“在建”的森林公园并未完成；建成的森林公园，因城市交通和经济条件所限，主要吸引热衷西式生活风尚的都市青年或中上层社会群体，普通市民对森林公园的接受程度并不高。

——据左承颖《“森林”进入城市：民国时期森林公园筹设研究》

(2) 根据材料二并结合所学知识，概括影响南京国民政府统治时期森林公园建设的主要因素，并分别予以说明。(15分)

材料三

表3 改革开放以来我国城市绿色高质量发展目标

年份	1980	1989	1991	1992	2001	2007	2013	2017	2018
目标	绿色城市	卫生城市	山水城市	园林城市	宜居城市	生态园林城市	海绵城市	森林城市	公园城市

——据韩若楠等《改革开放以来城市绿色高质量发展之路》

(3) 根据材料三并结合所学知识，指出改革开放以来中国城市绿色高质量发展所蕴含的先进理念。(4分)

文科综合“一诊”考试题 第12页(共14页)

42. 阅读材料，完成下列要求。(12分)

材料

参考文献

一、档案

1. 上海市档案馆藏档，上海市社会局档案，全宗号 Q5
2. 北京市档案馆藏档，北平市社会局档案，全宗号 J002

二、近代报刊

1. 申报
2. 新青年

三、专著

1. 唐宝林等：《陈独秀年谱》，上海人民出版社 1988 年版
2. 熊月之：《西学东渐与晚清社会》，上海人民出版社 1994 年版
3. 李剑农：《中国百年政治史》，复旦大学出版社 2002 年版
4. 《毛泽东选集》第 1—4 卷，人民出版社 1995 年版
5. 《邓小平文选》第 1—3 卷，人民出版社 1994 年版

四、期刊文献

1. 萧功秦：《中国百年现代化的六次政治选择——从清末新政到当代改革开放》，《历史教学》，2007 年第 7 期
2. 李长莉：《晚清社会风习与近代观念的演生》，《社会学研究》，1993 年第 6 期

(注：参考文献是指为撰写或编辑论文与著作而引用的有关文献信息资源。)

图 10

图 10 可作为某一研究主题的论文的参考文献。根据材料信息并结合所学知识，推断该论文可能的研究主题，并阐述理由。(要求：使用不少于三种类型的参考文献，主题明确，史实准确，论证充分，表述清晰)

(二) 选考题：共 25 分

请考生在第 43、44 两道地理题中任选一题作答，如有多做，则按所做第一题计分。并用 2B 铅笔在答题卡上把所选题目题号后的方框涂黑。

43. [地理选修 3：旅游地理] (10 分)

江南水乡古镇乌镇位于浙江嘉兴，是世界互联网大会的永久会址。乌镇东栅景区以茅盾故居为核心，设计出清晰的旅游观光路线，游览时长达两个多小时。西栅景区建有风格各异、层次鲜明的酒店客栈，以商务旅游、休闲度假为主。近年来景区推出每月一节的传统民俗活动，成功打造乌镇戏剧节、当代艺术邀请展等文化活动。目前，“乌镇模式”已成为古镇旅游的典范。

说明“乌镇模式”对我国古镇旅游发展的启示。

44. [地理选修 6：环境保护] (10 分)

农村的环境保护长期被忽视，环境污染较为严重，生态环境质量下降。成都某地新农村建设将农村居民集中安置(图 11)，实行“新房舍、新设施、新农民、新环境、新风尚”的建设模式，改善了农村居民的生活条件，农村环境污染治理上取得了较好的效果。

文科综合“一诊”考试题 第13页(共14页)



图 11

说明该地新农村建设对农村污染治理的积极作用。

请考生在第 45、46 两道历史题中任选一题作答，如果多做，则按所做第一题计分。并用 2B 铅笔在答题卡上把所选题目题号后的方框涂黑。

45. [历史选修 1：历史上重大改革回眸] (15 分)

材料 在镇压太平天国和经办洋务的过程中，越来越多的款项由地方自行支配，而未向朝廷“奏销”。朝廷虽多次谕令各省奏报，但收效甚微。1906 年，传统的户部和 1903 年新设的财政处被合并为度支部。1909 年初，朝廷颁布《度支部清理财政章程》，在度支部设立清理财政处，各省设立清理财政局，作为中央与地方专门负责清理财政的管理机构，并由度支部向各省派出监理官，以加强督促管理。此后，各省先后编辑、完成了《财政说明书》，详细统计了各省收入的田赋、漕粮、盐课、关税等款项和支出的廉俸、军饷、教育、巡警等款项。各省财政经过爬梳整理，渐有眉目。1911 年，清廷又依据《试办全国预算暂行章程》，编制出了各省和全国的预算。由于财政赤字大幅上升，朝廷在核定预算时，对地方支出大幅核减，督抚纷纷“致电反对”。

——据张海鹏主编《中国近代通史》等

- (1) 根据材料并结合所学知识，概括清末清理财政的措施。(8 分)
- (2) 根据材料并结合所学知识，指出清末清理财政的影响。(7 分)

46. [历史选修 4：中外历史人物评说] (15 分)

材料 徐霞客 (1586—1641)，古代著名的地理学家和旅行家。他受耕读世家的文化熏陶，幼年好学，博览群书，尤钟情于地经图志，一生不求仕进，将时间和精力用在旅行考察上。自 22 岁起，三十余年几乎年年外出旅行，今广西、贵州、云南是他游历时间最长的地方。他访问群众、搜集文献、采集标本，对各地的地貌、地质、水文、气候、生物等状况进行深入细致的考察，随即写出详细的考察日记，即《徐霞客游记》。

《徐霞客游记》内容非常丰富，除了有对山川风光的描写和对地理现象的记录，还详录了地方生产状况、社会民情、民族风俗等社会人文方面的内容。经过考察，徐霞客否定了当时被奉为经典的《尚书·禹贡》中“岷江导江”的说法，提出金沙江才是长江的源头。

——据袁行霈《中华文明史》

- (1) 根据材料并结合所学知识，指出徐霞客能够取得科学成就的原因。(8 分)
- (2) 根据材料并结合所学知识，概括说明《徐霞客游记》的史学价值。(7 分)

文科综合“一诊”考试题 第 14 页 (共 14 页)

关于我们

自主选拔在线是致力于提供新高考生涯规划、强基计划、综合评价、三位一体、学科竞赛等政策资讯的升学服务平台。总部坐落于北京，旗下拥有网站（[网址: www.zizzs.com](http://www.zizzs.com)）和微信公众平台等媒体矩阵，用户群体涵盖全国90%以上的重点中学师生及家长，在全国新高考、自主选拔领域首屈一指。

如需第一时间获取相关资讯及备考指南，请关注**自主选拔在线**官方微信号：**zizzsw**。



微信搜一搜

自主选拔在线