

文科综合试卷

注意事项:

1. 答题前, 考生务必用黑色碳素笔将自己的姓名、准考证号、考场号、座位号在答题卡上填写清楚。
2. 每小题选出答案后, 用 2B 铅笔把答题卡上对应题目的答案标号涂黑。如需改动, 用橡皮擦干净后, 再涂其他答案标号。在试题卷上作答无效。
3. 考试结束后, 请将本试卷和答题卡一并交回。满分 300 分, 考试用时 150 分钟。

一、选择题 (本大题共 35 小题, 每小题 4 分, 共 140 分。在每小题给出的四个选项中, 只有一项是符合题目要求的)

“麦客”是历史上陕甘宁地区在成熟季节, 迁徙于该区替农户收割麦子的人。近年来“麦客”已经很少见了。据此完成 1-3 题。

1. “麦客”迁徙劳作主要反映了小麦种植区存在

①品种差异 ②南北差异 ③海拔差异 ④技术差异

- A. ①③ B. ②③ C. ①④ D. ②④

2. 推测麦客迁徙劳作的时间段

- A. 4 月前后 B. 6 月前后
C. 8 月前后 D. 10 月前后

3. 近年来“麦客”越来越少见, 其原因最不可能是

- A. 小麦播种面积减少 B. 城市化水平提高
C. 机械化水平提高 D. 小麦品种改良

秭归长江大桥于 2015 年 8 月 28 日动工兴建, 2019 年 9 月 27 日通车运营。距上游三峡大坝约 30 千米, 处长江西陵峡口, 山体多为石灰岩, 崖高陡峭, 地质破碎。该桥把长江三峡、神农架、武当山等黄金旅游区以最便捷路线串为一体, 是三峡后续规划项目和库区移民重大民生工程。图 1 为秭归长江大桥景观图。据此完成 4-5 题。

4. 该桥建设时间较长的主要原因是

- A. 资金短缺
B. 交通不便
C. 技术难题多
D. 劳动力不足



图 1

5. 该桥通车运营, 产生的综合效益是

- A. 推动沿线地区乡村振兴 B. 减小当地环境人口容量
C. 改善沿线地区生态环境 D. 使交通运输方式多样化

浙江省台州市三桥中学组织学生去太和山野外研学，图2左图为台州市椒江区城市空间分布示意图，右图为学生去太和山主峰的考察路线图。据此完成6~8题。




图2

6. 学生在研学途中发现大量具有层理构造的岩石出露，推断太和山所经历的地质作用依次为
 - A. 风化侵蚀—浅海沉积—地壳上升
 - B. 地壳上升—浅海沉积—风化侵蚀
 - C. 风化侵蚀—地壳上升—浅海沉积
 - D. 浅海沉积—地壳上升—风化侵蚀
7. 明珠里水库的集水谷地共有
 - A. 1组
 - B. 2组
 - C. 3组
 - D. 4组
8. 根据左图中的地形、河流及城市空间分布等信息，推测台州市椒江区城市地域空间发展顺序为
 - A. 1→2→3→4
 - B. 4→2→3→1
 - C. 3→2→1→4
 - D. 3→4→1→2

读图3“某区域示意图”，完成9~11题。

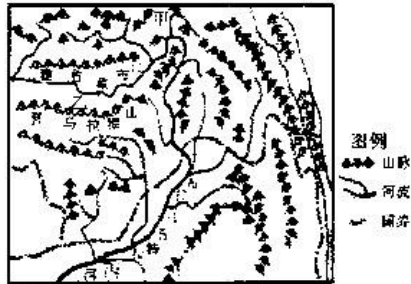
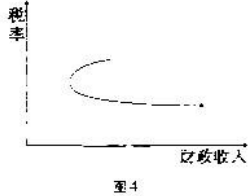


图3

9. 图示区域的抬升
 - A. 增大了湿润区域面积
 - B. 切断了副热带高压带
 - C. 促进了黄土高原的形成
 - D. 减小了中亚的气温年较差
10. 区域内甲、乙、丙三地农业类型依次是
 - A. 畜牧业、河谷农业、水稻种植业
 - B. 灌溉农业、河谷农业、畜牧业
 - C. 畜牧业、灌溉农业、水稻种植业
 - D. 灌溉农业、河谷农业、水稻种植业

11. 随着板块运动的持续发展, 图示区域
- A. 太阳辐射量减少
B. 植被覆盖率降低
C. 耕地面积增加
D. 水能开发条件变好
12. 近几年我国实行大规模减税降费政策, 其中, “减税”是指“税收减免”。该政策实施以来, 国家财政收入呈现如图 4 的变化, 其形成原因可能有
- ①企业税费成本降低带动企业盈利水平的提高
②个税改革增加居民收入, 对社会消费增长带来拉动作用
③税率与财政收入成正相关
④税收是取得财政收入的基本形式
- A. ①②
B. ①③
C. ②④
D. ③④
- 
- 图 4
13. 一般来说, 利率的变动可能会对股市行情产生一定的影响, 其影响的推导途径正确的是
- ①债券利率提高——股票收益减少——投资者调整投资方向——股票投资减少
②经济增速放缓——生产动力不足——投资股票收益低于存款——股票投资减少
③存款利率提高——存款收益增加——居民储蓄意愿增强——股票投资减少
④贷款利率提高——贷款成本增加——企业利润减少——股票投资减少
- A. ①②
B. ①③
C. ②④
D. ③④
14. 11月19日, 国家电网有限公司引入社会资本专场推介会当日在京举行, 12个重点混改项目进行了现场推介。国家电网有限公司作为有实力、可信赖、负责任的合作伙, 将秉持开放共享、合作共赢的理念, 畅通合作渠道, 尊重各方诉求, 保障各方权益, 与各类社会资本共同发展, 共创共赢。国家电网有限公司混合所有制改革有利于
- ①保持国有资本在国家电力领域中的主体地位和控制力
②我国各种所有制资本共同发展
③国有资本增强控制力, 提高竞争力
④提升非公有制经济在国民经济中的地位
- A. ①②
B. ①③
C. ②③
D. ③④
15. 国家税务总局近日发布《关于纳税信用修复有关事项的公告》, 明确2020年1月1日起, 对纳入纳税信用管理的企业纳税人, 通过作出信用承诺、纠正失信行为等方式开展纳税信用修复, 进一步鼓励和引导纳税人增强依法诚信纳税意识, 积极构建以信用为基础的常态化税收监管机制。材料体现了
- ①信用监管对诚信纳税的引导, 发挥信用管理正向激励作用
②市场经济建立在信用基础上, 良好信用可以促进市场交易
③营造法治公平的税收环境, 让每个人都能主动遵守信用规则
④对失信者施以信用惩戒, 承受相应的失信成本
- A. ①②
B. ①③
C. ②③
D. ③④



自主招生
微信号

16. 社会保障是近年全国两会最热话题,受到高度关注。目前社会保障制度存在城镇社会保险覆盖面窄且难以扩大,社保基金难以维持,社保基金管理漏洞多,农村地区的社会保障体系有待健全,社会保障法制滞后等问题。下列关于公民对社会保障存在的问题采取措施的合理传导路径是
- ①公民提出建议→政府对社会保障制度进行决策→完善社会保障制度体系
②公民行使监督权→发现企业或个人信息侵权行为→公民行使诉讼权
③公民选举人大代表→全国人大行使立法权→完善社会保障立法
④公民参与民主管理→政府履行职能→加强社会保障建设
- A. ①③ B. ①④ C. ②③ D. ②④
17. 全国基层政权和社区建设专家委员会自成立以来,充分发挥了政策咨询、督导评价、调查研究职责,切实加强了基层政权建设和社区治理的人才支撑和智力支持。在推动理论创新、实践创新和制度创新等方面作出了积极贡献。全国基层政权和社区建设专家委员会
- ①作为基层群众自治组织的派出机关,有利于更好地促进基层政权建设
②为基层政权建设提供人才和智力支持,有利于加强基层人大和政府的建设
③通过政策咨询、督导评价、调查研究,促进基层政权机关科学民主依法决策
④推动理论创新、实践创新和制度创新,加强社区这一基层群众自治组织的自身建设
- A. ①② B. ①③ C. ②③ D. ③④
18. 十三届全国政协第29次双周协商座谈会于2019年11月8日在京召开。中共中央政治局常委、全国政协主席汪洋主持会议并讲话。他强调,健康是民族之大事,国之大计。要贯彻落实习近平总书记关于健康中国建设的重要论述,为实现中华民族伟大复兴提供坚实健康基础。12位政协委员和专家学者围绕推进健康中国战略的政策法规、体制机制、宣传教育、科技支撑等建言咨政。材料说明
- ①政协委员可以参政议政,为健康中国战略问题建言献策
②中国共产党是社会主义事业的领导核心,坚持思想领导
③人民政协懂政治,增强政治意识、大局意识、核心意识、看齐意识
④政协委员善议政,使协商议政真正成为管理国家事务的重要环节
- A. ①② B. ①③ C. ②④ D. ③④
19. 2019年8月,河北省佛教慈善基金会开展助学行动走进承德。为当地贫困学子发放助学金,此次共资助贫困学子66名,发放助学金3.96万元。这说明
- ①宗教对促进社会和谐稳定有一定的积极作用
②宗教崇德向善的宗教教义与中华文化相融合
③宗教教义与当代中国发展进步要求是一致的
④宗教组织和信教群众依法开展正常宗教活动
- A. ①② B. ①③ C. ②④ D. ③④

20. 习近平同志多次强调,要“不忘本来、吸收外来、面向未来”。这指出了新时代推动文化建设的思想方法和工作方法,为坚定文化自信、不断铸就中华文化新辉煌、建设社会主义文化强国指明了前进方向。以下对材料理解正确的是
- ①“不忘本来”就是要对传统文化兼收并蓄,全盘继承
②“吸收外来”就是要辩证取舍外来文化,开放包容
③要坚持实践为中心的创作导向,自觉担负文化使命
④“面向未来”就是要创新发展,开辟中华文化新境界
- A. ①② B. ②③ C. ③④ D. ③④
21. 仁者见仁,智者见智体现的哲理是
- ①认识具有主体差异性
②真理面前人人平等
③认识具有反复性
④价值判断与价值选择因人而异
- A. ①② B. ①③ C. ②③ D. ①④
22. 新陈代谢是生命体最主要的生命活动形式。新陈代谢过程中既有同化作用,又有异化作用。同化作用是指生物体把从外界环境中获取的营养物质转变成自身的组成物质,并且储存能量的变化过程。异化作用是指生物体把自身的一部分组成物质加以分解,释放出其中的能量并且把分解的终产物排出体外的变化过程。细胞的上述新陈代谢过程蕴含的哲理是
- ①辩证否定是事物发展的根本动力
②矛盾的普遍性与特殊性相互联结
③世界上任何事物都处于联系之中
④矛盾双方的对立统一推动事物发展
- A. ①② B. ①③ C. ②④ D. ③④
23. 中华人民共和国中央军委委员会主席习近平于2019年10月28日签署通令,嘉奖参加第七届世界军人运动会的中国人民解放军体育代表团运动员、教练员。嘉奖令指出,在运动会中,全体运动员、教练员作为解放军和武警部队官兵的代表,征战赛场、勇攀高峰,传递友谊、共筑和平,取得了运动成绩与精神文明双丰收,为祖国和人民赢得了荣誉,为国旗争了光,为军旗添了彩!材料体现了
- ①人既是价值的创造者又是价值的享受者
②只有遵循社会发展规律才能树立正确的价值观
③在个人与社会的统一中实现人生价值
④价值观引导人们作出正确的行为选择
- A. ①② B. ①③ C. ②③ D. ③④



24. 《竹书纪年》记载：“舜囚尧于平阳，取之帝位”；而《史记·五帝本纪》的记载是：“尧知子丹朱之不肖，不足以授天下，于是乃权授舜”。材料说明
- A. 第二手资料根本没有史料价值
 - B. 历史上的禅让制本身不存在
 - C. 历史结论与研究立场密切相关
 - D. 历史记载无法还原历史真相
25. 自秦汉时期丞相制度建立以后，与春秋战国时代相比，掌握实权的人数减少了，国家权力就更容易集中，杜绝了春秋战国以来“政出私门”的现象。这表明，丞相制度的建立
- A. 加剧与皇权的矛盾
 - B. 保证了皇权的独尊
 - C. 有利国家长治久安
 - D. 提高政府行政效率
26. 明朝学者谢杰认为：“倭夷之蠢蠢者，自昔鄙之曰奴，其为中国患，皆潮、漳、宁绍人主之也；寇与商同入，市则视转为商，市禁则商转为寇。”据此可知，明朝倭患的经济根源是
- A. 唐以来商品经济发展
 - B. 明朝政府实行的赋税政策
 - C. 重农抑商政策的改变
 - D. 日本和中国市场联系紧密
27. 梁启超在《新史学》一文中批判道：“知有朝廷而不知有国家，知有个人而不知有群体，知有陈迹而不知有今务，知有事实而不知有理想；能复述而不能创获，能因袭而不能创作。”下列内容属于梁启超批判对象的是
- A. 汉代儒学
 - B. 程朱理学
 - C. 陆王心学
 - D. 乾嘉考据学
28. 1860年，咸丰皇帝在英法联军攻陷北京后的中英谈判中慨叹：“此次夷务，步步不得手，致令夷酋面见臣弟（奕訢），以属不成事体。”奕訢自己也对其从“岂肯与异类为伍”到“又不能不与会晤之势”耿耿于怀。上述现象反映出清政府
- A. 推行洋务运动的必要性
 - B. 依据当时局势与时俱进
 - C. 形成了近代平等的外交
 - D. 竭力维护传统纲常礼教

29. 1894年甲午战争爆发前, 28岁的孙中山在《上李鸿章书》中明确提出: “窃尝深维欧洲富强之本, 不尽在于船坚炮利, 垒固兵强; 而往于‘人能尽其才, 地能尽其力, 物能尽其用, 货能畅其流’。此四事者, 富强之大经, 治国之大本也。”材料可以说明孙中山
- A. 是中国民主革命的先行者
B. 寄希望于清政府进行改革
C. 认同洋务运动的强国主张
D. 认为思想进步能拯救中国
30. 1937年8月, 日本《朝日新闻》上海特派员尾崎秀实在其一篇文章中写道: “日本并非是对付支那(支那: 对中国的蔑称) 统一政权国民政府, 而是与整个支那民族为敌。”并得到不少同情中国的日本人认同。材料反映了
- A. 中华民族意识已经觉醒
B. 日本已认识到侵华必败
C. 国民政府推行消极抗日
D. 日本准备改变侵华策略
31. 下表是1953~1985年中国农业总产值平均增长率, 其中1963~1965年增长最快, 主要原因是

时间	年均增长率(%)
1953~1957年	4.5
1958~1962年	4.3
1963~1965年	11.1
1966~1970年	3.9
1971~1975年	4.0
1976~1980年	5.1
1981~1985年	8.1

——摘编自《中华人民共和国经济史》

- A. 优先发展农业的政策
B. 工农业生产平衡发展
C. 国家经济政策的调整
D. 苏联经济援助和扶持
32. “在中国古代社会, 人们从伦理角度看待财产关系, 而不是从个人权利的角度看待财产关系。而在古代欧洲, 财产关系主要是由契约规定的。”符合以上中外历史现象的是
- A. 古代中国的《秦律》
B. 古罗马的法律原则
C. 英国的《权利法案》
D. 卢梭的“社会契约论”

33. 彼得·盖伊在《启蒙运动》一书中认为：“在文艺复兴时期的文人中间，完全世俗的、完全清醒的世界观，相对来说是很少见的……神圣的东西仍是文艺复兴时期雕塑家、建筑师和画家的中心主题。”上述历史现象产生的主要原因是
- 教会的世界观具有一定的合理性
 - 新兴资产阶级的软弱性和妥协性
 - 成熟资产阶级文化体系尚未形成
 - 早期人文主义带有个人主义倾向
34. 2016年11月29日，法国国民议会在巴黎公社革命145周年之际，依据《宪法》34—1条款通过了第907号决议，由议长克洛德·巴赫托洛纳签署“为所有遭镇压的1871年巴黎公社社员平反”。这项决议用的是“平反”而不是“赦免”，其主要依据是肯定巴黎公社
- 是无产阶级建立政权的尝试
 - 把马克思主义从理论变为现实
 - 体现了伟大的爱国主义精神
 - 使法国的国家性质发生了变化
35. 下表为当今世界表现活跃的国际组织。据此推断

国际组织	性质
国际货币基金组织	国际法定金融机构
世界银行	国际法定金融机构
亚太经合组织	经济合作官方论坛
世界贸易组织	国际法定贸易组织
八国集团	主要资本主义大国非正式论坛（2014年美国为首的七国宣布暂停俄罗斯成员国地位）
二十国集团	主要经济大国非正式论坛

- 全球经济出现逆全球化趋势
- 西方发达国家国际地位衰落
- 经济区域集团化是主要趋势
- 国际经济格局呈现新的趋势

二、非选择题（共 160 分，第 36~41 题为必考题，每个试题考生都必须作答。第 42~46 题为选考题，考生根据要求作答。把答案填写在答题卡上相应的位置，在试题卷上作答无效）

（一）必考题（共 6 小题，共 135 分）

36.（24 分）阅读图文材料，完成下列要求。

仙人掌喜强光、耐炎热、干旱和贫瘠，生长适温为 20~30℃，多刺和绒毛，广泛用于食品、药品、化妆品等领域。墨西哥被称为“仙人掌之国”，该国仙人掌主要分布于加利福尼亚湾沿岸。近年来，墨西哥某清洁能源公司利用仙人掌生产生物燃料——甲烷。2015 年，墨西哥建立了世界上第一家仙人掌发电厂，至今，仙人掌发电仍未能得以广泛推行。图 5 为墨西哥相关地理信息示意图和仙人掌图。

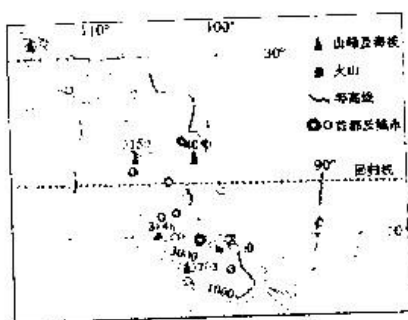


图 5

（1）从植物适应地理环境的角度，分析为什么仙人掌多刺和绒毛。（8 分）

（2）试述仙人掌主要分布在加利福尼亚湾沿岸的原因。（10 分）

（3）说出墨西哥仙人掌发电未能得以广泛推行原因。（6 分）



37. (22分) 阅读图文材料, 完成下列要求。

据统计, 近30多年来我国沿海海平面上升速率为3.2mm/年, 不同省份、不同季节海平面升降状况存在差异。图6为天津市沿海2015年、2016年与常年同期海平面逐月变化状况。

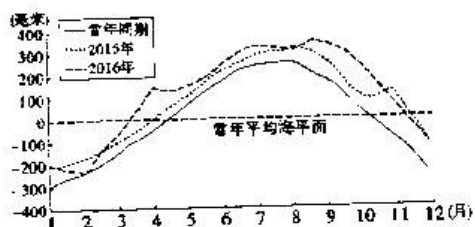


图6

(1) 根据近30多年来我国沿海海平面变化趋势, 推测引起这种变化的主要原因及过程。(6分)

(2) 分析造成天津沿海11月至次年3月海平面比常年平均值低的原因。(8分)

(3) 说出2015至2016年天津市沿海海平面的总体变化趋势及可能给沿岸陆地地区带来的影响。(8分)



38. (26分) 阅读材料, 完成下列要求。

改革开放是强国之路, 2019年是改革开放40周年。

材料一 改革开放四十年的经验表明, 中国坚持打开国门搞建设, 外商投资是推动中国经济社会发展的重要力量。制定外商投资法, 是贯彻落实党中央扩大对外开放、促进外商投资决策部署的重要举措。

《外商投资法》颁布过程经历了长时间的审定和公开征求意见, 具有广泛的民意基础。早在2011年外商投资法草案就启动修法研究, 2015年1月19日, 商务部公布《中华人民共和国外商投资法(草案征求意见稿)》, 向社会公开征求意见。2018年12月, 提请全国人大常委会初次审议。2019年1月, 全国人大常委会专门召开会议再度审议。2019年3月9日, 全国政协十三届二次会议举行小组会议讨论外商投资法草案。2019年3月15日, 十三届全国人大二次会议表决通过了《中华人民共和国外商投资法》, 自2020年1月1日起施行, 标志着中国已迈向全面开放、高水平开放的新征程。

材料二 立国之道, 惟在富民。改革开放以来, 中国在发展中保障和改善民生, 翻看政府工作报告, 处处可见细致入微的各种民生安排, 教育、医疗、就业、收入、住房、养老……无不围绕百姓的日常生活, 无不紧扣百姓的现实需求。稳步提高居民收入水平, 与经济增长水平同步, 支持企业提高员工收入水平, 合理调整社会最低工资标准。完善机关事业单位工资和津补贴制度, 向艰苦地区、特殊岗位倾斜。提高个人所得税起征点, 设立6项专项附加扣除, 实施更大规模的减税, 确保减税降费落实到位。稳步提高城乡低保、社会救助、抚恤优待等标准, 深化养老保险制度改革。一系列实实在在的惠民举措落地实施, 显著增强了人民的获得感。

(1) 结合材料一, 运用《政治生活》的知识, 分析《外商投资法》的制定过程是如何体现社会主义民主政治建设的。(12分)

(2) 结合材料二, 运用《经济生活》的知识, 分析我国应该怎样促进收入分配公平, 增强人民的获得感。(14分)



39. (26分) 阅读材料, 完成下列要求。

材料 2019年7月6日, 中国良渚古城遗址在阿塞拜疆巴库举行的世界遗产大会上获准列入世界遗产名录。

良渚先民带给我们的惊喜, 远不止分等级的墓地、大型宫殿、复杂的水利工程。还开创了最早的国家形态, 其高超的器物制作水平、制度严明的社会生产组织系统、早期科学技术思想, 是中华文明的前奏, 是中华文明传统中最具有价值的部分之一。认清中华文明的来路, 才能从中华文明的历史中获得自信。良渚的存在, 使中华文明有了一块可以与古埃及、古美索不达米亚、古印度文明遗址并列的文明高地。源远流长的文脉, 必有滋养当代文明的能力; 文化自信的潮声, 必能激发亿万人民的共鸣。良渚之“重”, 不仅重在它实证中华泱泱五千年文明, 更重在它是中华儿女回望五千年历史的一个极为重要的精神依托。良渚遗址属于历史, 属于现在, 更属于未来。今天, 如何处理好城市改造开发和历史文化遗产保护利用的关系, 做到在保护中发展, 在发展中保护? 这是走过五千年的良渚面临的“时代之问”。

(1) 结合材料, 谈谈良渚古城遗址申遗成功的文化意义。(10分)

(2) 用“对立统一”的原理分析城市开发改造与历史文化保护的关系。(12分)

(3) 保护历史文化遗产是我们每个人的责任, 就历史文化遗产保护的方法, 请提两条方法论建议。(4分)



40. (25分) 阅读材料, 完成下列要求。

材料一 中国先秦仅有御史等有监察作用的官职, 没有专职监察机构, 但帝王常常巡行各地。汉代沿袭秦朝的御史垂直监察系统, 设御史大夫, 天子巡狩, 还颁行《六条问事》监察高官豪右。唐代在御史台外另设谏官体系, 颁行的《监察六法》规定监察官可对所有官员进行调查审计。宋承唐制, 增设路州设通判等职, 但监察官们主要依照皇帝零散的诏、敕、令调查审计。明清亦承唐制, 且设六科给事中分察六部, 增行《钦定台规》等监察法规。1927年, 国民政府据孙中山“五权宪法”理论, 出台《监察院组织法》成立监察院, 并赋予其对其他国家机关调查审计权, 但因三权分立在国没有文化根基, 加之国民党独裁, 致使监察旁落几近无效。

——摘编自张晋藩主编《中国历代监察制度史》等

材料二 古雅典公民大会常用“贝壳弹劾”对僭主、行政官投票惩戒或放逐。古罗马继承古希腊监察制度外, 选任2名监察官分割执政官的行政权, 并监督执政官和元老院。近代, 欧美议会依据其所制定的法案监督政府行政, 质询政府行政行为, 弹劾包括司法官员在内的一切官员。从1809年开始, 瑞典导致美各国议会陆续增设若干名行政监察专员监督政府, 保障公民合法权益落实情况。将除涉密事项外, 各国年度监察报告一概向民众公开。

——摘编自董建萍《西方政治制度史简编》等

(1) 根据材料并结合所学知识, 概括中西方监察制度的异同, 并简析二者不同的原因。(16分)

(2) 根据材料并结合所学知识, 简析中西方监察制度对当代中国监察制度建设的启示。(9分)



41. (12分) 阅读材料, 完成下列要求。

材料 近代日本启蒙思想家福泽谕吉在1875年发表《文明论概略》指出, 只要以文明发展为目标, 不论什么样的政体, 民众都应当欢迎, 不论用什么样的方法, 社会都应当接受; 在1885年发表的《脱亚论》中指出: “为今日计, 我国不能再盲目等待邻国达成文明开化, 共同振兴亚细亚, 莫如与其脱离关系而与西洋文明共进退……支那(中国)和朝鲜是日本的邻邦, 同他们打交道用不着特别客气, 完全可以模仿西洋人的方式处理。”

阅读材料, 从中选择一个观点, 并结合近代历史知识加以评论。(12分) (要求: 观点明确, 态度鲜明, 史论结合, 表达逻辑层次清楚)

(二) 选考题 (共5小题, 共25分)

请考生在第42、43两道地理题中任选一题作答; 在第44、45、46三道历史题中任选一题作答。如果多做, 则按所做的第一题计分。作答时用2B铅笔在答题卡上把所选题目的题号涂黑。

42. (10分) 【地理——选修3: 旅游地理】

蒲昌村地处新疆鄯善县城南端, 是城市与沙漠相连(库木塔格沙漠——4A级旅游景区)的入口。近几年来, 蒲昌村旅游产业蓬勃发展, 成为充满民族特色的旅游新村。图7为蒲昌村旅游发展蓝图。




图7

结合蒲昌村发展旅游的优势条件并列举两项以上该地可开发的特色旅游项目。(10分)



43. (10分)【地理——选修6：环境保护】

近年来，库布齐沙漠的荒漠化治理卓有成效。在其北部的黄河边建起了240千米长的防沙锁边林带，在广阔的沙漠内部则通过建草方格沙障等工程措施来治理，图8为库布齐沙漠位置、库布齐沙漠气候图和黄河边的防沙锁边林、库布齐沙漠内部的草方格沙障。

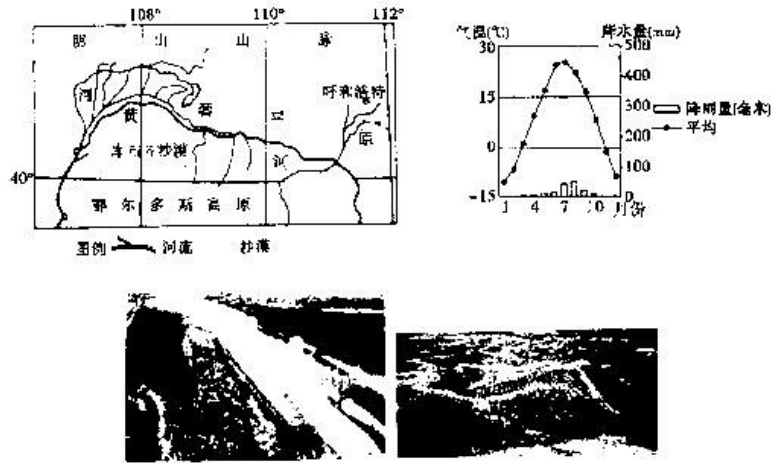


图8

库布齐沙漠北部边缘和内部区域荒漠化的治理措施不同，试分析形成这种差异的原因。(10分)

44. (15分)【历史——选修1：历史上重大改革回眸】

材料 1253年蒙古军攻灭大理国以后，民族矛盾、阶级矛盾日益突出，政局动荡不安。1274年赛典赤·赡思丁任云南行省第一任平章政事推行系列改革，他将原来兼领民政的都元帅府实行军政分开，并置于宣慰司之下，而宣慰司则又受行省节制。其次把原统治全省的军事单位总管府、万户府、千户所改立为相应的路、州、县行政区域。再根据各地不同的社会经济状况、文化历史背景来统一进行安排配置郡县的官员。在处于奴隶制、封建领主经济制度下的民族地区一般仍由当地的民族首领担任，已处于封建地主经济阶段滇池畔的中庆路（即后来的昆明）就多任命流官统治。

——据李清升《赛典赤·赡思丁在云南建立的丰功伟绩》

(1) 根据材料并结合所学知识，概括赛典赤·赡思丁改革的内容。(6分)

(2) 根据材料并结合所学知识，简析赛典赤·赡思丁改革的作用。(9分)

45. (15分)【历史——选修3：20世纪的战争与和平】

材料 抗战爆发后国民政府迁都重庆。1941年后中国整个海岸线几乎已被日军占领，滇越铁路和滇缅公路陆续被日军封闭。太平洋战争爆发后美国空军驻防昆明，云南成为阻止日军侵略深入，夺取中国、南太平洋、印度洋制空权的前沿阵地。云南老百姓搬家移舍、砍田迁坟，自带干粮和农具投入到修建机场的义务劳动当中，通过巨大的人力物力付出在短期内修建31个机场，扩建原有24个机场，其中包括昆明、呈贡、陆良、沾益、保山等十几个可供重型运输机起降的大型机场，为夺回中国制空权保障“驼峰”航线运输大量军用物资，以及运送中国军队参加缅北大反攻作出了巨大贡献。

——杨世英《抗战中的云南机场》

(1) 根据材料并结合所学知识，简析抗战时期修建云南机场的背景。(9分)

(2) 根据材料并结合所学知识，概括修建云南机场对二战的贡献。(6分)

46. (15分)【历史——选修4：中外历史人物评说】

材料 欧仁·德拉克洛瓦(1798-1863)生于法国南部律师家庭，代表作品《自由引导人民》《但丁之筏》，其父亲参与法国大革命并担任国民公会代表，中学就读于以教授古典主义画法为主的巴黎安佩里亚尔中学，后与“钢琴诗人”肖邦是好友，喜爱歌德、莎士比亚、拜伦等作家著作。他强调绘画要用音乐般节奏的饱满色彩和强烈明暗对比刻画社会百态，用丰富的想象和充沛的情感去表达历史事件，去展现和传递更高层次、更细腻、更深刻的理念与思想，而不仅仅把画面当成技法的炫耀。有学者认为德拉克洛瓦是19世纪最后一个企图表现崇高思想而且作品中隐含人文主义精神的画家。

——据王红艳《试论德拉克洛瓦在西方绘画史中的重要作用》

(1) 根据材料并结合所学知识，概括德拉克洛瓦的绘画风格特点。(6分)

(2) 根据材料并结合所学知识，简析德拉克洛瓦取得成就的原因。(9分)



自主招生在线创始于 2014 年，致力于提供自主招生、综合评价、三位一体、学科竞赛、新高考生涯规划等政策资讯的服务平台。总部坐落于北京，旗下拥有网站（www.zizzs.com）和微信公众平台等媒体矩阵，用户群体涵盖全国 90% 以上的重点中学师生及家长，在全国自主招生、综合评价领域首屈一指。

如需第一时间获取相关资讯及备考指南，请关注**自主选拔在线**官方微信号：**zizzsw**。



识别二维码，快速关注

福利：

- 1、关注后回复“答题模板”，即可获得高中 9 科答题模板资料
- 2、回复“清北华五”，即可获得清北华东五校特殊选拔考试模式及真题