

座位号
考场号
准考证号
姓名
班级
学校

绝密★启用前

2021—2022 学年高三总复习阶段性检测考试 文科综合

命题：上进教育研究院

审题：江西师大附中 九江一中

注意事项：

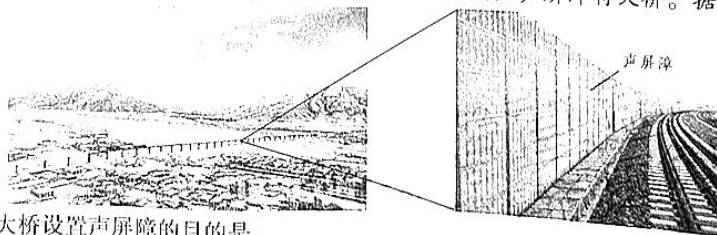
- 答卷前，考生务必将自己的姓名、准考证号等填写在答题卡和试卷指定位置上。
- 回答选择题时，选出每小题答案后，用铅笔把答题卡上对应题目的答案标号涂黑。如需改动，用橡皮擦干净后，再选涂其他答案标号。回答非选择题时，将答案写在答题卡上。写在本试卷上无效。
- 考试结束后，将本试卷和答题卡一并交回。

一、选择题：本题共 35 小题，每小题 4 分，共 140 分。在每小题给出的四个选项中，只有一项是符合题目要求的。

2021 年 10 月，我国某著名房企发布消息称，企业完成了技术、资质和电池等汽车上下游产业链布局，掌握了整车制造、底盘架构、动力电池等领域的核心技术。在地方政府的支持下，该公司将确保其首款电动汽车在天津工厂生产和测试，并准备明年年初推出首款电动汽车。据此完成 1~3 题。

- 该企业进行电动车全产业链布局的主要目的是
 - 提高生产自动化水平
 - 降低对资源的消耗
 - 减轻交通运输压力
 - 降低内部交易成本
- 该企业首选天津进行首款电动汽车生产和测试的主导因素是
 - 土地价格
 - 政策支持
 - 科技水平
 - 产业基础
- 涉足电动汽车，会使得该企业
 - 产品多元化
 - 生产智能化
 - 市场高端化
 - 利润最大化

拉林线，是中国一条连接西藏拉萨市至西藏林芝市的国铁 I 级单线电气化快速铁路，是川藏铁路的重要组成部分。杰德秀 I 号特大桥位于西藏山南市贡嘎县杰德秀古镇旁，是拉林铁路首座声屏障特大桥，于 2021 年 3 月 19 日完工。下图示意杰德秀古镇附近的拉林铁路首座声屏障特大桥。据此完成 4~5 题。



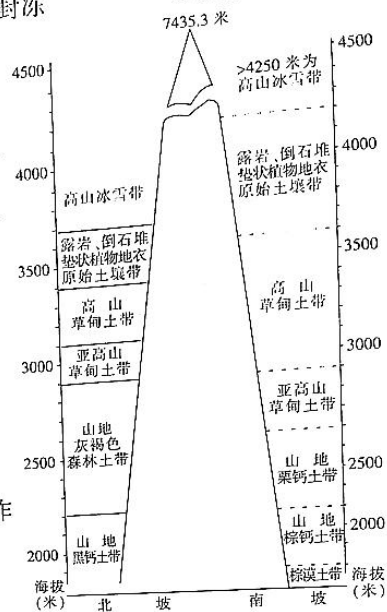
- 杰德秀 I 号特大桥设置声屏障的目的是
 - 防止雪崩现象的发生
 - 保护沿岸动植物
 - 减少对沿线居民的影响
 - 保护沿岸生态环境
 - 拉林铁路建设期间，利于提升杰德秀古镇的
 - 交通通达度
 - 就业率
 - 空气质量
 - 城市化水平
- 某科研团队研究风电场（位于内蒙古灰腾梁地区）对土壤湿度的影响，研究发现风电场建成后周边土壤湿度的差异是否具有显著性，所占比例越大差异性越大。据此完成 6~8 题。

级别	全年	4 月	5 月	7 月	8 月
	上风向 / 下风向 / 风场内	上风向 / 下风向 / 风场内	上风向 / 下风向 / 风场内	上风向 / 下风向 / 风场内	上风向 / 下风向 / 风场内
$0.00 < P \leq 0.001$	7/17/10	2/5/4	2/3/2	0/0/0	3/13/12
$0.001 < P \leq 0.01$	9/18/15	5/14/14	4/6/4	1/2/1	16/29/36
$0.01 < P \leq 0.05$	15/20/22	11/22/19	8/11/10	4/10/7	28/22/33
$0.00 < P \leq 0.05$	31/55/47	18/41/37	14/20/16	5/12/8	47/64/81

【文综（第 1 页）】

6. 土壤湿度受风电场影响最大的区域是
A. 上风向 B. 下风向 C. 风场内 D. 各区相同
7. 导致7月土壤湿度显著性差异较小的主要因素是
A. 植被覆盖 B. 风力大小 C. 地表起伏 D. 降水多少
8. 该科研团队未对12月至次年2月土壤湿度进行研究,其原因是此时段
A. 云量阻碍遥感 B. 风力过于强盛 C. 地面全部封冻 D. 地形起伏过大

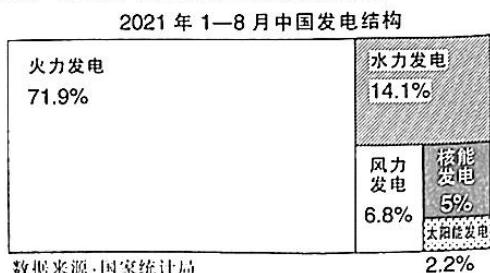
托木尔峰为天山山系最高峰,断裂发育,且遭受冰川、流水及其他外力的地质作用,山区地形破碎而复杂多样,使各带的成土条件显著不同。永久积雪带和与其相连的峭岩陡坡,虽占高山相当大的面积,但对土壤发育及其分布无多大意义。如图示意托木尔峰南北坡土壤垂直分布状况。据此完成9~11题。



9. 永久积雪带和与其相连的峭岩陡坡处土壤发育程度差的主要原因有
①淋溶作用强 ②风化壳不稳定
③缺乏高等植物着生 ④生物循环旺盛
A. ①② B. ③④
C. ①④ D. ②③
10. 下列地带土壤最肥沃的是
A. 南坡 2500 米 B. 南坡 3500 米
C. 北坡 2500 米 D. 北坡 3500 米
11. 天山高海拔地区分布着一种垫状植物,该植物一般叶子细小,其作用主要是
A. 减少蒸腾作用 B. 避免强光照射
C. 减少大风侵袭 D. 增强吸附作用
12. 某高端白酒是我国白酒的代表,该酒出厂价格为 969 元,但是经过市场环节之后,价格达到将近 5000 元,并且还有继续上升的趋势。很多人认为该白酒的价格不正常。对于该白酒价格过高的原因推断正确的是
①该白酒因为稀缺而不受价值规律的制约 ②严重的供不应求导致价格呈现单边变化
③该品牌的影响力加剧了市场供求不平衡 ④市场环节是决定该白酒价格的关键因素
A. ①② B. ①④ C. ②③ D. ③④
13. 鞍钢集团本钢集团有限公司于 2021 年 10 月 15 日揭牌成立,本钢集团正式成为鞍钢集团控股二级子企业。鞍钢集团、本钢集团原来都是我国一流国有钢铁企业,二者无论是在资源基地还是在业务方面,均有较大重合度。因此,中央在 2021 年 8 月决定对两家公司进行合并重组。我国对两家公司合并重组
①可以通过扩大规模实现做强做优的目的 ②有利于助力东北老工业走向全面振兴
③意在实现以优带劣盘活社会资源的目标 ④可以取得供给侧改革“1+1>2”的效果
A. ①③ B. ①④ C. ②③ D. ②④
14. 在大数据平台的帮助下和国家税务总局的指导下,河南省郑州市金水区税务局对一网红偷税款行为进行了处罚,补交税款 634.66 万元,罚滞纳金 27.78 万元,合计 662.44 万元。由此事可知
①税收是国家实现职能的基本形式 ②大数据有利于提升经济管理效能
③市场经济法治化得到了有效维护 ④税收的固定性特征是不能改变的
A. ①② B. ②③ C. ①④ D. ③④
15. 2021 年 10 月 12 日,广东省人民政府在澳门首次发行 22 亿元离岸人民币地方政府债券,期限 3 年。本债券要求用境外的人民币(即离岸人民币,在中国境外经营存放款业务的人民币)认购,在澳门上市交易。本次发债吸引了台湾及港澳、巴西、澳大利亚和日本等机构投资者的参与,最终获得超过 3 倍的超额认购(认购申请高于新债券发行量),发行取得圆满成功。该债券的发行
①能为澳门特区政府筹集更多的资金 ②是粤港澳跨境金融方面合作的新突破
③对于促进人民币国际化有积极意义 ④为我国居民在境外理财提供了机会
A. ①③ B. ①④ C. ②③ D. ②④

【文综(第2页)】

16. 下图反映了我国发电结构状况。由此对我国经济认识正确的是



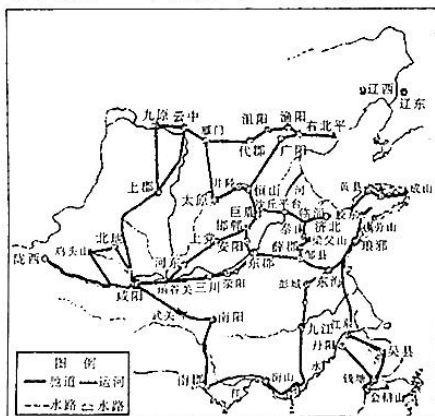
注:2017年欧盟28国发电结构中,火电占43%,核能占25%,风力占11%,水力占10%,太阳能占4%,生物质占7%。

- ①实现“双碳”目标面临较大的压力
②我国发展新能源的市场空间比较大
③我国能源结构优化趋势更加明显
④我国形成多种电力保障的合理局面
- A. ①② B. ③④ C. ①③ D. ②④
17. 2021年10月11日,香港特区政府教育局就香港中小学升挂国旗和举行升国旗仪式提出具体要求,从2022年1月1日开始,香港中小学必须按规定升挂国旗和举行升国旗仪式,在升国旗仪式中须奏唱国歌。在香港中小学升挂国旗和举行升国旗仪式
- ①可培养香港学生的国家归属观念
②说明履行义务是对公民的基本要求
③体现了公民政治权利具有广泛性
④是我国作为统一国家所提出的要求
- A. ①③ B. ①④ C. ②③ D. ②④
18. 小程序是一种不需要下载安装即可使用的应用,它实现了应用“触手可及”,用户扫一扫或者搜一下即可打开应用。适应互联网时代的发展,政府部门开发了各种小程序推进社会治理:武汉城管的随手拍,甘肃临夏市的掌上智慧乡村,南宁良庆区的良庆创城,开封兰考的兰速办……政府开发应用程序有利于
- ①畅通沟通,提升政府行政效能
②依法行政,置权力于监督之下
③与时俱进,建设学习型的政府
④聚焦民意,促进政府科学决策
- A. ①② B. ①④ C. ②③ D. ③④
19. 漫画描绘了“十三五”时期我国落实“十三五”规划、推动协调发展的政治图景。依据政治生活知识,下列能合理诠释漫画描绘的我国政治图景的是
- ①中国共产党在我国发挥着核心作用
②各民主党派接受中国共产党的领导
③我国有集中力量办大事的政治优势
④民主协商有利于社会意志取得统一
- A. ①③ B. ②④ C. ①④ D. ②③
20. 自2018年美国对我国发动贸易战以来,美国对我国价值数千亿美元输美商品加征关税。但事与愿违,2021年前8个月,我国对美出口增幅进一步扩大,达到22.7%。这说明
- ①国际关系的变化是由国家利益变化引起的
②综合国力的不同是引起国家冲突的根源
③国际关系的发展不是哪个国家主观决定的
④不同同体的国家之间必然存在利益冲突
- A. ①③ B. ①④ C. ②③ D. ②④
21. 在开启第二个百年奋斗目标新征程、实现中华民族伟大复兴的关键时期,迫切需要加快推进新时代教材建设高质量发展,在教材中理直气壮地坚持马克思主义,让学生深刻理解“中国共产党为什么能,中国特色社会主义为什么好,归根到底是因为马克思主义行”。让学生形成上述理解表明
- ①文化对社会发展产生深刻的影响
②文化影响人们在实践中的行为选择
③文化影响人的思维方式和认识活动
④教材质量影响人的教化和培育效果
- A. ①② B. ①④ C. ②③ D. ③④



【文综(第3页)】

22. 仰韶文化距今约 7000 年至 5000 年,是我国新石器时代一个重要的文化发展阶段。2021 年 10 月 17 日,仰韶文化发现暨中国现代考古学诞生 100 周年纪念大会在河南省三门峡市开幕,习近平总书记致贺信,指出考古工作者要继续探索未知,揭示本源。通过考古可以发现更多的文化遗存,探索未知,揭示本源,表明
- ①文化遗产是中华文明绵延传承的生动见证
②保护文化遗产是保护世界文化多样性的要求
③考古研究是推动中华文化发展的根本动力
④通过考古可以探索人类社会发展的历史走向
- A. ①③ B. ①④ C. ②③ D. ②④
23. 以抗美援朝战争中长津湖战役为背景的电影《长津湖》引发观影热潮,特别是全国出现了统一组织观看的热潮,成为进一步开展党史学习教育,激发党员干部的爱国热情、弘扬爱国主义精神的重要活动。各地组织观影活动
- ①有利于丰富中华民族精神,高擎中华民族精神火炬
②有利于弘扬中华民族精神,提高全民族的综合素质
③体现了对人们文化生活的引导,加强文化市场管理
④是坚持社会主义道路的需要,抵御西方分化的图谋
- A. ①② B. ①③ C. ②④ D. ③④
24. 墨子指出,“不党父兄,不偏贵富,不嬖颜色”,譬如王公大人要做一件华美的衣服,一定会去找好的裁缝;要杀一头牛羊,一定要去找好的厨子。墨子意在说明
- A. 提高生活质量的重要性 B. 礼乐治国的可能性
C. 实施民本意识的及时性 D. 用人尚贤的必要性
25. 下图是秦王朝修建的秦驰道示意图,这一工程修建的主要目的是



- A. 彰显秦王朝统一的气势 B. 巩固秦王朝的大一统
C. 促进全国经济文化交流 D. 方便文书的上传下达
26. 《唐六典》记载:苏州有六十坊市,益州有金马坊、书台坊、锦浦坊、花林坊,扬州城有常乐坊、道化坊、临湾坊、道仁坊等,敦煌、吐鲁番出土的文字证明唐代时期敦煌、西州也有坊市。由此可知,唐朝
- A. 坊市体制普遍化 B. 商品经济空前繁荣
C. 文化娱乐市民化 D. 商业突破时空限制
27. 明朝时期,爵分两种,一是“只授终身(不世)”,二是可以“世袭(世)”。“世与不世,以军功大小而定,均给诰券(颁发的文书)”。明朝的做法
- A. 受到经济发展的影响 B. 反映了分封恩赐的传承
C. 体现官僚制度保守化 D. 彰显了内阁职权和作用
28. 清道光二十六年(1846 年),上海天主教神父郎怀仁对教友结婚作出规定:对家长指腹为婚、买卖婚姻,凡教徒一律禁止;禁止童养媳及童年订婚;凡教徒婚礼由神父主持,在教堂举行。这一现象反映出
- A. 西学东渐已经较为普遍 B. 非法传教活动得到默许
C. 西学传入影响社会生活 D. 中西合璧婚俗日渐增多

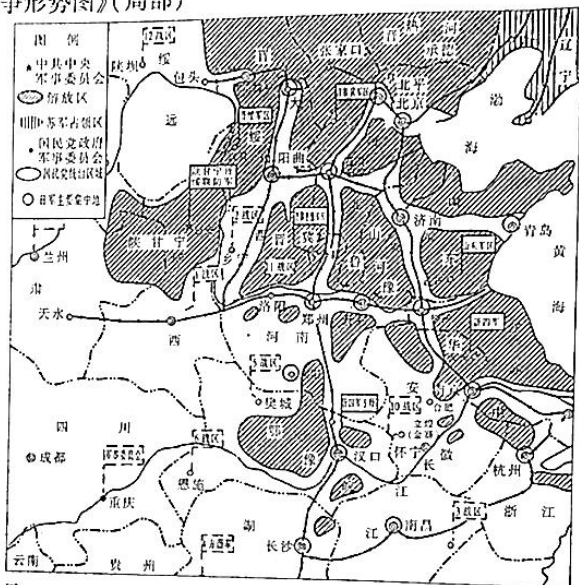
【文综(第 4 页)】

29. 下面是 1912 年到 1921 年中国实际 GDP 和年份 GDP 指数的变化简表, 表格内容反映了当时

年份	实际 GDP (1933 年亿元)	年份 GDP 指数 (1933 年 = 100)	年份	实际 GDP (1933 年亿元)	年份 GDP 指数 (1933 年 = 100)
1912	164.82	55.95	1917	143.97	48.87
1913	178.09	60.45	1918	143.51	48.71
1914	163.39	55.46	1919	180.88	61.40
1915	166.10	56.38	1920	193.02	65.52
1916	160.75	54.56	1921	191.31	64.94

- A. 中国经济持续向上发展
B. 经济建设的曲折发展
C. 民族工业得到全面发展
D. 列强停止对华经济扩张

30. 下面是某阶段《抗日战争形势图》(局部)



- 对图中信息解读正确的是
- A. 局部抗战遍及大多数地区
B. 防御阶段国共两党合作密切
C. 中共发挥了中流砥柱作用
D. 欧洲战场与中国战场相辅相成
31. 国务院体改办在 1979 年的规划中, 提出要把扩大企业自主权作为改革的中心环节; 在 1980 年的规划中, 则鲜明提出要建立适应商品经济的经济体制; 在 1982 年的规划中, 又提出要合理调整所有制结构。由此可知, 1979—1982 年的国家经济体制改革规划
- A. 得到了高度认同和全面实施
B. 视角由局部逐渐涉及整体
C. 重视城市与农村改革同步推进
D. 初步具备市场意识和理念
32. 公元 527 年到公元 565 年, 东罗马帝国对《查士丁尼法典》进行修订完善, 形成《查士丁尼民法大全》。除了“人权至上”“人人生而平等”等法律原则外, 还体现出“律师制度”“陪审制度”“法人制度”等主要特色。这说明
- A. 近代法律特征确立
B. 万民法由此形成
C. 启蒙思想得以萌发
D. 罗马法逐步完备
33. 马泰奥·帕尔米耶里(1406—1475 年) 不仅歌颂了西欧艺术、雕塑及建筑方面的天才艺术家, 还对“同时期在西欧出现的道德、社会及政治哲学的繁荣”发出了赞美之辞。这表明
- A. 人文主义的思想文化得到提倡
B. 中世纪的文学艺术流派影响深远
C. 空想社会主义思潮较广泛渗透
D. 大工业发展推动了文学艺术创作
34. 1921 年, 苏俄实施的新经济政策, “废除国家配给制和……国家贸易垄断制”“实行自由贸易制, 大力发展社会主义经济”。这里的“社会主义经济”
- A. 发挥了市场和商品手段作用
B. 废除了计划管理体制
C. 导致了自由贸易成主流形式
D. 形成了单一公有制

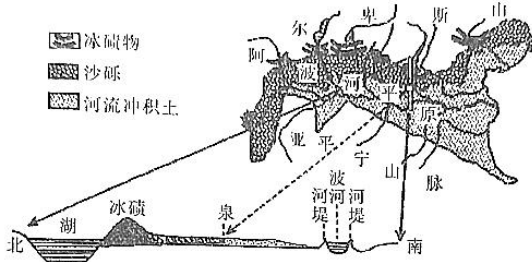
【文综(第 5 页)】

35. 有学者指出：“经济全球化和地区经济一体化让世界变小了……世界仍然没有完全摆脱西方发达国家的主导。在此背景下出现的多种经济集团，在联合国表达着各自的诉求。”这一观点旨在说明
- A. 国际新秩序尚没有真正建立起来
B. 联合国致力于推进全球化进程
C. 经济多极化是政治多极化趋势的基础
D. 全球经济的失衡现象日益剧烈

二、非选择题：共 160 分。

36. 阅读图文材料，完成下列要求。(22 分)

阿尔卑斯山是欧洲最高的山脉，同时也是个巨大的分水岭，其南坡自上而下分布有冰碛物、沙砾和河流冲积土(如图)，自下而上有山麓耕地牧场、阔叶林、针叶林、高山草原、荒漠和冰川。



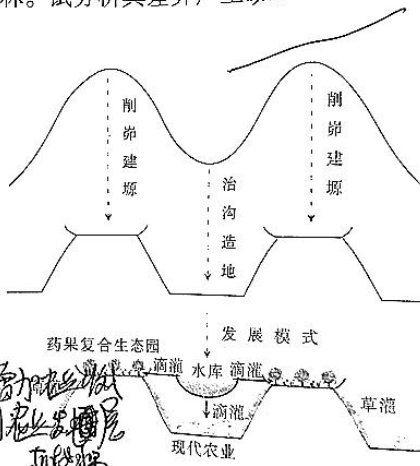
DBACB
CDBAC
ACBB
ABBDA
AB(C)B

- (1) 推测冰碛物和波河平原堆积物中砾石的外部特征差异，并指出两地堆积物形成的主要外力作用。(10 分)
- (2) 从水循环角度，描述泉水出露的形成过程。(6 分)
- (3) 阿尔卑斯山南坡山麓耕地牧场广袤，而海拔较高处却为森林。试分析其差异产生的原因。(6 分)

BA(B)D
B(B)A(B)A

37. 阅读图文材料，完成下列要求。(18 分)

过去 60 余年，黄土高原先后经历了坡面治理、沟坡联合治理、小流域综合治理等退耕还林还草工程的发展历程，旨在探索生物或工程治理的最佳效果。从治理效果来看，退耕还林还草工程是黄土高原地区实施规模最大，也是最受好评的一项生态工程，但也产生了一些问题。近年来延安、靖边、中宁等地率先实施了“治沟(填沟)造地”工程，“治沟造地”模式可分为山下(丘陵低山区底部)小流域治沟(填沟)造地和山上(丘陵低山区上部)削岭建塬(小平原)两种类型。

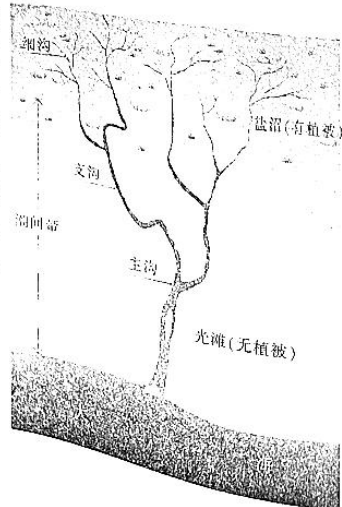


- (1) 从生态环境角度，简述黄土高原退耕还林还草深受当地好评的原因。(4 分)
- (2) 从农业发展角度考虑，说出治沟造地模式的优势。(6 分)
- (3) 某喀斯特地貌村落欲采用“治沟造地”模式治理当地水土流失，你是否赞成，请说明理由。(8 分)

减少水土流失
增加植被
便利农业生产
积肥

38. 阅读图文材料，完成下列要求。(16 分)

由潮汐往复冲刷而形成的水道被称为“潮沟”，潮汐涨落，潮沟就像是伸展的动脉和静脉，肩负着潮滩湿地与外海间物质、营养和能量交换的重任，滋养潮沟植被的生长。同时，潮沟植被对潮沟的形成和发展有重要作用。目前关于潮沟演变机理主要有两种理论：冲刷理论和淤积理论。冲刷理论认为，潮沟起源于潮滩表面的地形扰动，且地形扰动较强时，所产生的潮沟系统也会有较大的密度和复杂性，在演变初期，尤其在退潮阶段归槽水流向潮沟汇聚时，潮沟系统依靠潮沟头部的溯源侵蚀而增长。淤积理论认为，潮沟由潮滩上不同流路的泥沙不断淤积束窄而形成。



- (1) 指出潮沟植被的性状。(6 分)
- (2) 分析植被在潮沟形成和发展过程中所起的作用。(4 分)
- (3) 简述涨潮时从主沟到支沟水文特征的变化。(6 分)

随着潮沟溯源侵蚀

【文综(第 6 页)】

39. 阅读材料,完成下列要求。(14分)

材料一 下表反映了我国2021年1—9月相关制造业增长情况。

	装备制造业增加值	高技术制造业增加值
同比增长	16.2%	20.1%
快于全部规模以上工业	4.4个百分点	8.3个百分点
对全部规模以上工业增长贡献率	44.9%	25.2%

注:规模以上工业,是指年主营业务收入在2000万元以上的工业企业。1—9月GDP同比增长9.8%,两年平均增长5.2%。

材料二 科创企业是高科技制造业重要的主体,普遍存在资金需求大、投资周期长、潜在风险高、短期回报不确定的融资特点,这需要金融机构对传统的审核标准、风控体系、激励机制和考核体系进行适应性调整。目前,部分金融机构初步建立了适应科创企业融资需求的机构组织体系,在经营理念、专业能力和内控体系上做出改进和完善。支持科技创新,还需要相关部门、市场各方共同努力,构建起一个适合科创企业融资的良好“生态圈”。比如,在知识产权认定和流转方面,需要相关部门出台更便捷、有效的办法,为金融机构及时向企业融资提供保障。

(1) 根据材料一,概括我国经济发展的状况。(5分)

(2) 结合材料并运用经济生活知识,分析我国如何促进制造业发展。(9分)

40. 阅读材料,完成下列要求。(12分)

在2021年10月13日至14日召开的中央人大工作会议上,习近平总书记强调“要继续推进全过程人民民主建设”。

历史经验充分证明,“不要党的领导的民主,不要纪律和秩序的民主,绝不是社会主义的民主”,“这事实上只能导致无政府主义,导致社会主义事业的瓦解和覆灭”。我们党通过全方位、深层次、创造性构建完善民主选举、民主决策、民主协商、民主管理、民主监督等一整套制度安排,切实体现人民利益、反映人民意志、维护人民权益、增进人民福祉,确保了人民当家作主。通向幸福的道路不尽相同。全过程人民民主是坚持党的领导、人民当家作主、依法治国的有机统一,走的是中国特色社会主义政治发展道路。这是一条人民通往幸福的法治之路,是“为人类求解放”的法治实践,是人类民主的崭新样态,为推动世界政治文明贡献了中国智慧。

结合材料并运用政治生活知识,说明发展中国共产党领导的全过程人民民主的重要意义。(12分)

41. 阅读材料,完成下列要求。(26分)

乡村振兴的核心是乡村文化的振兴。近年来,我国乡村文化建设不断取得进步,促进了乡村振兴。

在我国传统村落中,孔子的“仁者爱人”“孝悌忠恕”的儒家思想,孟子勾画的“出入相友,守望相助,疾病相扶持,则百姓亲睦”的理想,对于家庭关系和乡村社会的稳定发挥了极其重要的作用,为乡村振兴创造了重要条件。农村党支部不断加强,成为村民“主心骨”。通过成立红白理事会、村民议事会,制定村规民约等,充分发挥了农民在乡村振兴中的作用。

多彩的非遗技艺、古朴的古村古镇、独特的民俗风情、优美的自然景观……把文化和生态资源嵌入乡村文化产业链和价值链,为乡村振兴提供了支撑。通过提高农村文化站、文化广场、文化室、农家书屋利用率,开展农业科技知识、卫生知识、计生知识、法律知识、社会主义核心价值观等宣传宣讲活动,激发了乡村振兴的活力。

(1) 运用“建设社会主义文化强国”知识,说明推进乡村振兴为什么要振兴乡村文化。(12分)

(2) 从政治生活的主体角度并结合材料,分析我国推进乡村振兴有哪些有利的条件。(10分)

(3) 乡村发展离不开科技人才支撑。请你就如何增强农村科技力量提出两条政策性建议。(4分)

42. 阅读材料,完成下列要求。(25分)

材料一 自秦朝至明清,中国传统治理形成了“双轨政治”架构,包含“自上而下的中央集权专制体制”和“自下而上的自治民主体制”。所谓“皇权不下县,县下皆自治”。县以下更多的是“无为政治”和“长老政治”。而连接县以上的以皇权为中心的“官制”秩序与县以下以宗族为中心的“乡土秩序”的,是乡绅阶层。

——摘编自秦晖《传统十论》、费孝通《乡土中国》等

【文综(第7页)】

材料二 民国年间,南京临时政府、北洋军阀政府和国民党政府等各种政权都先后推行了各种类型的乡村自治运动,都企图将乡村治权纳入国家管控中。因此,各种政府推行的乡村自治运动,尽管披上了一层现代民主政治的外衣,但有自治之名却无自治之实,名为自治实则官治,其目的不是为民众造福、维系乡村秩序,而是最大限度地从乡村索取资源。民间社会所认可的保护型乡村精英被官府安排的赢利型乡村恶棍取代。这些运动,破坏了传统社会的“双轨治理”之道,使乡村治理陷入“专政劣治”的困境。

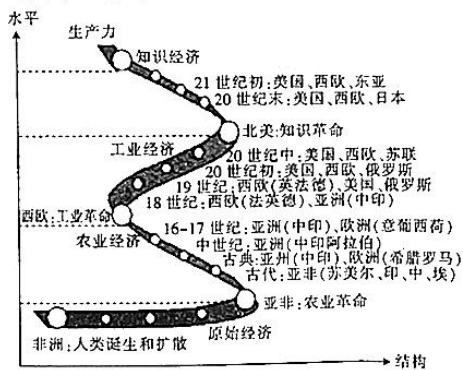
——摘编自肖如平《民国时期的保甲与乡村社会治理》

材料三 1957年,毛泽东同志《关于正确处理人民内部矛盾问题的讲话》成为社会治理的基本方针。在政治思想领域,实行“团结——批评——团结”的方针;在经济领域,实行统筹兼顾、适当安排的方针;在科学文化领域实行“百花齐放、百家争鸣”的方针;在政党制度方面,实行“长期共存、互相监督”的方针;在民族之间,实行民族平等、民族团结和民族区域自治政策;主张“把衣、食、住、用、行五个字安排好,这是六亿五千万人民安定不安定的问题”。

——摘编自《毛泽东文集》第8卷

- (1) 根据材料一、二并结合所学,比较中国古代与民国在社会治理方面的差异。(8分)
 - (2) 根据材料三并结合所学,简析毛泽东“社会管理基本方针”提出的背景,并概括新中国初期社会治理的特点。(12分)
 - (3) 根据以上材料并结合所学,谈谈历史上社会治理活动的启示。(5分)
43. 阅读材料,完成下列要求。(12分)

材料 《世界经济中心的地理转移》示意图



——根据高德步、王珏《世界经济史》编制

根据材料中的信息,请提炼一个主题,结合所学知识予以阐述。(要求:主题明确,紧扣材料,史论结合,逻辑严谨)

44. 阅读材料,完成下列要求。(15分)

材料一 陈炽(1855—1900年),江西瑞金人。曾赴江浙沿海及香港、澳门考察,写成《庸书》,盛赞西方的议院制度“合君民为一体,通上下为一心”“可否从违,付诸公论”,是西方国家“强兵富国,纵横四海之根源”。他建议照此实行,“投匭公举”,成立下议院,同时,改造中国传统的“阁部会议”,成立上议院,作为议事、咨询机构,“事之行否,仍由在上者主之”。1895年(光绪二十一年)该书由翁同龢进呈光绪帝。

——摘编自杨天石《改良思潮的兴起》

材料二 康有为将少数人的著书立说推进成一个相当规模的思想运动和政治运动。他提出一整套系统的社会政治理想、宗教学说和哲学观点,打着托古改制的旗帜将西方资本主义政治学说和中国传统的儒学思想相结合,主张改革政府机构任用维新人士、鼓励私人兴办工矿企业、开办新式学堂、翻译西方书籍、废除八股文等,形成一个比较完整的思想体系,作为维新变法的理论基础。

——摘编自蔡尚思《康有为黄金时代的思想体系和评价》

- (1) 根据材料一概括陈炽的政治主张,并分析其得以形成的个人原因。(9分)
- (2) 根据材料一、二并结合所学知识,简述康有为政治主张与陈炽的不同之处。(6分)

【文综(第8页)】

密封线内不要答题

2021—2022 学年高三总复习阶段性检测考试

地理参考答案

1.【答案】D

【解析】企业完成全产业链布局,可以避免产业链上中下游企业之间形成的利益共同体,提升经营效率,降低交易成本

2.【答案】B

【解析】从材料中“地方政府支持下”可以判断地方政府的政策支持是该企业首款电动汽车选址的重要因素

3.【答案】A

【解析】该企业原为著名房企,通过涉足电动汽车制造,可以促进其自身经营结构调整,使得其产品多元化,增强经济发展的稳定性

4.【答案】C

【解析】据图和材料可知,杰德秀 1 号特大桥临近杰德秀镇,因此设置声屏障的最主要目的是减轻噪声对沿线居民的影响

5.【答案】B

【解析】修建铁路需要大量的劳动力,因此能提升当地的就业率;拉林铁路建设期间,无法提高当地的交通通达度,空气质量也不会得到改善,城市化水平也不会受到影响

6.【答案】B

【解析】根据表格中的数据即可判断下风向区域 P 值差异性最大,由此可以判断其土壤湿度受风电场影响最大

7.【答案】A

【解析】7 月该地水分条件相对较好,草类茂盛,影响土壤的蒸发,因此土壤湿度受风电场影响不大

8.【答案】C

【解析】12 月至次年 2 月气温低,地面全部封冻,土壤湿度变化不大,没有研究的必要

9.【答案】D

【解析】峭岩陡坡风化侵蚀强烈,多崩塌,风化壳不稳定,且高等植物难以着生,因此土壤发育程度较差

10.【答案】C

【解析】北坡 2500 米处为森林土带,说明该地带水分条件好,多枯枝落叶,因此土壤最为肥沃

11.【答案】A

【解析】垫状植物分布在露岩、倒石堆处,土壤发育程度极差,水分条件差,叶子细小可以减少蒸腾作用,适应该地高寒和干旱的环境特征。

36.【答案】(1)冰碛物砾石含量高,粒径差异大,棱角分明,由冰川堆积形成;(5分)波河平原为河流冲积土,砾石含量小,分选较好,磨圆度好,由流水堆积而成。(5分)

(2)阿尔卑斯山上冰雪消融,(2分)及盛行西风带来的降水,(2分)渗入缝隙很大的冰碛土和沙砾之下形成地下径流,在山地与平原交界处出露地表,形成泉。(2分)

(3)阿尔卑斯山地处温带海洋气候区,全年多雨,适宜多汁牧草生长;南坡山麓为波河平原,地形平坦,河流广布,水草丰茂;随着海拔的升高,山腰气温降低,蒸发减弱,土壤中水分增加,利于森林生长。(每点2分,3点6分)

37.【答案】(1)退耕还林还草工程实施增加了植被覆盖,增加了生物多样性,(2分)减轻了水土流失,入黄泥沙减少,使得黄土高原的生态环境日益恢复。(2分)

(2)增加耕地面积;改善土地水肥状况;产品多元化。(每点2分,3点6分)

(3)不赞同。(2分)理由:喀斯特地貌为石质山地,治沟造地工程量巨大;喀斯特地貌区土层薄,缺乏造地所需土壤;喀斯特地貌区多为可溶性岩石,局部地貌趋于平坦会导致溶蚀作用加强。(每点2分,3点6分)

38.【答案】(1)耐盐碱;喜涝耐旱;根系发达。(每点2分,3点6分)

(2)植被减缓海水流速,加上根系固土,减轻潮汐对海滩的侵蚀;(2分)植被阻碍海水运动,加速泥沙沉积。(2分)

(3)流速减慢;含沙量下降;水量减少;水位下降。(每点2分,任答其中三点即可,共6分)



2021—2022 学年高三总复习阶段性检测考试 政治参考答案

12. 【答案】C

【解析】商品交换都要受价值规律的制约,价格偏离价值,不等于不受价值规律的制约,①错误。供求变化影响价格变化,该白酒严重供不应求,会导致价格呈单边上涨变化,因此价格比较高,②正确。该白酒品牌影响力较大,受到市场追捧,会加剧供不应求,③正确。流通环节成本是产品成本的一部分,但流通环节不是决定价格的关键因素,④错误。

13. 【答案】D

【解析】单纯强调扩大规模,不一定能实现做强做优的目的,①排除。二者原来均为东北有影响力的企业,进行优化重组有利于更好发展,助力东北老工业区走向全面振兴,②正确。二者原来均是一流企业,合并不是以优带劣,③错误。二者地理位置很近,业务具有重合度,各自经营不利于资源节约,通过重组可以实现“1+1>2”的效果,从而促进供给侧改革,④正确。

14. 【答案】B

【解析】税收是国家筹集财政收入最普遍的形式,不是国家实现职能的基本形式,①错误。通过大数据查出偷逃税款的行为和数额,说明大数据有利于提升经济管理效能,②正确。国家通过处罚,维护了市场经济的法治化,③正确。题干反映的是税收的强制性,不反映固定性,④排除。

15. 【答案】C

【解析】本债券是广东省政府发行的,为广东省提供资金来源,澳门只是债券发行市场和交易市场,发行债券获得的资金不是为澳门所用的,①不符合题意。本债券用境外人民币认购,是一种跨境金融活动。在澳门发行本债券,体现了粤澳两地在跨境金融方面的合作,②正确。本债券用境外人民币认购,发挥了在境外人民币的作用,对于促进人民币的国际化有积极意义,③正确。题干强调机构投资者认购,不反映居民理财,④不符合题意。

16. 【答案】A

【解析】与欧盟国家的数据对比,图示显示了我国火力发电占比很大,意味着我国化石能源消耗比较大,实现“碳达峰”“碳中和”目标的压力比较大,①正确。火力发电与其他新能源发电的比例对比,说明我国发展新能源的市场空间比较大,②正确。图示反映的是静态数字,不反映能源结构比例的变化,因此无法判断我国能源结构优化,③排除。图示和注反映我国发电结构不合理,不强调电力供应的多样化,④不符合题意。

17. 【答案】B

【解析】国旗是国家的象征,在香港中小学升挂国旗和举行升国旗仪式,可以增强香港学生的国家归属观念,①正确。题干并不是针对具体的公民提出义务要求,也不涉及公民的权利问题,②③不符合题意。香港是特别行政区,但仍是我国统一国家的一部分,在香港中小学升挂国旗和举行升国旗仪式,是我国作为统一国家所提出的要求,④正确。

18. 【答案】B

【解析】小程序使用方便,因此政府开发应用小程序有利于畅通与百姓、与各方面的沟通,提高政府行政效能,也有利于更方便了解民意,促进政府科学决策,①④正确。使用小程序,不体现依法行政,②不符合题意。使用小程序不是为了方便学习,不涉及建设学习型的政府,③不符合题意。

19.【答案】A

【解析】漫画中的统一指挥,能合理反映中国共产党在我国发挥领导核心作用的政治图景,①正确。“十三五”规划不是针对中国共产党与民主党派合作的,②诠释不合理,排除。漫画描绘了我国共奏协调发展之曲,寓意我国有集中力量办大事的政治优势,③正确。漫画强调落实“十三五”规划,没有具体反映民主协商,④排除。

20.【答案】A

【解析】国际关系的实质是一种利益关系,国家利益的变化会引起国际关系的变化,①正确。国家利益的对立是引起国家冲突的根源,而不是综合国力的不同,②错误。事与愿违,美国的霸权主义做法没有实现目的,说明国际关系的发展不是哪个国家主观决定的,③正确。不同国体的国家之间不必然存在冲突,④错误。

21.【答案】D

【解析】题干考查文化对人的影响,不考查对社会的影响,①不符合题意。题干强调通过文化影响人的认识,没有具体反映影响人们的行为选择,②不符合题意。让学生理解“中国共产党为什么能,中国特色社会主义为什么好,归根到底是因为马克思主义行”,表明文化影响人的思维方式和认识活动,③正确。国家特别强调加强教材建设,以此实现坚定学生马克思主义信仰的目的,表明教材质量关系着育人效果,④正确。

22.【答案】B

【解析】题干强调通过考古发现更多的文化遗存,进而探索未知,揭示本源,表明文化遗产是中华文明绵延传承的生动见证,①正确。题干不反映考古与世界文化发展的关系,②不符合题意。实践是文化发展的根本动力,③错误。探索未知、揭示本源,就是认识人类社会是如何发展的,表明通过考古可以探索人类社会发展的历史走向,④正确。

23.【答案】C

【解析】题干反映中华民族精神的影响,不反映丰富中华民族精神,①不符合题意。各地进行有组织的观看,就是要让人们感受以爱国主义为核心的民族精神,因此有利于弘扬中华民族精神,从而提高全民族的综合素质,②正确。题干不反映文化市场的活跃引发不健康文化现象,因此不体现对文化市场的管理和对人们文化生活的引导,③不符合题意。组织观影活动是为了加强爱国主义教育,这是坚持社会主义道路的需要,可以抵御西方分化的图谋,④正确。

39.【答案】(1)我国装备制造业、高技术制造业增加值同比增长明显,快于 GDP 增速;(2分)我国经济保持稳定增长,创新动能不断增强(或如下回答:创新驱动发展取得积极成果、科技创新不断取得进步、厚植发展优势),经济结构不断优化(或回答经济发展的协调性增强),经济发展韧性增强(或回答高质量发展成效明显)。(3分)(从实体经济发展、供给侧结构性改革等角度回答,运用知识正确,都可酌情给分)

(2)①培育市场主体。支持科创企业发展,发挥科创企业在制造业发展中的主体作用,促进制造业发展。②加强金融支持。完善金融支持体系,创造便利条件,为制造业企业发展提供及时、便捷的金融服务。③创造良好环境。推动相关部门、市场各方共同努力,构建适合科创企业融资的良好“生态圈”,创造有利于制造业企业发展的政策和市场环境。(每点3分,如下回答,也可给分:充分认识科创企业融资特点,制定有针对性的金融支持政策,增强对制造业发展支持的针对性;完善有利于制造业发展的市场体系,充分发挥市场作用,更好发挥政府作用;完善现代化经济体系,促进制造业健康发展。从加强宏观调控,贯彻创新、协调发展理念等角度回答,言之成理,也可酌情给分)

40.【答案】①中国共产党是我国最高政治领导力量,中国共产党领导是中国特色社会主义的最本质特征,是中国特色社会主义制度的最大优势。坚持党的领导是发展全过程人民民主的最大

2021—2022 学年高三总复习阶段性检测考试 历史参考答案

24.【答案】D

【解析】墨子的“不党”“不偏富贵”“不嬖颜色”“好的裁缝”“好的厨师”等,都是在阐述“尚贤”的必要性,故 D 项正确;A 项与题意无关;题中材料与礼乐政治无关,排除 B 项;C 项中的“民本”在材料无从体现,排除。

25.【答案】B

【解析】材料表明秦驰道把全国各地联系成一个整体,这一做法可以促进文书的转达,也方便调动军队,还可以促进各地经济文化的交流发展,这些都围绕巩固国家统一,故答案为 B 项;A 项是结果,不是目的,排除;C、D 两项是驰道修建的部分目的,以偏概全,排除。

26.【答案】A

【解析】题目材料体现了坊市制度从长安到苏州再到边疆等地都普遍存在,故 A 项正确;有坊市不等于商品经济繁荣,B 项错误;C、D 两项不符合史实,也不符合题意,排除。

27.【答案】B

【解析】明朝爵位分为两种,其中,“世”与分封恩赐相关,无经济发展的影响,A 项不正确,B 项符合题意;以“军功大小”作为“世与不世”的标准,不是保守性的体现,C 项不正确;材料主旨阐释官员的爵位,与内阁职权无关,排除 D 项。

28.【答案】C

【解析】宗教作为“西学”的形式之一,它的传入“禁止”“指腹为婚、买卖婚姻”“禁止童养媳及童年订婚”客观上有利于社会进步,故 C 项正确;从“1846 年”“教友”“教徒”“教堂”等信息可以看出,当时新式婚礼范围极小,A 项和 D 项均不正确;根据《南京条约》《中法黄埔条约》,在上海传教是合法的,B 项不正确。

29.【答案】B

【解析】由表格内容可知,这一时期中国经济发展先快转慢,在 1918 年后又继续增长。这是因为在辛亥革命后,帝制的瓦解和实业救国思潮的影响,中国人投资热情被激发,一战开始后,列强放松对华经济扩张,这两大因素促进了中国产品市场扩大;一战期间,西方列强减少对华资本输出,这在一定程度上减少了近代企业发展的资金等;日本对德宣战后,加大对华扩张等,在一定程度上影响中国经济发展,这一系列的因素让中国经济的发展历经曲折,故答案为 B 项;1913—1914 年,1916—1918 年这两段时期,中国经济发展困难,排除 A 项;民族工业在此时期得到一定程度的发展,但只是集中在某几个领域,排除 C 项;列强因为一战放松了对华经济侵略,但没有停止,排除 D 项。

30.【答案】C

【解析】图片反映了抗日战争即将胜利的形势,其中“苏军占领区”反映了 1945 年 8 月 8 日苏联红军对日宣战的情形,“解放区”在华北地区基本连成一片,反映了中共及八路军、新四军发挥了中流砥柱的作用,故 C 项正确;A 项发生在 1931—1937 年,B 项发生在 1938 年 10 月至 1944 年,此时欧洲战场已经结束,A、B、D 三项均与题意不符。

31.【答案】B

【解析】当时改革开放还处于最初的阶段,在农村经济体制改革和城市经济体制改革问题上,还存在着部分分歧,国务院体改办的规划出台,省、市等部门的认知态度不明确,A 项不符合题意;从城市扩大企业自主权,到建立适应商品经济的经济体制,再到调整所有制结构,反映了经济体制改革的视野从局部到整体性的进步,故 B 项正确;材料无城市、农村经济体制改革同步推进的信息,排除 C 项;材料涉及的是“知识商品经济的经济体制”,市场观念和市场意识未在材料中反映出来,排除 D 项。

历史[第 1 页]

32. 【答案】D

【解析】罗马法是古代罗马从共和国时期到帝国时期的法律,从本质上说不是近代法律,排除 A 项;万民法形成的时间大约在公元前 3 世纪中期,B 项不正确;虽然“人权至上”“人人生而平等”的原则有所体现,但这并不是完全意义上的启蒙思想,排除 C 项;《查士丁尼民法大全》,“人权至上”“人人生而平等”等法律原则,“律师制度”“陪审制度”“法人制度”,集中反映了罗马法走向完备,故 D 项正确。

33. 【答案】A

【解析】首先,1406—1475 年是 15 世纪,是文艺复兴运动的鼎盛时期;“道德、社会及政治哲学的繁荣”是指新兴资产阶级的新文化运动——文艺复兴运动的发展,故 A 项正确;这种文化思潮,不是中世纪的封建文化,排除 B 项;题中材料,没有空想社会主义的信息,排除 C 项;此时,还是资本主义萌芽时期,大工业是在工业革命之后才逐步发展起来的,排除 D 项。

34. 【答案】A

【解析】新经济政策,“废除国家配给制”“国家贸易垄断制”“实行自由贸易制”,充分发挥了市场、商品、货币的作用,故 A 项正确;以上做法,并没有废除计划管理体制,B 项不正确;新经济政策是在“国家掌握经济命脉的情况下”,一定程度上实行自由贸易,C 项不准确;新经济政策的以上做法,有利于以公有制为主体的多种所有制经济的形成,排除 D 项

35. 【答案】C

【解析】材料的核心信息是“经济全球化”“地区经济一体化”“西方发达国家的主导”“多种经济集团”,也就是说经济全球化和多极化;“多种经济集团,在联合国表达着各自的诉求”,体现了政治的多极化趋势,故 C 项正确;A 项反映的是材料的局部信息,不全面;B、D 两项的表述与题中材料无关,排除。

42. 【答案】(1)中国古代:双轨政治,中央集权,乡村自治;(2 分)突出精英官制与宗族自治的职能。(2 分)民国年间:城市乡村均由国家管控的单一治理模式;(2 分)精英政治被“专政劣治”取代,影响恶劣。(2 分)

(2)背景:三大改造完成,社会主义制度建立;(2 分)人民内部矛盾成为社会主要矛盾;(2 分)全面建设社会主义开始。(2 分)

特点:治理全面;(2 分)民主制度治理;(2 分)因势利导,重视民生问题。(2 分)

(3)启示:社会治理涉及方方面面;必须符合国情,一切从实际出发;解决民生问题是社会稳定的关键;制度治理、法治,是实现有效社会治理的最终出路。(共 5 分,任答 3 点即可)

43. 【答案】示例 1:世界经济中心转移的主要趋势。(2 分)

阐述:非洲是人类最早的经济中心;(2 分)从古代开始到 18 世纪,亚洲和欧洲的经济引领世界潮流。(2 分)19 世纪至 20 世纪末,从西欧美俄到西欧美苏和资本主义三足鼎立;(2 分)21 世纪初,是西欧美与东亚的时代。(2 分)

综上所述,世界经济中心转移经历了从亚非逐步转到欧美,再到西欧美东亚的发展趋势。(2 分)

示例 2:世界经济中心转移的原因分析。(2 分)

阐述:古代亚非经济领先,源于亚非最早进行农业革命(最先进入铁器时代)。(2 分)亚洲、欧洲共同发展,在于农业经济的发展。(2 分)西欧、美、俄时代,根源在于工业经济和工业文明。(2 分)知识经济、知识革命和经济全球化、区域集团化,是美、西欧、东亚时代到来的关键。(2 分)

总之,世界经济中心的转移,取决于生产力的发展和进步。(2 分)

44. 【答案】(1)主张:学习西方强兵富国制度;(1 分)设立下议院,将国事“付诸公论”;(2 分)将中国传统的阁部会议作为上议院,作为议事、咨询机构。(2 分)

原因:陈炽对江浙沿海及香港、澳门考察;陈炽为爱国救亡的探索。(共 4 分,每点 2 分)

(2)康有为将著书立说发展为政治救国的运动,(2 分)并借助传统文化全方位推进改革,(2 分)客观上促进了中国近代化进程。(2 分)

关于我们

自主选拔在线是致力于提供新高考生涯规划、强基计划、综合评价、三位一体、学科竞赛等政策资讯的升学服务平台。总部坐落于北京，旗下拥有网站（[网址: www.zizzs.com](http://www.zizzs.com)）和微信公众平台等媒体矩阵，用户群体涵盖全国90%以上的重点中学师生及家长，在全国新高考、自主选拔领域首屈一指。

如需第一时间获取相关资讯及备考指南，请关注**自主选拔在线**官方微信号：**zizzsw**。



微信搜一搜

自主选拔在线