

绝密★考试结束前

浙江省 A9 协作体 2022 学年第二学期期中联考

高一历史试题

命题: 慈溪实验高级中学 王如玉 审题: 诸暨牌头中学 刘伟江 宁海知恩中学 杨甜甜

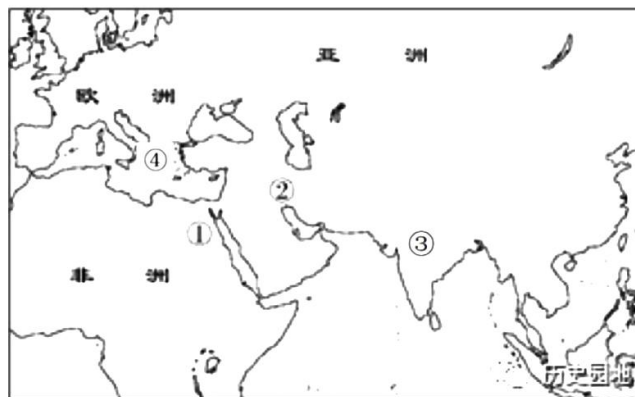
考生须知:

1. 本卷满分 100 分, 考试时间 90 分钟;
2. 答题前, 在答题卷指定区域填写班级、姓名、考场号、座位号及准考证号并填涂相应数字。
3. 所有答案必须写在答题卷上, 写在试卷上无效;
4. 考试结束后, 只需上交答题卷。

选择题部分

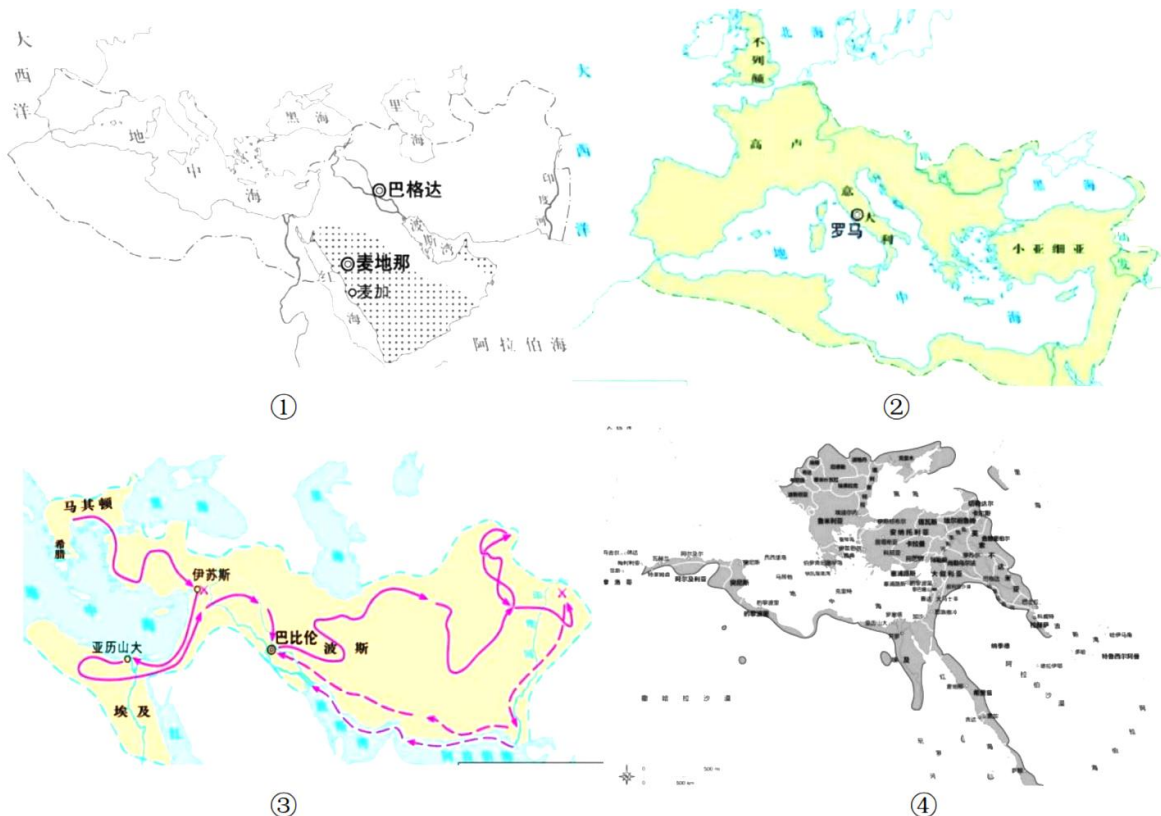
一、**选择题** (本大题共 35 小题, 每小题 2 分, 共 70 分。每小题列出的四个备选项中只有一个是符合题目要求的, 不选、多选、错选均不得分)

1. 下图所示是世界代表性的几大文明区域。受地理和历史条件影响, 古代文明表现出明显的多元特征。下列成果与序号对应正确的是



- A. ①处颁布了世界上现存最早的较为完整的成文法典
 - B. ②处制定了世界上第一部太阳历
 - C. ③处创造了从 1 到 9 的数字, 发明出了“0”
 - D. ④处诞生了迈锡尼文明和著名洪水传说
2. 18~19 世纪的英国诗人拜伦的传世巨作《唐璜》中运用了大量的古希腊神话传说和众神的故事, 特别是第三章《哀希腊》就指出了希腊神话中的太阳神阿波罗是希腊群岛的守护神, 阿波罗在古希腊神话中代表光明, 是象征生命、爱情、诗歌和音乐的神灵。这说明了
 - A. 古希腊文化是欧洲文化的源头
 - B. 古希腊的神话启迪了西方的文学创作
 - C. 古希腊神话具有极高的史料价值
 - D. 文学创作一定会从古代神话传说中获取灵感

3. 德国哲学家雅斯贝尔斯提出公元前 800 至公元前 200 年之间, 尤其是公元前 600 至前 300 年间, 是人类文明的“轴心时代”。他认为, 这段时期是人类文明的重大突破时期。下列文明成果属于这一时期的有
- ①《吉尔伽美什》 ②古希腊哲学思想 ③佛教 ④百家争鸣
- A. ①②③ B. ②③④ C. ①②④ D. ①②③④
4. 世界历史上先后出现过几个横跨欧亚非的大帝国, 下图所示是鼎盛时期的疆域图, 按照出现的先后顺序排序



- A. ②③④① B. ④③①② C. ③②④① D. ③②①④
5. 随着农耕经济的发展, 各文明区域范围不断扩大, 是不同文明区相互连接起来, 也促进了不同区域文明的传播、交流与发展。下列关于文明之间交往情况表述不正确的是
- A. 冶铁技术起源于西亚, 从那里扩散到埃及和希腊地区
- B. 希腊最初的雕刻艺术, 特别是人像雕刻, 在很多方面都模仿埃及
- C. 腓尼基字母向东传入希腊形成希腊字母, 再演化出拉丁字母
- D. 汉朝与罗马帝国之间通过丝绸之路, 双方有间接的经贸和文化交流
6. “我们居住的位于费西斯河(黑海最东部的一条河)与赫丘利柱石(直布罗陀海峡两边耸立的海岬)之间的区域只是大地的一小部分, 我们沿着大海生活, 就像蚂蚁或青蛙围绕着一个池塘……”
- 下列不属于材料中所描述区域的城市是
- A. 巴比伦 B. 雅典 C. 斯巴达 D. 亚历山大

7. 近现代欧洲历史学家汤普逊曾说:“尽管说欧洲中世纪的封君封臣制散发着腐朽而恶劣的臭味。但是从本质上来说,它的存在使得欧洲社会从早期尚武的个人英雄主义精神渐渐转化为服从法律、忠诚守纪的近现代西方法律精神,封君封臣制在欧洲中世纪的社会时代起到了关键的过渡作用。”下列属于该学者对于封君封臣制度观点的是

- ①是导致欧洲中世纪晚期黑暗政治的罪魁祸首
- ②为西欧民族国家的发展奠定了基础
- ③在欧洲社会制度的演变之中扮演了承上启下的作用
- ④有利于维护社会秩序稳定

A. ①③ B. ②④ C. ①④ D. ③④

8. 右图出自 1330 年前后海德堡的一册手抄本,它反映了教士宣布解除婚姻,把丈夫、妻子和子女分离开的场面。这幅漫画反映了当时的西欧



教士主持解除婚姻的场面

- A. 基督教会占有举足轻重的地位
- B. 宗教戒律严重束缚了人性的发展
- C. 基督教会控制了人们的日常行为和思想意识
- D. 基督教对于婚姻持严谨态度

9. 有位学者称拜占庭在宗教上承袭基督教,在文化上承袭古希腊,而它的政府结构原则大致源于古罗马,其法律和官僚是从罗马晚期直接演化而来的。下列史实能论证他观点的是

- A. 拜占庭使用的斯拉夫字母是对希腊字母的继承和改造
- B. 拜占庭的国教是基督教教派中的天主教
- C. 拜占庭颁布的《查士丁尼法典》使罗马法成为系统、完整的法律体系
- D. 拜占庭地方实行行省制,任用希腊人担任主要职务

10. 巴格达城的码头,有好几英里长,那里停泊着几百艘各式各样的船只,有战舰和游艇,有中国大船……市场上有从中国运来的瓷器、丝绸和麝香;从印度和马来群岛运来的香料、矿物和染料;从中亚细亚突厥人的地区运来的红宝石、青金石、织造品和奴隶;从斯堪的纳维亚和俄罗斯运来的蜂蜜、黄蜡、毛皮和白奴;从非洲东部运来的象牙、金粉和黑奴。可从材料提取的信息有

- ①巴格达是当时的世界贸易中心 ②阿拉伯人的贸易深入社会生活
 - ③阿拉伯商人的贸易范围非常广泛 ④阿拉伯帝国仍广泛实行奴隶制
- A. ②③④ B. ②③ C. ③④ D. ①②③④

11. 日本是一个善于向外学习,吸纳其他民族先进文化的国家。在古代学习中国,建立了中央集权国家;在近代学习西方资本主义国家,加强中央集权,废除封建等级制度,推行三大政策,制定宪法。两次学习都推动了日本的社会转型和发展。这两次向外学习的改革运动分别是

- A. 大化改新, 维新变法 B. 维新变法, 明治维新
- C. 明治维新, 文明开化 D. 大化改新, 明治维新


12. 君士坦丁堡陷落后奥斯曼土耳其人的劫掠:“劫掠继续了三天,没有一个兵士不靠夺得的战利品和奴隶而致富的。经过三天,▲用重惩威吓的办法,禁止继续抢劫和仍然没有停止的屠杀。所有人服从了他的命令。▲是奥斯曼帝国的最高统治者被称为

- A. 哈里发 B. 苏丹 C. 皇帝 D. 国王


13. 一位史学家指出：“在白人踏上美洲几个世纪前，危地马拉、墨西哥和安第斯高地的印第安人已经拥有几乎具有一切文明特征的较高的文化。假如不是被征服的话，他们完全可以为发展中南美洲自己的文化打下一个基础，这一文化可以同任何其他洲的文化相媲美。”其中“墨西哥的印第安人”指的是
- A. 津巴布韦 B. 玛雅 C. 阿兹特克 D. 印加
14. 哥伦布说：“黄金是一切商品中最宝贵的，黄金是财富，谁占有黄金，就能获得他在世上所需要的一切，同时也就取得把灵魂从炼狱中拯救出来，并使灵魂重享天堂之乐的手段。”这说明了新航路开辟的主要目的是
- A. 获取东方香料 B. 传播基督教义 C. 扩大海外市场 D. 掠夺黄金资源
15. 下图是 16 世纪马尼拉大帆船的版画。画中 5 艘马尼拉大帆船停泊在港口上，水手通过小船接驳上岸，岸上码头的工人准备卸货。对该版画表述正确的是



- A. 这是由西班牙经营的跨越大西洋、印度洋和太平洋的贸易
- B. 运载大量产于中国的生丝、丝绸、棉布等产品到墨西哥交换白银
- C. 它作为三角贸易的重要组成部分，促进了欧洲资本原始积累
- D. 推动中日之间的丝银贸易，进一步刺激了中国东南沿海地区经济的发展
16. 在菲律宾的马克塔岛，有一块关于某位航海家的双面碑。碑文正面记载着当地一位勇士在这里打退了入侵者，并且杀死了他们的首领，碑文背面记载着这位航海家的伟大功绩。与此有关叙述正确的是
- A. 这位航海家是麦哲伦，得到葡萄牙王室支持进行的航行
- B. 这位航海家的航行使得西方“地圆说”开始出现
- C. 这位航海家的航行带来的影响具有两面性
- D. 这位航海家的航行彰显了人的力量，推动了欧洲文艺复兴的兴起
17. 下图反映了美洲被发现前后人种构成的变动，造成近代美洲人口变化的最主要原因是



- A. 欧洲人的殖民扩张和掠夺 B. 三角贸易等奴隶贸易的流行
- C. 天花、水痘等疾病的传入 D. 白人、黑人、混血人种增加

18. 甘蔗原产于印度, 16 世纪被探险家和殖民者带到巴西等热带及亚热带地区, 大量种植后制成蔗糖销往世界各地, 17 世纪中期以后逐渐成为大众均能承受的调味品。这一现象直接反映了新航路开辟后
- A. 全球横向交流不断扩展并更加频繁
B. 殖民地的经济结构发生变动
C. 人类历史向整体性历史转变
D. 美洲是当时世界经济贸易的中心
19. 16 世纪初的头几年里, 欧洲传统进口香料胡椒的价格在里斯本从每担 80 杜卡特(当时欧洲流行的一种金币)下降到每担 20 杜卡特。而同时威尼斯的胡椒价格却从每担 42 杜卡特涨至每担 80 杜卡特。导致这一现象出现的主要原因是
- A. 大量贵金属流入欧洲
B. 美洲种植园经济发展
C. 价格革命的兴起推动
D. 商业贸易中心的转移
20. 1492 年后, 当欧洲船只将成千上万的物种运到大洋彼岸的新家园时, 全球的生态系统开始了碰撞与融合。有学者将其称为“哥伦布大交换”。伴随着“欧洲船只”传入美洲的经济农作物有
- A. 小麦、水稻
B. 花生、南瓜
C. 橄榄、葡萄
D. 咖啡、可可
21. 马克思曾评价“他”是中世纪的最后一位诗人, 同时又是新时代的最初一位诗人。下列与“他”有关的是
- A. 撰写了抒情诗集《歌集》
B. 他的作品讽刺教会的封建腐朽, 宣扬人性自由
C. 他的作品充分体现了人文主义的政治理想和道德观念
D. 他的作品用高超的艺术表现手法, 突破了中世纪呆板僵硬的风格
22. 斯塔夫里阿诺斯在《全球通史》中说:“‘宗教改革’一词像‘文艺复兴’一词一样容易使人产生误解, ……表面上看, 宗教改革可以解释为对教会某些弊病做出的反应……这些弊病很容易激怒人们, 但它们只是新教徒进行宗教改革的借口, 而不是根源。”对此理解不正确的是
- A. 宗教改革实质是资产阶级宗教文化运动, 反映新兴的资产阶级的诉求
B. 宗教改革的主要表现形式是建立新教, 从天主教分裂出来, 不承认罗马教皇的权威
C. 宗教改革是通过复兴古希腊罗马文化来揭示教会的贪腐
D. 宗教改革运动发生的根本原因天主教会阻碍资本主义的发展
23. “地心说”认为地球是宇宙的中心, 是静止不动的, 而其他的星球都围绕着地球运行。“地心说”长期是欧洲天主教会公认的世界观。对“地心说”的统治地位造成冲击的科学家是
- A. 哥白尼
B. 伽利略
C. 开普勒
D. 牛顿
24. 1989 年英国颁布了纪念某一历史事件 300 周年的纪念币, 与该历史事件直接相关的是
- A. 推翻复辟王朝的封建统治
B. 巩固资产阶级的革命成果
C. 扩大议会权力, 限制王权
D. 巩固工业资产阶级统治权
- 
25. 托克维尔称“这场革命”的效果就是摧毁若干世纪以来绝对统治欧洲大部分人民的、通常被称为封建制的那些政治制度, 代之以更一致、更简单、以人人地位平等为基础的社会政治秩序。对“这场革命”理解正确的是
- A. 推翻了欧洲其他国家的封建制度
B. 拉开了欧美资产阶级革命的序幕
C. 既是民族独立战争, 也是资产阶级革命
D. 促进了革命的原则传播到欧洲各地

26. 某部文献以启蒙思想为基础,集中表达了资产阶级人权思想的基本内容,第一次以法律形式确认了保护人权的革命口号,成为资产阶级打破封建特权地位的法律依据。它集中阐述了资产阶级的法制原则和国家制度的基本原则,这些原则为保障资产阶级人权,为资产阶级夺取政权和实现资产阶级专政奠定了坚实的基础。

- A. 《罗马民法大全》 B. 《法国民法典》 C. 《权利法案》 D. 《人权宣言》

27. 英国在 1832 年的改革后,全国选民人数比重从 2%增加到 3.3%。美国独立后颁布的宪法存在承认奴隶制的存在,不承认黑人和印第安人具有和白人男子平等的公民权利等问题,直到内战结束后在法律上承认黑人的公民权利。这些都反映了

- A. 资本主义制度下阶级矛盾会不断激化,最终走向灭亡
B. 资本主义制度的民主范围和人权具有时代局限性,会随着时代发展不断进行局部调整
C. 资本主义国家的政党只是一种维护资产阶级统治的政治制度
D. 资本主义制度的民主范围不断发展扩大,最终走向社会主义

28. 英国拥有很大的、不断扩大的市场……还拥有更多的、可供工业革命的资金用的流动资本,源源流入英国的商业利润比流入其他任何国家的都多……由于行会较早瓦解,由于对传统的条块农田的圈占,英国获得了充裕的流动劳动力。下列对于英国率先发生工业革命的原因分析不正确的是

- A. 殖民扩张使英国获得了广阔的海外市场 B. 圈地运动提供了国内市场和自由劳动力
C. 三角贸易提供原料、资金和雇佣劳动力 D. 资产阶级革命胜利为其奠定了政治前提

29. 工业革命过程中出现了许多发明创造,极大地推动了人类社会的发展。下列关于各项发明表述正确的是

选项	成果	意义
A	18 世纪 30 年代飞梭	标志着工业革命的开始
B	1771 阿克莱特水力纺纱厂	成为近代工厂的开端
C	1785 瓦特试制出旋转运动的“复动式蒸汽机”	解决了生产动力受自然条件限制的问题
D	内燃机的创制和应用	轮船、汽车、飞机等新式交通工具应运而生

30. 恩格斯说:“做某些工作,几乎包括工业中的一切工作在内,都需要有相当的文化程度……都需要一定的技能和常规性,而要达到这一点就要求工人具有一定的文化水平。”这体现工业革命的影响是

- A. 人们的文化素养逐渐提升 B. 造成社会阶级结构的重大变化
C. 女性获得了更多受教育的机会 D. 使生产组织与管理方式发生重大变革

31. 1911~1913 年间,英国 25 岁以上人口中,4.93%的人拥有 60%以上的财富。在德国,1911 年时 3425 个富人平均每人拥有的财产价值 532 万马克。另外 161 万人的人均财产只有 2.3 万马克,最贫困的人尚不在此列。从中可以提取的信息是

- A. 资本主义的弊端日益显露 B. 社会贫富差距日益缩小
C. 为转嫁矛盾,德国走上了法西斯道路 D. 工人生活水平不断提高

32. 19 世纪三四十年代,欧洲爆发的法国里昂工人武装起义提出了“建立共和政体”的口号;英国宪章运动呈议会要求普选权的请愿书;德意志西里西亚纺织工人起义提出“反对私有制社会”;但这些运动最后都遭到统治者镇压,以失败告终。上述材料不能反映出

- A. 欧洲资本主义制度已经日益衰落 B. 欧洲工人阶级成为独立的政治力量
C. 工人阶级迫切需要科学理论指导 D. 工人阶级的阶级意识已觉醒

33. 马克思在其著作中肯定巴黎公社的价值, 写道“公社的伟大社会措施就是它本身的存在和工作。它所采取的各项具体措施, 只能显示出走向属于人民、由人民掌权的政府的趋势……工人的巴黎及其公社将永远作为新社会的光辉先驱而为人所称颂”对此理解正确的是
- A. 这部著作是《共产党宣言》
B. 这部著作还揭露了资本家剥削工人的秘密
C. 巴黎公社是马克思主义指导下的一次伟大实践, 丰富了马克思主义的学说
D. 巴黎公社的实践为国际工人运动的发展提供了宝贵的经验和教训
34. 马克思是一位伟大的革命家, 积极地投身于无产阶级的革命实践活动, 把自己的一生无私地献给了无产阶级革命事业。将下列马克思的革命活动按照时间先后顺序排列
- ①推动国际工人协会的成立
②建立共产主义通讯委员会
③欧洲爆发革命后回国投入斗争, 并创办报纸
④加入“正义者同盟”
- A. ②③④① B. ②④③① C. ③②①④ D. ④②③①
35. 下列是 1914 年欧洲部分列强占有的殖民地和工业产量名次的统计表, 对此理解最为准确的是

国家	殖民地数(个)	殖民地人口(人)	工业产量在世界上所占名次
英国	55	3.9 亿	3
法国	29	6235 万	4
德国	10	1307 万	2

- A. 占有的殖民地数量与其经济实力成正比
B. 世界市场最终形成, 世界越来越紧密的连为一体
C. 帝国主义间政治经济发展不平衡, 孕育着新的更大的冲突
D. 资本主义列强已经控制了世界上绝大部分土地和人口, 资本主义世界殖民体系建立

非选择题部分

二、非选择题（本大题共 2 小题，其中第 36 小题 14 分，37 小题 16 分，共 30 分）

36. 阅读材料，完成下列要求。（14 分）

材料一：西罗马帝国于公元 476 年灭亡后，拜占庭帝国依然保持着它的繁荣。公元 6 世纪，皇帝查士丁尼西征浪费了大量的人力、物力，加剧了帝国的危机。拜占庭的作用是绝对保守的。命运注定它只是保存，而不是创新。它诞生在一个古老的国度，生活在过去的势力和荣誉的阴影之中，这种势力和荣誉正是它所试图维持和恢复的。他们很少有人真正具有创造力。1453 年，奥斯曼土耳其国王亲率大军和几百艘战舰，兵临君士坦丁堡城下，经过鏖战，君士坦丁堡陷落。

——摘编自斯塔夫里阿诺斯《全球通史》

材料二：阿拉伯帝国幅员辽阔，古代文化遗产丰富。花刺子密（780-850 年）制定的《天文表》，后来被英国人译成拉丁文，成为东西方各种天文表的蓝本。他的《积分与方程计算》，直到 16 世纪一直是欧洲各大学的教科书。拉齐斯（865-925 年）在著作《医学集成》中，总结了希腊、波斯和印度的医学知识，具有很高的科学水平，在欧洲流传几百年。法拉比（870-950 年）把柏拉图、亚里士多德、新柏拉图派和苏非派（伊斯兰教的一个派别）的思想加以揉和，他承认物质世界的存在，也强调宇宙万物都源于安拉。法拉比的哲学观点，对阿拉伯和欧洲中世纪思想文化都有很大影响……阿拉伯学者把东西方文化融合为一体，创造出丰富多彩的阿拉伯伊斯兰文化，为世界文化史的发展作出了卓越的贡献。

——摘编自吴于廑、齐世荣《世界史古代史（下卷）》

- （1）据材料一概括分析拜占庭帝国衰落、灭亡的原因。（6 分）
- （2）据材料二，用一个词语概括阿拉伯文化对欧洲文化发展的作用。结合所学知识，从文化的角度，归纳两大帝国的共同点。（8 分）

37. 阅读材料，完成下列要求。（16 分）

材料一：十七世纪末期和十八世纪，被称为“理性时代”。人们的思想越来越从迷信中，也包括盲目的信仰中解放出来。在文艺复兴和人文主义时期所开始的事业，以更为显著的形式得以继续。这种新的思想潮流首先来自英国和法国，所有迄今为止对宗教、国家，社会和经济的观念都遭到了质疑，受到理性判断的严格考验。凡是经不起这种“理性”考验的东西，就会像在实验室里废弃的东西一样被抛弃。

——摘编自[德]曼弗雷德·马伊著《一口气读完世界历史：从人类起源到 9·11 事件》

材料二：思想解放是社会变革的先导。17—19 世纪，资产阶级在一些国家相继进行了不同规模、不同形式的革命或改革，确立资本主义制度。在这一历史进程中，英国、美国和法国走在前面。随着资本主义的扩限，俄国、日本、意大利和德意志等也走上资本主义道路。为了维护自身利益，资产阶级也建立起适合资本主义经济发展的政治制度。

——摘自《普通高中教科书·中外历史纲要（下）》

- （1）根据材料一并结合所学知识，写出这种“新的思想潮流”指的是什么。并说明在“经济”方面的代表人物和其观点主张。（6 分）
- （2）根据材料二并结合所学知识，指出资本主义国家主要实行的两种政体。并以美国为例，说明启蒙思想在资产阶级革命和政治制度的体现。（10 分）

关于我们

自主招生在线是致力于提供新高考生涯规划、强基计划、综合评价、三位一体、学科竞赛等政策资讯的升学服务平台。总部坐落于北京，旗下拥有网站（网址: www.zizs.com）和微信公众平台等媒体矩阵，用户群体涵盖全国 90% 以上的重点中学师生及家长，在全国新高考、自主招生领域首屈一指。

如需第一时间获取相关资讯及备考指南，请关注**自主招生在线**官方微信号: **zizzsw**。



浙考家长帮
微信号: zjgkjzb



浙考家长帮
微信号: zjgkjzb



浙考家长帮
微信号: zjgkjzb