

2023年合肥六中高三最后一卷

文科综合

一、选择题：本题共 35 小题，每小题 4 分，共 140 分。在每小题给出的四个选项中，只有一项是符合题目要求的。

为保障我国的粮食安全，自 2020 年起，国家和地方出台了一系列政策，要求坚决遏制耕地“非农化”、防止耕地“非粮化”。铜仁市位于贵州省东北部、武陵山区腹地，具有耕地总量少、耕地质量不高等特点，耕地“非粮化”问题显著。为促进铜仁市耕地的高效利用，当地采取并落实“占补平衡”制度，推进新型城镇化进程等措施，因地制宜促使耕地“趋粮化”发展据此完成 1~3 题。

1.造成铜仁市耕地质量不高的原因是

- A.耕作经验不足
B.洪涝灾害频繁
C.风力侵蚀严重
D.岩溶地貌广布

2.新型城镇化进程的推进对保护铜仁市耕地的作用是

- A.调整农业生产结构
B.提高土地利用效率
C.带动周边地区发展
D.促进城镇环境治理

3.为促进耕地的高效利用，铜仁市还可以

- A.开发撂荒地扩大耕地面积
B.大力发展旅游业和第三产业
C.加快推进高标准农田建设
D.退耕还林还草进行生态修复

2022 年 6 月 16 日，线路全长 825 千米的新疆和若(和田—若羌)铁路开通。和若铁路在某些路段采取以桥代路的方式，桥墩工程采用预制拼装技术，在工厂先预制加工桥墩混凝土构件，然后运到现场“搭积木”，精确拼装。和若铁路沿线共修建 1.5 米高立式沙障 1540 千米、草方格 5000 万平方米，种植梭梭、怪柳、胡杨等灌木和乔木 1300 万株，形成一条防沙护路的绿色屏障。据此完成 4~5 题。

4.桥墩工程采用预制拼装技术，主要应对沿线建设中

- A.缺水
B.高温
C.大风
D.冻土

5.为了防沙护路，和若铁路自沿线向外侧依次布置的是

- A.草方格—乔木—灌木—立式沙障
B.立式沙障—灌木—乔木—草方格
C.草方格—灌木—乔木—立式沙障
D.立式沙障—乔木—灌木—草方格

我国东北多年冻土区可分为连续多年冻土区、不连续多年冻土区以及稀疏岛状多年冻土区。研究表明，在气候变暖背景下，我国东北多年冻土区南界北移，植被覆盖指数呈增加趋势，但不同类型多年冻土区的冻土活动层厚度和植被生长季变化的差异，造成其植被覆盖指数的增加程度不同。从长期来看，气候变暖反而会限制我国东北多年冻土区的植被生长。图 1 示意我国东北不同类型多年冻土区的分布。据此完成 6~8 题。

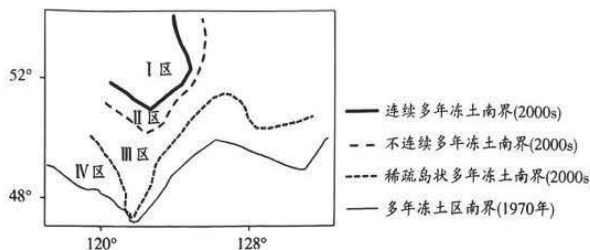


图 1

6.在气候变暖背景下，植被覆盖指数增加量最大的是

- A.I 区
B.II 区
C.III 区
D.IV 区

7.近年来,与V区相比,I区整体上

- ①冻业活动层厚度增加较多 ②冻土活动层厚度增加较少
③植被生长季变化大 ④植被生长季变化小
A.①② B.③④ C.①③ D.②④

8.长期来看,气候变暖会阻碍植被生长的主要原因是

- A.土壤水分供应增加 B.土壤水分供应减少
C.区域降水总量增加 D.区域降水总量减少

普拉姆岛位于美国东北部沿海地区,是第四纪末次障壁岛。岛屿向海一侧形成一条南北走向的沙坝体,向究发现普拉姆岛东西两侧沉积物以砂石为主,但颗粒大相关地理事物分布。据此完成9~11题。

9.普拉姆岛在冰后期形成的典型地貌是

- A.冰川堆积地貌 B.冰川侵蚀地貌
C.海水堆积地貌 D.海水侵蚀地貌

10.普拉姆岛东西两侧沉积物颗粒粗细及形成的外力作

- A.东侧一颗粒较细 B.东侧一颗粒较粗
C.西侧一颗粒较粗 D.西侧一颗粒较细

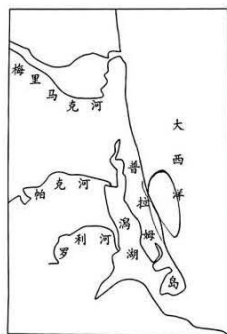


图2

冰盛期和冰后期演化形成的陆一侧为泻湖和沼泽。经研小不一。图2示意普拉姆岛

用分别是

11.普拉姆岛未来开发保护最适宜的方向是

- A.围垦沼泽发展淡水养殖 B.开采滨海地区海沙
C.修建码头发展观光旅游 D.疏通泻湖发展航运

12.党的二十届二中全会关于党和国家机构改革方案,是从党和国家事业发展全局出发作出的重大决策部署,将有力推动机构设置更加科学、职能配置更加优化、体制机制更加完善、运行管理更加高效,对于全面推进中华民族伟大复兴意义重大而深远。深化党和国家机构改革

- ①有利于推进国家治理体系和治理能力现代化
②是新时代坚持和发展中国特色社会主义的必由之路
③是基于国家机构设置不适应社会主义市场经济体制要求
④将积极推动中国特色社会主义制度更加成熟更加定型

- A.①③ B.①④ C.②③ D.②④

13.从现在起,中国共产党的中心任务就是团结带领全国各族人民全面建成社会主义现代化强国、实现第二个百年奋斗目标,以中国式现代化全面推进中华民族伟大复兴。下列对此理解正确的是

- ①党的领导是中国式现代化最鲜明的特征和最大的优势
②新时代坚持和发展中国特色社会主义必须要一以贯之
③该奋斗目标的提出是基于现阶段社会基本矛盾的变化
④中国式现代化立足于已发生根本变化的基本国情

- A.①② B.①③ C.②④ D.③④

14.党的十八大以来,我国制造业发展取得历史性成就、发生历史性变革。从40万户规模以上工业企业,到4万多家“专精特新”中小企业;从载人航天、电力装备、高档数控机床等领域实现创新突破,到2022年全国企业关键工序数控化率和数字化研发设计工具普及率分别达到58.6%和77.0%……这表明我国制造业

- ①市场主体活力和实力不断增强 ②生产模式转型升级取得新成效

③不断满足人民对美好生活的需要④是构建现代化经济体系重要一环

A.①②B.①③C.②④D.③④

15.全国各地积极完善社会保障体系，扩面提标同步推进。截至2022年末，全国基本养老保险参保人数达10.5亿人，同比增加2430万人，失业、工伤保险参保人数分别为2.4亿人、2.9亿人。下列推导正确的是

- ①完善社会保障体系→稳定居民收入预期→激发居民消费欲望→拉动经济增长
 - ②完善社会保障体系→发挥第三次分配的作用→增加居民可支配收入→带动经济增长
 - ③完善社会保障体系→调节社会群体的利益关系→促进社会公平正义→推动经济发展
 - ④完善社会保障体系→大幅提高当前社会保障水平→增加财政支出→带动经济增长
- A.①②B.①③C.②④D.③④

16.全面推进依法治国是一项庞大的系统工程，是国家治理的一场深刻革命，必须坚持法治国家、法治政府、法治社会一体建设，在法治轨道上全面建设社会主义现代化国家。全面推进依法治国，需要

- ①行政机关带头严格执法，认真全面履行国家职能
- ②立法机关从国情和实际出发，制定良法来保障善治
- ③公安机关公正司法，坚持以事实为根据，以法律为准绳
- ④全民守法，使尊法守法成为全体大民的共同追求和自觉行动

A.①②B.①③C.②④D.③④

17.“大国工匠”孟维是一名数控车工，二十年如一日，凭借着一股韧劲和百折不挠的毅力，在数控机床上不断磨练技能、攻坚克难，破解了高强钢加工工艺、起重机核心零部件中心回转体加工等诸多难题，成为大国重器精密部件的“雕刻师”。这告诉我们

- ①自强不息的精神决定了人生价值的高度
- ②劳动是促进人的自由全面发展的重要手段
- ③重视量的积累，为实现事物的质变创造条件
- ④重视部分的作用，用局部的发展推动整体的发展

A.①②B.①④C.②③D.③④

18.2022年11月29日，“中国传统制茶技艺及其相关习俗”被列入联合国教科文组织人类非物质文化遗产代表作名录。茶通过丝绸之路、茶马古道等，穿越历史、跨越国界，深受世界各国人民的喜爱，成为人类文明共同的财富。这说明

- ①茶是中华文明与其他文明交流互鉴的媒介
- ②茶为讲好中国故事提供了重要的文化资源
- ③世界各国都对人类文化发展作出了重要贡献
- ④当代中国文化自信就是对中华传统文化的自信

A.①②B.①④C.②③D.③④

19.2023年4月12日至15日，巴西总统卢拉对中国进行国事访问。中巴双方签署了减贫、科技创新、航天、信息通信、投资、海关检验检疫、金融、数字经济等领域共15项合作文件，并发表了《中华人民共和国和巴西联邦共和国关于深化全面战略伙伴关系的联合声明》，涵盖了中巴关系发展的方方面面。中巴合作

- ①说明中巴两国间具有广泛的共同利益
- ②体现了两国之间根本利益上的一致性
- ③表明竞争、合作是国际关系的基本内容
- ④符合两国发展利益，有利于世界和平稳定

A.①③B.①④C.②③D.②④

20.M照相馆与小李夫妇达成协议,由M照相馆免费为他们拍照,小李夫妇允许M照相馆展示他们的结婚照。不久,M照相馆把两人结婚照转卖给Q保健品公司作封面广告,小李夫妇将M照相馆及Q保健品公司告上法院。下列理解正确的有

- A.M照相馆有结婚照的版权,可以转卖给商家制作商业广告
- B.Q保健品公司未经本人许可公开使用此照片,属侵权行为
- C.Q保健品公司是对结婚照的合理使用,但需要支付一定的费用
- D.如果M照相馆与小李夫妇达成的是口头协议,则不具有约束力

21.近年来某区法院助力推进市域治理,推出了“法院+行业协会+司法服务”工作新模式,出台了系列相关制度,不断构建和完善诉源治理系统工程,把纠纷化解在前端、把矛盾化解在萌芽。由此可见,多元解决纠纷需要

- ①深化党建引领,提升社会治理效能
- ②适时出台相关司法建议和司法白皮书
- ③加强调解平台建设和调解员培训指导
- ④监督相关行业协会自觉履行企业责任

A.①②B.①④C.②③D.③④

22.重视调查研究,是中国共产党一以贯之的优良传统。习近平总书记强调“调查研究是谋事之基、成事之道”“要开门问策、集思广益,把加强顶层设计和坚持问计于民统一起来”“要大兴调查研究之风……体察实情、解剖麻雀,全面掌握情况,做到心中有数”。这说明

- ①科学思维总是从实际出发,力图如实地反映认识对象
- ②思维能提炼加工感性材料,帮助人们实现预期的目的
- ③运用归纳推理,可以寻找事物现象之间的规律性关系

A.①②B.①③C.②④D.③④

23.2023年3月10日,中沙伊三方签署并发表联合声明,宣布沙伊双方同意恢复外交关系,强调三方将共同努力,维护国际关系基本准则,促进国际地区和平与安全。中国另辟蹊径、成功的外交斡旋实践,将为妥善处理当今世界的其他热点问题提供有益的借鉴。这启示我们

- ①要在触类旁通的探索中寻求问题的解决
- ②运用聚合思维寻求解决问题的多样性答案
- ③学会用独特而巧妙的方法使问题得到解决
- ④采用逆向思维预测事物未来的发展趋势

①②B.①③C.②④D.③④

24.《史记》的撰述宗旨实际上分为三个层次:第一层境界是“网罗天下放失旧闻”;第二层境界是“考之行事”;第三层境界是“稽其成败兴坏之理”。对此,认识准确的是

- A.司马迁构建了史学理论体系 B.古代史学研究侧重事实考据
- C.史学发展取决于史家的努力 D.历史发展过程中蕴含着规律

25.北魏孝文帝拓跋宏无意之中感叹道:“江南多好臣。”其手下大臣李元凯立即讽刺以对:“江南多好臣,岁一易主,江北无好臣,而百年一主。”听闻此言,孝文帝颇为惭愧。此事可以说明北魏

- A.民族交融加深 B.社会包容开放
- C.经济持续发展 D.统治比较稳定

26.图3是南宋部分时期会子与铜钱的兑换比例。据图可知,这一时期会子的发行

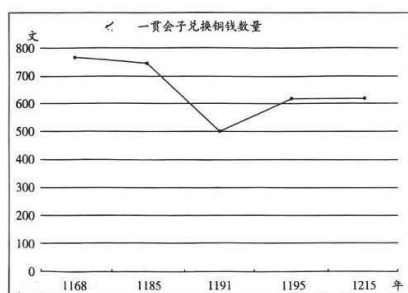


图3

- A.得益于全国性市场已经形成 B.适应了商品经济发展的需要
C.存在着严重的货币滥发现象 D.推动封建社会不断走向转型
- 27.明代后期，“风气日偷(苟且怠惰)……或清淡诞放，学晋宋而不成；或绮语浮华，沿齐梁而加甚。著书既易，人竞操觚(竹简),小品日增，人言叠煽。”这种现象
- A.导致了阳明心学广泛传播 B.形成了三教并行的局面
C.折射出对个性自由的呼唤 D.根源于专制集权的强化
- 28.1900年，日本天皇在致清朝皇帝的国书中，要求清政府“断不举用守旧顽固之人，亟应简选中外重望有为者派为大臣，另立一新政府”。英国官员赫德也“忠告”清朝，“认真改革才是最好办法”。日、英此举旨在
- A.掀起瓜分中国狂潮 B.实现“以华治华”目标
C.敦促中国政府革新 D.打破“东南互保”局面
- 29.表1 苏区创建的部分报刊

刊名	创刊时间	刊名	创刊时间
《群众》半月刊	1928年7月	《英特尔那雄纳尔》	1929年春
《我们的路线》	1930年	《红军战士》	1931年
《赤色儿童》	1931年	《红军生活》	1931年
《赤色先锋》	1931年7月	《列宁三日报》	1931年夏
《红日》画报	1931年	《消息汇报》	1931年

- 据表1可知，苏区的文化工作
- A.注重形式多样 B.学习苏联经验
C.体现党的宗旨 D.重视军事报道
- 30.二十世纪五六十年代，北京市编制了两次城市发展规划，在重点区域修建了大量高标准地区性干道，功能区之间以及与道路布局的配合得到了充分的重视，城市建设取得了良好的效果。这主要得益于当时
- A.工业化水平显著提高 B.人民建设热情普遍高涨
C.国家基本实现现代化 D.社会制度统筹能力强大
- 31.2022年9月，第四届世界制造业大会在合肥开幕。大会指出，“当前世界经济面临更大的下行风险和不确定性，在这一关键的时刻举办本次世界制造业大会，给世界经济提供了深化交流、共谋合作的平台”。这突出表明中国
- A.倡导建立国际政治经济的新秩序 B.主动顺应开放与合作的潮流
C.不断完善社会主义市场经济体制 D.积极促进全球治理体系改革
- 32.世界各地人类早期文明都有典型的建筑。根据下列图片，可以得出正确的历史解释是



图4 玛雅金字塔



图5 埃及金字塔



图6 印加库斯科神庙

- A. 古代东方文明要早于西方文明 B. 人类历史兴起与海洋密切相关
C. 都体现早期人类图腾崇拜思想 D. 早期文明具有共性和地域特色

33. 美国“西进运动”是政府政策的产物，有人认为它是不同于欧洲国家海外殖民的“国内殖民”运动。这场“国内殖民”运动

- A. 根源于英国的殖民统治 B. 伴随领土扩张大肆屠杀印第安人
C. 在黑人地区推行奴隶制 D. 反映了政府奉行自由主义的政策

34. 拉美经济学家指出：“国际市场的自由竞争原则只适用于结构相似的国家之间，而不适用于结构完全不同的中心国家和外围国家之间。”拉美工业化“赖以获得推动力的外部条件迫使实行替代进口……但是替代政策不能无限期地继续下去”。由此推知他认为拉美工业化发展需要

- A. 迅速提高科技发展的水平 B. 实行替代进口的经济政策
C. 改革旧有的国际经济秩序 D. 实行自由竞争的经济原则

35. 有西方学者认为，苏联前期建立的政治体制和意识形态基本上实现了由农业国向工业国的转型，但是在实现现代化时，不仅没有推动国家快速转型和发展，反而成为一种桎梏，到后期愈来愈僵化和保守，从而导致它的崩溃。这种观点

- A. 全面肯定了苏联模式 B. 片面分析了苏联解体
C. 整体建构了苏联历史 D. 全盘否定了苏联改革

二、非选择题：本题共9小题，共160分。

说明：地理部分2题，共56分；思想政治部分4题，共52分；历史部分3题，共52分

36. 阅读图文材料，完成下列要求。(26分)

韩国济州岛种植柑橘历史悠久，岛上火山岩渗透性大，土壤贫瘠。16世纪济州官府设置柑橘园，开始向朝鲜王朝进贡柑橘。20世纪以来，济州岛从日本引进新品种，兴建水利工程，岛上柑橘园数量大幅度增加，布局也发生了改变。1997年韩国开放农业市场，大量进口廉价水果。目前，济州岛依托朝鲜时期柑橘园景观改造柑橘园，设立博物馆，举办国际柑橘博览会，济州岛柑橘园成为世界知名旅游产品。图7示意济州岛1530年和2019年柑橘园分布。

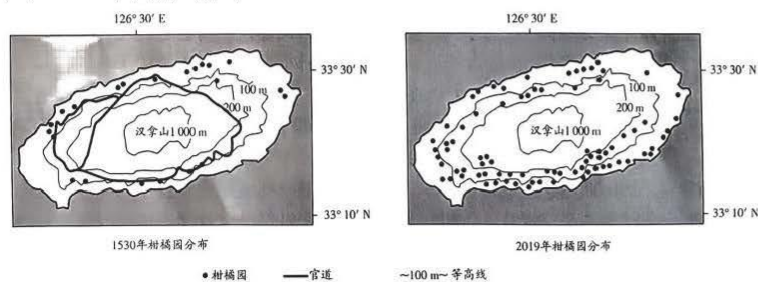


图7

- (1) 描述济州岛1530年柑橘园的分布特征。(6分)
(2) 与岛屿北部相比，分析南部种植柑橘的优势气候条件。(6分)
(3) 与1530年相比，说明2019年柑橘园数量和分布格局发生改变的原因。(8分)

(4)阐述近现代济州岛发展柑橘产业采取的措施及其带来的影响。(6分)

37.阅读图文材料,完成下列要求。(30分)

冰间湖是极地海域出现的一种特有现象,是指在达到结冰的天气条件下,仍长期保持无冰或被薄冰覆盖的冰间开阔水域。冰间湖主要有两类:风或洋流驱动形成的潜热型冰间湖、海洋热量驱动形成的感热型冰间湖。某科研团队长期对北冰洋部分海域冰间湖进行监测,结果表明冰间湖的产生对北极产冰数量、周围大气温度以及海洋生物有明显影响。图8示意北冰洋大陆架冰间湖和深水冰间湖的形成机制。

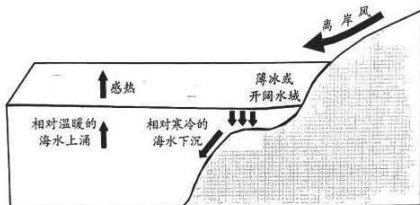


图8

(1)指出北冰洋大陆架冰间湖的类型,并说明理由。(4分)

(2)科研团队监测发现,北冰洋某海域感热型冰间湖的形成与附近沿岸的潜热型冰间湖有关。请简析该海域感热型冰间湖的形成过程。(6分)

(3)指出潜热型冰间湖和感热型冰间湖产冰量的差异,并说明原因。(6分)

(4)从海—气相互作用的角度,说明夏季北冰洋冰间湖面积扩大的地理过程。(8分)

(5)简述北冰洋冰间湖对海洋生物有利影响。(6分)

38.阅读材料,完成下列要求。(12分)

盾构机是集机械、电气、液压、传感、信息、力学、导向研究等技术于一体的高端装备,被称为“工程机械之王”,盾构技术水平也成为衡量一个国家装备制造水平的重要标志。

我国盾构机起步较晚。2002年,中铁装备集团公司(以下称“中铁装备”)的“隧道掘进机关键技术研究”被列入“863计划”(国家高技术研究发展计划);2008年,第一台国产复合式盾构机“中国中铁1号”问世……多年来,中铁装备构建以客户为中心的“政产学研用”高效高质协同创新机制,建设基础研究五大平台,不断突破掘进机前沿技术,先后攻克了主轴承、大排量泵等“卡脖子”部件,实现核心技术自主可控,牵头制定大型装备国家行业标准。基于多年实践探索和理论总结,中铁装备创新建立“同力创造、心系质量、圆梦品牌”的“同心圆”质量管理模式,该模式荣获第四届中国质量奖。

目前,中铁装备盾构机产销量连续5年世界第一,产品不仅畅销国内市场,先后出口法国、意大利、韩国、新加坡、阿联酋等32个国家和地区,已成为畅销“一带一路”新国货。

请运用“经济全球化”知识,说明中铁装备是如何创造出畅销“一带一路”的新国货的。

39.阅读材料,完成下列要求。(10分)

乡村振兴,文化先行。为全面推进乡村文化振兴,鼓励和引导各地“村晚”常态化开展,文化和旅游部定于2023年开展“四季村晚”活动。

通过开展春季、夏季、秋季、冬季“村晚”活动,推动“村晚”活动常态化开展。村村办“村晚”,人人秀才艺。“村晚”是一场由村民自编、自导、自演的乡村文艺晚会,它的主角是村民。在舞台上,村民们的节目从生活方式、节日习俗,到传统手工艺、民间文艺,再到融合乡土文化、乡村旅游等元素,扎根于乡土,承载着乡音,乡土味浓,演身边人,道心里话,赞新生活。

文化“活”起来,乡村的各项发展才会有基础。“村晚”不仅是一场联欢会,更是乡村经济文化振兴新气象的载体。可以说,“村晚”已融入村民的生活,既凝聚起乡村振兴的正能量、呈现乡村文明新风向,又顺应了亿万农民对美好生活的向往,展示了农民群众对美好生活的新期待。

结合材料，运用文化的知识，说明开展“四季村晚”活动对实现乡村振兴的作用。

40. 阅读材料，完成下列要求。(20分)

1922年中共二大正式提出统一战线政策。在我国革命、建设、改革不同历史时期，统一战线发挥了重要作用，成为克敌制胜和执政兴国的重要法宝，是党百年奋斗的历史经验。

在中国特色社会主义新时代，中国共产党将统一战线体系融入中国国家治理体系及其过程之中。世界百年未有之大变局加速演进，统一战线在维护国家主权、安全、发展利益上的作用更加重要。全面建设社会主义现代化国家、实现中华民族伟大复兴，统一战线在围绕中心、服务大局上的作用更加重要。我国社会结构发生深刻变化，统一战线在增强党的阶级基础、扩大党的群众基础上的作用更加重要。要真正把不同党派、不同民族、不同阶层、不同群体、不同信仰以及生活在不同社会制度下的全体中华儿女都团结起来。要深刻理解发展壮大新时代爱国统一战线的重要意义，以高度的使命感和责任感做好工作。

(1) 统一战线是党的事业取得胜利的重要法宝，必须长期坚持。结合材料，运用《政治与法治》的知识，说明新时代做好统一战线工作的必要性。(12分)

(2) 提出以高度的使命感和责任感做好新时代统战工作坚持了辩证分合的思维方法合材料，运用《逻辑与思维》知识加以说明。(8分)

41. 阅读材料，完成下列要求。(10分)

小张系某大学畜牧学专业的毕业生，毕业后立志创业，饲养肉鸽。小张与某种鸽公签订了种鸽引进合同。合同商定种鸽款项合计10万元，小张预付定金2万元，违约金合同总额的10%计算，小张以销售肉鸽的款项归还种鸽公司的贷款。该种鸽公司按时种鸽送交给小张。因养殖经验不足等原因，小张亏损严重，拒绝按时支付贷款，种鸽公对其提起诉讼。

(1) 结合材料，运用《法律与生活》相关知识，回答：小张拒绝按时支付种鸽公司的贷款，同中规定的定金条款和违约金条款可否同时适用？为什么？(6分)

(2) 小张的创业经历提醒有创业热情的青年学子：创业需要具备一定的法律知识。某校拟以“树立法治意识，书写精彩人生”为主题开展讲座活动，请拟定主题讲座发言稿，字数不超过150字。(4分)

42. 教育是国之大计，育人的根本在于立德。阅读材料，回答问题。(25分)

材料一 诸弟子问“仁”，孔子对曰：“非礼勿视，非礼勿听，非礼勿言，非礼勿动。”“己所不欲，勿施于人。在邦无怨，在家无怨。”“爱人。”“恭，宽，信，敏，惠。”

——摘编自《论语》

“美德就是知识”“要认识你自己”“美德由教育而来”以及“精神助产术”，构成了苏格拉底关于美德的本质、依据及来源的基本思想。这一思想是西方教育理论中人性自然→和谐发展→个性解放→人权天赋教育思想发展轨迹的源头之一，也是西方教学思想中崇尚辩论→鼓励创新→逻辑推理→科学论证的思想源头之一。

——摘编自王雷《“美德就是知识”——苏格拉底的教育命题》

材料二 1872年，德意志帝国通过对学校的监督法，采取一系列措施，形成了较为完善的教育体系。在中学，提高和普及自然科学课程，使教育顺应现代化的要求。1885年，全德有中学1029所，学生达234775人。1900年，通过地方行政法规，让青年工人、学徒、手工业者到中等技校学习。1914年，技校达2564所，学生455937人。政府和企业对大学提供大量财政援助，涌现了像高斯那样著名的科学家。哲学系地位也有上

升，如柏林大学强调基本理论和概念的传授，以发展学生智力，培养孜孜不倦、知难而进和一丝不苟的精神。

——摘编自周小粒、姜德昌《近代德国的教育改革和现代化》

材料三 “十四五”时期，要全面落实立德树人根本任务，推进各级各类教育高质量发展。要落实教育公益性原则，推动义务教育均衡发展和城乡一体化，推进义务教育从基本均衡迈向优质均衡。积极扩大普惠性资源，推动补齐农村地区、边远贫困地区等教育短板。提升高中阶段教育普及水平，鼓励多样化发展，提高民族地区教育质量和水平。着力解决好中央关心、社会关注、群众关切的问题，让教育发展成果更多更公平惠及全体人民。

——摘编自“十四五”规划

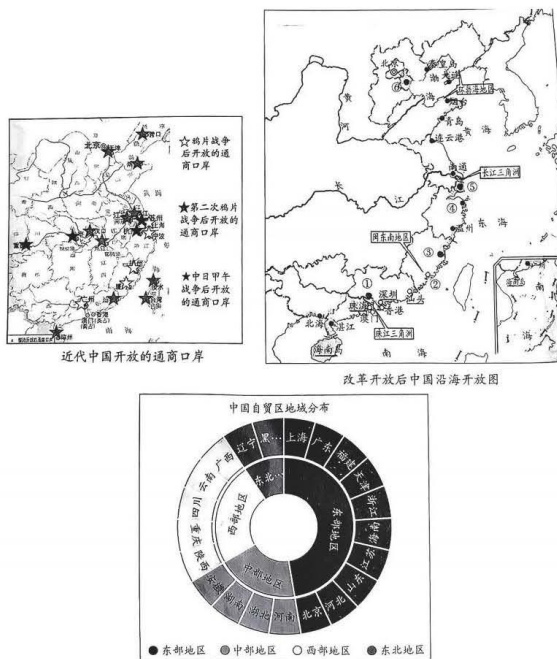
(1)根据材料一并结合所学知识，概括孔子和苏格拉底关于人性品德培养方面的核心主张及对后世各自民族性格形成的影响。(8分)

(2)根据材料二，指出德国重视发展教育的措施。与材料二相比，材料三中中国政府落实教育发展目的有什么不同?(12分)

(3)综合上述材料，谈谈你对教育发展的认识。(5分)

43.阅读材料，回答问题。(12分)

材料



上海进博会

届别	累计成交额(亿美元)	参加国家/地区	创新技术/服务(项)
2018 第一届	573.8	130	
2019 第一届	711.3	103	391
2020 第一届	726.2	64	90
2021 第一届	707.2	127	422
2022 第一届	735.2	145	438

从材料中找出两个或以上相关联的历史信息，并确定一个主题，进行阐述。(要求：写出信息，主题明确，史论结合，表述清晰。)

44. 阅读材料，回答问题。(15分)

材料一 朝格诺教派和英格兰新教催生了新的音乐表达，出现了使用法国和英格兰本土语言的诗篇歌调音乐。贵族统治者不仅支持作曲家创作世俗音乐，也赞助作曲家写作宗教音乐。世俗音乐为贵族和中产阶级上层的一群有较高修养的业余表演者提供了适用于演唱和演奏的音乐，有修养的女士和先生常常是有才能的歌手或演奏家。16世纪初，第一次出现了通过活字印刷出版的音乐，大量乐谱将许多音乐作品传播到了更为广泛的地区。

——摘编自[美]沃尔德等《西方音乐史十讲》

材料二 国歌的旋律能唤起情感共鸣，歌词可展现历史与故事内涵，是了解民族国家的重要材料。英国国歌《天佑吾王》产生于18世纪40年代，随着报刊和剧院的推广而流行此后，“吾王”的内涵因政治斗争而不断改变，直到19世纪才定型。1914年，英国对德国宣战时，群众自发聚集在白金汉宫前，唱起了《天佑吾王》。1939年的一天，BBC广播电台播放起了这首歌，随后首相发表了对德作战宣言。《泰晤士报》曾指出：“并不是我们选了自己的国歌，相反，是它在冥冥之中出现在了我们身边；如今已成既定事实。”

摘编自罗宇维《传统的编织与共同体的建构——基于英国国歌确立历史进程的分析

(1) 根据材料一并结合所学知识，概括文艺复兴时期音乐的特点并说明其发展的原因(8分)

(2) 根据材料二并结合所学知识，分析英国国歌对于英国的历史意义。(7分)

关于我们

自主选拔在线是致力于提供新高考生涯规划、强基计划、综合评价、三位一体、学科竞赛等政策资讯的升学服务平台。总部坐落于北京，旗下拥有网站（[网址: www.zizzs.com](http://www.zizzs.com)）和微信公众平台等媒体矩阵，用户群体涵盖全国 90% 以上的重点中学师生及家长，在全国新高考、自主选拔领域首屈一指。

如需第一时间获取相关资讯及备考指南，请关注**自主选拔在线**官方微信号：**zizzsw**。



 微信搜一搜

 自主选拔在线

