

安康市2023届高三年级第二次质量联考试卷

文科综合

试卷满分:300分 考试时间:150分钟

注意事项:

- 1.答题前,考生先将自己的姓名、准考证号填写清楚,将条形码准确粘贴在条形码区域内。
- 2.全部答案在答题卡上完成,答在本试卷上无效。
- 3.回答选择题时,选出每小题答案后,用2B铅笔把答题卡上对应题目的答案标号涂黑。如需改动,用橡皮擦干净后,再选涂其他答案标号。回答非选择题时,将答案用0.5mm黑色笔迹签字笔写在答题卡上。
- 4.考试结束后,将本试卷和答题卡一并交回。

第I卷(选择题,共140分)

一、选择题:本题共35小题,每小题4分,共140分。在每小题给出的四个选项中,只有一项是符合题目要求的。

某年的9月24日,北京雨过天晴,一位摄影师记录下了天坛祈年殿“头顶悬日”的美妙时刻(见图1),让此刻的黄昏多了一抹沉静感,这一美妙的时刻一年只有两次。据此完成1~2题。



图1

- 1.一年内,这一美妙的时刻还会出现在

A. 12月22日	B. 3月21日前后
C. 6月22日	D. 10月1日前后
- 2.一周过后,该摄影师计划再次拍摄祈年殿“头顶悬日”景观,其摄影镜头应指向

A. 正西方向	B. 正东方向
C. 西南方向	D. 西北方向

淮安市坐落于江苏省北部,为苏北中心城市之一。近年来,一条条高铁的建设开通,拉近了淮安市与北京、上海、重庆、哈尔滨、兰州等中心城市和区域之间的时空距离,促进该市高铁经济的蓬勃发展。图2示意江苏省主要高铁线路分布。据此完成3~5题。



图2

- 3.高铁给淮安市区域发展带来的有利影响是

A. 城镇居民出行距离延长	B. 加快名特优农产品生产
C. 扩大开放合作的范围	D. 沿海航运焕发新活力
- 4.淮安市高铁站核心区适宜布局的产业有

A. 商品批发业、物流仓储业	B. 医药工业、石油化学工业
C. 观光旅游业、信息咨询业	D. 商务服务业、旅馆餐饮业
- 5.淮安市高铁发展会导致一定的生产要素外流,其外流的主要目的地是

A. 北京	B. 上海	C. 重庆	D. 兰州
-------	-------	-------	-------

美国西海岸经常受到源自太平洋大气河流的影响，1月是发生这种现象的常见月份。在过去的40年，美国西部的俄勒冈州、华盛顿州和加利福尼亚州的强降水和超过80%的洪水都是由大气河流造成的。大气河流是位于对流层下层的，天气尺度的狭长水汽输送路径，即“密集水汽输送的狭长走廊”。大气河流是全球现象，出现在南北半球，从热带或亚热带地区延伸到中纬度地区。据此完成6~8题。

6. 大气河流可能为
A. 东北信风带 B. 东南信风带 C. 季风环流的一部分 D. 盛行西风的一部分
7. 大气河流给美国西海岸带来强降水的主要原因有
① 大气河流水汽充足 ② 大气河流主要源于海洋
③ 俄勒冈州、华盛顿州和加利福尼亚州山脉南北纵列，直逼西海岸
④ 冬季加利福尼亚寒流势力减弱
A. ①② B. ③④ C. ①③ D. ②④
8. 大气河流也会影响新西兰、澳大利亚等国，其影响强度较大的月份可能是
A. 2月 B. 5月 C. 8月 D. 11月

文莱位于加里曼丹岛北部，被马来西亚的沙捞越州分隔为不相连的东西两部分，东部地势较高，西部多沼泽，首都斯里巴加湾系文莱最大城市。文莱森林茂密，覆盖率72.11%，沿海石油资源丰富。全国共有四个行政区。图3为文莱四个行政区分布图。据此完成9~11题。

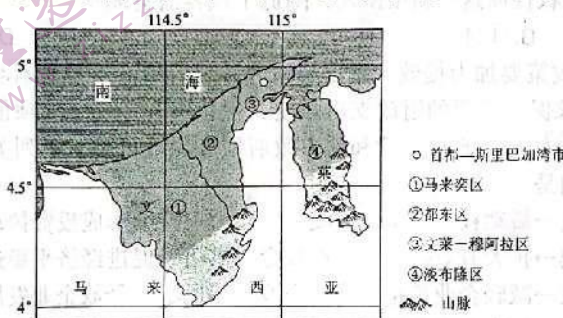
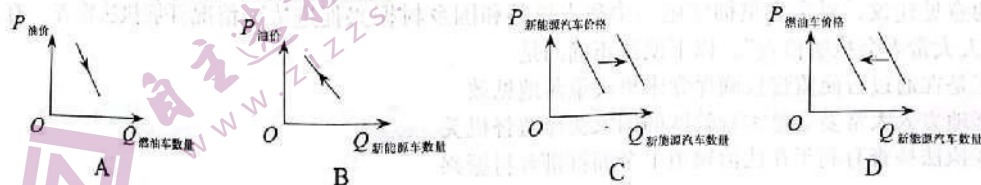


图3

9. 文莱人口密度最大的行政区是
A. 淡布隆区 B. 都东区 C. 文莱-穆阿拉区 D. 马来奕区
10. 马来奕区人口分布受到一定限制，其因素主要是
A. 丛林茂密，沼泽遍布 B. 远离海洋，气候干燥
C. 雨季过长，洪涝频发 D. 土壤贫瘠，难以耕种
11. 淡布隆区是生态环境保持良好的地区，主要是因为该行政区
A. 山峦起伏，开发难度大 B. 位置孤立，跨区联系不便
C. 河流众多，航运价值低 D. 地壳活跃，地质灾害频发
12. 2022年以来受俄乌地缘局势冲突、欧盟对俄罗斯能源制裁的影响，石油价格大幅上涨，这一因素意外促进全球电动化进程提速。包括中、美、欧在内的主流电动车销售市场中，消费者的心态发生了积极变化，助力传统燃油汽车被新能源汽车替代的进程。若不考虑其他因素，下列图示能够反映这一变化趋势的是



13. 2023年,中央企业战略性重组和专业化整合力度加大。今后一个时期,要瞄准高水平、导向性,支持推动国有资本协同合作,持续推进低效无效资产和非主业非优势业务退出,做好产能过剩行业整合,促进产业调整升级。由此可见,中央企业战略性重组和专业化整合可以
- ①有效解决央企同质化竞争,打造优势企业
 - ②大力引进战略投资者,优化央企股权结构
 - ③实现各类资本优势互补,做优做强国有资本
 - ④加快国有经济布局优化,提升国有资本配置效率
- A. ①② B. ①④ C. ②③ D. ③④
14. “闲田共享”依托大数据平台统一对每块闲置农田赋码建档,加载导航路线、土地属性、种植记录、地块种植建议等详细信息。消费者可以通过应用认领农田,并在应用中实时查看共享农田线下状况。同时,该经营模式统筹协调、整合资金,吸纳企业、学校等社会力量,规范开发运营共享农田。这一模式受欢迎的原因是
- ①通过盘活零散闲置农田,创造更多就业机会,增加了农民收入
 - ②运用互联网思维,满足了市民体验农耕文化和农产品安全需求
 - ③提高了土地资源的利用效率,保证了社会经营者的经济效益
 - ④通过转变土地所有权性质这一新型模式,降低了顾客消费成本
- A. ①② B. ①④ C. ②③ D. ③④
15. 2023年积极的财政政策要加力提效。支出、税收、政府债券等都是财政政策的重要工具,中央经济工作会议要求保持必要的财政支出强度,优化组合赤字、专项债、贴息等工具,在有效支持高质量发展中保障财政可持续和地方政府债务风险可控。下列关于积极的财政政策的作用路径分析正确的是
- ①增加专项债券规模→撬动社会资本→形成投资合力→持续形成投资拉动力
 - ②扩大财政支出规模→扩大有效投资→增加社会总供给→促进经济平稳运行
 - ③实行减税降费政策→减轻企业负担→降低企业经营风险→释放企业发展活力
 - ④优化财政支出结构→加大重点领域投入→推动产业转型升级→实现高质量发展
- A. ①② B. ②③ C. ①④ D. ③④
16. L乡充分发挥党支部核心引领作用,整合多元社会资源参与乡村治理,选聘“乡贤”“五老”人员,积极参与乡村社会矛盾纠纷调处;将综治中心、矛调中心、法律服务中心、数字乡村服务中心等多个中心整合在一起;完善政治、法治、德治、自治、智治“五治融合”的基层综合治理体系,走出了一条乡村善治之路。这一模式
- ①坚持党建引领多元共治,提升基层治理水平
 - ②通过创新基层自治组织,保证群众直接行使权利
 - ③丰富了基层治理方式,完善基层治理实践路径
 - ④突显五治这一民主管理的关键,推动共建共治共享
- A. ①② B. ①③ C. ②④ D. ③④
17. 2022年10月至11月上旬,G省人大常委会执法检查组分赴9个市(州)、26个县(市、区),通过实地检查、随机抽查、座谈交流和视频连线等方式,广泛听取基层干部群众和人大代表的意见建议,对全省贯彻实施《中华人民共和国乡村振兴促进法》情况开展执法检查。有关“人大常委会执法检查”,以下说法正确的是
- ①是在通过行使监督权确保党中央决策落地见效
 - ②地方人大常委会是本行政区的国家法律监督机关
 - ③执法检查有利于在法治轨道上全面推进乡村振兴

- ④该省人大提升执法能力，提高农业农村工作监管水平
- A. ①③ B. ①④ C. ②③ D. ②④
18. 2023年1月9日至10日，中国共产党第二十届中央纪律检查委员会第二次全体会议在北京举行。会议强调，“发扬彻底的自我革命精神，永远吹冲锋号，把严的基调、严的措施、严的氛围长期坚持下去，把党的伟大自我革命进行到底。”新时代新征程，党员干部必须以正视问题的高度自觉、刀刃向内的强大勇气和锐意进取的奋进姿态，将党的伟大自我革命进行到底。以下说法正确的是
- ①只有自我革命才能确保党永葆先进性和纯洁性
②持续自我革命旨在确立和巩固党的执政地位
③自我革命有利于坚持和加强党的全面领导
④将自我革命进行到底才能保证党的国家权力
- A. ①③ B. ①④ C. ②③ D. ②④
19. 由中央广播电视总台出品，央视综合频道、央视创造传媒等联合打造的大型文化节目《典籍里的中国》第一季将《尚书》《天工开物》《史记》《本草纲目》《论语》《孙子兵法》《楚辞》等十多部流传千古的典籍呈现在观众面前，每期节目讲述一部典籍前世今生的故事，让年轻网友持续“追更”。可见
- ①文艺创作要在传承的基础上积极融入创新元素
②作为文化发展主体的文艺工作者要以人民为中心
③文艺创新通过激活优秀传统文化，坚定了文化自信
④认同民族文化是文化创新的根基和基本要求
- A. ①② B. ②④ C. ①③ D. ③④
20. 在百年接续奋斗中，一代又一代中国共产党人弘扬伟大建党精神，展现出伟大的历史主动精神，锤炼出鲜明的政治品格，铸就了一系列伟大精神，构筑起中国共产党人的精神谱系。新民主主义革命时期、社会主义革命和建设时期、改革开放和社会主义现代化建设新时期、中国特色社会主义新时代分别铸就了不同的民族精神。可见
- ①弘扬爱国主义始终是中华民族精神的“主心骨”
②民族精神作为民族文化的结晶是长期历史积淀的过程
③中华民族精神的基本内涵随时代变化而不断丰富发展
④这些精神集中体现了中华民族的整体风貌和精神特征
- A. ①② B. ②④ C. ①③ D. ③④
21. 以下语句与漫画（同一扇窗户向上看是风景，向下看是泥土）寓意相近的是
- ①人间四月芳菲尽，山寺桃花始盛开
②横看成岭侧成峰，远近高低各不同
③我问沧海何时老，清风问我几时闲
④仁者见之谓之仁，智者见之谓之智
- A. ①② B. ②④ C. ①③ D. ③④
22. 环境就是民生，青山就是美丽，蓝天也是幸福，广州因地制宜做强“城市绿核”。2023年，广州市政府工作报告首次提出“坚持生态优先、绿色发展，高水平建设绿美广州”，首次将生态优先与绿色发展单章列出，成为十大重点工作之一。从哲学角度看，这表明
- ①矛盾具有特殊性，我们要具体问题具体分析 ②矛盾的斗争性在一定条件下向同一性转化




图4

- ③我们可以根据主观需要建立事物整体联系④做事情要善于把握事物存在发展的各种条件
- A. ①② B. ③④ C. ①④ D. ②③
23. 2023 的开年大作《中国奇谭》剧情当中《小妖怪的夏天》讲述的是一只来自于浪浪山的小猪妖，跟着大王循规蹈矩地做事依然想要离开浪浪山，看似简单的一句“我想要离开浪浪山”，使“浪浪山”也成为了网络热词，指代我们人生的一辈子，跌宕起伏，总想着翻越过去，也反映了当代打工人心中的苦楚和辛酸，引发无数网友的共鸣。可见
- ①人类可以根据主观需要确定不同的“网络热词”
②实践是“网络热词”的来源和其变化发展的动力
③思维和存在具有统一性，思维能正确反映存在
④社会意识具有相对独立性，决定了人们精神生活
- A. ①② B. ②③ C. ①④ D. ③④
24. 周天子分封褒封的“天下万邦”中，不仅封君姓氏多元多样，血缘多源。而且王朝及其领导的“天下”，从政治上直接超越和凌驾于为数众多的族邦，形成了最大规模的地域政治共同体，尊尊源于但已高于亲亲，体现了鲜明的文明特质。据此可知，西周时期
- A. 核心权力实现高度集中 B. 国家制度建构尚不成熟
C. 宗族聚居状态逐渐打破 D. 地缘关系占据主导地位
25. 《史记·平准书》记载：“愿募民自给费，因官器作煮盐，官与牢盘，浮食奇民欲擅管山海之货，以致富羨，役利细民。总其原，一其价。其沮事之议，不可胜听。郡不出铁者，置小铁官，便属在所县。”这体现出西汉
- A. 政府重视农业生产 B. 国家积极干预经济
C. 官营作坊得到发展 D. 盐铁专卖制度解体
26. 到了隋唐时期，尽管士族依靠科举制度继续延续其家门地位，但这并非是缘于阔阅，而是在面对同一选拔机制时，士族子弟享有更多的教育资源，有更多机会获得社会声誉，故而更容易在科场较技中取胜。这反映出这一时期
- A. 士族权力来源方式的变化 B. 选官制度走向成熟
C. 门第血缘关系的日益淡化 D. 官僚群体日渐儒化
27. 明末清初画家石涛主张绘画要“师法自然”、“师造化”，提倡“唯我”，“一画之法，乃自我立”。强调“夫画者，从于心者也”，以彰显自我性灵，抒发内心情感。这表明石涛的绘画主张
- A. 蕴含自我独立意识 B. 遵循自然变化规律 C. 旨在提升道德修养 D. 带有开放包容色彩
28. 1834 年，英国派律劳卑为驻华商务第一总监督。负责通商事务的两广总督卢坤，未究诘其来华目的，却震怒于以“平行款式”递交文件。1838 年，英国驻华商务总监督义律投递文书，封面上无“禀”字样，两广总督邓廷桢即“原封掷还”。这揭示出清政府
- A. 极力维护国家主权 B. 推行盲目排外政策 C. 注重对外交往细节 D. 固守天朝上国观念
29. 毛泽东指出：“五四运动时期，那时的许多领导人物，他们使用的方法，一般地还是资产阶级的方法。他们反对旧八股、旧教条，主张科学和民主，是很对的，但是他们对于现状，对于历史，对于外国事物，所谓坏就是绝对的坏，一切皆坏；所谓好就是绝对的好，一切皆好。”毛泽东意在强调五四运动
- A. 没有解决革命出路的问题 B. 缺乏唯物主义的批判精神
C. 难以突破民主科学的桎梏 D. 急需借鉴西方的先进文明
30. 下图 5 是 1936 年上海申报的漫画。画面中一名日本军官微笑着手把手教一名中国的老先生写字，而写的字就是“自治”。这一漫画的发表有助于



图5

- A. 激发民众的爱国热情
B. 推动社会主要矛盾转变
C. 凸显中日关系的改善
D. 巩固抗日民族统一战线
31. 下图6为《中华人民共和国国史》所载某年关于精神文明建设内容的摘抄。当时的精神文明建设主要服务于

1月1日 中组部、人民日报社召开学习陈云《要讲真理,不要讲面子》体会座谈会
2月1日 新华社报道,国家科委负责人……邀请部分农业科学家座谈今年农业科学技术工作的重点问题。农业科学家们认为……正在兴起的广大农民学科学、用科学的热潮……是在我国农村建设高度社会主义精神文明的重要内容
3月1日 第一个“全民文明礼貌活动月”在全国展开

图6

- A. 人民政权的巩固
B. 社会主义工业化建设
C. 改革开放的推进
D. 市场经济体制的发展
32. 公元前6世纪末,雅典人在市政广场树立了第一组刺杀僭主者的雕像;亚里士多德的《雅典政制》记载了雅典人对刺杀僭主者的崇拜仪式,这种仪式都是每年周期性举行的,且仪式地点是烈士公墓和市政广场,都是雅典政治空间的核心区域。这说明
- A. 雅典民主政治初步确立
B. 民主政治成为大势所趋
C. 雅典公民意识不断强化
D. 民众参与政治空间拓展
33. 有学者指出,“宗教改革”不能仅仅被理解为新教对天主教的抗议和革新,传统上被冠以“反改革”之称的天主教会改革也是“宗教改革”的题中之义,是构成复数形态的“改革”不可缺少的要件。否则,“宗教改革”就不过是基督教历史上又一次大的分离主义运动。该学者意在强调
- A. 新教削弱了教皇权威性
B. 天主教为对抗新教被迫改革
C. 基督教会陷入分裂状态
D. 宗教改革推动了基督教发展
34. 1921年春,苏俄布尔什维克以新经济政策的形式实施战略退却时,无产阶级队伍中的一些派别和集团叫嚷布尔什维克“蜕化”、“共产主义没落”等等。布尔什维克的对立面孟什维克则以为这是苏维埃制度的演变,并且对此表示欢迎。这一现象表明当时
- A. 部分人士尚未认清新经济政策本质
B. 苏维埃制度遭到苏俄民众一致反对
C. 战时共产主义政策影响力依然存在
D. 尚未找到向社会主义过渡正确途径
35. 西班牙社会学教授萨尔瓦多·卡达斯宣称,冷战后,欧洲认同“依然在构建之中,我们尚未有单一欧洲认同的陈词滥调,它依然是非常的脆弱。然而,欧洲认同将会在抵制美国影响中得到重申”。由此可知,该学者认为
- A. 国际政治力量加快重组
B. 反美主义有助于欧洲认同
C. 新型国际关系格局定型
D. 欧洲将重回国际政治中心

文科综合 第6页(共16页)

第Ⅱ卷（非选择题，共160分）

二、非选择题：共160分。第36~42题为必考题，每个试题考生都必须作答。第43~47题为选考题，考生根据要求作答。

（一）必考题：共135分。

36. 阅读图文材料，完成下列要求。（24分）

燕麦是世界公认的健康食品，在我国，燕麦将孕育为一个大的健康产业。白城市位于吉林省西北部，嫩江平原西部，科尔沁草原东部，有大片面临沙化的盐碱地，生态环境比较脆弱。1998年起，中加两国专家用了近10年时间，成功培育出能生长在盐碱土壤、风沙、干旱等环境的新燕麦品种。该品种不仅具有了很强的抗旱、抗风沙性，而且能够大量吸收土壤中的盐分，燕麦生长的地方，周围的杂草也长得非常好。白城燕麦可以一年两季，产量更高，是治理盐碱地首选的“生态产业”。近年来，白城市紧紧抓住新一轮振兴东北和“健康中国”战略机遇，全力建设“东方燕麦之都”。下图7示意白城市位置和分布。

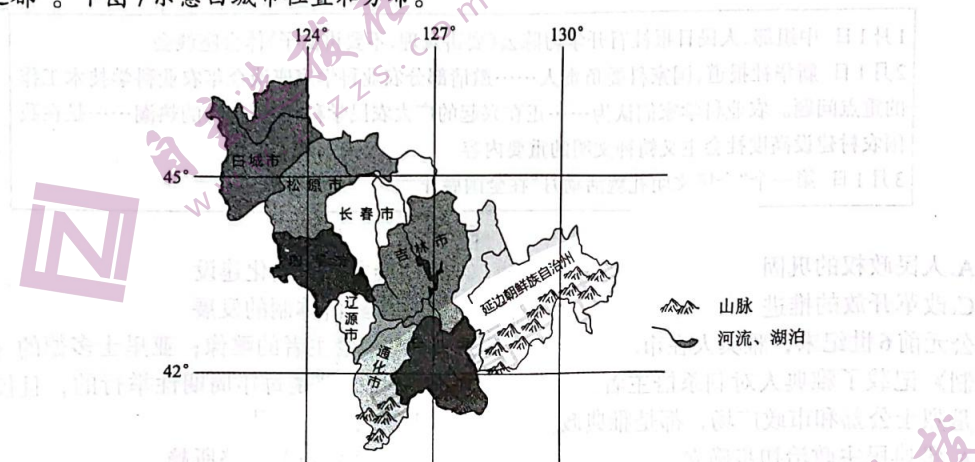


图7

- (1) 分析白城市盐碱地环境为燕麦种植提供的有利条件。（6分）
- (2) 说明白城燕麦产业成为治理盐碱地“生态产业”的主要原因。（6分）
- (3) 阐释白城打造“东方燕麦之都”的社会经济优势。（6分）
- (4) 简述白城燕麦产业之路给生态脆弱区经济发展带来的启示。（6分）

37. 阅读图文材料，完成下列要求。(22分)

内格罗河由发源于安第斯山脉(海拔4700多米)的内乌肯河和利迈河在内乌肯附近汇合而成，最终注入大西洋。内格罗河长约635千米(包括内乌肯河长1127千米)，利迈河是该河流最重要的支流。利迈河与内乌肯河一年内有2次汛期，分别是冬季和春季。在兴建大坝之前，汛期经常突发洪水，造成严重的经济损失。下图8示意内格罗河流域水系分布。

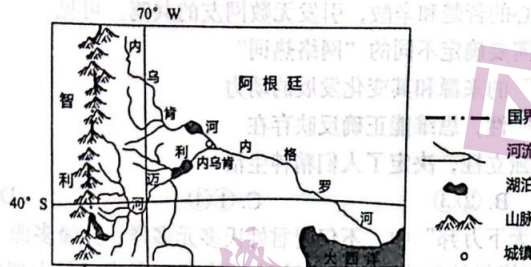


图8

- (1) 利迈河是内格罗河最重要的支流，就其重要性作出合理解释。(4分)
- (2) 分析利迈河与内乌肯河汛期主要发生在冬、春季节的主要原因。(8分)
- (3) 说明在兴建大坝之前，内格罗河经常突发洪水灾害的主要原因。(6分)
- (4) 推测巴塔哥尼亚高原地形因内格罗河水系的发育而发生的变化。(4分)

密

封

线

38. 阅读材料，完成下列要求。(14分)

迈入2023年，我国关税迎来新调整。1月1日起，中国对1020项商品实施低于最惠国税率的进口暂定税率，这一数量较上年增加了66项，连续4年保持增长；自1月2日起，中国对原产于印度尼西亚的部分进口货物实施RCEP东盟成员国2023年所适用的协定税率，中国将在中国—东盟自贸协定基础上，对印尼产菠萝汁和罐头、椰子汁、胡椒、柴油、纸制品、部分化工品和汽车零部件等降税；2023年，中国降低婴幼儿食用的均化混合食品、冻蓝鳕鱼、腰果等食品以及咖啡机、榨汁器、电吹风等小家电的进口关税；自2023年7月1日起，中国还将对62项信息技术产品的最惠国税率实施第八步降税。

结合材料，运用经济生活知识分析，中国接连降低相关商品进口关税的重大意义。(14分)

39. 阅读材料，完成下列要求。(12分)

材料一 为进一步提升妇女维权意识，维护合法权益，全国人大常委会坚决贯彻落实党中央的决策部署，积极回应社会关切，启动《妇女权益保障法》全面修改工作，2022年10月30日，通过新修订的《妇女权益保障法》并于2023年1月1日施行。修订草案曾两次在网上公开征求意见，分别收到40余万、30余万条意见，是近年来收到意见数最多的法律草案之一。

材料二 为了保障农产品质量安全，维护公众健康，促进农业和农村经济发展，2019年农业农村部按照党中央、国务院决策部署和有关工作安排，发布《农产品质量安全法》修订草案的征求意见稿，向社会公开征求意见。经过全国人大常委会两次审议，2022年9月，全国人大常委会第三十六次会议通过了修订后的《农产品质量安全法》，于2023年1月1日起施行。

结合材料，运用“发展社会主义民主政治”的相关知识分析，这两部法律的修订过程是如何体现我国社会主义民主实践优势的。(12分)

40. 阅读材料，完成下列要求。(26分)

材料一 “伟大时代呼唤伟大精神，崇高事业需要榜样引领。” 功勋模范的先进事迹和英名伟业，正激励着全党全军全国各族人民开拓进取、建功立业，汇聚起昂扬奋进的磅礴力量。杜富国，在处置一枚加重手榴弹时突遇爆炸，他喊出“你退后，让我来”，用身体挡住弹片，保护了战友，自己却永远失去了双手和双眼，“他是忠诚使命、英勇无畏的排雷英雄”；钱七虎，与爱人分离16年，与其他从事绝密工作的科学家一样隐姓埋名，“他是科技强军、为国铸盾的防护工程专家，是现代防护工程理论的奠基人、防护工程学科的创立者”；聂海胜，凭借过硬的素质和乘组其他同志密切配合、精细操作，顺利完成神舟十二号载人飞船与天和核心舱自主快速交会对接任务，“他是矢志报国、三巡太空的英雄航天员”。

材料二 凝聚好人力量，引领道德风尚。2022年8月26日，莆田市道德模范事迹展览馆正式对外开放。开馆当天，道德模范、中国好人、福建好人、五星志愿者等先进代表受邀参观。走进展览馆，入目的便是满墙的好人事迹：张涵、张辉、刘元飞，为夺回被劫女孩的钱包，莆田三兄弟路见不平，与歹徒团伙做斗争，虽身负重伤，却义无反顾，以英勇行动履行维系社会和谐的道德责任；曾云英，年仅28岁的她，无微不至的照顾瘫痪在床的丈夫，14年如一日不离不弃，相守至今，大义的她勇敢挑起家庭重担，撑起了一个苦难的家。除此之外，还有“以诚立身”的企业家陈玉树、“全国孝敬之心”的郭景国、“全国公安英雄模范”林海波……展览馆分为“道德模范”“中国好人”“福建好人”等展区，通过图文、视频等形式，多维度立体生动展现先进人物的动人事迹，传播正能量、弘扬真善美。

(1) 结合材料一并运用“实现人的价值”的相关知识，说说三位人民军队英雄模范的先进事迹给我们启示。(10分)

(2) 结合材料二并运用文化生活的知识分析，该地道德模范事迹展览馆是怎样传播正能量、弘扬真善美的。(10分)

(3) 英雄模范是中华民族的闪亮坐标；功勋荣誉是激励前行的精神动力。今天，全社会都在尊崇英雄、致敬英烈、关爱楷模，请你结合实际为新时代青年学生应该怎样向英雄学习，走好成才之路提出三条建议。(6分)

41. 阅读材料，完成下列要求。(25分)

材料一 明清时代统治者受儒家“仁爱”“仁慈权威”传统的政治文化观影响，提倡“以德治人”“人治”和“教化”。政府除了在立法上支持农民社会保障事业，而且还注重中央和地方财政收入的调拨，鼓励民间和社会团体广泛捐赠。对于能在救济中有所作为的民间团体，不仅对捐赠数额特别大者立坊牌旌表，而且还拨给经费支持，如规模巨大的养济院、普济堂、栖流所、饭厂都得到过政府的经费支持，对参与社会保障事业的社会力量给予鼓励和奖赏，这在灾荒救济、济贫事业和育幼事业中都有体现。清朝学者沈之奇在《大清律集解附例》指出《大清律》已对养济院的养济标准作出了明确规定，如“鰥、寡、孤、独，每月官给粮米三斗，每岁给绵布一疋，务在存恤。”

——摘编自张建民 周荣《明清农村社会保障体系的构建与运转——兼论有中国特色的农村社会保障》

材料二 19世纪八十年代，世界资本主义经济危机加剧，工人阶级为争取应有的生存保障而进行的斗争日益高涨。其中由于受到马克思主义理论和社会民主党运动的影响，德国工人阶级的要求更加强烈。当时任德国首相的俾斯麦在德皇威廉一世支持下，果断采取“胡萝卜大棒”政策，一方面制定《社会党镇压法》抑制革命运动；一方面则采取软化政策，促进帝国议会通过一系列社会保险法令，德国社会保障的宗旨是以维护社会安全、国民经济的稳定及在均衡发展条件下，进而开发人力资源。它虽有公平的内容，更强调自助和安全。它主要特点是实行“自助”原则，强调资金来源多元化，即保险最大部分由雇主与雇员共同交纳；政府在收支不平衡时，酌情给予资助。双方负担的比例，视险种的不同有所区别。养老保险由雇主与雇员平均分担；工伤保险完全由雇主负担；疾病保险雇主负担1/3，雇员负担2/3，这样有助于把社会成员对社会保障的享受的基金与市场竞争的责任心联系起来。享受保险待遇必须具备一定的缴费年限，并根据个人过去的平均收入作为基数计发待遇，以政府必须通过的立法作为实施的依据。

——摘编自方青《西方近代工业化与社会保障》

(1) 根据材料一并结合所学知识，概括明清政府推行社会保障的特点，并说明明清社会保障的积极意义。(12分)

(2) 根据材料一、二并结合所学知识，指出近代德国社会保障制度的新内涵，并分析其形成的主要原因。(13分)

42. 阅读材料，完成下列要求。(12分)

材料 下表是中国外交政策概念的历史分期表。

阶段	特征	主要概念
1949年至1978年	独立自主，和平共处	独立自主、自力更生，一边倒、另起炉灶、打扫干净屋子再请客，中间地带，和平共处五项原则；东风压倒西风，三和一少，世界革命中心，反帝反修、两个拳头打人，两个中间地带；一条线，一大片，三个世界。
1978年至2012年	和平发展、有所作为	第三世界，独立自主的和平外交政策，不结盟，和平与发展，国际新秩序；不扛旗、不当头、不称霸，韬光养晦、有所作为；和平发展合作，多极化，战略伙伴关系，与邻有善、以邻为伴；和平发展道路，战略机遇期，伙伴关系，和谐世界，睦邻、安邻、富邻。
2012年以来	大国外交、和平发展、合作共赢	和平发展合作共赢，新型国际关系、新型大国关系，亲诚惠容，正确义利观；中国特色大国外交，一带一路，人类命运共同体，百年大变局。

——摘编自周桂银《当代中国外交史的思想维度—概念史研究的视角》

结合中国现代史的相关知识，从上述中国外交政策概念的历史分期表中提取一个主题，并进行简要阐述。(要求：主题明确，史论结合，论述清晰，逻辑严密。)

密

封

线

(二) 选考题：共25分。请考生从2道地理题，3道历史题中每科任选一题作答。如果多做，则每科按所做的第一题计分。

43. 旅游地理 (10分)

云南省位于中国西南边陲，是人类文明发祥地之一，历史文化悠久，自然风光绚丽，拥有丽江古城、三江并流、石林、哈尼梯田、大理古城、崇圣寺三塔、玉龙雪山、洱海、滇池、抚仙湖、梅里雪山、普达措国家公园、噶丹松赞林寺、西双版纳热带雨林等旅游景点。近年来，随着我国旅游业的蓬勃发展，云南省成为春节期间的最佳旅游省份之一。

分析近年来的春节期间，云南省成为最佳旅游省份之一的主要原因。

44. 环境保护 (10分)

近年来，随着我国汽车消费进入高质量发展阶段，健康、节能、环保逐步成为消费者购车选车的重要指标。在这样的背景下，“生态汽车”应运而生。专家指出，“生态汽车”的认证指标主要包括车内空气质量、车内噪声、汽车生命周期碳排放量、车内有害物质铅含量、尾气排放、回收利用率等。“生态汽车”不仅将为我国汽车工业绿色发展做出重要贡献，而且在环境保护方面也将功不可没。

简述“生态汽车”的绿色发展对环境保护的重要意义。

45. 阅读材料，完成下列要求。(15分)

材料 明治维新时期，日本仅用了20年左右的时间，就培养了一大批高素质军事人才。1862年，德川幕府选派15人到荷兰学习海军专业知识。1868年，明治政府在京都创办“兵学校”，此后，监军本部继承并创建了数量众多的专业与综合性军事学校。海军兵学校的教育模式与陆军士官学校有类似之处，既注重学生的军事技术训练、军事素养培育、领导指挥能力及专业能力培养，又注重军人精神教育、“忠君爱国”思想的培养，甚至精神教育一度占据了学校教育的首要地位，所谓“江田岛精神”成为日本海军的精神支柱。1872年5月，明治政府“从法国聘请马尔库里陆军中校等15名军官”指导陆军的创建。1878年，海军派出“筑波”号搭载学生实施远洋航海，军舰由横滨出发，南穿赤道到达澳大利亚悉尼后回国。1890年，日本陆军经过军制改革，在组织指挥体制、兵役制度、编制装备等方面已完全转向德军。

——摘编自王卫善《日本明治维新时期的军事人才培养》

- (1) 根据材料并结合所学知识，概括日本明治维新期间军事人才改革的方式。(8分)
- (2) 根据材料并结合所学知识，简评日本明治维新期间军事人才改革的影响。(7分)

46. 阅读材料，完成下列要求。(15分)

材料 纳戈尔诺—卡拉巴赫位于阿塞拜疆共和国西南部，其中80%是亚美尼亚人，基督教是亚美尼亚人的精神生活和民族文化的基石。而伊斯兰教是阿塞拜疆国内最主要的宗教信仰。在赫鲁晓夫执政时期，由于苏联实行的在政治和经济方面的改革偏离了社会主义改革的轨道，再加上几十年来长期被压制的民族问题得不到妥善的解决，此时苏联国内的民族矛盾已经变得越来越严重。1990年从1月14日至20日亚美尼亚与阿塞拜疆在巴库出现多次民族冲突，其中最严重的冲突发生在14、15、16号，共有56人死亡和多人受伤。苏联政府在声明中表示，如果动乱继续发展下去，全国局势将受到影响。按照阿塞拜疆统计委员会公布的数字，截至1月底，该共和国由于罢工造成的损失约为2.5亿卢布，骚乱使20万人沦为难民。直到苏联解体之前，纳卡地区的民族冲突仍然不断，解体之后亚美尼亚和阿塞拜疆两国为了争夺该地区甚至爆发了战争。

——摘编自卢伟《前苏联民族矛盾之纳戈尔诺—卡拉巴赫冲突》

- (1) 根据材料并结合所学知识，指出纳戈尔诺—卡拉巴赫冲突产生的原因。(8分)
- (2) 根据材料并结合所学知识，分析纳戈尔诺—卡拉巴赫冲突带来的影响。(7分)

47. 阅读材料，完成下列要求。(15分)

材料 桂萼(1478—1531年)江西安仁人。在桂萼的思想中，他所强化的是一个“道”字，认为国家稳固和谐的根本在于君、臣、民各守其责。具体而言，就是“君有君德，臣有臣责，民有民义”，而其中尤为重要的便是君德的养成。垂拱而治的先决条件是要有一个有序有效的官僚队伍，而嘉靖初期吏治的实际情况引起桂萼的强烈不满。桂萼认为要使国家安定，礼乃其根本，国家各项恤民政策必须落实。明朝政治经济经武宗弊政后本已千疮百孔，各种社会问题加上世宗无休止的土木兴作，使嘉靖朝面临着非常严重的财政危机，要想“足国用”，除了鼓励社会生产外，还需要合理的会计手段，桂萼从缩减开支和增加收入两个方面提出了财政改革的具体办法。

——摘编自牛润珍《河北通史》

- (1) 根据材料并结合所学知识，概括桂萼的基本思想主张。(8分)
- (2) 根据材料并结合所学知识，简析桂萼体现的时代精神内涵。(7分)

安康市 2023 届高三年级第二次质量联考试卷

文科综合(地理)参考答案

1. B 解析: 由“某年的9月24日,北京雨过天晴,一位摄影师记录下了天坛祈年殿‘头顶悬日’的美妙时刻,让此刻的黄昏多了一抹沉静感”可知,秋分日前后的日落时分能拍摄到天坛祈年殿“头顶悬日”的景观。秋分日前后,太阳正东升起,正西落下,春分日前后也符合这一条件。选项B正确。
2. C 解析: 祈年殿“头顶悬日”景观出现在日落时分,一周后,北京昼短夜长,日落时太阳位于西南方向,故摄影镜头应指向西南方向。选项C正确。
3. C 解析: 高铁作为一种高效的交通工具,极大增强了区域间的可达性,提高了区域间的开放程度,扩大了区域间的合作范围。选项C正确。
4. D 解析: 淮安市有多条高铁线路交汇,为江苏省重要的高铁枢纽站,人流、车流量大,旅客周转量大,适宜发展占地少,比较高端的商务服务业和旅馆餐饮业等。选项D正确。
5. B 解析: 高铁作为一种高效的交通工具,使区域间的生产要素(资源、人才、劳动力、资金等)的流通更为便利。高铁沿线等级高的中心城市以诸多优势,虹吸般吸纳优质资源、科技人才,造成高铁沿线等级较低城市生产要素的外流;北京和上海等级最高,优势最强,具有强大的虹吸作用,但在距离和文化上,淮安与上海具有一定的近缘性,与北京、上海相比,重庆和兰州的吸引力较弱。选项B正确。
6. D 解析: 美国西部的俄勒冈州、华盛顿州和加利福尼亚州主要位于 $30^{\circ}\text{N}\sim 40^{\circ}\text{N}$ 之间,冬季恰好受盛行西风带控制,盛行西风由较低纬度流向中纬度。由“美国西海岸经常受到源自太平洋大气河流影响,1月是发生这种现象的常见月份”“大气河流是全球现象,……,从热带或亚热带地区延伸到中纬度”可知,大气河流与盛行西风强盛的季节、流动方向大致相同,由此判断大气河流为盛行西风的一部分。选项D正确。
7. C 解析: 俄勒冈州、华盛顿州和加利福尼亚州山脉南北纵列,直逼西海岸,山脉对海洋吹来的气流有显著的抬升作用,导致地形雨的形成;大气河流水汽聚集,给地形雨带来充足的水汽,增加降水的强度。选项C正确。
8. C 解析: 根据第6题结论,结合新西兰、澳大利亚的部分地区也在盛行西风带内,且冬季受其影响较大推断,8月份比较合理。选项C正确。
9. C 解析: 由图可知,文莱—穆阿拉区面积最小,首都位于该区,且大多数地区距离海洋较近,对外联系便利,成为人口集聚区。选项C正确。
10. A 解析: 根据“东部地势较高,西部多沼泽”“文莱森林茂密,覆盖率72.11%”的信息,以及文莱地理位置可知,马来奕区尤其是其南部热带丛林密布,沼泽遍布,开发难度较大,限制人口的增长和分布。选项A正确。
11. B 解析: 淡布隆区位于文莱东部,是被马来西亚隔开的“飞地”,与本国其他地区陆路交通联系不便,人类活动的干扰少,自然环境保持了原生态。选项B正确。
36. (24分)
- (1) 地势低平的地方易形成盐碱地,白城盐碱地地带地势平坦,便于连片耕作,适宜燕麦的规模化种植;(2分)盐碱地一般分布在雨季较短,蒸发旺盛的地区,白城盐碱地地带因雨季短,晴日多,光照充足,昼夜温差大,利于燕麦积累有机质;(2分)盐碱地的环境容量较小,白城盐碱地地带人烟稀少,环境污染较小,利于生产绿色燕麦和有机燕麦。(2分)

- (2) 燕麦新品种具有很强的抗旱、抗风沙性，能够大量吸收土壤盐分，改良盐碱地；燕麦生长的地方，周围杂草生长良好，生长良好的杂草能够阻挡风沙、调节气候，改善生态环境；白城燕麦一年两季，单位面积产量高，为国家粮食安全作出贡献；燕麦加工产业链长，产品附加值高，能够带动的产业多，在振兴乡村、经济发展方面具有重要的助推作用。(每点2分，任答其中3点得6分)
- (3) 长期以来，中加两国在白城开展了燕麦优良品种的培育与种植，科技力量雄厚；(2分) 恰逢新一轮振兴东北和“健康中国”战略机遇，能够获得国家政策的大力支持；(2分) 在我国，燕麦将孕育为一个大的健康产业，燕麦及加工产品将迎来广阔的消费市场。(2分)
- (4) 发挥区域优势，选择适应当地条件并能够改善生态环境的特色产业作为支柱和基础产业；(3分) 以科技为支撑，以市场为导向，延长产业链，带动相关产业发展，实现生态治理、经济发展、脱贫攻坚的目标。(3分)
37. (22分)
- (1) 利迈河流域面积大，支流众多，(2分) 补给内格罗河的水量大，成为内格罗河水系最重要的支流。(2分)
- (2) 利迈河与内乌肯河的源头位于安第斯山脉高海拔处，冬季这里可受暖湿西风影响，降水多，(2分) 雨水直接补给利迈河与内乌肯河，使其进入冬汛期；(2分) 春季，随气温回升，安第斯山脉和巴塔哥尼亚高原的积雪不断融化，(2分) 补给利迈河与内乌肯河，使其进入春汛期。(2分)
- (3) 利迈河与内乌肯河流经地势崎岖的安第斯山脉和巴塔哥尼亚高原西部，流速快，一旦汛期来临，一股股洪流迅速涌向内格罗河；(3分) 内格罗河流经地势平缓的巴塔哥尼亚高原东部，流速缓慢，且无湖泊的调蓄，导致洪流涌堵，形成洪涝灾害。(3分)
- (4) 内格罗河水系对巴塔哥尼亚高原地形的下切和侧蚀作用明显，(2分) 形成纵深的河谷，加大地势起伏，平坦的高原面变的破碎不完整。(2分)
43. (10分)
- 春节假期较长，为人们外出旅游提供了时间保障；(2分) 春节期间，云南省大部分地区气候温暖，多晴朗天气，空气清新，游览效果好；(2分) 云南省以复杂的地理环境、丰富的生物资源和多样性民族文化为背景，分布着多样性、奇异性、景观地域组合良好的旅游景区，极大满足游客对文化历史、民族风情、发现美、观赏美的心理需求；(4分) 云南省旅游景点多，相距较近，可以节省远道而来的游客的旅游时间，旅游效果俱佳。(2分)
44. (10分)
- “生态汽车”会显著降低汽车生命周期碳排放量，控制尾气排放以及提高尾气的回收利用率，(2分) 从而减少二氧化碳的排放，为低碳经济发展，遏制全球气候变暖做出贡献；(2分) 车内噪声的有效控制，空气质量的改善以及有害物质铅含量的减少，可以减轻对驾车和乘车人的危害，(3分) 使汽车工业成为绿色产业，由此减少汽车产品在使用过程中产生的环境污染，为环境保护作出贡献。(3分)

安康市2023届高三年级第二次质量联考试卷

文科综合(历史)参考答案

24. D 解析: 根据题干的材料信息“封君姓氏多元多样, 血缘多源”、“直接超越和凌驾于为数众多的族邦”、“形成了最大规模的地域政治共同体”等可知, 这反映出西周时期地缘关系特征突出, 占据主导, 故D项。结合所学知识, 西周时期核心权力实现高度集中, 故排除A项; 材料的主旨不涉及国家制度建构, 故排除B项; 材料仅仅是强调“尊尊源于但已高于亲亲”, 不能说宗族聚居状态逐渐打破, 故排除C项。
25. B 解析: 根据题干材料信息可知, 西汉时期, 国家“愿募民自给费”、“浮食奇民欲擅管山海之货”以及“郡不出铁者, 置小铁官, 便属在所县”可知当时国家积极干预经济, 故B项正确。材料主要涉及的是手工业的发展, 不能说重视农业生产, 故排除A项; 官营作坊得到发展符合当时的史实, 但是不涉及材料的主旨, 故排除C项; “解体”的表述错误, 故排除D项。
26. A 解析: 根据材料信息可知, 魏晋到隋唐时权力由依靠“阀阅”也就是血缘到“在科场较技中取胜”也就是依靠适应选拔人才的标准获得。这反映了士族权力来源方式的变化, 故A项正确。选官制度走向成熟不符合基本史实, 故排除B项; 材料的主旨是权力来源方式的变化, 故排除C项; 材料并未涉及“科场较技”的内容, 故排除D项。
27. A 解析: 材料表明, 石涛主张绘画要注重观察自然, 强调自我感悟, 有自己的创造和独立精神, 服从自己内心感受, 这表明他的绘画主张蕴含自我独立意识, 故A项正确。材料强调对自然的观察, 但不能得出遵循自然变化规律的结论, 故排除B项; C项与材料主旨不符, 故排除; 材料强调绘画“唯我”“一画之法, 乃我自立”, 不能体现开放包容色彩, 故排除D项。
28. D 解析: 根据材料信息“平行款式”、以及封面上无“稟”字样却“原封掷还”可知, 清政府在外交形式上追求形式, 这体现出清政府固守天朝上国的观念, 故D项正确。材料中未涉及清政府维护国家主权的内容, 故排除A项; 材料中并非清政府盲目排外, 而是追求形式上的主动, 故排除B项; 这并非外交的细节而是清政府的愚昧, 维护天朝上国的体现, 故排除C项。
29. B 解析: 根据材料信息可知, 毛泽东认为五四运动时期, 领导人使用的方法“还是资产阶级的方法”, 并且对待东西文化存在绝对化, 故毛泽东意在强调五四运动缺乏唯物主义的批判精神, 故B项正确。其他选项不符合材料的主旨, 故排除A、C、D三项。
30. A 解析: 根据题干漫画的情境可知, 日本军国主义蓄意制造“自治”的局面, 再结合“1936年”的时代背景, 这是在华北事变之后, 全国人民的抗日热情日益高涨, 据此, 这一漫画的创作激发了民众的爱国热情, 故A项正确。结合所学知识可知, 这一时期中日民族矛盾成为社会的主要矛盾, 故排除B项; “改善”的表述不符合史实, 故排除C项; 这一时期抗日民族统一战线还没有形成, “巩固的表述错误”, 故排除D项。
31. C 解析: 首先要根据题目材料中的信息准确判断相关的年份。材料中的“讲真理”“学科学”“文明礼貌月”等信息, 表明相关的时间应该是在改革开放的初期, 也就是由拨乱反正到全面改革开放的历史时期, 故C项正确。其他选项不符合材料的相关信息, 故排除A、B、D三项。
32. B 解析: 结合材料中“树立了第一组刺杀僭主者的雕像”、“对刺杀僭主者的崇拜仪式”、“每年周期性举行”等信息可知, 在雅典民主制度发展的初期, 僭主主导雅典政治, 民主政治以贵族制度为基础, 然而随着民主制的发展, 民主政治逐渐成熟并独立, 僭主体制下的贵族体制遭到越来越多人的反对, 故B项正确; 雅典民主制度的初步确立是在公元前6世纪初期梭伦改革时期, 故排除A项; 材料概述的是民众对僭主政治的态度, 公民意识强调的是对民主的参与度, 故排除C项; 材料强调的崇拜的对象, 而不是公共空间的构建, 故排除D项。

33. D 解析: 材料表明该学者认为“宗教改革”不仅包括新教的兴起, 也包括天主教会的改革, 否则就不能称其为“改革”, 说明该学者意在强调宗教改革推动了基督教的发展, 故D项正确。新教削弱了天主教会的权威性在材料中无法体现, 故排除A项; B项不能全面涵盖材料信息, 故排除; C项与材料信息不符, 故排除。
34. A 解析: 苏俄新经济政策的实质, 即在国家掌握经济命脉的前提下, 利用市场和商品货币关系, 实行国家资本主义, 逐步向社会主义过渡。对于新经济政策的实施, 有人认为是“蜕化”“共产主义没落”, 有倒向资本主义的危险, 甚至反对派也表示欢迎, 由此可见当时部分民众对新经济政策的实质尚未有清醒的认识, 故A项正确。B项“一致反对”的说法过于绝对, 故排除; 1921年, 新经济政策已经取代战时共产主义政策, 故排除C项; 新经济政策是苏俄向社会主义过渡的正确途径, 故排除D项。
35. B 解析: 根据材料信息“欧洲认同将会在抵制美国影响中得到重申”, 可知该学者意在强调“反美主义有助于欧洲认同”, 故B项正确。材料强调的是欧洲认同, 不涉及国际政治力量重组, 故排除A项; 冷战时期的国际关系是美苏争霸的两极格局, 冷战后, 国际关系为多极化趋势不断发展, 新型国际关系格局没有定型, 故排除C项; 材料没有涉及欧洲的国际地位的问题, 故排除D项。
41. (1) 特点: 以儒家思想为指导; 从立法角度支持保障事业; 民间团体积极参与; 树立典型代表; 主要关注弱势群体。(8分, 任答4点即可) 积极意义: 体现了救济和教化的结合; 有助于社会的稳定; 缓和了社会矛盾。(4分, 任答2点即可)
- (2) 新内涵: 雇员、雇主和政府共同担负社会保障资金筹集; 强调受保人权利和义务对等性; 注重处理市场效率与社会公平关系。(6分) 主要原因: 经济危机的冲击; 工人运动的不断高涨; 进步思想和政党的推动; 俾斯麦个人的作用, 资产阶级革命和改革的影响。(7分, 2点5分, 3点7分)
42. 主题: 新中国外交概念变化呈现鲜明的时代特色。(2分)
- 阐述: 第一个时期(1949年至1978年)处于社会主义改造和建设时期, 随着中苏关系逐渐恶化, 以及美国的持续敌视, 我国的外交政策从“一边倒”到反帝反修、“两个拳头打人”等, 这些外交政策反映了冷战时期对峙、动荡的世界局势, 以及中国坚持独立自主、和平共处的时代诉求。第二个时期(1978年至2012年)处于改革开放时代, 随着党和国家工作重心的转移, 我党提出了“不结盟, 和平与发展, 战略伙伴关系”等外交概念, 这些概念体现了这一时期世界和平发展的潮流, 以及我国和平发展、有所作为的时代要求。第三个时期(2012年以来)是新时代, 面对“百年大变局”, 我国在外交上主张和平发展合作共赢的积极有为, 中国始终坚持人类命运共同体的外交理念, 体现了当今世界局势和我国发展诉求。(8分)
- 总之, 在这三个特定历史阶段, 我国外交领域提出了若干重要外交概念, 用来界定国际形势、归纳外交原则、规划外交政策、指导外交实践, 也体现不同时期的时代特色。(2分)
45. (1) 以院校教育作为人才培养主渠道; 派遣学生出国留学; 聘请外国教官团队; 注重开展实战训练; 注重学习西方先进经验。(8分)
- (2) 培养了大批军事人才, 提升了军事作战能力, 加强了军国主义教育, 助长了对外扩张气焰。(7分)
46. (1) 宗教冲突; 民族矛盾加剧; 地区发展落后; 民族政策失误。(8分)
- (2) 造成了大量人口死亡; 产生了巨大的财产损失; 引发了地区动荡不安; 加速了苏联的解体。(7分)
47. (1) 养成君德; 整顿吏治; 关注民生; 改革财政。(8分)
- (2) 忧国忧民; 修身养德; 关心百姓; 经世济民。(7分)

安康市 2023 届高三年级第二次质量联考试卷

文科综合(政治)参考答案

12. C 解析: 石油价格大幅上涨, 导致传统燃油汽车需求量减少, 而传统燃油汽车需求减少, 则导致其替代商品新能源汽车购买增加。注意不考虑其他因素, 即新能源汽车价格不变, 需求量增加。据题意分析可以选出 C。A 表示油价下降, 燃油车需求量增加, 不符合题意; B 表示油价上涨, 新能源汽车需求量减少, 不符合题意; D 表示传统燃油汽车价格不变, 新能源汽车需求减少, 不符合题意。
13. B 解析: 中央企业战略性重组和专业化整合可以有效解决央企同质化竞争, 打造优势企业, 也有利于加快国有经济布局优化, 提升国有资本配置效率, ①④符合题意; 发展混合所有制经济可以大力引进战略投资者, 实现各类资本优势互补, 材料说的是央企重组并不是混合所有制改革, ②③不符合题意。
14. A 解析: “闲田共享”充分运用互联网思维, 通过盘活零散闲置农田, 创造更多就业机会, 增加了农民收入, 满足了市民体验农耕文化和农产品安全需求, ①②符合题意; 这一模式不一定能保证社会经营者的经济效益, ③说法错误; 这一模式没有转变土地所有权性质, 也没有体现降低消费成本, ④说法错误。
15. C 解析: 政府增加专项债券规模可以撬动社会资本形成形成投资合力, 持续形成投资拉动力, ①正确; 政府扩大财政支出力度, 扩大了有效投资, 增加社会总需求而不是总供给, ②错误; 实行减税降费政策能够减轻企业负担, 但是不能降低企业经营风险, ③错误。优化支出结构, 加大对重点领域投入, 有利于推动产业转型升级从而实现高质量发展, ④正确。
16. B 解析: 这一模式坚持党建引领多元共治, 提升基层治理水平, 丰富了基层治理方式, 完善基层治理实践路径, ①③符合题意; 居民委员会或者村民委员会是基层群众自治组织, 这一模式没有创新基层群众自治组织, ②错误; 依法制定自治章程和议事规则, 推动日常工作制度化、规范化、程序化, 是做好基层民主管理工作的关键, ④错误。
17. A 解析: 人大常委会执法检查是在通过行使监督权确保党中央决策落地见效, 执法检查有利于在法治轨道上全面推进乡村振兴, ①③符合题意; 检察院是国家的法律监督机关, ②错误; 执法检查不是人大在提升执法能力, 也不是在提高农业农村工作监管水平, ④说法错误。
18. A 解析: 只有自我革命才能确保党永葆先进性和纯洁性, ①符合题意; 新中国成立后就已经确立了党的执政地位, ②错误; 自我革命有利于坚持和加强党的全面领导, ③符合题意; 国家的一切权力属于人民, 人民代表大会是国家权力机关, 人大代表在国家权力机关参加行使国家权力, ④错误。
19. C 解析: 《典籍里的中国》节目的成功体现了我们文艺创作要在传承的基础上积极融入创新元素, ①正确; 人民是文化发展的主体, ②说法错误; 文艺创新通过激活优秀传统文化, 坚定了文化自信, ③说法正确; 文化创新的根基是传统文化, ④说法错误。
20. B 解析: 中国特色社会主义理论体系是中华民族精神的“主心骨”, ①错误; 中华民族精神的具体内涵随时代变化而不断丰富发展, 基本内涵不变, ③错误; 民族精神作为民族文化的结晶是长期历史积淀的过程, 这些精神集中体现了中华民族的整体风貌和精神特征, ②④正确。
21. B 解析: 漫画意思是对同一个问题, 不同的人从不同的立场或角度有不同的看法, 所以②④符合题意; “人间四月芳菲尽, 山寺桃花始盛开”体现了矛盾的特殊性, ①不符合题意; “我问沧海何时老, 清风问我几时闲”体现了作者沉醉山水时心意和情怀的表达, 从哲学角度看, 体现了意识的能动性。
22. C 解析: 广州因地制宜做强“城市绿核”表明矛盾具有特殊性, 我们要具体问题具体分析, ①

- 正确；矛盾的双方在一定条件下相互转化，②错误；我们只能根据事物的固有联系建立新联系，③错误；材料表明做事情要善于分析和把握事物存在发展的各种条件，④正确。
23. B 解析：“网络热词”作为一种意识或认识来自于物质或实践，并不是根据主观需要确定的，①错误；实践是“网络热词”的来源和其变化发展的动力，②正确；“浪浪山”指代我们人生的一辈子，也反映了当代打工人内心的苦楚和辛酸反映了思维和存在具有统一性，思维能正确反映存在，③正确；生产方式决定了人们精神生活，④错误。
38. ①顺应消费升级趋势，以高质量供给满足居民消费新需求和企业生产需求。(2分) ②有利于进口产品同国内产品展开竞争，引导供给体系转型升级，在更高水平实现供需动态平衡。(3分) ③助推全球好物进入中国市场，为各国提供了更广阔的市场机会，共享中国开放红利。(3分) ④对信息技术产品降税将促进先进制造业创新发展，加快产业转型升级，推动经济高质量发展。(3分) ⑤适应经济全球化的发展趋势，开创我国对外开放新格局，发展更高层次开放型经济，同时也将有力促进全球贸易和高新技术发展。(3分)
(若考生答出降低居民消费成本和企业生产成本、深化供给侧结构性改革、促进经济全球化深入发展等知识，也可酌情给分)
39. ①党的领导、人民当家作主、依法治国，三者有机统一充分体现了我国社会主义民主实践优势。(3分) ②中国共产党领导是中国特色社会主义最本质的特征，是社会主义法治最根本的保证。这两部法律的修订贯彻了党中央决策部署，体现了人民利益。(3分) ③依法治国是党领导人民治理国家的基本方略。党领导人民通过国家权力机关制定宪法和法律，又在宪法和法律范围内活动；人大作为国家权力机关，反映人民意见和要求，公开征求意见，科学民主立法，保障人民利益。(3分) ④人民当家作主是社会主义民主政治的本质特征。两部法律的修订都是为了维护人民的根本利益，在修订过程中向社会公开征求意见，充分体现了我国社会主义的本质。(3分)
40. (1) ①人的价值在于创造价值，在于对社会的责任和贡献；一个人对社会的贡献越大，他自身的价值就越大；人既是价值的创造者，也是价值的享受者。三位英雄模范为国家和人民做出了突出贡献，也得到了社会和人民的尊重。(4分) ②价值观对人们认识和改造世界的活动有重要导向作用，也是人生的向导，三位英雄模范的事迹启示我们要树立正确的价值观；自觉站在最广大人民的立场上，做出正确的价值判断和价值选择。(3分) ③我们要在劳动和奉献中创造价值，在个人与社会的统一中实现价值，在砥砺自我中走向成功。(3分)
- (2) ①精神产品凝结在一定的物质载体之中。道德模范事迹展览馆为传播正能量、弘扬真善美提供了物质载体。(3分) ②文化对人的影响来自特定的文化环境。道德模范事迹展览馆为凝聚好人力量，引领道德风尚创造了特定的文化环境，让人们在潜移默化中树立正确的世界观、人生观、价值观。(3分) ③道德模范事迹展览馆对外开放，有利于弘扬中华民族精神，践行社会主义核心价值观，增强人的精神力量，促进人的全面发展，培养担当民族复兴大任的时代新人。(4分)
- (3) 答案示例：①新时代青年要勇于担当，在困难面前，永远不畏惧，坚决不退缩，能够担当、敢于担当、善于担当，用实际行动完成自己的使命。(2分) ②新时代青年要顽强拼搏，增强战胜挫折的能力和信心，甘愿吃苦、踏踏实实，不怕苦、不怕累，乐于奉献。(2分) ③新时代青年要坚定理想信念，不断增强自己的知识和本领，提高个人素质，坚持正确价值观的指引。(2分)
(若考生其他答案言之有理也可给分)

关于我们

自主选拔在线是致力于提供新高考生涯规划、强基计划、综合评价、三位一体、学科竞赛等政策资讯的升学服务平台。总部坐落于北京，旗下拥有网站（[网址: www.zizzs.com](http://www.zizzs.com)）和微信公众平台等媒体矩阵，用户群体涵盖全国90%以上的重点中学师生及家长，在全国新高考、自主选拔领域首屈一指。

如需第一时间获取相关资讯及备考指南，请关注**自主选拔在线**官方微信号：**zizzsw**。



微信搜一搜

自主选拔在线