

石家庄市 2019 届高中毕业班模拟考试(二)

文科综合

注意事项:

1. 答卷前,考生务必将自己的姓名、准考证号填写在答题卡上。
2. 回答选择题时,选出每小题答案后,用 2B 铅笔把答题卡上对应题目的答案标号涂黑。如需改动,用橡皮擦干净后,再选涂其它答案标号。回答非选择题时,将答案写在答题卡上。写在本试卷上无效。
3. 考试结束后,将本试卷和答题卡一并交回。

一、选择题:本题共 35 小题,每小题 4 分,共 140 分。在每小题给出的四个选项中,只有一项是符合题目要求的。

卫星工厂是指经常承接一家或数家中心工厂的订货,供应某种自产零件或部分组件的中小型企业。近年来,新疆阿克苏地区扶贫攻坚中克服组织规模化生产的难题,因地制宜推广“总部+卫星工厂+农户”的产业发展模式,让农牧民在家门口稳定务工,兼顾了子女、家庭,有力促进了农牧民增收脱贫,让农牧民充分享受到阿克苏地区改革开放发展成果。图 1 示意阿克苏地区位置。据此完成 1~3 题。

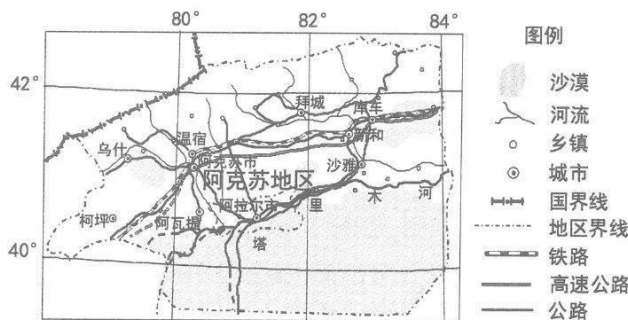


图 1

1. 阿克苏地区扶贫攻坚不宜采取规模化生产方式的主要原因是
 - A. 剩余劳动力少,工人短缺
 - B. 科技水平较低,资金不足
 - C. 地域面积广大,人员分散
 - D. 地理位置偏远,市场狭小
2. 阿克苏地区卫星工厂的工业类型主要属于
 - A. 原料指向型
 - B. 市场指向型
 - C. 动力指向型
 - D. 劳动力指向型
3. 提升阿克苏地区“总部+卫星工厂+农户”模式产业发展水平的主要措施是
 - A. 加强岗位培训
 - B. 完善交通设施
 - C. 增加资金投入
 - D. 拓展销售市场

地质构造运动中,由于上、下岩层间的层序发生间断,形成时代不连续的岩层,这种上、下时代不连续岩层的接触面称为不整合面。图 2 示意美国某高原相互之间距离在 15km 以内的三个出露岩层剖面,PQ 和 MN 代表不整合面,XY 代表断层,岩层未发生过翻转。据此完成 4~6 题。

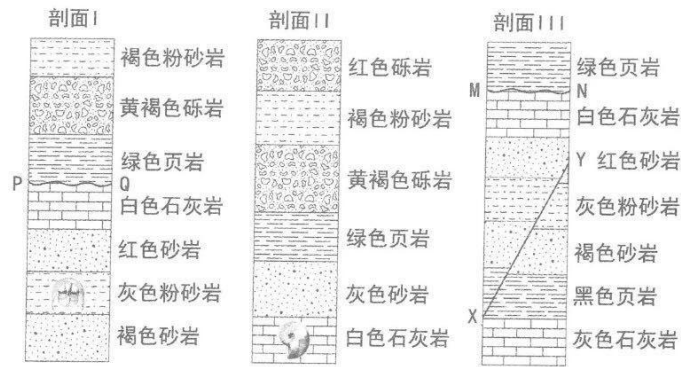


图 2

4. 根据图中所示证据, 比 XY 断层更古老的岩层是
 A. 白色石灰岩 B. 黄褐色砾岩 C. 红色砂岩 D. 黑色页岩
5. PQ 和 MN 不整合面的形成源于
 A. 上下岩层受水平挤压力作用发生位移 B. 抬升和侵蚀, 随后发生下沉和沉积
 C. 上下岩层接触面受重力挤压发生变质 D. 下沉和沉积, 随后发生抬升和侵蚀
6. 三个岩层剖面中存在时间最短的岩层是
 A. 灰色砂岩 B. 红色砾岩 C. 绿色页岩 D. 褐色粉砂岩

沈大高速公路是我国大陆兴建的第一条高速公路。当时条件艰苦, 设计时先在 1:10000 的图纸上选线, 然后到现场沿着选定的线路, 用钢尺 100 米接 100 米地测量, 而且测量只能选择对农田没有影响的季节进行。经过六年零两个月的施工, 沈大高速于 1990 年 9 月 1 日全线通车, 当年车流量即达到 142 万台次, 到 2000 年时已增加至 5714 万台次, 2004 年沈大高速公路改扩建工程竣工, 由双向四车道扩建为双向八车道。沈大高速公路井泉服务区被誉为“中国第一服务区”, 最初只能提供就餐、加油、如厕等基本服务, 2017 年 11 月 30 日, 升级改造为集餐饮、购物、休闲于一体的开放式商业综合体, 甚至吸引了邻近村镇的居民光顾。图 3 示意沈大高速公路线路和井泉服务区卫星影像。据此完成 7~9 题。



图 3

7. 在沈大高速现场选线测量的季节,面临的主要困难是
 A. 春季的风沙 B. 夏季的酷暑 C. 秋季的阴雨 D. 冬季的严寒
8. 沈大高速最初没有设计为双向八车道,主要受制于当时的
 A. 建设时间 B. 经济需求 C. 设计水平 D. 项目投资
9. 井泉服务区建设商业综合体的突出区位优势是
 A. 高速与国道共用服务区 B. 临近村镇经济发达
 C. 服务区的建成时间最早 D. 距离主要城市较近

柳属是杨柳科中最大的属,由于其特殊的生理特性如生长迅速、易于繁殖以及对重金属有较强的累积能力等,成为极具潜力的环境修复物种。柳属在我国分布广泛,图4示意我国柳属物种丰富度与经纬度关系。据此完成10~11题。

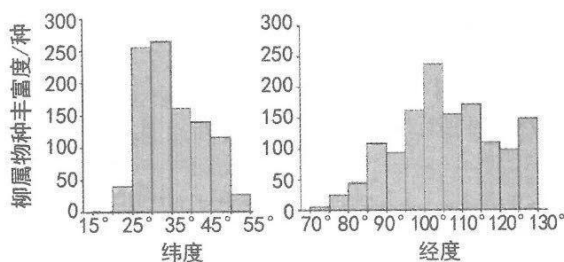


图4

10. 我国柳属物种最为丰富的地区集中在
 A. 琼、桂、粤 B. 黑、吉、辽
 C. 川、滇、藏 D. 陕、甘、宁
11. 物种分布中心是物种丰富度最高的区域,影响我国柳属物种分布中心形成的主导因素是
 A. 地形 B. 热量 C. 降水 D. 土壤
12. M国是大豆生产大国,其生产量的62%以上出口到Z国。2018年M国对Z国发动了大规模的贸易战。为维护本国合法权益,Z国决定对从M国进口的大豆加征高额关税。若不考虑其他因素,这一举措的影响有
 ①Z国进口M国大豆价格上升,Z国大豆生产者获利减少
 ②Z国进口M国大豆价格上升,Z国对M国大豆进口减少
 ③M国大豆生产者利益受损,M国内大豆替代品需求上升
 ④Z国大豆消费者利益受损,但Z国大豆自给率可能提高
 A. ①③ B. ①④ C. ②③ D. ②④

13. 下表(表1)为2018年我国居民人均收入、消费支出情况。

表1

项目 \ 主体	全国居民	城镇居民	农村居民
人均可支配收入(元)	28228	39251	14617
人均消费支出(元)	19853	26112	12124
人均食品烟酒支出比重(%)	28%	27.7%	30%

由此可知:

- ①收入水平是影响消费的根本性因素 ②城乡居民的消费水平提高,消费结构改善
③城乡之间发展不平衡问题依然存在 ④城镇居民比农村居民食品烟酒支出金额大
A. ①② B. ①④ C. ②③ D. ③④

14. 为深化供给侧结构性改革,进一步有效降低实体经济成本、切实减轻企业负担,促进实体经济发展,近年来国家出台了多项措施。下列对有关措施及其影响分析正确的是

- ①降低制度性交易成本→企业负担减轻→产品价格下降→企业的盈利增加
②推进债转股融资→企业杠杆率降低→减轻企业债务负担→企业活力增强
③降低存贷款利率→企业融资成本降低→促进企业投资→企业提质增效
④降低增值税税率→企业税收负担减轻→加大研发投入→激发企业创新
A. ①② B. ①③ C. ②④ D. ③④

15. 2018年中国利用外资再创历史新高,实际使用外商直接投资金额达1350亿美元,新设立的外商投资企业增长了将近70%,其中“一带一路”沿线国家对华直接投资金额增长16.0%,高技术制造业实际使用外资增长35.1%。这表明我国

- ①营商环境持续优化,对外资吸引力不断增强
②提高利用外资水平,推动对外贸易转型升级
③充分利用外资,增强投资对经济发展的基础性作用
④适应经济全球化新形势,不断提高开放型经济水平
A. ①③ B. ①④ C. ②③ D. ②④

16. 某社区为解决社区环境整治的难题,成立了由社区干部、居民小组长、居民志愿者组成的“小喇叭宣传队”来吹响文明号,维护社区环境。有了“小喇叭宣传队”的提醒,居民自觉性提高了,小区内乱扔垃圾的现象越来越少了。该社区的做法

- ①丰富了社区自治的基本内容 ②创新了基层民主自治的实践形式
③提升了居民的参与度和责任感 ④凸显了基层政府在社区治理中的作用
A. ①③ B. ①④ C. ②③ D. ②④

17. 2019年2月15日,国务院印发《关于在市场监管领域全面推行部门联合“双随机、一公开”监管的意见》,明确要求在监管中随机抽取检查对象,随机选派执法检查人员,抽查结果及时向社会公开,进一步营造公平、公正的营商环境。这一举措体现了政府
- ①转变监管理念,创新监管方式 ②规范执法行为,强化公众监督
③理顺政企关系,改进公共服务 ④深化简政放权,提高监管效能
- A. ①② B. ①③ C. ②④ D. ③④
18. 根据中共中央决策部署,全国人大常委会先后两次审议《中华人民共和国外商投资法》草案,并将草案在中国人大网全文公开,征求社会公众意见。2019年3月15日,十三届全国人大二次会议表决通过了该部法律。对此,下列认识正确的是
- ①党的主张通过法定程序上升为国家意志
②人民代表大会应以公众意见作为立法依据
③民主集中制是人民代表大会制度的基石
④立法过程体现了我国社会主义民主政治的特点和优势
- A. ①② B. ①④ C. ②③ D. ③④
19. 2019年3月,《航拍中国》第二季在中央电视台开播。该节目的拍摄采用无人机、载人机和轨道卫星进行多层次影像呈现,首次使用VR技术在平面影像上进行特效呈现,还采用了一镜到底场景飞行拍摄等手法,从空中展现景观的“大、美、奇、变”。观众们看后都直呼“太美了,每一帧都值得珍藏”。下列对技术创新作用评价正确的是
- ①技术创新决定了文化产品的品质优劣
②技术创新推动了文化的传播与发展
③文化多姿多彩的魅力依赖于技术创新
④技术创新有利于文化内容和形式的创新
- A. ①② B. ①③ C. ②④ D. ③④
20. 2019年3月18日,习近平总书记在学校思想政治理论课教师座谈会上指出,思想政治理论课是落实立德树人根本任务的关键课程,我们要从坚持和发展中国特色社会主义事业、实现中华民族伟大复兴的高度来认识办好思政课的重要意义。可见,思政课应
- ①在人的教化与培育上扮演更重要的角色
②积极培养担当民族复兴大任的时代新人
③通过强化灌输以提高公民的政治素养
④把培养道德素质作为人们文化素养的核心
- A. ①② B. ①③ C. ②④ D. ③④

21. 南宋学者陈善曾说:读书须知出入法。始当求所以入,终当求所以出。见得亲切,此是入书法。用得透脱,此是出书法。盖不能入得书,则不知古人用心处;不能出得书,则又死在言下。惟知出知入,乃尽读书之法也。对此理解正确的是
- ①读书要与实践相结合,努力做到知行合一
②读书的目的在于融会贯通,不断追求真理
③入书与出书其实是一个辩证否定的过程
④入书与出书的同一性寓于双方斗争性之中
- A. ①② B. ①③ C. ②④ D. ③④
22. 高科技精密陶瓷因具有重量轻、高硬度、不易磨损、永不褪色和佩戴舒适等特点而受到现代制表业的青睐。目前的高科技精密陶瓷多为白色、银灰色和黑色,这与制造过程中添加的元素息息相关。添加钛金属的陶瓷呈现银灰色,轻盈耐磨,具有恒温性;添加铌金属多呈现白色,使陶瓷散发出深邃的光泽,达到一种极致的高贵。可见
- ①把握联系的普遍性是创造客观实在的前提
②事物的不同特性是由人的不同需要决定的
③人能在事物固有联系的基础上建立起新的联系
④人能改变规律发生作用的条件创造出新的价值
- A. ①② B. ①④ C. ②③ D. ③④
23. 2019年1月3日,中共中央、国务院发布了《关于坚持农业农村优先发展 做好“三农”工作的若干意见》。意见要求把发动群众、组织群众、服务群众贯穿乡村振兴全过程,充分尊重农民意愿,弘扬自力更生、艰苦奋斗精神,激发和调动农民群众积极性主动性。这是由于
- ①人民群众是社会变革的主力军和决定力量
②群众观点是马克思主义哲学首要的基本的观点
③人民群众是历史的创造者,是社会存在发展的基础
④坚持群众路线是建设中国特色社会主义的重要保证
- A. ①③ B. ①④ C. ②③ D. ②④
24. 西周时期的青铜铭文多为颂扬先祖、祝愿家族昌盛之类的套语。春秋战国时期的青铜器铭文具有浓厚的地域性,很多还记载了监制者的官职名号、工长名与工匠名,有的量器还记载了容量、重量和使用地点。这一变化主要反映了
- A. 集权政治的趋向 B. 宗法观念的消亡
C. 生产技术的进步 D. 礼乐制度的完善

25. 汉代画像砖蕴含着丰富的历史信息,如图 5-图 7 所示。这表明汉代



图 5 长袖乐舞



图 6 讲学传经图




图 7 养老图

- A. 外儒内法得到推行
B. 儒家学说影响广泛
C. 仁政观念深入人心
D. 儒家思想的官方化
26. 宋代“职”“官”分离,另有“差遣”负责具体事务。朝廷通过授予“职”来体现文官的特殊地位,其多为进士出身,如太宗时期入龙图阁者,“一经此职,遂为名流”。据此可知宋代
- A. 国家机关行政效率提高
B. 中枢权力机构不断完善
C. 科举制度功能得以加强
D. 官僚政治取代贵族政治
27. 明代专业的旅行指南图已普遍出现,最著名的是《一统路程图记》。该书绘制了北京、南京及各省的重要地名及主要交通路线,并附录山川险夷、著名物产、治安好坏等。人们外出时可检索路引目录,查找相关地名,便知行程里距和沿途情况。这可以用来说明当时
- A. 休闲旅游之风盛行
B. 国内长途贩运贸易的发展
C. 社会服务体系完善
D. 南北经济文化差距的缩小
28. 某学者总结了洋务运动时期清政府对不同企业的做法,如表 2 所示。据此可知,清政府的做法

表 2

企业类型	典型企业	清政府对企业的做法
官办企业	江南制造总局	“父爱式庇护”
官督商办企业	轮船招商局	“亲戚式庇护”
商办企业	华新纱厂	“朋友式庇护”

- A. 对近代企业发展具有双重作用
B. 推动了民族企业的持续发展
C. 促使商品经济取代了自然经济
D. 抵制了西方列强的经济侵略
29. 有学者指出,五四运动揭开了中国有机社会建设的序幕,紧随其后的应是自下而上、循序渐进地进行社会改造,但必须铲除中国的专制制度。真正的社会改造运动必须从改造自己做起,以对自己言行充分负责的精神来推动社会的进步。该学者意在说明五四运动
- A. 践行了马克思主义的基本理论
B. 使革命成为了社会变革的主流方式
C. 成为新旧民主革命之间的桥梁
D. 推动了个人价值与社会价值的结合
30. 1940 年,救国会领导人李公朴根据在敌后抗日根据地的所见所闻,在其著作中写道:“民主政治的彻底实施,行政机构的改革,经济政策的规定,人民生活的改善,边区政权的日益巩固和扩大亦是人所共见的事实”。对此理解正确的是
- A. 抗日民主在全国范围内形成共识
B. 工农武装割据取得了辉煌成果
C. 中国共产党成为抗战的中流砥柱
D. 革命统一战线得到巩固和扩大

文科综合 第 7 页(共 16 页)

31. 1953年,苏联专家对我国“一五”计划提出建议:工业总产值的增长速度要大于职工人数的增长速度;劳动生产率的提高速度要大于工资的增长速度;技术人员的增长速度要大于工人的增长速度等。这些建议
- A. 意在使中国避免苏联工业化弯路 B. 有利于中国经济战略的实施
C. 促使中国移植苏联的工业化模式 D. 与社会主义建设总路线相符
32. 古代罗马某一时期,初步司法程序由经选举产生的执政官执掌,通过初步程序,诉讼当事人确定“争执要点”,即拣出需要审理的问题。随后,由一位经当事人从选民名单中挑选出的、执政官授权的普通公民对案件加以审判,作出有拘束力的判决。可见,这一时期古罗马
- A. 法律程序繁琐且过于注重形式 B. 讲究法律实践的公开公正
C. 严格践行“法律面前人人平等” D. 法律实施具有主观随意性
33. 18世纪的欧洲,随着识字人群的扩大和人们读书热情的高涨,私人 and 公共的借阅图书馆遍布各主要城市。各种书刊的需求量也大幅增加,出现了一些资本雄厚的大出版商,小印刷所则更为普遍。这些状况
- A. 标志着人文精神的滥觞 B. 推动了文艺复兴的转型
C. 有助于启蒙运动的深入 D. 促进了近代科学的兴起
34. 一种观点认为,罗斯福“新政”站在私营企业对立面,不惜用国家政权力量限制私营企业权利。另一种观点认为,“新政”在许多情况下都在帮助改善私营企业地位,有时甚至不惜放弃自由改革理想。据此可知,以上认识
- A. 包含了社会主义学者的新观点 B. 都一定程度上夸大了历史史实
C. 从不同视角评价了罗斯福新政 D. 都肯定了国家干预经济的模式
35. 图8和图9分别为1956年和1970年欧洲冷战示意图

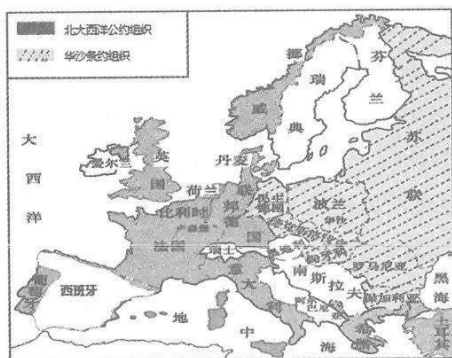


图8

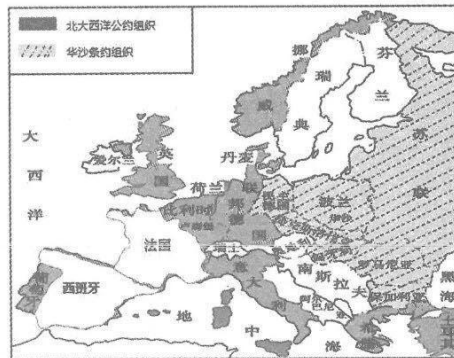


图9

图8到图9的变化反映了

- A. 美国丧失在西方世界的领导地位 B. 世界发展呈现多极化趋势
C. 大国放松了对阵营内小国的控制 D. 苏联在对峙中的优势地位

二、非选择题:共 160 分。第 36~42 题为必考题,每个试题考生都必须作答。第 43~47 题为选考题,考生根据要求作答。

(一)必考题:共 135 分。

36. 阅读图文资料,完成下列要求。(22 分)

堡若勒斯湖位于尼罗河三角洲前缘中部(如图 10 所示),在湖的北面由于河流泥沙沉积作用形成沙坝,原有的潮汐湿地沉降形成的盐沼演化形成堡若勒斯湖。堡若勒斯湖湖水深度在 0.4~2.0 m 之间,西部由甲运河与尼罗河相连,东部有一条长 250m 的乙运河连通地中海,湖水盐度东、西部差异大,中部季节变化显著。湖中分布众多岛屿,生物群落丰富多样。直到 20 世纪中期,堡若勒斯湖仍然处在海洋强烈影响之下。随着尼罗河干流和支流众多水坝的修建,直至 1964 年阿斯旺大坝开始蓄水,尼罗河洪水得到完全控制。从尼罗河流经甲运河的流量从以前的 9 月 $8200\text{m}^3/\text{s}$ 、4 月 $800\text{m}^3/\text{s}$ 到大坝建成后的 7 月 $2500\text{m}^3/\text{s}$ 、1 月 $1300\text{m}^3/\text{s}$,总流量从以前的 $2300\sim 2700\times 10^6\text{m}^3$ 到 2001 年及其以后年份稳定在 $4000\times 10^6\text{m}^3$,堡若勒斯湖生态环境发生显著变化。据专家预测,堡若勒斯湖前途十分黯淡,其生命周期终将结束。

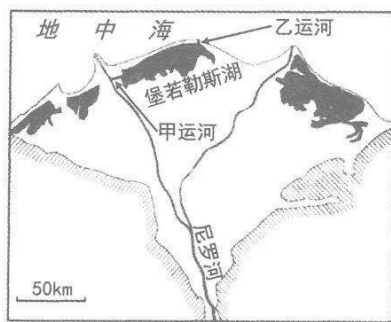


图 10

(1) 指出堡若勒斯湖东、西部湖水盐度差异,并说明中部湖水盐度季节变化显著的原因。(6 分)

(2) 分析堡若勒斯湖生物群落丰富多样的原因。(4 分)

(3) 分析阿斯旺大坝建成后对堡若勒斯湖生态环境的影响。(6 分)

(4) 预测堡若勒斯湖最终的结局,并说明理由。(6 分)

37. 阅读图文资料,完成下列要求。(24分)

紫鹊界梯田位于湖南省新化县水车镇,迄今已有 2000 多年历史,梯田依山就势开凿,分布在海拔 500~1200m、坡度介于 25°~40°之间的山坡上,共 500 余级,面积约为 120km²。紫鹊界梯田地下储水丰富,远古先民在经年累月的实践中开创了独一无二的自流灌溉系统,尽管山上没有水库和山塘,却年年旱涝保收,有“天下大旱,此地有收”之说,2014 年紫鹊界梯田水利灌溉工程被列入首批世界灌溉工程遗产名录。紫鹊界山区植被茂密,山顶海拔 1200~1500m 为森林区域,主要植被类型有乔木、灌木及草本植物等,林田比例约 2:1。土壤主要由花岗岩风化发育而成,砂性质地,土层厚度在 1m 以上。紫鹊界梯田至今保留着原始的纯手工耕种方式,是保持完整的古老稻作文明的成功范例。近年来,紫鹊界梯田区大量青壮年劳动力选择外出打工,梯田抛荒严重,有些村民在山上办起农家乐,进行旅游开发。图 11 示意紫鹊界梯田位置,图 12 示意紫鹊界梯田剖面。



图 11

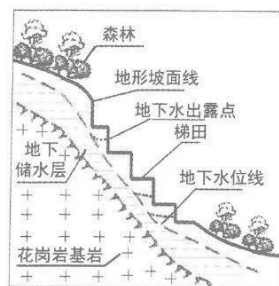


图 12

- (1) 说明紫鹊界梯田地下储水能力强的原因。(6分)
- (2) 分析紫鹊界梯田“天下大旱,此地有收”的原因。(6分)
- (3) 说明紫鹊界梯田抛荒严重的原因。(6分)
- (4) 你是否赞同紫鹊界梯田区扩大农家乐规模,请表明态度并说明理由。(6分)

38. 阅读材料，完成下列要求。(14分)

2014年以来，贵州省六盘水市探索农村资源变资产、资金变股金、农民变股东的“三变+产业+扶贫”的发展模式，走出了一条农业强、农村美、农民富的脱贫攻坚新路子。

资源变资产搭建产业扶贫平台：六盘水市按照农村土地“三权分置”的改革方向，坚持在落实集体所有权、稳定农户承包权的前提下，将村集体的荒山荒坡入股变废为宝，优化土地资源配罝，盘活农村资源，搭建产业扶贫平台，催生了产业规模化发展。资金变股金破解产业扶贫融资瓶颈：六盘水市充分整合农村各种资金，让资金投入从“分散”变“集中”、从“输血”变“造血”，放大资金使用效益，破解产业扶贫融资难题，探索了“三变+金融+扶贫”等模式。农民变股东激发产业扶贫内生动力：六盘水市引导农民将资产、资金、技术、土地承包经营权等入股经营主体成为股东，让农民直接成为农村供应链、产业链、价值链、资金链上的投资者和受益人。

“三变+产业+扶贫”的发展模式在激发六盘水农村发展活力，推动农民收入稳步增长的同时，也为全国产业化扶贫提供了示范样板，这一经验连续三年被写入中央一号文件。

结合材料，运用所学经济知识，分析六盘水市“三变+产业+扶贫”的发展模式是如何助力农村脱贫攻坚的。(14分)

39. 阅读材料，完成下列要求。(12分)

2019年3月26日，国家主席习近平在中法全球治理论坛闭幕式上发表了《为建设更加美好的地球家园贡献智慧和力量》的重要讲话，在国内外引起了强烈反响。

习近平在讲话中就解决当今世界面临的共同挑战提出了中国方案：第一，坚持公正合理，破解治理赤字。全球热点问题此起彼伏、持续不断，各种非传统安全威胁持续蔓延，全球治理体系和多边机制受到冲击。我们要坚持共商共建共享的全球治理观，积极推进全球治理规则民主化。第二，坚持互商互谅，破解信任赤字。我们要把互尊互信挺在前头，把对话协商利用起来，坚持求同存异、聚同化异。第三，坚持同舟共济，破解和平赤字。我们要秉持共同、综合、合作、可持续的新安全观，以合作谋和平、以合作促安全。第四，坚持互利共赢，破解发展赤字。我们要坚持创新驱动、坚持协同联动、坚持公平包容，让世界各国人民共享经济全球化发展成果。

结合材料，运用“当代国际社会”知识，分析中国方案对全球治理的积极作用。(12分)

40. 阅读材料，完成下列要求。(26分)

改编自刘慈欣同名小说的电影《流浪地球》2019年春节档异常火爆，成为近年来口碑与票房双丰收的作品之一，开启了中国科幻电影创作的新征程。

该影片摆脱了美式科幻片主导的“逃离地球”范式，采用了“带着地球去流浪”这种超级大胆的解决思路和独特的解决方式，传递出对地球家园的深厚感情。影片讲述的是一个具有中国文化特点的故事，始终在润物无声地弘扬中国传统文化和价值观。冰冷的地球和喧闹的地下城形成鲜明的对比，对地球未来命运的思考具有未雨绸缪的现实意义；100代人的流浪地球计划，投射的是中国人自古崇尚的愚公移山精神；“饱和式救援”不同于美国的个人英雄主义，而是采用以中国人为代表的全人类团结在一起，共同抵御灾害发生的设想，展现了解决人类共同挑战的中国思考与担当。

(1) 结合材料，分析电影《流浪地球》所体现的中华民族精神。(10分)

(2) 有人根据电影《流浪地球》获得巨大成功得出结论：“有创新意识，影片就能成功”。请运用意识的作用知识对该观点加以评析。(10分)

(3) 请你就中国电影如何走向世界提出三点建议。(6分)

41. 阅读材料，完成下列要求。(25分)

材料一 文艺复兴以来，西方医学开始了由经验医学向实验医学的转变。1543年，比利时人维萨里发表《人体构造论》，建立了人体解剖学，近代西方医学开始兴起。17世纪英国人哈维发现血液循环。18世纪，意大利人莫干尼使用显微镜等建立了病理解剖学。19世纪中叶，德国病理学家微尔啸倡导细胞病理学。19世纪下半叶法国巴斯德教授创立经典免疫学，在其研究所工作的俄国人梅契尼科夫系统阐述了某些传染病的免疫现象。19世纪，叩诊法在临床上推广应用，血压测量、体温测量等成为临床诊断辅助手段，预防医学和保障健康的医学对策已逐渐成为立法和行政面对的问题。1860年英国南丁格尔创立护士学校，使护理学成为一门科学。

——摘编自林成滔《科学简史》等

材料二 中国近代以来，中医学在传承中寻求变革，但传统中医观念及诊疗方法依然流行。传统中医认为药食同源，注重个人的养生与保健，以阴阳五行学说解释人

文科综合 第12页(共16页)

体的生理现象和病理变化，采用望、闻、问、切四诊法诊断，针灸治疗使用广泛。中国近代，无论是清政府还是中华民国政府，医疗制度侧重于服务达官贵人，对百姓影响甚少。而先进知识分子认为，国民健康不仅是个人的私事，更是国家的公事。国家必须尽到责任，维护国民健康，培养国民民族气魄与健全体格。个人必须配合政策，尽好国民的责任。

——摘编自皮国立《碰撞与汇通：近代中医的变革之路》

材料三 中华人民共和国成立后，建立起省、市、县、乡镇社区的医疗网络，方便患者就医。在传染病防治方面，我国推行计划免疫，有效控制了很多严重威胁人类健康的重大疫病，如百日咳、白喉、脊髓灰质炎、肺结核等，并出台相应的法律法规。医疗机构为患者服务的意识日趋强化，各级医疗机构明确了为人民健康服务的意识。推行医疗保险制度和救助制度，确保全民病有所医。注重公共卫生建设，强化全民卫生意识。

——摘编自张栋《新中国以来医疗卫生事业的发展轨迹》

- (1) 根据材料一并结合所学知识，指出近代西方医学的特点。(8分)
 - (2) 根据材料一、二并结合所学知识，概括中国近代医学相较于西方的不同之处，并说明中国近代医学观念变革的原因。(11分)
 - (3) 根据材料三并结合所学知识，说明新中国医疗卫生事业发展的意义。(6分)
42. 阅读材料，完成下列要求。(12分)

表3

章节	主要内容
第1章	早期工业化、近代工业化等概念解读
第2~6章	纺织业、食品工业、服装制作业、日用百货制造业、烟草加工业、造纸业与印刷业以及重工业（工具制造业与建材工业、造船业）的发展状况
第7~9章	早期工业化的能源与材料问题（动力、燃料、铁、木材）、原料输入与产品输出问题、人口与工业劳动力问题
第10章	工业发展的特点，即节能省材型的发展模式
第11章	英国模式与江南工业的发展，“资本主义萌芽”问题

表3为李伯重所著《明清时期江南的早期工业化（1550-1850）》一书的内容梗概。从其中提取信息，自拟论题，并结合所学知识予以阐述。（要求：写明论题，史论结合。）

文科综合 第13页(共16页)

(二) 选考题：共 25 分。请考生从 2 道地理选考题、3 道历史选考题中每科任选一题作答，并用 2B 铅笔将答题卡上所选题目对应的题号右侧方框涂黑，按所涂题号进行评分；多涂、多答，按所涂的首题进行评分；不涂，按本学科选考题的首题进行评分。

43. 【地理——选修 3：旅游地理】（10 分）

滦平县位于承德市西南部，素有北京北大门之称。“绿水青山就是金山银山”，滦平境内的林场、山地、河流以及各种珍稀野生动植物共同成就了滦平的自然之美。根祖文化、山戎文化、御道文化、使辽文化、红山文化皆根植于此，此外，滦平还是普通话之乡和世界文化遗产金山岭长城的所在地。2018 年 9 月滦平县举办首届滦平旅游文化节，并在此期间举行“长城论坛”、“金山夜话”等系列活动，探讨文旅融合给滦平县全域旅游发展带来的机遇和挑战。

说明滦平县文旅融合的基础条件，并阐述文旅融合对滦平县旅游发展的影响。

44. 【地理——选修 6：环境保护】（10 分）

近年来我国城市公共绿地建设进展迅速，但同时面临着枯枝落叶、杂草残花等园林绿化废弃物不断增多的困扰。上海市从本世纪初就开始了园林绿化废弃物资源化系统利用的实践探索，处理技术上主要采用粉碎、沤堆加工成绿化介质等。不过，好技术还没有结出丰硕果实。据不完全统计，2016 年上海全市产生各类园林绿化废弃物约 70 万吨，各类处置利用加工约 20 万吨。园林绿化废弃物处置生产要求有较大场地，粉碎时噪音较大，沤堆易产生异味，生产的绿化介质每立方米成本在 700 元以上，销售价却不到 400 元。

说明上海市园林绿化废弃物资源化利用面临的主要问题，并提出具体解决措施。

45. 【历史——选修1：历史上重大改革回眸】（15分）

材料 中国古代建筑以木质为主，消防安全是永恒话题。宋代城市火灾增多，故对消防制度进行了完善，除沿用唐代消防法规外，还制定了严密的防火措施，并在厢军中挑选精干军士，建制为专职消防机构——军巡铺。汴京城中，“每坊巷三百步许，有军巡铺房一所，铺兵五人”。军士训练严格，责任心强，主要任务是“夜间巡警”，消除火灾隐患。军巡铺还在“高处砖砌望火楼，楼上有人卓望”。一旦发生火灾，这些军士便立即携带灭火器具（如水袋、水囊、唧筒、麻搭等），奔赴失火地点；同时迅速上报，该地军政长官“各领军级扑灭”。在扑救中，各支部队配合密切，有的警戒弹压，维持秩序；有的救护，安置受伤居民；有的抢救财产；有的运水灭火。故而“每遇火发扑救，须臾便灭”“不劳百姓”。宋代对火灾肇事者的处理比较严厉，并且对失职官员予以治罪。

——摘编自庾晋《中国古代消防史话》

- (1) 根据材料并结合所学知识，概括宋代城市火灾增多的原因。（6分）
- (2) 根据材料并结合所学知识，说明宋代消防制度的特点。（9分）

46. 【历史——选修3：20世纪的战争与和平】（15分）

材料 1916年初，英德海军已进行了多轮海上霸权角逐。德方大洋舰队司令官决心打一场会战，摆脱英国海军封锁给德国海军造成的困境。而英方也想重创德国大洋舰队，然后全力对付德国潜艇。日德兰海战中，德军共击沉英军3艘战列巡洋舰、3艘巡洋舰和8艘驱逐舰，自己损失了2艘战列巡洋舰、4艘巡洋舰、4艘驱逐舰，取得了战术上的胜利。但是，英国海军成功地将德国海军封锁在港口，使其在战争后期毫无作为，从而赢得战略上的胜利。《纽约时报》对此评论说：“德国舰队攻击了它的牢狱看守，但仍然被关在牢中”。此后德国只能以潜水艇击沉舰艇，后发展为无限制潜艇战，“哪怕冒同美国作战的风险也罢”。英国海军无力摧毁德国海军，从而粉碎了协约国把波罗的海向俄国开放的一切希望。

——摘编自刘健军《回望世纪之战》

- (1) 根据材料并结合所学知识，说明日德兰海战的爆发是英德争夺海上霸权的必然结果。（6分）
- (2) 根据材料并结合所学知识，简析日德兰海战的影响。（9分）

47. 【历史——选修4：中外历史人物评说】（15分）

材料 20世纪20年代初，长江上驶过的船只几乎都挂着外国旗帜。卢作孚决心创办自己的航运公司，收回各国公司手里的内河航运权。1926年6月，卢作孚在重庆召开了民生公司的创立大会，确定公司的名称为“民生实业股份有限公司”，其宗旨是“服务社会，便利人群，开发产业，富强国家”。卢作孚信仰“三民主义”，“民生”这个词，就来源于孙中山的“民生主义”；而“实业”，即以发展祖国实业为目的的综合性事业。靠“艰苦创业，努力改进航运服务”，卢作孚由5万元资本、一条小火轮，发展到上亿元资本、140多艘江海轮船，逐步统一了川江航运，并在长江航运夺得优势。1938年初卢作孚担任交通部次长，负责战时全国水陆交通运输。在10月至11月的40天里，他率领民生公司抢运人员、物资、机关、科研单位、学校设备及若干文物撤向大后方，这一壮举被称为“宜昌大撤退”。

——摘编自刘重来《卢作孚与宜昌大撤退》

(1) 根据材料并结合所学知识，概括卢作孚创办民生公司的背景。(9分)

(2) 根据材料并结合所学知识，简要分析卢作孚实施宜昌大撤退的意义。(6分)

自主招生在线创始于 2014 年，是专注于自主招生、学科竞赛、全国高考的升学服务平台，旗下拥有网站和微信两大媒体矩阵，关注用户超百万，用户群体涵盖全国 90% 以上的重点中学老师、家长和考生，引起众多重点高校的关注。

如需第一时间获取相关资讯及备考指南，请关注自主招生在线官方微信号：**zizzsw**。



微信扫一扫，快速关注