

2024 届高三考试 文科综合试题

考生注意：

1. 本试卷分第Ⅰ卷(选择题)和第Ⅱ卷(非选择题)两部分,共 300 分。考试时间 150 分
2. 请将各题答案填写在答题卡上。
3. 本试卷主要考试内容:高考全部内容。

第Ⅰ卷 (选择题 共 140 分)

本卷共 35 小题,每小题 4 分,共 140 分。在每小题给出的四个选项中,只有一项是符合题目要求的。

合肥利用旧机场及周边用地成功申报第十四届中国国际园林博览会。园博园的规划保留了原机场跑道(百姓舞台展区),以城中国博、全城园博、城市更新、智慧园博、节约园博、永续园博为六大亮点,在园博会三个月的展期内承接展览,在园博会之后“留弹性,分步骤”开发文创产业。下图示意合肥园博园规划分区。据此完成 1~3 题。

1. 合肥园博园保留原机场跑道的主要目的是

- A. 满足应急交通需求
- B. 营造公共空间
- C. 恢复生态本色
- D. 推动产业更新




2. 对园博会展期间功能分区影响最小的因素是

- A. 交通组织
- B. 接待条件
- C. 景观美学
- D. 地租成本

3. “留弹性,分步骤”开发文创产业主要面向

- A. 百姓舞台展区
- B. 科技智慧展区
- C. 城市更新展区
- D. 生态园林展区

航运服务业是港口经济发展的重要驱动力,也是提升枢纽港口全球竞争力的核心要素。将作为“供应者”的船东、船舶管理、船舶修造行业划分为上游航运服务业,将作为“消费者”的航运金融、航运保险、海事法律行业划分为下游航运服务业。目前,全球上游航运服务业重心移向亚洲。下图示意 2019 年主要国家上、下游航运服务业占世界比重。据此完成 4~6 题。



【○高三文科综合 第 1 页(共 12 页)○】

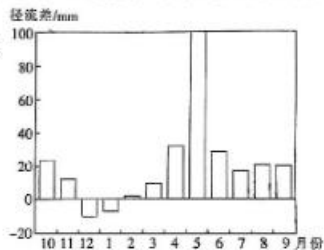
题
答
要
不
内
线
封
密



4. 推测全球航运服务业空间联系最密切的是
A. 欧洲—亚太地区 B. 南美洲—大洋洲 C. 非洲—亚太地区 D. 亚洲—非洲
5. 和其他国家相比,中国、西班牙和印度上、下游航运服务业的对比关系体现出这三个国家
A. 航海技术先进 B. 海事资金雄厚
C. 海上运输繁忙 D. 航运利润领先
6. 导致全球上游航运服务业重心移向亚洲的原因有
①新加坡为船舶维修行业减税 ②美国推行便利化船舶注册服务 ③中国积极发展航运金融、保险业 ④英国腾退低端小型船舶制造业
A. ①② B. ①④ C. ②③ D. ②④

西支溪和牧场溪都源于美国东北部佛蒙特州最高峰曼斯菲尔德山,流域自然环境相似,汇水面积相似。西支溪上游建有滑雪场,每年利用西支溪水进行人工造雪。下图示意西支溪与牧场溪流域出口的径流差。据此完成7~8题。

7. 5月西支溪与牧场溪流域出口径流差最大,主要是因
为西支溪流域5月
A. 大气降水较多
B. 下渗较强
C. 地表蒸发较弱
D. 积雪融水较多



8. 下列月份中,西支溪流域水污染最严重的是
A. 2月 B. 4月
C. 9月 D. 11月

梵净山地处云贵高原向湘西丘陵过渡地带,最高峰海拔2572 m,在特定的天气条件下能出现壮观的云海。下表示意2020年梵净山不同时段可观赏性云海出现频率。据此完成9~11题。

时间段/时	出现频率
0~4	13.1
4~8	29.7
8~12	24.4
12~16	5.2
16~20	11.1
20~24	16.5

9. 梵净山12~16时云海出现频率最低,主要原因是有较强的
①对流 ②风速 ③光照 ④蒸发
A. ①② B. ①④ C. ②③ D. ②④
10. 可提高云海出现频率的天气条件是
A. 持续阴天 B. 持续增温 C. 久旱初雨 D. 雨后初晴

【○高三文科综合 第2页(共12页)○】

11. 综合水汽条件和温度条件,推测梵净山云海出现频率最高的季节是
A. 春季 B. 夏季 C. 秋季 D. 冬季
12. 第三届中国国际消费品博览会作为“消费提振年”的重头戏,进一步擦亮“高新优特”消费精品的主题底色,来自 60 多个国家和地区的 3000 多个知名品牌,与超过 5 万名采购商促成各项交易与合作。举办中国国际消费品博览会的积极影响是
①优化消费供给,增强供给和需求的适配性 ②激发潜在消费需求,提升居民的生活品质
③促进产品价格竞争,提振消费者消费信心 ④推动消费观念更新,增强居民的消费能力
A. ①② B. ①③ C. ②④ D. ③④
13. 2023 年以来,S 市提出了一系列务实举措,多层次、大力度给予制造业企业支持。其中包括对在第一季度新增设备投资 3000 万元以上的制造业企业,按其投资额的 1% 给予资金奖励,单个企业最高可获得 100 万元。该政策产生影响的正确传导路径是
①扩大消费拉动经济增长
②城市就业容量增加
③企业生产规模扩大
④制造业企业增加设备采购
⑤促进居民获得稳定收入
A. ③→④→①→②→⑤ B. ④→③→②→⑤→①
C. ②→⑤→①→③→④ D. ④→③→①→②→⑤
14. 工业和信息化部等部门联合发布的《关于培育传统优势食品产区和地方特色食品产业的指导意见》提出,鼓励企业建立稳定的农产品原料供应基地,鼓励申报创建国家有机食品生产基地,鼓励企业与农产品原料种养殖户建立契约型、分红型、股权型等多种合作模式。三个“鼓励”的目的在于
①保障农产品原料供应链稳定,保障特色食品“原汁原味”
②促进乡村产业融合发展,让农民共享全产业链的增值收益
③扩大标准化种养殖产业建设,提升农产品的质量安全水平
④推动农村人居环境整体提升,助力乡村振兴和共同富裕
A. ①② B. ①④ C. ②③ D. ③④
15. 2023 年 4 月,欧洲飞机制造商空中客车(简称“空客”)宣布,与中国航空业合作伙伴签署新的合作协议,将在中国建设第二条生产线,拓展 A320 系列飞机的总装能力。2022 年,空客共向中国市场交付 112 架飞机,其中有 62 架飞机由空客中国分公司交付。空客在中国增加生产线的考量主要是
①中国政府鼓励国内飞机制造企业提升技术水平,推动产业升级
②可以更好满足中国市场用户需求,扩大其在中国的市场份额
③可以获得更多中国技术支持,提高自身的制造水平和品牌价值
④利用中国成熟的产业链、供应链,可以提高生产效率、降低成本
A. ①② B. ①③ C. ②④ D. ③④
16. 某镇人大组织人大代表利用休渔期到渔船听取渔民意见,并将人大代表根据收集到的渔民意见提出的《关于整治城乡环境,做好日常长效管理的建议》及时转交到镇政府。镇政府进行专题研究后持续开展整治镇区“六乱”(乱堆乱放、乱倒乱扔、乱搭乱建)行动,得到了人大

【高三文科综合 第 3 页(共 12 页)】



- 代表和广大群众的赞扬。该镇做法的有益经验是
- ①落实全过程人民民主理念,提升政府的施政水平
 - ②坚持问需于民、问计于民,增强人大决策的实效
 - ③发挥人大代表桥梁作用,推动政府加强生态建设
 - ④畅通社情民意反馈渠道,完善协商议政内容和形式
- A. ①③ B. ①④ C. ②③ D. ②④
17. 近年来,某县司法局坚持把优质法律服务送到百姓身边,率先推出“民商事纠纷中立评估机制”,温和而迅速地化解矛盾纠纷;研发首个区块链存证平台——“存证”App,让侵权取证有了“保险箱”……可见,该县司法局
- ①创新公共法律服务方式,打造便民利民政府
 - ②深入推进公正司法,坚持人民司法为人民
 - ③依靠数字技术手段,全面推进政务公开
 - ④完善矛盾纠纷化解机制,提高社会治理效能
- A. ①③ B. ①④ C. ②③ D. ②④
18. 当今世界变乱交织,百年变局加速演进,人类社会面临前所未有的挑战。团结还是分裂?和平还是冲突?合作还是对抗?再次成为时代之问。2023年7月,国家主席习近平以视频方式出席上海合作组织峰会时给出的回答是:“各国人民对美好生活的向往就是我们的追求,和平、发展、合作、共赢的时代潮流不可阻挡。”为此,上海合作组织各成员国应当
- ①顺应时代主题变化,为维护世界和平发展贡献力量
 - ②以对话消弭彼此分歧,坚定支持彼此实现发展振兴
 - ③以相互合作取代竞争,维护和实现各国人民的利益
 - ④弘扬全人类共同价值,推动构建人类命运共同体
- A. ①② B. ①③ C. ②④ D. ③④
19. 几百年来,对苏东坡传奇人生和其作品的研究热度不减。当代,舞蹈、京剧、动画片、电视剧等关于苏东坡题材的文艺作品大量涌现,东坡文化节、东坡文化旅游大会等各种苏东坡主题文化活动也在各地纷纷登场。这表明
- ①文化对人的影响往往发生在潜移默化过程之中
 - ②文化传承与发展需要借助一定的载体才能实现
 - ③优秀传统文化因创新能够更好地得到继承和弘扬
 - ④传统习俗能对人的精神生活产生深远持久的影响
- A. ①② B. ①④ C. ②③ D. ③④
20. 历史不会忘记,是7万群众10年艰辛的付出,修成了红旗渠;是几代林场人,将塞罕坝从荒漠变成了森林;是成千上万怀揣梦想的创业者,将南海边的那个“圈”变成了世界瞩目的经济特区;是勤劳勇敢的中国人民用奋斗创造了一个又一个彪炳史册的人间奇迹,让世界惊叹中国一天一个模样……这印证了
- ①弘扬以爱国主义为核心的时代精神有利于增强综合国力
 - ②中华民族的创造力和凝聚力熔铸在中华文化的力量之中
 - ③伟大中华民族精神是激励中国人民追梦圆梦的精神支撑
 - ④中华民族精神具有凝聚民族力量、展示民族形象的功能
- A. ①② B. ①③ C. ②④ D. ③④

【高三文科综合 第4页(共12页)】

密封线
内
不
要
答
题



21. 唐代酒香盛饮,在文人的推动下,酒之风升华至文化层面,开始与诗书画等艺术结合,并个性化、定格于长沙窑瓷器。与酒相关的诗文在长沙窑瓷中着墨颇多,人们以酒为媒,言志抒怀如“春水春池满,春时春草生。春人饮春酒,春鸟弄春声”。从这些诗中也可一窥唐代饮酒之风的盛行。由此可知

- ①诗词创作者的主观情感与所处时代的生活相互依存
- ②长沙窑瓷器独特特色得益于意识活动的主动创造性
- ③长沙窑瓷器是客观物质和人的主观情感的有机结合
- ④人们可以根据自己的意志对外界事物作出如实反映

A. ①② B. ①④ C. ②③ D. ③④

22. 蜘蛛丝是自然界最坚固的材料之一。人造蜘蛛丝有不同的方法,但是所合成的材料难以规模化生产。目前,中国科学家找到了一种增强蚕丝性能、生产可以赢利的高性能人造丝的新方法:先将它溶解在碳酸钠或木瓜蛋白酶中,然后再将其放入糖、乙醇以及锌和铁离子的溶液中纺成丝。新的研究成果佐证了

- ①客观事物的发展离不开人类实践活动的积极参与
- ②达成人类实践活动的目的需要把握联系的多样性
- ③人们有意识构建的新联系比原有的联系更具价值
- ④只有把握事物的本质联系才能够推动事物的发展

A. ①③ B. ①④ C. ②③ D. ②④

23. 近年来,商用密码应用愈发广泛。为更好顺应数字经济快速发展趋势,建立健全商用密码科技创新促进机制,推动商用密码科技成果转化和产业化应用,促进商用密码市场持续健康发展,2023年4月,国务院常务会议审议通过《商用密码管理条例(修订草案)》,进一步规范商用密码应用和管理。修订该条例蕴含的哲学道理是

- ①经济基础的运动变化迟早会引起上层建筑的变化
- ②只有变革和完善上层建筑才能解决社会基本矛盾
- ③实践基础上的制度创新是社会发展和变革的先导
- ④价值判断和价值选择会影响人们改造世界的活动

A. ①③ B. ①④ C. ②③ D. ②④

24. 下表所示是部分东汉文人对屈原作品的评价。这反映出

论述	出处
“然其文弘博丽雅,为辞赋宗,后世莫不斟酌其英华,则象其从容”	[东汉]班固《高士传》
“屈原之词(辞),诚博远矣。自终没以来,名儒博达之士,游进词赋,莫不祖则其仪表,祖式其模范”	[东汉]王逸《楚辞章句序》

- A. 楚辞对后代文学有重要影响
- B. 汉赋表现手法受到广泛质疑
- C. 楚辞创作重视社会教化功能
- D. 屈原作品蕴含现实主义精神

25. 《汉书》记载,颍川太守黄霸以“户口岁增,治为天下第一”,“征守京兆尹,秩二千石”。《后汉书》记载,丹阳太守李忠“三公奏课为天下第一,迁豫章太守”。《东海郡下辖长吏名籍》记载了东海郡109个长吏的升迁情况,其中有70人升迁与黄霸、李忠相类。这可用于说明当时

- A. 察举制逐渐被时代淘汰
- B. 官吏选拔程序日趋规范
- C. 贵族政治退出历史舞台
- D. 政府重视社会经济发展

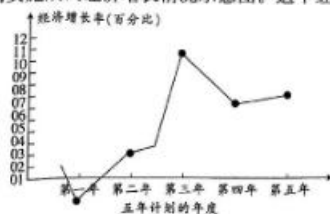
【○高三文科综合 第5页(共12页)○】




26. 天宝年间(742—756年),唐朝耕地面积达到八百五十万顷,粮食产量也有所提高。天宝八年(749年),官仓存粮达九千六百万石。长安、洛阳米价最低时每斗仅十三文。据此可知,当时
- A. 农产品商品化程度较高
B. 盛世局面得以开创
C. 生产力水平得到了提高
D. 农业耕作技术成熟
27. 乾隆四十五年(1780年),广州行商(是清政府指定对外贸易的商业组织,享有专营权)颜时英、张天球欠英商债务无法清偿,官府遂将两人所有家产抵清债务,其不足部分“着落联名具保商人潘文岩等分作十年清还”。嘉庆二十五年(1820年),两广总督奏称“统计前后倒闭五行,拖欠、夷欠共二百六十余万两,均归现开各行摊赔清楚”。这表明广州行商
- A. 经营管理体制变革势在必行
B. 已成为朝廷统制外贸的工具
C. 受到西方商品倾销强烈冲击
D. 资本积累不足问题普遍存在
28. 下表所示为 1843 年中英协定关税前后主要进口货物新旧税率(单位:%)水准。据此可知,当时

货物	单位	1843 年前的旧税率	1843 年新税率	新税率旧税率减少百分数
棉花	担	24.19	5.56	77.02
棉花	担	13.38	5.56	58.45
头等白布	匹	29.93	6.95	76.78
二等白洋布	匹	32.53	6.95	78.64
本色洋布	匹	20.74	5.56	73.19
斜纹布	匹	14.92	5.56	62.73

- A. 中国贸易逆差得以扭转
B. 民族工业获得了发展契机
C. 西方列强资本输出加剧
D. 中国经济逐步半殖民地化
29. 1919年10月,蔡元培说:“我们既然认为旧的亦是文明,要在他里面寻出与现代科学精神不相冲突的,非不可能。”这表明蔡元培
- A. 质疑西方科学文化的进步性
B. 反思新文化运动的局限性
C. 强调宣传“德先生”的重要性
D. 意识到中西文化贯通的紧迫性
30. 1947年9月,周恩来在陕北转战中说道:“举行大反攻,国内条件都成熟了,再从国际形势看,许可不许可? 关起门来计算可以有把握,但是美国人来了怎么办? 对这个问题,我们要看世界大势……美国不可能用原子弹来对付农民战争……总之,我们打倒蒋介石是有把握的。”据此可知
- A. 国共两党军事力量发生逆转
B. 国共关系深受国际局势的影响
C. 美苏冷战影响中国政局走向
D. 中国共产党战略决断准确及时
31. 下图是我国某五年计划实施期间经济增长情况示意图。这个经济发展计划应是



【高三文科综合 第6页(共12页)】

- A. “一五”计划(1953—1957) B. “二五”计划(1958—1962)
C. “五五”计划(1976—1980) D. “九五”计划(1996—2000)
32. 在梭伦改革时期,雅典非常重视引进域外优秀人才,到伯里克利时期,更是以海纳百川之势,吸引着周边国家或地区的人们来雅典学习和交流文化科学知识,如阿那克萨哥那、德谟克里特、普罗塔戈拉、希罗多德、品达等文化名人均来自外邦。这些做法
- A. 加速了域外文明成就的推广应用
B. 削弱了古代雅典民主政治的基础
C. 助推了古代希腊文明发展的辉煌
D. 引发了古代雅典学校的普遍建立
33. 1871年,马克思发文指出法国无产阶级革命是资本主义社会基本矛盾发展的必然结果,它是在1866—1867年世界性资本主义危机的冲击,以及路易·波拿巴(拿破仑三世)穷兵黩武对外扩张政策连续失败的条件下发生的。在此,马克思
- A. 否定了巴黎公社的社会主义性质 B. 认为巴黎公社只是一个偶发事件
C. 看到巴黎公社代表工人农民利益 D. 指出了巴黎公社发生的社会条件
34. 右图为法国画家雷诺阿于1874—1876年创作的油画《读书的女子》。
- 
- 画面中耀眼的光线斜射过来,在女主人头上洒了一层赤金,红棕色的发髻和白皙的面颊朦胧得失去了轮廓,而她娇艳的唇唇则越发醒目,背景的幽蓝平衡了色彩,更增添几分优雅。据此可知,该画派
- A. 忠实于对内心感受的描绘
B. 狂热地追求理想世界
C. 热衷于描绘光和色的变化
D. 追求画面的严整和谐
35. 1980年之后,欧共体国家的经济增长波动幅度差距逐渐缩小(爱尔兰除外),特别是20世纪90年代之后这种趋势更为显著,欧盟成员国经济增长的同步性明显增强。这说明
- A. 欧洲国家间经济联系日益密切 B. 货币统一推动了欧洲经济的交流
C. 经济区域集团化趋势逐步加强 D. 合作缩小了西欧国家间经济差距

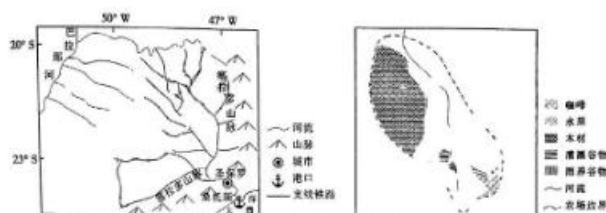
第Ⅱ卷 (非选择题 共160分)

本卷包括必考题和选考题两部分。第36题~第42题为必考题,每个试题考生都必须作答。第43题~第47题为选考题,考生根据要求作答。

36. 阅读图文材料,完成下列要求。(24分)

18世纪中叶,巴西圣保罗到桑托斯一带兴起咖啡种植,咖啡生豆主要通过桑托斯港口出口到欧洲市场。19世纪初期,咖啡种植区逐渐越过塞拉多山脉,人们在塞拉多山脉西北侧的广大丘陵地区兴建农场,丘陵农场主要种植咖啡,兼营木材、水果、粮食作物等,咖啡树通常与河流保持一定距离。1867年,圣保罗铁路公司在丘陵地区布局窄轨铁路,丘陵农场的咖啡生豆通过密集的支线铁路向桑托斯港口运输,促进了以咖啡种植为主的丘陵农场扩张。20世纪后期,丘陵农场开始转型,兴起咖啡豆加工厂。虽然咖啡种植规模在扩大,但运输点减少,多数支线铁路濒临废弃。下列左图示意丘陵地区铁路的分布,右图示意历史上某典型丘陵农场的布局。

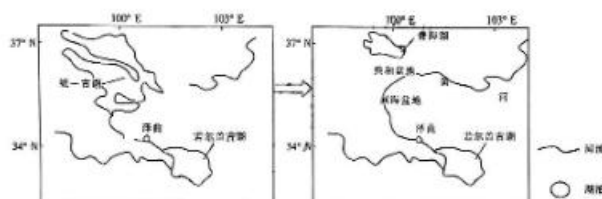
【〇高三文科综合 第7页(共12页)〇】



- (1) 简述推动巴西咖啡种植区越过塞拉多山脉的主要因素。(6分)
- (2) 分析丘陵农场的咖啡树与河流保持一定距离的原因。(6分)
- (3) 说明以咖啡种植为主的丘陵农场扩张对桑托斯港口的影响。(6分)
- (4) 咖啡种植规模扩大,但多数支线铁路濒临废弃,对此做出合理的解释。(6分)

17. 阅读图文材料,完成下列要求。(22分)

青海湖盆地、共和盆地、兴海盆地曾经发育统一古湖。随着地壳抬升,降曲附近河流竞夺致统一古湖水系与若尔盖古湖水系贯通,统一古湖下游的黄河也上溯进入共和盆地,之后统一古湖萎缩,最终演化出现代黄河源区水系的雏形。下图示意泽曲附近贯通前后的水系状态。

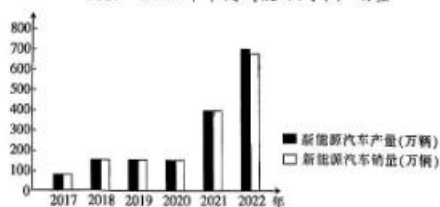


- (1) 描述河湖共存阶段统一古湖的形态特征。(6分)
- (2) 简述泽曲附近实现水系贯通的自然条件。(6分)
- (3) 分析统一古湖萎缩的原因。(6分)
- (4) 指出科考小组在该区域可能找到的佐证水系演化史的其他地貌证据。(4分)

38. 阅读材料,完成下列要求。(14分)

材料一

2017~2022年中国新能源汽车产销量



注:在政策和市场的双重作用下,2022年我国新能源汽车产销同比分别增长96.9%和93.4%,连续8年位居全球第一。新能源汽车的市场占有率达到25.5%,高于2021年12.1个百分点。

【高三文科综合 第8页(共12页)】

自主选拔在线
zizzs.com

密封线内不要答题

自主选拔在线
zizzs.com

自主选拔在线
微信号: zizzs_w

材料二

我国新能源汽车产业抓住了汽车产业低碳转型的重要时机,经过近10年的努力,已经形成高效、完备的新能源汽车供应链,新能源汽车充电基础设施快速发展,我国已拥有十几家知名的新能源汽车厂家、数百款新能源汽车产品。2022年中国新能源汽车销量达688.7万辆,新能源汽车已占到汽车新车总量的1/4以上。

(1)解读材料一反映的经济信息。(4分)

(2)有人认为,我国新能源汽车产业的发展,会引发燃油汽车企业倒闭潮,不利于经济发展。

结合材料一和材料二,运用经济生活知识评析该观点。(10分)

39. 阅读材料,完成下列要求。(12分)

2003年,时任浙江省委书记的习近平同志在广泛深入调查研究的基础上,作出了实施“千万工程”的战略决策——在浙江近4万个村庄中选择1万个左右行政村进行全面整治,把其中1000个左右的中心村建设成全面小康示范村,并以此为龙头,深入推进社会主义新农村建设。20年来,浙江持之以恒,造就了万千美丽乡村。“千万工程”实施过程中,浙江省形成了党政“一把手”亲自抓、分管领导直接抓、一级抓一级、层层抓落实的工作推进机制。省级财政设立专项资金、市级财政配套补助、县级财政纳入年度预算,做到真金白银投入。各地建设“百姓议事会”“道德评议团”等基层治理载体,创设“河小二”“池大爷”“塘大妈”等岗位,形成“幸福积分制”“垃圾分类积分制”等激励机制,涌现出把绿水青山转化为金山银山的典型安吉县余村等各具特色的典型案例。

2023年6月,农业农村部等部门印发《关于有力有序有效推广浙江“千万工程”经验的指导意见》,全面推进乡村振兴,着力补齐中国式现代化短板。

结合材料,运用政治生活知识,阐述浙江省“千万工程”的成功经验。

40. 阅读材料,完成下列要求。(26分)

2023年6月,习近平总书记在文化传承发展座谈会上指出,中华文明具有突出的包容性,从根本上决定了中华民族交往交流交融的历史取向。

中华文明自古就以开放包容闻名于世,从“洛阳家家学胡乐”到“万里羌人尽汉歌”,从边疆民族习用“上衣下裳”到中原盛行“上衣下裤”,我国各民族始终在文化上相互尊重、相互借鉴。与此同时,中华文明始终以开放胸怀同世界其他文明开展交流互鉴。从历史上的佛教东传、“伊儒会通”,到近代以来的“西学东渐”、新文化运动、马克思主义和社会主义思想传入中国,再到改革开放以来中国全方位对外开放,中华文明始终在兼收并蓄中历久弥新。

新时代中国,不断从中华民族5000多年文明史中汲取智慧力量,探索出一条美美与共的文明之路,让各国文明在交流互鉴中熠熠生辉。从推动构建人类命运共同体,到高质量共建“一带一路”,再到提出全球发展倡议、全球安全倡议、全球文明倡议,新时代中国所倡导的和平、发展、公平、正义、民主、自由全人类共同价值,彰显着“不同”与“大同”的辩证智慧。

(1)结合材料,运用文化生活知识,分析中华文明具有突出包容性的重要意义。(10分)

(2)新时代中国所倡导的全人类共同价值彰显了“不同”与“大同”的辩证智慧。结合材料,运用矛盾的普遍性和特殊性辩证关系原理对此加以说明。(12分)

(3)请就新时代青年如何为促进中外文化交流作出贡献提出两点建议。(4分)



41. 阅读材料,完成下列要求。(25分)

材料一

普法战争后,为了实现国家军事崛起,民族复兴,法兰西第三共和国政府在初等学校大力开展军事教育,以培养未来的“公民战士”。教育部携手军方和各民间组织,帮助初等学校开展体育和军事教育。初等学校努力结合各门课程各自的学科特点,与体育课共同构建起一个多学科渗透的军事爱国主义教育体系,为法兰西民族在身心上双重实现“民族新生”,以及为法兰西民族国家的建构提供了助力。

——摘编自曾晓阳《民族复兴视域下的近代法国初等学校军事教育》

材料二

始于清末的军国民教育思想是对近代国际军国民教育思潮的主动适应与学习。它顺应了当时中国人急图救亡的政治需求,得到了以梁启超为代表的维新派的大力倡导。其重要内容包括在各级各类学校中普及军事知识的教育和军事技能的训练,重视学校体育,改善学生体质,使之德智体全面发展。同时,大力宣传武人战功,进行爱国的高武教育,以培养国民的民族观念和爱国精神。

——摘编自韩玉霞《清末民初的军国民教育》

材料三

1985年,教育部、总参谋部在全国普通高校开展军事训练试点,要求将“军事课”纳入学校教学计划,通过军事训练教学对大学生实施国防教育,并取得了一定成效。2001年起,“军事课”在普通高校由试点转为全面展开,经过多年的发展建设,“军事课”作为普通高等学校的一门素质类课程,在加强大学生思想政治教育,提高大学生综合素质等方面起到了重要作用。

——摘编自程建《浅析普通高校开设“国防教育课程”相关问题研究》

- (1)根据材料一并结合所学知识,概括普法战争结束后法国初等学校军事教育的主要特点及其意义。(11分)
- (2)根据材料二并结合所学知识,指出与近代法国相比,清末军国民教育的不同之处,并分析导致不同的原因。(10分)
- (3)综合以上材料并结合所学知识,谈谈你对学校军事教育的认识。(4分)

42. 阅读材料,完成下列要求。(12分)

材料

解读史料,获得历史认识,探寻史料表象背后的意蕴,是历史学的魅力所在。下表摘自史书所载魏晋南北朝时期重要历史人物的事迹。

重要帝王	事迹摘选
前赵开国君主匈奴族刘渊	永嘉二年(308年),元海(刘渊的字)僭即皇帝位,大赦境内,改元永风。以其大将军刘和为大司马,封梁王;尚书令刘欢乐为大司徒,封陈留王;御史大夫呼延翼为大司空,封雁州郡公;宗室以亲疏为等,悉封郡县王,异姓以勤谋为差,皆封郡县公侯

续表

重要帝王	事迹概述
后赵开国君主 羯族石勒	大兴二年(319年),勒伪称赵王……依春秋列国、汉初侯王每世称元,改称赵王元年。……遣使循行州郡,劝课农桑。……今(令)群僚及州郡岁各举秀才、至孝、廉清、贤良、直言、武勇之士各一人。置署都从事各一部一州,秩二千石,职准丞相司直
前燕开国君主 鲜卑族慕容皝	皝于是以咸康三年(337年)僭即王位,赦其境内。……皝乃令曰:“然则农者,国之本也……《诗》不云乎:‘无言不酬。’其赐钱五万,明宣内外,有欲陈孤(君主自称)过者,不拘贵贱,勿有所讳”
前秦君主氏族 苻坚	以升平元年(357年)僭称大秦天王……赦其境内,改元曰永兴。……从祖叔为太尉,从兄柳为车骑大将军、尚书令……礼神祇,课农桑,立学校,蠲寡孤独高年不自存者,赐谷帛有差,其殊才异行、孝友忠义、德业可称者,令在所以闻

——据《晋书》等整理

阐述从上述材料中发现的历史现象,并得出一个结论。(要求:现象源自材料,阐述史论结合,结论明确,表述清晰。)

请考生从2道地理选考题、3道历史选考题中每科任选一题作答。如果多做,则每科按所做的第一题计分。

43. [地理——选修3:旅游地理](10分)

希腊塞萨洛尼基市的阿里斯特拉蒂洞穴自2021年引入洞穴机器人导游以来,游客数量增长70%。洞穴机器人导游可以用33种语言引导游客进行部分游览,并以三种语言与游客进行基本互动。通过高精度的定位,机器人的活动范围限定在洞穴向公众开放的部分。右图示意阿里斯特拉蒂洞穴机器人导游的工作场景。



分析使用洞穴机器人导游对改善游客旅游体验的意义。

44. [地理——选修6:环境保护](10分)

“千村示范、万村整治”工程,简称“千万工程”,是浙江“绿水青山就是金山银山”理念在基层农村的成功实践。“千万工程”从人居环境整治切入,逐渐向外扩展、延伸和迭代,深刻重塑了人与自然关系、城市与乡村关系、经济发展与环境保护关系,促进了美丽生态、美丽经济和美好生活有机融合,成效显著,影响深远,对未来乡村的建设、经营、发展和治理有着十分重要的指导意义。2023年国家印发《关于有力有序推进浙江“千万工程”经验的指导意见》,旨在进一步在有条件的地方有力有序推进浙江“千万工程”经验。

从农村环境污染治理的角度,说明“千村示范、万村整治”工程可能采取的具体措施。

45. [历史——选修1:历史上重大改革回眸](15分)

材料

1952年6月,中共中央决定在国家工作人员范围内实施公费医疗制度。该制度实行辖区管理,“一般由区县政府统筹、审核和监督使用各单位的公费医疗经费”。公费医疗保障的

【○高三文科综合 第11页(共12页)○】

主要对象是国家机关和事业单位工作人员、离退休人员,二等乙级以上革命残废军人,高校在校学生。与此同时,根据1949年《中国人民政治协商会议共同纲领》“逐步实行劳动保险制度”的规定,针对城市企业职工,国家颁布了《中华人民共和国劳动保险条例》,确立了劳保医疗制度,以解决工人的医疗保健问题。这种初级水平的医疗保障制度使得城镇劳动者第一次真正享受到基本医疗服务的待遇。但在整个计划经济时期,我国城镇医疗保障也没有实现全覆盖,享有医保的城镇人口很可能在70%左右。

——摘编自邹长青、田月等《中国医疗保障制度发展的历史演进(1949—1978年)——兼论医疗保障政策史》

- (1)根据材料,概括新中国医疗保障制度的特点。(7分)
(2)根据材料并结合所学知识,简析新中国成立初期实施医疗保障制度的意义。(8分)

46. [历史——选修3:20世纪的战争与和平](15分)

材料

英国外交大臣张伯伦在将1932年的国际形势与洛迦诺时代的国际形势进行比较后说:由于某种原因,由于某种难以确切指出的东西,世界近两年正在倒退。各国相互之间非但没有更加接近,非但没有提高友好的程度,非但没有在向稳定的和平迈进,反而还采取了危及世界和平的猜疑、恐惧和威胁的态度。“经济上的独立”即经济上的自给自足逐渐成为一个公认的民族目标。始于1932年2月的裁军会议断断续续地开了20个月,但却与经济会议一样没有取得任何成效。随着20世纪30年代的渐渐逝去,各国都将越来越多的力量用于重整军备。引起张伯伦于1932年所说的“猜疑”、“恐惧”和“倒退”的各种势力的结合就是这样的存在。随后的几年中,这些势力完全破坏了已于20世纪20年代达成的和解,促成了一个又一个危机,最终导致第二次世界大战。

——摘编自[美]斯塔夫里阿诺斯《全球通史》

- (1)根据材料并结合所学知识,简析20世纪30年代国际形势。(6分)
(2)根据材料并结合所学知识,说明20世纪30年代国际形势出现的原因。(9分)

47. [历史——选修4:中外历史人物评说](15分)

材料

陈确(1604—1677)是明清之际的理学家,提倡经世实学,对农业有一定的关注。他认为:“人之所以异于禽兽者,农焉而已矣”,“士力学,农力耕,二者皆本务也”。他将形而上的“天理”裁之于具体的家庭日用,遵从耕读传统,强调农业是治生的根本途径。鉴于水利在农业发展中的重要性,陈确积极向当政者呼吁兴修水利,并以人之疾病为喻,认为兴修水利要及早而行,方可减少水利设施修筑的难度。在对农民面临的生产环境、赋税压力以及自然灾害等方面的困难给予关注的同时,他指出:“族葬不限世数,子孙昭穆置穴,地尽斯止。计三亩之坟,便可葬百棺。”

——摘编自李志坚《陈确的农学思想》

- (1)根据材料,概括陈确的农业思想。(6分)
(2)根据材料并结合所学知识,分析陈确农学思想产生的背景。(9分)

【高三文科综合 第12页(共12页)】

密封线内不要答题

关于我们

自主选拔在线是致力于提供新高考生涯规划、强基计划、综合评价、三位一体、学科竞赛等政策资讯的升学服务平台。总部坐落于北京,旗下拥有网站(网址:www.zizzs.com)和微信公众平台等媒体矩阵,用户群体涵盖全国90%以上的重点中学师生及家长,在全国新高考、自主选拔领域首屈一指。

如需第一时间获取相关资讯及备考指南,请关注自主选拔在线官方微信号: [zizzsw](https://www.zizzs.com)。



微信搜一搜

Q 自主选拔在线

