

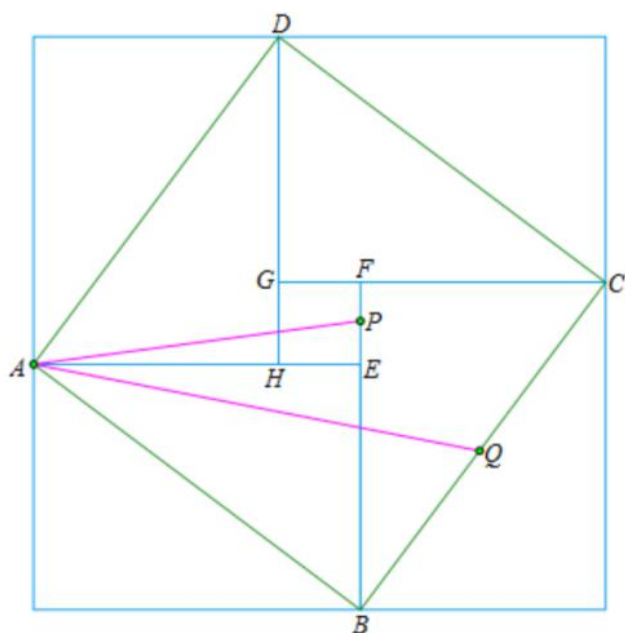
苏锡常镇二模试卷

2021.5.4

1. 若 $a \in \mathbf{R}$, 则“ $a=2$ ”是“复数 $z=2-ai$ 的模为 $2\sqrt{2}$ ”(i 为虚数单位)的
- A. 充分不必要条件 B. 必要不充分条件
C. 充要条件 D. 既不充分也不必要条件
2. 若集合 $A=\{x|y=\sqrt{2-x}\}$, $B=\{y|y=2^x\}$, 则 $A \cap B =$
- A. $(-\infty, 2]$ B. $[2, +\infty)$ C. $(0, 2]$ D. $[0, 2]$
3. 从标有 1,2,3,4,5,6 的 6 张卡片中,不放回地随机抽取两次,每次抽取一张. “在第一次抽到标号是 4 的条件下,第二次抽到的标号是奇数”的概率为
- A. $\frac{3}{5}$ B. $\frac{1}{2}$ C. $\frac{1}{10}$ D. $\frac{1}{12}$
4. 已知椭圆 $E: \frac{x^2}{a^2} + \frac{y^2}{b^2} = 1 (a > b > 0)$ 的右焦点为 F_2 , 左顶点为 A_1 , 若 E 上的点 P 满足 $PF_2 \perp x$ 轴, $\sin \angle PA_1F_2 = \frac{3}{5}$, 则 E 的离心率为
- A. $\frac{1}{2}$ B. $\frac{2}{5}$ C. $\frac{1}{4}$ D. $\frac{1}{5}$
5. 已知 $a = \sin 1, b = \sin 1$, 则下列不等式正确的是
- A. $\log_a b < a^b < b^a$ B. $\log_a b < b^a < a^b$
C. $a^b < b^a < \log_a b$ D. $b^a < a^b < \log_a b$
6. 已知 $3\sin\left(\alpha - \frac{\pi}{6}\right) = \sin\left(\alpha + \frac{\pi}{6}\right)$, 则 $\cos 2\alpha =$
- A. $\frac{1}{7}$ B. $-\frac{1}{7}$ C. $\frac{11}{13}$ D. $-\frac{11}{13}$

7. 我国汉代数学家赵爽为了证明勾股定理,创制了一幅“弦图”,它由四个全等的直角三角形和一个正方形所构成(如图),后人称其为“赵爽弦图”,在直角三角形 CGD 中,已知 $GC=4, GD=3$,在线段 EF 上任取一点 P ,线段 BC 上任取一点 Q ,则 $\overline{AP} \cdot \overline{AQ}$ 的最大值为

- A. 25 B. 27 C. 29 D. 31



8. 已知函数 $f(x) = x^2 - \frac{2x^2}{3^x + 1} + 1$. 若存在 $m \in (1, 4)$ 使得不等式 $f(4 - ma) + f(m^2 + 3m) > 2$ 成立,则实数 a 的取值范围是

- A. $(-\infty, 7)$ B. $(-\infty, 7]$ C. $(-\infty, 8)$ D. $(-\infty, 8]$



二、选择题：本题共 4 小题,每小题 5 分,共 20 分. 在每小题给出的选项中,有多项符合题目要求. 全部选对的得 5 分,部分选对的得 2 分,有选错的得 0 分.

9. 某中学为了研究高三年级学生的身高和性别的相关性问题,从高三年级 800 名学生中随机抽取 200 名学生测量身高,测量数据的列联表如下:

单位: 人

| 性别 | 身高 | | 合计 |
|----|----------|-----------|-----|
| | 低于 170cm | 不低于 170cm | |
| 女 | 80 | 16 | 96 |
| 男 | 20 | 84 | 104 |
| 合计 | 100 | 100 | 200 |

下列说法正确的有

- A. 从列联表可以判断该样本是由分层抽样而得
- B. 从列联表可以看出该中学高三学生身高最高的是男生
- C. 有 99. 9%的把握认为该中学高三学生的身高与性别有关联
- D. 若该样本中男生身高 h (单位: cm)服从正态分布 $N(175,25)$,则该样本中身高在区间 $(175,180]$

内的男生超过 30 人

附 1: $\chi^2 = \frac{n(ad-bc)^2}{(a+b)(c+d)(a+c)(b+d)}$ (其中 $n = a+b+c+d$).

临界值表:

| | | | | | | | |
|----------------------|-------|-------|-------|-------|-------|-------|--------|
| $P(\chi^2 \geq x_0)$ | 0.15 | 0.10 | 0.05 | 0.025 | 0.010 | 0.005 | 0.001 |
| x_0 | 2.072 | 2.706 | 3.841 | 5.024 | 6.635 | 7.879 | 10.828 |

附 2: 若 $X \sim N(\mu, \sigma^2)$,则随机变量 X 取值落在区间 $(\mu - \sigma, \mu + \sigma)$ 上的概率约为 68. 3%.

10. 在数学发展史上,曾经定义过下列两种函数: $1 - \cos\theta$ 称为角 θ 的正矢,记作 $\text{versin}\theta$; $1 - \sin\theta$ 称为角 θ 的余矢,记作 $\text{coversin}\theta$. 则

A. $\text{versin}\frac{2021\pi}{6} = \frac{3}{2}$

B. 函数 $f(\theta) = \text{versin}\theta \cdot \text{coversin}\theta$ 的最大值为 $\frac{3+2\sqrt{2}}{2}$

C. 存在一个 θ , 使得函数 $f(\theta) = \text{versin}\theta - \text{coversin}\theta$ 的值为 $\frac{3}{2}$

D. 将函数 $f(\theta) = \text{coversin}\theta$ 的图象向左平移 $\frac{\pi}{2}$ 个单位后,可得到函数 $g(\theta) = \text{versin}\theta$ 的图象

11. 已知正四棱柱 $ABCD - A_1B_1C_1D_1$ 的底面边长为 1,侧棱长为 2,点 M 为侧棱 CC_1 上的动点, $AM \perp$ 平面 α . 下列说法正确的有

A. 异面直线 AM 与 B_1C 可能垂直

B. 直线 BC 与平面 α 不可能垂直

C. AB 与平面 α 所成角的正弦值的范围为 $(0, \frac{\sqrt{2}}{2}]$

D. 若 $M \in a$ 且 $CM = MC_1$, 则平面 α 截正四棱柱所得截面多边形的周长为 $3\sqrt{2}$

12. 已知函数 $f(x)$ 的定义域为 \mathbf{R} , 且在 \mathbf{R} 上可导, 其导函数记为 $f'(x)$. 下列命题正确的有

A. 若函数 $f(x)$ 是奇函数, 则 $f'(x)$ 是偶函数

B. 若函数 $f'(x)$ 是偶函数, 则 $f(x)$ 是奇函数

C. 若函数 $f(x)$ 是周期函数, 则 $f'(x)$ 也是周期函数

D. 若函数 $f'(x)$ 是周期函数, 则 $f(x)$ 也是周期函数



三、填空题：本题共 4 小题,每小题 5 分,共 20 分. 请将答案填写在答题卡相应的位置上.

13. 已知抛物线 $y^2 = 2px (p > 0)$ 的焦点为 F , 点 $A(0, 2)$. 若线段 FA 的中点 B 在抛物线上, 则 p 的值为 ▲.

14. 已知等差数列 $\{a_n\}$ 的首项为 a , 公差为 b (其中 $a, b \in \mathbf{N}^*$), 且 $a_2 < ab < a_3$, 写出一个满足条件的数列 $\{a_n\}$ 的通项公式: ▲.

15. 已知平面向量 a, b, c 满足 $|b|=|c|=1, |b-c|=\sqrt{3}, 2a \cdot b = a \cdot c = 1$, 则 b 与 c 的夹角为: ▲; $|a|$ 等于 ▲. (第一空 2 分, 第二空 3 分)

16. 一个组合体由上下两部分组成, 上部是一个半球, 下部是一个圆柱, 半球的底面与圆柱的上底面重合. 若该组合体的体积为定值 V , 则当圆柱底面半径 $r =$ ▲ 时, 该组合体的表面积最小.

四、解答题：本题共 6 小题,共 70 分. 解答应写出文字说明、证明过程或演算步骤.

17. (本小题满分 10 分)

在 ΔABC 中, a, b, c 分别为内角 A, B, C 的对边, 且 $a - b = a \cos B - b \cos A$.

(1) 求证: $a = b$;

(2) 若 $c = 4, \cos C = \frac{3}{5}$, 求 ΔABC 的面积.



18. (本小题满分 12 分)

在① $na_{n+1} - (n+1)a_n = n^2 + n$, ② $3S_n = (n+2)a_n$, ③ $T_{n+1} = \frac{(n+2)a_n T_n}{n}$ 这三个条件中任选一个补充

在下问题中,并解答下列题目.

设首项为 2 的数列 $\{a_n\}$ 的前 n 项和为 S_n , 前 n 项积为 T_n , 且 $\underline{\quad \blacktriangle \quad}$.

(1) 求数列 $\{a_n\}$ 的通项公式;

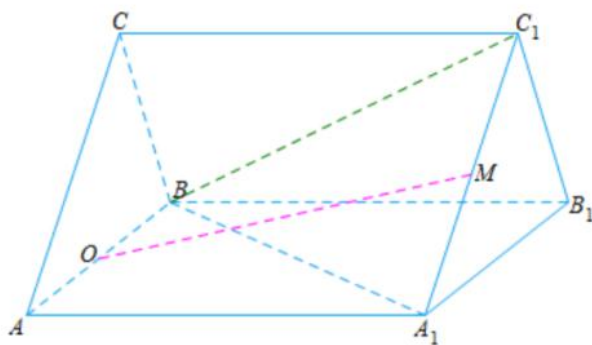
(2) 设 $b_n = (-1)^n a_n$, 求数列 $\{b_n\}$ 的前 n 项和.

19. (本小题满分 12 分)

如图, 在三棱柱 $ABC-A_1B_1C_1$ 中, $\triangle ABC$ 是边长为 2 的等边三角形, 平面 $ABC \perp$ 平面 AA_1B_1B , $A_1A = A_1B$, $\angle A_1AB = 60^\circ$, O 为 AB 的中点, M 为 A_1C_1 的中点.

(1) 求证: $OM \parallel$ 平面 BB_1C_1C ;

(2) 求二面角 $C_1 - BA_1 - C$ 的正弦值.



20. (本小题满分 12 分)

在平面直角坐标系 xOy 中,已知动点 M 到定点 $F(-2,0)$ 的距离与到定直线 $l, x = -\frac{3}{2}$ 的距离之比为定值 $\frac{2\sqrt{3}}{3}$.

(1)求动点 M 的轨迹 E 的方程;

(2)过点 F 作互相垂直的两条直线 l_1, l_2 其中 l_1 交动点 M 的轨迹 E 于 M, N 两点, l_2 交圆 $D: (x-4)^2 + y^2 = 9$ 于 P, Q 两点,点 R 是线段 PQ 的中点,求 ΔRMN 面积的最小值.

21. (本小题满分 12 分)

某中学的一个高二学生社团打算在开学初组织部分同学打扫校园. 该社团通知高二同学自愿报名,由于报名的人数多达 50 人,于是该社团采用了在报名同学中用抽签的方式来确定打扫校园的人员名单. 抽签方式如下: 将 50 名同学编号,通过计算机从这 50 个编号中随机抽取 30 个编号,然后通过计算机从这 50 个编号中随机抽取 30 个编号,两次都被抽取到的同学打扫校园.

(1)设该校高二年级报名打扫校园的甲同学的编号被抽取到的次数为 Y ,求 Y 的数学期望;

(2)设两次都被抽取到的人数为变量 X ,则 X 的可能取值是哪些? 其中 X 取到哪一个值的可能性最大? 请说明理由.

22. (本小题满分 12 分)

已知函数 $f(x) = \frac{ax}{e^x}$ (e 为自然对数的底数).

(1) 若函数 $g(x) = x - f(x)$ 在 $(0, \infty)$ 上为增函数, 求实数 a 的取值范围;

(2) 证明: 对任意实数 a , 函数 $h(x) = f(x) - \ln x$ 有且只有一个零点.



一、选择题：本题共8小题，每小题5分，共40分。在每小题给出的四个选项中，只有一项是符合题目要求的。

1. 若 $a \in \mathbf{R}$ ，则“ $a=2$ ”是“复数 $z=2-ai$ 的模为 $2\sqrt{2}$ ” (i 为虚数单位) 的

- A. 充分不必要条件 B. 必要不充分条件
C. 充要条件 D. 既不充分也不必要条件

【答案】A

【解析】因为 $|z| = \sqrt{4+a^2} = 2\sqrt{2}$, $a = \pm 2$, 所以是充分不必要条件, 故选 A

2. 若集合 $A = \{x | y = \sqrt{2-x}\}$, $B = \{y | y = 2^x\}$, 则 $A \cap B =$

- A. $(-\infty, 2]$ B. $[2, +\infty)$ C. $(0, 2]$ D. $[0, 2]$

【答案】C

【解析】因为 $A = (-\infty, 2]$, $B = (0, +\infty)$, 所以 $A \cap B = (0, 2]$. 故选 C

3. 从标有 1, 2, 3, 4, 5, 6 的 6 张卡片中, 不放回地随机抽取两次, 每次抽取一张. “在第一次抽到标号是 4 的条件下, 第二次抽到的标号是奇数” 的概率为

- A. $\frac{3}{5}$ B. $\frac{1}{2}$ C. $\frac{1}{10}$ D. $\frac{1}{12}$

【答案】A

【解析】 $P = \frac{3}{5}$, 故选 A

4. 已知椭圆 $E: \frac{x^2}{a^2} + \frac{y^2}{b^2} = 1 (a > b > 0)$ 的右焦点为 F_2 , 左顶点为 A_1 , 若 E 上的点 P

满足 $PF_2 \perp x$ 轴, $\sin \angle PA_1F_2 = \frac{3}{5}$, 则 E 的离心率为

- A. $\frac{1}{2}$ B. $\frac{2}{5}$ C. $\frac{1}{4}$ D. $\frac{1}{5}$

【答案】C

【解析】因为 $\sin \angle PA_1F_2 = \frac{3}{5}$, $\tan \angle PA_1F_2 = \frac{b^2}{a+c} = \frac{3}{4}$, 所以 $e = \frac{1}{4}$. 故选 C

5. 已知 $a = \sin 1$, $b = \cos 1$, 则下列不等式正确的是

- A. $\log_a b < a^b < b^a$ B. $\log_a b < b^a < a^b$
C. $a^b < b^a < \log_a b$ D. $b^a < a^b < \log_a b$

【答案】D

【解析】易知： $0 < b < \frac{\sqrt{2}}{2} < a < 1$, 则： $\log_a b > \log_a a = 1 > a^b > a^a > b^a$, 故选D.

6. 已知 $3\sin(\alpha - \frac{\pi}{6}) = \sin(\alpha + \frac{\pi}{6})$, 则 $\cos 2\alpha =$

- A. $\frac{1}{7}$ B. $-\frac{1}{7}$ C. $\frac{11}{13}$ D. $-\frac{11}{13}$

【答案】B

【解析】因为 $3(\frac{\sqrt{3}}{2}\sin\alpha - \frac{1}{2}\cos\alpha) = \frac{\sqrt{3}}{2}\sin\alpha + \frac{1}{2}\cos\alpha \Rightarrow \tan\alpha = \frac{2}{\sqrt{3}}$, 所以

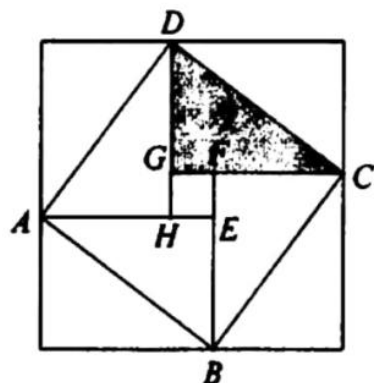
$$\cos 2\alpha = \frac{1 - \tan^2 \alpha}{1 + \tan^2 \alpha} = -\frac{1}{7}. \text{ 故选 B}$$

7. 我国汉代数学家赵爽为了证明勾股定理, 创制了一幅

“弦图”, 它由四个全等的直角三角形和一个正方形所构成(如图), 后人称其为“赵爽弦图”. 在直角三角形 CGD 中, 已知 $GC = 4$, $GD = 3$, 在线段 EF 上

任取一点 P , 线段 BC 上任取一点 Q , 则 $\overrightarrow{AP} \cdot \overrightarrow{AQ}$ 的最大值为

- A. 25 B. 27 C. 29 D. 31



(第7题图)

【答案】C

【解析】显然 $\max = \overrightarrow{AF} \cdot \overrightarrow{AC} = (\overrightarrow{AE} + \overrightarrow{EF}) \cdot (\overrightarrow{AB} + \overrightarrow{AD}) = 16 + 12 + 1 = 29$, 故选C.

8. 已知函数 $f(x) = x^2 - \frac{2x^2}{3^x + 1} + 1$. 若存在 $m \in (1, 4)$ 使得不等式

$f(4 - ma) + f(m^2 + 3m) > 2$ 成立, 则实数 a 的取值范围是

- A. $(-\infty, 7)$ B. $(-\infty, 7]$ C. $(-\infty, 8)$ D. $(-\infty, 8]$

【答案】c

解: $f(x) = x^2(1 - \frac{2}{3^x + 1}) + 1 = \frac{(3^x - 1)x^2}{3^x + 1} + 1$, $f(x)$ 关于 $(0, 1)$ 对称, 且 $f(x)$ 在 $(0, +\infty)$ 递增

$f(4 - ma) + f(m^2 + 3m) > 2$, 则 $4 - ma + m^2 + 3m > 0$

$\exists m \in (1, 4)$, 使得 $a < m + \frac{4}{m} + 3$, 易知: $m + \frac{4}{m} + 3 \in [7, 8)$, 所以 $a < 8$, 故选 C.

二、选择题: 本题共 4 小题, 每小题 5 分, 共 20 分. 在每小题给出的选项中, 有多项符合题目要求. 全部选对的得 5 分, 部分选对的得 2 分, 有选错的得 0 分.

9. 某中学为了研究高三年级学生的身高和性别的相关性问题, 从高三年级 800 名学生中随机抽取 200 名学生测量身高, 测量数据的列联表如下:

单位: 人

| 性别 | 身高 | | 合计 |
|----|----------|-----------|-----|
| | 低于 170cm | 不低于 170cm | |
| 女 | 80 | 16 | 96 |
| 男 | 20 | 84 | 104 |
| 合计 | 100 | 100 | 200 |

下列说法正确的有

- A. 从列联表可以判断该样本是由分层抽样而得
B. 从列联表可以看出该中学高三学生身高最高的是男生

解：选项A：由定义知： $\sin \frac{2021\pi}{6} = 1 - \cos \frac{2021\pi}{6} = 1 - \cos \frac{5\pi}{6} = 1 + \frac{\sqrt{3}}{2} \neq \frac{3}{2}$ ，错误

选项B： $f(\theta) = (1 - \cos \theta)(1 - \sin \theta) = \sin \theta \cos \theta - (\sin \theta + \cos \theta) + 1$

令 $\sin \theta + \cos \theta = x \in [-\sqrt{2}, \sqrt{2}]$ ， $f(\theta) = y$ ，则 $\sin \theta \cos \theta = \frac{x^2 - 1}{2}$

所以 $y = \frac{1}{2}x^2 - x + \frac{1}{2}$ ，易知 $\max = \frac{3 + 2\sqrt{2}}{2}$ ，正确；

选项C： $f(\theta) = \sin \theta - \cos \theta \leq \sqrt{2} < \frac{3}{2}$ ，错误；

选项D： $f(\theta) = 1 - \sin \theta$ ， $g(\theta) = 1 - \cos \theta = 1 - \sin(\theta + \frac{\pi}{2})$ ，正确；

因此，选BD.

11. 已知正四棱柱 $ABCD - A_1B_1C_1D_1$ 的底面边长为 1，侧棱长为 2，点 M 为侧棱 CC_1

上的动点， $AM \perp$ 平面 α 。下列说法正确的有

A. 异面直线 AM 与 B_1C 可能垂直

B. 直线 BC 与平面 α 不可能垂直

C. AB 与平面 α 所成角的正弦值的范围为 $(0, \frac{\sqrt{2}}{2}]$

D. 若 $M \in \alpha$ 且 $CM = MC_1$ ，则平面 α 截正四棱柱所得截面多边形的周长

为 $3\sqrt{2}$

【答案】ABD

解：选项A：显然，当 $B_1C \perp BM$ 时，即有 $AM \perp B_1C$ ，故A正确；

选项B： AM ， BC 不可能平行，故 BC 与 α 不可能垂直，正确；

选项C：即 AB 与 AM 所成角的余弦值的范围，易知： $\cos \theta = \frac{1}{AM} \in [\frac{\sqrt{6}}{6}, \frac{\sqrt{2}}{2}]$ ，错误；

选项D：截面为 $\triangle B_1MD_1$ ，其周长 $= 3B_1M = 3\sqrt{2}$ ，正确；

因此，选ABD.

12. 已知函数 $f(x)$ 的定义域为 \mathbf{R} , 且在 \mathbf{R} 上可导, 其导函数记为 $f'(x)$. 下列命题正确的有

- A. 若函数 $f(x)$ 是奇函数, 则 $f'(x)$ 是偶函数
- B. 若函数 $f'(x)$ 是偶函数, 则 $f(x)$ 是奇函数
- C. 若函数 $f(x)$ 是周期函数, 则 $f'(x)$ 也是周期函数
- D. 若函数 $f'(x)$ 是周期函数, 则 $f(x)$ 也是周期函数

【答案】AC

解: 选项AC: 正确; 选项B: 错误, 如: $f(x) = 1$;
选项D: 错误, 如: $f(x) = x + \sin x$; 因此, 选AC.

三、填空题: 本题共 4 小题, 每小题 5 分, 共 20 分. 请将答案填写在答题卡相应的位置上.

13. 已知抛物线 $y^2 = 2px$ ($p > 0$) 的焦点为 F , 点 $A(0, 2)$. 若线段 FA 的中点 B 在抛物线上, 则 p 的值为 ▲ .

【答案】 $p = \sqrt{2}$

解: $F(\frac{p}{2}, 0)$, 则 $B(\frac{p}{4}, 1)$, 则 $1 = \frac{p^2}{2}$, 得: $p = \sqrt{2}$.

14. 已知等差数列 $\{a_n\}$ 的首项为 a , 公差为 b (其中 $a, b \in \mathbf{N}^*$), 且 $a_2 < ab < a_3$, 写出一个满足条件的数列 $\{a_n\}$ 的通项公式: ▲ .

【答案】 $a_n = 2n + 1$

解: $a_n = bn + a - b$, 则 $a + b < ab < a + 2b$

即: $\begin{cases} (a-1)(b-1) > 1 \\ (a-2)(b-1) < 2 \\ a, b \in \mathbf{N}^* \end{cases} \Rightarrow \begin{cases} a=3 \\ b=2 \end{cases} \text{ 或 } \begin{cases} a=2 \\ b \geq 3, b \in \mathbf{N}^* \end{cases}$, 如: $a_n = 2n + 1$. (不唯一)

15. 已知平面向量 a, b, c 满足 $|b|=|c|=1, |b-c|=\sqrt{3}, 2a \cdot b=a \cdot c=1$, 则 b 与 c 的夹角为 ; $|a|$ 等于 . (第一空 2 分, 第二空 3 分)

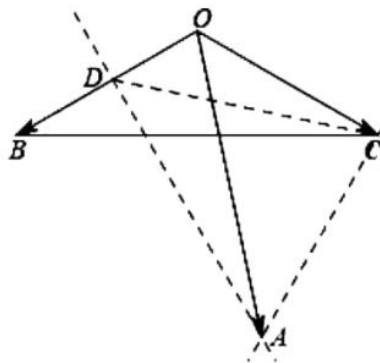
【答案】 $120^\circ, \frac{\sqrt{21}}{3}$

解: 易知: $\langle \vec{b}, \vec{c} \rangle = 120^\circ$, 由题意如图所示:

$$\vec{a} = \overrightarrow{OA}, \vec{b} = \overrightarrow{OB}, \vec{c} = \overrightarrow{OC}$$

$\angle BOC = 120^\circ, OB = OC = 1, D$ 为 OB 中点

$$|\vec{a}| = |\overrightarrow{OA}| = \frac{|\overrightarrow{CD}|}{\sin 120^\circ} = \frac{\sqrt{\frac{1}{4} + 1 + \frac{1}{2}}}{\frac{\sqrt{3}}{2}} = \frac{\sqrt{21}}{3}.$$



16. 一个组合体由上下两部分组成, 上部是一个半球, 下部是一个圆柱, 半球的底面与圆柱的上底面重合. 若该组合体的体积为定值 V , 则当圆柱底面半径 $r =$ 时, 该组合体的表面积最小.

【答案】 $r = \sqrt[3]{\frac{3V}{5\pi}}$

解: 设圆柱的高为 h , 则 $V = \pi r^2 h + \frac{2\pi}{3} r^3$, 得: $\pi r h = \frac{V}{r} - \frac{2\pi}{3} r^2$

$$S = 3\pi r^2 + 2\pi r h = \frac{5\pi}{3} r^2 + \frac{2V}{r} = \frac{5\pi}{3} r^2 + \frac{V}{r} + \frac{V}{r} \geq 3\sqrt[3]{\frac{5\pi V^2}{3}}$$

当且仅当 $\frac{5\pi}{3} r^2 = \frac{V}{r}$, 即 $r = \sqrt[3]{\frac{3V}{5\pi}}$ 时取等

即 $r = \sqrt[3]{\frac{3V}{5\pi}}$ 时, 该组合体的表面积最小.

四、解答题：本题共 6 小题，共 70 分。解答应写出文字说明、证明过程或演算步骤。

17. (本小题满分 10 分)

在 $\triangle ABC$ 中， a, b, c 分别为内角 A, B, C 的对边，且 $a - b = a \cos B - b \cos A$ 。

(1) 求证： $a = b$ ；

(2) 若 $c = 4$ ， $\cos C = \frac{3}{5}$ ，求 $\triangle ABC$ 的面积。

【解】(1) 因为 $a - b = a \cos B - b \cos A$ ，

$$\text{由余弦定理可知，} a - b = \frac{a^2 + c^2 - b^2}{2c} - \frac{b^2 + c^2 - a^2}{2c},$$

$$\text{所以 } (a - b)(c - a - b) = 0, \text{ 又 } a + b > c,$$

所以 $a = b$ 。

$$(2) \text{ 由余弦定理可知，} \cos C = \frac{a^2 + b^2 - c^2}{2ab} = \frac{2a^2 - 16}{2a^2} = \frac{3}{5},$$

$$\text{解得 } a^2 = 20, \text{ 又 } \sin C = \sqrt{1 - \left(\frac{3}{5}\right)^2} = \frac{4}{5},$$

$$\text{所以 } S = \frac{1}{2} a^2 \sin C = 8.$$

18. (本小题满分 12 分)

在 ① $na_{n+1} - (n+1)a_n = n^2 + n$ ，② $3S_n = (n+2)a_n$ ，③ $T_{n+1} = \frac{(n+2)a_n T_n}{n}$ 这三个条件中

任选一个补充在下面问题中，并解答下列题目。

设首项为 2 的数列 $\{a_n\}$ 的前 n 项和为 S_n ，前 n 项积为 T_n ，且 ▲ 。

(1) 求数列 $\{a_n\}$ 的通项公式；

(2) 设 $b_n = (-1)^n a_n$ ，求数列 $\{b_n\}$ 的前 n 项和。

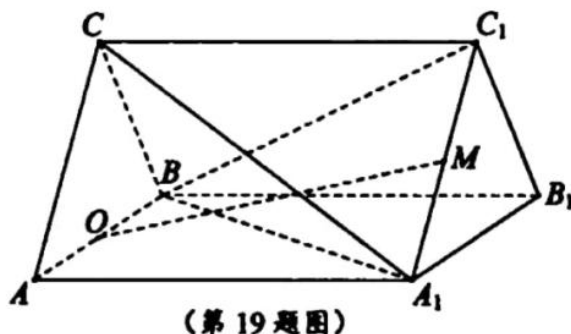
【解】(1) 选①，

$$\text{因为 } na_{n+1} - (n+1)a_n = n^2 + n, \text{ 所以 } \frac{a_{n+1}}{n+1} - \frac{a_n}{n} = 1,$$

19. (本小题满分 12 分)

如图, 在三棱柱 $ABC-A_1B_1C_1$ 中, $\triangle ABC$ 是边长为 2 的等边三角形, 平面 $ABC \perp$ 平面 AA_1B_1B , $A_1A = A_1B$, $\angle A_1AB = 60^\circ$, O 为 AB 的中点, M 为 A_1C_1 的中点.

- (1) 求证: $OM \parallel$ 平面 BB_1C_1C ;
(2) 求二面角 C_1-BA_1-C 的正弦值.



【解】(1) 作 BC 的中点 N , 连接 NO, C_1O ,

因为 N, O 分别为 BC, BA 中点, 所以 $ON \parallel \frac{1}{2}AC$,

因为 M 为 A_1C_1 中点, 所以 $MC_1 = \frac{1}{2}A_1C_1$,

又 $AC \parallel A_1C_1$, 所以 $MC_1 \parallel \frac{1}{2}AC$, 所以 $ON \parallel MC_1$, 即四边形 $ONMC_1$ 为平行四边形,

所以 $OM \parallel NC_1$,

因为 $NC_1 \subset$ 平面 BB_1C_1C , $OM \not\subset$ 平面 BB_1C_1C , 所以 $OM \parallel$ 平面 BB_1C_1C ;

(2) 连接 OC, OA_1 , 因为 $\triangle ABC$ 是等边三角形, 且 O 为 AB 中点, 所以 $OC \perp AB$,

因为平面 $ABC \perp$ 平面 AA_1B_1B , 平面 $ABC \cap$ 平面 $AA_1B_1B = AB$, $OC \subset$ 平面 ABC ,

所以 $OC \perp$ 平面 AA_1B_1B , 因为 $OA_1 \subset$ 平面 AA_1B_1B , 所以 $OC \perp OA_1$,

因为 $A_1A = A_1B$, 且 $\angle A_1AB = 60^\circ$, 所以 $\triangle A_1AB$ 是正三角形, 所以 $OA_1 \perp AB$,

以 $\{\overrightarrow{OA}, \overrightarrow{OA_1}, \overrightarrow{OC}\}$ 为 x, y, z 轴正半轴, 建立空间直角坐标系,

因为 $\triangle ABC$ 边长为 2, 所以 $\triangle A_1AB$ 边长为 2, 则 $OA = 1, OC = OA_1 = \sqrt{3}$,

所以 $C(0, 0, \sqrt{3}), B(-1, 0, 0), A_1(0, \sqrt{3}, 0), C_1(-1, \sqrt{3}, \sqrt{3})$,

所以 $\overline{BC} = (1, 0, \sqrt{3}), \overline{BC}_1 = (0, \sqrt{3}, \sqrt{3}), \overline{BA}_1 = (1, \sqrt{3}, 0)$,

设平面 CBA_1 的法向量为 $\vec{m} = (x_1, y_1, z_1)$, 则 $\begin{cases} \vec{m} \cdot \overline{BC} = x_1 + \sqrt{3}z_1 = 0 \\ \vec{m} \cdot \overline{BA}_1 = x_1 + \sqrt{3}y_1 = 0 \end{cases}$,

取 $x_1 = -\sqrt{3}$, 则 $y_1 = z_1 = 1$, 所以 $\vec{m} = (-\sqrt{3}, 1, 1)$,

设平面 C_1BA_1 的法向量为 $\vec{n} = (x_2, y_2, z_2)$, 则 $\begin{cases} \vec{n} \cdot \overline{BC}_1 = \sqrt{3}y_2 + \sqrt{3}z_2 = 0 \\ \vec{n} \cdot \overline{BA}_1 = x_2 + \sqrt{3}y_2 = 0 \end{cases}$,

取 $x_2 = -\sqrt{3}$, 则 $y_2 = 1, z_2 = -1$, 所以 $\vec{n} = (-\sqrt{3}, 1, -1)$,

设二面角 $C_1 - BA_1 - C$ 为 θ , 则 $|\cos \theta| = \frac{|\vec{m} \cdot \vec{n}|}{|\vec{m}| \cdot |\vec{n}|} = \frac{|3+1-1|}{\sqrt{3+1+1} \cdot \sqrt{3+1+1}} = \frac{3}{5}$,

所以 $\sin \theta = \sqrt{1 - \cos^2 \theta} = \frac{4}{5}$.

20. (本小题满分 12 分)

在平面直角坐标系 xOy 中, 已知动点 M 到定点 $F(-2, 0)$ 的距离与到定直线 $l: x = -\frac{3}{2}$ 的距离之比为定值 $\frac{2\sqrt{3}}{3}$.

(1) 求动点 M 的轨迹 E 的方程;

(2) 过点 F 作互相垂直的两条直线 l_1, l_2 , 其中 l_1 交动点 M 的轨迹 E 于 M, N 两点, l_2 交圆 $D: (x-4)^2 + y^2 = 9$ 于 P, Q 两点, 点 R 是线段 PQ 的中点, 求 $\triangle RMN$ 面积的最小值.

【解】(1) 设 $M(x, y)$ 则由题意可知

$$\frac{\sqrt{(x+2)^2 + y^2}}{\left|x + \frac{3}{2}\right|} = \frac{2\sqrt{3}}{3}, \text{化简可得 } \frac{x^2}{3} - y^2 = 1.$$

(3) ①当 l_1 的斜率不存在时,

$$MN = \frac{2\sqrt{3}}{3}, RF = 6, S_{\Delta RMN} = \frac{1}{2} \times 6 \times \frac{2\sqrt{3}}{3} = 2\sqrt{3};$$

②当 l_1 的斜率存在时, 则 $l_2: y = -\frac{1}{k}(x+2)$

$$\text{由} \begin{cases} y = k(x+2) \\ \frac{x^2}{3} - y^2 = 1 \end{cases} \text{得} (1-3k^2)x^2 - 12k^2x - 12k^2 - 3 = 0,$$

$$\text{所以有} \begin{cases} x_1 + x_2 = \frac{12k^2}{1-3k^2} \\ x_1x_2 = \frac{-12k^2-3}{1-3k^2} \end{cases},$$

$$\text{所以} MN = \sqrt{1+k^2} |x_1 - x_2| = \frac{2\sqrt{3}(1+k^2)}{|1-3k^2|},$$

$$\text{同理可得} QF = \sqrt{1+k^2} \frac{|6k|}{1+k^2},$$

$$\text{所以} S_{\Delta MNF} = \frac{1}{2} \sqrt{1+k^2} \frac{|6k|}{1+k^2} \cdot \frac{2\sqrt{3}(1+k^2)}{|1-3k^2|}$$

$$= \sqrt{12 \left(1 + \frac{15k^2-1}{9k^4-6k^2+1}\right)} \geq 2\sqrt{3}.$$



21. (本小题满分 12 分)

某中学的一个高二学生社团打算在开学初组织部分同学打扫校园. 该社团通知高二同学自愿报名, 由于报名的人数多达 50 人, 于是该社团采用了在报名同学中用抽签的方式来确定打扫校园的人员名单. 抽签方式如下: 将 50 名同学编号, 通过计算机从这 50 个编号中随机抽取 30 个编号, 然后再次通过计算机从这 50 个编号中随机抽取 30 个编号, 两次都被抽取到的同学打扫校园.

(1) 设该校高二年级报名打扫校园的甲同学的编号被抽取到的次数为 Y , 求 Y 的数学期望;

(2) 设两次都被抽取到的人数为变量 X , 则 X 的可能取值是哪些? 其中 X 取到哪一个值的可能性最大? 请说明理由.

【解】(1) $P(Y = 0) = \frac{2}{5} \times \frac{2}{5} = \frac{4}{25}$, $P(Y = 1) = C_2^1 \frac{3}{5} \times \frac{2}{5} = \frac{12}{25}$,

$$P(Y = 2) = 1 - \frac{4}{25} - \frac{12}{25} = \frac{9}{25}, E(Y) = \frac{12}{25} + 2 \times \frac{9}{25} = \frac{6}{5}.$$

(2) 两次抽中的人数 $x \in \{10, 11, \dots, 30\}$, 则

$$P(x) = C_{50}^x \left(\frac{9}{25}\right)^x \cdot C_{50-x}^{60-2x} \left(\frac{12}{25}\right)^{60-2x} \cdot \left(\frac{12}{25}\right)^{x-10},$$

设 $G(x) = C_{50}^x \left(\frac{9}{25}\right)^x \cdot C_{50-x}^{60-2x} \left(\frac{12}{25}\right)^{60-2x} \cdot \left(\frac{12}{25}\right)^{x-10}$, 那么

$$\frac{G(x+1)}{G(x)} = \frac{1}{4} \times \frac{(60-2x)(59-2x)}{(x+1)(x-9)} > 1$$

解得 $x < 18$, 所以 $G(19) < G(18) > G(17)$,

所以当 $x = 18$ 时可能性最大, 答: 略.

22. (本小题满分 12 分)

已知函数 $f(x) = \frac{ax}{e^x}$ (e 为自然对数的底数).

(1) 若函数 $g(x) = x - f(x)$ 在 $(0, +\infty)$ 上为增函数, 求实数 a 的取值范围;

(2) 证明: 对任意实数 a , 函数 $h(x) = f(x) - \ln x$ 有且只有一个零点.

【解】(1) $g(x) = x - f(x) = x - \frac{ax}{e^x}$, 则 $g'(x) = \frac{e^x - a + ax}{e^x} \geq 0$,

即设 $m(x) = e^x - a + ax \geq 0$, $m'(x) = e^x + a$, $x \in (0, +\infty)$,

1. 当 $a \geq -1$, $m'(x) \geq 0$, $m(x)$ 单调增 $h(x)_{\min} = 1 - a \geq 0$, $a \in [-1, 1]$,

2. 当 $a < -1$, 令 $m'(x)=0$, $x = \ln(-a) > 0$, 列表略,

$m(x)_{\min} = m(\ln(-a)) = -a + a \ln(-a) - a \geq 0$ 则 $a \in [-e^2, -1]$;

综上, $a \in [-e^2, 1]$.

(2) 由题意可知 $h(x) = f(x) - \ln x = \frac{ax}{e^x} - \ln x = 0$,

1. $a > 0$, $h'(x) = \frac{a(1-x)}{e^x} - \frac{1}{x}$,

$x \in (0, 1)$, $h(x) > 0$; $x \in (1, +\infty)$, $h'(x) < 0$, 则 $h(x)$ 单调减,

又 $h(1) = \frac{a}{e} > 0$, $h(e^a) < 0$

所以 $h(x)$ 在 $a > 0$ 时, 恰有一个零点;

2. $a = 0$, $\ln x = 0$, 恰有一个;

3. $a < 0$, $x \in (1, +\infty)$, $h(x) < 0$;

$x \in (0, 1)$, $h'(x) = \frac{a(1-x)}{e^x} - a < 0$, $e^a \in (0, 1)$, 则 $h(1) < 0$, $h(e^a) > 0$,

所以 $h(x)$ 在 $a < 0$ 时, 恰有一个零点.

故综上 $h(x)$ 恰有一个零点.

关于我们

自主选拔在线是致力于提供新高考生涯规划、强基计划、综合评价、三位一体、学科竞赛等政策资讯的升学服务平台。总部坐落于北京，旗下拥有网站（[网址: www.zizzs.com](http://www.zizzs.com)）和微信公众平台等媒体矩阵，用户群体涵盖全国90%以上的重点中学师生及家长，在全国新高考、自主选拔领域首屈一指。

如需第一时间获取相关资讯及备考指南，请关注**自主选拔在线**官方微信号：**zizzsw**。



关注后获取更多资料：

回复“答题模板”，即可获取《高中九科试卷的解题技巧和答题模版》

回复“必背知识点”，即可获取《高考考前必背知识点》